

МИНИСТЕРСТВО ОБРАЗОВАНИЯ И НАУКИ РОССИЙСКОЙ ФЕДЕРАЦИИ
Федеральное государственное бюджетное образовательное учреждение
высшего образования
«Магнитогорский государственный технический университет им. Г.И. Носова»



УТВЕРЖДАЮ
Директор института
энергетики и автоматизированных
систем

 С.И. Лукьянов

«27» сентября 2017 г.

РАБОЧАЯ ПРОГРАММА ДИСЦИПЛИНЫ (МОДУЛЯ)

ЭЛЕКТРОТЕХНИКА

Специальность: 21.05.04 Горное дело

Специализация: Обогащение полезных ископаемых

Уровень высшего образования – специалитет

Форма обучения
очная

| | |
|----------|---|
| Институт | Энергетики и автоматизированных систем |
| Кафедра | Электроснабжение промышленных предприятий |
| Курс | 3 |
| Семестр | 6 |

Магнитогорск
2017 г.

Рабочая программа составлена на основе ФГОС ВО по специальности 21.05.04 Горное дело, утвержденного приказом МОиН РФ от 17.10.2016 №1298 для специализации Обогащение полезных ископаемых.

Рабочая программа рассмотрена и одобрена на заседании кафедры электроснабжения промышленных предприятий «5» сентября 2017 г., протокол № 1.

Зав. кафедрой  / Г.П.Корнилов/

Рабочая программа одобрена методической комиссией института энергетики и автоматизированных систем «27» сентября 2017 г., протокол № 2.

Председатель  / С.И.Лукьянов /

Согласовано: Зав. кафедрой геологии, маркшейдерского дела и обогащения полезных ископаемых

 / Гришин И.А./

Рабочая программа составлена:

доцент, к.т.н. каф. ЭПП

 / О.И.Петухова/

Рецензент:

начальник отд. Электропривода ЦЭТЛ ОАО «ММК», канд.техн.наук

 / А.Ю.Юдин /

Лист регистрации изменений и дополнений

1. Цели освоения дисциплины

Целью освоения дисциплины является теоретическая и практическая подготовка будущих специалистов (горных инженеров) в области электротехники в такой степени, чтобы они могли выбирать необходимые электротехнические, электронные, электроизмерительные устройства, уметь их правильно эксплуатировать и составлять совместно со специалистами-электриками технические задания на разработку электрических частей различных установок и оборудования в своей профессиональной деятельности.

2. Место дисциплины в структуре образовательной программы подготовки специалиста

Дисциплина «Электротехника» входит в базовую часть блока 1 обязательных дисциплин.

Перечень разделов дисциплин, усвоение которых необходимо для изучения электротехники:

Математика: линейная алгебра, теория функций комплексного переменного, дифференциальное и интегральное исчисление, дифференциальные уравнения.

Физика: механика (вращательное движение), электричество и магнетизм.

Информатика: простейшие навыки работы на компьютере и в сети Интернет, умение использовать прикладное программное обеспечение, в частности: пакеты универсальных математических программ, текстовый процессор и редактор формул (для оформления отчетов).

Минимальные требования к «входным» знаниям, необходимым для успешного усвоения данной дисциплины:

Удовлетворительное усвоение программ по указанным выше разделам математики, физики и информатики, владение персональным компьютером на уровне уверенного пользователя.

Дисциплины, для которых освоение данной дисциплины необходимо как предшествующее:

«Автоматизация и электрификация горного производства».

3 Компетенции обучающегося, формируемые в результате освоения дисциплины (модуля) и планируемые результаты обучения

В результате освоения дисциплины (модуля) «Электротехника» обучающийся должен обладать следующими компетенциями:

| Структурный элемент компетенции | Планируемые результаты обучения |
|---------------------------------|--|
| | ОК-1- способность к абстрактному мышлению, анализу и синтезу |
| Знать | - основные определения и понятия теории электрических цепей и электромагнитных устройств; - методы анализа электрических и магнитных цепей, электромагнитных устройств. |
| Уметь | - описывать электрическое состояние цепей и электромагнитных |

| Структурный элемент компетенции | Планируемые результаты обучения |
|--|---|
| | устройств; - выбирать эффективные способы анализа электрических и магнитных цепей, читать электрические схемы электротехнических и электронных устройств |
| Владеть | - методами анализа простых электрических цепей, навыками измерения электрических величин; - методами приемами проведения экспериментальных исследований электрических цепей и электротехнических устройств |
| ПК-14 -готовностью участвовать в исследованиях объектов профессиональной деятельности и их структурных элементов | |
| Знать | - основные характеристики электромагнитных устройств и приборов, элементную базу электронных устройств |
| Уметь | -экспериментальным способом и на основе паспортных (каталожных) данных определять параметры и характеристики типовых электротехнических и электронных устройств |
| Владеть | -методами выбора электротехнических, электронных, электроизмерительных устройств |

4 Структура и содержание дисциплины (модуля)

Общая трудоемкость дисциплины составляет 4 зачетных единиц 144 академических часов, в том числе:

- контактная работа – 57,2 академических часов:
 - аудиторная – 54 академических часов;
 - внеаудиторная – 3,2 академических часов
- самостоятельная работа – 51,1 академических часов;
- подготовка к экзамену – 35,7 академических часов.

| Раздел/ тема дисциплины | Семестр | Аудиторная контактная работа (в академических часах) | | | Самостоятельная работа (в академических часах) | Вид самостоятельной работы | Форма текущего контроля успеваемости и промежуточной аттестации | Код и структурный элемент компетенции |
|---|---------|--|------------------|------------------|--|---|---|---------------------------------------|
| | | лекции | лаборат. занятия | практич. занятия | | | | |
| 1. Электрические цепи | 7 | | | | | | | |
| 1.1. 1. Линейные электрические цепи постоянного тока. | | 3 | 2 | 2 | 8 | 1. Поиск дополнительной информации по заданной теме. 2. Самостоятельное изучение учебной литературы. | Коллоквиум по л.р. №1 РГР№1 | ОК-1–зув, ПК-14–зув. |

| Раздел/ тема дисциплины | Семестр | Аудиторная контактная работа (в акад. часах) | | | Самостоятельная работа (в акад. часах) | Вид самостоятельной работы | Форма текущего контроля успеваемости и промежуточной аттестации | Код и структурный элемент компетенции |
|--|---------|--|------------------|------------------|--|---|---|---------------------------------------|
| | | лекции | лаборат. занятия | практич. занятия | | | | |
| | | | | | | 3. Работа с электронными библиотеками. 4. Подготовка и выполнение л.р.№1. 5. Выполнение РГР№1. | | |
| 1.2. Линейные электрические цепи однофазного синусоидального тока. | | 3 | 2(2И) | 2(2И) | 8 | 1. Работа с электронными библиотеками. 2. Самостоятельное изучение учебной литературы. 3. Подготовка и выполнение л.р.№2 | Коллоквиум по л.р. №2. | ОК-1–зув, ПК-14–зув. |
| 1.3. Трехфазные цепи. | | 3 | 2 | 2(2И) | 8 | 1. Работа с электронными библиотеками. 2. Самостоятельное изучение учебной литературы. 3. Подготовка и выполнение л.р.№4. | Коллоквиум по л.р. №4. | ОК-1–зув, ПК-14–зув. |
| Итого по разделу | | 9 | 6(2И) | 6(4И) | 24 | | | |
| 2. Электрические машины и трансформаторы. | 7 | | | | | | | |
| 2.1. Трансформаторы. | | 2 | 2(2И) | 2(2И) | 8 | 1. Подготовка и выполнение л.р.№21. 2. Самостоятельное | Коллоквиум по л.р. №21 | ОК-1–зув, ПК-14–зув. |

| Раздел/ тема дисциплины | Семестр | Аудиторная контактная работа (в акад. часах) | | | Самостоятельная работа (в акад. часах) | Вид самостоятельной работы | Форма текущего контроля успеваемости и промежуточной аттестации | Код и структурный элемент компетенции |
|---|---------|--|------------------|------------------|--|--|---|---------------------------------------|
| | | лекции | лаборат. занятия | практич. занятия | | | | |
| | | | | | | изучение учебной литературы 3.Выполнение РГР№2 | РГР№2 | |
| 2.2. Электрические машины постоянного тока. | | 2 | 4(2И) | 4(2И) | 8 | 1.Подготовка и выполнение л.р.№23. 2.Самостоятельное изучение учебной литературы. | Коллоквиум по л.р. №23. | ОК-1–зув, ПК-14–зув. |
| 2.3. Асинхронные двигатели | | 2 | 4(2И) | 4(2И) | 8 | 1.Подготовка и выполнение л.р.№24. 2.Самостоятельное изучение учебной литературы. 3.Выполнение РГР№3 | Коллоквиум по л.р. №24. РГР №3 | ОК-1–зув, ПК-14–зув. |
| Итого по разделу | | 6 | 10(6И) | 10(6И) | 24 | | | |
| 3. Электрические приборы и измерения | 7 | 3 | 2(2И) | 2 | 3,1 | .Подготовка и выполнение л.р.№8. 2.Самостоятельное изучение учебной литературы. | Коллоквиум по л.р. №8 | ОК-1–зув, ПК-14–зу |
| Итого по разделу | | 3 | 2(2И) | 2 | 3,1 | | | |
| Итого за семестр | | 18 | 18(10И) | 18(10И) | 51,1 | | Экзамен | |
| Итого по дисциплине | | 18 | 18(10И) | 18(10И) | 51,1 | | | |

| Раздел/ тема дисциплины | Семестр | Аудиторная контактная работа (в акад. часах) | | | Самостоятельная работа (в акад. часах) | Вид самостоятельной работы | Форма текущего контроля успеваемости и промежуточной аттестации | Код и структурный элемент компетенции |
|-------------------------|---------|--|------------------|------------------|--|----------------------------|---|---------------------------------------|
| | | лекции | лаборат. занятия | практич. занятия | | | | |
| | | |) |) | | | | |

5. Образовательные и информационные технологии.

Для реализации предусмотренных видов учебной работы в качестве образовательных технологий в преподавании дисциплины используются традиционная технология и технология проблемного обучения. Передача необходимых теоретических знаний и формирование основных представлений может происходить с использованием мультимедийного оборудования.

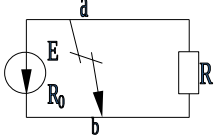
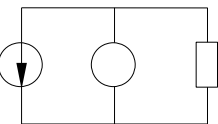
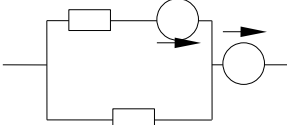
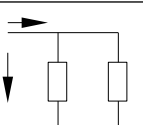
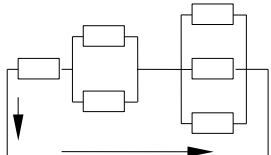
Лекции проходят в традиционной форме, в форме лекций-консультаций и проблемных лекций. Теоретический материал на проблемных лекциях является результатом усвоения полученной информации посредством постановки проблемного вопроса и поиска путей его решения. На лекциях – консультациях изложение нового материала сопровождается постановкой вопросов и дискуссией в поисках ответов на эти вопросы.

При проведении лабораторных и практических занятий используются работа в команде и методы информационных технологий.

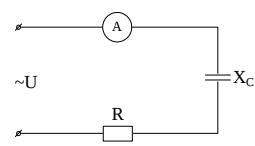
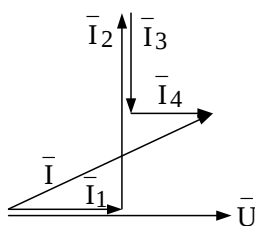
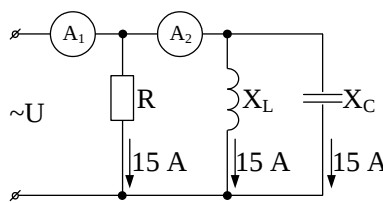
6. Учебно-методическое обеспечение самостоятельной работы обучающихся

Примерные аудиторные коллоквиумы

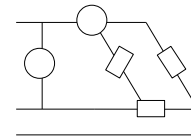
Коллоквиум № 1. Линейные цепи постоянного тока. (к л/р № 1)

| | |
|---|---|
| <p>1. Определить величину тока короткого замыкания, если: $E = 2,1 \text{ В}$, $R_0 = 0,1 \text{ Ом}$, $R = 2 \text{ Ом}$.</p> |  |
| <p>2. Что показывает вольтметр, подключенный к зажимам источника?</p> |  |
| <p>3. Определить сопротивление резистора R_2, если: $R_1 = 3 \text{ Ом}$, а показания амперметров указаны на схеме.</p> |  |
| <p>4. Определить сопротивления R_1 и R_2, если: $U = 60 \text{ В}$, ток в неразветвленной части цепи $I = 1,5 \text{ А}$. ($R_1 = 2R_2$)</p> |  |
| <p>5. Определить напряжение источника U, если $R = 6 \text{ Ом}$, $I = 4 \text{ А}$.</p> |  |

Коллоквиум № 2. Линейные цепи переменного тока. (к л/р №2)

| | |
|--|--|
| <p>1. Приведите график мгновенных значений тока и напряжения для цепи, содержащей активное сопротивление.</p> | |
| <p>2. Определить сопротивление конденсатора X_C, если: $U = 200 \text{ В}$, $I = 4 \text{ А}$, $\cos \varphi = 0,8$.</p> |  |
| <p>3. Определить действующее значение тока, напряжения, сдвиг по фазе и характер нагрузки, если мгновенные значения тока и напряжения равны: $i = 10 \sin \omega t$, $u = 141 \sin (\omega t + 30^\circ)$.</p> | |
| <p>4. Приведите электрическую схему, кото-рой соответствует векторная диаграмма.</p> |  |
| <p>5. Определить показания амперметров A_1 и A_2 и реактивную мощность цепи Q, если: $U = 120 \text{ В}$.</p> |  |

Коллоквиум № 3. Трехфазные цепи.(к л/р № 4)

| | |
|---|---|
| <p>1. Как получить трехфазную систему Э.Д.С.?</p> | <p>Дайте определение трехфазной электрической цепи.</p> |
| <p>2. Объяснить построение векторной диаграммы токов и напряжений для трехфазной цепи, соединенной «звездой». Нагрузка симметричная, характер активно – индуктивный.</p> | |
| <p>3. Линейные токи при соединении нагрузки «звездой»: $I_A = I_B = I_C = 20 \text{ А}$. Определить ток в нейтральном проводе, если $\varphi_a = \varphi_b = \varphi_c = 30^\circ$.</p> | |
| <p>4. Приведите выражение для определения активной и реактивной мощностей при симметричной и несимметричной нагрузках.</p> | |
| <p>5. Определить показание вольтметра, если $Z_\phi = 10 \text{ Ом}$, амперметр показывает 10 А.</p> |  |

Коллоквиум № 4. Трансформаторы(к л/р № 21)

| |
|---|
| 1. Назовите номинальные величины, указываемые на паспортном щитке трансформатора. Что вы понимаете под номинальной мощностью трансформатора? |
| 2. Приведите эл. схему опыта холостого хода. Расскажите порядок проведения этого опыта. Какие величины при этом определяются? |
| 3. Приведите внешнюю характеристику трансформатора и объясните ее. При каких условиях снимается внешняя характеристика? |
| 4. Почему у обмотки высшего напряжения сечение провода меньше, а у обмотки низшего напряжения больше? |
| 5. Дано: $U_{1ном}=220$ В, $U_{2ном}=127$ В, $S_{ном}=1100$ ВА. Определить номинальные токи первичной и вторичной обмоток трансформатора и коэффициент трансформации К. Почему номинальные токи не равны по величине? |

Коллоквиум № 5. Генераторы постоянного тока.(к л/р №22)

| |
|--|
| 1. Расскажите о способах охлаждения машин постоянного тока. |
| 2. Устройство и назначение коллектора. |
| 3. Какие потери в машинах постоянного тока являются постоянными? Приведите характеристику КПД и объясните ее. |
| 4. При каких условиях снимается характеристика холостого хода? Приведите вид характеристики холостого хода. Объясните, почему восходящая ветвь характеристики не совпадает с нисходящей? |
| 5. Генератор параллельного возбуждения с номинальным напряжением $U_{ном}=220$ В, номинальным током $I_{ном}=110$ А имеет следующие потери: $P_o=P_c+P_{мех}=1320$ Вт, $P_v=650$ Вт, $P_z=1300$ Вт. Определить КПД генератора. |

Коллоквиум № 6. Двигатели постоянного тока.(к л/р №23)

| |
|--|
| 1. Устройство и принцип действия двигателя постоянного тока. |
| 2. Приведите уравнение электрического равновесия двигателя постоянного тока и объясните его. |
| 3. Для двигателя параллельного возбуждения на одном графике приведите две механические передачи: естественную и искусственную (реостатную). Укажите точки, соответствующие номинальному режиму и режиму идеального холостого хода и условия, при которых сняты эти характеристики. |
| |

| |
|--|
| 4. Какие потери изменяются существенно при изменении нагрузки на валу двигателя и оказывают значительное влияние на К.П.Д.? |
| 5. Двигатель постоянного тока параллельного возбуждения имеет паспортные данные: $P_{ном}=10$ кВт, $U_{ном}=220$ В, $I_{ном}=50$ А, $n_{ном}=1000$ об/мин, $R_{я}=0,4$ Ом. Определить частоту вращения якоря двигателя при идеальном холостом ходе. |

Коллоквиум № 7. Асинхронные двигатели (к л/р 24)

| |
|---|
| 1. Устройство и назначение частей трехфазного асинхронного двигателя с короткозамкнутым ротором. |
| 2. Как изменится ток холостого хода (I_{10}) и номинальный коэффициент мощности ($\cos\phi_{ном}$), если воздушный зазор между статором и ротором увеличится? |
| 3. Приведите выражение частоты вращения магнитного поля статора и объясните его. |
| 4. Что вы понимаете под режимом холостого хода асинхронного двигателя? |
| 5. Трехфазный асинхронный двигатель имеет номинальные данные: $P_{ном}=10$ кВт, $U_{ном}=220/380$ В, $n_{ном}=950$ об/мин, $\eta=85\%$, $\cos\phi=0,681$. Определить номинальную мощность потребления энергии из сети и момент на валу двигателя, если обмотка статора соединена «звездой». |

Коллоквиум № 8. Электрические измерения. (к л/р №8)

| |
|--|
| 1. Назовите требования, предъявляемые к электроизмерительным приборам. |
| 2. Какой ток можно измерить амперметром, сопротивление которого $R_A=0,3$ Ом, $n_{ном}=150$ дел., $C_A=0,001$ А/дел., если включить его с шунтом, сопротивление которого $R_{ш}=0,01$ Ом? |
| 3. Определить цену деления вольтметра, имеющего номинальные данные: $U_{ном}=50$ В, $n_{ном}=100$ дел., $R_V=1000$ Ом, включенного с добавочным сопротивлением $R_D=3000$ Ом. Приведите схему включения вольтметра с добавочным сопротивлением. |
| 4. Два ваттметра с номинальными данными $I_{ном}=5$ А, $U_{ном}=150$ В со шкалой на 150 делений включены в цепь через измерительные трансформаторы тока и напряжения с коэффициентами трансформации тока $K_{ТТ}=50/5$ и $K_{ТН}=500/100$. Определить мощность потребления энергии трехфазной цепью, если стрелка одного ваттметра отклонилась на 15 делений, а другого на 40 делений. |
| 5. В чем разница между точностью и чувствительностью прибора? |

Примерные домашние расчетно-графические работы

1. Расчет линейных цепей постоянного тока.

Целью работы является закрепление у студентов навыков анализа и расчёта линейной электрической цепи постоянного тока.

2. Расчет параметров и основных характеристик трансформаторов.

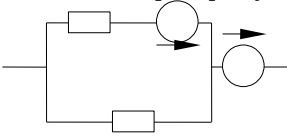
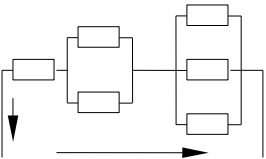
Целью работы является закрепление у студентов навыков расчёта основных параметров трансформаторов.

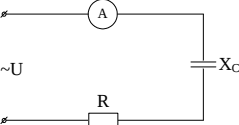
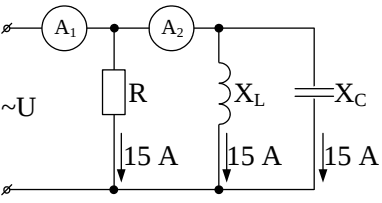
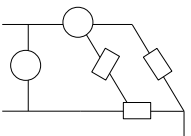
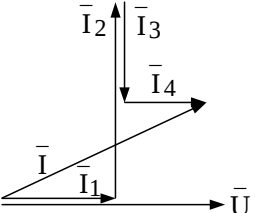
3. Расчет параметров и основных характеристик асинхронных двигателей.

Целью работы является закрепление у студентов навыков расчёта основных параметров асинхронных двигателей.

7. Оценочные средства для проведения промежуточной аттестации

| Структурный элемент компетенции | Планируемые результаты обучения | Оценочные средства |
|---|--|---|
| ОК-1- способность к абстрактному мышлению, анализу и синтезу | | |
| Знать | <p>-основные определения и понятия теории электрических цепей и электромагнитных устройств;</p> <p>-методы анализа электрических и магнитных цепей, электромагнитных устройств</p> | <p>Перечень теоретических вопросов к экзамену:</p> <ol style="list-style-type: none"> 1 Понятия электрической, электронной и магнитной цепей. Классификация и примеры цепей. Основные законы электротехники и их применение. 2 Физическая и математическая модели цепи. Источники, проводники и приемники. Идеализированные двухполюсные элементы и их свойства. 3 Линейные электрические цепи постоянного тока. Анализ цепи на основе законов Кирхгофа и Ома. 4 Эквивалентные преобразования участков цепей. 5 Основные методы анализа линейных цепей. 6 Свойства линейных электрических цепей: свойство линейности, принцип наложения, принцип взаимности. 7 Электрическая мощность и энергия постоянного электрического тока. Закон сохранения энергии в электрической цепи с постоянными токами. Баланс мощностей. 8 Основные характеристики и параметры синусоидальных токов и напряжений. Способы получения синусоидальных напряжений и токов. 9 Представление синусоидальных токов и |

| Структурный элемент компетенции | Планируемые результаты обучения | Оценочные средства |
|---------------------------------|--|--|
| | | <p>напряжений векторами и комплексными числами. Законы электрических цепей в комплексной форме.</p> <p>10 Фазовые соотношения между токами и напряжениями в цепи при синусоидальном токе.</p> <p>11 Сопротивления элементов и участков цепей при синусоидальных токах.</p> <p>12 Электрическая энергия и мощность в цепях с синусоидальным током. Активная, реактивная и полная мощности. Баланс активных и реактивных мощностей.</p> <p>13 Трехфазная система напряжений, основные соотношения, способы получения, источники трехфазного напряжения и их эквивалентные схемы.</p> <p>14 Трехфазная нагрузка. Симметричная и несимметричная нагрузка при соединении фаз в треугольник и звезду. Схемы и расчет эквивалентных параметров нагрузки в трехфазных цепях.</p> <p>15 Трехфазная трех- и четырехпроводная сеть с симметричной нагрузкой, схемы, расчетные соотношения для определения линейных и фазных токов и напряжений.</p> <p>16 Мощности трехфазной сети. Измерение активной и реактивной мощности.</p> <p>17 Однофазный трансформатор со стальным сердечником.</p> |
| <p>Уметь</p> | <p>- описывать электрическое состояние цепей и электромагнитных устройств;</p> | <p>Примерные практические задания для экзамена:</p> <p>1. Определить сопротивление резистора R2, если: R1 = 3 Ом, а показания амперметров указаны на схеме.</p>  <p>2. Определить напряжение источника U, если R=6 Ом, I=4А.</p>  <p>3. Определить сопротивление конденсатора X_C, если: U = 200 В, I = 4 А, cos φ = 0,8.</p> |

| Структурный элемент компетенции | Планируемые результаты обучения | Оценочные средства |
|---------------------------------|--|---|
| | <p>- выбирать эффективные способы анализа электрических и магнитных цепей, читать электрические схемы электротехнических и электронных устройств</p> |  <p>4. Определить показания амперметров A_1 и A_2 и реактивную мощность цепи Q, если: $U = 120$ В.</p>  <p>5. Линейные токи при соединении нагрузки «звездой»: $I_A = I_B = I_C = 20$ А. Определить ток в нейтральном проводе, если $\varphi_a = \varphi_b = \varphi_c = 30^\circ$.</p> <p>6. Определить показание вольтметра, если $Z_f = 10$ Ом, амперметр показывает 10 А.</p>  <p>7. Определить действующее значение тока, напряжения, сдвиг по фазе и характер нагрузки, если мгновенные значения тока и напряжения равны: $i = 10 \sin \omega t$, $u = 141 \sin (\omega t + 30^\circ)$.</p> <p>8. Какой ток можно измерить амперметром, сопротивление которого $R_A = 0,3$ Ом, $n_{ном} = 150$ дел., $C_A = 0,001$ А/дел., если включить его с шунтом, сопротивление которого $R_{ш} = 0,01$ Ом?</p> <p>9. Определить цену деления вольтметра, имеющего номинальные данные: $U_{ном} = 50$ В, $n_{ном} = 100$ дел., $R_V = 1000$ Ом, включенного с добавочным сопротивлением $R_D = 3000$ Ом.</p> <p>Приведите схему включения вольтметра с добавочным сопротивлением.</p> <p>10. Приведите электрическую схему, которой соответствует векторная диаграмма.</p>  |
| <p>Владеть</p> | <p>-методами приемами проведения экспериментальных исследований электрических</p> | <p>Перечень тем лабораторных работ :</p> <ol style="list-style-type: none"> 1. Электрические приборы и измерения; 2. Исследование свойств цепи постоянного тока; 3. Исследование электрической цепи синусоидального тока; 4. Исследование трехфазных цепей; |

| Структурный элемент компетенции | Планируемые результаты обучения | Оценочные средства |
|---|--|---|
| | <p>цепей и электротехнических устройств;</p> <p>-методами анализа простых электрических цепей, навыками измерения электрических величин;</p> | <p>Перечень тем расчетно-графических работ :</p> <p>1. Расчет линейных цепей постоянного тока.</p> <p>Целью работы является закрепление у студентов навыков анализа и расчёта линейной электрической цепи постоянного тока.</p> |
| <p>ПК-14 -готовностью участвовать в исследованиях объектов профессиональной деятельности и их структурных элементов</p> | | |
| Знать | <p>-основные характеристики электромагнитных устройств и приборов, элементную базу электронных устройств</p> | <p>Перечень теоретических вопросов к экзамену:</p> <ol style="list-style-type: none"> 1 Однофазный трансформатор со стальным сердечником. 2 Трехфазные трансформаторы: назначение, конструкция, принцип действия, основные эксплуатационные параметры. 3 Получение вращающегося магнитного поля в трехфазной цепи. 4 Асинхронные двигатели: назначение, конструкция, принцип действия. 5 Способы пуска и регулирования скорости асинхронных двигателей. 6 Двигатели постоянного тока: назначение, конструкция, способы возбуждения, основные характеристики. |
| Уметь | <p>экспериментальным способом и на основе</p> | <p>Примерные практические задания для экзамена:</p> <p>1. Дано: $U_{ном}=220$ В, $U_{2ном}=127$ В, $S_{ном}=1100$ ВА. Определить номинальные токи первичной и вторичной</p> |

| Структурный элемент компетенции | Планируемые результаты обучения | Оценочные средства |
|---------------------------------|--|---|
| | <p>паспортных (каталожных) данных определять параметры и характеристики типовых электротехнических и электронных устройств</p> | <p>обмоток трансформатора и коэффициент трансформации K. Почему номинальные токи не равны по величине?</p> <p>2. Однофазный трансформатор номинальной мощностью $S_{ном}=600$ кВА включен в сеть с напряжением $U_{1ном}=10\ 000$ В. Напряжение на зажимах вторичной обмотки $U_{2ном}=400$ В. Определить число витков первичной обмотки W_1 и коэффициент трансформации k, если число витков вторичной обмотки $W_2=25$.</p> <p>3. Во вторичной обмотке трансформатора наводится ЭДС $E_2=100$ В с частотой $f=50$ Гц. Определить ЭДС E_1, если амплитуда напряжения на первичной обмотке не изменится, а частота возрастет до 400 Гц?</p> <p>4. Трансформатор имеет следующие данные: $S_{ном}=10\ 000$ ВА, $P_0=200$ Вт, $P_k=400$ Вт. Определить КПД трансформатора при $\cos\varphi=0,8$ и $\beta=0,5$.</p> <p>5. Двигатель постоянного тока параллельного возбуждения имеет паспортные данные: $P_{ном}=10$ кВт, $U_{ном}=220$ В, $I_{ном}=50$ А, $n_{ном}=1000$ об/мин, $R_{я}=0,4$ Ом. Определить частоту вращения якоря двигателя при идеальном холостом ходе.</p> <p>6. Двигатель постоянного тока независимого возбуждения имеет номинальные данные: $P_{ном}=55$ кВт, $U_{ном}=440$ В, $I_{ном}=140$ А, $R_{я}=0,1$ Ом. Определить противо-ЭДС и электромагнитную мощность двигателя.</p> <p>7. Двигатель постоянного тока параллельного возбуждения имеет номинальные данные: $P_{ном}=10\ 000$ Вт, $U_{ном}=220$ В, $I_{ном}=55$ А, $n_{ном}=1000$ об/мин, $R_{я}=0,4$ Ом, $R_{в}=44$ Ом. Определить КПД η и момент вращения двигателя.</p> <p>8. Двигатель параллельного возбуждения имеет номинальные данные: $P_{ном}=1,5$ кВт, $U_{ном}=110$ В, $I_{ном}=18$ А, $n_{ном}=3000$ об/мин, $R_{в}=104$ Ом, $R_{я}=0,47$ Ом. Определить противо-ЭДС двигателя и номинальный момент на валу.</p> <p>9. Номинальные данные двигателя параллельного возбуждения: $U_{ном}=110$ В, $I_{ном}=14$ А, $P_{ном}=1,5$ кВт, $R_{я}=0,5$ Ом, $R_{в}=220$ Ом. Определить противо-ЭДС при нагрузке равной $I_{я}=1,5I_{ном}$.</p> <p>10. Трехфазный асинхронный двигатель имеет номинальные данные: $P_{ном}=10$ кВт, $U_{ном}=220/380$ В, $n_{ном}=950$ об/мин, $\eta=85\%$, $\cos\varphi=0,681$. Определить номинальную мощность потребления энергии из сети и момент на валу двигателя, если обмотка статора соединена «звездой».</p> <p>11. Определить номинальную мощность потребления энергии из сети и полные потери энергии в двигателе, если: $p_{ном}=4,5$ кВт, к.п.д. $\eta=90\%$.</p> <p>12. Максимальный момент асинхронного двигателя $13Нм$ при $U_1=U_{1ном}$. Чему он равен при $U_1=0,8U_{ном}$, если $R_2=const$?</p> |
| Владеть | методами выбора электротехнических, | <p>Перечень тем расчетно-графических работ :</p> <p>1. Расчет параметров и основных характеристик</p> |

| Структурный элемент компетенции | Планируемые результаты обучения | Оценочные средства |
|---------------------------------|---|--|
| | электронных, электроизмерительных устройств | <p>трансформаторов. Целью работы является закрепление у студентов навыков расчёта основных параметров трансформаторов. 2.Расчет параметров и основных характеристик асинхронных двигателей. Целью работы является закрепление у студентов навыков расчёта основных параметров асинхронных двигателей.</p> <p>Перечень тем лабораторных работ :</p> <ol style="list-style-type: none"> 1.Исследование однофазного трансформатора; 2.Исследование двигателей постоянного тока; 3.Исследование асинхронных двигателей с фазным ротором; |

Критерии оценки (в соответствии с формируемыми компетенциями и планируемыми результатами обучения):

Промежуточная аттестация по дисциплине «Электротехника и электроника» включает теоретические вопросы, позволяющие оценить уровень усвоения обучающимися знаний, и практические задания, выявляющие степень сформированности умений и владений, проводится в форме экзамена.

Экзамен по дисциплине проводится в устной форме по экзаменационным билетам, каждый из которых включает 2 теоретических вопроса и одно практическое задание.

Показатели и критерии оценивания экзамена:

– на оценку **«отлично»** (5 баллов) – обучающийся демонстрирует высокий уровень сформированности компетенций, всестороннее, систематическое и глубокое знание учебного материала, свободно выполняет практические задания, свободно оперирует знаниями, умениями, применяет их в ситуациях повышенной сложности.

– на оценку **«хорошо»** (4 балла) – обучающийся демонстрирует средний уровень сформированности компетенций: основные знания, умения освоены, но допускаются незначительные ошибки, неточности, затруднения при аналитических операциях, переносе знаний и умений на новые, нестандартные ситуации.

– на оценку **«удовлетворительно»** (3 балла) – обучающийся демонстрирует пороговый уровень сформированности компетенций: в ходе контрольных мероприятий допускаются ошибки, проявляется отсутствие отдельных знаний, умений, навыков, обучающийся испытывает значительные затруднения при оперировании знаниями и умениями при их переносе на новые ситуации.

– на оценку **«неудовлетворительно»** (2 балла) – обучающийся демонстрирует знания не

более 20% теоретического материала, допускает существенные ошибки, не может показать интеллектуальные навыки решения простых задач.

– на оценку «неудовлетворительно» (1 балл) – обучающийся не может показать знания на уровне воспроизведения и объяснения информации, не может показать интеллектуальные навыки решения простых задач.

8. Учебно-методическое и информационное обеспечение дисциплины (модуля)

а) Основная литература:

1.Электротехника и основы электроники : учебник / И. И. Иванов, Г. И. Соловьев, В. Я. Фролов. — 10-е изд., стер. — Санкт-Петербург : Лань, 2019. — 736 с. — ISBN 978-5-8114-0523-7. — Текст : электронный // Лань : электронно-библиотечная система. — URL: <https://e.lanbook.com/book/112073> (дата обращения: 26.09.2020). — Режим доступа: для авториз. пользователей.

2.Электротехника и электроника : учебное пособие / М. С. Анисимова, И. С. Попова. — Москва : МИСИС, 2019. — 135 с. — ISBN 978-5-907061-32-3. — Текст : электронный // Лань : электронно-библиотечная система. — URL: <https://e.lanbook.com/book/116939> (дата обращения: 26.09.2020). — Режим доступа: для авториз. пользователей.

б) Дополнительная литература:

1.Введение в теоретическую электротехнику. Курс подготовки бакалавров / Ю. А. Бычков, В. М. Золотницкий, Е. Б. Соловьева, Э. П. Чернышев. — Санкт-Петербург : Лань, 2016. — 288 с. — ISBN 978-5-8114-2406-1. — Текст : электронный // Лань : электронно-библиотечная система. — URL: <https://e.lanbook.com/book/89931> (дата обращения: 26.09.2020). — Режим доступа: для авториз. пользователей.

2.Электротехника и основы электроники : учебное пособие / Н. В. Белов, Ю. С. Волков. — Санкт-Петербург : Лань, 2012. — 432 с. — ISBN 978-5-8114-1225-9. — Текст : электронный // Лань : электронно-библиотечная система. — URL: <https://e.lanbook.com/book/3553> (дата обращения: 26.09.2020). — Режим доступа: для авториз. пользователей.

в) Учебные пособия и методические указания:

1.Храмшин, Р.Р. Электрические приборы и измерения. : методические указания к лабораторной работе № 8 (ауд. 358) по дисциплине “Электротехника и основы электроники” для студентов неэлектротехнических специальностей / Р.Р. Храмшин, Г.В. Шохина, Т.П. Ларина, Т.Р. Храмшин ; Магнитогорский гос. технический ун-т им.Г.И.Носова. Магнитогорск : МГТУ им. Г.И.Носова, 2014.-24с. :ил.,граф., схемы. - Текст: непосредственный.

https://newlms.magtu.ru/pluginfile.php/737437/mod_resource/content/1/%D0%90%D1%83%D0%B4%20354%20%D0%BB_%D1%80%20%E2%84%968.pdf

2.Храмшин, Р.Р. Исследование линейной электрической цепи постоянного тока : методические указания к лабораторной работе № 1 (ауд. 358) по дисциплине “Электротехника и основы электроники” для студентов неэлектротехнических специальностей / Р.Р. Храмшин, Г.В. Шохина, Т.П. Ларина.;Магнитогорский гос.

техический ун-т им.Г.И.Носова. Магнитогорск : МГТУ им. Г.И.Носова, 2013.-17с. : ил.,граф., схемы. -Текст: непосредственный. https://newlms.magtu.ru/pluginfile.php/832603/mod_resource/content/3/%D0%90%D1%83%D0%B4%20354%20%D0%BB-%D1%80%20%E2%84%961.pdf

3.Храмшин, Р.Р. Исследование линейной электрической цепи однофазного синусоидального тока. Компенсация реактивной мощности.: методические указания к лабораторной работе № 2 (ауд. 358) по дисциплине “Электротехника и основы электроники” для студентов неэлектротехнических специальностей / Р.Р. Храмшин, Г.В. Шохина, Т.П. Ларина ;Магнитогорский гос. техический ун-т им.Г.И.Носова. Магнитогорск : МГТУ им. Г.И.Носова, 2013.-20с. : ил.,граф., схемы. -Текст: непосредственный. https://newlms.magtu.ru/pluginfile.php/832631/mod_resource/content/7/%D0%90%D1%83%D0%B4%20354%20%D0%BB-%D1%80%20%E2%84%962.pdf

4. Храмшин, Р.Р. Исследование трехфазной цепи при соединении приемников энергии «звездой»: методические указания к лабораторной работе № 4 (ауд. 358) по дисциплине “Электротехника и основы электроники” для студентов неэлектротехнических специальностей / Р.Р. Храмшин, Г.В. Шохина, Т.П. Ларина.;Магнитогорский гос. техический ун-т им.Г.И.Носова. Магнитогорск : МГТУ им. Г.И.Носова, 2013.-14с. : ил.,граф., схемы. -Текст: непосредственный. https://newlms.magtu.ru/pluginfile.php/832719/mod_resource/content/1/%D0%90%D1%83%D0%B4%20354%20%D0%BB_%D1%80%20%E2%84%964.pdf

7. Ларина. Т.П.Исследование однофазного трансформатора.: методические указания к лабораторной работе № 21 (ауд. 361) по дисциплине “Электротехника и основы электроники” для студентов неэлектротехнических специальностей / Т.П. Ларина, Р.Р. Храмшин, Г.В. Шохина ;Магнитогорский гос. техический ун-т им.Г.И.Носова. Магнитогорск : МГТУ им. Г.И.Носова, 2012.-14 с. : ил.,граф., схемы. -Текст: непосредственный. https://newlms.magtu.ru/pluginfile.php/880434/mod_resource/content/3/%D0%90%D1%83%D0%B4%20361%20%D0%BB_%D1%80%20%E2%84%9621.pdf

8. Ларина. Т.П. Исследование двигателя постоянного тока независимого возбуждения. : Методические указания к лабораторной работе № 23 (ауд. 361) по дисциплине “Электротехника и основы электроники” для студентов неэлектротехнических специальностей / Т.П. Ларина, А.А. Чертоусов, Г.В. Шохина, Т.Н. Сыромятникова. ;Магнитогорский гос. техический ун-т им.Г.И.Носова. Магнитогорск : МГТУ им. Г.И.Носова, 2009.-13 с. : ил.,граф., схемы. -Текст: непосредственный. https://newlms.magtu.ru/pluginfile.php/832914/mod_resource/content/2/%D0%90%D1%83%D0%B4%20354%20%D0%BB_%D1%80%20%E2%84%9622_%D1%81%D0%BA%D0%B0%D0%BD.pdf

9.Чертоусов, А.А. Исследование трехфазного асинхронного двигателя с фазным ротором. : методические указания к лабораторной работе № 24 (ауд. 361) по дисциплине “Электротехника и основы электроники” для студентов неэлектротехнических специальностей / А.А. Чертоусов, Г.В. Шохина, Т.Н. Сыромятникова, Т.П. Ларина.;Магнитогорский гос. техический ун-т им.Г.И.Носова. Магнитогорск : МГТУ им. Г.И.Носова, 2009.-28 с. : ил.,граф., схемы. -Текст: непосредственный https://newlms.magtu.ru/pluginfile.php/833936/mod_resource/content/2/%D0%90%D1%83%D0%B4%20361%20%D0%BB-%D1%80%20%E2%84%9624.pdf

г) Программное обеспечение и Интернет-ресурсы:

| Наименование ПО | № договора | Срок действия лицензии |
|-----------------|----------------------|------------------------|
| MS Windows 7 | Д-1227 от 08.10.2018 | 11.10.2021 |

| | | |
|----------------|---------------------------|-----------|
| MS Office 2007 | № 135 от 17.09.2007 | бессрочно |
| FAR Manager | свободно распространяемое | бессрочно |
| 7Zip | свободно распространяемое | бессрочно |

Профессиональные базы данных и информационные справочные системы

| Название курса | Ссылка |
|--|---|
| Электронная база периодических изданий East View Information Services, ООО | https://dlib.eastview.com/ |
| Национальная информационно-аналитическая система – Российский индекс научного цитирования (РИНЦ) | URL: https://elibrary.ru/project_risc.asp |
| Поисковая система Академия Google (Google Scholar) | URL: https://scholar.google.ru/ |
| Информационная система - Единое окно доступа к информационным ресурсам | URL: http://window.edu.ru/ |
| Электронные ресурсы библиотеки МГТУ им. Г.И. Носова | Default.asp |
| Российская Государственная библиотека. Каталоги | https://www.rsl.ru/ru/4readers/catalogues/ |

9. Материально-техническое обеспечение дисциплины (модуля)

Материально-техническое обеспечение дисциплины включает:

| Тип и название аудитории | Оснащение аудитории |
|---|--|
| Учебные аудитории для проведения занятий лекционного типа ауд.365 | Мультимедийные средства хранения, передачи и представления информации |
| Учебная лаборатория для проведения лабораторных работ: лаборатория электрических цепей ауд. 358 | Универсальный лабораторный стенд по электрическим цепям, электронике, электроизмерениям 9 шт. Наглядные пособия –плакаты-12 шт. |
| Учебная лаборатория для проведения лабораторных работ: лаборатория электрических машин ауд .361 | Универсальный лабораторный стенд по электрическим машинам 9 шт. Наглядные пособия-плакаты-12 шт. |
| Учебная аудитория для проведения практических занятий , групповых и индивидуальных консультаций, текущего контроля и промежуточной аттестации ауд. 357, 354, 358, 361 | Доска, мультимедийный проектор, экран |

| | | |
|--|------------|---|
| Помещение самостоятельной обучающихся ауд. 343 | для работы | Персональные компьютеры с пакетом MS Office, выходом в Интернет и доступом в электронную информационно-образовательную среду университета |
| Помещение для хранения и профилактического обслуживания учебного оборудования ауд. 356 | | Стеллажи, сейфы для хранения учебного оборудования. Инструменты для ремонта лабораторного оборудования |