

МИНИСТЕРСТВО ОБРАЗОВАНИЯ И НАУКИ РОССИЙСКОЙ ФЕДЕРАЦИИ  
Федеральное государственное бюджетное образовательное учреждение  
высшего образования  
«Магнитогорский государственный технический университет им. Г.И. Носова»

УТВЕРЖДАЮ  
Директор института  
энергетики и автоматизированных  
систем  
С.И. Лукьянов



«27» сентября 2017 г.

**РАБОЧАЯ ПРОГРАММА ДИСЦИПЛИНЫ (МОДУЛЯ)**  
**ЭЛЕКТРОТЕХНИКА**

Направление подготовки  
29.03.04 Технология художественной обработки материалов

Профиль программы  
Художественная обработка металла и камня

Уровень высшего образования - бакалавриат

Программа подготовки – академический бакалавриат

Форма обучения  
Очная

Институт  
Кафедра  
Курс  
Семестр

Энергетики и автоматизированных систем  
Электроснабжения промышленных предприятий  
2  
4

Магнитогорск  
2017 г.

Рабочая программа составлена на основе ФГОС ВО по направлению подготовки  
29.03.04 Технология художественной обработки материалов,  
утвержденного приказом МОиН РФ от 01.10.2015 г. №1086.

Рабочая программа рассмотрена и одобрена на заседании кафедры электроснабжения промышленных предприятий «5» сентября 2017 г., протокол № 1.

Зав. кафедрой  / Г.П. Корнилов /

Рабочая программа одобрена методической комиссией института энергетики и автоматизированных систем «27» сентября 2017 г., протокол № 2.

Председатель  / С.И. Лукьянов /

Согласовано:

Зав. каф. художественной обработки материалов

 / С.А. Гаврицов /

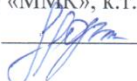
Рабочая программа составлена:

Ст. преподаватель каф. ЭПП

 / Т.П. Ларина /

Рецензент:

Начальник отделения электропривода ЦЭТЛ ОАО «ММК», к.т.н.

 / А.Ю. Юдин /



## 1. Цели освоения дисциплины

Целью освоения дисциплины «Электротехника» является теоретическая и практическая подготовка будущих бакалавров в области электротехники в такой степени, чтобы они могли выбирать необходимые электротехнические, электронные, электроизмерительные устройства, уметь их правильно эксплуатировать и составлять совместно со специалистами-электриками технические задания на разработку электрических частей различных установок и оборудования в своей профессиональной деятельности.

## 2. Место дисциплины в структуре образовательной программы подготовки бакалавра

Дисциплина «Электротехника» входит в базовую часть обязательных дисциплин образовательной программы.

### *Перечень разделов дисциплин, усвоение которых необходимо для изучения электротехники:*

Математика: линейная алгебра, теория функций комплексного переменного, дифференциальное и интегральное исчисление, дифференциальные уравнения.

Физика: механика (вращательное движение), электричество и магнетизм.

Информатика: простейшие навыки работы на компьютере и в сети Интернет, умение использовать прикладное программное обеспечение, в частности: пакеты универсальных математических программ, текстовый процессор и редактор формул (для оформления отчетов).

### *Минимальные требования к «входным» знаниям, необходимым для успешного усвоения данной дисциплины:*

Удовлетворительное усвоение программ по указанным выше разделам математики, физики и информатики, владение персональным компьютером на уровне уверенного пользователя.

### *Дисциплины, для которых освоение данной дисциплины необходимо как предшествующее:*

«Безопасность жизнедеятельности», «Оборудование для реализации ТХОМ».

## 3. Компетенции обучающегося, формируемые в результате освоения дисциплины и планируемые результаты обучения

В результате освоения дисциплины «Электротехника» обучающийся должен обладать следующими компетенциями:

Структурный элемент компетенции	Планируемые результаты обучения
ОПК-4	готовностью использовать основные законы естественнонаучных дисциплин в профессиональной деятельности, применять методы математического анализа и моделирования, теоретического и экспериментального исследования в физике, химии, экологии
Знать	- основные определения и понятия теории электрических цепей и электромагнитных устройств; - методы анализа электрических и магнитных цепей, электромагнитных устройств
Уметь	- описывать электрическое состояние цепей и электромагнитных

Структурный элемент компетенции	Планируемые результаты обучения
	устройств; - выбирать эффективные способы анализа электрических и магнитных цепей, читать электрические схемы электротехнических и электронных устройств
Владеть	- методами приемами проведения экспериментальных исследований электрических цепей и электротехнических устройств; - методами анализа простых электрических цепей, навыками измерения электрических величин.
<b>ОПК-5</b> готовностью применять законы фундаментальных и прикладных наук для выбора материаловедческой базы и технологического цикла изготовления готовой продукции	
Знать	- основные характеристики электромагнитных устройств и приборов, элементную базу электронных устройств;
Уметь	- экспериментальным способом и на основе паспортных (каталожных) данных определять параметры и характеристики типовых электротехнических и электронных устройств;
Владеть	- методами выбора электротехнических, электронных, электроизмерительных устройств.

#### 4. Структура и содержание дисциплины (модуля)

Общая трудоемкость дисциплины составляет 2 зачетных единиц 72 акад. часов, в том числе:

- контактная работа – 34,95 акад. часов:
  - аудиторная – 34 акад. часов;
  - внеаудиторная – 0,95 акад. часов
- самостоятельная работа – 37,05 акад. часов;

Раздел/ тема дисциплины	Семестр	Аудиторная контактная работа (в акад. часах)			Самостоятельная работа (в акад. часах)	Вид самостоятельной работы	Форма текущего контроля успеваемости и промежуточной аттестации	Код и структурный элемент компетенции
		лекции	лаборат. занятия	практич. занятия				
1. Электрические цепи	3							
1.1. 1.Линейные электрические цепи постоянного тока.		3	2		6	1. Поиск дополнительной информации по заданной теме. 2.Самостоятельное изучение учебной литературы. 3. Работа с электронными библиотеками. 4.Подготовка и выполнение л.р.№1.	Коллоквиум по л.р.№1	ОПК-4 ОПК-5 ЗУВ
1.2. Линейные электрические цепи однофазного синусоидального тока.		3	2/2И		6	1. Работа с электронными библиотеками. 2. Самостоятельное изучение учебной литературы.	Коллоквиум по л.р.№2.	ОПК-4 ОПК-5 ЗУВ

Раздел/ тема дисциплины	Семестр	Аудиторная контактная работа (в acad. часах)			Самостоятельная работа (в acad. часах)	Вид самостоятельной работы	Форма текущего контроля успеваемости и промежуточной аттестации	Код и структурный элемент компетенции
		лекции	лаборат. занятия	практич. занятия				
						3. Подготовка и выполнение л.р.№2		
1.3. Трехфазные цепи.		3	2		6	1. Работа с электронными библиотеками. 2.Самостоятельное изучение учебной литературы. 3.Подготовка и выполнение л.р.№4.	Коллоквиум по л.р.№4.	ОПК-4 ОПК-5 ЗУВ
Итого по разделу		9	6/2И		18			
2. Электрические машины и трансформаторы.	3							
2.1. Трансформаторы.		2	2		6	1.Подготовка и выполнение л.р.№21. 2.Самостоятельное изучение учебной литературы	Коллоквиум по л.р.№21	ОПК-4 ОПК-5 ЗУВ
2.2. Электрические машины постоянного тока.		2	4/2И		6	1.Подготовка и выполнение л.р.№23. 2.Самостоятельное изучение учебной литературы.	Коллоквиум по л.р.№23.	ОПК-4 ОПК-5 ЗУВ
2.3. Асинхронные двигатели		2	3/2И		4	1.Подготовка и выполнение л.р.№24.	Коллоквиум по л.р.№24.	ОПК-4 ОПК-5

Раздел/ тема дисциплины	Семестр	Аудиторная контактная работа (в акад. часах)			Самостоятельная работа (в акад. часах)	Вид самостоятельной работы	Форма текущего контроля успеваемости и промежуточной аттестации	Код и структурный элемент компетенции
		лекции	лаборат. занятия	практич. занятия				
						2.Самостоятельное изучение учебной литературы.		ЗУВ
Итого по разделу		6	9/4И		16			
3. Электрические приборы и измерения	3	2	2		3,05	.Подготовка и выполнение л.р.№8. 2.Самостоятельное изучение учебной литературы.	Коллоквиум по л.р.№8	ОПК-4 ОПК-5 ЗУВ
Итого по разделу		2	2		3,05			
<b>Итого за семестр</b>		<b>17</b>	<b>17/6И</b>		<b>37,05</b>		<b>Зачет</b>	ОПК-4 ОПК-5 ЗУВ
<b>Итого по дисциплине</b>		<b>17</b>	<b>17/6И</b>		<b>37,05</b>		<b>Зачет</b>	ОПК-4 ОПК-5 ЗУВ

**17/6И** – в том числе, часы, отведенные на работу в интерактивной форме



## 5. Образовательные и информационные технологии

Для реализации предусмотренных видов учебной работы в качестве образовательных технологий в преподавании дисциплины используются традиционная технология и технология проблемного обучения. Передача необходимых теоретических знаний и формирование основных представлений может происходить с использованием мультимедийного оборудования.

Лекции проходят в традиционной форме, в форме лекций-консультаций и проблемных лекций. Теоретический материал на проблемных лекциях является результатом усвоения полученной информации посредством постановки проблемного вопроса и поиска путей его решения. На лекциях – консультациях изложение нового материала сопровождается постановкой вопросов и дискуссией в поисках ответов на эти вопросы.

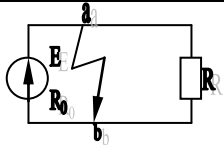
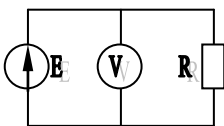
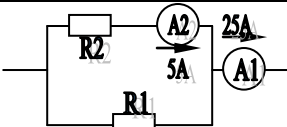
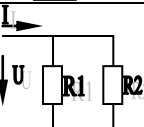
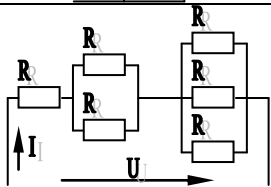
Лекционный материал закрепляется в ходе лабораторных работ, на которых выполняются групповые или индивидуальные задания по пройденной теме.

При проведении лабораторных занятий используются работа в команде и методы информационных технологий.

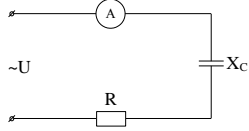
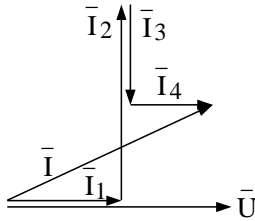
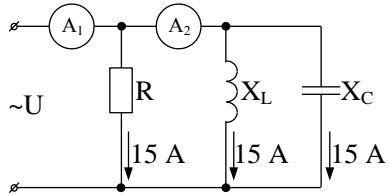
## 6. Учебно-методическое обеспечение самостоятельной работы обучающихся

### Примерные аудиторные коллоквиумы

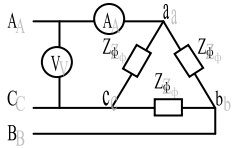
#### Коллоквиум № 1. Линейные цепи постоянного тока. (к л/р № 1)

<p>1. Определить величину тока короткого замыкания, если: <math>E = 2,1 \text{ В}</math>, <math>R_0 = 0,1 \text{ Ом}</math>, <math>R = 2 \text{ Ом}</math>.</p>	
<p>2. Что показывает вольтметр, подключенный к клеммам источника?</p>	
<p>3. Определить сопротивление резистора <math>R_2</math>, если: <math>R_1 = 3 \text{ Ом}</math>, а показания амперметров указаны на схеме.</p>	
<p>4. Определить сопротивления <math>R_1</math> и <math>R_2</math>, если: <math>U = 60 \text{ В}</math>, ток в неразветвленной части цепи <math>I = 1,5 \text{ А}</math>. (<math>R_1 = 2R_2</math>)</p>	
<p>5. Определить напряжение источника <math>U</math>, если <math>R=6 \text{ Ом}</math>, <math>I=4 \text{ А}</math>.</p>	

Коллоквиум № 2. Линейные цепи переменного тока. (к л/р №2)

<p>1. Приведите график мгновенных значений тока и напряжения для цепи, содержащей активное сопротивление.</p>	
<p>2. Определить сопротивление конденсатора <math>X_C</math>, если:  <math>U = 200 \text{ В}</math>, <math>I = 4 \text{ А}</math>, <math>\cos \varphi = 0,8</math>.</p>	
<p>3. Определить действующее значение тока, напряжения, сдвиг по фазе и характер нагрузки, если мгновенные значения тока и напряжения равны: <math>i = 10 \sin \omega t</math>, <math>u = 141 \sin (\omega t + 30^\circ)</math>.</p>	
<p>4. Приведите электрическую схему, которой соответствует векторная диаграмма.</p>	
<p>5. Определить показания амперметров <math>A_1</math> и <math>A_2</math> и реактивную мощность цепи <math>Q</math>, если: <math>U = 120 \text{ В}</math>.</p>	

Коллоквиум № 3. Трехфазные цепи. (к л/р № 4)

<p>1. Как получить трехфазную систему Э.Д.С.? Дайте определение трехфазной электрической цепи.</p>	
<p>2. Объяснить построение векторной диаграммы токов и напряжений для трехфазной цепи, соединенной «звездой». Нагрузка симметричная, характер активно – индуктивный.</p>	
<p>3. Линейные токи при соединении нагрузки «звездой»: <math>I_A = I_B = I_C = 20 \text{ А}</math>. Определить ток в нейтральном проводе, если <math>\varphi_a = \varphi_b = \varphi_c = 30^\circ</math>.</p>	
<p>4. Приведите выражение для определения активной и реактивной мощностей при симметричной и несимметричной нагрузках.</p>	
<p>5. Определить показание вольтметра, если <math>Z_\varphi = 10 \text{ Ом}</math>, амперметр показывает <math>10 \text{ А}</math>.</p>	

*Коллоквиум № 4. Трансформаторы( к л/р № 21)*

1. Назовите номинальные величины, указываемые на паспортном щитке трансформатора. Что вы понимаете под номинальной мощностью трансформатора?
2. Приведите эл. схему опыта холостого хода. Расскажите порядок проведения этого опыта. Какие величины при этом определяются?
3. Приведите внешнюю характеристику трансформатора и объясните ее. При каких условиях снимается внешняя характеристика?
4. Почему у обмотки высшего напряжения сечение провода меньше, а у обмотки низшего напряжения больше?
5. Дано: $U_{1ном}=220$ В, $U_{2ном}=127$ В, $S_{ном}=1100$ ВА. Определить номинальные токи первичной и вторичной обмоток трансформатора и коэффициент трансформации К. Почему номинальные токи не равны по величине?

*Коллоквиум № 5. Генераторы постоянного тока.( к л/р №22)*

1. Расскажите о способах охлаждения машин постоянного тока.
2. Устройство и назначение коллектора.
3. Какие потери в машинах постоянного тока являются постоянными? Приведите характеристику КПД и объясните ее.
4. При каких условиях снимается характеристика холостого хода? Приведите вид характеристики холостого хода. Объясните, почему восходящая ветвь характеристики не совпадает с нисходящей?
5. Генератор параллельного возбуждения с номинальным напряжением $U_{ном}=220$ В, номинальным током $I_{ном}=110$ А имеет следующие потери: $P_o=P_c+P_{мех}=1320$ Вт, $P_b=650$ Вт, $P_s=1300$ Вт. Определить КПД генератора.

*Коллоквиум № 6. Двигатели постоянного тока.(к л/р №23)*

1. Устройство и принцип действия двигателя постоянного тока.
2. Приведите уравнение электрического равновесия двигателя постоянного тока и объясните его.
3. Для двигателя параллельного возбуждения на одном графике приведите две механические передачи: естественную и искусственную (реостатную). Укажите точки, соответствующие номинальному режиму и режиму идеального холостого хода и условия, при которых сняты эти характеристики.
4. Какие потери изменяются существенно при изменении нагрузки на валу двигателя и оказывают значительное влияние на К.П.Д.?
5. Двигатель постоянного тока параллельного возбуждения имеет паспортные данные: $P_{ном}=10$ кВт, $U_{ном}=220$ В, $I_{яном}=50$ А, $n_{ном}=1000$ об/мин, $R_я=0,4$ Ом. Определить частоту вращения якоря двигателя при идеальном холостом ходе.

Коллоквиум № 7. Асинхронные двигатели (к л/р 24)

1. Устройство и назначение частей трехфазного асинхронного двигателя с короткозамкнутым ротором.
2. Как изменится ток холостого хода ( $I_{10}$ ) и номинальный коэффициент мощности ( $\cos\phi_{1\text{ном}}$ ), если воздушный зазор между статором и ротором увеличится?
3. Приведите выражение частоты вращения магнитного поля статора и объясните его.
4. Что вы понимаете под режимом холостого хода асинхронного двигателя?
5. Трехфазный асинхронный двигатель имеет номинальные данные: $P_{\text{ном}}=10$ кВт, $U_{\text{ном}}=220/380$ В, $n_{\text{ном}}=950$ об/мин, $\eta=85\%$ , $\cos\phi=0,681$ . Определить номинальную мощность потребления энергии из сети и момент на валу двигателя, если обмотка статора соединена «звездой».

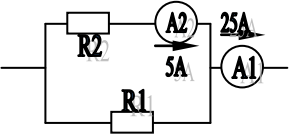
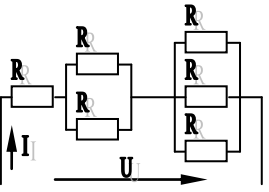
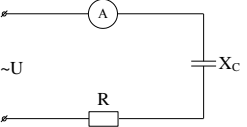
Коллоквиум № 8. Электрические измерения. (к л/р №8)

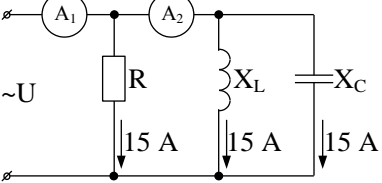
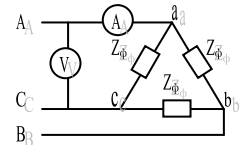
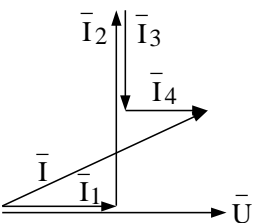
1. Назовите требования, предъявляемые к электроизмерительным приборам.
2. Какой ток можно измерить амперметром, сопротивление которого $R_A=0,3$ Ом, $n_{\text{ном}}=150$ дел., $C_A=0,001$ А/дел., если включить его с шунтом, сопротивление которого $R_{\text{ш}}=0,01$ Ом?
3. Определить цену деления вольтметра, имеющего номинальные данные: $U_{\text{ном}}=50$ В, $n_{\text{ном}}=100$ дел., $R_V=1000$ Ом, включенного с добавочным сопротивлением $R_D=3000$ Ом. Приведите схему включения вольтметра с добавочным сопротивлением.
4. Два ваттметра с номинальными данными $I_{\text{ном}}=5$ А, $U_{\text{ном}}=150$ В со шкалой на 150 делений включены в цепь через измерительные трансформаторы тока и напряжения с коэффициентами трансформации тока $K_{\text{ТТ}}=50/5$ и $K_{\text{ТН}}=500/100$ . Определить мощность потребления энергии трехфазной цепью, если стрелка одного ваттметра отклонилась на 15 делений, а другого на 40 делений.
5. В чем разница между точностью и чувствительностью прибора?

## 7. Оценочные средства для проведения промежуточной аттестации

### а) Планируемые результаты обучения и оценочные средства для проведения промежуточной аттестации

Структурный элемент компетенции	Планируемые результаты обучения	Оценочные средства
<b>ОПК-4</b> -готовностью использовать основные законы естественнонаучных дисциплин в профессиональной деятельности, применять методы математического анализа и моделирования, теоретического и экспериментального исследования в физике, химии, экологии		
<b>Знать</b>	-основные определения и понятия теории электрических цепей и электромагнитных устройств ; -методы анализа электрических и магнитных цепей, электромагнитных устройств	<p><b>Перечень теоретических вопросов к зачету:</b></p> <ol style="list-style-type: none"> <li>1 Понятия электрической, электронной и магнитной цепей. Классификация и примеры цепей. Основные законы электротехники и их применение.</li> <li>2 Физическая и математическая модели цепи. Источники, проводники и приемники. Идеализированные двухполюсные элементы и их свойства.</li> <li>3 Линейные электрические цепи постоянного тока. Анализ цепи на основе законов Кирхгофа и Ома.</li> <li>4 Эквивалентные преобразования участков цепей.</li> <li>5 Основные методы анализа линейных цепей.</li> <li>6 Свойства линейных электрических цепей: свойство линейности, принцип наложения, принцип взаимности.</li> <li>7 Электрическая мощность и энергия постоянного электрического тока. Закон сохранения энергии в электрической цепи с постоянными токами. Баланс мощностей.</li> <li>8 Основные характеристики и параметры синусоидальных токов и напряжений. Способы получения синусоидальных напряжений и токов.</li> <li>9 Представление синусоидальных токов и напряжений векторами и комплексными числами. Законы электрических цепей в комплексной форме.</li> <li>10 Фазовые соотношения между токами и напряжениями в цепи при синусоидальном токе.</li> <li>11 Сопrotивления элементов и участков цепей при синусоидальных токах.</li> <li>12 Электрическая энергия и мощность в цепях с синусоидальным током. Активная, реактивная и полная мощности. Баланс активных и реактивных мощностей.</li> <li>13 Трехфазная система напряжений, основные соотношения, способы получения,</li> </ol>

Структурный элемент компетенции	Планируемые результаты обучения	Оценочные средства
		<p>источники трехфазного напряжения и их эквивалентные схемы.</p> <p>14 Трехфазная нагрузка. Симметричная и несимметричная нагрузка при соединении фаз в треугольник и звезду. Схемы и расчет эквивалентных параметров нагрузки в трехфазных цепях.</p> <p>15 Трехфазная трех- и четырехпроводная сеть с симметричной нагрузкой, схемы, расчетные соотношения для определения линейных и фазных токов и напряжений.</p> <p>16 Мощности трехфазной сети. Измерение активной и реактивной мощности.</p> <p>17 Однофазный трансформатор со стальным сердечником.</p>
<p><b>Уметь</b></p>	<p>– описывать электрическое состояние цепей и электромагнитных устройств;</p>	<p><b>Примерные практические задания для зачета:</b></p> <p>1. Определить сопротивление резистора R2, если: <math>R1 = 3 \text{ Ом}</math>, а показания амперметров указаны на схеме.</p>  <p>2. Определить напряжение источника <math>U</math>, если <math>R=6 \text{ Ом}</math>, <math>I=4\text{А}</math>.</p>  <p>3. Определить сопротивление конденсатора <math>X_C</math>, если: <math>U = 200 \text{ В}</math>, <math>I = 4 \text{ А}</math>, <math>\cos \varphi = 0,8</math>.</p>  <p>4. Определить показания амперметров <math>A_1</math> и <math>A_2</math> и реактивную мощность цепи <math>Q</math>, если: <math>U = 120 \text{ В}</math>.</p>

Структурный элемент компетенции	Планируемые результаты обучения	Оценочные средства
	<p>- выбирать эффективные способы анализа электрических и магнитных цепей, читать электрические схемы электротехнических и электронных устройств</p>	 <p>5. Линейные токи при соединении нагрузки «звездой»: <math>I_A = I_B = I_C = 20</math> А. Определить ток в нейтральном проводе, если <math>\varphi_a = \varphi_b = \varphi_c = 30^\circ</math>.</p> <p>6. Определить показание вольтметра, если <math>Z_\phi = 10</math> Ом, амперметр показывает 10 А.</p>  <p>7. Определить действующее значение тока, напряжения, сдвиг по фазе и характер нагрузки, если мгновенные значения тока и напряжения равны: <math>i = 10 \sin \omega t</math>, <math>u = 141 \sin (\omega t + 30^\circ)</math>.</p> <p>8. Какой ток можно измерить амперметром, сопротивление которого <math>R_A = 0,3</math> Ом, <math>n_{\text{ном}} = 150</math> дел., <math>C_A = 0,001</math> А/дел., если включить его с шунтом, сопротивление которого <math>R_{\text{ш}} = 0,01</math> Ом?</p> <p>9. Определить цену деления вольтметра, имеющего номинальные данные: <math>U_{\text{ном}} = 50</math> В, <math>n_{\text{ном}} = 100</math> дел., <math>R_V = 1000</math> Ом, включенного с добавочным сопротивлением <math>R_D = 3000</math> Ом.</p> <p>Приведите схему включения вольтметра с добавочным сопротивлением.</p> <p>10. Приведите электрическую схему, которой соответствует векторная диаграмма.</p> 
<b>Владеть</b>	-методами приемами проведения экспериментальных исследований	<p><b>Перечень тем лабораторных работ :</b></p> <ol style="list-style-type: none"> <li>1. Электрические приборы и измерения;</li> <li>2. Исследование свойств цепи постоянного тока;</li> </ol>

Структурный элемент компетенции	Планируемые результаты обучения	Оценочные средства
	электрических цепей и электротехнических устройств; -методами анализа простых электрических цепей, навыками измерения электрических величин;	3. Исследование электрической цепи синусоидального тока; 4. Исследование трехфазных цепей;
<b>ОПК-5</b> готовностью применять законы фундаментальных и прикладных наук для выбора материаловедческой базы и технологического цикла изготовления готовой продукции		
<b>Знать</b>	-основные характеристики электромагнитных устройств и приборов, элементную базу электронных устройств	<p><b>Перечень теоретических вопросов к зачету:</b></p> <ol style="list-style-type: none"> <li>1 Однофазный трансформатор со стальным сердечником.</li> <li>2 Трехфазные трансформаторы: назначение, конструкция, принцип действия, основные эксплуатационные параметры.</li> <li>3 Получение вращающегося магнитного поля в трехфазной цепи.</li> <li>4 Асинхронные двигатели: назначение, конструкция, принцип действия.</li> <li>5 Способы пуска и регулирования скорости асинхронных двигателей.</li> <li>6 Двигатели постоянного тока: назначение, конструкция, способы возбуждения, основные характеристики.</li> </ol>
<b>Уметь</b>	экспериментальным способом и на основе паспортных (каталожных) данных определять параметры и характеристики типовых электротехнических и электронных устройств	<p><b>Примерные практические задания для зачета:</b></p> <ol style="list-style-type: none"> <li>1. Дано: <math>U_{1ном}=220</math> В, <math>U_{2ном}=127</math> В, <math>S_{ном}=1100</math> ВА. Определить номинальные токи первичной и вторичной обмоток трансформатора и коэффициент трансформации <math>K</math>. Почему номинальные токи не равны по величине?</li> <li>2. Однофазный трансформатор номинальной мощностью <math>S_{ном}=600</math> кВА включен в сеть с напряжением <math>U_{1ном}=10\ 000</math> В. Напряжение на зажимах вторичной обмотки <math>U_{2ном}=400</math> В. Определить число витков первичной обмотки <math>W_1</math> и коэффициент трансформации <math>k</math>, если число витков вторичной обмотки <math>W_2=25</math>.</li> <li>3. Во вторичной обмотке трансформатора наводится ЭДС <math>E_2=100</math> В с частотой <math>f=50</math> Гц. Определить ЭДС <math>E_2</math>, если амплитуда напряжения на первичной обмотке не изменится, а частота возрастет до 400 Гц?</li> <li>4. Трансформатор имеет следующие данные: <math>S_{ном}=10\ 000</math> ВА, <math>P_0=200</math> Вт, <math>P_k=400</math> Вт. Определить КПД</li> </ol>



Структурный элемент компетенции	Планируемые результаты обучения	Оценочные средства
		<p>трансформатора при <math>\cos\varphi=0,8</math> и <math>\beta=0,5</math>.</p> <p>5. Двигатель постоянного тока параллельного возбуждения имеет паспортные данные: <math>P_{\text{ном}}=10</math> кВт, <math>U_{\text{ном}}=220</math> В, <math>I_{\text{яном}}=50</math> А, <math>n_{\text{ном}}=1000</math> об/мин, <math>R_{\text{я}}=0,4</math> Ом. Определить частоту вращения якоря двигателя при идеальном холостом ходе.</p> <p>6. Двигатель постоянного тока независимого возбуждения имеет номинальные данные: <math>P_{\text{ном}}=55</math> кВт, <math>U_{\text{ном}}=440</math> В, <math>I_{\text{яном}}=140</math> А, <math>R_{\text{я}}=0,1</math> Ом. Определить противо - ЭДС и электромагнитную мощность двигателя.</p> <p>7. Двигатель постоянного тока параллельного возбуждения имеет номинальные данные: <math>P_{\text{ном}}=10\ 000</math> Вт, <math>U_{\text{ном}}=220</math> В, <math>I_{\text{ном}}=55</math> А, <math>n_{\text{ном}}=1000</math> об/мин, <math>R_{\text{я}}=0,4</math> Ом, <math>R_{\text{в}}=44</math> Ом. Определить КПД <math>\eta</math> и момент вращения двигателя.</p> <p>8. Двигатель параллельного возбуждения имеет номинальные данные: <math>P_{\text{ном}}=1,5</math> кВт, <math>U_{\text{ном}}=110</math> В, <math>I_{\text{ном}}=18</math> А, <math>n_{\text{ном}}=3000</math> об/мин, <math>R_{\text{в}}=104</math> Ом, <math>R_{\text{я}}=0,47</math> Ом. Определить противо – ЭДС двигателя и номинальный момент на валу.</p> <p>9. Номинальные данные двигателя параллельного возбуждения: <math>U_{\text{ном}}=110</math> В, <math>I_{\text{ном}}=14</math> А, <math>P_{\text{ном}}=1,5</math> кВт, <math>R_{\text{я}}=0,5</math> Ом, <math>R_{\text{в}}=220</math> Ом. Определить противо – ЭДС при нагрузке равной <math>I_{\text{я}}=1,5I_{\text{ном}}</math>.</p> <p>10. Трехфазный асинхронный двигатель имеет номинальные данные: <math>P_{\text{ном}}=10</math> кВт, <math>U_{\text{ном}}=220/380</math> В, <math>n_{\text{ном}}=950</math> об/мин, <math>\eta=85\%</math>, <math>\cos\varphi=0,681</math>. Определить номинальную мощность потребления энергии из сети и момент на валу двигателя, если обмотка статора соединена «звездой».</p> <p>11. Определить номинальную мощность потребления энергии из сети и полные потери энергии в двигателе, если: <math>P_{\text{ном}}=4,5</math> кВт, к.п.д. <math>\eta=90\%</math>.</p> <p>12. Максимальный момент асинхронного двигателя <math>13\text{Нм}</math> при <math>U_1=U_{1\text{ном}}</math>. Чему он равен при <math>U_1=0,8U_{\text{ном}}</math>, если <math>R_2=\text{const}</math>?</p>
<b>Владеть</b>	- методами выбора электротехнических, электронных, электроизмерительных устройств	<p><b><i>Перечень тем лабораторных работ :</i></b></p> <ol style="list-style-type: none"> <li>1. Исследование однофазного трансформатора;</li> <li>2. Исследование двигателей постоянного тока;</li> <li>3. Исследование асинхронных двигателей с фазным ротором.</li> </ol>

**б) Порядок проведения промежуточной аттестации, показатели и критерии оценивания:**

Для получения зачета по дисциплине «Электротехника» обучающийся показывает знания на уровне воспроизведения и объяснения информации, навыки решения простых задач в области электротехники и электроники, умеет пользоваться современными средствами информационных технологий, владеет практическими навыками работы с электротехнической аппаратурой.

**Перечень теоретических вопросов к зачету:**

- 1 Асинхронные двигатели: назначение, конструкция, принцип действия.
- 2 Двигатели постоянного тока: назначение, конструкция, способы возбуждения, основные характеристики.
- 3 Линейные электрические цепи постоянного тока. Анализ цепи на основе законов Кирхгофа и Ома.
- 4 Мощности трехфазной сети. Измерение активной и реактивной мощности.
- 5 Однофазный трансформатор со стальным сердечником.
- 6 Основные методы анализа линейных цепей.
- 7 Основные характеристики и параметры синусоидальных токов и напряжений. Способы получения синусоидальных напряжений и токов.
- 8 Получение вращающегося магнитного поля в трехфазной цепи.
- 9 Понятия электрической, электронной и магнитной цепей. Классификация и примеры цепей. Основные законы электротехники и их применение.
- 10 Представление синусоидальных токов и напряжений векторами и комплексными числами. Законы электрических цепей в комплексной форме.
- 11 Свойства линейных электрических цепей: свойство линейности, принцип наложения, принцип взаимности.
- 12 Сопротивления элементов и участков цепей при синусоидальных токах.
- 13 Способы пуска и регулирования скорости асинхронных двигателей.
- 14 Трехфазная нагрузка. Симметричная и несимметричная нагрузка при соединении фаз в треугольник и звезду. Схемы и расчет эквивалентных параметров нагрузки в трехфазных цепях.
- 15 Трехфазная система напряжений, основные соотношения, способы получения, источники трехфазного напряжения и их эквивалентные схемы.
- 16 Трехфазная трех- и четырехпроводная сеть с симметричной нагрузкой, схемы, расчетные соотношения для определения линейных и фазных токов и напряжений.
- 17 Трехфазные трансформаторы: назначение, конструкция, принцип действия, основные эксплуатационные параметры.
- 18 Фазовые соотношения между токами и напряжениями в цепи при синусоидальном токе.
- 19 Физическая и математическая модели цепи. Источники, проводники и приемники. Идеализированные двухполюсные элементы и их свойства.
- 20 Эквивалентные преобразования участков цепей.
- 21 Электрическая мощность и энергия постоянного электрического тока. Закон сохранения энергии в электрической цепи с постоянными токами. Баланс мощностей.
- 22 Электрическая энергия и мощность в цепях с синусоидальным током. Активная, реактивная и полная мощности. Баланс активных и реактивных мощностей.

**Показатели и критерии оценивания зачета:**

- «зачтено» – обучающийся демонстрирует пороговый уровень сформированности компетенций: в ходе контрольных мероприятий допускаются ошибки, проявляется отсутствие отдельных знаний, умений, навыков, обучающийся испытывает значительные затруднения при оперировании знаниями и умениями при их переносе на новые ситуации.

- «не зачтено» – обучающийся не может показать знания на уровне воспроизведения и объяснения информации, не может показать интеллектуальные навыки решения простых задач.

## 8. Учебно-методическое и информационное обеспечение дисциплины (модуля)

### а) Основная литература:

1. Лабораторные работы по электрическим машинам : методические указания к выполнению лабораторных работ по дисциплине "Электрические машины" для студентов направления 13.03.02 "Электроэнергетика и электротехника" всех форм обучения / сост. : В. Г. Рыжков ; МГТУ ; Белорецкий филиал. - Магнитогорск : МГТУ, 2012. - 1 электрон. опт. диск (CD-ROM). - Загл. с титул. экрана. - URL: <https://magtu.informsystema.ru/uploader/fileUpload?name=3100.pdf&show=dcatalogues/1/1135503/3100.pdf&view=true> (дата обращения: 02.09.2020). - Макрообъект. - Текст : электронный. - Сведения доступны также на CD-ROM.

2. Электротехника и электроника : учебное пособие / М. С. Анисимова, И. С. Попова. — Москва : МИСИС, 2019. — 135 с. — ISBN 978-5-907061-32-3. — Текст : электронный // Лань : электронно-библиотечная система. — URL: <https://e.lanbook.com/book/116939> (дата обращения: 26.09.2020). — Режим доступа: для авториз. пользователей.

### б) Дополнительная литература:

1. Введение в теоретическую электротехнику. Курс подготовки бакалавров / Ю. А. Бычков, В. М. Золотницкий, Е. Б. Соловьева, Э. П. Чернышев. — Санкт-Петербург : Лань, 2016. — 288 с. — ISBN 978-5-8114-2406-1. — Текст : электронный // Лань : электронно-библиотечная система. — URL: <https://e.lanbook.com/book/89931> (дата обращения: 02.09.2020). — Режим доступа: для авториз. пользователей.

2. Лабораторный практикум по дисциплине "Электротехническое и конструкционное материаловедение" для студентов направления подготовки 13.03.02 Электроэнергетика и электротехника / МГТУ ; Белорецкий филиал. - Магнитогорск, 2011. - 1 электрон. опт. диск (CD-ROM). - Загл. с титул. экрана. - URL: <https://magtu.informsystema.ru/uploader/fileUpload?name=3090.pdf&show=dcatalogues/1/1135409/3090.pdf&view=true> (дата обращения: 02.09.2020). - Макрообъект. - Текст : электронный. - Сведения доступны также на CD-ROM.

3. Сарапулов, О. А. Электрический привод : [учебное пособие по лабораторному практикуму для группы направления подготовки бакалавров 15.03.02- "Электротехника и электроэнергетика"] / О. А. Сарапулов, В. Г. Рыжков ; МГТУ ; Белорецкий филиал. - Магнитогорск, 2015. - 1 электрон. опт. диск (CD-ROM). - Загл. с титул. экрана. - URL: <https://magtu.informsystema.ru/uploader/fileUpload?name=3093.pdf&show=dcatalogues/1/1135451/3093.pdf&view=true> (дата обращения: 02.09.2020). - Макрообъект. - Текст : электронный. - Сведения доступны также на CD-ROM.

4. Электротехника и основы электроники : учебник / Иванов И.И., Соловьев Г.И., Фролов В.Я. — Санкт-Петербург : Лань, 2012. — 736 с. — ISBN 978-5-8114-0523-7. — Текст : электронный // Лань : электронно-библиотечная система. — URL: <https://e.lanbook.com/reader/book/112073/#1> (дата обращения: 02.09.2020). — Режим доступа: для авториз. пользователей.

5. Электротехника и основы электроники : учебник / И. И. Иванов, Г. И. Соловьев, В. Я. Фролов. — 10-е изд., стер. — Санкт-Петербург : Лань, 2019. — 736 с. — ISBN 978-5-8114-0523-7. — Текст : электронный // Лань : электронно-библиотечная система. — URL: <https://e.lanbook.com/book/112073> (дата обращения: 26.09.2020). — Режим доступа: для авториз. пользователей.

### **в) Методические указания:**

1. Храмшин, Р.Р. Электрические приборы и измерения. : методические указания к лабораторной работе № 8 (ауд. 358) по дисциплине “Электротехника и основы электроники” для студентов неэлектротехнических специальностей / Р.Р. Храмшин, Г.В. Шохина, Т.П. Ларина, Т.Р. Храмшин ; Магнитогорский гос. технический ун-т им.Г.И.Носова. Магнитогорск : МГТУ им. Г.И.Носова, 2014.-24с. :ил.,граф., схемы. - Текст: непосредственный.

2. Храмшин, Р.Р. Исследование линейной электрической цепи постоянного тока : методические указания к лабораторной работе № 1 (ауд. 358) по дисциплине “Электротехника и основы электроники” для студентов неэлектротехнических специальностей / Р.Р. Храмшин, Г.В. Шохина, Т.П. Ларина.; Магнитогорский гос. технический ун-т им.Г.И.Носова. Магнитогорск : МГТУ им. Г.И.Носова, 2013.-17с. : ил.,граф., схемы. -Текст: непосредственный.

3. Храмшин, Р.Р. Исследование линейной электрической цепи однофазного синусоидального тока. Компенсация реактивной мощности.: методические указания к лабораторной работе № 2 (ауд. 358) по дисциплине “Электротехника и основы электроники” для студентов неэлектротехнических специальностей / Р.Р. Храмшин, Г.В. Шохина, Т.П. Ларина ;Магнитогорский гос. технический ун-т им.Г.И.Носова. Магнитогорск : МГТУ им. Г.И.Носова, 2013.-20с. : ил.,граф., схемы. -Текст: непосредственный.

4. Храмшин, Р.Р. Исследование трехфазной цепи при соединении приемников энергии «звездой»: методические указания к лабораторной работе № 4 (ауд. 358) по дисциплине “Электротехника и основы электроники” для студентов неэлектротехнических специальностей / Р.Р. Храмшин, Г.В. Шохина, Т.П. Ларина; Магнитогорский гос. технический ун-т им.Г.И.Носова. Магнитогорск : МГТУ им. Г.И.Носова, 2013.-14с. : ил.,граф., схемы. -Текст: непосредственный.

5. Храмшин, Р.Р. Исследование нулевых схем выпрямления.: методические указания к лабораторной работе № 10 (ауд. 358) по дисциплине “Электротехника и основы электроники” для студентов неэлектротехнических специальностей / Т.Н. Сыромятникова, Г.В. Шохина, Р.Р. Храмшин, Т.П. Ларина; Магнитогорский гос. технический ун-т им.Г.И.Носова. Магнитогорск : МГТУ им. Г.И.Носова, 2010.-17с. : ил.,граф., схемы. -Текст: непосредственный.

6. Ларина. Т.П. Исследование мостовых и управляемых схем выпрямления.: методические указания к лабораторной работе № 11 (ауд. 358) по дисциплине “Электротехника и основы электроники” для студентов неэлектротехнических специальностей / Т.П. Ларина , Т.Н. Сыромятникова, Г.В. Шохина, Р.Р. Храмшин ; Магнитогорский гос. технический ун-т им.Г.И.Носова. Магнитогорск : МГТУ им. Г.И.Носова, 2010.-14 с. : ил.,граф., схемы. -Текст: непосредственный.

7. Ларина. Т.П. Исследование однофазного трансформатора.: методические указания к лабораторной работе № 21 (ауд. 361) по дисциплине “Электротехника и основы электроники” для студентов неэлектротехнических специальностей / Т.П. Ларина, Р.Р. Храмшин, Г.В. Шохина ;Магнитогорский гос. технический ун-т им.Г.И.Носова. Магнитогорск : МГТУ им. Г.И.Носова, 2012.-14 с. : ил.,граф., схемы. -Текст: непосредственный.

8. Ларина. Т.П. Исследование двигателя постоянного тока независимого возбуждения. : Методические указания к лабораторной работе № 23 (ауд. 361) по дисциплине “Электротехника и основы электроники” для студентов неэлектротехнических специальностей / Т.П. Ларина, А.А. Чертоусов, Г.В. Шохина, Т.Н. Сыромятникова. ;Магнитогорский гос. технический ун-т им.Г.И.Носова. Магнитогорск : МГТУ им. Г.И.Носова, 2009.-13 с. : ил.,граф., схемы. -Текст: непосредственный.

9. Чертоусов, А.А. Исследование трехфазного асинхронного двигателя с фазным ротором. : методические указания к лабораторной работе № 24 (ауд. 361) по дисциплине

“Электротехника и основы электроники” для студентов неэлектротехнических специальностей / А.А. Чертоусов, Г.В. Шохина, Т.Н. Сыромятникова, Т.П. Ларина; Магнитогорский гос. технический ун-т им.Г.И.Носова. Магнитогорск : МГТУ им. Г.И.Носова, 2009.-28 с. : ил.,граф., схемы. -Текст: непосредственный

#### г) Программное обеспечение и Интернет-ресурсы:

Наименование ПО	№ договора	Срок действия лицензии
MS Windows 7	Д-1227 от 08.10.2018	11.10.2021
MS Office 2007	№ 135 от 17.09.2007	бессрочно
FAR Manager	свободно распространяемое ПО	бессрочно
7Zip	свободно распространяемое ПО	бессрочно

#### Профессиональные базы данных и информационные справочные системы

Название курса	Ссылка
Электронная база периодических изданий East View Information Services, ООО	<a href="https://dlib.eastview.com/">https://dlib.eastview.com/</a>
Национальная информационно-аналитическая система – Российский индекс научного цитирования (РИНЦ)	URL: <a href="https://elibrary.ru/project_risc.asp">https://elibrary.ru/project_risc.asp</a>
Поисковая система Академия Google (Google Scholar)	URL: <a href="https://scholar.google.ru/">https://scholar.google.ru/</a>
Информационная система - Единое окно доступа к информационным ресурсам	URL: <a href="http://window.edu.ru/">http://window.edu.ru/</a>
Электронные ресурсы библиотеки МГТУ им. Г.И. Носова	<a href="http://magtu.ru:8085/marcweb2/Default.asp">http://magtu.ru:8085/marcweb2/Default.asp</a>
Российская Государственная библиотека. Каталоги	<a href="https://www.rsl.ru/ru/4readers/catalogues/">https://www.rsl.ru/ru/4readers/catalogues/</a>

#### 9. Материально-техническое обеспечение дисциплины (модуля)

Материально-техническое обеспечение дисциплины включает:

Тип и название аудитории	Оснащение аудитории
Учебные аудитории для проведения занятий лекционного типа ауд.365	Мультимедийные средства хранения, передачи и представления информации
Учебная лаборатория для проведения лабораторных работ: лаборатория электрических цепей ауд. 358	Универсальный лабораторный стенд по электрическим цепям, электронике, электроизмерениям 9 шт. Наглядные пособия –плакаты-12 шт.
Учебная лаборатория для проведения лабораторных работ: лаборатория электрических машин ауд.361	Универсальный лабораторный стенд по электрическим машинам 9 шт. Наглядные пособия-плакаты-12 шт.

<p>Учебная аудитория для проведения практических занятий , групповых и индивидуальных консультаций, текущего контроля и промежуточной аттестации ауд. 357, 354, 358, 361</p>	<p>Доска, мультимедийный проектор, экран</p>
<p>Помещение для самостоятельной работы обучающихся ауд. 343</p>	<p>Персональные компьютеры с пакетом MS Office, выходом в Интернет и доступом в электронную информационно-образовательную среду университета</p>
<p>Помещение для хранения и профилактического обслуживания учебного оборудования ауд. 356</p>	<p>Стеллажи, сейфы для хранения учебного оборудования. Инструменты для ремонта лабораторного оборудования</p>