


МИНИСТЕРСТВО НАУКИ И ВЫСШЕГО ОБРАЗОВАНИЯ РОССИЙСКОЙ ФЕДЕРАЦИИ
Федеральное государственное бюджетное образовательное учреждение
высшего образования
«Магнитогорский государственный технический университет им. Г.И. Носова»

УТВЕРЖДАЮ
Директор института металлургии,
машиностроения и материалобработки


А.С. Савинов
2 октября 2018 года

РАБОЧАЯ ПРОГРАММА ДИСЦИПЛИНЫ (МОДУЛЯ)

МЕХАНИКА СПЛОШНОЙ СРЕДЫ

Направление подготовки (специальность)
15.03.01 Машиностроение

Направленность (профиль) программы
Оборудование и технология сварочного производства

Уровень высшего образования
Бакалавриат

Программа подготовки
Академический бакалавриат

Форма обучения
Заочная

Институт металлургии, машиностроения и материалобработки
Кафедра машин и технологии обработки давлением и машиностроения
Курс 3

Магнитогорск, 2018

Рабочая программа составлена на основе ФГОС ВО по направлению подготовки 15.03.01 «Машиностроение», утвержденного приказом МОиН РФ от 03.09.2015 № 957.

Рабочая программа рассмотрена и одобрена на заседании кафедры МиТОДиМ «31» августа 2018 г., протокол №1.

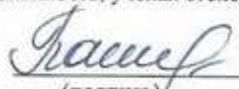
Зав. кафедрой  / С.И. Платов /
(подпись) (И.О. Фамилия)

Рабочая программа одобрена методической комиссией Института металлургии, машиностроения и материалообработки «02» октября 2018 г., протокол № 2.

Председатель  / А.С. Савинов /
(подпись) (И.О. Фамилия)


Рабочая программа составлена:

ст. преподавателем каф. МиТОДиМ
(должность, ученая степень, ученое звание)

 / К.Г. Пашченко /
(подпись) (И.О. Фамилия)

Рецензент:

доцент каф. механики ФГБОУ ВО
«МГТУ им. Г.И. Носова», к.т.н.

 / М.В. Харченко /
(подпись) (И.О. Фамилия)

1 Цели освоения дисциплины (модуля)

Целью освоения дисциплины «Механика сплошной среды» является изучение и подготовка к глубокому освоению современных теоретических и технологических основ сварочного производства, основанных на сложном комплексе разделов физики и механики. Физика пластичности и прочности составляет один из фундаментальных разделов физики твердого тела. Имея глубокую теоретическую базу студенты осознанно усваивают специальные дисциплины.

2 Место дисциплины (модуля) в структуре образовательной программы

Дисциплина Механика сплошной среды входит в вариативную часть учебного плана образовательной программы.

Для изучения дисциплины необходимы знания (умения, владения), сформированные в результате изучения дисциплин/ практик:

Физика

Математика

Знания (умения, владения), полученные при изучении данной дисциплины будут необходимы для изучения дисциплин/практик:

Подготовка к сдаче и сдача государственного экзамена

Подготовка к защите и защита выпускной квалификационной работы

Дефектоскопия сварных соединений

Контроль качества сварных соединений

Проектирование сварных конструкций

3 Компетенции обучающегося, формируемые в результате освоения дисциплины (модуля) и планируемые результаты обучения

В результате освоения дисциплины (модуля) «Механика сплошной среды» обучающийся должен обладать следующими компетенциями:

Структурный элемент компетенции	Планируемые результаты обучения
ОПК-1 умением использовать основные законы естественнонаучных дисциплин в профессиональной деятельности, применять методы математического анализа и моделирования, теоретического и экспериментального исследования	
Знать	-основные определения и понятия математического анализа математического аппарата описания сплошных сред; -основные методы исследований, используемых в моделировании
Уметь	- корректно выражать и аргументированно обосновывать действие законов естественнонаучных дисциплин в области механики сплошных сред.
Владеть	- методами математического анализа в области механики сплошных сред;
ПК-4 способностью участвовать в работе над инновационными проектами, используя базовые методы исследовательской деятельности	
Знать	-знать способы оценки свойств материалов
Уметь	исследовать свойства сред и материалов
Владеть	-базовыми методами исследования сплошных сред
ПК-5 умением учитывать технические и эксплуатационные параметры деталей и узлов изделий машиностроения при их проектировании	

Знать	основные методы механических исследований, используемых в оценке технических и эксплуатационных параметров деталей и узлов изделий машиностроения при их проектировании;
Уметь	применять математический аппарат МСС для оценки технических и эксплуатационных параметров деталей и узлов изделий машиностроения при их проектировании
Владеть	практическими навыками использования элементов аппарата МСС для возможности учитывать технические и эксплуатационные параметры деталей и узлов изделий машиностроения при их проектировании

4. Структура, объём и содержание дисциплины (модуля)

Общая трудоемкость дисциплины составляет 3 зачетных единиц 108 акад. часов, в том числе:

- контактная работа – 8,4 акад. часов;
- аудиторная – 8 акад. часов;
- внеаудиторная – 0,4 акад. часов
- самостоятельная работа – 95,7 акад. часов;

– подготовка к зачёту – 3,9 акад. часа

Форма аттестации - зачет

Раздел/ тема дисциплины	Курс	Аудиторная контактная работа (в акад. часах)			Самостоятельная работа студента	Вид самостоятельной работы	Форма текущего контроля успеваемости и промежуточной аттестации	Код компетенции
		Лек.	лаб. зан.	практ. зан.				
1.1 Цели и задачи изучения дисциплины.	3	0,2			9	Самостоятельное изучение учебной литературы	Вопросы на зачете	ОПК-1, , ПК-4, ПК-5
2.1 Гипотезы континуума, понятия деформаций континуума, основные меры и тензоры деформаций, их геометрический смысл в нелинейной формулировке и в линеаризованном случае	3	0,2	0,3	1	9	Самостоятельное изучение учебной литературы. Подготовка к лабораторным и практическим занятиям.	Защита лабораторной работы №1 Контрольная работа №1	ОПК-1, , ПК-4, ПК-5
3.1 Определения скоростных мер деформаций сплошной среды, определения материальных производных, виды объективных производных тензоров различного ранга	3	0,2	0,2	0,5	9	Самостоятельное изучение учебной литературы. Подготовка к лабораторным и практическим занятиям.	Защита лабораторной работы №1 Контрольная работа №1	ОПК-1, , ПК-4, ПК-5

4.1 Аксиомы механики сплошных сред и их математические формулировки в виде балансовых уравнений для интенсивных характеристик массы, количества движения, момента количества движения, энергии и ее составляющих	3	0,2	0,2	0,5	9	Самостоятельное изучение учебной литературы. Подготовка к лабораторным и практическим занятиям.	Защита лабораторной работы №2 Защита лабораторной работы №3 Контрольная работа №2	ОПК-1, , ПК-4, ПК-5
5.1 Основные требования к определяющим соотношениям, правила перехода к неинерциальным системам отсчета	3	0,2	0,2	0,25	9	Самостоятельное изучение учебной литературы. Подготовка к лабораторным и практическим занятиям.	Защита лабораторной работы №2 Контрольная работа №2	ОПК-1, , ПК-4, ПК-5
6.1 Математические модели классических сред — газов, жидкостей, упругих и упругопластических твердых тел, особенности применения упрощенных математических постановок моделей классических сред, методы их решения	3	0,2	0,2	0,25	15,3	Самостоятельное изучение учебной литературы. Подготовка к лабораторным и практическим занятиям.	Защита лабораторной работы №2 Контрольная работа №2	ОПК-1, , ПК-4, ПК-5
7.1 Основы неравновесной термодинамики сплошных сред, определения и критерии устойчивости	3	0,2	0,2	1,5	9	Самостоятельное изучение учебной литературы. Подготовка к лабораторным и практическим занятиям.	Защита лабораторной работы №2 Контрольная работа №2	ОПК-1, , ПК-4, ПК-5
8.1 Атомно-кристаллическое строение металлов. Свойства аморфных и кристаллических тел. Теория структурных несовершенств, механизм пластической деформации идеальных кристаллов и реальных металлов.	3	0,2	0,2		9	Самостоятельное изучение учебной литературы. Подготовка к лабораторным и практическим занятиям.	Защита лабораторной работы №3 Контрольная работа №3	ОПК-1, , ПК-4, ПК-5
9.1 Текстура и ее значение в практике производства переработки листовых материалов Сверхпластичность, виды сверхпластичности, применение в промышленности Старение металлов и сплавов, механизм старения, пути управления старением	3	0,2	0,25		9	Самостоятельное изучение учебной литературы. Подготовка к лабораторным и практическим занятиям.	Защита лабораторной работы №3 Контрольная работа №3	ОПК-1, , ПК-4, ПК-5

10.1 Теория разрушения металлов, феноменологические представления о разрушении, критерии разрушения	3	0,2	0,25		8,4	Самостоятельное изучение учебной литературы. Подготовка к лабораторным и практическим занятиям.	Защита лабораторной работы №3 Контрольная работа №3	ОПК-1, , ПК-4, ПК-5
11.1 Зачет	3							
Итого по разделу								
Итого за семестр		2	2	4	95,7		зачёт	
Итого по дисциплине		2	2	4	95,7		зачет	ОПК-1, , ПК-4, ПК-5

5 Образовательные технологии

1. Традиционные образовательные технологии ориентируются на организацию образовательного процесса, предполагающую прямую трансляцию знаний от преподавателя к студенту (преимущественно на основе объяснительно-иллюстративных методов обучения). Учебная деятельность студента носит в таких условиях, как правило, репродуктивный характер.

Формы учебных занятий с использованием традиционных технологий:

Информационная лекция – последовательное изложение материала в дисциплинарной логике, осуществляемое преимущественно вербальными средствами (монолог преподавателя).

Практическое занятие, посвященное освоению конкретных умений и навыков по предложенному алгоритму.

Лабораторная работа – организация учебной работы с реальными материальными и информационными объектами, экспериментальная работа с аналоговыми моделями реальных объектов.

2. Интерактивные технологии – организация образовательного процесса, которая предполагает активное и нелинейное взаимодействие всех участников, достижение на этой основе лично- значимого для них образовательного результата. Наряду со специализированными технологиями такого рода принцип интерактивности прослеживается в большинстве современных образовательных технологий. Интерактивность подразумевает субъект-субъектные отношения в ходе образовательного процесса и, как следствие, формирование саморазвивающейся информационно-ресурсной среды.

Семинар-дискуссия – коллективное обсуждение какого-либо спорного вопроса, проблемы, выявление мнений в группе (меж-групповой диалог, дискуссия как спор-диалог).

6 Учебно-методическое обеспечение самостоятельной работы обучающихся

По дисциплине «Механика сплошной среды» предусмотрена аудиторная и внеаудиторная самостоятельная работа обучающихся.

Аудиторная самостоятельная работа студентов предполагает решение контрольных задач на практических занятиях и выполнение лабораторных работ.

Внеаудиторная самостоятельная работа студентов предполагает выполнение индивидуальных домашних заданий.

Лабораторная работа № 1 «Определение внутреннего трения и модулей упругости для упругих деформаций при простом сдвиге и растяжении».

Цель работы: Экспериментально определить коэффициенты упругости сдвига и для растяжения (Юнга), определить величину внутреннего трения для пружинной стали и полиэтилена.

Необходимые материалы

Спиральная пружина из стали, из полиэтилена, бронзы (в зависимости от задания), динамометр, набор грузов-маховиков, линейка.

Последовательность выполнения работы:

1. Получить у преподавателя задание, в задании указаны вид колебаний пружины, длина используемой пружины, количество грузов -маховиков, штатив, секундомер.

2. Измеряются геометрические размеры пружины: диаметр витка, шаг витка, диаметр проволоки.

3. Вычисляются жесткости пружин для растяжения или для скручивания. Суммируются массы грузов или осевые моменты инерции маховиков. Рассчитывается период колебаний для табличных значений модулей упругости материалов.

4. Собирается осциллятор.

5. Проводится опыт с заданным числом колебаний и заданной начальной амплитудой колебаний для пружины из выбранного материала, измеряется время опыта, измеряют амплитуду колебаний.

6. Величину внутреннего трения измеряют по затуханию свободных колебаний (продольных, поперечных, крутильных, изгибных), по резонансной кривой для вынужденных колебаний, по относительному рассеянию упругой энергии за один период колебаний. В эксперименте используют собственные затухающие колебания системы, т.о. за меру внутреннего трения принимают логарифмический декремент затухания q или величину Q^{-1} , которая обратна добротности Q .

7. Находится величина жесткости пружины на скручивание, определяется модуль Юнга, или на растяжение, определяется модуль сдвига.

8. Сравниваются табличные внутреннего трения с расчётными.

9. Сравниваются табличные величины модулей упругости с расчётными.

10. Оформляется отчет с выводами.

Вопросы для подготовки к защите лабораторной работы №1.

Перечислите известные Вам модули упругости.

Как величина внутреннего трения влияет на распространение звука разных частот в среде?

Назовите сферы применения материалов с низким и высоким внутренним трением.

Какая величина понимается под внутренним трением при пластической деформации?

Лабораторная работа № 2 «Измерение коэффициента сопротивления при течении воздуха в цилиндрической трубке».

Цель работы заключается в ознакомлении студентов с основными закономерностями и параметрами, характеризующими течение жидкостей или газов в трубах, а также в приобретении знаний и навыков, необходимых для вычисления этих параметров из экспериментальных данных.

Принципиальная схема экспериментальной установки

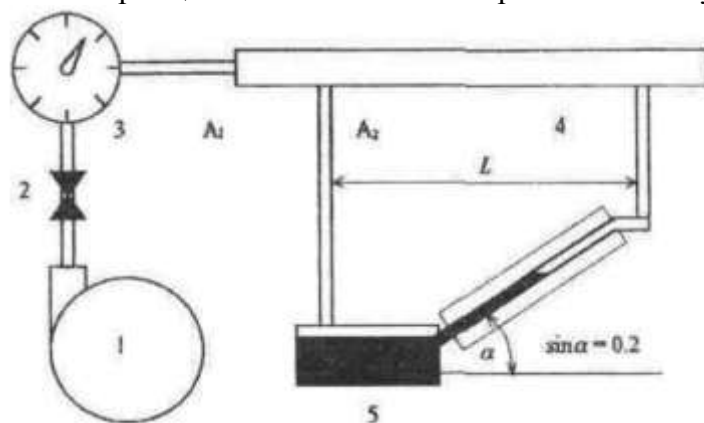


Рис. 1 - воздуходувка, 2 - вентиль, 3 - расходомер, 4 - цилиндрическая трубка, 5 - наклонный манометр (рабочая жидкость — вода)

Последовательность выполнения работы:

1. Изучить руководство по выполнению лабораторной работы и усвоить порядок ее выполнения, измерить расходы воздуха в цилиндрической трубке при различных значениях сопротивления известного участка трубки, вычислить коэффициенты сопротивления гладкой трубки в различных режимах течения и определить ошибки измерения.

2. Проведение измерений

2.1. По барометру-анероиду и ртутному термометру зарегистрировать рабочие условия измерений: давление и температуру.

2.2. Проверить, закрыт ли сильфонный вентиль 2. Включить воздуходувку 1. Проверить установку нулевого показания манометра.

2.3. Плавно открывая вентиль 2, установить заданное число делений на шкале наклонного манометра. Определить время, в течение которого через трубку пройдет количество газа при заданном Δp .

2.4. Зарегистрировать сопротивление участка трубки при фиксированном расходе по показаниям наклонного манометра. Измерения расхода воздуха и сопротивления провести при положениях вентиля, соответствующих значениям Δp .

3. Обработка результатов измерений. Определение зависимости коэффициента сопротивления λ при течении в воздухе последовательно в трех цилиндрических трубках разного диаметра и различной степенью обработки внутренней поверхности стенок. Зависимость была получена как для значений числа Рейнольдса как ниже критического, так и выше критического (при ламинарном и турбулентном движении).

4. Оформляется отчет с выводами.

Вопросы для подготовки к защите лабораторной работы №2.

1. Укажите критическое значение числа Рейнольдса.
2. Как влияет вид потока на теплопроводность, сопротивление движению?
3. Как влияет шероховатость поверхности трубки на сопротивление движению среды, когда развитая поверхность трубки снижает сопротивление течению среды.

Лабораторная работа № 3 «Исследование обратной ползучести (восстановления) эластичности материалов».

Цель работы: изучить явление уменьшения деформаций во времени после снятия нагрузки (называется обратной ползучестью).

Ход выполнения работы:

1. Исследования проводятся на пружине из полимера. Получить у преподавателя задание, в задании указаны вид деформации пружины, длина используемой пружины, величина деформации, штатив, секундомер.

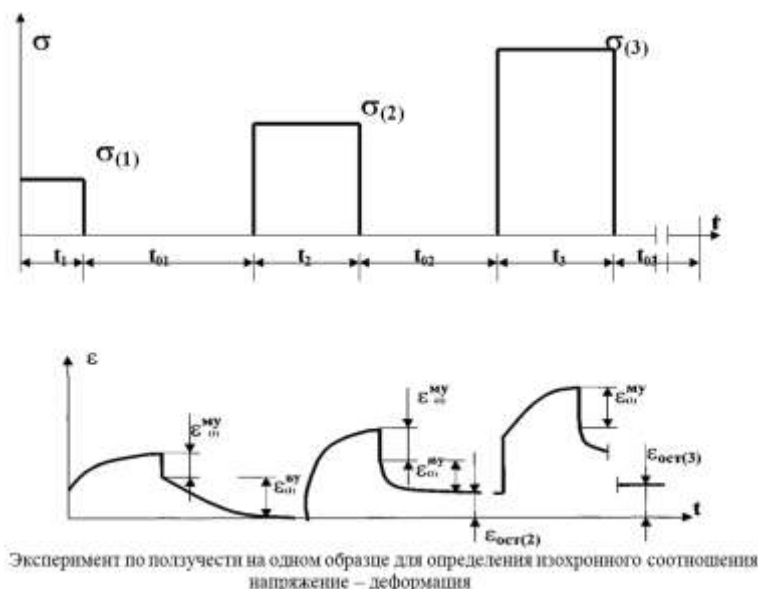
2. Измеряются геометрические размеры пружины: диаметр витка, шаг витка, диаметр проволоки.

3. Полимерная пружина деформируется на заданную величину. Обратная ползучесть полимеров связана непосредственно с вязкоупругой составляющей полной деформации. Восстанавливаемость после ползучести является простейшим дополнительным экспериментом.

4. Испытание на ползучесть проводилось вместе с восстановлением без перерыва.

5. Проводится ряд испытаний и затем на их основе осуществляется необходимый отбор результатов.

6. Изохронное соотношение напряжение – деформация может быть получено непосредственно в эксперименте на одном образце, если отрезок времени мал, а напряжения не вызывают значительных вязкопластических деформаций. Схема такого испытания демонстрируется на рисунке:



7. Обработка результатов измерений.

8. Оформляется отчет с выводами.

Вопросы для подготовки к защите лабораторной работы №3.

1. Почему для конструкционных материалов, например металлов и их сплавов, обратная ползучесть не учитывается?

2. Изобразите кинематическую модель для вязкопластических деформаций.

3. Почему проводится ряд испытаний и затем на их основе осуществляется необходимый отбор результатов?

Аудиторные контрольные работы

АКР №1 «Обозначение плоскостей и направлений в кристалле».

Цель работы: изучить систему Миллера – общепринятую систему обозначения узловых плоскостей и направлений в кристалле.

Задание:

1. Найти символика Миллера для плоскости и направления, изображенные на чертеже.

2. По заданным символика Миллера изобразить направление $[x, y, z]$ и плоскость (a, b, c) .

Последовательность выполнения работы:

1. Выбрать систему координат.
2. Найти отрезки, которые данная плоскость отсекает от осей координат.
3. Взять обратные отношения этих чисел, привести отношения к наименьшему общему знаменателю и отбросить его.
4. Для определения индексов кристаллографических направлений кубических решеток необходимо из семейства параллельных направлений выбрать направление, проходящее через начало координат. Далее приняв за единицу длину ребра элементарной ячейки (или период решетки) определить координаты любой точки этого направления. Полученные значения координат точки приводятся к отношению трех наименьших чисел. Эти числа, заключенные в квадратные скобки $[u,v,w]$, являются индексами Миллера, данного направления, и всех параллельных ему направлений.

АКР №2 «Составление балансовых уравнений для интенсивных характеристик массы, концентрации вещества».

Цель работы: научиться составлять балансовых уравнения для интенсивных характеристик массы.

Задание: составить балансовое уравнение

Пример:

Мгновенный баланс для вычисления конечной концентрации углерода в сталеплавильной ванне можно проиллюстрировать на примере уравнения, описывающего изменение объема проточной ванны идеального перемешивания [. Пусть в ванну в единицу времени поступает G_1 объемных единиц жидкости (приток) и уходит из нее G_2 единиц (сток). Тогда скорость изменения dV/dt объема ванны (скорость накопления) будет равна

$$dV/dt = G_1 - G_2$$

Это и есть уравнение мгновенного материального баланса.

Если в ванну поступает раствор, содержащий два не взаимодействующих между собой вещества А и В, концентрации которых на входе равны C_{A1} , и C_{B1} , а на выходе - C_{A2} , и C_{B2} то уравнения мгновенных материальных балансов для каждого компонента раствора записывают следующим образом:

$$(d/dt)(VC_{A2}) = G_1 C_{A1} - G_2 C_{A2}$$

$$(d/dt)(VC_{B2}) = G_1 C_{B1} - G_2 C_{B2}$$

Если же в ванне протекает химическая реакция $A + B = C + D$ в результате которой в единицу времени расходуется Vc молей вещества А и Vc молей вещества В и образуется по столько же молей каждого из веществ С и D, то в этом случае система уравнений материального баланса для данного процесса будет выражена следующим образом:

$$dV/dt = G_1 - G_2$$

$$(d/dt)(VC_{A2}) = G_1 C_{A1} - (G_2 C_{A2} + Vc$$

$$(d/dt)(VC_{B2}) = G_1 C_{B1} - (G_2 C_{B2} + Vc$$

$$(d/dt)(VC_{C2}) = Vc - G_2 C_{C2}$$

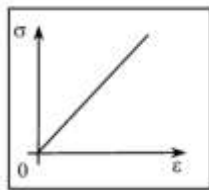
$$(d/dt)(VC_{B2}) = Vc - G_2 C_{D2}$$

АКР №3 «Составление балансовых уравнений для интенсивных характеристик количества движения, момента количества движения».

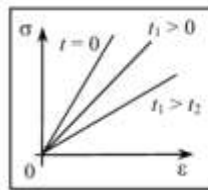
Цель работы: научиться составлять балансовых уравнения для интенсивных характеристик массы, концентрации вещества, количества движения, момента количества движения, энергии и ее составляющих.

Примерные практические задания для подготовки к зачету

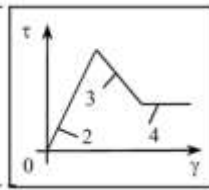
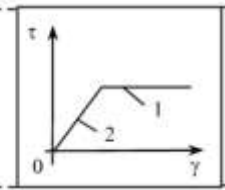
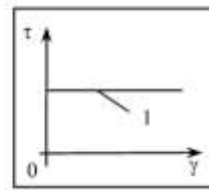
1. Заданы диаграммы



σ – напряжение;
ε – деформация



σ – напряжение;
ε – деформация;
t – время



$\tau = 0,5(\sigma_1 + \sigma_2)$; $\gamma = \epsilon_1 - \epsilon_2$,
где σ_1, σ_2 – главные напряжения; ϵ_1, ϵ_2 – главные деформации
1 – пластическое состояние; 2 – упругое состояние; 3 – запредельное состояние;
4 – участок остаточной прочности

Для указанного графика укажите вид модели, её кинематическое изображение, приведите примеры подобных сред.

2. Заданы тензоры.

Выделите шаровой тензор.

Найдите постоянные параметры тензора, не зависящие от системы координат.

3. Задано векторное поле скоростей.

Покажите с какой скоростью среда сжимается и вращается по заданному векторному полю скоростей.

4. Заданы параметры сред: вязкость, плотность, теплопроводность, температура, абразивность и др.

5. Заданы энергетические поля: давления, градиенты температур, скорости и ускорения, ультразвуковое воздействие, вибрации, трение, потоки газа или плазмы, электрические поля и др. Задано время воздействия полей.

6. Заданы механические свойства среды: ударная вязкость, предел текучести, твердость и др.

7. Для №№4-6, используя аппарат МСС и заданные параметры среды определите возможность эксплуатации системы из деталей, узлов при проектировании.

8. При каких параметрах механических свойств и нагрузках металл (материал) будет разрушатся? Укажите вид разрушения, вид износа.

9. Выполните вывод дифференциальных уравнений равновесия. В чем заключается их физический смысл?

11. Выполните вывод уравнений неразрывности деформаций. В чем заключается их физический смысл?

Вопросы для подготовки к зачету

1. Что называется полным напряжением в точке твердого деформируемого тела?
2. Что называется напряженным состоянием в точке твердого деформируемого тела?

3. Что такое тензор напряжений и для чего он используется в теории напряжений?

4. Докажите, что тензор напряжений однозначно определяет напряженное состояние в точке твердого деформируемого тела.
5. Что называют главными напряжениями и как их определить из произвольного тензора напряжений?
6. Для чего в механике сплошной среды выполняется разложение тензора напряжений на шаровой тензор напряжений и девиатор напряжений?
7. Что такое деформация и каковы основные виды деформации?
8. В чем заключается физический смысл геометрических уравнений Коши?
9. Как связаны между собой удельная потенциальная энергия деформации в точке тела и потенциальная энергия деформации всего твердого деформируемого тела?
10. Перечислите основные уравнения механики твердого деформируемого тела.
11. Выполните вывод дифференциальных уравнений равновесия. В чем заключается их физический смысл?
12. Выполните вывод уравнений неразрывности деформаций. В чем заключается их физический смысл?
13. Для чего в механике сплошной среды используются физические уравнения? Запишите обобщенный закон Гука и поясните, какие основные константы входят в него.
14. Раскройте сущность основных способов вывода разрешающих систем уравнений механики сплошной среды.
15. Дислокации. Виды дислокации.
16. Движение дислокации. Влияние дислокации на прочность кристаллов.
17. Механические свойства твердых тел.
18. Основные закономерности упругой и пластической деформации кристаллов.
19. Сверхпластичность и условия ее возникновения.
20. Структурная сверхпластичность и области ее применения. Изотермическая сверхпластичность.
21. Теоретическая и реальная прочность кристаллов. Пластическая деформация поликристаллических тел.
22. Дислокация. Силы, необходимые для перемещения дислокации.
23. Упрочнение кристаллов. Пластическая деформация с точки зрения теории несовершенства кристаллической решетки.
24. Тепловые свойства твердых тел. Тепловое движение в кристаллах, тепловое расширение, теплопроводность, теплоемкость.
25. Электропроводность, сверхпроводимость.
26. Магнитные свойства твердых тел. Диамагнетизм. Ферромагнетизм, парамагнетизм.
27. Физические основы разрушения металлов. Механизмы зарождения микротрещин.
28. Феноменологическая теория разрушения. Предельные деформации при одноосном и двухосном растяжении.
29. Физические основы анизотропии поликристаллических тел. Вид текстуры.
30. Способы изучения текстуры. Влияние текстуры на пластическую деформацию.
31. Усталость металлов. Деформационная усталость и способы управления ею. Меры предотвращения усталости стали.
32. Физические основы рекристаллизации металлов. Влияние рекристаллизации на пластическую деформацию и свойства металлов.
33. Сопротивление металла пластической деформации. Влияние кристаллической решетки и структурных несовершенств кристаллической решетки на сопротивление металла деформации.
34. Напряжения на наклонной площадке
35. Определение главных напряжений тензора
36. Определение деформаций при простом сдвиге. Определение модуля упругости

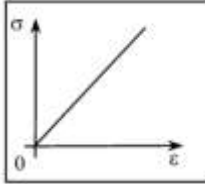
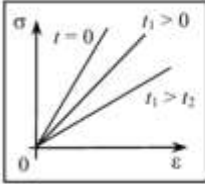
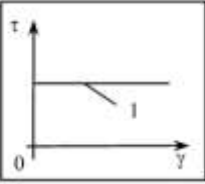
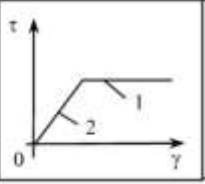
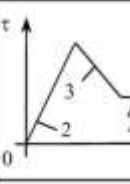
37. Исследование обратной ползучести (восстановления) эластичности материалов
38. Свойства аморфных и кристаллических тел Атомно-кристаллическое строение металлов
39. Теория структурных несовершенств, механизм пластической деформации идеальных кристаллов и реальных металлов
40. Сверхпластичность, виды сверхпластичности, применение в промышленности
41. Старение металлов и сплавов, механизм старения, пути управления старением
42. Текстура и ее значение в практике производства переработки листовых материалов
43. Теория разрушения металлов, феноменологические представления о

7 Оценочные средства для проведения промежуточной аттестации

а) Планируемые результаты обучения и оценочные средства для проведения промежуточной аттестации:

Структурный элемент компетенции	Планируемые результаты обучения	Оценочные средства
ОПК-1 умением использовать основные законы естественнонаучных дисциплин в профессиональной деятельности, применять методы математического анализа и моделирования, теоретического и экспериментального исследования		
Знать	<p>-основные определения и понятия математического анализа математического аппарата описания сплошных сред;</p> <p>-основные методы исследований, используемых в моделировании сплошных сред;</p>	<p>Вопросы для подготовки к зачету</p> <p>Что называется полным напряжением в точке твердого деформируемого тела?</p> <p>Что называется напряженным состоянием в точке твердого деформируемого тела?</p> <p>Что такое тензор напряжений и для чего он используется в теории напряжений?</p> <p>Докажите, что тензор напряжений однозначно определяет напряженное состояние в точке твердого деформируемого тела.</p> <p>Что называют главными напряжениями и как их определить из произвольного тензора напряжений?</p> <p>Для чего в механике сплошной среды выполняется разложение тензора напряжений на шаровой тензор напряжений и девиатор напряжений?</p> <p>Что такое деформация и каковы основные виды деформации?</p> <p>В чем заключается физический смысл геометрических уравнений Коши?</p> <p>Как связаны между собой удельная потенциальная энергия деформации в точке тела и потенциальная энергия деформации всего твердого деформируемого тела?</p> <p>Перечислите основные уравнения механики твердого деформируемого тела.</p> <p>Выполните вывод дифференциальных уравнений равновесия. В чем заключается их физический смысл?</p> <p>Выполните вывод уравнений неразрывности деформаций. В чем заключается их физический смысл?</p> <p>Для чего в механике сплошной среды используются физические уравнения? Запишите обобщенный закон Гука и поясните, какие основные константы входят в него.</p> <p>Раскройте сущность основных способов вывода разрешающих систем уравнений механики сплошной среды.</p>
Уметь	- корректно выражать и аргументированно обосновывать действие законов	<p>Лабораторная работа № 1 «Определение внутреннего трения и модулей упругости для упругих деформаций при простом сдвиге и растяжении».</p>

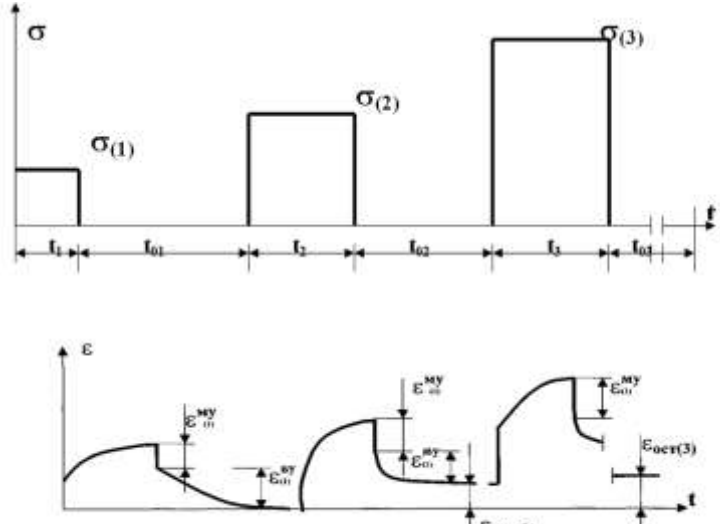
Структурный элемент компетенции	Планируемые результаты обучения	Оценочные средства
	естественнонаучных дисциплин в области механики сплошных сред.	<p>Цель работы: Экспериментально определить коэффициенты упругости сдвига и для растяжения (Юнга), определить величину внутреннего трения для пружинной стали и полиэтилена.</p> <p>Необходимые материалы Спиральная пружина из стали, из полиэтилена, бронзы (в зависимости от задания), динамометр, набор грузов-маховиков, линейка.</p> <p>Последовательность выполнения работы:</p> <ol style="list-style-type: none"> 1. Получить у преподавателя задание, в задании указаны вид колебаний пружины, длина используемой пружины, количество грузов -маховиков, штатив, секундомер. 2. Измеряются геометрические размеры пружины: диаметр витка, шаг витка, диаметр проволоки. 3. Вычисляются жесткости пружин для растяжения или для скручивания. Суммируются массы грузов или осевые моменты инерции маховиков. Рассчитывается период колебаний для табличных значений модулей упругости материалов. 4. Собирается осциллятор. 5. Проводится опыт с заданным числом колебаний и заданной начальной амплитудой колебаний для пружины из выбранного материала, измеряется время опыта, измеряют амплитуду колебаний. 6. Величину внутреннего трения измеряют по затуханию свободных колебаний (продольных, поперечных, крутильных, изгибных), по резонансной кривой для вынужденных колебаний, по относительному рассеянию упругой энергии за один период колебаний. В эксперименте используют собственные затухающие колебания системы, т.о. за меру внутреннего трения принимают логарифмический декремент затухания q или величину Q^{-1}, которая обратна добротности Q. 7. Находится величина жесткости пружины на скручивание, определяется модуль Юнга, или на растяжение, определяется модуль сдвига. 8. Сравниваются табличные внутреннего трения с расчётными. 9. Сравниваются табличные величины модулей упругости с расчётными. 10. Оформляется отчет с выводами.

Структурный элемент компетенции	Планируемые результаты обучения	Оценочные средства
		<p>Вопросы для подготовки к защите лабораторной работы №1.</p> <p>Перечислите известные Вам модули упругости. Как величина внутреннего трения влияет на распространение звука разных частот в среде? Назовите сферы применения материалов с низким и высоким внутренним трением. Какая величина понимается под внутренним трением при пластической деформации?</p> <p>Примерные практические задания для подготовки к зачету</p> <p>7. Заданы диаграммы</p> <div style="display: flex; justify-content: space-around; align-items: flex-end;"> <div style="text-align: center;">  <p>σ – напряжение; ε – деформация</p> </div> <div style="text-align: center;">  <p>σ – напряжение; ε – деформация; t – время</p> </div> <div style="text-align: center;">  </div> <div style="text-align: center;">  </div> <div style="text-align: center;">  </div> </div> <p style="text-align: center; font-size: small;"> $\tau = 0,5(\sigma_1 + \sigma_2)$; $\gamma = \epsilon_1 - \epsilon_2$, где σ_1, σ_2 – главные напряжения; ϵ_1, ϵ_2 – главные деформации 1 – пластическое состояние; 2 – упругое состояние; 3 – запределённое сост 4 – участок остаточной прочности </p> <p>Для указанного графика укажите вид модели, её кинематическое изображение, приведите примеры подобных сред.</p> <p>8. Заданы тензоры. Выделите шаровой тензор. Найдите постоянные параметры тензора, не зависящие от системы координат.</p> <p>9. Задано векторное поле скоростей. Покажите с какой скоростью среда сжимается и вращается по заданному векторному полю скоростей.</p> <p>10. Заданы параметры сред: вязкость, плотность, теплопроводность, температура, абразивность и др.</p> <p>11. Заданы энергетические поля: давления, градиенты температур, скорости и</p>

Структурный элемент компетенции	Планируемые результаты обучения	Оценочные средства
		<p>ускорения, ультразвуковое воздействие, вибрации, трение, потоки газа или плазмы, электрические поля и др. Задано время воздействия полей.</p> <p>12. Заданы механические свойства среды: ударная вязкость, предел текучести, твердость и др.</p> <p>7. Для №№4-6, используя аппарат МСС и заданные параметры среды определите возможность эксплуатации системы из деталей, узлов при проектировании.</p> <p>8. При каких параметрах механических свойств и нагрузках металл (материал) будет разрушаться? Укажите вид разрушения, вид износа.</p> <p>9. Выполните вывод дифференциальных уравнений равновесия. В чем заключается их физический смысл?</p> <p>11. Выполните вывод уравнений неразрывности деформаций. В чем заключается их физический смысл?</p>
Владеть	- методами математического анализа в области механики сплошных сред;	<p>АКР №1 «Обозначение плоскостей и направлений в кристалле».</p> <p>Цель работы: изучить систему Миллера – общепринятую систему обозначения узловых плоскостей и направлений в кристалле.</p> <p>Задание:</p> <ol style="list-style-type: none"> 1. Найти символы Миллера для плоскости и направления, изображенные на чертеже. 2. По заданным символам Миллера изобразить направление $[x, y, z]$ и плоскость (a, b, c). <p>Последовательность выполнения работы:</p> <ol style="list-style-type: none"> 1. Выбрать систему координат. 2. Найти отрезки, которые данная плоскость отсекает от осей координат. 3. Взять обратные отношения этих чисел, привести отношения к наименьшему общему знаменателю и отбросить его. 4. Для определения индексов кристаллографических направлений кубических решеток необходимо из семейства параллельных направлений выбрать направление, проходящее через начало координат. Далее приняв за единицу длину ребра элементарной

Структурный элемент компетенции	Планируемые результаты обучения	Оценочные средства
		ячейки (или период решетки) определить координаты любой точки этого направления. Полученные значения координат точки приводятся к отношению трех наименьших чисел. Эти числа, заключенные в квадратные скобки [u,v,w], являются индексами Миллера, данного направления, и всех параллельных ему направлений.
ПК-5 умением учитывать технические и эксплуатационные параметры деталей и узлов изделий машиностроения при их проектировании		
Знать	- основные методы механических исследований, используемых в оценке технических и эксплуатационных параметров деталей и узлов изделий машиностроения при их проектировании;	<p style="text-align: center;">Вопросы для подготовки к зачету</p> <p>Физические основы разрушения металлов. Механизмы зарождения микротрещин. Феноменологическая теория разрушения. Предельные деформации при одноосном и двухосном растяжении.</p> <p>Физические основы анизотропии поликристаллических тел. Вид текстуры. Способы изучения текстуры. Влияние текстуры на пластическую деформацию.</p> <p>Усталость металлов. Деформационная усталость и способы управления ею. Меры предотвращения усталости стали.</p> <p>Физические основы рекристаллизации металлов. Влияние рекристаллизации на пластическую деформацию и свойства металлов.</p> <p>Сопротивление металла пластической деформации. Влияние кристаллической решетки и структурных несовершенств кристаллической решетки на сопротивление металла деформации.</p> <p>Напряжения на наклонной площадке</p> <p>Определение главных напряжений тензора</p> <p>Определение деформаций при простом сдвиге. Определение модуля упругости</p> <p>Исследование обратной ползучести (восстановления) эластичности материалов</p> <p>Свойства аморфных и кристаллических тел</p> <p>Атомно-кристаллическое строение металлов</p> <p>Теория структурных несовершенств, механизм пластической деформации идеальных кристаллов и реальных металлов</p> <p>Сверхпластичность, виды сверхпластичности, применение в промышленности</p> <p>Старение металлов и сплавов, механизм старения, пути управления старением</p> <p>Текстура и ее значение в практике производства переработки листовых материалов</p>

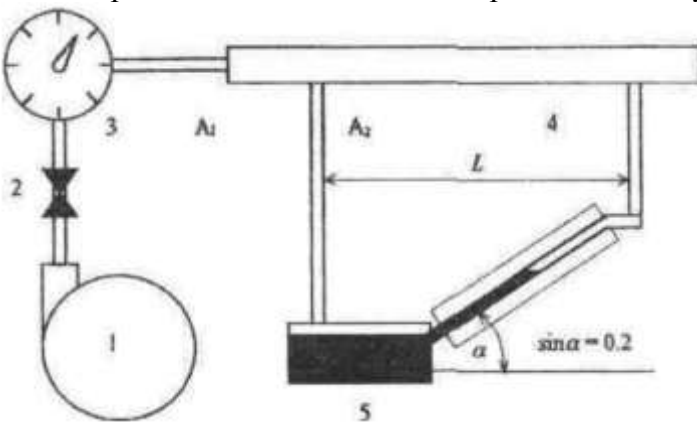
Структурный элемент компетенции	Планируемые результаты обучения	Оценочные средства
		Теория разрушения металлов, феноменологические представления о разрушение, критерии разрушения
Уметь	– применять математический аппарат МСС для оценки технических и эксплуатационных параметров деталей и узлов изделий машиностроения при их проектировании	<p align="center">Лабораторная работа № 3 «Исследование обратной ползучести (восстановления) эластичности материалов».</p> <p>Цель работы: изучить явление уменьшения деформаций во времени после снятия нагрузки (называется обратной ползучестью).</p> <p>Ход выполнения работы:</p> <ol style="list-style-type: none"> 1. Исследования проводятся на пружине из полимера. Получить у преподавателя задание, в задании указаны вид деформации пружины, длина используемой пружины, величина деформации, штатив, секундомер. 2. Измеряются геометрические размеры пружины: диаметр витка, шаг витка, диаметр проволоки. 3. Полимерная пружина деформируется на заданную величину. Обратная ползучесть полимеров связана непосредственно с вязкоупругой составляющей полной деформации. Восстанавливаемость после ползучести является простейшим дополнительным экспериментом. 4. Испытание на ползучесть проводилось вместе с восстановлением без перерыва. 5. Проводится ряд испытаний и затем на их основе осуществляется необходимый отбор результатов. 6. Изохронное соотношение напряжение – деформация может быть получено непосредственно в эксперименте на одном образце, если отрезок времени мал, а напряжения не вызывают значительных вязкопластических деформаций. Схема такого испытания демонстрируется на рисунке:

Структурный элемент компетенции	Планируемые результаты обучения	Оценочные средства
		 <p data-bbox="1030 925 1780 973">Эксперимент по ползучести на одном образце для определения изохронного соотношения напряжение – деформация</p> <p data-bbox="1003 1021 1523 1053">7. Обработка результатов измерений.</p> <p data-bbox="1003 1093 1489 1125">8. Оформляется отчет с выводами.</p> <p data-bbox="1003 1133 1848 1165">Вопросы для подготовки к защите лабораторной работы №3.</p> <ol data-bbox="907 1173 2172 1348" style="list-style-type: none"> 1. Почему для конструкционных материалов, например металлов и их сплавов, обратная ползучесть не учитывается? 2. Изобразите кинематическую модель для вязкопластических деформаций. 3. Почему проводится ряд испытаний и затем на их основе осуществляется необходимый отбор результатов?

Структурный элемент компетенции	Планируемые результаты обучения	Оценочные средства
Владеть	– практическими навыками использования элементов аппарата МСС для возможности учитывать технические и эксплуатационные параметры деталей и узлов изделий машиностроения при их проектировании	<p>АКР №2 «Составление балансовых уравнений для интенсивных характеристик массы, концентрации вещества».</p> <p>Цель работы: научиться составлять балансовых уравнения для интенсивных характеристик массы.</p> <p>Задание: составить балансовое уравнение</p> <p>Пример:</p> <p>Мгновенный баланс для вычисления конечной концентрации углерода в сталеплавильной ванне можно проиллюстрировать на примере уравнения, описывающего изменение объема проточной ванны идеального перемешивания []. Пусть в ванну в единицу времени поступает G_1 объемных единиц жидкости (приток) и уходит из нее G_2 единиц (сток). Тогда скорость изменения dV/dt объема ванны (скорость накопления) будет равна</p> $dV/dt = G_1 - G_2$ <p>Это и есть уравнение мгновенного материального баланса.</p> <p>Если в ванну поступает раствор, содержащий два не взаимодействующих между собой вещества А и В, концентрации которых на входе равны C_{A1}, и C_{B1}, а на выходе - C_{A2}, и C_{B2} то уравнения мгновенных материальных балансов для каждого компонента раствора записывают следующим образом:</p> $(d/dt)(VC_{A2}) = G_1 C_{A1} - G_2 C_{A2}$ $(d/dt)(VC_{B2}) = G_1 C_{B1} - G_2 C_{B2}$

Структурный элемент компетенции	Планируемые результаты обучения	Оценочные средства
		<p>Если же в ванне протекает химическая реакция $A + B = C + D$ в результате которой в единицу времени расходуется Vc молей вещества A и Vc молей вещества B и образуется по столько же молей каждого из веществ C и D, то в этом случае система уравнений материального баланса для данного процесса будет выражена следующим образом:</p> $dV/dt = G_1 - G_2$ $(d/dt)(VC_{A2}) = G_1 C_{A1} - (G_2 C_{A2} + Vc$ $(d/dt)(VC_{B2}) = G_1 C_{B1} - (G_2 C_{B2} + Vc$ $(d/dt)(VC_{C2}) = Vc - G_2 C_{C2}$ $(d/dt)(VC_{D2}) = Vc - G_2 C_{D2}$ <p>АКР №3 «Составление балансовых уравнений для интенсивных характеристик количества движения, момента количества движения».</p> <p>Цель работы: научиться составлять балансовых уравнения для интенсивных характеристик массы, концентрации вещества, количества движения, момента количества движения, энергии и ее составляющих.</p>
ПК-4 способностью участвовать в работе над инновационными проектами, используя базовые методы исследовательской деятельности		
Знать	– основные методы оценки свойств сред, используемых в механике сплошных сред;	Дислокации. Виды дислокации. Движение дислокации. Влияние дислокации на прочность кристаллов. Механические свойства твердых тел. Основные закономерности упругой и пластической деформации кристаллов. Сверхпластичность и условия ее возникновения. Структурная сверхпластичность и области ее применения. Изотермическая сверхпластичность.

Структурный элемент компетенции	Планируемые результаты обучения	Оценочные средства
		<p>Теоретическая и реальная прочность кристаллов. Пластическая деформация поликристаллических тел.</p> <p>Дислокация. Силы, необходимые для перемещения дислокации.</p> <p>Упрочнение кристаллов. Пластическая деформация с точки зрения теории несовершенства кристаллической решетки.</p> <p>Тепловые свойства твердых тел. Тепловое движение в кристаллах, тепловое расширение, теплопроводность, теплоемкость.</p> <p>Электропроводность, сверхпроводимость.</p> <p>Магнитные свойства твердых тел. Диамагнетизм. Ферромагнетизм, парамагнетизм.</p> <p>Что называется полным напряжением в точке твердого деформируемого тела?</p> <p>Что называется напряженным состоянием в точке твердого деформируемого тела?</p> <p>Что такое тензор напряжений и для чего он используется в теории напряжений?</p> <p>Докажите, что тензор напряжений однозначно определяет напряженное состояние в точке твердого деформируемого тела.</p> <p>Что называют главными напряжениями и как их определить из произвольного тензора напряжений?</p> <p>Для чего в механике сплошной среды выполняется разложение тензора напряжений на шаровой тензор напряжений и девиатор напряжений?</p> <p>Что такое деформация и каковы основные виды деформации?</p> <p>В чем заключается физический смысл геометрических уравнений Коши?</p> <p>Как связаны между собой удельная потенциальная энергия деформации в точке тела и потенциальная энергия деформации всего твердого деформируемого тела?</p> <p>Перечислите основные уравнения механики твердого деформируемого тела.</p> <p>Для чего в механике сплошной среды используются физические уравнения? Запишите обобщенный закон Гука и поясните, какие основные константы входят в него.</p> <p>Раскройте сущность основных способов вывода разрешающих систем уравнений механики сплошной среды.</p> <p>Дислокации. Виды дислокации.</p> <p>Движение дислокации. Влияние дислокации на прочность кристаллов.</p> <p>Механические свойства твердых тел.</p>

Структурный элемент компетенции	Планируемые результаты обучения	Оценочные средства
		<p>Основные закономерности упругой и пластической деформации кристаллов. Сверхпластичность и условия ее возникновения. Структурная сверхпластичность и области ее применение. Изотермическая сверхпластичность. Теоретическая и реальная прочность кристаллов. Пластическая деформация поликристаллических тел. Дислокация. Силы, необходимые для перемещения дислокации.</p>
Уметь	<p><i>проверить техническое состояние и остаточный ресурс технологического оборудования используя базовые методы исследований в области механики сплошных сред;</i></p>	<p>Лабораторная работа № 2 «Измерение коэффициента сопротивления при течении воздуха в цилиндрической трубке».</p> <p>Цель работы заключается в ознакомлении студентов с основными закономерностями и параметрами, характеризующими течение жидкостей или газов в трубах, а также в приобретении знаний и навыков, необходимых для вычисления этих параметров из экспериментальных данных.</p> <p>Принципиальная схема экспериментальной установки</p>  <p>Рис. 1 - воздуходувка, 2 - вентиль, 3 - расходомер, 4 - цилиндрическая трубка, 5 - наклонный манометр (рабочая жидкость — вода)</p> <p>Последовательность выполнения работы:</p>

Структурный элемент компетенции	Планируемые результаты обучения	Оценочные средства
		<p>1. Изучить руководство по выполнению лабораторной работы и усвоить порядок ее выполнения, измерить расходы воздуха в цилиндрической трубке при различных значениях сопротивления известного участка трубки, вычислить коэффициенты сопротивления гладкой трубки в различных режимах течения и определить ошибки измерения.</p> <p>2. Проведение измерений</p> <p>2.1. По барометру-анероиду и ртутному термометру зарегистрировать рабочие условия измерений: давление и температуру.</p> <p>2.2. Проверить, закрыт ли сильфонный вентиль 2. Включить воздухоподушку 1. Проверить установку нулевого показания манометра.</p> <p>2.3. Плавно открывая вентиль 2, установить заданное число делений на шкале наклонного манометра. Определить время, в течение которого через трубку пройдет количество газа при заданном Δp.</p> <p>2.4. Зарегистрировать сопротивление участка трубки при фиксированном расходе по показаниям наклонного манометра. Измерения расхода воздуха и сопротивления провести при положениях вентиля, соответствующих значениям Δp.</p> <p>3. Обработка результатов измерений. Определение зависимости коэффициента сопротивления λ при течении в воздухе последовательно в трех цилиндрических трубках разного диаметра и различной степенью обработки внутренней поверхности стенок. Зависимость была получена как для значений числа Рейнольдса как ниже критического, так и выше критического (при ламинарном и турбулентном движении).</p> <p>4. Оформляется отчет с выводами.</p> <p>Вопросы для подготовки к защите лабораторной работы №2.</p> <p>4. Укажите критическое значение числа Рейнольдса.</p> <p>5. Как влияет вид потока на теплопроводность, сопротивление движению?</p> <p>6. Как влияет шероховатость поверхности трубки на сопротивление движению среды, когда развитая поверхность трубки снижает сопротивление течению среды.</p>

Структурный элемент компетенции	Планируемые результаты обучения	Оценочные средства
Владеть	<i>методами исследований материалов и остаточный ресурс технологического оборудования;</i>	

б) Порядок проведения промежуточной аттестации, показатели и критерии оценивания:

Промежуточная аттестация по дисциплине «Механика сплошной среды» включает теоретические вопросы, позволяющие оценить уровень усвоения обучающимися знаний, и практические задания, выявляющие степень сформированности умений и владений, проводится в форме зачёта и в форме выполнения и защиты результатов практических занятий.

Критерии оценки (в соответствии с формируемыми компетенциями и планируемыми результатами обучения):

- «зачтено» – обучаемый должен показать знания на уровне воспроизведения и объяснения информации, интеллектуальные навыки решения простых задач;
- «не зачтено» – обучаемый не может показать знания на уровне воспроизведения и объяснения информации, не может показать интеллектуальные навыки решения простых задач.

8 Учебно-методическое и информационное обеспечение дисциплины (модуля)

а) Основная литература:

1. Методы исследования материалов и процессов : учебное пособие для вузов / В. Ю. Конюхов, И. А. Гоголадзе, З. В. Мурга. – 2-е изд., испр. и доп. – Москва : Издательство Юрайт, 2019. – 226 с. – (Университеты России). – ISBN 978-5-534-05475-0. – Текст : электронный // ЭБС Юрайт [сайт]. – URL: <https://biblio-online.ru/bcode/439014>

б) Дополнительная литература:

1. Механические свойства металлов : статические испытания : учебное пособие / В.С. Золоторевский, В.К. Портной, А.Н. Солонин, А.С. Просвиряков. — Москва : МИСИС, 2013. — 116 с. — Текст : электронный // Электронно-библиотечная система «Лань» : [сайт]. — URL: <https://e.lanbook.com/book/117123> (дата обращения: 29.10.2019). — Режим доступа: для авториз. пользователей.

2. Дзидзигури, Э.Л. Методология и практика определения размерных характеристик материалов : учебное пособие / Э.Л. Дзидзигури, Е.Н. Сидорова, Д.И. Архипов. — Москва : МИСИС, 2018. — 116 с. — ISBN 978-5-906953-54-4. — Текст : электронный // Электронно-библиотечная система «Лань» : [сайт]. — URL: <https://e.lanbook.com/reader/book/116940/#1> (дата обращения: 28.11.2019). — Режим доступа: для авториз. пользователей.

в) Методические указания:

1. Димитриенко, Ю. И. Нелинейная механика сплошной среды [Электронный ресурс] / Ю. И. Димитриенко. - Москва : ФИЗМАТЛИТ, 2009. - 624 с. - ISBN 978-5-9221-1110-2. - Текст : электронный. - URL: <https://znanium.com/catalog/product/544776> (дата обращения: 03.11.2020). – Режим доступа: по подписке. (В учебном пособии содержится значительное число упражнений.)

2. Соловьев, А.А. Механика жидкости. Лабораторный практикум / А.А. Соловьев, А.В. Исаков. - М.: Альтаир-МГАВТ, 2018. — 128 с. - Текст : электронный. - URL: <https://znanium.com/catalog/product/1026151> (дата обращения: 26.10.2020). – Режим доступа: по подписке.

3. Механика жидкости и газа. Виртуальный лабораторный практикум : учебное пособие для вузов / Г. В. Алексеев, М. В. Бондарева, И. И. Бриденко, А. И. Шашкин. — 2-е изд. — Москва : Издательство Юрайт, 2020. — 134 с. — (Высшее образование). — ISBN 978-5-534-09231-8. — Текст : электронный // ЭБС Юрайт [сайт]. — URL: <http://biblio-online.ru/bcode/455926> (дата обращения: 05.11.2020).

г) Программное обеспечение и Интернет-ресурсы:

Программное обеспечение

Наименование ПО	№ договора	Срок действия лицензии
MS Windows 7 Professional(для классов)	Д-1227-18 от 08.10.2018	11.10.2021
MS Windows 7 Professional (для классов)	Д-757-17 от 27.06.2017	27.07.2018
MS Office 2007 Professional	№ 135 от 17.09.2007	бессрочно
7Zip	свободно распространяемое ПО	бессрочно
Программное обеспечение для анализа микроструктуры поверхности твердых тел	К-76-14 от 17.11.2014	бессрочно
MathWorks MathLab v.2014 Classroom License	К-89-14 от 08.12.2014	бессрочно
Maple 14 Classroom License	К-113-11 от 11.04.2011	бессрочно
APM WinMachine 2010	Д-262-12 от 15.02.2012	бессрочно
MS Windows 10 Professional (для классов)	Д-1227-18 от 08.10.2018	11.10.2021
Autodesk AutoCAD Electrical 2021	учебная версия	бессрочно
FAR Manager	свободно распространяемое ПО	бессрочно

Профессиональные базы данных и информационные справочные системы

Название курса	Ссылка
Электронная база периодических изданий East View Information Services, ООО «ИВИС»	https://dlib.eastview.com/
Национальная информационно-аналитическая система – Российский индекс научного цитирования (РИНЦ)	URL: https://elibrary.ru/project_risc.asp
Поисковая система Академия Google (Google Scholar)	URL: https://scholar.google.ru/
Информационная система - Единое окно доступа к информационным ресурсам	URL: http://window.edu.ru/
Федеральное государственное бюджетное учреждение «Федеральный институт промышленной собственности»	URL: http://www1.fips.ru/

9 Материально-техническое обеспечение дисциплины (модуля)

Тип и название аудитории	Оснащение аудитории
322 Лекционная аудитория	Видеопроектор, экран настенный, компьютер; тестовые задания для текущего контроля успеваемости
ауд. 048 Лаборатория обработки металлов давлением.	Комплект печатных и электронных версий методических рекомендаций, учебное пособие. Оборудование: 1. Универсальная испытательная растяжная машина усилием 40 т.с. с возможностью работать в режиме пресса и дополнительное оборудование к ней: оснастка для штамповки, глубокой вытяжки гибки, листовых материалов, прессования и соответствующие проводимым работам измерительные инструменты; 2. Оборудование для испытания листовых материалов; 3. Машины испытательные разрывные 2 шт; 4. Пресса гидравлические ручные 5 т.с. 5 шт; 5. Пресс К-2114; 6. Самопишущие измерительные приборы; 7. Тензодатчики; 8. Оборудование для подготовки расходных материалов к лабораторным работам;
031а Лабораторный класс по сварочным дисциплинам	Комплект методических рекомендаций, учебное пособие, плакаты по темам «Механика сплошной среды», оптические микроскопы, твердомер стационарный.
Компьютерные классы университета	Рабочие места студентов, оснащенные компьютерами с доступом в Интернет, предназначенные для работы в электронной образовательной среде, с установленным соответствующим ПО.