



МИНИСТЕРСТВО НАУКИ И ВЫСШЕГО ОБРАЗОВАНИЯ
РОССИЙСКОЙ ФЕДЕРАЦИИ

Федеральное государственное бюджетное образовательное учреждение
высшего образования
«Магнитогорский государственный технический университет им. Г.И. Носова»



УТВЕРЖДАЮ
Директор ИИСТ
И.Ю. Мезин

16.03.2020 г.

РАБОЧАЯ ПРОГРАММА ДИСЦИПЛИНЫ (МОДУЛЯ)

МАТЕМАТИКА

Направление подготовки (специальность)
22.03.02 Metallurgy

Направленность (профиль/специализация) программы
Обработка металлов и сплавов давлением (прокатное производство)

Уровень высшего образования - бакалавриат
Программа подготовки - академический бакалавриат

Форма обучения
очная


Институт/ факультет	Институт естествознания и стандартизации
Кафедра	Прикладной математики и информатики
Курс	1, 2
Семестр	1, 2, 3

Магнитогорск
2019 год

Рабочая программа составлена на основе ФГОС ВО по направлению подготовки 22.03.02 Металлургия (уровень бакалавриата) (приказ Минобрнауки России от 04.12.2015 г. № 1427)

Рабочая программа рассмотрена и одобрена на заседании кафедры Прикладной математики и информатики

10.03.2020, протокол № 7

Зав. кафедрой  С.И. Кадченко

Рабочая программа одобрена методической комиссией ИЕиС

16.03.2020 г. протокол № 8


Председатель  И.Ю. Мезин

Согласовано:


Зав. кафедрой Технологий обработки материалов


А.Б. Моллер

Рабочая программа составлена:

доцент кафедры ПМИИ, канд. техн. наук  Ю.А. Извеков

Рецензент:

зав. кафедрой Физики, канд. пед. наук  М.Б. Аркулис

Лист актуализации рабочей программы

Рабочая программа пересмотрена, обсуждена и одобрена для реализации в 2020 - 2021 учебном году на заседании кафедры Прикладной математики и информатики

Протокол от 01.09.2020 г. № 1

Зав. кафедрой _____ Ю.А.Извеков

Рабочая программа пересмотрена, обсуждена и одобрена для реализации в 2021 - 2022 учебном году на заседании кафедры Прикладной математики и информатики

Протокол от _____ 20__ г. № __

Зав. кафедрой _____ Ю.А.Извеков

Рабочая программа пересмотрена, обсуждена и одобрена для реализации в 2022 - 2023 учебном году на заседании кафедры Прикладной математики и информатики

Протокол от _____ 20__ г. № __

Зав. кафедрой _____ Ю.А.Извеков

Рабочая программа пересмотрена, обсуждена и одобрена для реализации в 2023 - 2024 учебном году на заседании кафедры Прикладной математики и информатики

Протокол от _____ 20__ г. № __

Зав. кафедрой _____ Ю.А.Извеков

1 Цели освоения дисциплины (модуля)

Целями освоения дисциплины «Математика» являются: ознакомить обучающихся с основными понятиями и методами высшей математики, создать теоретическую и практическую базу подготовки специалистов к деятельности, связанной с исследованием, разработкой и технологиями процессов получения металлов и сплавов, металлических изделий требуемого качества, и основанных на применении математического анализа и моделирования.

2 Место дисциплины (модуля) в структуре образовательной программы

Дисциплина Математика входит в базовую часть учебного плана образовательной программы.

Для изучения дисциплины необходимы знания (умения, владения), сформированные в результате изучения дисциплин/ практик:

Изучение дисциплины базируется на школьном курсе математики.

Знания (умения, владения), полученные при изучении данной дисциплины будут необходимы для изучения дисциплин/практик:

Математическая статистика в металлургии

Анализ числовой информации

Физика

Физическая химия

Планирование эксперимента

3 Компетенции обучающегося, формируемые в результате освоения дисциплины (модуля) и планируемые результаты обучения

В результате освоения дисциплины (модуля) «Математика» обучающийся должен обладать следующими компетенциями:

Структурный элемент компетенции	Планируемые результаты обучения
ОПК-4	готовностью сочетать теорию и практику для решения инженерных задач
Знать	- основные положения теории пределов и непрерывных функций, графики основных элементарных функций и их свойства, основы численного решения трансцендентных уравнений, - основные теоремы дифференциального и интегрального исчисления функций одной и нескольких переменных, методы дифференциального исчисления исследования функций, основы численных методов вычисления определенных интегралов, - основные типы обыкновенных дифференциальных уравнений и методы их решения, - основные понятия теории вероятностей и математической статистики
Уметь	- решать задачи по изучаемым теоретически разделам; - обсуждать способы эффективного решения дифференциальных уравнений и их систем; определять эффективность решения задачи, полученного с помощью численных методов; распознавать эффективные результаты обработки экспериментальных данных от неэффективных

Владеть	<ul style="list-style-type: none"> - практическими навыками использования математических понятий и методов (изучаемых разделов математики) при решении прикладных задач; - навыками обобщения результатов решения, результатов обработки статистического эксперимента
ПК-1 способностью к анализу и синтезу	
Знать	<ul style="list-style-type: none"> - основные понятия и методы математического анализа: теории пределов и непрерывных функций, дифференциального и интегрального исчисления функций одной и нескольких переменных, теории обыкновенных дифференциальных уравнений и систем дифференциальных уравнений; - основные понятия и методы теории вероятностей и статистического анализа результатов эксперимента
Уметь	<ul style="list-style-type: none"> - корректно выражать и аргументированно обосновывать положения предметной области знания и методов математического анализа для постановки и решения конкретных прикладных задач
Владеть	<ul style="list-style-type: none"> - навыками использования логически верно, аргументировано и ясно строить устную и письменную речь на русском языке, готовить и редактировать технические тексты с математической символикой или формулами, публично представлять собственные и известные научные результаты, вести дискуссии; - навыками и методиками обобщения результатов решения, экспериментальной деятельности
ПК-3 готовностью использовать физико-математический аппарат для решения задач, возникающих в ходе профессиональной деятельности	
Знать	<ul style="list-style-type: none"> - основные положения теории пределов и непрерывных функций, - основные теоремы дифференциального и интегрального исчисления функций одной и нескольких переменных, методы дифференциального исчисления исследования функций, - основные типы обыкновенных дифференциальных уравнений и методы их решения, - основные понятия теории вероятностей и математической статистики
Уметь	<ul style="list-style-type: none"> применять методы дифференциального исчисления для исследования функций одной и двух переменных (в том числе на экстремум, поведение на границе области задания и т.п.); выявлять, строить и решать математические модели прикладных задач; обсуждать способы эффективного решения задач, распознавать эффективные результаты от неэффективных
Владеть	<ul style="list-style-type: none"> навыками построения и решения математических моделей прикладных задач; способами оценивания значимости и практической пригодности полученных результатов

4. Структура, объём и содержание дисциплины (модуля)

Общая трудоемкость дисциплины составляет 12 зачетных единиц 432 акад. часов, в том числе:

- контактная работа – 230,8 акад. часов;
- аудиторная – 221 акад. часов;
- внеаудиторная – 9,8 акад. часов
- самостоятельная работа – 129,8 акад. часов;
- подготовка к экзамену – 71,4 акад. часа

Форма аттестации - экзамен, зачет

Раздел/ тема дисциплины	Семестр	Аудиторная контактная работа (в акад. часах)			Самостоятельная работа студента	Вид самостоятельной работы	Форма текущего контроля успеваемости и промежуточной аттестации	Код компетенции
		Лек.	лаб. зан.	практ. зан.				
1. Введение в математический анализ								
1.1 Предел функции одной переменной. Непрерывность функции одной переменной. Комплексные числа. Решение алгебраических уравнений над полем C .	1	10		10/2И	15	- подготовка к практическому занятию, - выполнение РГР №1 «Предел. Непрерывность. Комплексные числа», - составление учебной карты по теме (краткая систематизация изученного).	Проверка индивидуальных заданий, консультации по решению РГР. Аудиторная контрольная работа (АКР) №1 «Предел», Защита РГР № 1.	ОПК-4, ПК-1, ПК-3
Итого по разделу		10		10/2И	15			
2. Дифференциальное исчисление функции одной переменной								

<p>2.1 Задачи, приводящие к понятию производной. Определение производной функции в точке. Дифференциал, его геометрический смысл. Геометрический и механический смысл производной. Правила дифференцирования и таблица производных. Дифференцирование неявно заданных, параметрически заданных функций. Логарифмическое дифференцирование. Производные и дифференциалы высших порядков. Основные теоремы дифференциального исчисления. Формула Тейлора. Применение производных при вычислении пределов. Правило Лопиталя.</p>	1	8		8/2И	12	<p>- подготовка к практическому занятию, - выполнение РГР № 3, - составление учебной карты «Производная», - подготовка к контрольной работе</p>	<p>Консультации по решению РГР №3. Проверка РГР № 3 «Производная высших порядков. Приложение производной», учебная карта (проект) по теме – защита</p>	ОПК-4, ПК-1, ПК-3
<p>2.2 Исследование функций с помощью дифференциального исчисления. Признаки знакопостоянства, возрастания и убывания, выпуклости и вогнутости функции на промежутке. Экстремумы функций. Нахождение наименьшего и наибольшего значений функции на замкнутом промежутке.</p>		2		2/2И	3	<p>подготовка к практическому занятию, - выполнение ИДЗ №1 «Применение производной для исследования функций и построения графиков», - составление учебной карты «Производная при построении графика функции»</p>	<p>Проверка ИДЗ №1 «Применение производной для исследования функций и построения графиков», Проверка учебной карты</p>	ОПК-4, ПК-1, ПК-3
<p>Итого по разделу</p>		10		10/4И	15			
<p>3. Интегральное исчисление функции одной переменной</p>								
<p>3.1 Первообразная функция. Неопределенный интеграл и его основные свойства. Таблица неопределенных интегралов от основных элементарных функций. Основные методы интегрирования.</p>	1	8		8/4И	14	<p>подготовка к практическому занятию, - выполнение ИДЗ №2 «Неопределенный интеграл», - составление учебной карты «Методы интегрирования»</p>	<p>- консультации по решению ИДЗ №2, - проверка ИДЗ №2</p>	ОПК-4, ПК-1, ПК-3

3.2 Определенный интеграл. Задача вычисления площади криволинейной трапеции и другие задачи, приводящие к понятию определенного интеграла. Формула Ньютона-Лейбница. Свойства определенного интеграла. Существование первообразной непрерывной функции. Замена переменной и интегрирование по частям.		4		4/2И	6	- подготовка к практическому занятию, - выполнение ИДЗ №3 «Определенный интеграл и его приложения», - составление учебной карты «Приложения определенного интеграла»	- консультации по решению ИДЗ №3, - проверка ИДЗ №3	ОПК-4, ПК-1, ПК-3
3.3 Обобщенная первообразная. Интегралы от разрывных функций. Несобственные интегралы. Абсолютная сходимость. Признаки сходимости		2		2/2И	4,3	- подготовка к практическому занятию, - выполнение ИДЗ №3 «Определенный интеграл и его приложения», - самостоятельное изучение литературы: конспект «Свойства несобственных интегралов. Признаки сходимости»	- консультации по решению ИДЗ №3, - проверка ИДЗ №3, - проверка конспекта «Свойства несобственных интегралов. Признаки сходимости»	ОПК-4, ПК-1, ПК-3
Итого по разделу		14		14/8И	24,3			
4. Экзамен								
4.1 Экзамен	1					Подготовка к экзамену	Экзамен	ОПК-4, ПК-1, ПК-3
Итого по разделу								
Итого за семестр		34		34/14И	54,3		экзамен	
5. Дифференциальное исчисление функций нескольких переменных (ФНП)								
5.1 Определение основных понятий. Предел и непрерывность ФНП. Основные свойства функций, непрерывных в замкнутой области. Частные производные и производная по направлению. Частные производные и дифференциалы высших порядков. Понятие об экстремумах функций многих переменных.	2	8		8/6И	4,3	- самостоятельное изучение литературы по теме: написание конспекта «Основные свойства функций, непрерывных в замкнутой области». - подготовка к практическому занятию, - выполнение РГР №4 «Частные производные», - составление учебной карты «ФНП».	- проверка конспекта, -консультирование по решению РГР №4, - проверка выполнения РГР №4, - проверка учебной карты «ФНП»	ОПК-4, ПК-1, ПК-3

Итого по разделу		8		8/6И	4,3			
6. Интегральное исчисление функций нескольких переменных (ФНП)								
6.1 Двойной и тройной интегралы, основные свойства. Сведение кратных интегралов к повторным. Полярная, цилиндрическая и сферическая системы координат - вычисление кратных интегралов. Геометрические и механические приложения кратных интегралов.	2	10		10/2И	5	- подготовка к практическому занятию, - самостоятельное изучение литературы: конспект «Свойства двойных и тройных интегралов» - выполнение ИДЗ №4 «Кратные интегралы», - составление учебной карты «Приложения кратных интегралов», - составление учебной карты «Приложения кратных интегралов»	- проверка конспекта «Свойства двойных и тройных интегралов», - проверка ИДЗ №4, - проверка учебной карты «Приложения кратных интегралов»	ОПК-4, ПК-1, ПК-3
Итого по разделу		10		10/2И	5			
7. Обыкновенные дифференциальные уравнения (ОДУ)								
7.1 Обыкновенные дифференциальные уравнения первого порядка. ОДУ высших порядков, допускающие понижение порядка.	2	5		5	3	- подготовка к практическому занятию, - выполнение РГР №6 «Обыкновенные ДУ первого порядка», - составление учебной карты «ДУ первого порядка: типы и методы решения»	- консультирование по решению РГР №6, - проверка выполнения РГР №6, - защита РГР №6, - проверка учебной карты «ДУ первого порядка: типы и методы решения»	ОПК-4, ПК-1, ПК-3
7.2 Линейные дифференциальные уравнения n-го порядка. Линейное однородное уравнение. ФСР. Определитель Вронского. Неодно-родное линейное уравнение (ЛНДУ), методы решения		5		5	2	- подготовка к практическому занятию, - выполнение РГР №7 «ЛНДУ высших порядков с постоянными коэффициентами. Системы ДУ», - составление учебной карты «ЛНДУ высших порядков с постоянными коэффициентами : методы решения»	- консультирование по решению РГР №7, - проверка выполнения РГР №7, - проверка учебной карты «ЛНДУ высших порядков с постоянными коэффициентами: методы решения»	ОПК-4, ПК-1, ПК-3

7.3 Системы ДУ первого порядка		2		2	2	- подготовка к практическому занятию, - выполнение РГР №7 «ЛНДУ высших порядков с постоянными коэффициентами . Системы ДУ»	- проверка выполнения РГР №7, - защита РГР №7.	ОПК-4, ПК-1, ПК-3
Итого по разделу		12		12	7			
8. Численные методы								
8.1 Численное решение уравнений. Численное интегрирование.	2	4		4/4И	2	- подготовка к практическому занятию, - выполнение ИДЗ №5 «Методы хорд и касательных решения уравнений», - выполнение ИДЗ №6 «Численное интегрирование»	- консультации по решению ИДЗ №5 и 6, - проверка ИДЗ № 5 и 6	ОПК-4, ПК-1, ПК-3
Итого по разделу		4		4/4И	2			
9. Экзамен								
9.1 Экзамен	2					Подготовка к экзамену	Экзамен	ОПК-4, ПК-1, ПК-3
Итого по разделу								
Итого за семестр		34		34/12И	18,3		экзамен	
10. Элементы теории вероятностей								
10.1 Элементы комбинаторики. Случайные события. Основные понятия. Алгебра событий. Классическое, геометрическое и статистическое определения вероятности. Аксиоматика теории вероятностей. Теоремы сложения и умножения. Условная вероятность. Формула полной вероятности и формула Байеса. Схема Бернулли, приближения Лапласа и Пуассона	3	10		16	17	- подготовка к практическому занятию, - выполнение РГР №8 «Теория вероятностей», - подготовка к АКР №3 «Случайные события»	- консультирование по решению РГР №8, - проверка выполнения РГР №8, - проверка АКР №3	ОПК-4, ПК-1, ПК-3

10.2 Случайные величины. Дискретные и непрерывные случайные величины. Ряд распределения, функция распределения и плотность. Математическое ожидание и дисперсия, начальные и центральные моменты. Известные распределения и их числовые характеристики. Нормальное распределение. Законы больших чисел. Неравенство и теорема Чебышёва. Центральная предельная теорема. Многомерные случайные величины. Функции распределения, свойства. Числовые характеристики. Элементы теории корреляции.		16		22/9И	24,2	- подготовка к практическому занятию, - выполнение РГР №8 «Теория вероятностей»	- консультирование по решению РГР №8, - проверка выполнения РГР №8, Защита РГР №8	ОПК-4, ПК-1, ПК-3
Итого по разделу		26		38/9И	41,2			
11. Элементы математической статистики								
11.1 Основные понятия, генеральная совокупность и выборка. Статистические оценки параметров распределения. Точечные и интервальные оценки. Доверительные интервалы для параметров нормального распределения. Понятие о критериях проверки статистических гипотез. Критическая область, уровень значимости, мощность критерия. Критерий согласия Пирсона для гипотезы о нормальном распределении. Функциональная зависимость и регрессия. Кривые регрессии. Выборочный коэффициент корреляции. Определение параметров линейной регрессии методом наименьших квадратов.	3	8		13/13И	16	- подготовка к практическому занятию, - выполнение ИДЗ №8 «Числовые характеристики генеральных параметров», - выполнение ИДЗ №9 «Проверка статистических гипотез», - подготовка к практическому занятию, - выполнение ИДЗ №10 «Выяснение корреляционной зависимости измеримых признаков генеральной совокупности»	- консультации по решению ИДЗ №№ 8, 9, 10, - проверка ИДЗ №№8, 9, 10	
Итого по разделу		8		13/13И	16			
12. Зачет	3					Подготовка к зачету	Зачет	
Итого по разделу								
Итого за семестр		34		51/22И	57,2		зачёт	
Итого по дисциплине		102		119/48 И	129,8		экзамен, зачет	ОПК-4,ПК-1,ПК-3

5 Образовательные технологии

1. Традиционные образовательные технологии. Организация образовательного процесса, предполагает прямую трансляцию знаний от преподавателя к студенту (преимущественно на основе объяснительно-иллюстративных методов обучения). Учебная деятельность студента носит в таких условиях, как правило, репродуктивный характер.

Формы учебных занятий:

- информационная лекция – последовательное изложение материала в дисциплинарной логике, осуществляемое преимущественно вербальными средствами.
- практическое занятие, посвященное освоению конкретных умений и навыков по предложенному алгоритму.

2. Технологии проектного обучения. Образовательный процесс построен в соответствии с алгоритмом поэтапного решения проблемной задачи или выполнения учебного задания. Проект предполагает совместную учебно-познавательную деятельность группы студентов, направленную на выработку концепции, установление целей и задач, формулировку ожидаемых результатов, определение принципов и методик решения поставленных задач, планирование хода работы, поиск доступных и оптимальных ресурсов, поэтапную реализацию плана работы, презентацию результатов работы, их осмысление и рефлексию. Применяется в основном для перехода компетенции на уровень владения.

Основные типы применяемых нами в образовательной деятельности проектов:

Исследовательский проект – структура приближена к формату научного исследования (доказательство актуальности темы, определение научной проблемы, предмета и объекта исследования, целей и задач, методов, источников, выдвижение гипотезы, обобщение результатов, выводы, обозначение новых проблем). Результатом является учебная карта по модулю нашей образовательной программы.

Творческий проект, предполагающий в отличие от предыдущего, конечный продукт в следующих вариантах – газета к исторически значимому «математическому» событию (праздник числа «Пи» и т.п.); «математическая» открытка (своего рода учебная карта, только неформально, красочно оформленная; видеоролик «Я научу вас решать ...» и т.п.

Информационный проект – учебно-познавательная деятельность с ярко выраженной эвристической направленностью (поиск, отбор и систематизация информации о каком-то объекте, ознакомление участников проекта с этой информацией, ее анализ и обобщение и, наконец, презентация по практическому приложению).

4. Информационно-коммуникационные образовательные технологии. Организация образовательного процесса с применением специализированных программных сред и технических средств работы с информацией (информационную среду университета MOODUS MOODLE).

6 Учебно-методическое обеспечение самостоятельной работы обучающихся

Представлено в приложении 1.

7 Оценочные средства для проведения промежуточной аттестации

Представлены в приложении 2.

8 Учебно-методическое и информационное обеспечение дисциплины (модуля)

а) Основная литература:

1. Шипачев В. С. Высшая математика: учебник / В.С. Шипачев. — Москва: ИНФРА-М, 2019. — 479 с. — (Высшее образование). —

- ISBN 978-5-16-101787-6. - Текст: электронный. - URL: <https://new.znaniium.com/catalog/product/990716>. (дата обращения: 06.10.2020). — Режим доступа: для авториз. пользователей.

Математика: учеб. пособие / Ю.М. Данилов, Л.Н. Журбенко, Г.А. Никонова, Н.В. Никонова, С.Н. Нуриева ; под ред. Л.Н. Журбенко, Г.А. Никоновой. — Москва: ИНФРА-М, 2019. — 496 с. — (Высшее образование: Бакалавриат). - ISBN 978-5-16-102130-9. - Текст: электронный. - URL: <https://new.znaniium.com/catalog/product/989799>. (дата обращения: 06.10.2020). — Режим доступа: для авториз. пользователей.

б) Дополнительная литература:

1. Теория вероятностей и математическая статистика: Учебное пособие / Бирюкова Л.Г., Бобрик Г.И., Матвеев В.И., - 2-е изд. - Москва: НИЦ ИНФРА-М, 2017. - 289 с. (Высшее образование: Бакалавриат) ISBN 978-5-16-011793-5. - Текст: электронный. - URL: <https://new.znaniium.com/catalog/product/37089> (дата обращения: 06.10.2020). — Режим доступа: для авториз. пользователей.
2. Математика в примерах и задачах: учеб. пособие / О.М. Дегтярева, Л.Н. Журбенко, Г.А. Никонова, Н.В. Никонова, С.Н. Нуриева. — Москва: ИНФРА-М, 2019. — 372 с. — (Высшее образование: Бакалавриат). - ISBN 978-5-16-102288-7. — Текст: электронный. — URL: <https://new.znaniium.com/catalog/product/989802> (дата обращения: 06.10.2020). — Режим доступа: для авториз. пользователей.
3. Фихтенгольц, Г.М. Основы математического анализа: учебник: в 2 частях / Г.М. Фихтенгольц. — 11-е изд., стер. — Санкт-Петербург: Лань, [б. г.]. — Часть 1 — 2019. — 444 с. — ISBN 978-5-8114-0190-1. — Текст : электронный // Электронно-библиотечная система «Лань» : [сайт]. — URL: <https://e.lanbook.com/book/112051> (дата обращения: 06.10.2020). — Режим доступа: для авториз. пользователей.
4. Фихтенгольц, Г.М. Основы математического анализа: учебник: в 2 частях / Г.М. Фихтенгольц. — 10-е изд., стер. — Санкт-Петербург: Лань, [б. г.]. — Часть 2 — 2019. — 464 с. — ISBN 978-5-8114-0191-8. — Текст: электронный // Электронно-библиотечная система «Лань» : [сайт]. — URL: <https://e.lanbook.com/book/115730> (дата обращения: 06.10.2020). — Режим доступа: для авториз. пользователей.
5. Шипачев В. С. Задачник по высшей математике: учеб. пособие / В.С. Шипачев. — 10-е изд., стереотип. — Москва: ИНФРА-М, 2020. — 304 с. — (Высшее образование). - ISBN 978-5-16-101831-6. - Текст: электронный. - URL: <https://new.znaniium.com/catalog/product/1042456> - (дата обращения: 06.10.2020). — Режим доступа: для авториз. пользователей

в) Методические указания:

1. Грачева, Л.А. Определенный интеграл: методические указания для студентов — Магнитогорск: ГОУ ВПО «МГТУ им. Г.И. Носова», 2010 — 12 с.
2. Грачева, Л.А. Элементы линейной алгебры, векторной алгебры и аналитической геометрии: Учебное пособие. - Магнитогорск: ГОУ ВПО «МГТУ им. Г.И. Носова», 2010 — 63 с.
3. Максименко, И.А. События и вероятность. Часть 2: Метод. указ. - Магнитогорск: ГОУ ВПО «МГТУ им. Г.И. Носова», 2010. — 25 с.
4. Маяченко, Е.П. Производная и дифференциал функции. Практикум.- Магнитогорск: ГОУ ВПО «МГТУ им. Г.И. Носова», 2010. — 38 с.
5. Маяченко Е.П. Исследование функций и построение графиков. Практикум. — Магнитогорск: ГОУ ВПО «МГТУ им. Г.И. Носова», 2011. — 20 с.

г) Программное обеспечение и Интернет-ресурсы:

Программное обеспечение

Наименование ПО	№ договора	Срок действия лицензии
MS Windows 7 Professional(для классов)	Д-1227-18 от 08.10.2018	11.10.2021
MS Office 2007 Professional	№ 135 от 17.09.2007	бессрочно
7Zip	свободно распространяемое ПО	бессрочно
LibreOffice	свободно распространяемое ПО	бессрочно
Браузер Yandex	свободно распространяемое ПО	бессрочно
MS Office 2003 Professional	№ 135 от 17.09.2007	бессрочно
FAR Manager	свободно распространяемое ПО	бессрочно

Профессиональные базы данных и информационные справочные системы

Название курса	Ссылка
Национальная информационно-аналитическая система – Российский индекс научного цитирования (РИНЦ)	URL: https://elibrary.ru/project_risc.asp
Поисковая система Академия Google (Google Scholar)	URL: https://scholar.google.ru/
Информационная система - Единое окно доступа к информационным ресурсам	URL: http://window.edu.ru/
Федеральное государственное бюджетное учреждение «Федеральный институт промышленной собственности»	URL: http://www1.fips.ru/
Электронные ресурсы библиотеки МГТУ им. Г.И. Носова	http://magtu.ru:8085/marcweb2/Default.asp
Университетская информационная система РОССИЯ	https://uisrussia.msu.ru
Международная реферативная и полнотекстовая справочная база данных научных изданий «Scopus»	http://scopus.com
Международная наукометрическая реферативная и полнотекстовая база данных научных изданий «Web of science»	http://webofscience.com
Международная реферативная база данных по чистой и прикладной математике zbMATH	http://zbmath.org/

9 Материально-техническое обеспечение дисциплины (модуля)

Материально-техническое обеспечение дисциплины включает:

Учебные аудитории для проведения занятий лекционного типа.

Доска, мультимедийный проектор, экран.

Учебные аудитории для проведения лабораторных занятий, групповых и индивидуальных консультаций, текущего контроля и промежуточной аттестации.

Персональные компьютеры с пакетом MS Office, выходом в Интернет и с доступом в электронную информационно-образовательную среду университета.

Комплекс тестовых заданий для проведения рубежного и промежуточного контроля.

Помещения для самостоятельной работы обучающихся.

Персональные компьютеры с пакетом MS Office, выходом в Интернет и с доступом в электронную информационно-образовательную среду университета.

Помещения для хранения и профилактического обслуживания учебного оборудования.

Шкафы для хранения учебно-методической документации, учебного оборудования и учебно-наглядных пособий.

Учебно-методическое обеспечение самостоятельной работы обучающихся

По дисциплине «Математика» предусмотрена аудиторная и внеаудиторная самостоятельная работа обучающихся.

Аудиторная самостоятельная работа студентов предполагает решение контрольных задач на практических занятиях.

Примерные аудиторные контрольные работы (АКР):

АКР №1 «Пределы»

Вычислить пределы:

1. $\lim_{x \rightarrow -2} \frac{x^3 + 3x^2 + 2x}{x^2 - x - 6}$
2. $\lim_{n \rightarrow \infty} \frac{(x-7)(x-3)(x-4)}{5x^4 - x^2 + 11}$
3. $\lim_{x \rightarrow \infty} \left(\frac{x^3}{2x^2 - 1} - \frac{x^2}{2x + 1} \right)$
4. $\lim_{x \rightarrow -2} \frac{\operatorname{tg} \pi x}{(x+2)}$
5. $\lim_{x \rightarrow 0} (1 - 4x)^{\frac{1}{3x+7}}$
6. $\lim_{x \rightarrow 0} x \operatorname{ctg} 5x$
7. $\lim_{x \rightarrow 1-0} 3^{\frac{1}{x-1}}$

8. Исследовать на непрерывность

$$f(x) = \begin{cases} x-3 & \text{если } x < 0 \\ 5^x & \text{если } x \geq 0 \end{cases}$$

АКР №2 «Производная»

Найдите первую производную от функций:

а) $\begin{cases} x = \sqrt{1-25t^2}, \\ y = \arccos 5t + \pi, \end{cases}$ б) $y = x \cdot \cos 3x,$ в) $y = \frac{x^2 - 3x + 2}{x^2 + 2x + 1} - 5 \cdot \log_2 x + 3$

г) $y = 5^{x^3 + \sqrt{x}} - 2 \operatorname{arctg}(4x^2 + 3x).$

2. Составьте уравнения касательной к кривой $xy = 4$ в точке $x_0 = 1$.

3. Вычислите приближенно $y = \sqrt{x^2 + 8}$ при $x = 1,09$.

4. Вычислите предел по правилу Лопиталя $\lim_{x \rightarrow 0} \frac{\cos 4x - 1}{(e^{4x} - 1)^2}.$

АКР №3 «Случайные события»

По мишени производится три выстрела. Рассматриваются события А, В, С – попадание при первом, втором и третьем выстрелах. Что означают события $\bar{A} + \bar{B} + \bar{C}, AB + C$? В урне 12 шаров. Среди этих шаров 3 белых и 9 черных. Какова вероятность того, что наудачу вынутый шар окажется белым?

В радиостудии три микрофона. Для каждого из первых двух микрофонов вероятность того, что он включён в данный момент, равна 0,45, а для третьего – 0,9. Найти вероятность того, что в данный момент включены 2 микрофона.

В продаже имеются белые и коричневые яйца в соотношении 2:3, причем производство 60% белых и 71% коричневых яиц датируется днем, предшествующим дню продажи, а остальные яйца датируются более ранними числами. Покупатель заказывает яйца, датируемые днем, предшествующим дню продажи, независимо от их цвета. Какова вероятность того, что ему продадут решетку белых яиц?

Телефонная сеть учреждения обслуживает 200 абонентов. Вероятность того, что в течение минуты внутри этой сети кто-то кому-то позвонит, равна 0,7. Какова вероятность того, что в течение минуты будет 5 звонков? Какова вероятность того, что в течение минуты будет не более 5 звонков? Найти наиболее вероятное число звонков в течение минуты.

Примерные индивидуальные домашние задания (ИДЗ):

ИДЗ №1 «Применение производной для исследования функций»

Найдите промежутки монотонности и экстремумы функции $y = \frac{3x}{x^2 + 9}$.

Постройте график функции с помощью производной первого порядка $y = -x^3 - 3x^2 + 9x + 11$.

Найдите промежутки выпуклости, вогнутости и точки перегиба функции $y = 2x - 3\sqrt[3]{x^2}$.

Найдите асимптоты и постройте схематично график функции $y = \frac{x^3}{(x+1)^2}$.

Проведите полное исследование функции и постройте график $y = \frac{x^2 - 3x + 3}{x - 1}$.

Проведите полное исследование функции и постройте график

$$y = \frac{\ln x}{x}.$$

Найдите наибольшее и наименьшее значения функции $y = 8x + \frac{4}{x^2} - 15$ на отрезке $\left[\frac{1}{2}; 2\right]$.

ИДЗ №2 «Неопределенный интеграл»

Вычислить неопределенные интегралы

1. $\int \left(\frac{1}{3\sqrt{x}} - \frac{x\sqrt[3]{x}}{5} + 1 \right) dx$

2. $\int \left(\frac{2}{3+x^2} - \frac{1}{2\sqrt{x^2-3}} \right) dx$

3. $\int \left(\frac{3}{\sqrt{2-7x}} - \frac{4}{\sin\left(\frac{2x}{5}-1\right)} \right) dx$

4. $\int \frac{\operatorname{ctg}^3 x - 6}{\sin^2 x} dx$

5. $\int x(3x^2+1)^4 dx$

6. $\int \frac{2x-1}{x^2+2x+10} dx$

7. $\int \sqrt{1-e^x} e^x dx$

8. $\int \frac{4x+3}{(x-2)^3} dx,$

9. $\int x e^{-3} dx,$

10. $\int \frac{dx}{x(x^2+1)},$

$$11. \int \frac{dx}{\sqrt{x} + \sqrt[3]{x} + 2\sqrt[4]{x}}, \quad 12. \int \frac{dx}{\cos x \sin^3 x},$$

$$13. \int \frac{dx}{(x+1)\sqrt{x^2 + 2x - 1}}.$$

ИДЗ №3 «Определенный интеграл и его приложения»

$$1. \int_1^2 \left(x^2 + \frac{1}{x^4}\right) dx. \quad 2. \int_2^{\pi} \ln \sin x dx$$

2. Вычислить площадь фигуры, ограниченной линиями

$$3x - y = 4, \quad y^2 = 6x$$

$$r = \cos 2\varphi, \quad 0 \leq \varphi \leq \frac{\pi}{6}$$

$$\begin{cases} x = 2 \cos t, \\ y = 6 \sin t; \end{cases} \quad y = 3(y \geq 3).$$

3. Вычислить длину дуги кривой, заданной уравнением

$$y = \ln x, \quad \sqrt{3} \leq x \leq \sqrt{15}.$$

$$\rho = 3e^{3\varphi/4}, \quad -\pi/2 \leq \varphi \leq \pi/2$$

$$\begin{cases} x = e^t (\cos t + \sin t), \\ x = e^t (\cos t - \sin t), \end{cases} \quad \pi/2 \leq t \leq \pi.$$

4. Вычислить объем тела, образованного вращением вокруг оси Оу фигуры, ограниченной графиками функций $x = 3 - y^2$, $x = y^2 + 1$

ИДЗ №4 «Кратные интегралы»

$$1. \text{ Вычислить повторный интеграл } \int_{-2}^2 dy \int_0^{y^2} (2x + y) dx.$$

$$2. \text{ Изменить порядок интегрирования в двойном интеграле: } \int_1^4 dy \int_{\frac{1}{y}}^{\frac{2}{3}y + \frac{1}{3}} f(x; y) dx.$$

$$3. \text{ Вычислить двойной интеграл } \iint_D \frac{x^2}{y^2} dx dy, \text{ где } D - \text{ область, ограниченная линиями}$$

$$y = \frac{1}{x}, \quad y = x, \quad x = 4.$$

4. Вычислить площадь фигуры, ограниченной окружностями $r = 1$, $r = 2 \cos \varphi$ (вне окружности $r = 1$).

5. Вычислить площадь фигуры, ограниченной линиями $y = \frac{6}{x}$ и $x + y - 7 = 0$.

6. Вычислить тройной интеграл $\iiint_R (x^2 + 3y^2) dx dy dz$; $R: 0 \leq z \leq 3x, x + y \leq 1, y \geq 0$ по фигуре R , ограниченной поверхностями.

7. Вычислить объём тела, ограниченного поверхностями

$$z = 8 - x - y, \quad x = 0, \quad y = x^2, \quad y = 4, \quad z = 0.$$

8. Найти статические моменты относительно координатных осей пластинки, ограниченной параболой $y = x^2$ ($y \geq 0$), прямой $x=9$, если плотность распределения массы в каждой точке равна ординате этой точки.

9. Найдите моменты инерции I_x, I_y, I_0 однородной пластинки ($\delta = 1$), ограниченной осями координат и прямой $y = 2 - 0,5x$.

ИДЗ №5 «Метод хорд и касательных решения уравнений»

Ознакомьтесь с методами половинного деления и хорд и касательных решения трансцендентных уравнений. Решите уравнение этими методами с погрешностью $\epsilon=0,001$.

$$e^{-x} = 2 - x^2.$$

ИДЗ №6 «Численное интегрирование»

Вычислить по формуле прямоугольников, Симпсона и трапеций интеграл. Найти значение погрешности полученного результата:

$$\text{А) } \int_0^4 x^2 dx, \quad n = 10; \quad \text{Б) } \int_1^9 \sqrt{6x-5} dx, \quad n = 8.$$

ИДЗ №7 «Первичная обработка результатов эксперимента»

Дан статистический ряд (исходные значения величин)

X	Y	X	Y	X	Y	X	Y	X	Y
38,4	18,7	40,7	24	30,3	18	27,3	25,1	22	21
40,2	11,7	50,8	9	28,4	15,7	38	20,6	32	28,6
24,1	20,9	38,2	22,8	47,6	11,3	52,8	15,2	19,5	19,7
32,5	22,4	36	19,8	30,3	21,3	48	24,5	46	20,3
25	29,5	35,7	15,3	30,5	27,8	26	28,7	27,8	15,5
38,1	19,6	34,3	20,7	48,7	11,5	32,5	28	35,2	30,7
16,8	32,2	43,8	13	16,8	18,3	57,1	2,9	41,6	18,2

28,8	29,7	35,5	24	23,9	20,2	40	23,8	42,5	15,3
47,1	14,7	45,9	24	54,3	14,2	50,7	15,9	32,9	22,5
50,1	15,9	29,3	21,9	60,8	27,2	58,6	9,3	35,6	22,7
30,2	25	54,2	14,2	21,4	19,8	40,1	17,4	47	17,3
36,9	23,2	59,8	6,1	38,4	23	34,4	23,4	31,4	30,2
36,6	7,9	32,2	22,3	46,8	20,5	53,7	12,4	28,2	30
38	15,4	52	6,1	23,8	18,3	42,1	28,5	33,7	19,8
55	11	31,2	24,2	37,9	32,6	43	20,2	27,6	18,5
16,2	25,2	51,2	14,2	30,6	21,5	23,5	14,6	36,8	10,7
49,7	15,9	32,2	20,4	37	24,5	32,9	25,8	45,5	14,8
49,7	19,5	30,9	20,7	57,6	20,3	54	14,4	18,6	15,3
42,3	19,7	41,5	10,8	41,9	14,6	42,3	23,5	25,8	27,4
35,7	11,9	41,2	9,8	34,1	26,3	58,8	9,2	39,2	17,5

Найти выражение двумерного эмпирического распределения (X, Y), эмпирические распределения составляющих X и Y, построить графическое отображение распределений.

Для этого - составить корреляционное поле, корреляционную таблицу абсолютных частот, вариационные ряды, таблицу «Статистическая совокупность измеримого признака».

ИДЗ №8 «Числовые характеристики генеральных параметров»

По данным, полученным в ИДЗ №1, оцените генеральные параметры: найдите среднее, дисперсия, среднее квадратичное отклонение, асимметрия, эксцесс, мода, медиана, коэффициент вариации для признаков X и Y. Оцените степень отклонения эмпирического распределения этого измеримого признака от нормального распределения.

Для этого заполните таблицу «Расчет выборочных оценок признаков» и проведите расчеты исправленных оценок генеральных параметров. Сделайте вывод о коэффициенте вариации.

ИДЗ №9 «Проверка статистических гипотез»

По данным, полученным в ИДЗ №1 и 2, провести статистическую проверку статистической гипотезы о нормальном распределении измеряемого признака по следующим критериям: а) среднему квадратичному отклонению, б) размаху варьирования, в) показателям исправленных асимметрии и эксцесса, г) критерию Пирсона χ^2 (уровень значимости принять равным 0.05). В случае принятия гипотезы о нормальности распределения найти доверительные интервалы для математического ожидания и среднего квадратичного отклонения при уровне надёжности 0.95.

ИДЗ №10 «Выяснение корреляционной зависимости измеримых признаков»

По данным задачи, исследуемой в ИДЗ №№ 1-3, найти и записать в корреляционную таблицу условные средние. На корреляционном поле построить линии регрессии. Найти исправленный корреляционный момент и коэффициент корреляции. Проверить гипотезу о независимости признаков X и Y (уровень значимости принять равным 0.05). Рассчитать коэффициенты линейной регрессии (X на Y или Y на X). Проверить значимость уравнения регрессии. Найти доверительные интервалы для коэффициентов корреляции и линейной регрессии (при уровне надёжности 0.95).

Примерные варианты расчетно-графических работ (РГР):

РГР №1 «Комплексные числа. Предел. Непрерывность»

Выполнить действия в алгебраической форме.

$$1). (5 - 3i) \cdot (2 - 7i), 2). \frac{4 - 3i}{3 + 4i}, 3). \frac{(2 + 3i) \cdot i^{10}}{3 - 5i}.$$

Выполнить действия в тригонометрической форме.

$$(3(\cos 12^\circ + i \sin 12^\circ))^{12}.$$

Изобразить комплексные числа на плоскости и записать их в тригонометрической форме.

$$1). 6i, 2). -7, 3). 1 - i, 4). -\sqrt{3} - i, 5). 7 + 4i.$$

4. Найти все значения $\sqrt[3]{-\sqrt{3} - i}$ и изобразить их на комплексной плоскости.

5. Решить уравнения

$$а) 3z^2 + 7z + 2 = 0, \quad б) z^2 + 6z + 25 = 0, \quad в). 2z^2 - 6z + 15 = 0.$$

6. Найдите пределы функций:

$$1) \lim_{x \rightarrow \infty} \frac{x(x^2 + 2x - 1)}{x - 1}, \quad 2) \lim_{x \rightarrow 2} \frac{(x - 2)(x^2 + 2x + 2)}{x^2 - 5x + 6}, \quad 3) \lim_{x \rightarrow 1} \frac{2 - \sqrt{5 - x}}{3 - \sqrt{8 + x}};$$

$$4) \lim_{x \rightarrow 0} \frac{\sin \frac{x}{2} \cdot \ln(1 + 4x)}{x \cdot \operatorname{arctg} \frac{x}{6}}; \quad 5) \lim_{x \rightarrow 4} \left(\frac{3}{x - 4} - \frac{1}{x^2 - 16} \right); \quad 6) \lim_{x \rightarrow \infty} \left(\frac{5x - 1}{5x + 6} \right)^{8 + 15x}.$$

Исследуйте функцию на непрерывность, выясните характер точек разрыва, сделайте чертеж графика функции

$$f(x) = 8^{\frac{1}{x+5}}, \quad 2) f(x) = \begin{cases} -\frac{1}{x-1}, & x < 1, \\ (x-1)^2, & 1 \leq x \leq 3, \\ 4, & x > 3. \end{cases}$$

РГР №2 «Производная. Вычисление»

1. Найти производные и дифференциалы первого порядка

1) $y = \frac{7 \cos x}{5x + 1},$

2) $y = (2 + 5x)^4 - 3 \cos 7x,$

3) $y = \frac{7}{3} - 4x \cdot \arcsin x,$

4) $y = (\cos x)^{\lg x}.$

2. Найти производную функции, заданной неявно $e^y - 5xe^x - 2xy + 11 = 0.$

3. Найти производную функции, заданной параметрически $\begin{cases} x = 3 \cos t - 5, \\ y = 4t^3 + 5. \end{cases}$

4. Найти производные первого порядка функции $y = x^2 e^{2x}.$

РГР №3 «Производная высших порядков. Приложения производной»

Найдите $\frac{dy}{dx}$ и $\frac{d^2y}{dx^2}$ функций: а) $\begin{cases} x = 3t - t^3, \\ y = 3t^2; \end{cases}$ б) $y = 5\sqrt{x}.$

2. а) Напишите уравнение касательной к параболе $y = x^2 - 4x + 2$ в точке с абсциссой $x_0 = 0.$ Постройте график и касательную.

б) Напишите уравнение касательной к кривой $x^2 + y^2 - 4x + 2y - 164 = 0$ в ее точке с координатами (7; 11). Постройте кривую и ее касательную.

3. Найдите наибольшее и наименьшее значения функции на заданном отрезке

$f(x) = 2x^3 - 6x^2 - 18x + 7 \quad x \in [-2; 2].$

4. Исследуйте функцию $y = \frac{1}{3}x^3 - 2x^2$ на экстремум и постройте ее схематический график.

5. Проведите полное исследование и постройте график функции $y = \frac{(x-1)^2}{x^2}.$

6. Вычислите пределы, используя правило Лопиталья:

а) $\lim_{x \rightarrow 2} \frac{2x^3 - 8x^2 + 13x - 10}{x^3 - 2x^2 + 3x - 6};$

б) $\lim_{x \rightarrow +0} x \cdot \ln(e^x - 1)$.

7. Зависимость пути от времени при прямолинейном движении точки задается уравнением $s = \frac{1}{3}t^3 + 2t^2 - 3$, где s — путь в м, а t — время в с. Вычислите ее скорость и ускорение в момент времени $t = 4$ с.

РГР №4 «Частные производные»

1. Найти область определения функции $z = \frac{\ln(1 - x^2 - y^2)}{1 - \sqrt{y}}$.

2. Найти значения частных производных функций в заданной точке:

А) $z = x^{\frac{1}{y}}$ (1;1) Б) $z = \ln(\sqrt{x} + \sqrt{y})$ (1;1).

3. Найти $\frac{\partial^2 u}{\partial x^2}$, если $u = xy + \sin(x + y)$.

4. Вычислить приближенно $\sqrt{5 \cdot e^{0,02} + 2,03^2}$.

РГР №5 «Экстремум ФНП»

1. Найти экстремумы функции $z = x^2 + 2y^2 - 4x - 6y + 2$.

2. Найти производную функции $z = \frac{\ln x}{y} - \frac{\ln y}{x}$ в направлении вектора (1;1).

3. При каких $k > 0$ градиент функции $z = (2x + ky)^2$ перпендикулярен прямой $x + y = 2$?

4. Найти экстремальное значение функции $z = 2x + y - y^2 - x^2$ при условии $x + 2y = 1$.

5. Найти наибольшее значение функции:

А) $z = x - 2y + 5$ $\begin{cases} x \geq 0 \\ y \geq 0 \\ x + y \leq 1; \end{cases}$ Б) $z = \ln(x^2 + y^2)$ $\begin{cases} x + 2y \leq 1 \\ x \geq 0 \\ y \geq 0. \end{cases}$

РГР №6 «Обыкновенные дифференциальные уравнения первого порядка»

Найти общий интеграл или общее решение дифференциального уравнения первого порядка (в примерах г), д) решить задачу Коши):

1) $\sqrt{4-x^2} y' + xy^2 + x = 0$, 2) $20x dx - 3y dy = 3x^2 y dy - 5xy^2 dx$, 3) $y' = \frac{x^2 + 2xy - 5y^2}{2x^2 - 6xy}$,
 4) $\begin{cases} y' - y \cos x = \sin 2x \\ y(0) = -1 \end{cases}$, 5) $\begin{cases} xy' + y = xy^2 \\ y(1) = 1 \end{cases}$, 6) $\frac{y}{x^2} dx - \frac{xy+1}{x} dy = 0$.

РГР №7 «ЛНДУ высших порядков с постоянными коэффициентами. Системы ДУ»

1. Найти общее решение дифференциального уравнения:

1) $y'''x \ln x = y''$, 2) $(1+x^2)y'' + 2xy' = 12x^2$.

2. Найти решение задачи Коши: $\begin{cases} y'' = 2 \sin^3 y \cos y \\ y(1) = \frac{\pi}{2}, y'(1) = 1 \end{cases}$.

3. Найти общее решение дифференциального уравнения (в примере д) решить задачу Коши):

1) $y'' - 2y' + y = xe^x$, 2) $y'' + 4y' + 5y = x^2$

3) $y''' - 4y'' + 5y' = 6x^2 + 2x - 5$, 4) $y''' + 2y'' - 3y' = (8x+6)e^x$,

5) $y'' - 4y' + 4y = e^{2x}(\cos x + 3\sin x)$, 6) $y''' - 64y' = 128 \cos 8x - 64e^{8x}$,

7) $\begin{cases} y'' + y = 1/\sin x \\ y(\pi/2) = 1, y'(\pi/2) = \pi/2 \end{cases}$.

4. Решите систему ДУ первого порядка двумя способами - подстановки и методом Эйлера

$$\begin{cases} y' = 2x - 5y + e^t \\ x' = y - 6x + e^{-2t} \end{cases}$$

РГР №8 «Теория вероятностей»

1. Производится 5 выстрелов по резервуару с горючим, причем резервуар после первого попадания в него воспламеняется, а после второго попадания в него – взрывается. Вероятность попадания в резервуар при каждом выстреле равна 0,3. Найти вероятность того, что резервуар будет подожжен, но не взорвется.
2. В семье трое детей: 2 мальчика и девочка. Дети играют на кухне. Вероятность того, что мальчики разобьют посуду соответственно равна 0,7 и 0,8, а для девочки – 0,4. Найти вероятность того, что посуда будет разбита.
3. Саша попадает в мишень при одном выстреле с вероятностью 0,8, Маша – с вероятностью 0,7, а Паша – с вероятностью 0,75. Саша выстрелил 2 раза, Маша – 3 раза, Паша – 1 раз, после чего в мишени было обнаружено одно отверстие. Какова вероятность того, что в мишень попала Маша?
4. Разрыв связи происходит в одном из звеньев телефонного кабеля. Монтер последовательно проверяет звенья, обнаруживая место разрыва. Составить ряд распределения числа обследованных звеньев, если вероятность разрыва для каждого звена постоянна и равна p.
5. Задан ряд распределения дискретной случайной величины X.

X	1	2	3	4	5	6
P	0,03	0,15	0,20	0,35	0,15	?

Построить многоугольник распределения. Определить функцию распределения и построить её график. Вычислить математическое ожидание m_x , дисперсию

$D[X]$, среднее квадратическое отклонение σ_x и вероятность $P(m_x - \sigma_x \leq X \leq m_x + \sigma_x)$.

6. Задана функция распределения случайной величины X

$$F(x) = \begin{cases} 0, & x < 3, \\ \frac{1}{4}(-x^3 + 12x^2 - 45x + 54), & 3 \leq x \leq 5, \\ 1, & x > 5. \end{cases}$$

Найти плотность распределения. Построить графики функции и плотности распределения. Вычислить математическое ожидание, дисперсию и вероятность $P(X \in (0, 4))$.

7. В таблице приведён закон распределения вероятностей системы случайных величин (X , Y)

X	- 2	- 1	0	1	2
Y					
1	0,01	0,03	0,04	0,14	0,08
2	0,07	0,06	0,04	0,10	0,05
3	0,05	0,03	0,16	0,06	a

Найти: коэффициент «а»; математические ожидания m_x, m_y ; дисперсии σ_x^2, σ_y^2 ; коэффициент корреляции r_{xy}

Оценочные средства для проведения промежуточной аттестации

а) Планируемые результаты обучения и оценочные средства для проведения промежуточной аттестации:

Структурный элемент компетенции	Планируемые результаты обучения	Оценочные средства
ОПК-4 – готовность сочетать теорию и практику для решения инженерных задач		
Знать	<p>- основные положения теории пределов и непрерывных функций, графики основных элементарных функций и их свойства, основы численного решения трансцендентных уравнений,</p> <p>- основные теоремы дифференциального и интегрального исчисления функций одной и нескольких переменных, методы дифференциального исчисления функций, основы численных методов вычисления определенных интегралов,</p> <p>- основные типы обыкновенных дифференциальных уравнений и методы их решения,</p> <p>- основные понятия теории вероятностей и математической статистики</p>	<p>Теоретические вопросы для экзамена</p> <ol style="list-style-type: none"> 1. Функция. Способы задания. Область определения. Основные элементарные функции, их свойства, графики. 2. Предел функции в точке. Предел функции в бесконечности. Односторонние пределы. 3. Бесконечно малые и бесконечно большие функции, связь между ними. Свойства бесконечно малых функций. 4. Теоремы о пределах. Раскрытие неопределенностей. 5. Замечательные пределы. 6. Сравнение бесконечно малых функций. Эквивалентные бесконечно малые функции и основные теоремы о них. Применение к вычислению пределов. 7. Непрерывность функции в точке. Точки разрыва и их классификация. 8. Основные теоремы о непрерывных функциях. Свойства функций непрерывных на отрезке. 9. Производная функции, ее геометрический и физический смысл. 10. Уравнения касательной и нормали к кривой. Дифференцируемость функции в точке. 11. Производная суммы, разности, произведения, частного функций. Производная сложной и обратной функций. 12. Дифференцирование неявных и параметрически заданных функций. Логарифмическое дифференцирование. 13. Производные высших порядков. 14. Дифференциал функции. Геометрический смысл дифференциала. Основные теоремы о дифференциалах. 15. Применение дифференциала к приближенным вычислениям. 16. Основные теоремы дифференциального исчисления: Ролля, Лагранжа и Коши. 17. Правило Лопиталья. 18. Условия монотонности функций. Экстремумы функций. Необходимое и достаточное условия экстремума функции. 19. Наибольшее и наименьшее значения функции на отрезке. 20. Выпуклость графика функции. Точки перегиба. Необходимое и достаточное условия точек перегиба. 21. Асимптоты графика функции. 22. Первообразная. Неопределенный интеграл и его свойства. Таблица основных интегралов. 23. Основные методы интегрирования: замена переменной и интегрирование по частям. 24. Интегрирование рациональных функций. 25. Интегрирование тригонометрических функций. 26. Интегрирование иррациональных функций. 27. Определенный интеграл как предел интегральной суммы, его свойства. 28. Формула Ньютона – Лейбница. Основные свойства определенного интеграла. 29. Вычисление определенного интеграла (замена переменной, интегрирование по частям). Интегрирование четных и нечетных

Структурный элемент компетенции	Планируемые результаты обучения	Оценочные средства
		<p>функций в симметричных пределах.</p> <p>30. Несобственные интегралы.</p> <p>31. Геометрические и физические приложения определенного интеграла.</p> <p>32. Область определения ФНП. Предел, непрерывность. Свойства функций, непрерывных в ограниченной замкнутой области.</p> <p>33. Частные производные первого порядка, их геометрическое истолкование.</p> <p>34. Частные производные высших порядков.</p> <p>35. Дифференцируемость и полный дифференциал функции.</p> <p>36. Применение полного дифференциала к приближенным вычислениям. Дифференциалы высших порядков.</p> <p>37. Производная сложной функции. Полная производная.</p> <p>38. Инвариантность формы полного дифференциала.</p> <p>39. Дифференцирование неявной функции.</p> <p>40. Касательная плоскость и нормаль к поверхности.</p> <p>41. Экстремум функции двух переменных. Необходимое и достаточное условие экстремума.</p> <p>42. Условный экстремум. Метод множителей Лагранжа.</p> <p>43. Наибольшее и наименьшее значения функции в замкнутой области.</p> <p>44. Двойной интеграл: основные понятия и определения.</p> <p>45. Геометрический и физический смысл двойного интеграла.</p> <p>46. Основные свойства двойного интеграла.</p> <p>47. Вычисление двойного интеграла в декартовых координатах.</p> <p>48. Вычисление двойного интеграла в полярных координатах.</p> <p>49. Приложения двойного интеграла.</p> <p>50. Тройной интеграл: основные понятия, свойства.</p> <p>51. Вычисление тройного интеграла в декартовых координатах.</p> <p>52. Замена переменных в тройном интеграле. Вычисление тройного интеграла в цилиндрических и сферических координатах.</p> <p>53. Геометрический и физический смысл, приложения тройного интеграла.</p> <p>54. Дифференциальные уравнения: основные понятия. Задачи, приводящие к дифференциальным уравнениям.</p> <p>55. Теорема существования и единственности решения дифференциального уравнения.</p> <p>56. Уравнения с разделяющимися переменными.</p> <p>57. Однородные дифференциальные уравнения 1 порядка.</p> <p>58. Линейные уравнения. Уравнения Бернулли.</p> <p>59. Уравнение в полных дифференциалах.</p> <p>60. Дифференциальные уравнения высших порядков: основные понятия.</p> <p>61. Уравнения, допускающие понижение порядка.</p> <p>62. Линейные дифференциальные уравнения высших порядков. Линейные однородные дифференциальные уравнения 2, n-го порядков.</p> <p>63. Интегрирование ЛОДУ с постоянными коэффициентами.</p> <p>64. Линейные неоднородные ДУ. Структура общего решения ЛНДУ.</p> <p>65. Метод вариации произвольных постоянных.</p> <p>66. Интегрирование ЛНДУ с постоянными коэффициентами и правой частью специального вида.</p> <p>67. Системы дифференциальных уравнений. Теорема существования и единственности решения. Метод исключения для решения нормальных систем дифференциальных уравнений.</p> <p>68. Численные методы решения алгебраических и трансцендентных уравнений.</p>

Структурный элемент компетенции	Планируемые результаты обучения	Оценочные средства
		<p>69. Численные методы решения определенного интеграла.</p> <p>70. Элементы комбинаторики: перестановки, размещения, сочетания.</p> <p>71. Основные понятия теории вероятностей: испытание, событие, вероятность события.</p> <p>72. Действия над событиями. Алгебра событий.</p> <p>73. Теоремы сложения и умножения вероятностей.</p> <p>74. Формула полной вероятности. Формула Байеса.</p> <p>75. Последовательность независимых испытаний. Формула Бернулли.</p> <p>76. Случайные величины, их виды.</p> <p>77. Ряд распределения. Функция распределения, ее свойства. Плотность распределения, свойства.</p> <p>78. Числовые характеристики случайных величин: математическое ожидание, дисперсия, среднее квадратическое отклонение.</p> <p>79. Нормальный закон распределения случайной величины.</p> <p>80. Системы случайных величин. Закон распределения. Числовые характеристики системы случайных величин. Зависимость случайных величин.</p> <p>81. Предмет математической статистики. Генеральная совокупность и выборка. Вариационный ряд. Полигон. Гистограмма. Эмпирическая функция распределения.</p> <p>82. Статистические оценки параметров распределения генеральной совокупности.</p> <p>83. Статистическая проверка гипотез. Критерий согласия. Критерий Пирсона.</p> <p>84. Корреляционный анализ. Эмпирический коэффициент корреляции. Нахождение уравнения линейной регрессии методом наименьших квадратов.</p>
Уметь	<p>– решать задачи по изучаемым теоретически разделам;</p> <p>– обсуждать способы эффективного решения дифференциальных уравнений и их систем; определять эффективность решения задачи, полученного с помощью численных методов; распознавать эффективные результаты обработки экспериментальных данных от неэффективных</p>	<p>Примерные практические задания для экзамена и зачета:</p> <p>1. Вычислите пределы:</p> <p>а) $\lim_{x \rightarrow \infty} \frac{1 + 4x - x^4}{x + 3x^2 + 2x^4}$; б) $\lim_{x \rightarrow 0} \frac{3x \cdot \arcsin 2x}{\cos x - \cos^3 x}$; в) $\lim_{x \rightarrow 3} \frac{\sqrt{2x-1} - \sqrt{5}}{x-3}$.</p> <p>2. Найдите $\frac{dy}{dx}$ для функций: а) $y = e^{4x-x^2}$. б) $\begin{cases} x = \operatorname{ctg} 2t, \\ y = \ln(\sin 2t). \end{cases}$</p> <p>3. Вычислить: а) $\sqrt[3]{-\sqrt{3} + i}$, б) $(1-i)^{28}$.</p> <p>4. Найти неопределённый интеграл: а) $\int \sin 3x \cdot \cos 5x dx$, б) $\int \frac{1 - \cos x}{(x - \sin x)^2} dx$. в) $\int (2x+5) \cdot e^x dx$.</p> <p>5. Вычислить определенный интеграл $\int_2^{\sqrt{20}} \frac{x dx}{\sqrt{x^2 + 5}}$.</p> <p>6. Вычислить определенный интеграл $\int_0^1 4x \cdot \arcsin x dx$.</p> <p>7. Найти площадь фигуры, ограниченной линиями: $x = 4$, $y^2 = 4x$.</p> <p>8. Изменить порядок интегрирования $\int_{-2}^{-1} dy \int_{-\sqrt{2+y}}^0 f dx + \int_{-1}^0 dy \int_{-\sqrt{-y}}^0 f dx$.</p>

Структурный элемент компетенции	Планируемые результаты обучения	Оценочные средства																								
		<p>9. Вычислить $\iint_D \frac{dx dy}{\sqrt{x^2 + y^2}}$, $D: x \leq y \leq \sqrt{1-x^2}, x \geq 0$.</p> <p>10. Найти и построить область определения функции $u = \sqrt{9-x^2-y^2} + (x-y)^3$.</p> <p>11. Найти полный дифференциал функции: $z = x^3 \ln y - \sin 2xy$.</p> <p>12. Найти частные производные первого порядка функции: $z = 5x^2 y^3 + \ln(x+4y)$.</p> <p>13. Написать уравнение касательной плоскости и нормали к поверхности $z = \sqrt{x^2 + y^2}$ в точке (3, 4, 5).</p> <p>14. Исследовать на экстремум функцию $z = x^2 - 2xy + 4y^3$</p> <p>15. Решите задачу Коши: $y \cos^2 x dy = (y^2 + 1)dx, y(0) = 0$.</p> <p>16. Найдите общее решение дифференциального уравнения $y'' + y' = e^{2x}$.</p> <p>17. Решить однородную систему дифференциальных уравнений: $\begin{cases} x' = 6x - y, \\ y' = x + 4y. \end{cases}$ </p> <p>18. При доставке с завода на базу 1000 радиоприемников, у 55 вышли из строя лампы. Найти вероятность того, что взятый наудачу приемник будет исправным.</p> <p>19. Пятнадцать экзаменационных билетов содержат по 2 вопроса, которые не повторяются, экзаменуемый знает только 25 вопросов. Найти вероятность того, что экзамен будет сдан, если для этого достаточно ответить на два вопроса одного билета.</p> <p>20. Принимаем вероятности рождения мальчика и девочки равными. Найти вероятность того, что среди 10 новорожденных 6 окажутся мальчиками.</p> <p>21. Дан закон распределения дискретной случайной величины:</p> <table border="1" data-bbox="563 1413 1437 1485"> <tr> <td>x:</td> <td>110</td> <td>120</td> <td>130</td> <td>140</td> <td>150</td> </tr> <tr> <td>p:</td> <td>0.1</td> <td>0.2</td> <td>0.3</td> <td>0.2</td> <td>0.2</td> </tr> </table> <p>вычислить ее математическое ожидание, дисперсию и среднее квадратическое отклонение.</p> <p>22. Дана функция распределения непрерывной случайной величины X</p> $F(x) = \begin{cases} 0 & \text{при } x < 0 \\ 0,25x^3(x+3) & \text{при } 0 \leq x \leq 1 \\ 1 & \text{при } x > 1 \end{cases}$ <p>Найти плотность распределения f(x), построить ее график, вероятность попадания в заданный интервал [0,5; 2], Mx, Dx, σ_x.</p> <p>24. Задано распределение вероятностей дискретной двумерной случайной величины:</p> <table border="1" data-bbox="608 1921 1426 2027"> <tr> <td>Y \ X</td> <td>2</td> <td>5</td> <td>8</td> </tr> <tr> <td>0,4</td> <td>0,15</td> <td>0,30</td> <td>0,35</td> </tr> <tr> <td>0,8</td> <td>0,05</td> <td>0,12</td> <td>0,03</td> </tr> </table> <p>Найти законы распределения составляющих, коэффициент корреляции</p> <p>25. По выборке при заданном уровне значимости $\alpha = 0,05$ проверить по</p>	x:	110	120	130	140	150	p:	0.1	0.2	0.3	0.2	0.2	Y \ X	2	5	8	0,4	0,15	0,30	0,35	0,8	0,05	0,12	0,03
x:	110	120	130	140	150																					
p:	0.1	0.2	0.3	0.2	0.2																					
Y \ X	2	5	8																							
0,4	0,15	0,30	0,35																							
0,8	0,05	0,12	0,03																							

Структурный элемент компетенции	Планируемые результаты обучения	Оценочные средства														
		<p>критерию Пирсона гипотезу о нормальном распределении генеральной совокупности. В случае принятия гипотезы о нормальном распределении найти доверительные интервалы для математического ожидания a и среднего квадратического отклонения σ при уровне надежности $\gamma = 1 - \alpha$</p> <table border="1" data-bbox="517 510 1490 609"> <tr> <td>x_i</td> <td>4</td> <td>7</td> <td>10</td> <td>13</td> <td>16</td> <td>19</td> </tr> <tr> <td>n_i</td> <td>6</td> <td>11</td> <td>14</td> <td>22</td> <td>20</td> <td>13</td> </tr> </table> <p>26. Из нормальной генеральной совокупности извлечена выборка объема $n = 15$: 143, 121, 135, 132, 120, 116, 115, 143, 115, 120, 138, 133, 148, 133, 134. Требуется при уровне значимости $\alpha = 0,05$ проверить нулевую гипотезу $H_0 : \sigma^2 = \sigma_0^2 = 55$, приняв в качестве конкурирующей гипотезы: а) $H_1 : \sigma^2 \neq 55$, б) $H_1 : \sigma^2 > 55$ или $H_1 : \sigma^2 < 55$ в зависимости от полученного значения σ^2.</p>	x_i	4	7	10	13	16	19	n_i	6	11	14	22	20	13
x_i	4	7	10	13	16	19										
n_i	6	11	14	22	20	13										
Владеть	<ul style="list-style-type: none"> - практическими навыками использования математических понятий и методов (изучаемых разделов математики) при решении прикладных задач; - навыками обобщения результатов решения, результатов обработки статистического эксперимента; - способами оценивания значимости и практической пригодности полученных результатов 	<p>Примерные прикладные задачи и задания</p> <p>Задача 1. Зависимость пути от времени при прямолинейном движении точки задается уравнением $s = \frac{1}{3}t^3 + 2t^2 - 3$, где s — путь в м, а t — время в с. Вычислите ее скорость и ускорение в момент времени $t = 4$ с.</p> <p>Задание 2. Составьте алгоритм решения линейного однородного дифференциального уравнения с постоянными коэффициентами.</p> <p>Задание 3. Подготовьте ответы на вопросы к ИДЗ № 8: Что значит оценить генеральные параметры по выборке? Сформулируйте определение точечной оценки. Определите смещенные и несмещенные, эффективные и неэффективные, состоятельные и несостоятельные оценки генеральных параметров. Проиллюстрируйте определения геометрически. Запишите расчетные формулы для сгруппированных и несгруппированных данных: выборочного среднего \bar{X} (укажите его вероятностный смысл); выборочной дисперсии D_v. Как оценить математическое ожидание по выборочной средней? Оцените дисперсию по исправленной дисперсии. Какими являются точечные оценки математического ожидания, дисперсии и среднего квадратического отклонения: смещенными или нет, эффективными или неэффективными, состоятельными или несостоятельными?</p> <p>Задача 4. Для изучения количественного признака X из генеральной совокупности извлечена выборка x_1, \dots, x_n объема n, имеющая данное статистическое распределение.</p> <ol style="list-style-type: none"> 1). Постройте полигон частот. 2). Постройте эмпирическую функцию распределения. 3). Постройте гистограмму относительных частот. 4). Найдите выборочное среднее \bar{x}, выборочную дисперсию D_v, выборочное среднее квадратическое отклонение σ_v, исправленную дисперсию s^2 и исправленное среднее квадратическое отклонение s. 5). При данном уровне значимости α проверьте по критерию Пирсона гипотезу о нормальном распределении генеральной совокупности. 6). В случае принятия гипотезы о нормальном распределении найдите доверительные интервалы для математического ожидания a и среднего 														

Структурный элемент компетенции	Планируемые результаты обучения	Оценочные средства						
		квадратического отклонения σ при данном уровне надежности $\gamma = 1 - \alpha$. (Принять $\alpha = 0,01$).						
		x_i	9	13	17	21	25	29
		n_i	5	10	19	23	25	19

ПК-1 - способность к анализу и синтезу

Знать	- основные понятия и методы математического анализа: теории пределов и непрерывных функций, дифференциального и интегрального исчисления функций одной и нескольких переменных, теории обыкновенных дифференциальных уравнений и систем дифференциальных уравнений; - основные понятия и методы теории вероятностей и статистического анализа результатов эксперимента	<ol style="list-style-type: none"> 1. Формулировки основных теорем (свойств, признаков изучаемых понятий, необходимые и достаточные условия) в изучаемых разделах курса. 2. Методы раскрытия неопределенностей, выяснения непрерывности функции одной переменной. 3. Алгоритм приближенного вычисления функции с помощью дифференциала; написания уравнения касательной прямой (плоскости). 4. Алгоритм полного исследования функции. 5. Методы выяснения классов интегрируемых функций, а также методы непосредственного интегрирования и интегрирования основных классов функций. 6. Способы выяснения сходимости несобственных интегралов. 7. Общую схему построения кратных интегралов и сведения их к повторным. 8. Способы нахождения погрешности в приближенных вычислениях корня уравнения и определенных интегралов. 9. Основные способы статистической проверки гипотез, выяснения доверительных интервалов для параметров распределения. 10. Методы проверки допущения ошибок первого или второго рода при проверке статистических гипотез.
Уметь	- корректно выражать и аргументированно обосновывать положения предметной области знания и методов математического анализа для постановки и решения конкретных прикладных задач	<p>Примерные практические задания и задачи</p> <p>Задание 1. Составьте алгоритм решения задачи.</p> <p>Задание 2. Вычислите приближенно $y = \sqrt[5]{x^2}$ при $x = 1,03$.</p> <p>Задача 3. Вычислите предел по правилу Лопитала $\lim_{x \rightarrow 2} \frac{\arcsin(2x-4)}{x^2-4}$.</p> <p>Задание 4. Сформулируйте необходимое условие экстремума функции одной переменной.</p> <p>Задача 5. Исследовать функцию и построить её график: $y = 2 + \frac{12}{x^2-4}$.</p> <p>Задача 6. Каков геометрический смысл определенного интеграла от данной функции в данном интервале в декартовой системе координат?</p> <p>Задание 7. Укажите верное утверждение о функции двух переменных: а). градиент перпендикулярен касательной плоскости; б). градиент является производной по направлению; в). градиент является касательной к линии уровня; г). градиент определяет направление максимальной скорости изменения функции.</p> <p>Задание 8. Укажите ЛОЖНОЕ утверждение о функции двух переменных: а). непрерывная функция всегда дифференцируема; б). функция, имеющая предел в точке M, может быть разрывна в этой точке;</p>

Структурный элемент компетенции	Планируемые результаты обучения	Оценочные средства
		<p>в). у дифференцируемой функции существуют частные производные; г). из непрерывности частных производных в точке M следует дифференцируемость функции в этой точке. Задача 9. Двумя методами проведены измерения одной и той же физической величины. Получены следующие результаты: а) в первом случае 145, 133, 143, 121, 135, 132, 133, 148, 133, 134; б) во втором случае 128, 120, 116, 115, 143, 115, 120, 138, 115, 120. Можно ли считать, что оба метода обеспечивают одинаковую точность измерений, если принять уровень значимости $\alpha = 0,05$? Предполагается, что результаты измерений распределены нормально и выборки независимы.</p>
Владеть	<ul style="list-style-type: none"> - навыками использования логически верно, аргументировано и ясно строить устную и письменную речь на русском языке, готовить и редактировать технические тексты с математической символикой или формулами, публично представлять собственные и известные научные результаты, вести дискуссии; - навыками и методиками обобщения результатов решения, экспериментальной деятельности 	<p>Примерные практические задания Задание 1. Поразмышляйте: 1) Верно ли, что сумма, разность и произведение двух четных функций есть четная функция? 2) Какой, в смысле четности, будет функция, равная произведению (сумме) двух нечетных функций? 3) Существуют ли функции, обратные самим себе (при доказательстве вспомните предложение о графиках обратных функций)? 4) Может ли четная функция быть строго монотонной? Задание 2. Систематизируйте и обобщите все ключевые понятия и приемы решения типовых задач по теме «Производная» и «Применение производной при исследовании функций». Результат оформите в виде таблицы. Задание 3. Снимите видеоролик на тему «Я научу вас решать задачи по теме...». Примерный список тем: 1) Действия над комплексными числами в разной форме. 2) Вычисление пределов функции одной переменной. 3) Решение задач на исследование непрерывности функции и характеристике точек её разрыва и т.д.</p>
ПК-3 - готовность использовать физико-математический аппарат для решения задач, возникающих в ходе профессиональной деятельности		
Знать	<ul style="list-style-type: none"> - основные положения теории пределов и непрерывных функций, - основные теоремы дифференциального и интегрального исчисления функций одной и нескольких переменных, методы дифференциального исчисления 	Смотри файл – «Список вопросов к ПК-3-з»

Структурный элемент компетенции	Планируемые результаты обучения	Оценочные средства
	<p>исследования функций, - основные типы обыкновенных дифференциальных уравнений и методы их решения, - основные понятия теории вероятностей и математической статистики</p>	
Уметь	<p>– применять методы дифференциального исчисления для исследования функций одной и двух переменных (в том числе на экстремум, поведение на границе области задания и т.п.); – выявлять, строить и решать математические модели прикладных задач; - обсуждать способы эффективного решения задач, распознавать эффективные результаты от неэффективных</p>	<p>Примерные практические задания и задачи Задание 1. Покажите, что предел $\lim_{x \rightarrow \infty} \frac{x - \cos x}{x + \cos x}$ не может быть вычислен по правилу Лопиталю. Найдите этот предел другим способом. Задача 2. К графику функции $f(x) = 3 - x^2$ в его точке с абсциссой $x_0 = 1$ проведена касательная. Найдите площадь треугольника, образованного касательной и отрезками, отсекаемыми ею на осях координат. Задача 2. Найдите центр масс однородного тела ($\gamma = 1$), ограниченного поверхностями $y^2 + z^2 \leq x \leq 2$. Задача 3. Найдите наибольшее и наименьшее значения функции $z = 5x^2 + 8y - 2x + 1$ в замкнутой области D, ограниченной линиями $x = 4, y^2 = 4x$. Задание 4. Подумайте, с помощью средств какого раздела математики можно решить следующую задачу. «Для уборки снега на улицах города используются снегоуборочные машины. Они работают в течение светлого времени суток с 6 до 18 часов с постоянной скоростью уборки снега 400 (м³/ч). Изменение объема снега, выпадающего на улицы города в городе в течение суток, можно описать уравнением $\frac{dS}{dt} = 120t - 5t^2$, где $S(t)$ – объем снега (в м³), выпавшего за время t (в часах), $0 \leq t \leq 24$. В момент времени $t = 0$ на улицах города лежит 1000 м³ снега. Установите соответствие между временем t и объемом снега, лежащего на улицах города $S(t)$.» Составьте математическую модель этой задачи и решите её.</p>
Владеть	<p>- навыками построения и решения математических моделей прикладных задач; - способами оценивания значимости и практической пригодности полученных</p>	<p>Примерные практические задания и задачи Задача 1. Для решения задачи сделайте схематический чертеж и получите функциональную зависимость по указанию к задаче. Найдите область определения этой функции по смыслу задачи. Вычислите значения этой функции при трех различных значениях аргумента. Исследуйте функцию на наибольшее и наименьшее значения. Ответьте на вопрос задачи. «Сечение тоннеля имеет форму прямоугольника, завершенного полукругом. Периметр сечения 18 м. При каком радиусе полукруга площадь сечения будет наибольшей?» Обозначьте радиус полукруга через r и выразите площадь S сечения как функцию от r: $S = S(r)$. Задача 2. На какой высоте h над центром круглого стола радиуса a следует</p>

Структурный элемент компетенции	Планируемые результаты обучения	Оценочные средства
	результатов	<p>поместить лампу, чтобы освещенность края стола была наибольшей? (Самостоятельно проанализировать средства (знания, методы) какого раздела математики потребуются для решения данной задачи).</p> <p>Задача 3. По выборке объема $n = 35$ найден средний вес $\bar{x} = 190$ г изделий, изготовленных на первом станке; по выборке объема $m = 40$ найден средний вес $\bar{y} = 180$ г изделий, изготовленных на втором станке.</p> <p>Генеральные дисперсии известны: $D(X) = 70 \text{ г}^2$, $D(Y) = 80 \text{ г}^2$. Требуется при уровне значимости $\alpha = 0,01$ проверить нулевую гипотезу $H_0 : M(X) = M(Y)$ при конкурирующей гипотезе</p> <p>а) $H_1 : M(X) \neq M(Y)$, б) $H_1 : M(X) > M(Y)$.</p>

б) Порядок проведения промежуточной аттестации, показатели и критерии оценивания:

Промежуточная аттестация по дисциплине «Математика» включает теоретические вопросы, позволяющие оценить уровень усвоения обучающимися знаний, и практические задания, выявляющие степень сформированности умений и владений, проводится в форме экзамена (1 и 2 семестры) и в форме зачета (3 семестр).

Экзамен по данной дисциплине проводится в устной форме по экзаменационным билетам, каждый из которых включает 2 теоретических вопроса и два практических задания.

Показатели и критерии оценивания экзамена:

– на оценку «отлично» – обучающийся демонстрирует высокий уровень сформированности компетенций, всестороннее, систематическое и глубокое знание учебного материала, свободно выполняет практические задания, свободно оперирует знаниями, умениями, применяет их в ситуациях повышенной сложности.

– на оценку «хорошо» – обучающийся демонстрирует средний уровень сформированности компетенций: основные знания, умения освоены, но допускаются незначительные ошибки, неточности, затруднения при аналитических операциях, переносе знаний и умений на новые, нестандартные ситуации.

– на оценку «удовлетворительно» – обучающийся демонстрирует пороговый уровень сформированности компетенций: в ходе контрольных мероприятий допускаются ошибки, проявляется отсутствие отдельных знаний, умений, навыков, обучающийся испытывает значительные затруднения при оперировании знаниями и умениями при их переносе на новые ситуации.

– на оценку **«неудовлетворительно»**– обучающийся демонстрирует знания не более 20% теоретического материала, допускает существенные ошибки, не может показать интеллектуальные навыки решения простых задач или не может показать знания даже на уровне воспроизведения и объяснения информации.

Показатели и критерии оценивания зачета:

- для **сдачи зачета** обучающийся показывает сформированность компетенций ОПК-1, ПК-1 и ПК-3 по разделам 3-го семестра, т.е. показывает соответствующие знания (по крайней мере, на уровне воспроизведения и объяснения информации) и интеллектуальные навыки решения предложенных в таблице п.7а) задач;

- **зачет не сдан**, если результат обучения не достигнут, обучающийся не может показать знания на уровне воспроизведения и объяснения информации, не может показать интеллектуальные навыки решения простых задач.