



МИНИСТЕРСТВО НАУКИ И ВЫСШЕГО ОБРАЗОВАНИЯ
РОССИЙСКОЙ ФЕДЕРАЦИИ

Федеральное государственное бюджетное образовательное учреждение
высшего образования
«Магнитогорский государственный технический университет им. Г.И. Носова»



УТВЕРЖДАЮ
Директор ИЕиС
И.Ю. Мезин

14.02.2022 г.

РАБОЧАЯ ПРОГРАММА ДИСЦИПЛИНЫ (МОДУЛЯ)

ФИЗИКА

Направление подготовки (специальность)
21.05.04 Горное дело

Направленность (профиль/специализация) программы
Взрывное дело

Уровень высшего образования - специалитет

Форма обучения
очная

Институт/ факультет	Институт естествознания и стандартизации
Кафедра	Физики
Курс	1
Семестр	1, 2

Магнитогорск
2022 год

Рабочая программа составлена на основе ФГОС ВО - специалитет по специальности 21.05.04 Горное дело (приказ Минобрнауки России от 12.08.2020 г. № 987)

Рабочая программа рассмотрена и одобрена на заседании кафедры Физики
01.02.2022, протокол № 4

Зав. кафедрой  М.Б. Аркулиц

Рабочая программа одобрена методической комиссией ИЕиС
14.02.2022 г. протокол № 6

Председатель  И.Ю. Мезин

Согласовано:

Зав. кафедрой Разработки месторождений полезных ископаемых

 С.Е. Гавришев

Рабочая программа составлена:

ст. преподаватель кафедры Физики, канд. техн. наук

 А.А. Нефедьев

Рецензент:

зав. кафедрой ВТиП, д-р техн. наук

 О.С. Логунова

Лист актуализации рабочей программы

Рабочая программа пересмотрена, обсуждена и одобрена для реализации в 2023 - 2024 учебном году на заседании кафедры Физики

Протокол от _____ 20__ г. № ____
Зав. кафедрой _____ М.Б. Аркулис

Рабочая программа пересмотрена, обсуждена и одобрена для реализации в 2024 - 2025 учебном году на заседании кафедры Физики

Протокол от _____ 20__ г. № ____
Зав. кафедрой _____ М.Б. Аркулис

Рабочая программа пересмотрена, обсуждена и одобрена для реализации в 2025 - 2026 учебном году на заседании кафедры Физики

Протокол от _____ 20__ г. № ____
Зав. кафедрой _____ М.Б. Аркулис

Рабочая программа пересмотрена, обсуждена и одобрена для реализации в 2026 - 2027 учебном году на заседании кафедры Физики

Протокол от _____ 20__ г. № ____
Зав. кафедрой _____ М.Б. Аркулис

Рабочая программа пересмотрена, обсуждена и одобрена для реализации в 2027 - 2028 учебном году на заседании кафедры Физики

Протокол от _____ 20__ г. № ____
Зав. кафедрой _____ М.Б. Аркулис

Рабочая программа пересмотрена, обсуждена и одобрена для реализации в 2028 - 2029 учебном году на заседании кафедры Физики

Протокол от _____ 20__ г. № ____
Зав. кафедрой _____ М.Б. Аркулис

1 Цели освоения дисциплины (модуля)

Получение студентами основополагающих представлений о фундаментальном строении материи и физических принципах, лежащих в основе современной естественнонаучной картины мира; формирование у студентов современного естественнонаучного мировоззрения; развитие научного мышления и расширение научно-технического кругозора; овладение основными физическими категориями, понятиями и фундаментальными физическими законами; получение представлений о фундаментальных концепциях современного естествознания как результата исторического процесса; овладение приемами и методами решения конкретных задач из различных областей физики, умения выделить конкретное физическое содержание в прикладных задачах будущей профессиональной деятельности; формирование навыков проведения физического эксперимента, позволяющих им впоследствии овладеть комплексом компетенций, предусмотренных ФГОС ВО по направлению подготовки 21.05.04 «Горное дело», специализация Маркшейдерское дело.

2 Место дисциплины (модуля) в структуре образовательной программы

Дисциплина Физика входит в обязательную часть учебного плана образовательной программы.

Для изучения дисциплины необходимы знания (умения, владения), сформированные в результате изучения дисциплин/ практик:

Для освоения дисциплины «Физика» необходимы базовые знания по дисциплинам математика, физика, химия, полученные по программе среднего полного общего образования в школе или учреждениях СПО.

Знания (умения, владения), полученные при изучении данной дисциплины будут необходимы для изучения дисциплин/практик:

- Соппротивление материалов
- Прикладная механика
- Электротехника
- Теоретическая механика
- Физика горных пород
- Механизация горного производства
- Основы геомеханики
- Безопасность жизнедеятельности
- Технология и безопасность взрывных работ

3 Компетенции обучающегося, формируемые в результате освоения дисциплины (модуля) и планируемые результаты обучения

В результате освоения дисциплины (модуля) «Физика» обучающийся должен обладать следующими компетенциями:

Код индикатора	Индикатор достижения компетенции
УК-1	Способен осуществлять критический анализ проблемных ситуаций на основе системного подхода, вырабатывать стратегию действий
УК-1.1	Анализирует проблемную ситуацию как систему, выявляя ее составляющие и связи между ними
УК-1.2	Критически оценивает надежность источников информации, работает с противоречивой информацией из разных источников, определяет пробелы в информации, необходимой для решения проблемной ситуации, и проектирует процессы по их устранению
УК-1.3	Разрабатывает и содержательно аргументирует стратегию решения проблемной ситуации на основе системного и междисциплинарного подходов; строит сценарии реализации стратегии, определяя

возможные риски и предлагаемые пути их устранения

4. Структура, объём и содержание дисциплины (модуля)

Общая трудоемкость дисциплины составляет 9 зачетных единиц 324 акад. часов, в том числе:

- контактная работа – 162,9 акад. часов;
- аудиторная – 157 акад. часов;
- внеаудиторная – 5,9 акад. часов;
- самостоятельная работа – 125,4 акад. часов;
- в форме практической подготовки – 0 акад. час;
- подготовка к экзамену – 35,7 акад. час

Форма аттестации - зачет, экзамен

Раздел/ тема дисциплины	Семестр	Аудиторная контактная работа (в акад. часах)			Самостоятельная работа студента	Вид самостоятельной работы	Форма текущего контроля успеваемости и промежуточной аттестации	Код компетенции
		Лек.	лаб. зан.	практ. зан.				
1. Физические основы механики								
1.1 Кинематика поступательного и вращательного движения	1	2		2	12	подготовка к практическому занятию; выполнение практических работ (ИДЗ); самостоятельное изучение учебной и научной литературы в том числе электронных ресурсов.	проверка индивидуальных задач;	
1.2 Динамика поступательного и вращательного движения		3	2/И	2	12	подготовка к лабораторному, семинарскому и практическому занятию; выполнение практических работ (ИДЗ); самостоятельное изучение учебной и научной литературы в том числе электронных ресурсов.	проверка индивидуальных задач.	

1.3 Законы сохранения в механике		4		2	12	подготовка к лабораторному, семинарскому и практическому занятию; выполнение практических работ (ИДЗ); самостоятельное изучение учебной и научной литературы в том числе электронных ресурсов.	проверка индивидуальных задач;	
1.4 Механические колебания и волны		2	4	2	12	подготовка к лабораторному, семинарскому и практическому занятию; выполнение практических работ (ИДЗ); самостоятельное изучение учебной и научной литературы в том числе электронных ресурсов.	проверка индивидуальных задач; выполнение и защита лабораторной работы № 5.	
Итого по разделу		11	6/ИИ	8	48			
2. Статистическая физика и термодинамика								
2.1 Статистическая физика	1	3		1/ИИ	12	подготовка к лабораторному, семинарскому и практическому занятию; выполнение практических работ (ИДЗ); самостоятельное изучение учебной и научной литературы в том числе электронных ресурсов.	проверка индивидуальных задач;	

2.2 Термодинамика		4	4	1	10	подготовка к лабораторному, семинарскому и практическому занятию; выполнение практических работ (ИДЗ); самостоятельное изучение учебной и научной литературы в том числе электронных ресурсов.	проверка индивидуальных задач; выполнение и защита лабораторной работы № 14;	
Итого по разделу		7	4	2/ИИ	22			
3. Электричество и магнетизм								
3.1 Электростатическое поле в вакууме и в веществе		4		2/ИИ	10	подготовка к лабораторному, семинарскому и практическому занятию; выполнение практических работ (ИДЗ); самостоятельное изучение учебной и научной литературы в том числе электронных ресурсов.	проверка индивидуальных задач;	
3.2 Постоянный электрический ток	1	4	4/2И	2/2И	10	подготовка к лабораторному, семинарскому и практическому занятию; выполнение практических работ (ИДЗ); самостоятельное изучение учебной и научной литературы в том числе электронных ресурсов.	проверка индивидуальных задач; выполнение и защита лабораторной работы № 24;	
3.3 Магнитостатическое поле в вакууме и в веществе		4		2/ИИ	10	подготовка к семинарскому и практическому занятию; выполнение практических работ (ИДЗ); самостоятельное изучение учебной и научной литературы в том числе электронных ресурсов.	проверка индивидуальных задач;	

3.4 Электромагнитная индукция. Электромагнитные колебания. Переменный электрический ток		6	4	2/ИИ	6,1	подготовка к лабораторному, семинарскому и практическому занятию; выполнение практических работ (ИДЗ); самостоятельное изучение учебной и научной литературы в том числе электронных ресурсов.	проверка индивидуальных задач; выполнение и защита лабораторной работы № 28;	
Итого по разделу		18	8/2И	8/5И	36,1			
Итого за семестр		36	18/3И	18/6И	106,1		зачёт	
4. Оптика								
4.1 Волновая оптика (интерференция, дифракция, поляризация)	2	10	4/1,6И	6	5,3	подготовка к лабораторному, семинарскому и практическому занятию; выполнение практических работ (ИДЗ); самостоятельное изучение учебной и научной литературы в том числе электронных ресурсов.	проверка индивидуальных задач; выполнение и защита лабораторной работы № 34.	
4.2 Квантовая оптика		6	4	4	4	подготовка к лабораторному, семинарскому и практическому занятию; выполнение практических работ (ИДЗ); самостоятельное изучение учебной и научной литературы в том числе электронных ресурсов.	проверка индивидуальных задач; выполнение и защита лабораторной работы № 36;	
Итого по разделу		16	8/1,6И	10	9,3			
5. Физика атома								

5.1 Физика атома	2	6	4	4	4	подготовка к лабораторному, семинарскому и практическому занятию; выполнение практических работ (ИДЗ); самостоятельное изучение учебной и научной литературы в том числе электронных ресурсов.	проверка индивидуальных задач; выполнение и защита лабораторной работы № 41.	
Итого по разделу		6	4	4	4			
6. Физика твердого тела. Элементы квантовой физики								
6.1 Физика твердого тела. Элементы квантовой физики	2	6		8	4	подготовка к лабораторному, семинарскому; выполнение практических работ (ИДЗ); самостоятельное изучение учебной и научной литературы в том числе электронных ресурсов.	проверка индивидуальных задач;	
Итого по разделу		6		8	4			
7. Физика ядра и элементарных частиц								
7.1 Физика ядра и элементарных частиц	2	6	5/3И	12	2	подготовка к семинарскому и практическому занятию; выполнение практических работ (ИДЗ); самостоятельное изучение учебной и научной литературы в том числе электронных ресурсов.	проверка индивидуальных задач; выполнение и защита Л.Р. № 51.	
Итого по разделу		6	5/3И	12	2			
Итого за семестр		34	17/4,6И	34	19,3		экзамен	
Итого по дисциплине		70	35/7,6И	52/6И	125,4		зачет, экзамен	

5 Образовательные технологии

При реализации различных видов учебной работы наиболее эффективные результаты освоения дисциплины «Физика» дают традиционные образовательные технологии, технологии проблемного обучения, интерактивные технологии, информационно-коммуникационные образовательные технологии.

1. Формы учебных занятий с использованием традиционных технологий:

Информационная лекция – последовательное изложение материала в дисциплинарной логике, осуществляемое преимущественно вербальными средствами (монолог преподавателя).

Семинар – беседа преподавателя и студентов, обсуждение заранее подготовленных сообщений по каждому вопросу плана занятия с единым для всех перечнем рекомендуемой обязательной и дополнительной литературы.

Практическое занятие, посвященное освоению конкретных умений и навыков по предложенному алгоритму.

Лабораторная работа – организация учебной работы с реальными материальными и информационными объектами, экспериментальная работа с аналоговыми моделями реальных объектов.

2. Формы учебных занятий с использованием технологий проблемного обучения:

Проблемная лекция – изложение материала, предполагающее постановку проблемных и дискуссионных вопросов, освещение различных научных подходов, авторские комментарии, связанные с различными моделями интерпретации изучаемого материала.

Практическое занятие в форме практикума – организация учебной работы, направленная на решение комплексной учебно-познавательной задачи, требующей от студента применения как научно-теоретических знаний, так и практических навыков.

3. Формы учебных занятий с использованием специализированных интерактивных технологий:

Лекция «обратной связи» – лекция–провокация (изложение материала с заранее запланированными ошибками), лекция-беседа, лекция-дискуссия.

Семинар-дискуссия – коллективное обсуждение какого-либо спорного вопроса, проблемы, выявление мнений в группе (межгрупповой диалог, дискуссия как спор-диалог).

4. Формы учебных занятий с использованием информационно-коммуникационных технологий:

Лекция-визуализация – изложение содержания сопровождается презентацией (демонстрацией учебных материалов, представленных в различных знаковых системах, в т.ч. иллюстративных, графических, аудио- и видеоматериалов).

Практическое занятие в форме презентации – представление результатов проектной или исследовательской деятельности с использованием специализированных программных сред.

6 Учебно-методическое обеспечение самостоятельной работы обучающихся

Представлено в приложении 1.

7 Оценочные средства для проведения промежуточной аттестации

Представлены в приложении 2.

8 Учебно-методическое и информационное обеспечение дисциплины (модуля)

а) Основная литература:

1. Никеров, В. А. Физика. Современный курс : учебник / В. А. Никеров. — 4-е

изд. — Москва : Издательско-торговая корпорация «Дашков и К°», 2019. - 452 с. - ISBN 978-5-394-03392-6. - Текст : электронный. - URL: <https://znanium.com/catalog/product/1093441> (дата обращения: 25.06.2020). – Режим доступа: по подписке

2. Айзензон, А. Е. Физика : учебник и практикум для вузов / А. Е. Айзензон. — Москва : Издательство Юрайт, 2020. — 335 с. — (Высшее образование). — ISBN 978-5-534-00487-8. — Текст : электронный // ЭБС Юрайт [сайт]. — URL: <https://urait.ru/bcode/450504> (дата обращения: 25.06.2020).

3. Физика : учебное пособие. Ч. 1 / Е. С. Корытникова, Л. А. Одер, Л. А. Никонорова и др. ; МГТУ. - Магнитогорск : МГТУ, 2016. - 1 электрон. опт. диск (CD-ROM). - Загл. с титул. экрана. - URL: <https://magtu.informsistema.ru/uploader/fileUpload?name=2560.pdf&show=dcatalogues/1/1130362/2560.pdf&view=true> (дата обращения: 04.10.2019). - Макрообъект. - Текст : электронный. - Сведения доступны также на CD-ROM.

4. Физика : учебное пособие. Ч. 2 / Е. С. Корытникова, Л. А. Одер, Л. А. Никонорова и др. ; МГТУ. - Магнитогорск : МГТУ, 2016. - 1 электрон. опт. диск (CD-ROM). - Загл. с титул. экрана. - URL: <https://magtu.informsistema.ru/uploader/fileUpload?name=2557.pdf&show=dcatalogues/1/1130359/2557.pdf&view=true> (дата обращения: 04.10.2019). - Макрообъект. - Текст : электронный. - Сведения доступны также на CD-ROM.

б) Дополнительная литература:

1. Ивлиев, А. Д. Физика : учебное пособие / А. Д. Ивлиев. - СПб. : Лань, 2008. - 671 с. : ил., граф. - (Учебники для вузов : Специальная литература). - Текст : непосредственный.

2. Кочкин, Ю. П. Учебные задачи по физике : учебное пособие / Ю. П. Кочкин, И. Ю. Богачева ; МГТУ. - Магнитогорск, 2014. - 138 с. : ил., схемы, табл. - Текст : непосредственный.

3. Курс физики : учебник : [в 2 т.]. [Т.] I / [В. В. Арсентьев, В. Я. Кирпиченков, С. Ю. Князев и др.]; под ред. В. Н. Лозовского. - 6-е изд., испр. и доп. - СПб. и др. : Лань, 2009. - 572 с. : ил., табл. - (Учебники для вузов : Специальная литература). - Текст : непосредственный.

4. Справочник по физике. Формулы, таблицы, схемы. : пер. с нем. / под ред. Х. Штекера, под ред. К. В. Смирнова. - М. : ТЕХНОСФЕРА, 2009. - 1262 с. : ил., граф., табл. - Текст : непосредственный.

в) Методические указания:

1. Механика. Молекулярная физика и термодинамика : лабор. практикум / [Е. Н. Астапов, З. Н. Ботнева, Л. С. Долженкова и др.]; Ин-т энергетики и автоматики МГТУ, [каф. физики]. - Магнитогорск, 2011. - 103 с. : ил., граф., схемы, табл. - Текст : непосредственный.

2. Электростатика. Постоянный ток. : лабораторный практикум / [М. В. Вечеркин, Е. Е. Елисеева, С. Г. Шевченко ; под ред. М. В. Вечеркина] ; МГТУ, [каф. физики]. - Магнитогорск, 2011. - 60 с. : ил., табл. - Текст : непосредственный.

3. Электромагнетизм. Оптика : лабораторный практикум по физике / [сост. : И. Ю. Богачева, В. Г. Бочкарев, И. Н. Гиниятуллин и др.] ; МГТУ, каф. физики. - Магнитогорск, 2001. - 77 с. : ил. - Текст : непосредственный.

4. Физика атома, твердого тела, ядра : учебное пособие / В. К. Белов, С. А. Бутаков, Ю. М. Дубосарская и др. ; МГТУ. - Магнитогорск : МГТУ, 2008. - 57 с. : ил., табл. - Текст : непосредственный.

5. Богачева, И. Ю. Методика решения задач по физике. Механика : учебное пособие / И. Ю. Богачева, О. Н. Вострокнутова ; МГТУ. - [2-е изд., подгот. по печ. изд. 2017 г.]. - Магнитогорск : МГТУ, 2018. - 1 электрон. опт. диск (CD-ROM). - Загл. с титул. экрана. - URL:

<https://magtu.informsystema.ru/uploader/fileUpload?name=3567.pdf&show=dcatalogues/1/1515210/3567.pdf&view=true> (дата обращения: 04.10.2019). - Макрообъект. - Текст : электронный. - Сведения доступны также на CD-ROM.

6. Физика : методическое пособие для самостоятельной подготовки к лабораторным занятиям. Ч. 2. Электричество и магнетизм, оптика / Г. Н. Асылгужина, С. М. Головизнин, С. Г. Мигранова, Е. С. Сафонова ; МГТУ. - Магнитогорск : МГТУ, 2012. - 1 электрон. опт. диск (CD-ROM). - Загл. с титул. экрана. - URL: <https://magtu.informsystema.ru/uploader/fileUpload?name=2991.pdf&show=dcatalogues/1/1134925/2991.pdf&view=true> (дата обращения: 04.10.2019). - Макрообъект. - Текст : электронный. - Сведения доступны также на CD-ROM.

г) Программное обеспечение и Интернет-ресурсы:

Программное обеспечение

Наименование ПО	№ договора	Срок действия лицензии
MS Office 2007 Professional	№ 135 от 17.09.2007	бессрочно
7Zip	свободно распространяемое ПО	бессрочно

Профессиональные базы данных и информационные справочные системы

Название курса	Ссылка
Информационная система - Единое окно доступа к информационным ресурсам	URL: http://window.edu.ru/
Поисковая система Академия Google (Google Scholar)	URL: https://scholar.google.ru/
Электронная база периодических изданий East View Information Services, ООО «ИВИС»	https://dlib.eastview.com/

9 Материально-техническое обеспечение дисциплины (модуля)

Материально-техническое обеспечение дисциплины включает:

Лекционная аудитория включает:
Мультимедийные средства хранения, передачи и представления информации.

Лаборатория «Механики, молекулярной физики и термодинамики» включает:

1. Баллистические маятники.
2. Маятник Обербека.
3. Физический маятник.
4. Доска Гальтона.
5. Лабораторная установка для исследования распределения термоэлектронов по модулю их скорости.
6. Лабораторная установка для определения показателей адиабаты γ методом Клемана и Дезорма.
7. Лабораторная установка для проверки закона возрастания энтропии в процессе диффузии газов на модели перемешивания шаров.
8. Лабораторная установка для проверки законов возрастания энтропии в процессе теплообмена.
9. Установка лабораторная для изучения зависимости скорости звука от температуры "МФ-СЗ-М"
10. Установка лабораторная для исследования теплоемкости твердого тела "МФ-ТЕТ-М".
11. Установка лабораторная для определения универсальной газовой постоянной "МФ-ОГП-М".
12. Стенд лабораторный газовые процессы.
13. Мерительный инструмент.

Лаборатория «Электричества и оптики» включает:

1. Лабораторная установка для исследования электростатического поля с помощью одинарного зонда.
2. Установка для шунтирования миллиамперметра.
3. Установка лабораторная для определения индуктивности соленоида и магнитной проницаемости.
4. Установка лабораторная для изучения резонанса напряжений и определения индуктивности
5. Лабораторная установка для изучения длины световой волны и характеристик дифракционной решетки.
6. Лабораторная установка для определения радиуса кривизны линзы и длины световой волны с помощью колец Ньютона.
7. Лабораторная установка для определения концентрации растворов сахара и постоянной вращения.
8. Мерительный инструмент.

Лаборатория «Атома, твердого тела, ядра» включает:

1. Лабораторная установка для изучения внешнего фотоэффекта.
2. Установка для изучения спектра атома водорода и определения постоянной Ридберга.
3. Установка лабораторная для определения потенциала возбуждения газа.
4. Установка для определения длины пробега частиц в воздухе.
5. Мерительный инструмент.

Аудитории для групповых и индивидуальных консультаций, текущего контроля и промежуточной аттестации включают: интерактивная доска, проектор;
Мультимедийный проектор, экран.

Аудитории для самостоятельной работы с выходом в Интернет и с доступом в электронную информационно-образовательную среду университета.

компьютерные классы; читальные залы библиотеки Персональные компьютеры с пакетом MS Office, с выходом в Интернет и с доступом в электронную информационно-образовательную среду университета включают: персональные компьютеры с пакетом MS Office.

Помещение для хранения и профилактического обслуживания учебного оборудования включают: стеллажи, сейфы для хранения учебного оборудования. Инструменты для ремонта оборудования.

Приложение 1. Учебно-методическое обеспечение самостоятельной работы обучающихся

По дисциплине «Физика» предусмотрена аудиторная и внеаудиторная самостоятельная работа обучающихся.

Аудиторная самостоятельная работа студентов предполагает решение контрольных задач на практических занятиях.

1 семестр

Контрольная работа № 1 «Физические основы механики»

Задание 1. Радиус-вектор частицы определяется выражением $\vec{r} = 3t^2\vec{i} + 4t^2\vec{j} + 7\vec{k}$, где $\vec{i}, \vec{j}, \vec{k}$ - единичные вектора осей X, Y, Z. Вычислить: 1) путь S, пройденный частицей за первые 10с, 2) модуль перемещения Δr за тоже время, 3) ускорение частицы. Ответ: S=500м, $\Delta r=500$ м, $a=10$ м/с².

Задание 2. Колесо вращается вокруг неподвижной оси так, что угол поворота зависит от времени по закону $\varphi = 10 + 20 \cdot t - 2 \cdot t^2$. Найти: 1) среднее значение угловой скорости $\langle \omega \rangle$ за промежутки времени от t=0 до остановки; 2) угловое ускорение в момент остановки колеса; 3) полное ускорение точки, находящейся на расстоянии 0,1м от оси вращения для момента времени t=4 с. Ответ: 10 рад/с; -4 рад/с²; 1,65 м/с².

Задание 3. По горизонтальной поверхности движется тело массой m=2 кг под действием силы F=8 Н, направленной под углом $\alpha=60^\circ$ к горизонту. Найти расстояние, которое прошло тело, если его скорость увеличилась с 3 до 5 м/с, а коэффициент трения между телом и поверхностью равен $\mu=0,1$. Ответ: 5,9 м.

Задание 4. Шар массой $m_1=5$ кг движется со скоростью $V_1=1$ м/с и сталкивается с покоящимся шаром массой $m_2=2$ кг. Определите скорости шаров после удара. Удар считать упругим, прямым и центральным. Ответ: 0,43 м/с, 1,43 м/с.

Задание 5. Уравнение колебаний точки имеет вид: $x = A \cdot \cos \omega(t + \tau)$, где A=0,02 м, $\omega = \pi$ с⁻¹, $\tau = 0,2$ с. Определить период, начальную фазу колебаний точки и её ускорение в момент времени 1 с. Ответ: T=2 с; $\varphi_0=0,2\pi$ рад; $a = 0,16$ м/с².

Контрольная работа № 2 «Статистическая физика и термодинамика»

Задание 1. Найдите для газообразного азота температуру, при которой скоростям молекул $v_1 = 300$ м/с и $v_2 = 600$ м/с соответствуют одинаковые значения функции распределения Максвелла $f(V)$.

Ответ: $T = \frac{m(V_2^2 - V_1^2)}{4k \ln(V_2/V_1)} = 330$ К.

Задание 2. Идеальный двухатомный газ объемом 5 л и давлением 10^6 Па изохорически нагрели, в результате чего средняя кинетическая энергия его молекул увеличилась от 0,0796 эВ до 0,0923 эВ. На сколько при этом изменится давление газа? В дальнейшем газ изотермически расширили до начального давления. Определите объем газа в конце процесса. Ответ: увеличится на 0,16 МПа; 5,8 л.

Задание 3. Определите коэффициент теплопроводности λ азота, если коэффициент динамической вязкости η для него при тех же условиях равен $10 \text{ мкПа}\cdot\text{с}$. Ответ: $\lambda=7,42 \text{ мВт/м}\cdot\text{К}$.

Задание 4. 12 г азота находятся в закрытом сосуде объемом 2 л при температуре 10°C . После нагревания давление в сосуде стало равно 10^4 мм.рт.ст. . Какое количество тепла было сообщено газу при нагревании? Ответ: $4,1 \cdot 10^3 \text{ Дж}$.

Задание 5. Смешали воду массой $m_1=5 \text{ кг}$ при температуре $T_1=280 \text{ К}$ с водой массой $m_2=8 \text{ кг}$ при температуре $T_2=350 \text{ К}$. Найти: 1) температуру θ смеси; 2) изменение ΔS энтропии, происходящее при смешивании. Ответ: 323 К ; $0,3 \text{ кДж/К}$.

Контрольная работа № 3 «Электричество и магнетизм»

Задание 1. Электрическое поле создано двумя зарядами $q_1=10 \text{ нКл}$ и $q_2=-20 \text{ нКл}$, находящимися на расстоянии $d=20 \text{ см}$ друг от друга. Определить напряженность поля в точке А, удаленной от первого заряда на расстояние $r_1=30 \text{ см}$ и от второго на $r_2=50 \text{ см}$. Рассчитать работу, которую необходимо совершить, чтобы перенести точечный заряд $q_0=5 \cdot 10^{-4} \text{ Кл}$ из точки находящийся посередине между зарядами в точку А. Ответ: 280 В/м , $0,42 \text{ Дж}$.

Задание 2. Имеется предназначенный для измерения разности потенциалов до 30 В вольтметр сопротивлением 2 кОм , которого разделена на 150 делений. Какое сопротивление надо взять и как его включить, чтобы этим вольтметром можно было измерить разность потенциалов до 75 В ? Как изменится при этом цена деления вольтметра? Ответ: 3 кОм , $0,5 \text{ В/дел}$.

Задание 3. По проволочной рамке имеющей форму правильного шестиугольника, идет ток силой $I=2 \text{ А}$. При этом в центре рамки образуется магнитное поле с напряженностью 33 А/м . Найти длину проволоки, из которой сделана рамка. Ответ: $l=0,2 \text{ м}$.

Задание 4. Проводящая рамка помещена в однородное магнитное поле с индукцией $B = 0,1 \text{ Тл}$. Плоскость рамки составляет с направлением магнитного поля угол $\varphi = 30^\circ$. Площадь рамки $S = 20 \text{ см}^2$, сопротивление $R = 0,1 \text{ Ом}$. Магнитное поле равномерно уменьшается до нуля за время $\Delta t=0,1 \text{ с}$. Определите: а) среднее значение э.д.с. индукции, возникающей в рамке; б) силу индукционного тока; в) заряд, который протечет по рамке за время уменьшения поля. Ответ: 1 мВ ; 10 мА ; 10^{-3} Кл .

Задание 5. Соленоид с индуктивностью $L=7 \text{ мГн}$ и активным сопротивлением $R=44 \text{ Ом}$ подключили к источнику постоянного напряжения U_0 , а затем к генератору синусоидального напряжения с действующим значением напряжения $U_d=U_0$. При какой частоте генератора мощность, потребляемая соленоидом, будет в 5 раз меньше, чем в первом случае? Ответ: $\nu=2 \text{ кГц}$.

2 семестр

Контрольная работа № 4 «Оптика»

Задание 1. В опыте Юнга на пути одного из интерферирующих лучей помещалась тонкая стеклянная пластинка, вследствие чего центральная светлая полоса смещалась в положение первоначально занятое пятой светлой полосой (не считая центральной). Луч падает на пластинку перпендикулярно. Показатель преломления пластинки $n=1,5$. Длина волны света $\lambda=6 \cdot 10^{-7} \text{ м}$. Какова толщина пластинки? Ответ: 6 мкм .

Задание 2. Белый свет падает нормально на поверхность стеклянной пластинки толщиной $d=0,4$ мкм, находящейся в воздухе. Показатель преломления стекла $n_{ст}=1,5$. Определите: а) геометрическую и оптическую разность хода интерферирующих лучей в проходящем свете, б) длины волн, интенсивность которых ослабляется после прохождения пластинки. Считать, что видимая часть спектра лежит в интервале длин волн от 0,4 до 0,7 мкм. Ответ: 0,8 мкм; 1,2 мкм; 0,48 мкм.

Задание 3. На дифракционную решетку нормально падает пучок света. Красная линия с длиной волны $\lambda=630$ нм видна в спектре третьего порядка под углом $\varphi=71^\circ$. Какая спектральная линия видна под этим же углом в спектре четвертого порядка? Чему равна постоянная решетки? Сколько всего красных максимумов дает эта решетка? Ответ: 473 нм; 2 мкм, 7.

Задание 4. Два поляризатора расположены так, что угол между их плоскостями пропускания равен 25° . Определить, во сколько раз уменьшится интенсивность естественного света при прохождении: 1) через один (первый) поляризатор, 2) через оба поляризатора. Коэффициент поглощения света в поляризаторе равен 0,08. Ответ: 2,17; 2,88.

Задание 5. Какая доля энергии фотона израсходована на работу вырывания электрона, если красная граница фотоэффекта 307 нм и максимальная кинетическая энергия фотоэлектронов 1 эВ? Ответ: 0,8.

Контрольная работа № 5 «Квантовая физика»

Задание 1. Черное тело имеет температуру 3 кК. При охлаждении тела длина волны, приходящаяся на максимум излучательной способности, изменилась на 8 мкм. До какой температуры охладилось тело? Ответ: 323К.

Задание 2. Электрон обладает кинетической энергией 30 эВ. Определить дебройлевскую длину волны электрона. Во сколько раз изменится эта длина волны, если кинетическая энергия уменьшится на 20%? Ответ: $2,2 \cdot 10^{-10}$ м; 1,12.

Задание 3. При движении частицы вдоль оси x скорость ее может быть определена с точностью (ошибкой) до 1 см/с. Найти неопределенность координаты, если частицей является: 1) электрон, 2) дробишка массой 0,1г. Ответ: 0,01м; 10^{-28} м.

Задание 4. Частица находится в бесконечно глубокой одномерной потенциальной яме с минимальную энергию. Какова вероятность обнаружения частицы в средней трети ямы? Ответ: 0,609.

Задание 5. Определить длину волны, соответствующую третьей линии серии Бальмера: 1) В спектре излучения водорода, 2) В спектре излучения иона гелия. Ответ: 434нм, 109нм.

Контрольная работа № 6 «Физика ядра и элементарных частиц»

Задание 1. Первоначальная масса изотопа иридия $^{192}_{77}\text{Ir}$ равна $m = 5$ г, период полураспада 75 суток. Определите, сколько ядер распадется за 1 секунду в этом препарате. Сколько атомов этого препарата останется через 30 суток и во сколько раз изменится активность препарата за это время? Ответ: $1,67 \cdot 10^{15}$; $1,2 \cdot 10^{22}$; 1,32.

Задание 2. Ядро бериллия-7 β -радиоактивно по схеме К-захвата. Записать реакцию. Какие частицы при этом образовались?

Задание 3. Нейтринное излучение звезды может возникнуть за счет объединения двух протонов с образованием дейтона. Запишите реакцию. Какие частицы еще образуются в этой реакции?

Задание 4. Найти энергию связи ядра, которое имеет одинаковое число протонов и нейтронов и радиус, в полтора раза меньший радиуса ядра ^{27}Al . Ответ: ^8Be , 56, 5 МэВ.

Задание 5. Из первоначально свободных протонов и нейтронов образуется ядро углерода-12. Какая энергия при этом выделяется, как она называется? Если синтезировать таким образом 1 г углерода, то сколько всего выделится при этом энергии? Какому количеству нефти эта энергия эквивалентна? Ответ: 92,4 МэВ; 740 ГДж; 16 т.

Внеаудиторная самостоятельная работа обучающихся включает в себя: проработку лекционного материала, изучение литературы по соответствующему разделу; решение индивидуальных домашних задач, подготовку к выполнению лабораторных работ, подготовку к отчету по лабораторным работам, подготовку к семинарам.

Индивидуальные домашние задания (ИДЗ)

1 семестр

Задача № 1 «Кинематика поступательного и вращательного движения»

Точка движется по окружности радиусом 4 м по закону $S = A + Bt^2$, где S – пройденный путь, $A=8$ м, $B=2$ м/с², t - время. Определить, в какой момент времени нормальное ускорение равно 2 м/с². Найти скорость, тангенциальное и полное ускорение точки в этот момент времени

Задача № 2 «Динамика поступательного движения»

На обод маховика диаметром 60см намотан шнур, к концу которого привязан груз с массой 2 кг. Определить момент инерции маховика, если он вращаясь равноускоренно под действием груза, за время $t=3$ с приобрел угловую скорость 9 рад/с.

Задача № 3 «Динамика вращательного движения»

На вал в виде цилиндра с горизонтальной осью вращения намотана невесомая нить, к концу ее прикреплен груз. Какую угловую скорость будет иметь вал спустя 2с после начала движения груза, если масса вала 4 кг, его радиус 20 см, масса груза 0,2 кг, действием сил трения на движущиеся тела можно пренебречь

Задача № 4 «Законы сохранения в механике»

Два малых по размеру груза массами $m_1=10$ кг и $m_2=15$ кг подвешены на нитях одинаковой длины $L=2$ м в одной точке и соприкасаются между собой. Меньший груз был отклонен на угол $\alpha=60^\circ$ и отпущен. Определите высоту, на которую поднимутся оба груза после абсолютно неупругого удара

Задача № 5 «Механические колебания»

Период затухающих колебаний равен $T = 4$ с, логарифмический декремент затухания 1,6; начальная фаза равна 0. Смещение точки в момент $T/4$ равно 4,5 см. Написать уравнение колебаний и построить график в пределах трёх периодов

Задача № 6 «Релятивистская механика»

В лабораторной системе отсчета одна из двух одинаковых частиц с массой m_0 покоится, другая движется со скоростью $v=0,8c$ по направлению к покоящейся частице. Определите релятивистскую массу движущейся частицы в лабораторной системе отсчета и ее кинетическую энергию

Задача № 7 «МКТ. Статистическая физика»

В сосуде объемом 20 л находится смесь водорода и гелия под давлением 2 атм. Общая масса смеси 5 г. Известно, что средняя кинетическая энергия поступательного движения молекул смеси газов равна 0,038 эВ. Во сколько раз отличаются массы водорода и гелия в смеси?

Задача № 8 «Идеальный газ»

3 моля азота плотностью $\rho=1,25\text{кг/м}^3$ изохорно нагрели так, что его давление изменилась с $1,1 \cdot 10^5$ Па до $1,6 \cdot 10^5$ Па, а затем изобарно сжали до первоначальной температуры. Определите температуры в каждом из трех описанных состояний и конечный объем газа. Изобразите графики этих процессов в координатах P-T

Задача № 9 «Первое начало термодинамики»

В результате изотермического расширения азота массой $m=0,2\text{кг}$ при температуре $T=280\text{ К}$ объем его увеличивается в 2 раза. Определить: 1) работу A , совершенную газом при расширении; 2) изменение ΔU внутренней энергии; 3) количество теплоты Q , полученное газом

Задача № 10 «Второе начало термодинамики»

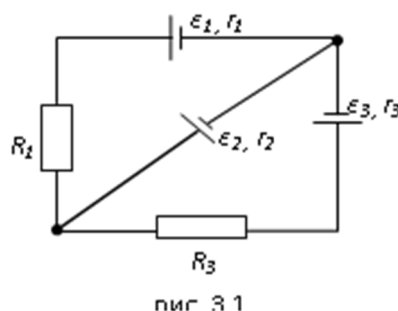
Кусок льда массой $m=200\text{г}$, взятый при температуре $t_1=-10^\circ\text{C}$, был нагрет до температуры $t_2=0^\circ\text{C}$ и расплавлен, после чего образовавшаяся вода была нагрета до температуры $t_3=10^\circ\text{C}$. Определить изменение ΔS энтропии в ходе указанных процессов.

Задача № 11 «Электростатика»

Электрическое поле создано двумя зарядами $q_1=10\text{ нКл}$ и $q_2=-20\text{ нКл}$, находящимися на расстоянии $d=20\text{ см}$ друг от друга. Определить напряженность поля в точке А, удаленной от первого заряда на расстояние $r_1=30\text{ см}$ и от второго на $r_2=50\text{ см}$. Рассчитать работу, которую необходимо совершить, чтобы перенести точечный заряд $q_0=5 \cdot 10^{-4}\text{ Кл}$ из точки находящийся посередине между зарядами в точку А.

Задача № 12 «Постоянный электрический ток»

На рис. 3.1. $\varepsilon_1=1,0\text{ В}$, $\varepsilon_2=2,0\text{ В}$, $\varepsilon_3=3,0\text{ В}$, $r_1=1,0\text{ Ом}$, $r_2=0,5\text{ Ом}$, $r_3=1/3\text{ Ом}$, $R_1=1,0\text{ Ом}$, $R_3=1/3\text{ Ом}$. Определите: 1) силы тока во всех участках цепи; 2) тепловую мощность, которая выделяется на сопротивлении R_3 .



Задача № 13 «Электромагнетизм»

По двум бесконечно длинным прямым параллельным проводам, находящимся на расстоянии $R=10,0\text{ см}$ друг от друга в вакууме, текут токи $I_1=20,0\text{ А}$ и $I_2=30,0\text{ А}$ одинакового направления. Определите магнитную индукцию поля B , создаваемого токами в точках, лежащих на прямой, соединяющих оба провода, если: 1) точка С лежит на расстоянии $r_1=2,0\text{ см}$ левее левого провода; 2) точка Д лежит на расстоянии $r_2=3,0\text{ см}$ правее правого провода; 3) точка Г лежит на расстоянии $r_3=4,0\text{ см}$ правее левого провода.

Задача № 14 «Электромагнетизм»

Электрон, ускоренный напряжением $U=200$ В, влетает в однородное магнитное поле с индукцией $B=0,7 \cdot 10^{-4}$ Тл перпендикулярно силовым линиям. Найти радиус окружности, по которой движется электрон в магнитном поле и период его вращения. Ответ: $R=0,68$ м; $T=5,1 \cdot 10^{-7}$ с.

Задача № 15 «Электромагнитная индукция»

Проводящий плоский контур, имеющий форму окружности радиуса $r = 0,05$ м помещен в однородное магнитное поле так, что линии магнитной индукции поля направлены перпендикулярно плоскости контура. Сопротивление контура $R = 5$ Ом. Магнитная индукция меняется по закону $B = kt$, где $k = 0,2$ Тл/с. Определите: а) э.д.с. индукции, возникающую в этом контуре; б) силу индукционного тока; в) заряд, который протечет по контуру за первые 5 секунд изменения поля.

2 семестр

Задача № 16 «Интерференция света от точечных источников»

В опыте Юнга на пути одного из интерферирующих лучей помещалась тонкая стеклянная пластинка, вследствие чего центральная светлая полоса смещалась в положение первоначально занятое пятой светлой полосой (не считая центральной). Луч падает на пластинку перпендикулярно. Показатель преломления пластинки $n=1,5$. Длина волны $\lambda=6 \cdot 10^{-7}$ м. Какова толщина пластинки?

Задача № 17 «Интерференция света в тонких пленках»

Плоскопараллельная стеклянная пластинка толщиной $d=1,2$ мкм и с показателем преломления $n_{ст}=1,5$ помещена между двумя средами с показателями преломления n_1 и n_2 . Свет с длиной волны $\lambda=0,6$ мкм падает нормально на пластинку. Определите оптическую разность хода волн, отраженных от верхней и нижней поверхностей пластинки и определите, усиление или ослабление интенсивности происходит при интерференции в следующих случаях: а) $n_1 < n < n_2$; б) $n_1 < n > n_2$

Задача № 18 «Дифракция Френеля»

Найдите радиусы первых трех зон Френеля для плоской волны, если расстояние от волновой поверхности до точки наблюдения 1 м. Длина волны $\lambda=500$ нм.

Задача № 19 «Дифракция Фраунгофера»

Найти наибольший порядок спектра для желтой линии натрия с длиной волны $\lambda=589$ нм, если постоянная дифракционной решетки $d=2$ мкм. Сколько всего максимумов дает эта решетка? Под каким углом φ наблюдается последний максимум?

Задача № 20 «Поляризация света»

Угол между плоскостями пропускания двух поляризаторов равен 50° . Естественный свет, проходя через такую систему, ослабляется в 8 раз. Пренебрегая потерями света при отражении, определить коэффициент поглощения света в поляризаторах

Задача № 21 «Фотоэффект»

Определить наименьший задерживающий потенциал, необходимый для прекращения эмиссии с поверхности фотокатода, если он освещается излучением с длиной волны $0,4$ мкм, а красная граница для материала катода равна $0,67$ мкм

Задача № 22 «Тепловое излучение»

Черное тело нагрели от температуры 600К до 2400К. Во сколько раз увеличилась общая тепловая энергия, излучаемая телом? На сколько изменилась длина волны, соответствующая максимуму энергии излучения и спектральный состав излучения?

Задача № 23 «Эффект Комптона»

Фотон с энергией 1 МэВ рассеялся на свободном покоившемся электроне. Найти кинетическую энергию электрона отдачи, если в результате рассеяния длина волны фотона изменилась на 25%

Задача № 24 «Элементы квантовой механики»

При движении частицы вдоль оси x скорость ее может быть определена с точностью (ошибкой) до 1 см/с. Найти неопределенность координаты, если частицей является: 1) электрон, 2) дробинка массой 0,1г

Задача № 25 «Частица в потенциальной яме»

Собственная функция, описывающая состояние микрочастицы в бесконечно глубокой

потенциальной яме шириной l , имеет вид $\psi_n(x) = C \sin \frac{\pi n}{l} x$. Используя условия нормировки, определить постоянную C .

Задача № 26 «Атом по теории Бора»

Вычислить радиусы первых трех орбит электрона в атоме водорода

Задача № 27 «Излучение атома»

Найти наибольшую и наименьшую длины волн серии Пашена в спектре излучения водорода. Сравнить полученные значения с длинами волн видимого излучения

Задача № 28 «Радиоактивность»

Первоначальная масса изотопа иридия ${}^{192}_{77}\text{Ir}$ равна $m = 5$ г, период полураспада 75 суток. Определите, сколько ядер распадется за 1 секунду в этом препарате. Сколько атомов этого препарата останется через 30 суток и во сколько раз изменится активность препарата за это время?

Задача № 29 «Законы сохранения в ядерных реакциях»

В центре солнца протекает термоядерная реакция синтеза гелия из водорода, в которой из четырех протонов образуется ядро He^4 и два позитрона. Запишите эту реакцию. Какие еще частицы образуются в ней?

Задача № 30 «Энергия в ядерных реакциях»

Какое количество U^{235} «выгорает» за год в ядерном реакторе с электрической мощностью 1 ГВт и к.п.д. 38%? Считать, что распад ядер урана под действием тепловых нейтронов приводит к образованию изотопов ксенона-141, стронция-92 и трех вторичных нейтронов.

Перечень лабораторных работ

1 семестр

- № 1 «Применение законов сохранения для определения скорости полета пули»
- № 4 «Исследование вращательного движения твердого тела вокруг неподвижной оси»
- № 5 «Определение характеристик затухающих колебаний физического маятника»
- № 11 «Изучение статистических закономерностей»
- № 14 «Определение показателя адиабаты методом Клемана и Дезорма»
- № 21 «Исследование электростатического поля с помощью зонда»
- № 24 «Расширение предела измерения амперметра постоянного тока»
- № 28 «Определение индуктивности катушки и магнитной проницаемости ферромагнитного тела»

2 семестр

- № 32 «Определение радиуса кривизны линзы и полосы пропускания светофильтра с помощью колец Ньютона»
- № 34 «Определение длины световой волны и характеристик дифракционной решетки»
- № 35 «Определение концентрации растворов сахара и постоянной вращения»
- № 36 «Снятие вольтамперных характеристик фотоэлемента и определение его чувствительности»
- № 41 «Исследование возбуждения атомов газа»
- № 42 «Определение главных квантовых чисел возбужденных состояний атома водорода»
- № 51 «Изучение закономерностей α -распада»
- № 53 «Определение максимальной энергии β -частиц и идентификация радиоактивных препаратов»

Перечень вопросов к семинарским занятиям

1 семестр

Семинар № 1 "Кинематика и динамика поступательного и вращательного движений"

1. Механическое движение. Система отсчёта. Материальная точка.
2. Основные кинематические характеристики: перемещение, путь, скорость, ускорение: полное, нормальное, тангенциальное. Классификация движений.
3. Поступательное движение. Центр масс. Вращательное движение.
4. Основные кинематические характеристики вращательного движения: угол поворота, угловое перемещение, угловая скорость и ускорение.
5. Связь между линейными и угловыми характеристиками движения. Равномерное и равнопеременное вращательное движения. Понятие состояния физической системы и уравнения движения.
6. Динамические характеристики: сила, силовое поле, масса, импульс.
7. Законы Ньютона.
8. Динамические характеристики вращательного движения: момент силы относительно оси, момент инерции. Основной закон динамики вращательного движения.

Семинар № 2 "Закон сохранения"

1. Закон сохранения импульса, условия его выполнения.
2. Закон сохранения момента импульса, условия его выполнения.
3. Работа, мощность. Работа гравитационной силы, консервативные силы. Работа результирующей силы. Кинетическая энергия, теорема об изменении кинетической энергии.
4. Закон сохранения полной механической энергии, условия его выполнения.

5. Соударение двух тел.
6. Связь законов сохранения со свойствами пространства и времени.

Семинар № 3 "Колебания и волны"

1. Физический и математический маятники.
2. Гармонические, свободные, вынужденные и затухающие колебания: дифференциальные, графики, характеристики.
3. Явление резонанса и его физическая природа. Примеры.
4. Волна. Виды волн. Механизм образования механических волн.
5. Звуковая волна. Механизм образования звука в газах.
6. Волновое уравнение.
7. Стоячая волна. Механизм образования. Уравнение стоячей волны.

Семинар № 4 "Статистические методы описания макросистем"

1. Вероятности появления дискретной и непрерывной случайных величин.
2. Функция распределения вероятностей. Условие нормировки.
3. Среднее и наиболее вероятное значение случайной величины.
4. Статистические методы. Основные положения статистической физики.
5. Распределение Максвелла, Гаусса, Больцмана.

Семинар № 5 "Термодинамические методы описания макросистем"

1. Уравнение состояния идеального газа.
2. Распределение энергии по степеням свободы. Средняя энергия молекулы.
3. Теплоемкость. Молярная и удельная теплоемкости. Уравнение Майера.
4. Внутренняя энергия как функция состояния системы. Работа как функция процесса.
5. Первое начало термодинамики.
6. Изопроцессы: изотермический, изохорический, изобарический, адиабатический, политропический.
7. Энтропия. Свойства энтропии изолированной системы.
8. Второй закон термодинамики.
9. Цикл Карно. К.п.д. цикла Карно.

Семинар № 6 "Электростатическое поле"

1. Электростатическое поле. Электрический заряд. Закон Кулона.
2. Напряженность электростатического поля. Принцип суперпозиции.
3. Поток вектора \vec{E} . Теорема Гаусса.
4. Потенциальность электростатического поля. Теорема о циркуляции.
5. Связь между напряженностью и потенциалом.
6. Геометрическое описание поля. Силовые линии. Эквипотенциальные поверхности.

Семинар № 7 "Постоянный ток. Цепи постоянного тока"

1. Электрический ток. Плотность тока. Уравнение непрерывности.
2. Закон Ома для однородного участка цепи.
3. Сопротивление проводника. Соединение сопротивлений.
4. Закон Ома для неоднородного участка цепи. Сторонние силы. ЭДС.
5. Правила Кирхгофа.
6. Мощность тока. Закон Джоуля-Ленца.

Семинар № 8 "Магнитное поле. Электромагнитная индукция"

1. Источники магнитного поля. Магнитное поле движущегося заряда и проводника с током. Закон Био-Савара.
2. Поток и циркуляция вектора индукции магнитного поля. Теорема Гаусса и теорема о циркуляции.
3. Сила Лоренца. Движение заряженной частицы в магнитном поле.
4. Сила Ампера.
5. Закон электромагнитной индукции Фарадея. Правило Ленца.
6. Вихревое электрическое поле.
7. Явление самоиндукции. Индуктивность. Соленоид.

2 семестр

Семинар № 9 "Интерференция и дифракция света"

1. Электромагнитные волны.
2. Когерентность и монохроматичность световых волн.
3. Интерференция света от двух источников.
4. Интерференция света от плоскопараллельной пластинки.
5. Интерференция света от пластинки переменной толщины. Кольца Ньютона.
6. Применение интерференции света.
7. Явление дифракции. Особенность дифракции световых волн. Дифракция Френеля и Фраунгофера.
8. Принцип Гюйгенса-Френеля. Упрощение вычислений с помощью векторной диаграммы.
9. Дифракция Френеля на круглом отверстии. Зоны Френеля.
10. Дифракция Фраунгофера на узкой прямолинейной щели. Условия максимума и минимума. Зависимость интенсивности света от угла дифракции.
11. Дифракционная решетка. Основные характеристики дифракционной решетки. Условия главных максимумов и минимумов и добавочных минимумов.

Семинар № 10 "Поляризация света"

1. Поляризация света. Естественный и поляризованный свет.
2. Поляризация света при отражении и преломлении. Закон Брюстера.
3. Поляризация при двойном лучепреломлении. Свойства обыкновенного и необыкновенного лучей.
4. Поляризационные призмы. Призма Николя.
5. Закон Малюса. Анализ поляризованного света.
6. Оптически активные вещества. Вращение плоскости поляризации света.

Семинар № 11 "Квантовая оптика"

1. Тепловое излучение абсолютно черного тела. Закон Стефана – Больцмана. Закон смещения Вина.
2. Корпускулярно-волновой дуализм света. Энергия и импульс фотона. Давление света.
3. Фотоэффект. Законы фотоэффекта. Формула Эйнштейна.
4. Эффект Комптона. Формула Комптона.
5. Волновые свойства частиц. Длина волны де Бройля. Принцип неопределенности Гейзенберга.

Семинар № 12 "Строение атома"

1. Модели атома. Планетарная модель атома.
2. Постулаты Бора.
3. Излучение атома водорода и водородоподобных систем. Спектральные серии.
4. Формула Бальмера.
5. Спектры многоэлектронных атомов. Закон Мозли.

Семинар № 13 "Основные положения квантовой механики"

1. Квантовые состояния. Волновая функция и ее физический смысл. Принцип суперпозиции. Уравнение Шредингера, квантовые уравнения движения.
2. Некоторые задачи квантовой механики. Частица в бесконечно глубокой потенциальной яме. Квантование энергии.
3. Квантовые числа, характеризующие положение электрона в атоме. Квантование энергии. Квантование момента импульса. Спин электрона.
4. Схема энергетических уровней атома водорода. Правила отбора при атомных переходах.
5. Границы применимости квантовой механики.

Семинар № 14 "Атомные ядра, их свойства. Радиоактивность"

1. Явление радиоактивности.
2. Основной закон радиоактивного распада. Радиоактивные ряды.
3. Состав и характеристики атомного ядра. Ядерные силы.
4. Капельная и оболочечная модели ядер.
5. Масса и энергия связи ядра. Удельная энергия связи. Радиус ядра.

Семинар № 15 "Ядерные реакции"

1. Ядерные реакции.
2. Энергия ядерной реакции.
3. Уравнение и энергетическое условие α -распада. Связь энергии α -частицы с периодом полураспада. Туннельный эффект при α -распаде. Спектр α -частиц.
4. Характер спектра γ -излучения. Процессы взаимодействия γ -квантов с веществом. Зависимость интенсивности γ -излучения от толщины слоя вещества. Сравнение проникающей способности различных видов излучения.
5. Три вида β -распада. Энергетический спектр β -частиц. Гипотеза нейтрино. Законы сохранения при β -распаде. Лептоны. Лептонный заряд.

Приложение 2.

7 Оценочные средства для проведения промежуточной аттестации

а) Планируемые результаты обучения и оценочные средства для проведения промежуточной аттестации:

Код компетенции	Индикатор достижения компетенции	Оценочные средства
УК-1 Способен осуществлять критический анализ проблемных ситуаций на основе системного подхода, вырабатывать стратегию действий		
УК-1.1	Анализирует проблемную ситуацию как систему, выявляя ее составляющие и связи между ними	Перечень теоретических вопросов к экзамену: <ol style="list-style-type: none">1. Материальная точка. Система отсчета. Траектория, длина пути, вектор перемещения. Скорость.2. Ускорение и его составляющие. Угловая скорость и угловое ускорение.3. Законы Ньютона. Закон сохранения импульса. Центр масс.4. Момент инерции. Момент силы. Уравнение динамики вращательного движения твердого тела. Момент импульса и закон его сохранения.5. Энергия, работа, мощность. Кинетическая и потенциальная энергия.6. Закон сохранения энергии. Кинетическая энергия вращения.7. Гармонические колебания и их характеристики. Гармонический осциллятор. Пружинный, физический и математический маятники.8. Затухающие и вынужденные колебания.9. Волновые процессы. Продольные и поперечные волны. Уравнение бегущей волны. Волновое уравнение. Звуковые волны.10. Параметры состояния термодинамической системы. Законы идеального газа.11. Уравнение Менделеева-Клапейрона. Основное уравнение МКТ. Закон Максвелла о распределении молекул идеального газа по скоростям.12. Распределение Больцмана. Среднее число столкновений и средняя длина свободного пробега. Явления переноса.
УК-1.2	Критически оценивает надежность источников информации, работает с противоречивой информацией из разных источников, определяет пробелы в информации, необходимой для решения проблемной ситуации, и проектирует процессы по их устранению	
УК-1.2	Разрабатывает и содержательно аргументирует стратегию решения проблемной ситуации на основе системного и междисциплинарного подходов; строит сценарии реализации стратегии, определяя	

Код компетенции	Индикатор достижения компетенции	Оценочные средства
	возможные риски и предлагая пути их устранения	<p>13. Число степеней свободы. Первое начало термодинамики. Теплоемкость.</p> <p>14. Применение первого начала термодинамики к изопроцессам. Адиабатический и политропный процессы.</p> <p>15. Круговой процесс (цикл). Обратимые и необратимые процессы.</p> <p>16. Энтропия. Второе начало термодинамики. Цикл Карно.</p> <p>17. Электрический заряд. Закон сохранения электрического заряда. Закон Кулона. Напряженность электростатического поля. Принцип суперпозиции электростатических полей.</p> <p>18. Теорема Гаусса для электростатического поля. Потенциал электростатического поля. Связь напряженности и потенциала электростатического поля.</p> <p>19. Типы диэлектриков. Напряженность поля в диэлектрике. Проводники в электрическом поле.</p> <p>20. Электрическая емкость уединенного проводника. Конденсаторы.</p> <p>21. Сила и плотность тока. Сторонние силы. ЭДС и напряжение.</p> <p>22. Закон Ома. Сопротивление проводников.</p> <p>23. Работа и мощность тока. Закон Джоуля-Ленца. Правила Кирхгофа для разветвленной цепи.</p> <p>24. Переменный ток на участке цепи, содержащем резистор, катушку индуктивности и конденсатор. Мощность, выделяемая в цепи переменного тока.</p> <p>25. Магнитное поле и его характеристики. Закон Био-Савара-Лапласа.</p> <p>26. Закон Ампера. Действие магнитного поля на движущийся заряд. Явление электромагнитной индукции. Закон Фарадея.</p> <p>27. Индуктивность контура. Самоиндукция. Энергия магнитного поля.</p> <p>28. Взаимная индукция. Трансформаторы.</p> <p>29. Ток смещения. Уравнения Максвелла.</p> <p>30. Электромагнитная волна и ее свойства. Энергия, импульс и давление электромагнитной волны.</p> <p>31. Диамагнетики. Парамагнетики. Ферромагнетики.</p> <p>32. Основные законы оптики. Полное отражение.</p> <p>33. Тонкие линзы. Изображение предметов с помощью линз.</p> <p>34. Когерентность и монохроматичность световых волн. Интерференция света.</p> <p>35. Методы наблюдения интерференции света. Интерференция света в тонких пленках.</p> <p>36. Принцип Гюйгенса-Френеля. Зоны Френеля.</p>

Код компетенции	Индикатор достижения компетенции	Оценочные средства
		<p>37. Дифракция Френеля на круглом отверстии и диске.</p> <p>38. Дифракция Фраунгофера на одной щели и на дифракционной решетке.</p> <p>39. Естественный и поляризованный свет. Закон Брюстера.</p> <p>40. Двойное лучепреломление. Вращение плоскости поляризации.</p> <p>41. Тепловое излучение и его характеристики. Закон Кирхгофа. Закон Стефана-Больцмана и смещения Вина.</p> <p>42. Виды фотоэффекта. Законы внешнего фотоэффекта. Уравнение Эйнштейна для внешнего фотоэффекта.</p> <p>43. Масса и импульс фотона. Давление света. Эффект Комптона. Единство корпускулярных и волновых свойств электромагнитного излучения.</p> <p>44. Модели атома Томсона и Резерфорда. Линейчатый спектр атома водорода. Спектральные серии атома водорода.</p> <p>45. Постулаты Бора. Опыты Франка и Герца. Спектр атома водорода по Бору.</p> <p>46. Соотношение неопределенностей Гейзенберга. Волновая функция и ее статистический смысл.</p> <p>47. Уравнение Шредингера. Частица в одномерной прямоугольной «потенциальной яме» с бесконечно высокими стенками.</p> <p>48. Прохождение частицы сквозь потенциальный барьер (туннельный эффект).</p> <p>49. Состояние атома водорода в квантовой механике. Уравнение Шредингера для атома водорода и его решение.</p> <p>50. Размер, состав и заряд атомного ядра. Массовое и зарядовое числа. Дефект массы и энергия связи ядра.</p> <p>51. Ядерные силы, их свойства. Квантовый механизм взаимодействия нуклонов в ядре.</p> <p>52. Капельная и оболочечная модели ядра, их особенности. «Магические числа» и «магические ядра».</p> <p>53. Радиоактивность. Естественная и искусственная радиоактивность. Закон радиоактивного распада. Активность радиоактивного вещества.</p> <p>54. Альфа-распад. Правила смещения. Законы сохранения при распаде. Взаимодействие альфа излучения с веществом.</p> <p>55. Бета-распад, его виды. Правила смещения. Законы сохранения при распаде. Взаимодействие бета излучения с веществом.</p> <p>56. Гамма излучение, его свойства. Гамма-спектр радиоактивного элемента. Взаимодействия гамма излучения с веществом.</p>

Код компетенции	Индикатор достижения компетенции	Оценочные средства
		<p>57. Ядерные реакции и их основные типы. Реакция деления ядра. Цепная реакция. Термоядерная реакция.</p> <p>Примерные практические задачи для экзамена:</p> <ol style="list-style-type: none"> 1. Однородный стержень массой $M = 0,5$ кг подвешен на горизонтальной оси, проходящей через его верхний конец. В точку, отстоящую от оси на $2/3$ длины стержня, ударяется пуля массой $m = 6$ г, летящая горизонтально со скоростью $v_0 = 10^3$ м/с, и застревает в нем. Определить скорость нижнего конца стержня сразу после удара. 2. На обод колеса в форме тонкого обруча массой $M = 0,4$ кг, который может вращаться вокруг своей оси, намотан шнур, к концу которого подвешен груз массой $m = 90$ г. На какую высоту опустится груз через $t = 1$ с после начала движения. 3. Логарифмический декремент некоторой колеблющейся системы $\lambda = 0,02$. Определите, во сколько раз уменьшится энергия этой колебательной системы за время, соответствующее 75 полным колебаниям. 4. В системе K' покоится стержень, собственная длина l_0 которого равна 1 м. Стержень расположен так, что составляет угол $\varphi_0 = 45^\circ$ с осью x'. Определить длину l стержня и угол φ в системе K, если скорость v системы K' относительно K равна 0,8 с. 5. Материальная точка массой $m = 0,2$ кг совершает гармонические колебания по закону $x = 0,1 \cos(\pi t/2 - \pi/4)$ м. Найти максимальную потенциальную энергию точки. 6. На полу стоит тележка в виде длинной доски, снабженной легкими колесами. На одном конце доски стоит человек. Масса человека $M = 60$ кг, масса доски $m = 20$ кг. С какой скоростью и (относительно пола) будет двигаться тележка, если человек пойдет вдоль доски со скоростью (относительно доски) $v = 1$ м/с? Массой колес пренебречь. Трение во втулках не учитывать. 7. Боек свайного молота массой $m_1 = 500$ кг падает с некоторой высоты на сваю массой $m_2 = 100$ кг. Найти КПД η удара бойка, считая удар неупругим. Изменением потенциальной энергии сваи при углублении ее пренебречь. 8. Гелий смешали с неизвестным газом. Показатель адиабаты полученной смеси оказался равен 1,38. Сколько атомов составляют молекулу неизвестного газа смеси? 9. Некоторое количество гелия расширяется сначала адиабатически, а затем изобарически. Конечная температура газа равна начальной. При адиабатном расширении газ совершил

Код компетенции	Индикатор достижения компетенции	Оценочные средства
		<p>работу, равную 4,5 кДж. Нарисуйте график процесса. Какое количество теплоты поглотил газ за весь процесс?</p> <p>10. Смешали воду массой $m_1=5$ кг при температуре $T_1=280$ К с водой массой $m_2=8$ кг при температуре $T_2=350$ К. Найти изменение ΔS энтропии, происходящее при смешивании.</p> <p>11. Идеальный двухатомный газ, содержащий количество вещества $\nu=1$ моль и находящийся под давлением $p_1=0,1$ МПа при температуре $T_1=300$ К, нагревают при постоянном объеме до давления $p_2=0,2$ МПа. После этого газ изотермически расширился до начального давления и затем изобарно был сжат до начального объема V_1. Построить график цикла. Определить термический КПД η цикла.</p> <p>12. Одинаковые частицы массой $m=10^{-12}$ г каждая распределены в однородном гравитационном поле напряженностью $G=0,2$ мкН/кг. Определить отношение p_1/p_2 концентраций частиц, находящихся на эквипотенциальных уровнях, отстоящих друг от друга на $\Delta z=10$ м. Температура T во всех слоях считается одинаковой и равной 290 К.</p> <p>13. Определите, при какой температуре газа, состоящего из смеси азота и кислорода, наиболее вероятные скорости молекул азота и кислорода будут отличаться друг от друга на $\Delta v = 30$ м/с?</p> <p>14. Зная функцию распределения молекул по скоростям в некотором молекулярном пучке $f(v) = \frac{m^2}{2k^2T^2} v^3 \exp\left(-\frac{m v^2}{2kT}\right)$, найти выражения для наиболее вероятной скорости v_v.</p> <p>15. Два одинаковых проводящих заряженных шара находятся на расстоянии $r=60$ см. Сила отталкивания F_1 шаров равна 70 мкН. После того как шары привели в соприкосновение и удалили друг от друга на прежнее расстояние, сила отталкивания возросла и стала равной $F_2=160$ мкН. Вычислить заряды Q_1 и Q_2, которые были на шарах до их соприкосновений. Диаметр шаров считать много меньшим расстояния между ними.</p>

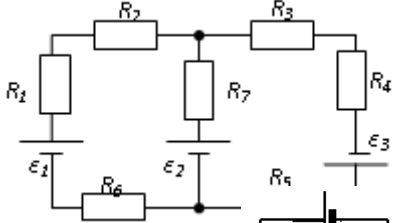
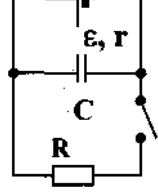
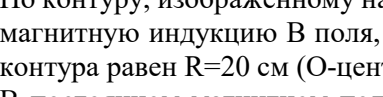
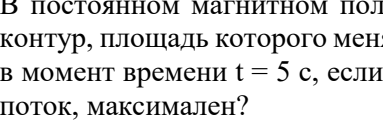
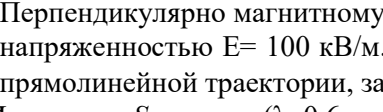
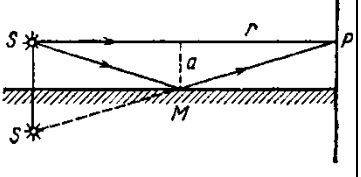
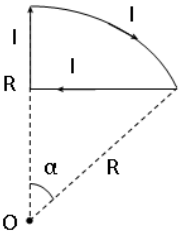
Код компетенции	Индикатор достижения компетенции	Оценочные средства
		<p>16. Две тонкостенные концентрические сферы с радиусами $R_1 = 0,2$ м и $R_2 = 0,4$ м несут на себе заряды с поверхностными плотностями $\sigma_1 = 1$ нКл/м² и $\sigma_2 = 3$ нКл/м² соответственно. Пространство между ними заполнено средой с диэлектрической проницаемостью $\epsilon = 2$. Чему равна напряженность электрического поля в точках, отстоящих от центра на расстояния $r_1 = 0,1$ м и $r_2 = 0,3$ м.</p> <p>17. В схеме, изображенной на рисунке, $\epsilon_1=10,0$В, $\epsilon_2=20,0$ В, $\epsilon_3=30,0$В, $R_1=1,0$ Ом, $R_2=2,0$ Ом, $R_3= 3,0$ Ом, $R_4=4,0$ Ом, $R_5=5,0$ Ом, $R_6=6,0$ Ом и $R_7=7,0$ Ом. Внутреннее сопротивление источников пренебрежимо мало. Определите величины токов во всех участках цепи и работу, совершенную вторым источником за промежуток времени $\Delta t=0,1$ с.</p> <p>18. Конденсатор подключен к батарее с ЭДС $\epsilon = 8$ В и внутренним сопротивлением $r = 2$ Ом как показано на рисунке. Сопротивление резистора $R = 2$ Ом. Какой должна быть емкость конденсатора, чтобы после замыкания ключа энергия конденсатора уменьшилась на 48 мкДж?</p> <p>19. По контуру, изображенному на рисунке, идет ток силой $I=100$А. Определить магнитную индукцию B поля, создаваемую этим током в точке O. Радиус изогнутой части контура равен $R=20$ см (O-центр кривизны контура), а угол $\alpha=60^\circ$.</p> <p>20. В постоянном магнитном поле с индукцией $B = 5$ Тл находится замкнутый проводящий контур, площадь которого меняется по закону $S(t) = (4 + 0,2t)$ см². Чему равна ЭДС индукции в момент времени $t = 5$ с, если контур расположен так, что пронизывающий его магнитный поток, максимален?</p> <p>21. Перпендикулярно магнитному полю с индукцией $B=0,1$ Тл возбуждено электрическое поле напряженностью $E= 100$ кВ/м. Перпендикулярно обоим полям движется, не отклоняясь от прямолинейной траектории, заряженная частица. Вычислить скорость v частицы.</p> <p>22. Источник S света ($\lambda=0,6$ мкм) и плоское зеркало M расположены, как показано на рис. 30.7 (зеркало Ллойда). Что будет наблюдаться в точке P экрана, где сходятся лучи SP и SMP, – свет или темнота, если $SP =r=2$ м, $a=0,55$ мм, $SM = MP$?</p>      

Рис. 30.7

Код компетенции	Индикатор достижения компетенции	Оценочные средства
		<p>23. Между двумя плоскопараллельными стеклянными пластинками положили очень тонкую проволочку, расположенную параллельно линии соприкосновения пластинок и находящуюся на расстоянии $l=75$ мм от нее. В отраженном свете ($\lambda=0,5$ мкм) на верхней пластинке видны интерференционные полосы. Определить диаметр d поперечного сечения проволочки, если на протяжении $a=30$ мм насчитывается $m=16$ светлых полос.</p>  <p>24. С помощью дифракционной решетки с периодом $d=20$ мкм требуется разрешить дублет натрия ($\lambda_1=589,0$ нм и $\lambda_2=589,6$ нм) в спектре второго порядка. При какой наименьшей длине l решетки это возможно?</p> <p>25. На пути частично-поляризованного света, степень поляризации P которого равна 0,6, поставили анализатор так, что интенсивность света, прошедшего через него, стала максимальной. Во сколько раз уменьшится интенсивность света, если плоскость пропускания анализатора повернуть на угол $\alpha = 30^\circ$?</p> <p>26. В спектре излучения огненного шара радиусом 100 м, возникающего при ядерном взрыве, максимум энергии излучения приходится на длину волны 0,289 мкм. Какова температура шара? Определите максимальное расстояние, на котором будут воспламеняться деревянные предметы, если их поглощательная способность равна 0,7, а теплота воспламенения 5 Дж/см². Время излучения принять равным 10⁻²с.</p> <p>27. Уединенный цинковый шарик радиусом 1 см находится в вакууме и длительное время освещается ультрафиолетовым излучением с длиной волны 0,25 мкм. Определить число недостающих электронов в объеме шарика.</p> <p>28. Фотон с энергией 0,28 МэВ в результате рассеяния на покоившемся свободном электроне уменьшил свою энергию до 133,7 кэВ. Найти импульс и направление распространения электрона отдачи.</p> <p>29. Поток энергии Φ_e, излучаемый электрической лампой, равен 600 Вт. На расстоянии $r = 1$ м от лампы перпендикулярно падающим лучам расположено круглое плоское зеркальце диаметром $d=2$см. Принимая, что излучение лампы одинаково во всех направлениях и что зеркальце полностью отражает падающий на него свет, определить силу F светового давления на зеркальце.</p> <p>30. На основе теории атома Бора найти импульс электрона в атоме водорода, если индукция магнитного поля, созданного им в центре орбиты при вращении, равна 0,39 Тл.</p>

Код компетенции	Индикатор достижения компетенции	Оценочные средства
		<p>31. Во сколько раз изменяется дебройлевская длина волны электрона при переходе его в атоме водорода из основного энергетического состояния в первое возбужденное?</p> <p>32. Из теории Бора для атома водорода следует, что стационарными для электронов атома являются такие орбиты, на длине которых укладывается целое число длин дебройлевских волн. Исходя из этого, найдите числовые значения момента импульса электрона в атоме водорода на первых трех боровских орбитах.</p> <p>33. Электрон в атоме водорода описывается в основном состоянии волновой функцией $\psi(r) = Ce^{-r/a}$. Определить отношение вероятностей ω_1/ω_2 пребывания электрона в сферических слоях толщиной $\Delta r = 0,01 a$ и радиусами $r_1 = 0,5 a$ и $r_2 = 1,5 a$.</p> <p>34. Больному ввели внутривенно раствор объемом 1 см^3, содержащий искусственный радиоизотоп натрия ${}^{24}_{11}\text{Na}$ активностью $A_0 = 2000 \text{ с}^{-1}$. Активность крови объемом 1 см^3, взятой через 5 часов, оказалась $A = 0,27 \text{ с}^{-1}$. Найдите объем крови человека. Период полураспада используемого изотопа равен 15 час.</p> <p>35. Энергия связи $E_{св}$ ядра, состоящего из двух протонов и одного нейтрона, равна 7,72 МэВ. Определить массу m_a нейтрального атома, имеющего это ядро.</p> <p>36. Во Франции начато строительство международного термоядерного реактора, в котором предполагается поводить управляемую реакцию ${}_1\text{H}^2 + {}_1\text{H}^2$, в которой образуется изотоп гелия и нейтрон. Какую мощность будет иметь такой реактор, если в нем будет «выгорать» 1 мг тяжелого водорода в секунду?</p> <p>37. Альфа частица с кинетической энергией $K = 5,3 \text{ МэВ}$ возбуждает реакцию ${}^9\text{Be}(\alpha, n){}^{12}\text{C}$, энергия которой $Q = 5,7 \text{ МэВ}$. Найти кинетическую энергию нейтрона, вылетевшего под прямым углом к направлению движения α-частицы.</p> <p>Примерные лабораторные работы:</p> <ol style="list-style-type: none"> 1. Применение законов сохранения для определения скорости полета пули 2. Определение моментов инерции тел с помощью крутильного маятника. Проверка теоремы Штейнера 3. Исследование вращательного движения твердого тела вокруг неподвижной оси 4. Определение характеристик затухающих колебаний физического маятника 5. Определение скорости звука в воздухе методом стоячей волны 6. Изучение статистических закономерностей

Код компетенции	Индикатор достижения компетенции	Оценочные средства
		<ol style="list-style-type: none"> 7. Определение коэффициента вязкости воздуха 8. Определение показателя адиабаты методом Клемана и Дезорма 9. Исследование изменения температуры в адиабатическом процессе и определение коэффициента Пуассона 10. Проверка закона возрастания энтропии в неравновесной системе 11. Экспериментальное определение газовой постоянной 12. Исследование электростатического поля с помощью зонда 13. Измерение электродвижущей силы источника тока 14. Шунтирование миллиамперметра 15. Измерение емкостей методом мостиковой схемы и расчет емкостных сопротивлений в цепях переменного тока 16. Изучение резонанса напряжений и определение индуктивности методом резонанса 17. Определение индуктивности катушки и магнитной проницаемости ферромагнитного тела 18. Определение радиуса кривизны линзы и полосы пропускания светофильтра с помощью колец Ньютона 19. Интерферометрические измерения на основе опыта Юнга 20. Определение геометрических размеров при помощи бипризмы Френеля 21. Определение длины световой волны и характеристик дифракционной решетки 22. Определение концентрации растворов сахара и постоянной вращения 23. Изучение внешнего фотоэффекта и определение постоянной Планка 24. Изучение закономерностей альфа-распада 25. Изучение гамма-спектра радиоактивного источника 26. Определение максимальной энергии бета-частиц и идентификации радиоактивных препаратов

б) Порядок проведения промежуточной аттестации, показатели и критерии оценивания:

Промежуточная аттестация по дисциплине «Физика» включает теоретические вопросы, позволяющие оценить уровень усвоения обучающимися знаний, и практические задания, выявляющие степень сформированности умений и владений, проводится в форме экзамена (1 семестр) и в форме зачета (2 семестр).

Экзамен по данной дисциплине проводится в устной форме по экзаменационным билетам, каждый из которых включает 2 теоретических вопроса и одно практическое задание (задачу).

Показатели и критерии оценивания экзамена:

– на оценку **«отлично»** (5 баллов) – обучающийся демонстрирует высокий уровень сформированности компетенций, всестороннее, систематическое и глубокое знание учебного материала, свободно выполняет практические задания, свободно оперирует знаниями, умениями, применяет их в ситуациях повышенной сложности.

– на оценку **«хорошо»** (4 балла) – обучающийся демонстрирует средний уровень сформированности компетенций: основные знания, умения освоены, но допускаются незначительные ошибки, неточности, затруднения при аналитических операциях, переносе знаний и умений на новые, нестандартные ситуации.

– на оценку **«удовлетворительно»** (3 балла) – обучающийся демонстрирует пороговый уровень сформированности компетенций: в ходе контрольных мероприятий допускаются ошибки, проявляется отсутствие отдельных знаний, умений, навыков, обучающийся испытывает значительные затруднения при оперировании знаниями и умениями при их переносе на новые ситуации.

– на оценку **«неудовлетворительно»** (2 балла) – обучающийся демонстрирует знания не более 20% теоретического материала, допускает существенные ошибки, не может показать интеллектуальные навыки решения простых задач.

– на оценку **«неудовлетворительно»** (1 балл) – обучающийся не может показать знания на уровне воспроизведения и объяснения информации, не может показать интеллектуальные навыки решения простых задач.

Зачет обучающиеся получают в результате выполнения всех видов работ, предусмотренных во 2 семестре изучения данной дисциплины. В случае невыполнения, зачет проводится в форме собеседования по вопросам согласно перечню вопросов к зачету.

Показатели и критерии оценивания зачета:

- на оценку **«зачтено»** обучающийся демонстрирует уровень, не ниже порогового, сформированности компетенций: в ходе контрольных мероприятий могут допускаться ошибки, может проявляться отсутствие отдельных знаний, умений, навыков, обучающийся могут испытывает значительные затруднения при оперировании знаниями и умениями при их переносе на новые ситуации.

- на оценку «не зачтено» обучающийся не может показать знания на пороговом уровне сформированности компетенций, т.е. обучающийся не показывает знание основного материала в объеме, необходимом для предстоящей профессиональной деятельности; не способен аргументированно и последовательно излагать, допускает грубые ошибки в ответах; не может показать интеллектуальные навыки решения простых задач. не подтверждает освоение компетенций, предусмотренных программой.