



МИНИСТЕРСТВО НАУКИ И ВЫСШЕГО ОБРАЗОВАНИЯ  
РОССИЙСКОЙ ФЕДЕРАЦИИ

Федеральное государственное бюджетное образовательное учреждение  
высшего образования

«Магнитогорский государственный технический университет им. Г.И. Носова»



УТВЕРЖДАЮ  
Директор ИИСТ  
И.Ю. Мезин

17.02.2020 г.

**РАБОЧАЯ ПРОГРАММА ДИСЦИПЛИНЫ (МОДУЛЯ)**  
**ФИЗИКА**

Направление подготовки (специальность)  
13.03.01 Теплоэнергетика и теплотехника

Направленность (профиль/специализация) программы  
Энергообеспечение предприятий

Уровень высшего образования - бакалавриат

Форма обучения  
заочная

Институт/ факультет	Институт естествознания и стандартизации
Кафедра	Физики
Курс	1

Магнитогорск  
2020 год

Рабочая программа составлена на основе ФГОС ВО - бакалавриат по направлению подготовки 13.03.01 Теплоэнергетика и теплотехника (приказ Минобрнауки России от 28.02.2018 г. № 143)

Рабочая программа рассмотрена и одобрена на заседании кафедры Физики  
06.02.2020, протокол № 5

Зав. кафедрой \_\_\_\_\_ М.Б. Аркулис

Рабочая программа одобрена методической комиссией ИЕиС  
17.02.2020 г. протокол № 6

Председатель \_\_\_\_\_ И.Ю. Мезин

Согласовано:

Зав. кафедрой Теплотехнических и энергетических систем

\_\_\_\_\_ Е.Б. Агапитов

Рабочая программа составлена:

ст. преподаватель кафедры Физики, \_\_\_\_\_ Н.И. Мишенева

Рецензент:

зав. кафедрой ВТиП, д-р техн. наук \_\_\_\_\_ О.С. Логунова

**Лист актуализации рабочей программы**

Рабочая программа пересмотрена, обсуждена и одобрена для реализации в 2021 - 2022 учебном году на заседании кафедры Физики

Протокол от 15 10 2021 г. № 2  
Зав. кафедрой \_\_\_\_\_ М.Б. Аркулис

Рабочая программа пересмотрена, обсуждена и одобрена для реализации в 2022 - 2023 учебном году на заседании кафедры Физики

Протокол от 7 10 2022 г. № 2  
Зав. кафедрой \_\_\_\_\_ М.Б. Аркулис

Рабочая программа пересмотрена, обсуждена и одобрена для реализации в 2023 - 2024 учебном году на заседании кафедры Физики

Протокол от \_\_\_\_\_ 20\_\_ г. № \_\_\_\_  
Зав. кафедрой \_\_\_\_\_ М.Б. Аркулис

Рабочая программа пересмотрена, обсуждена и одобрена для реализации в 2024 - 2025 учебном году на заседании кафедры Физики

Протокол от \_\_\_\_\_ 20\_\_ г. № \_\_\_\_  
Зав. кафедрой \_\_\_\_\_ М.Б. Аркулис

### **1 Цели освоения дисциплины (модуля)**

Целью освоения дисциплины «Физика» является формирование у обучающихся адекватной современному уровню знаний научной картины мира, а также развитие способности применять основные положения, законы и методы классической и современной физики и соответствующий физико-математический аппарат для решения теоретических, прикладных и практических задач, возникающих в ходе профессиональной деятельности.

### **2 Место дисциплины (модуля) в структуре образовательной программы**

Дисциплина Физика входит в обязательную часть учебного плана образовательной программы.

Для изучения дисциплины необходимы знания (умения, владения), сформированные в результате изучения дисциплин/ практик:

Физика, Математика, Химия и Информатика в объеме средней общеобразовательной школы.

Знания (умения, владения), полученные при изучении данной дисциплины будут необходимы для изучения дисциплин/практик:

Теоретическая механика

Теоретические основы электротехники

Общая энергетика

Прикладная механика

Электроэнергетика

Электрические машины

Электротехника

Гидрогазодинамика

Тепломассообмен

Техническая термодинамика

Тепловые двигатели

### **3 Компетенции обучающегося, формируемые в результате освоения дисциплины (модуля) и планируемые результаты обучения**

В результате освоения дисциплины (модуля) «Физика» обучающийся должен обладать следующими компетенциями:

Код индикатора	Индикатор достижения компетенции
ОПК-3	Способен применять соответствующий физико-математический аппарат, методы анализа и моделирования, теоретического и экспериментального исследования при решении профессиональных задач
ОПК-3.2	Способен применять соответствующий физико-математический аппарат при теоретическом и экспериментальном исследовании в решении задач энергосбережения
ОПК-3.1	Использует методы анализа и моделирования при решении профессиональных задач, моделировании и проектировании энергосистем

#### 4. Структура, объём и содержание дисциплины (модуля)

Общая трудоемкость дисциплины составляет 11 зачетных единиц 396 акад. часов, в том числе:

- контактная работа – 23,8 акад. часов;
- аудиторная – 18 акад. часов;
- внеаудиторная – 5,8 акад. часов
- самостоятельная работа – 354,8 акад. часов;
- подготовка к экзамену – 17,4 акад. часа

Форма аттестации - экзамен

Раздел/ тема дисциплины	Курс	Аудиторная контактная работа (в акад. часах)			Самостоятельная работа студента	Вид самостоятельной работы	Форма текущего контроля успеваемости и промежуточной аттестации	Код компетенции
		Лек.	лаб. зан.	практ. зан.				
1. Механика								
1.1 Кинематика поступательного и вращательного движения	1	0,2		0,2/0,2И	16	Проработка лекций, решение индивидуальных задач, подготовка к коллоквиуму и контрольной работе	Индивидуальная задача , коллоквиум, контрольная работа	ОПК-3.1, ОПК-3.2
1.2 Динамика поступательного и вращательного движения		0,5	1/0,4И	0,4/0,4И	25	Проработка лекций, решение индивидуальных задач, подготовка к выполнению и обработка результатов лабораторных работ, подготовка к коллоквиуму и контрольной работе	Индивидуальная задача , коллоквиум, контрольная работа	ОПК-3.1, ОПК-3.2

1.3 Законы сохранения в механике		0,4	1/0,4И	0,2/0,2И	25	Проработка лекций, решение индивидуальных задач, подготовка к выполнению и обработка результатов лабораторных работ, подготовка к коллоквиуму и контрольной работе	Индивидуальная задача , коллоквиум, контрольная работа, лабораторная работа № 1	ОПК-3.1, ОПК-3.2
1.4 Механические колебания и волны		0,2		0,2/0,2И	16	Проработка лекций, решение индивидуальных задач, подготовка к выполнению и обработка результатов лабораторных работ, подготовка к коллоквиуму и контрольной работе	Индивидуальная задача , коллоквиум, контрольная работа	ОПК-3.1, ОПК-3.2
Итого по разделу		1,3	2/0,8И	1/1И	82			ОПК-3.1, ОПК-3.2
2. Электричество и магнетизм								
2.1 Электростатическое поле		0,5		0,2/0,2И	16	Проработка лекций, решение индивидуальных задач, подготовка к коллоквиуму и контрольной работе	Индивидуальная задача , коллоквиум, контрольная работа	ОПК-3.1, ОПК-3.2
2.2 Электростатическое поле в веществе	1	0,2		0,2/0,2И	15	Проработка лекций, решение индивидуальных задач, подготовка к выполнению и обработка результатов лабораторных работ, подготовка к коллоквиуму и контрольной работе	Индивидуальная задача , коллоквиум, контрольная работа	ОПК-3.1, ОПК-3.2

2.3	Постоянный электрический ток	0,5	2/1,2И	0,2/0,2И	10	Проработка лекций, решение индивидуальных задач, подготовка к выполнению и обработка результатов лабораторных работ, подготовка к коллоквиуму и контрольной работе	Индивидуальная задача , коллоквиум, контрольная работа, лабораторная работа № 28	ОПК-3.1, ОПК-3.2
2.4	Магнитное поле в вакууме и в веществе	0,2		0,2/0,2И	8	Проработка лекций, решение индивидуальных задач, подготовка к коллоквиуму и контрольной работе	Индивидуальная задача , коллоквиум, контрольная работа, лабораторная работа № 28	ОПК-3.1, ОПК-3.2
2.5	Электромагнитная индукция	0,2		0,2/0,2И	10	Проработка лекций, решение индивидуальных задач, подготовка к выполнению и обработка результатов лабораторных работ, подготовка к коллоквиуму и контрольной работе	Индивидуальная задача , коллоквиум, контрольная работа, лабораторная работа № 28	ОПК-3.1, ОПК-3.2
2.6	Электрические колебания и переменный ток	0,2		0,2/0,2И	10	Проработка лекций, решение индивидуальных задач, подготовка к выполнению и обработка результатов лабораторных работ, подготовка к коллоквиуму и контрольной работе	Индивидуальная задача , коллоквиум, контрольная работа, лабораторная работа № 28	ОПК-3.1, ОПК-3.2
Итого по разделу		1,8	2/1,2И	1,2/1,2И	69			ОПК-3.1, ОПК-3.2
3. Молекулярная физика и термодинамика								

3.1 Статистическая физика и молекулярно-кинетическая теория	1	0,2		0,2/0,2И	15	Проработка лекций, решение индивидуальных задач, подготовка к выполнению и обработка результатов лабораторных работ, подготовка к коллоквиуму и контрольной работе	Индивидуальная задача , коллоквиум, контрольная работа, лабораторная работа № 14	ОПК-3.1, ОПК-3.2
3.2 Термодинамика		0,2	1/ИИ	0,2/0,2И	25	Проработка лекций, решение индивидуальных задач, подготовка к выполнению и обработка результатов лабораторных работ, подготовка к коллоквиуму и контрольной работе	Индивидуальная задача , коллоквиум, контрольная работа, лабораторная работа № 14	ОПК-3.1, ОПК-3.2
Итого по разделу		0,4	1/ИИ	0,4/0,4И	40			ОПК-3.1, ОПК-3.2
4. Волновая и квантовая оптика								
4.1 Электромагнитные волны	1	0,2		0,2/0,2И	10	Проработка лекций, решение индивидуальных задач, подготовка к выполнению и обработка результатов лабораторных работ, подготовка к коллоквиуму и контрольной работе	Индивидуальная задача , коллоквиум, контрольная работа	ОПК-3.1, ОПК-3.2
4.2 Интерференция световых волн		1			0,2/0,2И	10	Проработка лекций, решение индивидуальных задач, подготовка к выполнению и обработка результатов лабораторных работ, подготовка к коллоквиуму и контрольной работе	Индивидуальная задача , коллоквиум, контрольная работа



4.3 Дифракция световых волн		0,8		0,2/0,2И	27,3	Проработка лекций, решение индивидуальных задач, подготовка к выполнению и обработка результатов лабораторных работ, подготовка к коллоквиуму и контрольной работе	Индивидуальная задача , коллоквиум, контрольная работа	ОПК-3.1, ОПК-3.2
4.4 Квантовая оптика		1		0,2/0,2И	30,4	Проработка лекций, решение индивидуальных задач, подготовка к выполнению и обработка результатов лабораторных работ, подготовка к коллоквиуму и контрольной работе	Индивидуальная задача , коллоквиум, контрольная работа	ОПК-3.1, ОПК-3.2
Итого по разделу		3		0,8/0,8И	77,7			ОПК-3.1, ОПК-3.2
5. Квантовая, атомная и ядерная физика								
5.1 Квантовая механика		0,4		0,2/0,2И	15	Проработка лекций, решение индивидуальных задач, подготовка к коллоквиуму и контрольной работе	Индивидуальная задача , коллоквиум, контрольная работа	ОПК-3.1, ОПК-3.2
5.2 Физика атома	1	0,4	1/ИИ	0,2/0,2И	30	Проработка лекций, решение индивидуальных задач, подготовка к выполнению и обработка результатов лабораторных работ, подготовка к коллоквиуму и контрольной работе	Индивидуальная задача , коллоквиум, контрольная работа, лабораторная работа № 42	ОПК-3.1, ОПК-3.2

5.3 Ядерная физика		0,5		0,2/0,2И	30	Проработка лекций, решение индивидуальных задач, подготовка к выполнению и обработка результатов лабораторных работ, подготовка к коллоквиуму и контрольной работе	Индивидуальная задача , коллоквиум, контрольная работа	ОПК-3.1, ОПК-3.2
5.4 Физика элементарных частиц и современная физическая картина мира		0,2			11,1	Проработка лекций, подготовка к коллоквиуму и контрольной работе	Индивидуальная задача , коллоквиум, контрольная работа	ОПК-3.1, ОПК-3.2
Итого по разделу		1,5	1/1И	0,6/0,6И	86,1			ОПК-3.1, ОПК-3.2
Итого за семестр		8	6/4И	4/4И	354,8		экзамен	ОПК-3.1, ОПК-3.2
Итого по дисциплине		8	6/4И	4/4И	354,8		экзамен	ОПК-3.1, ОПК-3.2

## **5 Образовательные технологии**

В процессе преподавания дисциплины «Физика» применяются традиционная и модульно-компетентностная технологии.

Используются следующие виды лекций:

вводная лекция – в начале курса и в начале каждого семестра (вводный блок в составе лекции);

лекция-информация – в этой форме излагается основная часть материала;

обзорная лекция – в заключительной части изучения дисциплины, посвященной современной физической картине мира, а также при систематизации и обобщении отдельных разделов;

проблемная лекция – используется как элемент в составе лекции, когда перед студентами ставится некоторая проблема и предлагается найти подходы и пути к ее решению;

лекция-конференция – научно-практическое занятие с системой докладов на заданные темы, подготовленных студентами.

лекция-визуализация – лекции с применением физических демонстраций с объяснением происходящих явлений, а также компьютерных симуляций и учебных фильмов.

Все виды лекций проводятся с использованием мультимедийного оборудования.

В ходе практических занятий, кроме традиционного объяснения преподавателем у доски, используется опережающая самостоятельная работа студентов, когда им заранее раздаются отдельные задачи, в которых они должны разобраться самостоятельно и объяснить их решение группе. Кроме того, практикуется проблемное обучение, развивающее исследовательские навыки студентов и позволяющее им под руководством преподавателя найти пути решения задачи или проблемы.

Семинарские занятия включают в себя такие методы обучения, как учебная дискуссия, в ходе которой студенты излагают свое мнение и обмениваются взглядами на проблему, эвристическая беседа, стимулирующая коллективное мышление и совместный поиск ответа на сформулированный вопрос или задачу, а также индивидуальное обучение, когда студентам выдаются задания с учетом их индивидуальных особенностей.

При проведении лабораторных занятий практикуется работа в команде (2-4 человека) и использование ИТ-методов для обработки результатов лабораторных работ.

## **6 Учебно-методическое обеспечение самостоятельной работы обучающихся**

Представлено в приложении 1.

## **7 Оценочные средства для проведения промежуточной аттестации**

Представлены в приложении 2.

## **8 Учебно-методическое и информационное обеспечение дисциплины (модуля)**

### **а) Основная литература:**

1. Демидченко, В.И. Физика : учебник / В.И. Демидченко, И.В. Демидченко. — 6-е изд., перераб. и доп. — Москва : ИНФРА-М, 2016. — 581 с. - Режим доступа <https://znanium.com/>]. — (Высшее образование: Бакалавриат). - ISBN 978-5-16-010079-1 (print) ; ISBN 978-5-16-101800-2 (online). - Текст : электронный. - URL: <https://znanium.com/read?id=292683> (дата обращения: 30.10.2020). – Режим доступа: по

### **б) Дополнительная литература:**

1. Павлов, С. В. Общая физика: сборник задач : учеб. пособие / С.В. Павлов, Л.А. Скипетрова ; под ред. С.В. Павлова. — Москва : ИНФРА-М, 2018. — 319 с. — (Высшее образование: Бакалавриат). — [www.dx.doi.org/10.12737/textbook\\_5ad4b0fd3ee963.26468696](http://www.dx.doi.org/10.12737/textbook_5ad4b0fd3ee963.26468696). - ISBN 978-5-16-013262-4. - Текст : электронный. - URL: <https://znanium.com/read?id=329738> (дата обращения: 30.10.2020). – Режим доступа: по подписке.

2. Кузнецов, С. И. Справочник по физике : учеб. пособие / С. И. Кузнецов, К. И. Рогозин. - Томск : Изд-во Томского политех. университета, 2014. - 220 с. - ISBN 978-5-4387-0443-0. - Текст : электронный. - URL: <https://znanium.com/read?id=159322> (дата обращения: 30.10.2020). – Режим доступа: по подписке.

#### в) Методические указания:

1. Механика. Молекулярная физика и термодинамика : лабораторный практикум / Е. Н. Астапов, З. Н. Ботнева, Л. С. Долженкова и др. ; МГТУ. - Магнитогорск : МГТУ, 2016. - 1 электрон. опт. диск (CD-ROM). - Загл. с титул. экрана. - URL: <https://magtu.informsystema.ru/uploader/fileUpload?name=2420.pdf&show=dcatalogues/1/1130121/2420.pdf&view=true> (дата обращения: 25.09.2020). - Макрообъект. - Текст : электронный. - Сведения доступны также на CD-ROM.

3. Савченко, Ю. И. Переменный ток : лабораторный практикум / Ю. И. Савченко, О. Н. Вострокнутова, Н. И. Мишенева ; МГТУ. - Магнитогорск : МГТУ, 2018. - 1 электрон. опт. диск (CD-ROM). - Загл. с титул. экрана. - URL: <https://magtu.informsystema.ru/uploader/fileUpload?name=3529.pdf&show=dcatalogues/1/1515139/3529.pdf&view=true> (дата обращения: 25.09.2020). - Макрообъект. - Текст : электронный. - ISBN 978-5-9967-1151-2. - Сведения доступны также на CD-ROM.

4. Физика твердого тела, атома и атомного ядра : учебное пособие [для вузов] / С. А. Бутаков [и др.] ; Магнитогорский гос. технический ун-т им. Г. И. Носова. - Магнитогорск : МГТУ им. Г. И. Носова, 2019. - 1 CD-ROM. - Загл. с титул. экрана. - URL: <https://magtu.informsystema.ru/uploader/fileUpload?name=3818.pdf&show=dcatalogues/1/1530254/3818.pdf&view=true> (дата обращения: 25.09.2020). - Макрообъект. - ISBN 978-5-9967-1531-2. - Текст : электронный. - Сведения доступны также на CD-ROM.

#### г) Программное обеспечение и Интернет-ресурсы:

##### Программное обеспечение

Наименование ПО	№ договора	Срок действия лицензии
MS Windows 7 Professional(для классов)	Д-1227-18 от 08.10.2018	11.10.2021
MS Office 2007 Professional	№ 135 от 17.09.2007	бессрочно
7Zip	свободно распространяемое	бессрочно

##### Профессиональные базы данных и информационные справочные системы

Название курса	Ссылка
Электронная база периодических изданий East View Information Services, ООО «ИВИС»	<a href="https://dlib.eastview.com/">https://dlib.eastview.com/</a>
Национальная информационно-аналитическая система – Российский индекс научного цитирования (РИНЦ)	URL: <a href="https://elibrary.ru/project_risc.asp">https://elibrary.ru/project_risc.asp</a>
Поисковая система Академия Google (Google Scholar)	URL: <a href="https://scholar.google.ru/">https://scholar.google.ru/</a>

### **9 Материально-техническое обеспечение дисциплины (модуля)**

Материально-техническое обеспечение дисциплины включает:

Учебные аудитории для проведения занятий лекционного типа. Оснащение: Мультимедийные средства хранения, передачи и представления информации.

Учебная аудитория для проведения лабораторных работ: Лаборатория механики, молекулярной физики и термодинамики. Оснащение: Лабораторные установки, измерительные приборы для проведения лабораторных работ:

1. Баллистические маятники.
2. Маятник Обербека.
3. Физический маятник.
4. Доска Гальтона.
5. Лабораторная установка для исследования распределения термоэлектронов по модулю их скорости.
6. Лабораторная установка для определения показателей адиабаты  $\gamma$  методом Клемана и Дезорма.
7. Лабораторная установка для проверки закона возрастания энтропии в процессе диффузии газов на модели перемешивания шаров.
8. Лабораторная установка для проверки законов возрастания энтропии в процессе теплообмена.
9. Установка лабораторная для изучения зависимости скорости звука от температуры «МФ-СЗ-М»
10. Установка лабораторная для исследования теплоемкости твердого тела «МФ-ТЕТ-М».
11. Установка лабораторная для определения универсальной газовой постоянной «МФ-ОГП-М».
12. Стенд лабораторный газовые процессы.
13. Мерительный инструмент.

Учебная аудитория для проведения лабораторных работ: Лаборатория электричества и оптики. Оснащение: Лабораторные установки, измерительные приборы для проведения лабораторных работ:

1. Лабораторная установка для исследования электростатического поля с помощью одинарного зонда.
2. Установка для шунтирования миллиамперметра.
3. Установка лабораторная для определения индуктивности соленоида и магнитной проницаемости.
4. Установка лабораторная для изучения резонанса напряжений и определения индуктивности
5. Лабораторная установка для изучения длины световой волны и характеристик дифракционной решетки.
6. Лабораторная установка для определения радиуса кривизны линзы и длины световой волны с помощью колец Ньютона.
7. Лабораторная установка для определения концентрации растворов сахара и постоянной вращения.
8. Источники питания постоянного тока.
9. Магазин емкостей Time Electronics 1071.
10. Магазин емкости P-513.
11. Магазин индуктивностей Time Electronics 1053.
12. Магазины сопротивлений P-33.
13. Мультиметры цифровые MAS-838.
14. Мультиметры APPA 106,203,205.
15. Осциллограф двухканальный GOS-620 FG.
16. Поляриметр CM.
17. Мерительный инструмент.

Учебная аудитория для проведения лабораторных работ: Лаборатория атома, твердого тела, ядра. Оснащение: Лабораторные установки, измерительные приборы для проведения лабораторных работ:

1. Лабораторная установка для «Изучения внешнего фотоэффекта».
2. Установка для изучения спектра атома водорода и определения постоянной Ридберга.
3. Установка лабораторная для определения потенциала возбуждения газа.
4. Установка для определения длины пробега частиц в воздухе.
5. Измеритель скорости счета УИМ2-2.
6. Монохроматоры МУМ-1.
7. Мультиметры АРРА 205, 207.
8. Осциллограф двухканальный GOS-620 FG.
9. Мерительный инструмент.

Учебные аудитории для проведения практических занятий, групповых и индивидуальных консультаций, текущего контроля и промежуточной аттестации. Оснащение: Интерактивная доска, проектор. Доска, мультимедийный проектор, экран.

Помещения для самостоятельной работы обучающихся. Оснащение: Персональные компьютеры с пакетом MS Office, с выходом в Интернет и с доступом в электронную информационно-образовательную среду университета.

Помещение для хранения и профилактического обслуживания учебного оборудования. Оснащение: Стеллажи для хранения учебно-методической документации, стеллажи и сейфы для хранения учебного оборудования, инструменты для ремонта оборудования.

## 6. Учебно-методическое обеспечение самостоятельной работы обучающихся

По дисциплине «Физика» предусмотрена внеаудиторная самостоятельная работа обучающихся.

Внеаудиторная самостоятельная работа обучающихся включает в себя: проработку лекционного материала, изучение литературы по соответствующему разделу; решение индивидуальных контрольных работ, подготовку к выполнению лабораторных работ, подготовку к отчету по лабораторным работам.

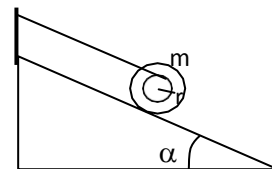
### Примерные индивидуальные контрольные работы

#### 1 курс (1 семестр)

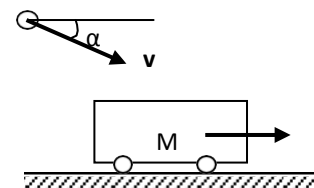
#### Контрольная работа № 1 «Механика. Электромагнетизм»

1. Точка движется в плоскости  $XOY$  по закону:  $x=10\cos\omega t$ ;  $y=10(1-\sin\omega t)$ . Найти путь, пройденный телом за  $2c$ ; угол между векторами скорости  $\mathbf{V}$  и ускорения  $\mathbf{a}$ ; траекторию движения  $y=f(x)$ .

2. На гладкой наклонной плоскости, составляющей угол  $\alpha = 30^\circ$  с горизонтом, находится катушка с ниткой, свободный конец которой укреплен, как показано на рисунке. Масса катушки  $m = 200$  г, её момент инерции относительно собственной оси  $I = 0,45 \text{ г}\cdot\text{м}^2$ , радиус намотанного слоя ниток  $r = 3$  см. Найти ускорение оси катушки.



3. Платформа с песком общей массой  $M = 2$  т стоит на рельсах на горизонтальном участке пути. В песок попадает снаряд массой  $m = 8$  кг и застревает в нём. Пренебрегая трением, определить, с какой скоростью будет двигаться платформа, если в момент попадания скорость снаряда  $v = 450$  м/с, а её направление – сверху вниз под  $\alpha = 30^\circ$  к горизонту.



4. На двух бесконечных параллельных плоскостях равномерно распределены заряды с поверхностными плотностями  $\sigma_1$  и  $\sigma_2$ . Определить напряженность электрического поля: между плоскостями; вне плоскостей. Построить график изменения напряженности поля вдоль линии, перпендикулярной пластинам. Принять  $\sigma_1 = \sigma$ ,  $\sigma_2 = -2\sigma$ , где  $\sigma = 20 \text{ нКл/м}^2$ .

5. Два конденсатора ёмкостями  $C_1 = 3$  мкФ и  $C_2 = 6$  мкФ соединены между собой и присоединены к батарее с ЭДС  $E = 120$  В. Определить заряды конденсаторов и разность потенциалов  $U_1$  и  $U_2$  между их обкладками, если конденсаторы соединены: 1) параллельно, 2) последовательно.

6. По двум бесконечно длинным прямым параллельным проводам текут токи  $I_1 = 20$  А и  $I_2 = 30$  А в одном направлении. Расстояние между проводами  $d = 10$  см. Вычислить индукцию  $B$  магнитного поля в точке, удаленной от обоих проводов на одинаковое расстояние  $r = 10$  см.

## 1 курс (2 семестр)

### Контрольная работа № 2 «Молекулярная физика и термодинамика. Оптика. Квантовая, атомная и ядерная физика»

1. При нагревании  $\nu = 1$  кмоль двухатомного газа его термодинамическая температура увеличивается от  $T_1$  до  $T_2 = 1,5 T_1$ . Найти изменение  $\Delta S$  энтропии, если нагревание происходит изохорически.

2. Определить длину волны света, падающего на дифракционную решетку, на каждый миллиметр которой нанесено  $n=400$  штрихов. Спектр наблюдается на экране, расположенном на расстоянии  $l=25$  см от решетки. Расстояние на экране между третьими максимумами слева и справа от центрального  $\Delta x=27,4$  см.

3. Два николя расположены так, что угол между их главными плоскостями составляет  $\varphi=60^\circ$ . Во сколько раз уменьшится интенсивность естественного света  $I_0$  при прохождении через оба николя. Коэффициент поглощения света в каждом никеле  $k=0,05$ .

4. Фотоэффект происходит под действием излучения с  $\lambda = 0,09$  мкм. Определить работу выхода электронов из металла, если фототок прекращается при задерживающей разности потенциалов  $U_3 = 3,8$  В.

5. При какой скорости  $V$  электрона его дебройлевская длина волны будет равна: 1) 650 нм, 2) 3 пм?

6. Определите энергию связи для ядра атома  ${}_{11}^{23}\text{Na}$

### Перечень лабораторных работ

#### 1 курс (0 семестр)

№ 1 «Применение законов сохранения для определения скорости полета пули»

№ 28 «Определение индуктивности катушки и магнитной проницаемости ферромагнитного тела»

#### 1 курс (1 семестр)

№ 14 «Определение показателя адиабаты методом Клемана и Дезорма»

№ 42 «Определение главных квантовых чисел возбужденных состояний атома водорода»



Оценочные средства для проведения промежуточной аттестации

а) Планируемые результаты обучения и оценочные средства для проведения промежуточной аттестации:

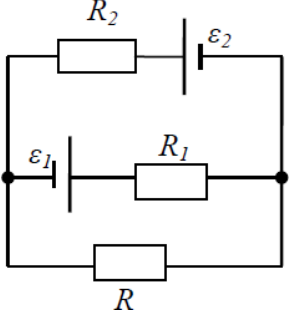
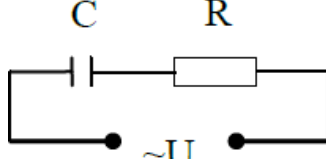
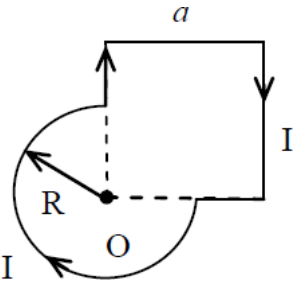
Код индикатора	Индикатор достижения компетенции	Оценочные средства
<b>ОПК-3: Способен применять соответствующий физико-математический аппарат, методы анализа и моделирования, теоретического и экспериментального исследования при решении профессиональных задач</b>		
ОПК-3.1:	Использует методы анализа и моделирования при решении профессиональных задач, моделировании и проектировании энергосистем	<p><i>Перечень теоретических вопросов к экзамену</i></p> <p><b>1 курс (1 семестр)</b></p> <ol style="list-style-type: none"> <li>1. Кинематика поступательного движения. Система отсчета. Понятие радиус-вектора, средней и мгновенной скорости и ускорения.</li> <li>2. Обратная задача механики. Нахождение перемещения тела и пройденного пути. Начальные условия.</li> <li>3. Движение по окружности. Угол поворота, угловая скорость и угловое ускорение. Связь угловых и линейных величин.</li> <li>4. Криволинейное движение. Тангенциальное и нормальное ускорение. Полное ускорение. Угол между скоростью и ускорением.</li> <li>5. Понятие силы и массы тела. Принцип суперпозиции. Законы Ньютона.</li> <li>6. Импульс тела. Основной закон динамики поступательного движения. Применение основного закона динамики.</li> <li>7. Момент импульса и момент силы относительно точки. Основное уравнение динамики вращательного движения.</li> <li>8. Вращение вокруг неподвижной оси. Момент инерции материальной точки и твердого тела.</li> <li>9. Расчет моментов инерции простых тел. Теорема Штейнера.</li> <li>10. Законы сохранения в механике. Замкнутая система. Закон сохранения импульса.</li> <li>11. Механическая работа. Кинетическая энергия поступательного движения. Теорема о кинетической энергии.</li> <li>12. Законы сохранения при вращательном движении. Кинетическая энергия вращательного движения. Закон сохранения момента импульса.</li> </ol>

Код индикатора	Индикатор достижения компетенции	Оценочные средства
		<p>13. Консервативные силы. Потенциальная энергия. Закон сохранения полной механической энергии.</p> <p>14. Гармонические колебания. Уравнение гармонических колебаний. Амплитуда, частота и начальная фаза.</p> <p>15. Энергия гармонических колебаний. Математический и физический маятники.</p> <p>16. Электростатическое поле. Электрический заряд и его свойства. Закон Кулона.</p> <p>17. Напряженность электростатического поля. Принцип суперпозиции для дискретного и непрерывного распределения зарядов.</p> <p>18. Работа электростатического поля по перемещению заряда. Энергия взаимодействия зарядов. Потенциал поля.</p> <p>19. Геометрическое описание электрического поля. Теорема Гаусса и теорема о циркуляции напряженности электростатического поля.</p> <p>20. Конденсаторы. Понятие электроёмкости. Ёмкость плоского конденсатора.</p> <p>21. Соединение конденсаторов. Энергия заряженного конденсатора.</p> <p>22. Постоянный электрический ток. Закон Ома для однородного участка цепи. Сопротивление. Соединение сопротивлений.</p> <p>23. Сторонние силы. Электродвижущая сила. Закон Ома для неоднородного участка цепи и для замкнутой цепи.</p> <p>24. Разветвленные цепи. Правила Кирхгофа.</p> <p>25. Работа электрического тока. Мощность тока. Закон Джоуля-Ленца.</p> <p>26. Единая природа электрического и магнитного полей. Сила Лоренца. Сила Ампера.</p> <p>27. Магнитное поле движущегося заряда. Принцип суперпозиции магнитных полей. Закон БиоСавара.</p> <p>28. Геометрическое описание магнитного поля. Поток и циркуляция вектора магнитной индукции.</p> <p>29. Закон электромагнитной индукции Фарадея. Правило Ленца.</p> <p>30. Явление самоиндукции. Индуктивность. Расчет индуктивности бесконечного соленоида. Энергия магнитного поля</p> <p><b>1 курс (2 семестр)</b></p>

Код индикатора	Индикатор достижения компетенции	Оценочные средства
		<ol style="list-style-type: none"> <li>1. Термодинамический и статистический способы описания макросистем. Модель идеального газа. Уравнение состояния идеального газа.</li> <li>2. Понятие степеней свободы молекулы. Теорема о равномерном распределении энергии по степеням свободы.</li> <li>3. Внутренняя энергия как функция состояния системы. Первое начало термодинамики.</li> <li>4. Работа как функция процесса. Изохорический, изобарический и изотермический процессы.</li> <li>5. Понятие теплоемкости. Теплоемкость при изохорическом и изобарическом процессах. Постоянная адиабаты. Адиабатический процесс.</li> <li>6. Второе начало термодинамики. Формулировки Клаузиуса и Кельвина.</li> <li>7. Циклический процесс. Коэффициент полезного действия тепловой машины. Цикл Карно.</li> <li>8. Проблема необратимости тепловых процессов. Энтропия системы и ее свойства. Теорема Нернста.</li> <li>9. Основные характеристики электромагнитной волны. Шкала электромагнитных волн. Особенности оптического диапазона.</li> <li>10. Интерференция световых волн. Когерентность. Опыт Юнга.</li> <li>11. Оптическая разность хода. Условия максимума и минимума при интерференции.</li> <li>12. Интерференция в тонких плёнках.</li> <li>13. Явление дифракции. Дифракция Френеля на круглом отверстии. Зоны Френеля.</li> <li>14. Дифракция Фраунгофера на узкой прямолинейной щели.</li> <li>15. Дифракционная решётка.</li> <li>16. Естественный и поляризованный свет. Закон Малюса.</li> <li>17. Тепловое излучение тела. Закон Стефана-Больцмана. Закон смещения Вина. Гипотеза Планка.</li> <li>18. Фотоэффект. Законы Столетова. Формула Эйнштейна.</li> <li>19. Фотоны. Давление света. Корпускулярно-волновой дуализм света.</li> <li>20. Рассеяние фотона на свободном электроне. Формула Комптона.</li> </ol>

Код индикатора	Индикатор достижения компетенции	Оценочные средства
		<p>21. Волновые свойства частиц. Длина волны де Бройля. Экспериментальные подтверждения гипотезы де Бройля.</p> <p>22. Принцип неопределенности. Соотношение неопределенностей Гейзенберга. Особенности процесса измерения в квантовой механике.</p> <p>23. Планетарная модель атома. Постулаты Бора. Квантование энергии водородоподобной системы.</p> <p>24. Излучение водородоподобных систем. Спектральные серии атома водорода. Обобщенная формула Бальмера.</p> <p>25. Явление радиоактивности. Основной закон радиоактивного распада. Постоянная распада. Период полураспада.</p> <p>26. Состав и характеристики атомного ядра. Капельная модель. Размер ядра.</p> <p>27. Масса и энергия связи атомного ядра. Зависимость удельной энергии связи от массового числа. Оболочечная модель ядра.</p> <p>28. Ядерные реакции. Энергия реакции. Реакции деления и синтеза ядер.</p>
ОПК-3.2:	Способен применять соответствующий физико-математический аппарат при теоретическом и экспериментальном исследовании в решении задач энергосбережения	<p><b>Примерный перечень практических заданий для экзамена</b></p> <p><b>1 курс (1 семестр)</b></p> <p>1. Движение материальной точки задано уравнением <math>r(t) = (A + Bt^2)i + Ctj</math>, где <math>A=10</math> м, <math>B=-5</math> м/с<sup>2</sup>, <math>C=10</math> м/с. Найти для момента времени <math>t=1</math> с <math>v(t)</math>, <math>a(t)</math>, вычислить модуль скорости <math>v</math>, модуль ускорения <math>a</math>, тангенциальное ускорение <math>a_\tau</math>, нормальное ускорение <math>a_n</math>.</p> <p>2. Колесо вращается с частотой <math>n=5</math> с<sup>-1</sup>. Под действием сил трения оно остановилось через <math>\Delta t = 1</math> мин. Определить угловое ускорение <math>\varepsilon</math> и число <math>N</math> оборотов, которое сделает колесо за это время.</p> <p>3. Брусок массой 2 кг скользит по горизонтальной поверхности под действием груза массой 0,5 кг, прикрепленного к концу нерастяжимой нити, перекинутой через неподвижный блок. Коэффициент трения бруска о поверхность 0,1. Найти ускорение движения тела и силу натяжения нити. Массами блока и нити, а также трением в блоке пренебречь.</p>

Код индикатора	Индикатор достижения компетенции	Оценочные средства
		<p>4. Определить момент инерции тонкого однородного стержня длиной <math>l = 30</math> см и массой <math>m = 100</math> г относительно оси, перпендикулярной стержню и проходящей через точку, отстоящую от конца стержня на <math>1/3</math> его длины.</p> <p>5. Шарик массой <math>m = 100</math> г упал с высоты <math>h = 2,5</math> м на горизонтальную плиту, масса которой много больше массы шарика, и отскочил от нее вверх. Считая удар абсолютно упругим, определите импульс <math>p</math>, полученный плитой.</p> <p>6. Вертикально расположенный однородный стержень массы <math>M = 1</math> кг и длины <math>l = 1</math> м может вращаться вокруг своего верхнего конца. В нижний конец стержня попала, застряв, горизонтально летевшая пуля массы <math>m = 10</math> г, в результате чего стержень отклонился на угол <math>\alpha = 15^\circ</math>. Считая <math>m \ll M</math>, найти скорость летевшей пули</p> <p>7. Определить напряжённость электростатического поля <math>E</math> в центре квадрата со стороной <math>a</math>, если в трёх вершинах квадрата находятся одинаковые точечные заряды <math>q</math></p> <p>8. Тонкая нить согнута в полуокружность и заряжена так, что электрический заряд равномерно распределен по ее длине. Каков радиус этой полуокружности, если известно, что в центре ее кривизны напряженность поля <math>10</math> кВ/м, а потенциал <math>630</math> В.</p> <p>9. На рис. <math>\varepsilon_1 = 1,5</math> В, <math>\varepsilon_2 = 3,7</math> В и сопротивления <math>R_1 = 10</math> Ом, <math>R_2 = 20</math> Ом и <math>R = 5,0</math> Ом. Внутренние сопротивления источников пренебрежимо малы. Определите: 1) значение и направление тока через сопротивление <math>R</math>; 2) тепловую мощность, которая выделяется на сопротивлении <math>R</math>?</p>

Код индикатора	Индикатор достижения компетенции	Оценочные средства
		<div style="text-align: center;">  </div> <p>10. Каким должно быть сопротивление <math>R</math> электрической цепи, изображенной на рисунке, чтобы ток, текущий по нему был равен <math>I=0,5</math> А, если <math>C=5</math> мкФ, <math>U=200</math> В, частота переменного тока <math>\nu=100</math> Гц?</p> <div style="text-align: center;">  </div> <p>11. Ток <math>I=100</math> А течет по тонкому проводнику, изогнутому так, как показано на рисунке. Найти индукцию <math>B</math> магнитного поля в точке <math>O</math> контура, если радиус изогнутой части проводника <math>R=0,1</math> м, а сторона квадрата <math>a=0,2</math> м</p> <div style="text-align: center;">  </div> <p>12. По двум параллельным прямым проводам длиной <math>l = 1</math> м каждый текут одинаковые токи. Расстояние <math>d</math> между проводами равно 1 см. Токи</p>

Код индикатора	Индикатор достижения компетенции	Оценочные средства
		<p>взаимодействуют с силой <math>F = 1</math> мН. Найти силу тока <math>I</math> в проводах</p> <p>13. Катушка состоит из <math>N = 75</math> витков и имеет сопротивление <math>R = 9</math> Ом. Магнитный поток через ее поперечное сечение меняется по закону <math>\Phi = kt</math>, где <math>k = 1,2</math> мВб/с. Определите: а) э.д.с. индукции, возникающую в этом контуре; б) силу индукционного тока; в) заряд, который протечет по контуру за первые 9 с изменения поля.</p> <p>14. Электрон, ускоренный напряжением <math>U = 200</math> В, влетает в однородное магнитное поле с индукцией <math>B = 0,7 \cdot 10^{-4}</math> Тл перпендикулярно силовым линиям. Найти радиус окружности, по которой движется электрон в магнитном поле и период его вращения.</p> <p>15. Индуктивность <math>L</math> катушки (без сердечника) равна <math>0,1</math> мГн. При какой силе тока <math>I</math> энергия <math>W</math> магнитного поля равна <math>100</math> мкДж</p> <p><b>1 курс (2 семестр)</b></p> <p>1. Определить среднее значение полной кинетической энергии одной молекулы гелия, кислорода и водяного пара при температуре <math>T = 400</math> К.</p> <p>2. Водород массой <math>m = 100</math> г был изобарно нагрет так, что объем его увеличился в <math>n = 3</math> раза, затем водород был изохорно охлажден так, что его давление уменьшилось в <math>n = 3</math> раза. Найти изменение <math>\Delta S</math> энтропии в ходе указанных процессов.</p> <p>3. Какая работа <math>A</math> совершается при изотермическом расширении водорода массой <math>m = 5</math> г, взятого при температуре <math>T = 290</math> К, если объем газа увеличивается в три раза?</p> <p>4. Азот нагревался при постоянном давлении. Ему было сообщено количество теплоты <math>Q = 21</math> кДж. Определить работу <math>A</math>, которую совершил при этом газ, и изменение <math>\Delta U</math> его внутренней энергии.</p> <p>5. Идеальная тепловая машина работает по циклу Карно. Температура теплоотдатчика <math>T_1 = 500</math> К, температура теплоприемника <math>T_2 = 250</math> К. Определить термический КПД <math>\eta</math> цикла, а также работу <math>A_1</math> рабочего вещества при изотермическом расширении, если при изотермическом сжатии совершена работа <math>A_2 = 70</math> Дж</p>

Код индикатора	Индикатор достижения компетенции	Оценочные средства
		<p>6. Расстояние между двумя когерентными источниками света(<math>\lambda=0,5</math> мкм) равно <math>d=0,1</math> мм. Расстояние между интерференционными полосами на экране в средней части интерференционной картины равно <math>\Delta x=1,0</math> см. Определить расстояние от источников до экрана</p> <p>7. Плосковыпуклая линза выпуклой стороной лежит на стеклянной пластинке. В отраженном свете с длиной волны <math>\lambda = 0,6</math> мкм наблюдается интерференционная картина. Считая, что радиусы интерференционных колец <math>r</math> много меньше радиуса кривизны линзы <math>R=1,2</math> м, определите: а) толщину слоя воздуха там, где видно первое светлое кольцо Ньютона, б) радиус первого кольца</p> <p>8. Между двумя плоскопараллельными стеклянными пластинками положили очень тонкую проволочку, расположенную параллельно линии соприкосновения пластинок и находящуюся на расстоянии <math>L=75</math> мм от нее. В отраженном свете с длиной волны <math>\lambda=0,5</math> мкм на верхней пластинке видны интерференционные полосы. Определите диаметр поперечного сечения проволочки, если на протяжении <math>a = 30</math> мм насчитывается <math>m = 16</math> светлых полос</p> <p>9. На щель шириной <math>a = 0,05</math> мм падает нормально монохроматический свет с длиной волны <math>\lambda = 0,6</math> мкм. Определить угол <math>\varphi</math> между первоначальным направлением пучка света и направлением на четвертую темную дифракционную полосу</p> <p>10. Дифракционная решетка установлена на расстоянии 80 см от экрана. На решетку падает монохроматический свет с длиной волны 0,65 мкм. На экране расстояние между максимумами первого и второго порядка равно 5,2 см. Сколько всего максимумов образует эта дифракционная решетка?</p> <p>11. Черное тело нагрели от температуры 600К до 2400К. Во сколько раз увеличилась общая тепловая энергия, излучаемая телом? На сколько изменилась длина волны, соответствующая максимуму энергии излучения и спектральный состав излучения?</p> <p>12. Определить наименьший задерживающий потенциал, необходимый для прекращения эмиссии с поверхности фотокатода, если он освещается излучением с длиной волны 0,4 мкм, а красная граница для материала катода</p>



Код индикатора	Индикатор достижения компетенции	Оценочные средства
		<p style="text-align: center;">равна 0,67 мкм</p> <p>13. При движении частицы вдоль оси x скорость ее может быть определена с точностью (ошибкой) до 1 см/с. Найти неопределенность координаты, если частицей является: 1) электрон, 2) дробинка массой 0,1г</p> <p>14. Вычислить радиусы первых трех орбит электрона в атоме водорода</p> <p>15. Найти наибольшую и наименьшую длины волн серии Пашена в спектре излучения водорода. Сравнить полученные значения с длинами волн видимого излучения</p> <p>16. Первоначальная масса изотопа иридия <math>{}^{192}_{77}\text{Ir}</math> равна <math>m = 5</math> г, период полураспада 75 суток. Определите, сколько ядер распадется за 1 секунду в этом препарате. Сколько атомов этого препарата останется через 30 суток и во сколько раз изменится активность препарата за это время?</p> <p>17. В центре солнца протекает термоядерная реакция синтеза гелия из водорода, в которой из четырех протонов образуется ядро <math>\text{He}^4</math> и два позитрона. Запишите эту реакцию. Какие еще частицы образуются в ней?</p> <p>18. Какое количество <math>\text{U}^{235}</math> «выгорает» за год в ядерном реакторе с электрической мощностью 1 ГВт и к.п.д. 38%? Считать, что распад ядер урана под действием тепловых нейтронов приводит к образованию изотопов ксенона-141, стронция-92 и трех вторичных нейтронов.</p> <p>Основными оценочными средствами планируемых результатов обучения данного раздела служат лабораторные работы и индивидуальные контрольные работы каждого семестра.</p> <p>При проведении промежуточной аттестации преподаватель имеет право задавать дополнительные вопросы со ссылкой на отчеты по лабораторным работам и ИДЗ.</p> <p><b>Примерный перечень вопросов и заданий по лабораторным работам</b></p> <p><b>1 курс (0 семестр)</b></p> <p>№ 1 «Применение законов сохранения для определения скорости полета пули»</p> <p>1. Приведите примеры сил, дающих разные виды потенциальной энергии. Какие из них присутствуют в данной работе? Изобразите схему экспериментальной</p>

Код индикатора	Индикатор достижения компетенции	Оценочные средства
		<p>установки и укажите на ней силы, действующие на все тела, входящие в систему, в каждый момент времени.</p> <ol style="list-style-type: none"> <li>2. Какие величины имели кинетическая и потенциальная энергия системы «пуля+маятник» в различные моменты опыта? Представьте схему изменения кинетической и потенциальной энергии системы.</li> <li>3. Для каких моментов времени в данном эксперименте можно применять закон сохранения механической энергии, а для каких нельзя и почему? Схема.</li> <li>4. Для каких моментов времени в данном эксперименте можно применять закон сохранения импульса, а для каких нельзя и почему? Схема</li> <li>5. Используя законы сохранения получите формулу для расчета скорости полета пули в данной работе.</li> <li>6. Как производится обработка экспериментальных данных в данной работе. Как определяется доверительный интервал скорости и средняя квадратическая погрешность отклонения маятника?</li> </ol> <p style="text-align: center;"><b>№ 28 «Определение индуктивности катушки и магнитной проницаемости ферромагнитного тела»</b></p> <ol style="list-style-type: none"> <li>1. Какие приборы применялись в данной работе для определяя параметров постоянного и переменного тока?</li> <li>2. Получите формулу для расчета полного сопротивления цепи переменного тока, используемой в данной работе (или представленной преподавателем).</li> <li>3. Как определялась индуктивность катушки в данной работе? Каким еще способом можно определить индуктивность?</li> <li>4. Продемонстрируйте возможность применения среды Microsoft Excel (или другой среды) для обработки экспериментальных данных.</li> </ol> <p style="text-align: center;"><b>1 курс (1 семестр)</b></p> <p style="text-align: center;"><b>№ 14 «Определение показателя адиабаты методом Клемана и Дезорма»</b></p> <ol style="list-style-type: none"> <li>1. Объясните ход эксперимента и результаты расчета.</li> <li>2. Назовите процессы, происходящие с газом, в ходе эксперимента и изобразите их графически.</li> <li>3. Запишите уравнения для вывода формулы показателя адиабаты.</li> </ol>

Код индикатора	Индикатор достижения компетенции	Оценочные средства
		<p>4. Продемонстрируйте возможность применения среды Microsoft Excel (или другой среды) для обработки экспериментальных данных.</p> <p>5. Как в данной работе минимизируется погрешность экспериментальных данных?</p> <p><b>№ 42 «Определение главных квантовых чисел возбужденных состояний атома водорода»</b></p> <p>1. Поясните устройство и принцип работы спектроскопа, используемого в данной работе</p> <p>2. Получите формулу для определения главных квантовых чисел возбужденных состояний атома водорода и других водородоподобных атомов</p> <p>3. Что называется градуировочным графиком?</p> <p>4. Продемонстрируйте возможность применения среды Microsoft Excel (или другой среды) для обработки экспериментальных данных</p>

## **б) Порядок проведения промежуточной аттестации, показатели и критерии оценивания:**

Промежуточная аттестация по дисциплине «Физика» включает теоретические вопросы, позволяющие оценить уровень усвоения обучающимися знаний, и практические задания, выявляющие степень сформированности умений и владений, проводится в форме экзамена (1курс, 1 и 2 семестр).

Экзамен по данной дисциплине проводится в устной форме по экзаменационным билетам, каждый из которых включает 2 теоретических вопроса и одно практическое задание.

### *Показатели и критерии оценивания экзамена:*

- на оценку **«отлично»** (5 баллов) – обучающийся демонстрирует высокий уровень сформированности компетенций, всестороннее, систематическое и глубокое знание учебного материала, свободно выполняет практические задания, свободно оперирует знаниями, умениями, применяет их в ситуациях повышенной сложности.
- на оценку **«хорошо»** (4 балла) – обучающийся демонстрирует средний уровень сформированности компетенций: основные знания, умения освоены, но допускаются незначительные ошибки, неточности, затруднения при аналитических операциях, переносе знаний и умений на новые, нестандартные ситуации.
- на оценку **«удовлетворительно»** (3 балла) – обучающийся демонстрирует пороговый уровень сформированности компетенций: в ходе контрольных мероприятий допускаются ошибки, проявляется отсутствие отдельных знаний, умений, навыков, обучающийся испытывает значительные затруднения при оперировании знаниями и умениями при их переносе на новые ситуации.
- на оценку **«неудовлетворительно»** (2 балла) – обучающийся демонстрирует знания не более 20% теоретического материала, допускает существенные ошибки, не может показать интеллектуальные навыки решения простых задач.
- на оценку **«неудовлетворительно»** (1 балл) – обучающийся не может показать знания на уровне воспроизведения и объяснения информации, не может показать интеллектуальные навыки решения простых задач.