



МИНИСТЕРСТВО НАУКИ И ВЫСШЕГО ОБРАЗОВАНИЯ  
РОССИЙСКОЙ ФЕДЕРАЦИИ

Федеральное государственное бюджетное образовательное учреждение  
высшего образования  
«Магнитогорский государственный технический университет им. Г.И. Носова»



УТВЕРЖДАЮ  
Директор ИГДиТ  
С.Е. Гавришев

25.02.2020 г.

**РАБОЧАЯ ПРОГРАММА ДИСЦИПЛИНЫ (МОДУЛЯ)**

***МАРКШЕЙДЕРСКИЕ РАБОТЫ ПРИ СТРОИТЕЛЬСТВЕ ПОДЗЕМНЫХ  
СООРУЖЕНИЙ***

Направление подготовки (специальность)  
21.05.04 ГОРНОЕ ДЕЛО

Направленность (профиль/специализация) программы  
21.05.04 специализация N 4 "Маркшейдерское дело"

Уровень высшего образования - специалитет

Форма обучения


заочная

Институт/ факультет	Институт горного дела и транспорта
Кафедра	Геологии, маркшейдерского дела и обогащения полезных ископаемых
Курс	5

Магнитогорск  
2019 год

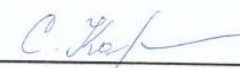
Рабочая программа составлена на основе ФГОС ВО по специальности 21.05.04 Горное дело (приказ Минобрнауки России от 17.10.2016 г. № 1298)

Рабочая программа рассмотрена и одобрена на заседании кафедры Геологии, маркшейдерского дела и обогащения полезных ископаемых  
23.01.2020, протокол № 5


Зав. кафедрой  И.А. Гришин

Рабочая программа одобрена методической комиссией ИГДиТ  
25.02.2020 г. протокол № 7

Председатель  С.Е. Гавришев

Рабочая программа составлена:  
ст. преподаватель кафедры ГМДиОПИ,  С. О. Картунова

Рецензент:  
директор ООО "Магнитогорская маркшейдерско-геодезическая компания",

 А. А. Шекунова



**Лист актуализации рабочей программы**

---

Рабочая программа пересмотрена, обсуждена и одобрена для реализации в 2020 - 2021 учебном году на заседании кафедры Геологии, маркшейдерского дела и обогащения

Протокол от 03 сентября 2020 г. № 1  
Зав. кафедрой  И.А. Гришин

---

Рабочая программа пересмотрена, обсуждена и одобрена для реализации в 2021 - 2022 учебном году на заседании кафедры Геологии, маркшейдерского дела и обогащения

Протокол от \_\_\_\_\_ 20\_\_ г. № \_\_  
Зав. кафедрой \_\_\_\_\_ И.А. Гришин

---

Рабочая программа пересмотрена, обсуждена и одобрена для реализации в 2022 - 2023 учебном году на заседании кафедры Геологии, маркшейдерского дела и обогащения

Протокол от \_\_\_\_\_ 20\_\_ г. № \_\_  
Зав. кафедрой \_\_\_\_\_ И.А. Гришин

---

Рабочая программа пересмотрена, обсуждена и одобрена для реализации в 2023 - 2024 учебном году на заседании кафедры Геологии, маркшейдерского дела и обогащения

Протокол от \_\_\_\_\_ 20\_\_ г. № \_\_  
Зав. кафедрой \_\_\_\_\_ И.А. Гришин

---

Рабочая программа пересмотрена, обсуждена и одобрена для реализации в 2024 - 2025 учебном году на заседании кафедры Геологии, маркшейдерского дела и обогащения

Протокол от \_\_\_\_\_ 20\_\_ г. № \_\_  
Зав. кафедрой \_\_\_\_\_ И.А. Гришин

---

Рабочая программа пересмотрена, обсуждена и одобрена для реализации в 2025 - 2026 учебном году на заседании кафедры Геологии, маркшейдерского дела и обогащения

Протокол от \_\_\_\_\_ 20\_\_ г. № \_\_  
Зав. кафедрой \_\_\_\_\_ И.А. Гришин

### **1 Цели освоения дисциплины (модуля)**

Целью освоения дисциплины «Маркшейдерские работы при строительстве подземных сооружений» являются: освоение студентами знания маркшейдерских работ, которые являются неотъемлемой частью технологического процесса при проектировании и строительстве различных инженерных сооружений и горно-промышленных объектов. Основной целью преподавания дисциплины является формирование у горного инженера знаний состава геодезических работ, обеспечивающих использование технических средств, испытания техники и технологии при эксплуатационной разведке, добыче, переработке твердых полезных ископаемых и строительству подземных объектов.

Задачи дисциплины "Маркшейдерские работы при строительстве подземных сооружений" заключается в обучении студентов определять пространственно-временные характеристики со-стояния земной поверхности, недр, горнотехнических систем, подземного пространства и графически отображать информацию в различных видах; составлять документацию в соответствии с современными нормативными требованиями; осуществлять перенос в натуру проектных элементов подземных сооружений и границ различного назначения.

### **2 Место дисциплины (модуля) в структуре образовательной программы**

Дисциплина Маркшейдерские работы при строительстве подземных сооружений входит в вариативную часть учебного плана образовательной программы.

Для изучения дисциплины необходимы знания (умения, владения), сформированные в результате изучения дисциплин/ практик:

Геодезия

Физика

Начертательная геометрия, инженерная и компьютерная графика

Математика

Геодезия и маркшейдерия

Знания (умения, владения), полученные при изучении данной дисциплины будут необходимы для изучения дисциплин/практик:

Экономика и менеджмент горного производства

Маркшейдерское обеспечение безопасности ведения горных работ

Производственная - практика по получению первичных профессиональных умений и навыков

### **3 Компетенции обучающегося, формируемые в результате освоения дисциплины (модуля) и планируемые результаты обучения**

В результате освоения дисциплины (модуля) «Маркшейдерские работы при строительстве подземных сооружений» обучающийся должен обладать следующими компетенциями:

Структурный элемент компетенции	Планируемые результаты обучения
	ПК-7 умением определять пространственно-геометрическое положение объектов, осуществлять необходимые геодезические и маркшейдерские измерения, обрабатывать и интерпретировать их результаты

Знать	<ul style="list-style-type: none"> <li>- основные определения и понятия пространственно-геометрических положений объектов</li> <li>- основные методы исследований, используемых в маркшейдерских и геодезических измерениях.</li> <li>- основные способы и правила обработки и интерпретации результатов маркшейдерско-геодезических съемок.</li> </ul>
Уметь	<ul style="list-style-type: none"> <li>- обсуждать способы эффективного решения в получении пространственно-геометрического положения объектов.</li> <li>- приобретать знания в области производства маркшейдерских и геодезических измерений</li> <li>- корректно выражать и аргументированно обосновывать положения предметной области знания обработки результатов маркшейдерских съемок</li> </ul>
Владеть	<ul style="list-style-type: none"> <li>- способами демонстрации умения анализировать ситуацию определения пространственно-геометрическое положение объектов</li> <li>- методами маркшейдерских и геодезических измерений.</li> <li>- способами оценивания значимости и практической пригодности полученных результатов необходимых при обработке маркшейдерско-геодезических съемок в программном обеспечении.</li> </ul>
<p>ПК-11 способностью разрабатывать и доводить до исполнителей наряды и задания на выполнение горных, горно-строительных и буровзрывных работ, осуществлять контроль качества работ и обеспечивать правильность выполнения их исполнителями, составлять графики работ и перспективные планы, инструкции, сметы, заявки на материалы и оборудование, заполнять необходимые отчетные документы в соответствии с установленными формами</p>	
Знать	<ul style="list-style-type: none"> <li>- основные определения и понятия разработки планов и дачи нарядов на выполнение горных работ.</li> <li>- основные методы исследований разработки планов и мероприятий по снижению нагрузки на окружающую среду.</li> <li>- корректно выражать и аргументированно обосновывать способы разработки планов и мероприятий при переработке ПИ и эксплуатации МПИ.</li> </ul>
Уметь	<ul style="list-style-type: none"> <li>- обсуждать способы эффективных разработок планов и нарядов</li> <li>- приобретать знания в области разработки мероприятий по снижению нагрузки на окружающую среду.</li> <li>- корректно выражать и аргументированно обосновывать и демонстрировать навыки разработки мероприятий при переработке ПИ и эксплуатации МПИ.</li> </ul>
Владеть	<ul style="list-style-type: none"> <li>- способами демонстрации умения анализировать и доводить до исполнителей наряды и задания.</li> <li>- методами разработки мероприятий по снижению нагрузки на окружающую среду.</li> <li>- способами оценивания значимости и практической пригодности полученных результатов и качественного производства контроля за горными работами и обеспечивать правильность выполнения их исполнителями.</li> </ul>

<p>ПК-20 умением разрабатывать необходимую техническую и нормативную документацию в составе творческих коллективов и самостоятельно, контролировать соответствие проектов требованиям стандартов, техническим условиям и документам промышленной безопасности, разрабатывать, согласовывать и утверждать в установленном порядке технические, методические и иные документы, регламентирующие порядок, качество и безопасность выполнения горных, горно-строительных и взрывных работ</p>	
Знать	<ul style="list-style-type: none"> <li>- основные определения и понятия при разработке нормативной документации.</li> <li>- основные методы исследований проектов самостоятельно.</li> <li>- корректно выражать и аргументированно обосновывать разработку проектной</li> </ul>
Уметь	<ul style="list-style-type: none"> <li>- обсуждать способы эффективного решения правильно использовать техническую и нормативную документацию.</li> <li>- приобретать знания в области производства контроля на соответствие проектов требованиям стандартов.</li> <li>- корректно выражать и аргументированно обосновывать, разрабатывать и контролировать техническую и нормативную документацию. Контролировать на соответствие с нормативными документами Правильно разрабатывать самостоятельно и защищать отчеты</li> </ul>
Владеть	<ul style="list-style-type: none"> <li>- способами демонстрации умения анализировать приемы создания технической и нормативной документации Приемами лабораторных исследований</li> <li>- методами разработки мероприятий по снижению затрат на контроль соответствия проектов требованиям стандартов Приемами выполнения и интерпретации полученных результатов</li> <li>- способами оценивания значимости и практической пригодности полученных результатов в разработке и контроле технической и нормативной документации Приемами и навыками самостоятельно составлять и защищать отчеты</li> </ul>
<p>ПК-22 готовностью работать с программными продуктами общего и специального назначения для моделирования месторождений твердых полезных ископаемых, технологий эксплуатационной разведки, добычи и переработки твердых полезных ископаемых, при строительстве и эксплуатации подземных объектов, оценке экономической эффективности горных и горно-строительных работ, производственных, технологических, организационных и финансовых рисков в рыночных условиях</p>	
Знать	<ul style="list-style-type: none"> <li>- основные определения и понятия, применяемые при лабораторных исследованиях</li> <li>- основные методы исследований и способы выполнения и интерпретации полученных результатов</li> <li>- корректно выражать и аргументированно обосновывать данные при составлении и защите отчетов</li> </ul>
Уметь	<ul style="list-style-type: none"> <li>- обсуждать способы эффективного решения использования лабораторных исследований</li> <li>- приобретать знания в области производства, вычисления и интерпретирования полученных результатов</li> <li>- корректно выражать и аргументированно обосновывать результаты разработанных тем и самостоятельно защищать отчеты</li> </ul>

Владеть	<ul style="list-style-type: none"> <li>- способами демонстрации умения анализировать лабораторные исследования</li> <li>- методами разработки мероприятий по снижению времени по выполнению и интерпретации полученных результатов</li> <li>- способами оценивания значимости и практической пригодности полученных результатов при самостоятельном составлении и защиты отчетов</li> <li>- способами оценки экономической эффективности горных и горно-строительных работ.</li> </ul>
<p>ПСК-4.1 готовностью осуществлять производство маркшейдерско-геодезических работ, определять пространственно-временные характеристики состояния земной поверхности и недр, горно-технических систем, подземных и наземных сооружений и отображать информацию в соответствии с современными нормативными требованиями</p>	
Знать	<ul style="list-style-type: none"> <li>- основные определения и понятия при маркшейдерско- геодезических работах</li> <li>- основные методы исследований способов определения пространственно-временных характеристик состояния земной поверхности и недр</li> <li>- корректно выражать и аргументированно обосновывать способы определения и нахождения в пространстве подземных и наземных сооружений</li> </ul>
Уметь	<ul style="list-style-type: none"> <li>- обсуждать способы эффективного решения производства маркшейдерских работ</li> <li>- приобретать знания в области производства съемок на поверхности и в недрах земли.</li> <li>- корректно выражать и аргументированно обосновывать и качественно делать расчеты и оформлять их</li> </ul>
Владеть	<ul style="list-style-type: none"> <li>- способами демонстрации умения анализировать приемы всех видов маркшейдерских работ</li> <li>- методами разработки мероприятий по снижению времени съемок на поверхности и в недрах земли</li> <li>- способами оценивания значимости и практической пригодности полученных результатов при ведении всех видов маркшейдерских работ на поверхности и в подземных горных условиях</li> </ul>
<p>ПСК-4.2 готовностью осуществлять планирование развития горных работ и маркшейдерский контроль состояния горных выработок, зданий, сооружений и земной поверхности на всех этапах освоения и охраны недр с обеспечением промышленной и экологической безопасности</p>	
Знать	<ul style="list-style-type: none"> <li>- основные определения и понятия осуществления планирования текущих планов</li> <li>- основные методы исследований способов планирования развития горных работ</li> <li>- корректно выражать и аргументированно обосновывать маркшейдерский контроль за состоянием горных выработок</li> </ul>

Уметь	<ul style="list-style-type: none"> <li>- обсуждать способы эффективного решения при планировании текущих планов</li> <li>- приобретать знания в области производства научных методов при планировании и контроле за ведением горных работ.</li> <li>- корректно выражать и аргументированно обосновывать научные методы кон-троля на всех этапах освоения и охраны недр с обеспечением промышленной и экологической безопасности.</li> </ul>
Владеть	<ul style="list-style-type: none"> <li>- способами демонстрации умения анализировать приемы планирования теку-щих планов</li> <li>- методами разработки мероприятий по снижению ошибок при использовании научных методов при планировании и контроле за ведением горных работ</li> <li>- способами оценивания значимости и практической пригодности полученных результатов при планировании и контроле за ведением горных работ на горном предприятии в соответствии с нормативными документами.</li> </ul>
<p>ПСК-4.5 способностью анализировать и типизировать условия разработки месторождений полезных ископаемых для их комплексного использования, выполнять различные оценки недропользования</p>	
Знать	<ul style="list-style-type: none"> <li>- основные определения и понятия оценки недропользования</li> <li>- основные методы исследований условий разработки месторождения ПИИ</li> <li>- корректно выражать и аргументированно обосновывать методы и условия комплексного использования МПИ</li> </ul>
Уметь	<ul style="list-style-type: none"> <li>- обсуждать способы эффективного решения оценки условий разработки МПИ .</li> <li>-приобретать знания в области правильного типизировать условия разработки МПИ и его комплексного использования</li> <li>- корректно выражать и аргументированно обосновывать и анализировать оценку недропользования</li> </ul>
Владеть	<ul style="list-style-type: none"> <li>- способами демонстрации умения анализировать различную документацию при оценке условий разработки МПИ</li> <li>- методами разработки мероприятий по создания маркшейдерской документации при разработке МПИ и его комплексного использования</li> <li>- способами оценивания значимости и практической пригодности полученных результатов и навыков при анализике условий разработки и выполнении оценок недропользования и создания маркшейдерской документации в соответствии с ГОСТами и нормативными документами.</li> </ul>
<p>ПСК-4.6 способностью организовывать деятельность подразделений маркшейдерского обеспечения недропользования, в том числе в режиме чрезвычайных ситуаций</p>	
Знать	<ul style="list-style-type: none"> <li>- основные определения и понятия в режиме чрезвычайных ситуаций</li> <li>- основные методы исследований при организации деятельности подразделений маркшейдерского обеспечения недропользования</li> <li>- корректно выражать и аргументированно обосновывать способы организации работы маркшейдерской службы в режиме чрезвычайных ситуаций</li> </ul>



Уметь	<ul style="list-style-type: none"><li>- обсуждать способы эффективного решения при работе маркшейдерской служ-бы</li><li>- приобретать знания в области производства и организации маркшейдерской службы.</li><li>- корректно выражать и аргументированно обосновывать работу маркшейдер-ской службы в режиме чрезвычайных ситуаций.</li></ul>
Владеть	<ul style="list-style-type: none"><li>- способами демонстрации умения анализировать деятельность подразделений маркшейдерского обеспечения недропользования</li><li>- методами разработки мероприятий по организации работы маркшейдерской службы</li><li>- способами оценивания значимости и практической пригодности полученных результатов при организации работы маркшейдерской службы в режиме чрез-вычайных ситуаций</li></ul>

#### 4. Структура, объём и содержание дисциплины (модуля)

Общая трудоемкость дисциплины составляет 7 зачетных единиц 252 акад. часов, в том числе:

- контактная работа – 17,3 акад. часов;
- аудиторная – 14 акад. часов;
- внеаудиторная – 3,3 акад. часов
- самостоятельная работа – 222,1 акад. часов;
- подготовка к экзамену – 8.7 акад. часа
- подготовка к зачёту – 3.9 акад. часа

Форма аттестации - зачет, экзамен

Раздел/ тема дисциплины	Курс	Аудиторная контактная работа (в акад. часах)			Самостоятельная работа студента	Вид самостоятельной работы	Форма текущего контроля успеваемости и промежуточной аттестации	Код компетенции
		Лек.	лаб. зан.	практ. зан.				
1. Маркшейдерское обеспечение при строительстве горного предприятия на поверхности		Установочная сессия						
1.1 Введение. Общие сведения о маркшейдерских работах при строительстве шахт и сооружений. Проект-ная документация. Задачи маркшейде-ра при строительстве горного пред-приятия. СНИПы.		0.5			14	Проработка лекционного материала		ПК-11, ПК-20
1.2 Маркшейдерские опорные сети. Создание (реконструкция) маркшейдерской опорной сети и сети съёмочного обоснования. Перенесение в натуру геометрических элементов сооружений различными методами. Точность разбивочных работ. Разбивка центра и осей ствола шахты. Создание строительной сетки. Условная система координат. Вертикальная планировка промплощадки. Разбивочные работы при укладке подъездных путей и строительстве зданий и сооружений.	6	1		2	14	Расчеты практических ра-бот, чертежные работы	Защита практических ра-бот	ПК-20, ПК-22, ПСК-4.2

<p>1.3 Основные геометрические элементы шахтного подъема. Работа по возведению копров однократного и многократного подъемов. Приборы вертикального проектирования. Передача шахтного ствола на горизонты перекрытия. Проверка соотношения геометрических элементов одноканатной и многоканатной подъемных установок. Методика и точность выполнения работ.</p>	0.5		2	14	Расчетные работы	Защита практических работ	ПСК-4.5
<p>1.4 Маркшейдерские работы при проходке и креплении стволов  Назначение, особенности строительства и эксплуатации вертикальных стволов, допуски на точность их возведения. Работы по проходке устьев стволов и установка рамы-шаблона. Способы проходки и крепления стволов. Составление маркшейдерской документации.  Профилирование стенок ствола шахты.  Звуколокационная съемка стенок ствола.</p>	1			14	Проработка лекционного материала		ПК-7, ПСК-4.1, ПСК-4.6

<p>1.5 Маркшейдерские работы при армировании. Требования при установке расстрелов, составление проекта расположения и закрепления армировочных отвесов. Конструкция шаблонов. Жесткая и канатная армировка. Профилирование расстрелов, проводников при помощи шахтных отвесов, автоматической станции, системы проекциометра. Маркшейдерские работы при сооружении стволов специальными способами, при углубке вертикальных стволов различными способами. Восстановление центра и осей ствола. Наблюдения за деформациями крепления и армировании. Маркшейдерские работы при проходке наклонных стволов. Допуск точности. Дополнительная документация</p>		1			15.4	Проработка лекционного материала		ПК-7, ПСК-4.5
Итого по разделу		4		4	71.4			
2. Маркшейдерское обеспечение при строительстве подземных выработок	Зимняя сессия							
<p>2.1 Маркшейдерские работы при проведении околоствольных выработок Маркшейдерские работы при проведении околоствольных выработок, назначение, особенности их строительства и эксплуатации. Проектная документация. Увязка проектных полигонов (в плане и по высоте) по околоствольным выработкам. Маркшейдерские работы при рассечке околоствольных выработок, задание направлений в горизонтальной и вертикальной плоскостях. Контроль за проходкой.</p>	6	1		2	8	Расчеты практических работ, чертежные работы	Защита практических работ	ПСК-4.1, ПСК-4.2

<p>2.2 Общие сведения о горизонтальных и соединительных подземных съемках. Виды и способы ориентирования. Геометрическое ориентирование. Гироскопическое ориентирование. Ориентирование подэтажных горизонтов. Вертикальное ориентирование.</p>				8	<p>Расчеты практических работ, чертежные работы</p>	<p>Защита практических работ</p>	<p>ПК-7, ПК-11, ПСК-4.1</p>
<p>2.3 Задание направления горным выработкам в горизонтальной плоскости, вертикальной плоскости. Марк-шейдерские работы при проведении выработок встречными забоями.</p>				8	<p>Расчеты практических работ, чертежные работы</p>	<p>Защита практических работ</p>	<p>ПК-7, ПК-20, ПСК-4.1, ПСК-4.2</p>
<p>2.4 Съемка очистных и нарезных горных выработок. Работы при настилке путей в шахте, возведение фундаментов под горнотранспортное оборудование и его монтаж. Допуски, точность. Маркшейдерская документация при сдаче шахты в эксплуатацию.</p>				8	<p>Проработка лекционного материала</p>		<p>ПК-7, ПСК-4.1, ПСК-4.2</p>

<p>2.5 Геометрический и гироскопический способ ориентирования. Передача высотных отметок. Подземная полигонометрия. Виды полигонометрических ходов в тоннелестроении. Приборы, методики, точность выполнения работ. Определение положения пунктов полигонометрии относительно оси трасы на прямолинейном и криволинейном участках тоннеля. Расчет точности измерения горизонтальных углов, расстояний. Вычисление длин сторон хода главной полигонометрии, маркшейдерские работы при укладке ж/д путей в тоннелях. Маркшейдерские работы при проходке тоннелей горным и щитовым способом. Применение лазерных указателей для задания направления забоям горных выработок. Исполнительная маркшейдерская документация, СНИ-Пы.</p>	1			8	Расчеты практических работ, чертежные работы	Защита практических работ	ПК-7, ПСК-4.1, ПСК-4.2
<p>2.6 Маркшейдерские работы при строительстве тоннелей  Маркшейдерские работы при строительстве тоннелей, метрополитенов. Общие сведения о строительстве метрополитенов.  Тоннельная триангуляция и полигонометрия на поверхности, требования к ним по допускам.  Разбивочные работы при проходке штольни, вертикальных выработок и эскалаторных тоннелей.  Особенности ориентирно-соединительных съемок при строительстве тоннелей.</p>				8	Расчеты практических работ, чертежные работы	Защита практических работ	ПК-7, ПК-11, ПК-20, ПСК-4.1

2.7 Маркшейдерские работы при строительстве камер Маркшейдерские работы при строительстве подземных сооружений большого сечения (камер). Общие сведения о сооружениях большого сечения, их классификация. Особенности маркшейдерских работ при строительстве выработок большого сечения.				8	Проработка лекционного материала		ПК-7, ПСК-4.1
2.8 Подземная полигонометрия в транспортных штольнях (тоннелях). Ориентирно-соединительная съемка. Маркшейдерские работы при проходке готовых горных выработок, бетонирование сводовой части камеры. Исполнительная съемка, документация строительства подземных сооружений. Меры безопасности при выполнении маркшейдерских работ.				8	Расчеты практических работ, чертежные работы	Защита практических работ	ПК-7, ПСК-4.1, ПСК-4.6
2.9 Маркшейдерская документация при сдаче шахты и тоннеля в эксплуатацию.				7.7	Проработка лекционного материала		ПК-7, ПК-11, ПК-20, ПСК-4.1, ПСК-4.2, ПСК-4.6, ПК-22, ПСК-4.5
Итого по разделу	2		2	71.7		зачет	
3. Тонельная триангуляция	Летняя сессия						
3.1. Тема Подземная полигонометрия в транспортных штольнях (тоннелях). Ориентирно-соединительная съемка.				79	Расчеты практических работ, чертежные работы	Защита практических работ	ПК-7, ПК-11, ПК-20, ПСК-4-1,
Итого по разделу			2	79		экзамен	
Итого за семестр	6		8	222.1		экзамен, зачёт	
Итого по дисциплине	6		8	222.1		зачет, экзамен	ПК-11, ПК-20, ПК-22, ПСК-4.2, ПСК-4.5, ПК-7, ПСК-4.1, ПСК-4.6

## **5 Образовательные технологии**

Для реализации предусмотренных видов учебной работы в качестве образовательных технологий в преподавании дисциплины «Маркшейдерские работы при строительстве под-земных сооружений» используются традиционная и модульно-компетентностная технологии.

Для формирования знаний по курсу «Маркшейдерские работы при строительстве под-земных сооружений» используются:

- обзорные лекции – для рассмотрения общих вопросов информатики и информационных технологий, для систематизации и закрепления знаний;
- информационные – для ознакомления с техническими средствами реализации информационных процессов, со стандартами организации сетей, основными приемами защиты информации, и другой справочной информацией;
- лекции-визуализации – для наглядного представления способов решения алгоритмических и функциональных задач, визуализации результатов решения задач;
- проблемная - для развития исследовательских навыков и изучения способов решения задач.
- лекции с заранее запланированными ошибками – направленные на поиск студента-ми синтаксических и алгоритмических ошибок при решении алгоритмических и функциональных задач, с последующей диагностикой слушателей и разбором сделанных ошибок.
- case-study
  - Разбор результатов тематических контрольных работ, анализ ошибок, совместный поиск вариантов рационального решения учебной проблемы.
- проблемное обучение
  - Подготовка тематических рефератов, содержащих разделы, частично или полностью выносимые на самостоятельное изучение.
- учебная дискуссия
  - Проведение семинаров, посвященных вопросам информатики, подготовка тематических презентаций по заданным темам, и дальнейший обмен взглядами по конкретной проблеме.
- использование тренингов
  - Подготовка и проведение демонстрационных, тематических и итоговых компьютерных тестирований как в качестве локальных, так и внешних контрольных мероприятий.

## **6 Учебно-методическое обеспечение самостоятельной работы обучающихся**

Представлено в приложении 1.

## **7 Оценочные средства для проведения промежуточной аттестации**

Представлены в приложении 2.

## **8 Учебно-методическое и информационное обеспечение дисциплины (модуля)**

### **а) Основная литература:**

1. Получение аналитических моделей и расчетных методик, применимых для решения маркшейдерских задач. Горный информационно-аналитический бюллетень (научно-технический журнал). № 4 [Электронный ресурс] : сборник научных трудов / В.Н. Гусев [и др.]. — Электрон. дан. — Москва : Горная книга, 2018. — 16 с. — Режим доступа: <https://e.lanbook.com/book/111356>. — Загл. с экрана.

2. Сапронова, Н.П. Проектирование производства маркшейдерских работ при проведении горных выработок встречными забоями : методические указания к курсовому проектированию [Электронный ресурс] : методические указания / Н.П.



Сапронова. — Электрон. дан. — Москва : МИСИС, 2016. — 25 с. — Режим доступа: <https://e.lanbook.com/book/93617>. — Загл. с экрана

3. Совершенствование геолого-маркшейдерских работ при обслуживании горнодобывающих предприятий. Горный информационно-аналитический бюллетень (научно-технический журнал). № 6 [Электронный ресурс] : сборник научных трудов. — Электрон. дан. — Москва : Горная книга, 2018. — 124 с. — Режим доступа: <https://e.lanbook.com/book/111369>. — Загл. с экрана.

4. Дьяков, Б.Н. Геодезия [Электронный ресурс] : учебник / Б.Н. Дьяков. — Электрон. дан. — Санкт-Петербург : Лань, 2018. — 416 с. — Режим доступа: <https://e.lanbook.com/book/102589>. — Загл. с экрана.

#### **б) Дополнительная литература:**

1. Геодезия [Электронный ресурс]: Учебник / В.Н. Попов, С.И. Чекалин. - М.: Горная книга, 2007. - 722с. Режим доступа:

[http://e.lanbook.com/books/element.php?pl1\\_id=3294](http://e.lanbook.com/books/element.php?pl1_id=3294). — Заглавие с экрана ISBN: 5-9

Симонян, В.В. Геодезия [Электронный ресурс] : учебное пособие / В.В. Симонян, О.Ф. Кузнецов. — Электрон. дан. — Москва : МИСИ – МГСУ, 2018. — 160 с. —

Режим доступа: <https://e.lanbook.com/book/108516>. — Загл. с экрана.

2. Кузнецов, О.Ф. Основы геодезии и топография местности [Электронный ресурс] : учебное пособие / О.Ф. Кузнецов. — Электрон. дан. — Вологда : "Инфра-Инженерия", 2018. — 286 с. — Режим доступа:

<https://e.lanbook.com/book/108671>. — Загл. с экрана. 1003-028-6

#### **в) Методические указания:**

1. С.О. Картунова, Е.А. Романько, М.Ф. Тулубаева, К.С. Наумова практикум Марк-шейдерские работы при строительстве подземных сооружений ФГБОУ ВО «Магнитогорский государственный технический университет им. Г.И. Носова». для студентов специальности 130402 – «Маркшейдерское дело» направления 25.05.04 – «Горное дело», ФГБОУ ВО «Магнитогорский государственный технический университет им. Г.И. Носова», 2017 – 61с. Приложение А

2. Сапронова, Н.П. Проектирование производства маркшейдерских работ при проведении горных выработок встречными забоями : методические указания к курсовому проектированию [Электронный ресурс] : методические указания / Н.П. Сапронова. — Электрон. дан. — Москва : МИСИС, 2016. — 25 с. — Режим доступа: <https://e.lanbook.com/book/93617>. — Загл. с экрана

3. Хонякин В.Н. Графические работы. Методические указания по составлению со-вмещенного плана теодолитно-тахеометрической съемки по дисциплинам «Геодезия», «Геодезия и маркшейдерия», «Инженерная геодезия» и «Картография с основами топографии» для студентов специальностей 050103, 270102, 270105, 270106,

270109, 270301, 130402 дневной формы обучения. Магнитогорск: ГОУ ВПО «МГТУ», 2010 – 32с. Приложение Б

#### **г) Программное обеспечение и Интернет-ресурсы:**

##### **Программное обеспечение**

Наименование ПО	№ договора	Срок действия лицензии
-----------------	------------	------------------------

MS Windows 7 Professional(для классов)	Д-1227-18 от 08.10.2018	11.10.2021
MS Windows 7 Professional (для классов)	Д-757-17 от 27.06.2017	27.07.2018
MS Office 2007 Professional	№ 135 от 17.09.2007	бессрочно
7Zip	свободно распространяемое ПО	бессрочно

### **Профессиональные базы данных и информационные справочные системы**

Название курса	Ссылка
Национальная информационно-аналитическая система – Российский индекс научного цитирования (РИНЦ)	URL: <a href="https://elibrary.ru/project_risc.asp">https://elibrary.ru/project_risc.asp</a>
Поисковая система Академия Google (Google Scholar)	URL: <a href="https://scholar.google.ru/">https://scholar.google.ru/</a>
Информационная система - Единое окно доступа к информационным ресурсам	URL: <a href="http://window.edu.ru/">http://window.edu.ru/</a>

### **9 Материально-техническое обеспечение дисциплины (модуля)**

Материально-техническое обеспечение дисциплины включает:

Учебные аудитории для проведения занятий лекционного типа:

Мультимедийные средства хранения, передачи и представления информации, а также имеющиеся на кафедре средства обучения.

Учебные аудитории для проведения практических занятий, групповых и индивидуальных консультаций, текущего контроля и промежуточной аттестации:

Плакатный материал

Комплект государственных стандартов, касающихся шахтного строительства;

Изучение отсчётных устройств теодолитов, отсчитывание по нивелирной рейке - выполняется с применением ПЭВМ:

на кафедре разработаны плакаты- тренажёры.

Вычисление площадей фигур на планах и картах выполняется с помощью полярных планиметров ПП-2К.

Аналитическое вычисление площадей участков по геодезическим данным выполняется на калькуляторах, ПЭВМ по

программам, разработанным на кафедре, с помощью программных продуктов CREDO, NEWZEM, ИНГЕО.

Помещение для хранения и профилактического обслуживания учебного оборудования: Стеллажи для хранения учебно-наглядных пособий и учебно-методической документации.

## 6 Учебно-методическое обеспечение самостоятельной работы обучающихся

Аудиторная самостоятельная работа студентов на практических занятиях, осуществляется под контролем преподавателя в виде решения задач и выполнения упражнений, которые определяет преподаватель для студента.

Внеаудиторная самостоятельная работа студентов осуществляется в виде чтения литературы по соответствующему разделу с проработкой материала и выполнения домашних заданий с консультациями преподавателя.

Виды	Формы контроля
Подготовка докладов, рефератов по темам	Защита рефератов, выступление с докладами на семинарах, конференциях
Выполнение практических работ	Проверка и защита работ
Поиск дополнительной информации по заданной теме (работа с библиографическими материалами, справочниками, каталогами, словарями, энциклопедиями)	Практические работы

### Примерные темы докладов, рефератов:

Проведение выработок встречными забоями.

Маркшейдерские работы при проходке шахтных стволов с помощью замораживания горных пород.

Маркшейдерские работы при монтаже оборудования подъемных установок

Щитовая проходка тоннелей.

### Оценочные средства для текущего контроля успеваемости, промежуточной аттестации по итогам освоения дисциплины

#### Оценочные средства для проведения промежуточной аттестации по дисциплине Маркшейдерские работы при строительстве подземных сооружений

##### 1. Введение.

1. Задачи маркшейдера при строительстве горного предприятия.
2. Какие СНИПы необходимо использовать при строительстве подземных сооружений?

##### 2. Маркшейдерские опорные сети.

1. Какие требования применяют к маркшейдерско-геодезическим планово-высотным сетям?
2. Какова точность разбивочных работ?

3. Создание строительной сетки.
4. Что такое условная система координат.
5. Вертикальная планировка промплощадки.

### **3. Основные геометрические элементы шахтного подъема**

1. Перечислите основные геометрические элементы шахтного подъема.
2. Что такое приборы вертикального проектирования.
3. Как происходит передача шахтного ствола на горизонты перекрытия.
4. Какими способами происходит проверка соотношения геометрических элементов одноканатной и многоканатной подъемных установок.
5. Осветить методику и точность выполнения работ по маркшейдерской проверке подъемной установки.

### **4. Маркшейдерские работы при проходке и креплении стволов**

1. Маркшейдерские работы при проходке и креплении стволов.
2. Способы проходки и крепления стволов.
3. Что такое рама-шаблон.
4. Какими способами проводится профилирование стенок ствола шахты.
5. Жесткая и канатная армировка шахтных стволов.
6. Наблюдения за деформациями крепления и армировки.

### **5. Маркшейдерские работы при проведении околоствольных выработок**

1. Маркшейдерские работы при проведении околоствольных выработок.
2. Проектная документация.
3. Как производится увязка проектных полигонов (в плане и по высоте) по околоствольным выработкам.
4. Какой производится контроль за проходкой околоствольных выработок.
5. Какая маркшейдерская документация необходима при сдаче шахты в эксплуатацию.

### **6. Маркшейдерские работы при строительстве тоннелей**

1. Рассказать о маркшейдерских работах при строительстве тоннелей, метрополитенов.
2. Какие требования по допускам предъявляются при создании тоннельной триангуляции и полигонометрии на поверхности.
3. Особенности ориентирно-соединительных съемок при строительстве тоннелей.
4. Назовите виды полигонометрических ходов в тоннелестроении.
5. Чем отличаются маркшейдерские работы при проходке тоннелей горным и щитовым способом.
6. Применение лазерных указателей для задания направления забоям горных выработок.

### **7. Маркшейдерские работы при строительстве камер**

1. Маркшейдерские работы при строительстве подземных сооружений большого сечения (камер).
2. Расскажите об особенностях маркшейдерских работ при строительстве выработок большого сечения.
3. Что такое исполнительная съемка?
4. Меры безопасности при выполнении маркшейдерских работ.

### **8. Маркшейдерская документация при сдаче шахты в эксплуатацию**

1. Хранение графической документации при сдаче шахты в эксплуатацию.
2. Какие документы необходимо подготовить при сдаче шахты в эксплуатацию?

## **7 Оценочные средства для проведения промежуточной аттестации**

В образовательной программе специалитета по дисциплине «Маркшейдерские работы при строительстве подземных сооружений» включены следующие компетенции: ПК-7, ПК-11, ПК-20, ПК-22, ПСК-4.1, ПСК-4.2, ПСК-4.5, ПСК-4.6.

В результате освоения дисциплины обучающийся должен:

**знать** способы развития съёмочного обоснования, основные типы сбоек, особенности маркшейдерских работ при различных системах разработки рудных месторождений;

**уметь** получать данные для вынесения проекта в натуру, выполнять маркшейдерский контроль за соблюдением проектных геометрических элементов объектов; решать различные горнотехнические задачи;

**владеть** методами разработки мероприятий по обеспечению соответствия фактического состояния объектов проектному; работой с геодезическими приборами и инструментами, ведения основных видов съёмок, как земной поверхности, так и горных выработок, обработки результатов измерений.

**а) Планируемые результаты обучения и оценочные средства для проведения промежуточной аттестации:**

Структурный элемент компетенции	Планируемые результаты обучения	Оценочные средства
ПК-7 умением определять пространственно-геометрическое положение объектов, осуществлять необходимые геодезические и маркшейдерские измерения, обрабатывать и интерпретировать их результаты		
Знать	<ul style="list-style-type: none"> <li>- основные определения и понятия пространственно-геометрических положений объектов</li> <li>- основные методы исследований, используемых в маркшейдерских и геодезических измерениях.</li> <li>-основные способы и правила обработки и интерпретации результатов маркшейдерско-геодезических съемок.</li> </ul>	<p style="text-align: center;">Контрольные вопросы</p> <ol style="list-style-type: none"> <li>1. Перенесение в натуру геометрических элементов сооружений различными методами.</li> <li>2. Разбивка центра и осей ствола шахты.</li> <li>3. Разбивочные работы при строительстве зданий и сооружений.</li> <li>4. Передача шахтного ствола на горизонты перекрытия</li> <li>5. Маркшейдерские работы при углубке вертикальных стволов различными способами.</li> <li>6. Инструментальные погрешности приборов.</li> <li>7. Задание направлений в горизонтальной и вертикальной плоскостях</li> <li>8. Изучение формы залежей, условий их залегания в недрах, пространственного распределения качества полезного компонента в руде и прогноз горно-геологических условий, т.е. геометризация месторождений полезных ископаемых;</li> </ol>
Уметь	<ul style="list-style-type: none"> <li>- обсуждать способы эффективного решения в получении пространственно-геометрического положения объектов.</li> <li>- приобретать знания в области производства маркшейдерских и геодезических измерений</li> <li>- корректно выражать и</li> </ul>	<p style="text-align: center;">Практическая работа № 7</p> <p style="text-align: center;">Маркшейдерские работы при проведении горных выработок встречными забоями</p> <p style="text-align: center;">Работы находится в аудитории 075</p>

Структурный элемент компетенции	Планируемые результаты обучения	Оценочные средства
	аргументированно обосновывать положения предметной области знания обработки результатов маркшейдерских съемок	
Владеть	<ul style="list-style-type: none"> <li>- способами демонстрации умения анализировать ситуацию определения пространственно-геометрическое положение объектов</li> <li>- методами маркшейдерских и геодезических измерений.</li> <li>- способами оценивания значимости и практической пригодности полученных результатов необходимых при обработке маркшейдерско-геодезических съемок в программном обеспечении.</li> </ul>	<p>Создание чертежей по вертикальной планировке промышленной площадки</p> <p style="text-align: center;">Практическая работа №1</p> <p>Вертикальная планировка промышленной площадки</p> <p style="text-align: center;">Работа находится в ауд. 75</p>
ПК-11 способностью разрабатывать и доводить до исполнителей наряды и задания на выполнение горных, горно-строительных и буровзрывных работ, осуществлять контроль качества работ и обеспечивать правильность выполнения их исполнителями, составлять графики работ и текущие планы.		
Знать	<ul style="list-style-type: none"> <li>- основные определения и понятия разработки планов и дачи нарядов на выполнение горных работ.</li> <li>- основные методы исследований разработки планов и мероприятий по</li> </ul>	<p style="text-align: center;">Контрольные вопросы</p> <ol style="list-style-type: none"> <li>1. Исполнительная съемка, документация строительства подземных сооружений</li> <li>2. Инструментальные погрешности приборов</li> <li>3. Общие сведения о маркшейдерских работах при строительстве шахт и</li> </ol>

Структурный элемент компетенции	Планируемые результаты обучения	Оценочные средства
	<p>снижению нагрузки на окружающую среду.</p> <p>- корректно выражать и аргументированно обосновывать способы разработки планов и мероприятий при переработке ПИ и эксплуатации МПИ.</p>	<p>сооружений.</p> <p>4. Проектная документация. Задачи маркшейдера при строительстве горного предприятия</p>
Уметь	<p>- обсуждать способы эффективных разработок планов и нарядов</p> <p>- приобретать знания в области разработки мероприятий по снижению нагрузки на окружающую среду.</p> <p>- корректно выражать и аргументированно обосновывать и демонстрировать навыки разработки мероприятий при переработке ПИ и эксплуатации МПИ.</p>	<p>Доклад на тему: маркшейдерское обеспечение БВР в подземных горных выработках.</p>
Владеть	<p>- способами демонстрации умения анализировать и доводить до исполнителей наряды и задания.</p> <p>- методами разработки мероприятий по снижению нагрузки на окружающую среду.</p> <p>- способами оценивания значимости</p>	<p>Практическая работа № 8</p> <p>Расчёт и перенесение в натуру направлений горной выработки, проводимой встречными забоями</p> <p>Работа находится в ауд. 75</p>



Структурный элемент компетенции	Планируемые результаты обучения	Оценочные средства
	и практической пригодности полученных результатов и качественного производства контроля за горными работами и обеспечивать правильность выполнения их исполнителями.	
ПК-20 умением разрабатывать необходимую техническую и нормативную документацию в составе творческих коллективов и самостоятельно, контролировать соответствие проектов требованиям стандартов, техническим условиям и документам промышленной безопасности, разрабатывать локальные проекты		
Знать	<ul style="list-style-type: none"> <li>- основные определения и понятия при разработке нормативной документации.</li> <li>- основные методы исследований проектов самостоятельно.</li> <li>- корректно выражать и аргументированно обосновывать разработку проектной документации</li> </ul>	<p style="text-align: center;">Контрольные вопросы</p> <ol style="list-style-type: none"> <li>1. Проектная документация. Задачи маркшейдера при строительстве горного предприятия</li> <li>2. Создание (реконструкция) маркшейдерской опорной сети и сети съемочного обоснования.</li> <li>3. Перенесение в натуру геометрических элементов сооружений различными методами.</li> <li>4. Маркшейдерская документация при сдаче шахты в эксплуатацию</li> <li>5. Подземная полигонометрия в транспортных штольнях (тоннелях)</li> </ol>
Уметь	<ul style="list-style-type: none"> <li>- обсуждать способы эффективного решения правильно использовать техническую и нормативную документацию.</li> <li>- приобретать знания в области производства контроля на</li> </ul>	<p style="text-align: center;">Практическая работа №2</p> <p style="text-align: center;">Подготовка данных для выноса в натуру центра и осей ствола</p> <p style="text-align: center;">Работа находится в аудитории 075</p>

Структурный элемент компетенции	Планируемые результаты обучения	Оценочные средства
	<p>соответствие проектов требованиям стандартов.</p> <p>- корректно выражать и аргументированно обосновывать, разрабатывать и контролировать техническую и нормативную документацию. Контролировать на соответствие с нормативными документами Правильно разрабатывать самостоятельно и защищать отчеты</p>	
Владеть	<p>- способами демонстрации умения анализировать приемы создания технической и нормативной документации Приемами лабораторных исследований</p> <p>- методами разработки мероприятий по снижению затрат на контроль соответствия проектов требованиям стандартов Приемами выполнения и интерпретации полученных результатов</p> <p>- способами оценивания значимости и практической пригодности полученных результатов в разработке и контроле технической и нормативной документации</p>	Создание профиля съемки вертикального ствола.

Структурный элемент компетенции	Планируемые результаты обучения	Оценочные средства
	Приемами и навыками самостоятельно составлять и защищать отчеты	
ПК-22 готовностью выполнять экспериментальные и лабораторные исследования, интерпретировать полученные результаты, составлять и защищать отчеты		
Знать	<ul style="list-style-type: none"> <li>- основные определения и понятия, применяемые при лабораторных исследованиях</li> <li>- основные методы исследований и способы выполнения и интерпретации полученных результатов</li> <li>- корректно выражать и аргументированно обосновывать данные при составлении и защите отчетов</li> </ul>	<p style="text-align: center;">Контрольные вопросы</p> <ol style="list-style-type: none"> <li>1. Задание направлений в горизонтальной и вертикальной плоскостях</li> <li>2. Вынос точки на проектную высоту.</li> <li>3. Вынос на местности линии заданного уклона (с помощью нивелира).</li> <li>4. Вынос на местности линии заданного уклона (с помощью теодолита).</li> <li>5. Вынос на местности линии проектной длины.</li> <li>6. Построение на местности угла обычной точности (30").</li> <li>7. Маркшейдерские работы при проходке и креплении стволов.</li> <li>8. Способы проходки и крепления стволов</li> <li>9. Метрополитен. Классификация тоннелей.</li> <li>10. Способы строительства тоннелей метрополитена</li> </ol>
Уметь	<ul style="list-style-type: none"> <li>- обсуждать способы эффективного решения и использования лабораторных исследований</li> <li>- приобретать знания в области производства, вычисления и интерпретирования полученных результатов</li> </ul>	<p style="text-align: center;">Практическая работа № 9 Маркшейдерские работы при сооружении наклонных тоннелей</p> <p style="text-align: center;">Работы находится в аудитории 075</p>

Структурный элемент компетенции	Планируемые результаты обучения	Оценочные средства
	<p>- корректно выражать и аргументированно обосновывать результаты разработанных тем, самостоятельно защищать отчеты</p>	
Владеть	<p>- способами демонстрации умения анализировать лабораторные исследования</p> <p>- методами разработки мероприятий по снижению времени по выполнению и интерпретации полученных результатов</p> <p>- способами оценивания значимости и практической пригодности полученных результатов при самостоятельном составлении и защите отчетов</p>	<p style="text-align: center;">Практическая работа № 10</p> <p style="text-align: center;">Разбивка закругленной трассы пути с переходными кривыми при строительстве транспортных тоннелей</p> <p style="text-align: center;">Работы находится в аудитории 075</p>
<p>ПСК-4.1 готовностью осуществлять производство маркшейдерско-геодезических работ, определять пространственно-временные характеристики состояния земной поверхности и недр, горно-технических систем, подземных и наземных сооружений и отображать информацию в соответствии с нормативными требованиями</p>		
Знать	<p>- основные определения и понятия при маркшейдерско-геодезических работах</p> <p>- основные методы исследований способов определения пространственно-временных характеристик состояния земной</p>	<p style="text-align: center;">Контрольные вопросы</p> <ol style="list-style-type: none"> <li>1. Профилирование стенок ствола шахты.</li> <li>2. Звуколокационная съемка стенок ствола.</li> <li>3. Маркшейдерские работы при армировании</li> <li>4. Маркшейдерские работы при сооружении стволов специальными способами</li> <li>5. Наблюдения за деформациями крепления и армировки</li> <li>6. Маркшейдерские работы при проходке наклонных стволов.</li> </ol>

Структурный элемент компетенции	Планируемые результаты обучения	Оценочные средства
	<p>поверхности и недр</p> <ul style="list-style-type: none"> <li>- корректно выражать и аргументированно обосновывать способы определения и нахождения в пространстве подземных и наземных сооружений</li> </ul>	<p>7. Маркшейдерские работы при проведении околоствольных выработок, назначение, особенности их строительства и эксплуатации.  8. Маркшейдерские работы при рассечке околоствольных выработок.  9. Ориентирно-соединительная съемка</p>
Уметь	<ul style="list-style-type: none"> <li>- обсуждать способы эффективного решения производства маркшейдерских работ</li> <li>- приобретать знания в области производства съемок на поверхности и в недрах земли.</li> <li>- корректно выражать и аргументированно обосновывать и качественно делать расчеты и оформлять их</li> </ul>	<p style="text-align: center;">Практическая работа №3</p> <p style="text-align: center;">Разбивка осей ствола в околоствольном дворе</p> <p style="text-align: center;">Работы находится в аудитории 075</p>
Владеть	<ul style="list-style-type: none"> <li>- способами демонстрации умения анализировать приемы всех видов маркшейдерских работ</li> <li>- методами разработки мероприятий по снижению времени съемок на поверхности и в недрах земли</li> <li>- способами оценивания значимости и практической пригодности полученных результатов при ведении</li> </ul>	<p style="text-align: center;">Практическая работа № 6</p> <p style="text-align: center;">Обработка инклинометрических замеров по замораживающим скважинам</p> <p style="text-align: center;">Работы находится в аудитории 075</p>

Структурный элемент компетенции	Планируемые результаты обучения	Оценочные средства
	всех видов маркшейдерских работ на поверхности и в подземных горных условиях	
ПСК-4.2 готовностью осуществлять планирование развития горных работ и маркшейдерский контроль состояния горных выработок, зданий, сооружений и земной поверхности на всех этапах освоения и охраны недр с обеспечением промышленной и экологической безопасности		
Знать	<ul style="list-style-type: none"> <li>- основные определения и понятия осуществления планирования текущих планов</li> <li>- основные методы исследований способов планирования развития горных работ</li> <li>- корректно выражать и аргументированно обосновывать маркшейдерский контроль за состоянием горных выработок</li> </ul>	<p style="text-align: center;">Контрольные вопросы</p> <ol style="list-style-type: none"> <li>1. Маркшейдерские работы при проходке готовых горных выработок</li> <li>2. Наблюдения за деформациями крепления и армировки</li> <li>3. Какие нормы и правила и инструкции определяют границы безопасного ведения маркшейдерских и горных работ</li> <li>4. Наблюдения за деформациями на поверхности и в подземных горных выработках.</li> <li>5. Исполнительные маркшейдерские съемки и сравнения результатов съемок с проектными решениями</li> </ol>
Уметь	<ul style="list-style-type: none"> <li>- обсуждать способы эффективного решения при планировании текущих планов</li> <li>- приобретать знания в области производства научных методов при планировании и контроле за ведением горных работ.</li> <li>- корректно выражать и</li> </ul>	<p style="text-align: center;">Практическая работа № 5</p> <p style="text-align: center;">Расчет проектного полигона околоствольных выработок</p> <p style="text-align: center;">Работа находится в аудитории 075</p>

Структурный элемент компетенции	Планируемые результаты обучения	Оценочные средства
	аргументированно обосновывать научные методы контроля на всех этапах освоения и охраны недр с обеспечением промышленной и экологической безопасности.	
Владеть	<ul style="list-style-type: none"> <li>- способами демонстрации умения анализировать приемы планирования текущих планов</li> <li>- методами разработки мероприятий по снижению ошибок при использовании научных методов при планировании и контроле за ведением горных работ</li> <li>- способами оценивания значимости и практической пригодности полученных результатов при планировании и контроле за ведением горных работ на горном предприятии в соответствии с нормативными документами.</li> </ul>	Показать владение навыками правильно производить исполнительные маркшейдерские съемки и сравнивать результаты съемок с проектными решениями.
ПСК-4.5 способностью анализировать и типизировать условия разработки месторождений полезных ископаемых для их комплексного использования, выполнять различные оценки недропользования		
Знать	<ul style="list-style-type: none"> <li>- основные определения и понятия оценки недропользования</li> <li>- основные методы исследований условий разработки месторождения</li> </ul>	<p style="text-align: center;">Контрольные вопросы</p> <ol style="list-style-type: none"> <li>1. Предварительное изучение маркшейдерской службой проектной документации и рабочих чертежей и их проверка</li> <li>2. Методы создание и развитие опорных и съемочных маркшейдерских сетей на</li> </ol>

Структурный элемент компетенции	Планируемые результаты обучения	Оценочные средства
	<p>ПИ</p> <p>- корректно выражать и аргументированно обосновывать методы и условия комплексного использования МПИ</p>	<p>территории промышленной площадки предприятия;</p> <p>3. Вынос в натуру всех геометрических элементов и схем технического проекта строительства, эксплуатации и реконструкции горнодобывающего предприятия.</p> <p>4. Осуществление в процессе строительства и проведения горных выработок, маркшейдерского контроля за соблюдением геометрической схемы, перенесенной в натуру</p> <p>5. Съёмка и составление исполнительных планов и разрезов фактического положения новых сооружений и горных выработок.</p> <p>6. Изучение формы залежей, условий их залегания в недрах, пространственного распределения качества полезного компонента в руде и прогноз горно-геологических условий, т.е. геометризация месторождений полезных ископаемых;</p> <p>7. Ведение инструментальных наблюдений за сдвижением земной поверхности и толщи массива горных пород под влиянием подземной разработки.</p> <p>8. Ведет оперативный учет и подсчет запасов, потерь и разубоживания полезных ископаемых;</p> <p>9. Текущее и перспективное планирование развития различных стадий производства горных работ;</p> <p>10. На основе результатов наблюдений и соответствующих Инструкций определяются границы безопасного ведения горных работ, предохранительных целиков, разрабатываются мероприятия по предупреждению опасных деформаций подработанного массива, а также разрабатываются меры охраны сооружений и природных объектов от вредного воздействия подземных и открытых горных работ</p>
Уметь	<p>- обсуждать способы эффективного решения оценки условий разработки МПИ .</p> <p>-приобретать знания в области</p>	<p>Практическая работа № 4</p> <p>Маркшейдерская проверка одноканатного подъемного комплекса</p>



Структурный элемент компетенции	Планируемые результаты обучения	Оценочные средства
	<p>правильного типизировать условия разработки МПИ и его комплексного использования</p> <p>- корректно выражать и аргументированно обосновывать и анализировать оценку недропользования</p>	
Владеть	<p>- способами демонстрации умения анализировать различную документацию при оценке условий разработки МПИ</p> <p>- методами разработки мероприятий по созданию маркшейдерской документации при разработке МПИ и его комплексного использования</p> <p>- способами оценивания значимости и практической пригодности полученных результатов и навыков при аналитике условий разработки и выполнении оценок недропользования и создания маркшейдерской документации в соответствии с ГОСТами и нормативными документами.</p>	<p>По проделанным практическим работам предоставить чертежи в масштабах – горизонтальные 1:1000, 1:2000, вертикальные – 1:100, 1:200.</p>
<p>ПСК-4.6 способностью организовывать деятельность подразделений маркшейдерского обеспечения недропользования, в том числе в режиме чрезвычайных ситуаций</p>		

Структурный элемент компетенции	Планируемые результаты обучения	Оценочные средства
Знать	<ul style="list-style-type: none"> <li>- основные определения и понятия в режиме чрезвычайных ситуаций</li> <li>- основные методы исследований при организации деятельности подразделений маркшейдерского обеспечения недропользования</li> <li>- корректно выражать и аргументированно обосновывать способы организации работы маркшейдерской службы в режиме чрезвычайных ситуаций</li> </ul>	<p>Контрольные вопросы:</p> <ol style="list-style-type: none"> <li>1. Техника безопасности при маркшейдерских работах при строительстве вертикальных стволов</li> <li>2. Техника безопасности при маркшейдерских работах при во время передвижения по подземным выработкам.</li> </ol>
Уметь	<ul style="list-style-type: none"> <li>- обсуждать способы эффективного решения при работе маркшейдерской службы</li> <li>- приобретать знания в области производства и организации маркшейдерской службы.</li> <li>- корректно выражать и аргументированно обосновывать работу маркшейдерской службы в режиме чрезвычайных ситуаций.</li> </ul>	<p>Темы докладов, рефератов:</p> <ol style="list-style-type: none"> <li>1. Проведение выработок встречными забоями.</li> <li>2. Маркшейдерские работы при проходке шахтных стволов с помощью замораживания горных пород.</li> <li>3. Маркшейдерские работы при монтаже оборудования подъемных установок</li> </ol> <p>Щитовая проходка тоннелей метрополитена</p>
Владеть	<ul style="list-style-type: none"> <li>- способами демонстрации умения анализировать деятельность подразделений маркшейдерского обеспечения недропользования</li> </ul>	<p>Изучение и составление план и схем эвакуации на горном предприятии в режиме чрезвычайных ситуаций, создание плана горных выработок в аксонометрии для ВГСЧ</p>

Структурный элемент компетенции	Планируемые результаты обучения	Оценочные средства
	<ul style="list-style-type: none"><li>- методами разработки мероприятий по организации работы маркшейдерской службы</li> <li>- способами оценивания значимости и практической пригодности полученных результатов при организации работы маркшейдерской службы в режиме чрезвычайных ситуаций</li></ul>	

**б) Порядок проведения промежуточной аттестации, показатели и критерии оценивания:**

**Примерная структура и содержание пункта:**

Промежуточная аттестация по дисциплине «Маркшейдерские работы при строительстве подземных сооружений» включает теоретические вопросы, позволяющие оценить уровень усвоения обучающимися знаний, и практические задания, выявляющие степень сформированности умений и владений, проводится на пятом курсе в семестре 9 в форме зачета, на шестом курсе в семестре А в форме экзамена.

Экзамен по данной дисциплине проводится в устной форме по билетам, каждый из которых включает 2 теоретических вопроса и один практический.

**Показатели и критерии оценивания зачета с оценкой:**

– на оценку **«отлично»** (5 баллов) – обучающийся демонстрирует высокий уровень сформированности компетенций, всестороннее, систематическое и глубокое знание учебного материала, свободно оперирует знаниями, умениями, применяет их в ситуациях повышенной сложности.

– на оценку **«хорошо»** (4 балла) – обучающийся демонстрирует средний уровень сформированности компетенций: основные знания, умения освоены, но допускаются незначительные ошибки, неточности.

– на оценку **«удовлетворительно»** (3 балла) – обучающийся демонстрирует пороговый уровень сформированности компетенций: в ходе контрольных мероприятий допускаются ошибки, проявляется отсутствие отдельных знаний.

– на оценку **«неудовлетворительно»** (2 балла) – обучающийся демонстрирует знания не более 20% теоретического материала, допускает существенные ошибки.

– на оценку **«неудовлетворительно»** (1 балл) – обучающийся не может показать знания на уровне воспроизведения и объяснения информации.

Федеральное государственное бюджетное образовательное учреждение  
высшего образования  
«Магнитогорский государственный технический университет им. Г.И. Носова»

С.О. Картунова,  
Е.А. Романько,  
М.Ф. Тулубаева,  
К.С. Наумова

**МАРКШЕЙДЕРСКИЕ РАБОТЫ ПРИ СТРОИТЕЛЬСТВЕ ПОДЗЕМНЫХ  
СООРУЖЕНИЙ**

*Утверждено Редакционно-издательским советом университета в качестве  
практикума*

Магнитогорск

2018

УДК 622.1:528(075)

ББК 33.12

К 273

Рецензенты:

главный маркшейдер

ФГУП «Управление строительства -30»

Р.С. Хафизов

доктор технических наук, профессор

профессор кафедры разработки

месторождений полезных ископаемых

ФГБОУ ВО «Магнитогорский государственный технический университет им. Г.И. Носова»

В.Н. Калмыков

**С.О. Картунова, Е.А. Романько, М.Ф. Тулубаева, К.С. Наумова**

**Маркшейдерские работы при строительстве подземных сооружений:** [Электронный ресурс] : практикум / Светлана Олеговна Картунова, Елена Александровна Романько, Махаббат Файзулаевна Тулубаева, Кристина Сергеевна Наумова ; ФГБОУ ВО «Магнитогорский государственный технический университет им. Г.И. Носова». – Электрон. текстовые дан. (3,52 Мб). – Магнитогорск : ФГБОУ ВО «МГТУ им. Г.И. Носова», 2018. – 1 электрон. опт. диск (CDR). – Систем. требования : IBM PC, любой, более 1 GHz ; 512 Мб RAM ; 10 Мб HDD ; MS Windows XP и выше ; Adobe Reader 8.0 и выше ; CD/DVD-ROM дисковод ; мышь. – Загл. с титул. экрана

Практикум по дисциплине «Маркшейдерские работы при строительстве подземных сооружений» содержит краткую теоретическую информацию о методиках выполнения полевых и камеральных работ при строительстве горного предприятия путевых тоннелей. Пособие предназначено для студентов любой формы обучения специальности 21.05.04 Горное дело. Маркшейдерское дело и 21.05.04 Горное дело. Шахтное и подземное строительство

УДК 622.1:528(075)

ББК 33.12

К 273

© Картунова С.О., Романько Е.А., Тулубаева М.Ф., Наумова К.С. 2018 © ФГБОУ ВО «Магнитогорский государственный технический университет им. Г.И. Носова», 2018

## СОДЕРЖАНИЕ

ВВЕДЕНИЕ .....	7
Работа 1 - Вертикальная планировка промышленной площадки.....	8
Работа 2 – Подготовка данных для выноса в натуру центра и осей ствола .....	22
Работа 3 – Разбивка осей ствола в околоствольном дворе .....	31
Работа 4 - Маркшейдерская проверка одноканатного подъемного комплекса.....	32
Работа 5 - Расчет проектного полигона околоствольных выработок .....	52
Работа 6–Обработка инклинометрических замеров по замораживающим скважинам.....	74
Работа 7–Маркшейдерские работы при проведении горных выработок встречными забоями .....	80
Работа 8 –Расчёт и перенесение в натуру направлений горной выработки, проводимой встречными забоями .....	86
Работа № 9 - Маркшейдерские работы при сооружении наклонных тоннелей .....	27
Работа 10 - Разбивка закругленной трассы пути с переходными кривыми при строительстве транспортных тоннелей.....	92
ЗАКЛЮЧЕНИЕ .....	107
БИБЛИОГРАФИЧЕСКИЙ СПИСОК: .....	108
Приложение 1 .....	109
Приложение 2 .....	117
Приложение 3 .....	124

## **ВВЕДЕНИЕ**

Маркшейдерское обеспечение строительства шахт и подземных сооружений является одним из основных видов маркшейдерских работ. При строительстве шахт главными задачами маркшейдерской службы является детальное изучение проектной документации, вынесение в натуру геометрических элементов проекта, контроль за выполнением строительных и монтажных работ и исполнительная съемка зданий, сооружений и капитальных горных выработок, как на промышленной площадке, так и на подземных горизонтах шахты. Перечисленные работы при строительстве шахт требуют высокой квалификации маркшейдера и выполняются, как правило, под руководством главного маркшейдера горного предприятия или специализированной маркшейдерской организацией.

При перенесении геометрических элементов проекта в натуру и осуществлении контроля за сооружением объектов маркшейдеру приходится применять особые методы и приборы, позволяющие обеспечить строительство объекта с заданной точностью.

В практикуме рассмотрены основные методики решения маркшейдерских задач при строительстве подземных сооружений: планировка горизонтальной и наклонной промышленных площадок, вынос в натуру центра и осей шахтного ствола и их разбивка в околоствольном дворе, маркшейдерская проверка одноканатного подъемного комплекса, подготовка проектных данных для проходки околоствольных выработок, проходка горизонтальных выработок встречными забоями, инклинометрия замораживающих скважин и некоторые задачи при строительстве тоннелей метрополитена.



## Работа 1 - Вертикальная планировка промышленной площадки

### 1.1 Общие сведения

Вертикальная планировка промплощадки предназначена для сглаживания естественного рельефа, создания поверхности площадки наиболее целесообразной формы по факторам размещения сооружений, транспортных путей и стока воды. Планируемой поверхности площадки обычно придают плоскую форму, горизонтальную или наклонную. Поэтому существует вертикальная планировка горизонтальной и наклонной площадки.

### 1.2 Вертикальная планировка горизонтальной промплощадки

Контур площадки разбивают в соответствии с техническим проектом, в котором приводятся основные размеры площадки и ее положение относительно стволов. Угловые точки контура закрепляют постоянными знаками и проводят разбивку строительной сетки.

Строительная сетка представляет собой систему точек, равномерно покрывающую поверхность планируемой площадки. Выбор системы точек зависит от рельефа поверхности, плоскости и застроенности площадки. Чаще всего выбирают квадратную или прямоугольную сетку со сторонами длиной 10 - 40 м (рис. 1.1).

Точки сетки закрепляют деревянными кольями со сторожками, на которых указывают номера точек и рабочие отметки. Стороны сетки ориентируют по направлению осей ствола.

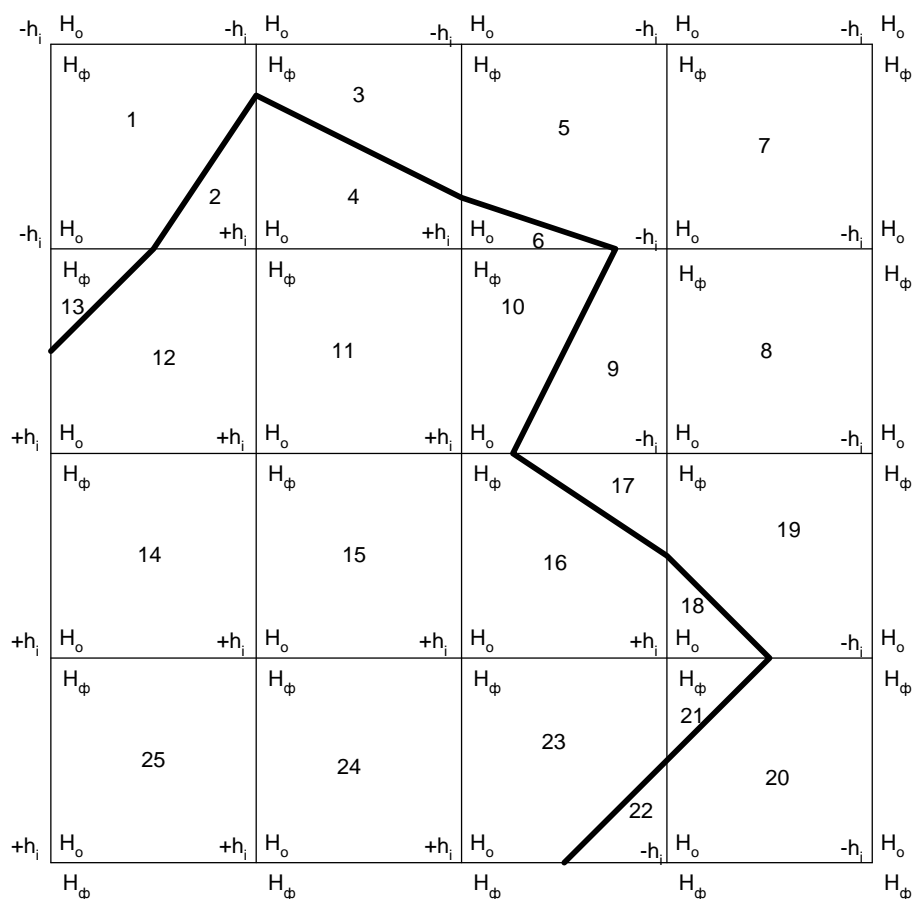


Рис. 1.1. Схема вертикальной планировки промплощадки

Высотные отметки  $H$  точек сетки определяют нивелированием или по плану поверхности, выполненному в масштабах 1:1000, 1:2000 с сечением рельефа через 0,5 м.

При проектировании горизонтальной промышленной площадке работу выполняют в следующем порядке:

1. На миллиметровой бумаге в масштабе 1:500 наносят вершины всех квадратов промышленной площадки. Около каждой вершины выписывают из задания фактические отметки поверхности земли.

2. Определяют высотную отметку  $H_0$  проектного горизонта площадки. Обычно она предусматривается проектом. Если отметка горизонта площадки проектом не предусмотрена, то ее численное значение определяют с учетом рельефа, добиваясь минимального объема земляных работ согласно формуле:

$$H_0 = \frac{\sum H_1^{\times} + 2 \sum H_2^{\ominus} + 4 \sum H_4^{\otimes}}{4N} \quad (1.1)$$

где  $H_1^{\times}, H_2^{\ominus}, H_4^{\otimes}$  - соответственно сумма отметок вершин одного, двух и четырех квадратов.

$N$  - количество квадратов.

Значение проектной отметки подписывают у каждой вершины промплощадки.

3. Вычисляют рабочие отметки для всех вершин квадратов.

Если проектируемая поверхность промплощадки есть горизонтальная плоскость с проектным горизонтом  $H_0$ , то рабочие отметки точек сетки определяют по формуле:

$$h_i = H_0 - H_i, \quad (1.2)$$

где  $H_i$  - фактическая отметка поверхности промплощадки в  $i$ -ой точке.

Положительные значения рабочих отметок показывают, что в данном месте необходимо сделать подсыпку грунта, отрицательные - выемку грунта.

Для контроля правильности расчетов определяют

$$h_0 = \frac{\sum h_1^{\times} + 2 \sum h_2^{\ominus} + 4 \sum h_4^{\otimes}}{4n}, \quad (1.3)$$

где  $h_1^{\times}$ ,  $h_2^{\ominus}$ ,  $h_4^{\otimes}$  - рабочие отметки вершин сетки, принадлежащие соответственно одному, двум и четырем квадратам, м,

$n$  - число вершин квадратов.

Значения рабочих отметок подписывают на схеме промплощадки для каждой вершины сетки красным цветом.

4. Определяют положение линии нулевых работ (линии пересечения проектной плоскости с топографической поверхностью участка). Для этого предварительно находят положение точек нулевых работ на тех сторонах квадратов, вершины которых имеют рабочие отметки с противоположными знаками. Положение точек нулевых работ на сторонах квадратов определяются расстояниями  $l_1$  и  $l_2$  от ближайших вершин квадратов, которые вычисляют по формулам:

$$l_1 = \frac{h_1 \times a}{|h_1| + |h_2|} \quad l_2 = \frac{h_2 \times a}{|h_1| + |h_2|} \quad (1.4)$$

где  $a$  - длина стороны квадрата, м,

$h_1$ ,  $h_2$  - рабочие отметки двух соседних вершин квадратов сетки, м.

Контроль:  $l_1 + l_2 = a$

Положение точки нулевых работ может быть также определено путем графических построений (рис. 1.2), которые выполняют на сторонах квадратов. Для этого рабочие отметки откладывают на перпендикулярах к сторонам квадратов в одном и том же произвольном масштабе. Длину отрезков  $l_1$  и  $l_2$  получают с точностью масштаба плана.

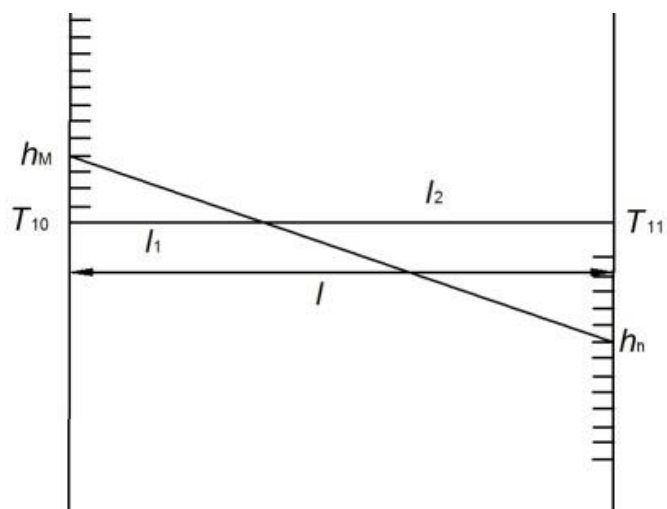


Рис.1.2 Графический способ определения места расположения точки нулевых работ

Соединив все смежные точки нулевых работ, получают линию нулевых работ, которая делит квадраты на другие элементарные фигуры: трапеции, треугольники (рис. 1.1).

Полученные элементарные фигуры нумеруют.

5. Подсчет объемов земляных работ.

Объем земляных работ по планировке определяют для каждой элементарной фигуры отдельно по выемке и насыпи по формуле:

$$V_i = S_i \times h_{cp}, \quad (1.5)$$

где  $S_i$  - площадь фигуры,  $m^2$ ; площадь квадрата  $S_i = a^2$ , площадь прямоугольного треугольника  $S_i = 0.5 \times l_1 \times l_2$ ,

$h_{cp}$  - средняя рабочая отметка фигуры, определяется как среднее арифметическое, м.

Подсчет подъемов земляных работ также можно произвести способами квадратных или треугольных призм.

Подсчет объемов земляных работ оформляется в виде таблицы (см. табл. 1).

Таблица 1

Ведомость вычисления объемов земляных работ

Номер фигур	Площади фигур,	Средняя рабочая	Объемы земляных работ
-------------	----------------	-----------------	-----------------------

	м <sup>2</sup>	отметка, м	выемка «-»	насыпь «+»
1				
...				
<i>n</i>				
$\Sigma$			$\Sigma V_B$	$\Sigma V_H$

Общий объем земляных работ

$$V_{\text{общ}} = \Sigma V_B + \Sigma V_H, \quad (1.6)$$

Расхождение в объемах выемки и насыпи

$$\Delta V = |\Sigma V_B| - |\Sigma V_H|, \quad (1.7)$$

Контроль:  $\frac{\Delta V}{V_{\text{общ}}} \times 100 \leq 5\%$

Контролем правильности вычислений служит равенство суммы площадей всех фигур и общей площади планируемого участка, а также равенство (баланс) объемов выемки  $\Sigma V_B$  и насыпи  $\Sigma V_H$ .

При решении задач необходимо:

- 1) Построить план участка;
- 2) Определить рабочие отметки;
- 3) Построить линию нулевых работ;
- 4) Определить объем работ в каждом квадрате отдельно по насыпи и выемке;
- 5) Определить общий объем работ на участке.

Исходные данные для выполнения работы представлены в табл. 1.2 (для проектирования горизонтальной площадки) и приложении 1 (для проектирования наклонной площадки).

### 1.3. Вертикальная планировка наклонной промплощадки

Особенностью планировки поверхности промплощадки в виде наклонной плоскости является определение проектных отметок точек сетки с учетом уклона, предусмотренного проектом или выбранного в соответствии с минимумом земляных работ. Таким образом, исходными данными для разбивки строительной сетки в каждой точке, например "М", являются, угол простираения  $\alpha$  поверхности, уклон  $i$  или угол наклона  $\delta$  плоскости (рис. 1.3).

На рис. 1.3 угол простираения равен  $180^\circ$ , расстояние между точками  $l$ , точка  $M$  имеет высотную отметку  $H_M$ . Точки 1, 2, 3...40 имеют высотные отметки  $H_1, H_2, H_3, \dots, H_{40}$ .

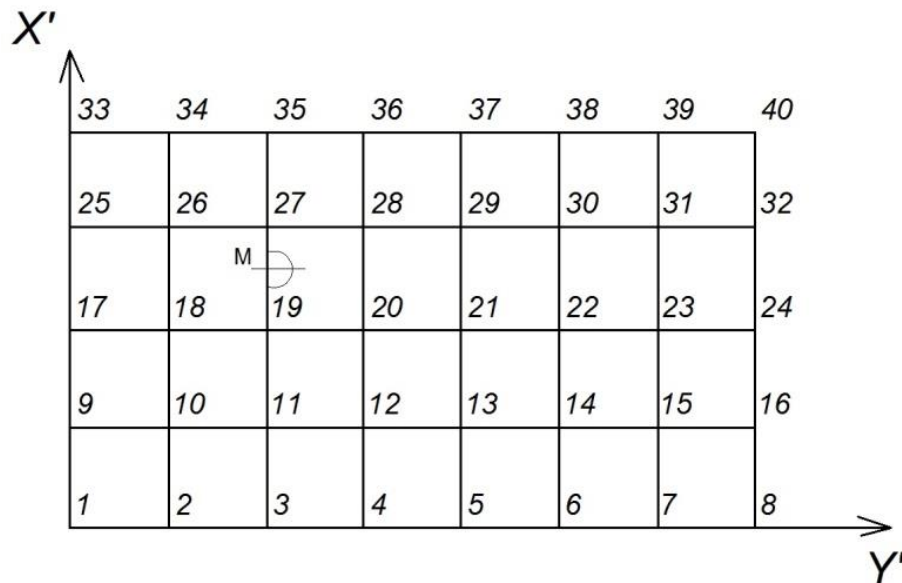


Рис. 1.3. Схема строительной сетки

Проектные отметки точек  $H_{01}, H_{02}, H_{03}, \dots, H_{40}$  определяют в соответствии с отметкой точки  $M$ , уклоном  $i$  и схемой сетки (рис. 1.3).

Для точек, находящихся на уровне высотной отметки, равной  $H_0$ , высотные отметки точек  $H_{03} - H_{035}$  будут равны:

$$H_0 = H_{03} = H_{011} = H_{019} = H_{027} = H_{035}$$

Для точек, находящихся на уровне высотных отметок, меньших отметки  $H_{0M}$ , будут равны

$$H_{02} = H_{03} - 1 \cdot i, \quad H_{01} = H_{03} - 2 \cdot i, \quad H_{026} = H_{027} - 1 \cdot i, \quad H_{025} = H_{027} - 2 \cdot i$$

Для отметок, находящихся на уровне высотных отметок, больших отметки  $H_{0M}$

$$H_{04}=H_{03}+1*i, \quad H_{05}=H_{03}+2*1*i, \quad H_{028}=H_{027}+1*i, \quad H_{029}=H_{027}-2*1*i$$

Рабочие отметки вершин сетки составят  $h=H_{01}-H_1$

Построение линии нулевых работ и определение объема земляных работ производится также как и при планировке горизонтальной промплощадки.

При решении задачи необходимо:

- 1) Построить план участка;
- 2) Определить рабочие отметки;
- 3) Построить линию нулевых работ;
- 4) Определить объем работ в каждом квадрате отдельно по насыпи и выемке;
- 5) Определить общий объем работ на участке.

В таблице 2 приведены варианты для выполнения работы при проектировании наклонной промплощадки. Положение точки ***M*** совмещают с одной из точек сетки по указанию преподавателя.





Таблица 1.2

## Высотные отметки точек строительной сетки наклонной промплощадки

Вариант	Высотные отметки точек, м								
	26	27	28	29	30	31	32	33	34
1	8,85	8,76	8,31	8,72	9,31	15,01	14,30	15,00	15,09
2	9,15	9,07	9,00	8,99	9,68	15,45	14,87	15,45	15,20
3	10,00	10,05	9,95	10,05	9,99	15,96	15,70	15,96	15,71
4	10,52	10,48	10,28	10,51	8,70	15,07	15,37	15,07	15,45
5	9,76	9,79	9,75	9,38	9,07	15,73	15,87	15,32	14,91
6	9,56	9,40	9,45	9,75	8,11	14,99	15,00	14,82	14,59
7	9,51	9,32	9,30	9,60	9,78	14,60	14,20	14,60	14,80
8	10,52	10,50	10,10	10,43	9,55	14,31	14,30	14,44	14,65
9	10,73	10,70	10,50	10,78	9,88	15,07	14,90	15,31	15,05
10	9,26	9,27	9,21	9,26	9,45	15,87	15,17	15,87	15,72
11	9,83	9,80	9,45	9,87	9,75	14,60	14,60	14,62	15,85
12	8,95	8,90	8,90	8,90	10,70	14,49	14,50	14,49	14,95
13	9,73	9,76	9,55	11,71	11,05	14,79	14,81	14,78	14,45

14	9,28	9,27	9,77	9,97	9,84	15,81	15,52	15,80	14,01
15	10,04	10,05	10,00	9,76	10,05	14,07	14,17	15,63	13,95
16	11,18	11,20	11,20	10,30	10,83	14,19	14,31	14,07	13,72
17	10,63	10,47	11,05	9,99	11,07	14,28	14,75	14,38	14,07
18	10,00	10,00	10,00	10,00	10,00	15,00	15,00	15,00	15,00
Угол простираия $\alpha$	0°00	90°00	180°00	270°00	0°00	90°00	180°00	270°00	0°00
Уклон $i$	0,001	0,001	0,001	0,001	0,001	0,002	0,002	0,002	0,002
Масштаб	1:500	1:1000	1:500	1:1000	1:500	1:1000	1:500	1:1000	1:500
Расстояние между точками $l$	20,0	20,0	30,0	30,0	40,0	40,0	50,0	50,0	20,0

Продолжение табл. 1.2

Вариант	Высотные отметки точек, м							
	35	36	37	38	39	40	41	42
1	14,95	19,79	20,05	19,37	20,10	19, 5	25,05	25,17



Угол простираия $\alpha$	90°00	90°00	270°00	0°00	90°00	180°00	270°00	0°00
Уклон $i$	0,002	0,003	0,003	0,003	0,003	0,003	0,004	0,004
Масштаб	1:500	1:500	1:1000	1:500	1:1000	1:1000	1:1000	1:500
Расстояние между точками $l$	20,0	30,0	30,0	40,0	40,0	50,0	50,0	20,0

Продолжение табл. 1.2

Вариант	Высотные отметки точек, м							
	43	44	45	46	47	48	49	50
1	24,70	25,10	24,17	25,05	24,15	29,30	29,70	30,50
2	24,83	25,17	24,93	25,01	24,17	29,99	29,85	38,18
3	24,95	25,85	24,99	25,37	24,85	29,85	29,91	30,81
4	25,10	25,97	25,10	25,83	29,99	30,00	29,17	30,99
5	25,35	25,17	25,81	25,98	25,10	30,08	28,85	30,27
6	25,70	25,85	25,99	26,10	25,81	30,77	29,50	30,07
7	25,85	25,10	26,01	25,81	25,98	30,98	29,90	29,85

8	24,91	25,00	25,37	25,78	25,77	30,25	29,99	29,81
9	24,37	25,01	25,18	25,81	25,17	30,71	30,01	29,63
10	24,19	21,10	25,01	25,01	24,92	30,98	30,18	29,26
11	24,00	25,40	25,18	25,10	24,17	31,11	30,78	29,00
12	23,95	24,90	24,82	24,91	24,00	31,83	30,52	29,37
13	25,10	25,01	24,37	24,82	24,17	31,52	30,21	29,42
14	25,25	25,37	24,08	24,71	24,85	30,80	30,99	29,52
15	25,37	25,80	23,95	25,15	21,91	30,75	30,77	29,17
16	25,75	26,17	23,81	25,19	24,99	30,27	30,25	29,97
17	25,92	25,80	24,18	25,71	25,17	30,18	30,81	30,18
18	25,00	25,00	26,00	25,00	25,00	30,00	30,00	30,00
Угол простирания $\alpha$	90°00	180°00	270°00	0°00	90°00	180°00	270°00	0°00
Уклон $i$	0,001	0,004	0,004	0,005	0,005	0,005	0,005	0,005
Масштаб	1:1000	1:500	1:1000	1:500	1:1000	1:500	1:1000	1:500
Расстояние между точками $l$	20,0	30,0	30,0	40,0	40,0	50,0	50,0	20,0



## Работа 2 – Подготовка данных для выноса в натуру центра и осей ствола

### 2.1. Общие сведения

В начале строительства шахты маркшейдер на основании проектных данных указывает в натуре и закрепляет центр ствола и его оси. Осями вертикального ствола называют две горизонтальные прямые, одна из которых параллельна, а другая перпендикулярна основным несущим расстрелам этого ствола. Оси ствола пересекаются в точке, называемой центром ствола, и являются осями симметрии его горизонтального сечения.

Инструкцией по производству маркшейдерских работ допустимые отклонения при перенесении в натуру центра ствола и его осей даны относительно пунктов планового обоснования промплощадки. Поэтому следует руководствоваться главным критерием — точностью положения осей ствола, а не координатами его центра.

Погрешность взаимного положения осей ствола не должна превышать  $\pm 20''$ .

*Перенесение в натуру центра шахтного ствола* производится по заданным координатам несколькими способами:

1. Полярный способ – если на местности закреплено направление АВ, дирекционный угол которого и координаты т.А известны, то дирекционный угол линии АР будет равен:

$$\operatorname{tg}(\text{AP}) = \frac{Y_p - Y_a}{X_p - X_a} \quad (2.1)$$

Угол направления на точку Р:

$$\beta = (\text{AB}) - (\text{AP}) \quad (2.2)$$

Вычисленное значение угла откладывают теодолитом. По направлению АР откладывают горизонтальное расстояние  $l$  вычисленное по формуле:

$$l = \frac{Y_p - Y_a}{\sin(\text{AP})} = \frac{X_p - X_a}{\cos(\text{AP})} \quad (2.3)$$

и отмечают точку Р.

2. Способ угловой засечки – если в натуре имеются две закрепленные точки А и В, координаты которых известны, то решением обратной задачи вычисляют дирекционные углы (АВ), (АР), (ВР), а по их разностям углы  $\beta_A$  и  $\beta_B$ . Затем эти углы выносят в натуру теодолитом и в месте пересечения этих направлений, отмеченных на местности кольями, находят искомую точку Р по пересечению натянутых проволок.

3. Способ линейной засечки – решением обратной задачи вычисляют расстояние

$$AP=l_1, \quad BP=l_2 \quad (2.4)$$

Из точек А и В проводят при помощи рулеток дуги с радиусом равным  $l_1$  и  $l_2$  соответственно, и на их пересечении находят т. Р. Этот способ применим если расстояние не превышает длину мерной ленты и участок местности ровный.

*Разбивка оси* заключается в восстановлении и закреплении на местности ряда точек, проекции которых на горизонтальную плоскость совпадали бы с проектным положением оси. В зависимости от наличия исходных данных перенесение в натуру может быть произведено тремя способами:

1. В проекте ось задана расположенной на ней точкой Р с заданными координатами  $X_P$  и  $Y_P$  и дирекционным углом  $\alpha$  оси. Кроме того, имеются точки опорной сети А( $X_A, Y_A$ ) и В ( $X_B, Y_B$ ) из решений обратной геодезической задачи вычисляем дирекционный угол (АР) и длину линии АР ( $l$ ), по координатам точек А и Р. По разности дирекционных углов (АР) и (АВ) вычисляют угол направления  $\beta_A$ , по разности дирекционных углов  $\alpha$  и (АР) вычисляют угол направления  $\beta_P$ . Теодолит выставляют в точке А, откладывают от исходного направления угол  $\beta_A$  и длину  $l$  закрепляют т. Р, переносят на нее теодолит и откладывают от направления РА угол  $\beta_P$  и  $\beta_P \pm 180^\circ$ . По визирному углу в створе закрепляют т. С<sub>1</sub>, С<sub>2</sub>, С<sub>3</sub>, С<sub>4</sub>.

2. В проекте ось задана координатами конечных точек Р<sub>1</sub>( $X_{p1}, Y_{p1}$ ) и Р<sub>2</sub>( $X_{p2}, Y_{p2}$ ) в этом случае вычисляют угловые и линейные элементы необходимые для вынесения в натуру точек Р<sub>1</sub> и Р<sub>2</sub>. От точек опорной сети полярным способом выносят точки Р<sub>1</sub> и Р<sub>2</sub> и закрепляют их, по теодолиту поставленному в т. Р выставляют в створе и закрепляют точки оси.

3. В проекте ось задана геометрическими элементами полигонометрического хода (горизонтальными углами и длинами), которые последовательно переносят в натуру для отыскания точек поворота оси. Такой способ применяется при разбивке трасс подъездных путей.

Вынесенные в натуру *оси закрепляются постоянными и временными знаками*. Постоянными знаками обычно закрепляют главные и основные оси (см. рис. 2.1)

*Места закрепления осей* постоянными знаками выбирают на генеральном плане промышленной площадки с учетом долговременной их сохранности, а также обеспечения беспрепятственного ведения строительно-монтажных работ. Эти места должны быть удобными для установки над знаками приборов и выполнения измерений. Знаки устанавливают вне зоны земляных работ в местах, свободных от складирования строительных материалов, размещения временных сооружений и строительной техники.

Выбор конструкции знаков зависит от условий строительной площадки, наличия строительных материалов, применяемых методов разбивочных работ. Конструкции постоянных знаков могут быть различными.



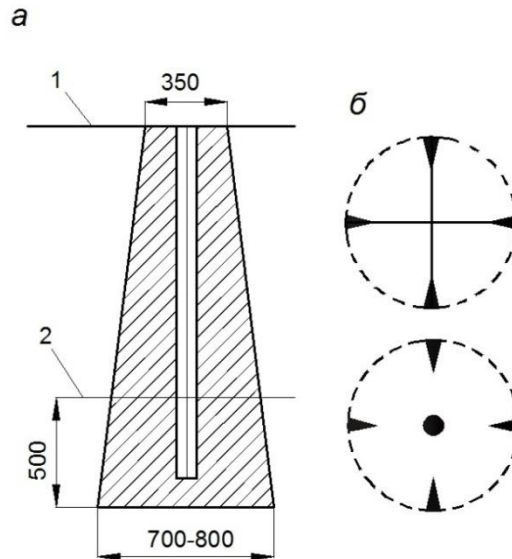


Рис. 2.1 Центр пунктов осевых реперов (а), керны центров (б)

Наиболее часто для закрепления осей применяют *грунтовые постоянные знаки*. В качестве постоянных грунтовых знаков используют обрезки металлических труб или рельсов, к нижней части которых приваривают металлическую крестовину (якорь) для закрепления в бетонном монолите. К верхней части знака приваривают металлическую пластину, на которой при помощи керна отмечают положение точки закрепления оси. Иногда в качестве постоянных знаков допускается использование забетонированных деревянных столбов, положение точки закрепления оси на которых отмечается гвоздем.

Грунтовые реперы устанавливают в скважине, пробуренной на глубину не менее 0,5 м ниже глубины промерзания грунта. После установки знака скважину бетонируют. Постоянные реперы могут быть как грунтовыми, так и стенными, закрепляемыми в капитальных стенах или цокольных частях близлежащих зданий. Часто строительные реперы совмещают с постоянными знаками закрепления разбивочных осей.

Для *временных знаков* используют деревянные колья, костыли, металлические штыри и трубки.

Оси закрепляют по обе стороны от габаритов ствола не менее чем тремя знаками. Грунтовые знаки закрепления осей ограждают и промерами производят привязку к местным предметам. Если в створе осей находятся капитальные строения, ограды и т.п., то на их стенах оси маркируют яркой несмываемой краской.

Для закрепления, а также для удобства использования в процессе строительства, оси выносят на обноску. Обноска представляет собой доску, закрепленную на столбах высотой 0,4-0,6 м. Применяют также инвентарную металлическую обноску. Оси на деревянной обноске фиксируют гвоздем, на металлической – специальным передвижным хомутом с прорезью. Известны два вида обноски - сплошная и створная.

### *Погрешности построения горизонтального угла.*

Наибольшее влияние на точность построения угла оказывают инструментальные погрешности, погрешности центрирования теодолита и сигналов. Линейная величина погрешности центрирования  $s_{ц}$  зависит от вида центрировочного приспособления, его юстировки, высоты теодолита над вершиной угла. Линейная погрешность фиксации угла  $\delta_{\beta}$  зависит от способа закрепления точки на различных поверхностях.

В практике для определения необходимой точности построения угла исходят из предельной погрешности положения точки С. Абсолютную линейную величину этой погрешности принимают равной 3—5 мм в зависимости от типа и назначения сооружения. Определение положения точки С полярным способом производят при единичных измерениях угла, когда свойства случайных погрешностей могут не проявляться вовсе, поэтому все расчеты делают по предельным погрешностям.

Предварительный расчет точности построения угла по всем источникам погрешностей сложен и на практике применяется только для высокоточных работ.

Для того чтобы не завывать точность геодезических измерений при разбивочных работах и в то же время учитывать влияние основных погрешностей на положение точки С, при расчетах применяют принцип пропорционального изменения погрешностей.

Коэффициент пропорциональности принимают равным двум.

Расчет погрешности построения угла Р выполняют следующим образом.

Определяют линейную погрешность  $\delta_{\beta}$  фиксации угла, зависящую от погрешности построения угла в  $0^{\circ}$ :

$$\delta_{\beta \pm 1/2\Delta C} \quad (2.5)$$

Затем определяют допустимую погрешность построения угла без учета погрешности центрирования инструмента.

Для выноса в натуру центра и осей ствола необходимо иметь: проектные координаты центра ствола, проектный дирекционный угол главной оси ствола, координаты точек и дирекционные углы сторон временной полигонометрии расположения осевых реперов, т. е. рекогносцировочную схему.

На рисунке 2.2 показана рекогносцировочная схема выноса осевых реперов 1, 2, 3, 4 — створные точки; 5, 6, 7 — пункты временной полигонометрии; 8 — осевые реперы.

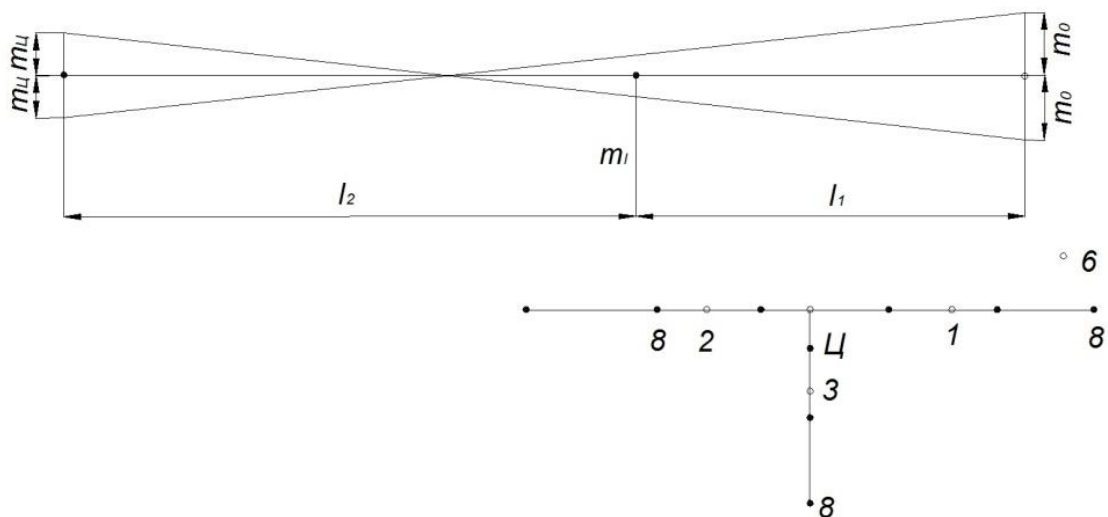


Рис. 2.2 Рекогносцировочная схема

Переходят на центр ствола (точка Ц). При двух положениях трубы откладывают угол  $\gamma$  и на расстоянии 70-80 м выставляют створную точку. Створную точку закрепляют надежно. Наводят сетку нитей на створную точку и намечают места закладки реперов. Каждый репер обозначают тремя штырями на оси ствола: один штырь ставят в месте закладки репера, два других — на расстоянии 2,-3,0 метра в обе стороны от первого. Переводят трубу через зенит и при двух положениях трубы намечают вторую створную точку. Пользуясь второй створной точкой, намечают места закладки реперов с другой стороны ствола. Ось, перпендикулярную к главной, разбивают от третьей и четвертой створных точек. Третью и четвертую створные точки выставляют, откладывая угол в  $90^\circ$ , от первой створной точки. Другими точками и пунктами полигонометрии не пользуются. Вся работа по обозначению мест закладки осевых реперов делают с одной установки инструмента. Измеряют углы между осями и угол  $\gamma$ . Измеряют расстояния от центра ствола до створных точек с точностью 0,1 м. Центр ствола и створные точки окапывают канавкой.

После закладки реперов приступают к нанесению на них осевых точек. Вся работу производят с одной центрировки инструмента. Переставлять инструмент или делать перерывы в работе нежелательно. Устанавливают инструмент на центре ствола. Штатив должен стоять прочно, при необходимости снимают дерн и уплотняют грунт в местах постановки ножек штатива.

Измеряют контрольный угол  $\gamma$  на первую створную точку. Разница между контрольным и ранее измеренным углом не должна превышать  $\pm 20''$ . Закрепляют визирную ось трубы по линии «центр ствола — первая створная точка». Устанавливают над дальним репером штатив. Произвольно, примерно в двух-трех сантиметрах от центра репера, вешают отвес и на поверхности репера отмечают проекцию отвеса. Перед отвесом, со стороны теодолита, укрепляют белую линейку с миллиметровыми делениями. По сетке нитей берут отсчеты на линейке против отвеса и вертикальной нити сетки трубы теодолита. Вычисляют смещение отвеса от осевой линии. Отмечают на репере осевую точку. Центрируют отвес над осевой точкой и проверяют его положение по сетке нитей.

Закрепляют точку оси на репере, изготовленном из рельса, крестообразной насечкой, а если репер изготовлен из другого материала, то сверлят отверстие диаметром 2 мм и делают клиновые насечки рис. 2.3.

После окончания работы с первой створной точкой откладывают углы в  $90$  и  $180^\circ$  точным способом на другие створные точки и отмечают оси ствола на остальных реперах.

#### Камеральные работы

Фактические координаты центра ствола и осевых реперов получают после уравнивания основной полигонометрии. В журнале вычисления координат делают сравнение фактических и проектных координат центра ствола и дирекционных углов осей. По координатам пунктов планового обоснования составляют рабочий план в масштабе 1:500 на стандартных планшетах. В туши наносят пункты планового обоснования, в карандаше обозначают оси ствола, переносят с проекта оси зданий и сооружений, подземные коммуникации и другие проектные решения. Проектная и фактическая нагрузка планов наносится по мере развития строительных и монтажных работ. Проектная нагрузка сопровождается переносом и проверкой размеров для привязки главных осей зданий и сооружений.

Схема выноса центра и осей ствола показана на рисунке 2.2

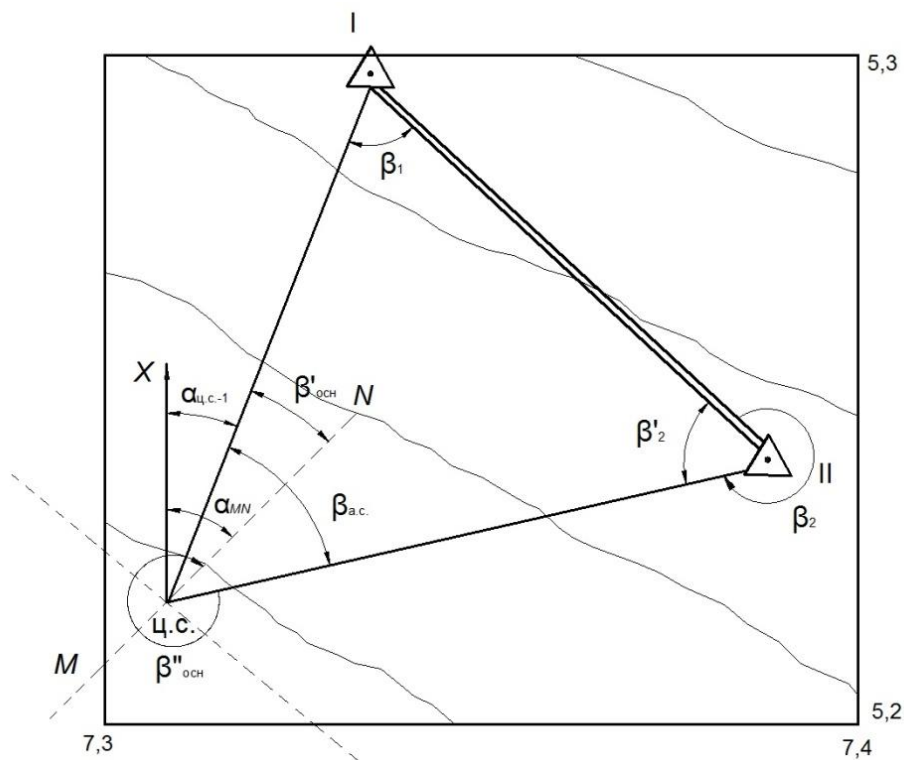


Рис.2.2 План разбивки центра вентиляционного ствола и строительных осей

На поверхности, вблизи закладываемого шахтного ствола, имеются пункты I, II опорной сети, координаты которых  $X_I, Y_I, Z_I, X_{II}, Y_{II}, Z_{II}$ . В проекте координаты центра ствола  $X_{Цс}, Y_{Цс}, Z_{Цс}$  и дирекционный угол главной оси.

Решение задачи сводится к определению разбивочных элементов горизонтальных углов  $\beta_1, \beta_2, \beta_{ЦС}$  и  $\beta'_{оси}, \beta''_{оси}$ , горизонтальных проложений  $l_1, l_2$ , а затем наклонных длин –  $L_{Н1}, L_{Н2}$ .

Порядок выполнения работы:

1. По координатам пунктов вычислить дирекционные направления линий и горизонтальные проложения между двумя пунктами, используя обратную геодезическую задачу.

1.1. Последовательность определения дирекционного угла следующая:

$$\operatorname{tg} r_{(I-ЦС)} = \frac{Y_{ЦС} - Y_I}{X_{ЦС} - X_I} = \frac{\Delta Y}{\Delta X}, \quad (2.6)$$

По знакам приращений  $\Delta Y, \Delta X$  определяется в какой четверти находится румб ( $r$ ) и соответственно вычисляется дирекционный угол этой линии.

1.2. По разности дирекционных углов линий определить горизонтальные углы  $\beta_1, \beta_2, \beta_3, \beta'_{оси}, \beta''_{оси}$  которые необходимо отложить в натуре. Так, например,

$$\beta_1 = \alpha_{(I-ЦС)} - \alpha_{(I-II)}, \quad \beta''_{оси} = \alpha_{(MN)} - \alpha_{(ЦС-I)}, \quad (2.7)$$

Контролем вычисления углов является уравнение:

$$\beta_1 + \beta_2 + \beta_3 = 180^\circ, \quad (2.8)$$

1.3. Определить горизонтальное проложение линии

$$l_{(I-ЦС)} = \frac{Y_{ЦС} - Y_I}{\sin r_{(I-ЦС)}} = \frac{X_{ЦС} - X_I}{\cos r_{(I-ЦС)}}, \quad (2.9)$$

Контроль: расхождение в длине линии, вычисленной через  $\sin r_{I-ЦС}$  и  $\cos r_{I-ЦС}$ , допускается не более 10 мм.

2. Определить наклонную длину линии

По абсолютным отметкам  $Z$  пунктов данной линии по ее горизонтальному проложению  $l$  определяют наклонную длину  $L_H$

$$\delta = \arctg \frac{\Delta Z}{l} \quad L_H = \frac{l}{\cos \delta}, \quad (2.10)$$

или

$$L_H = \sqrt{(Y_{ЦС} - Y_I)^2 + (X_{ЦС} - X_I)^2 + (Z_{ЦС} - Z_I)^2}, \quad (2.11)$$

3. Главную и основную ось закрепить осевыми пунктами и рассчитать их координаты.

4. После окончания всех вычислений вычерчивается план в масштабе 1:1000 (см. рис. 2.4), на который наносятся по заданным координатам маркшейдерские пункты, центр и оси ствола.

5. Рекомендуется на этом же чертеже, в пределах точности графических построений, проконтролировать правильность вычислений  $l_1, l_2$  (при помощи масштабной линейки) и разбивочных углов  $\beta_1, \beta_2, \beta_3$  (транспортиром), а также  $\beta'_{оси}, \beta''_{оси}$ .

6. Дать описание методики выноса центра ствола и осей на местность и оценить точность выноса в натуре центра сооружения.

Исходные данные координат пунктов центра ствола и дирекционного угла главной оси ствола шахты приведены в таблице 2.1

Таблица 2.1.

Пункты	Координаты, м			Дирекционный угол оси ствола $\alpha_{MN}$
	X	Y	Z	
I	3198,475	5230,726	135,420	45°30'
II	3130,045	5287,521	141,560	
ЦС	3110,020	5205,080	150,700	

В приведенные в таблице 2.1. координаты необходимо ввести поправки согласно инициалам студента (таблица 2.2.)

Таблица 2.2

Поправки в координаты центра и дирекционный угол  
главной оси ствола

Алфавит	Ф	И	О	Ф
	$\Delta X, \text{ м}$	$\Delta Y, \text{ м}$	$\Delta Z, \text{ м}$	$\Delta \alpha, ^\circ$
А	+15	-1	-3	1
Б	+14	-2	+1	2
В	+13	-3	-1	3
Г	+12	-4	+2	4
Д	+11	-5	+6	5
Е	+10	-6	+5	6
Ж	+9	-7	+4	7
З	+8	-8	+3	8
И	+7	-9	+2	9
К	+6	-10	+1	10
Л	+5	-11	-3	11
М	+4	-12	-4	12
Н	+3	-13	-5	13
О	+2	-14	-6	14
П	+1	-15	-1	15
Р	-1	+15	-2	16
С	-2	+14	+1	17
Т	-3	+13	+2	18
У	-4	+12	+3	19
Ф	-5	+11	+4	20
Х	-6	+10	+5	21
Ц	-7	+9	-1	22
Ч	-8	+8	-2	23

Ш	-9	+7	+3	24
Щ	-10	+6	+4	25
Э	-11	+5	-5	26
Ю	-12	+4	-3	27
Я	-13	+3	-5	28

### **Работа 3 – Разбивка осей ствола в околоствольном дворе**

#### **3.1. Общие сведения**

Разбивку оси ствола на горизонте околоствольного двора производят на основе данных ориентировки. Предварительно перед ориентировкой составляется схема примерного расположения в околоствольном дворе осевых и примычных точек, используемых в дальнейшем при подземной съемке. При составлении схемы места для осевых точек выбирают с таким расчетом, чтобы расстояние между ними было не менее 20м и их можно было надежно закрепить.

На чертеже приведена схема примыкания по способу соединительных треугольников. Дирекционный угол створа отвесов и координаты отвесов определены в той же системе координат, в какой определены координаты осевых точек.

Для этого в ствол опускают два отвеса примерно в местах бывшего расположения осевых проходческих отвесов. Примыкая к ним на поверхности от осевых пунктов, координаты которых определены в общегосударственной системе, в шахте определяют координаты примычных точек С и С1 (рисунок 3.1). Точки С и С1 выбирают так, чтобы была обеспечена их взаимная видимость и наиболее выгодная форма соединительных треугольников. Если невозможно создать два подземных соединительных треугольника, то ограничиваются одним, а координаты точки С1 вычисляют по измеренному углу АСС1 и расстоянию СС1. Решение этой задачи возможно при использовании гирокомпаса МВТ2 и одного отвеса.



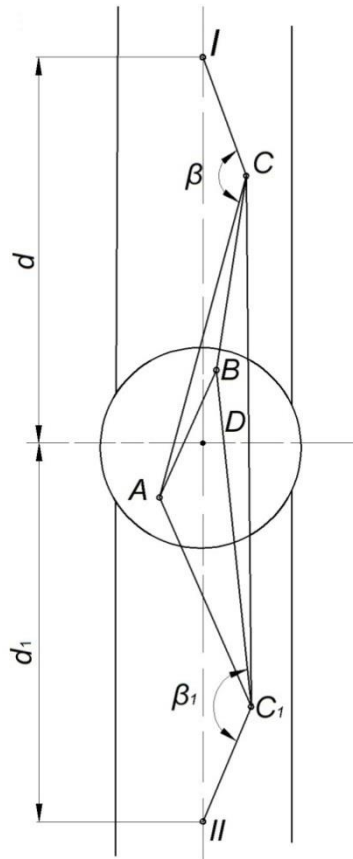


Рисунок 3.1 - Разбивка оси ствола на горизонте околоствольного двора

Составив схему сопряжения ствола с околоствольным двором, наносят на нее точки С и С1 и оси ствола. На оси ствола, параллельной оси околоствольного двора, намечают точки I и II и графически определяют расстояния от них до центра ствола  $d$  и  $d_1$ . По этим расстояниям, координатам центра ствола и дирекционному углу оси ствола вычисляют координаты осевых точек I и II:

$$X_I = X_0 + d \cos \alpha, \quad Y_I = Y_0 + d \sin \alpha \quad (3.1)$$

$$X_{II} = X_0 + d_1 \cos (\alpha + 180^\circ), \quad Y_{II} = Y_0 + d_1 \sin (\alpha + 180^\circ) \quad (3.2)$$

где  $X_0$  и  $Y_0$  — координаты центра ствола.

По координатам точек I, II, C, C1 вычисляют дирекционные углы (C-I) и (C1-II), а также расстояния C-I и C1-II. Определяют по разности дирекционных углов углы направлений  $\beta$  и  $\beta_1$ . Полярным способом от точек C и C1 выносят в натуру и закрепляют точки I и II, обозначающие

ось ствола на горизонте околоствольного двора. Точки I и II закрепляются постоянными маркшейдерскими знаками. От этих точек, и производят дальнейшее проведение выработок околоствольного двора.

Для проведения околоствольных выработок необходимо вынести и закрепить оси ствола. В околоствольном дворе оси ствола разбивают по данным соединительной съемки (ориентировки). При ориентировке закрепляют примычные точки C' и D', определяют их координаты и дирекционный угол (C'D'). Применительно к схеме ориентировки на рис.3.2

$$(C'D')=(ED)+EDC+DCA-(\alpha+\alpha')+AC'D'\pm 4*180^\circ \quad (3.3)$$

$$x_{D'}=X_D+DC \cos(DC)+b \cos(CA)+b' \cos(AC')+C'D' \cos(C'D')$$

$$Y_{D'}=Y_D+DC \sin(DC)+b \sin(CA)+b' \sin(AC')+C'D' \sin(C'D')$$

При вычислении (C'D') и  $x_{C'}$ ,  $Y_{C'}$ ,  $x_{D'}$ ,  $Y_{D'}$  могут быть использованы и другие формулы, составленные в соответствии со схемой ориентировки. Входящие в формулы углы при отвесах  $\alpha$ ,  $\beta$  вычисляются решением соединительных треугольников по формулам синусов:

$$\sin \alpha = \frac{a}{c} \sin \gamma ; \sin \alpha' = \frac{a'}{c} \sin \gamma' ; \sin \beta = \frac{b}{c} \sin \gamma ; \sin \beta' = \frac{b'}{c} \sin \gamma' \quad (3.4)$$

Перед разбивкой оси ствола выбирают места, удобные для закрепления осевых точек M и N. Примерно оценивают расстояния ЦМ=l<sub>1</sub> и ЦN=l<sub>2</sub> и вычисляют координаты осевых точек. Поскольку координаты центра ствола X<sub>Ц</sub> и Y<sub>Ц</sub>, дирекционный угол оси ствола  $\alpha_0$  известны, координаты

$$\begin{aligned} X_M=X_{Ц}+l_1 * \cos \alpha_0 ; \quad X_N=X_{Ц}+l_2 * \cos (\alpha_0 \pm 180^\circ) \\ Y_M=Y_{Ц}+l_1 * \sin \alpha_0 ; \quad Y_N=Y_{Ц}+l_2 * \sin (\alpha_0 \pm 180^\circ) \end{aligned} \quad (3.5)$$

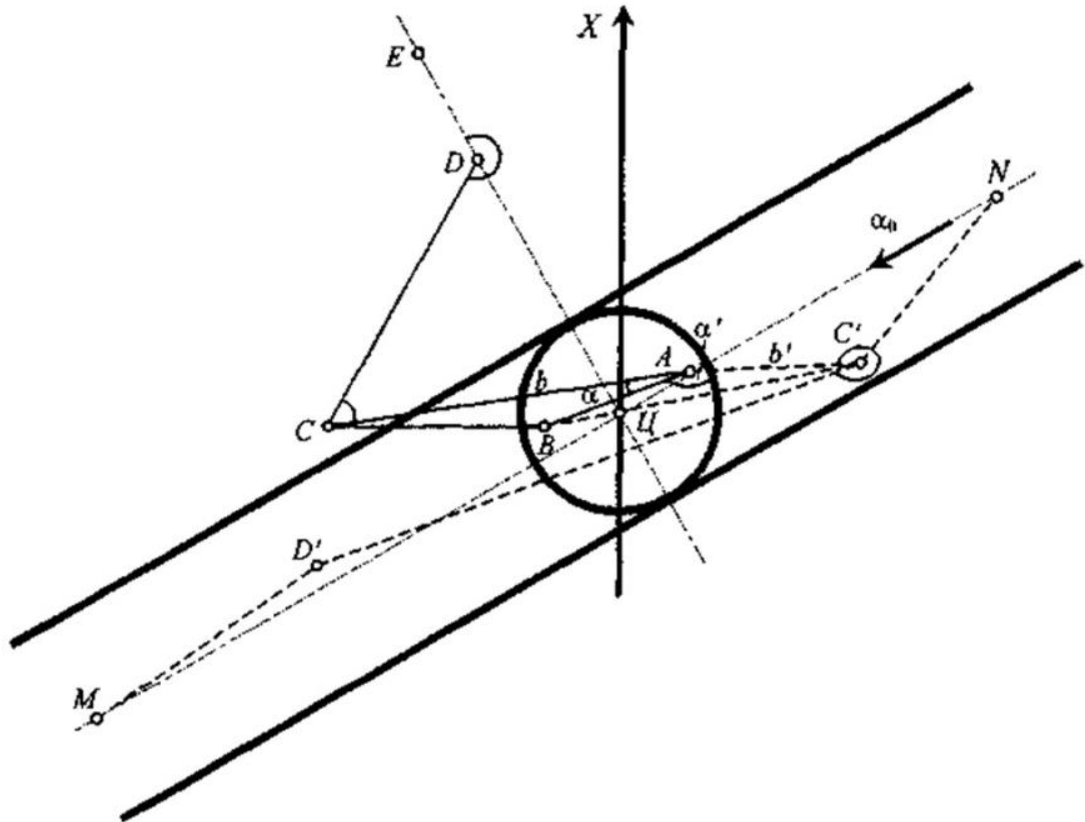


Рис.3.2 Схема разбивки оси ствола в околоствольном дворе

Далее решением обратной задачи находят углы при точках  $C'$ ,  $D'$  и расстояния  $C'M$  и  $D'N$ . Полученные углы и расстояния переносят в натуру и закрепляют точки  $M$  и  $N$ , фиксирующие положение оси ствола.

*Пример 1.* Требуется определить угловые и линейные элементы для разбивки в околоствольном дворе точек  $M$  и  $N$ , фиксирующих положение оси ствола (рис.3.2).

*Исходные данные:*

$(ED) = 155^{\circ}00'00''$ ;  $x_D = 473,293$  м;  $y_D = 39,139$  м,  $\alpha_0 = 245^{\circ}00'00''$ ;  $x_{Ц} = 450,000$  м,  $y_{Ц} = 450,000$  м. Данные измерений на поверхности:  $EDC = 195^{\circ}32'40''$ ;  $DCA = 93^{\circ}45'20''$ ;  $DCB = 93^{\circ}52'17''$ ;  $\gamma = 0^{\circ}06'57''$ ;  $DC = 23,950$  м;  $a = 4,012$  м,  $b = 9,569$  м,  $c = 5,557$  м. Данные измерений на горизонте околоствольного двора:  $D'C'A = 9^{\circ}28'20''$ ;  $D'C'B = 8^{\circ}26'24''$ ;  $\gamma' = 1^{\circ}01'56''$ ;  $C'D' = 15,500$  м;  $a' = 8,332$  м;  $b' = 2,774$  м;  $c' = 5,555$  м;  $l_1 = ЦМ = 22,500$  м;  $l_2 = ЦN = 23,000$  м. Диаметр ствола 7,5 м.

*Решение:*

1. Координаты точек  $M$  и  $N$  вычисляем по формулам (3.6):

$$X_M=440,491 \text{ м}; \quad X_N=459,720 \text{ м};$$

$$Y_M=429,508 \text{ м}; \quad Y_N=470,845 \text{ м}.$$

2. Решаем соединительные треугольники по формулам (3.7):

ABC	ABC'
$\alpha=0^{\circ}05'01''$	$\alpha'=178^{\circ}27'08''$
$\beta=179^{\circ}48'02''$	$\beta'=0^{\circ}30'56''$
$\gamma=0^{\circ}06'57''$	$\gamma'=1^{\circ}01'56''$
$\Sigma 180^{\circ}00'00''$	$\Sigma 180^{\circ}00'00''$
$c=5,555 \text{ м}$	$c'=5,558 \text{ м}$

3. Находим дирекционный угол (C'D') и координаты точек C' и D'. Вычисления приводят в формуляре вычисления координат в соответствии с формулами:

$$(C'D')=256^{\circ}17'31''; \quad x_{C'}=450,824 \text{ м}; \quad x_{D'}=447,151 \text{ м};$$

$$Y_{C'}=455,406 \text{ м}; \quad Y_{D'}=440,348 \text{ м}.$$

4. Определяем углы C'D'M и D'C'N и расстояния D'M и C'N:

$$(D'M)=238^{\circ}11'50''; \quad D'M=12,637 \text{ м};$$

$$(C'N)=60^{\circ}02'30''; \quad C'N=17,825 \text{ м}$$

Дирекционные углы (D'M) и (C'N) и расстояния D'M и C'N определяем, используя обратную геодезическую задачу.

$$C'D'M=(D'M)-(D'C);$$

$$C'D'M=238^{\circ} 11' 50'' - 76^{\circ} 17' 31'' = 161^{\circ} 54' 19'';$$

$$D'C'N=(C'N)-(C'D')=163^{\circ} 34' 59''.$$

Перенесением в натуру вычисленных углов и расстояний находим положение точек М и N, фиксирующих ось ствола в околоствольном дворе.

*Задание:*

В таблице 3.1 и на рисунках 3.3 и 3.4 приведены условия задачи на определение элементов разбивки оси ствола в околоствольном дворе. Для вариантов 1-5 и 11-15 схема разбивки оси представлена на рис.3.3, для вариантов 6-10 и 11-24 - рис.3.4.

*Требуется:*

- 1) вычислить координаты осевых точек М и N;
- 2) решить соединительные треугольники;
- 3) определить дирекционный угол (C'D') и координаты точек C', D' в ведомости вычисления координат;
- 4) вычислить углы и расстояния для перенесения в натуру полярным способом осевых точек ствола М и N;
- 5) составить схему разбивки оси ствола в околоствольном дворе в масштабе 1:200 или 1:500.

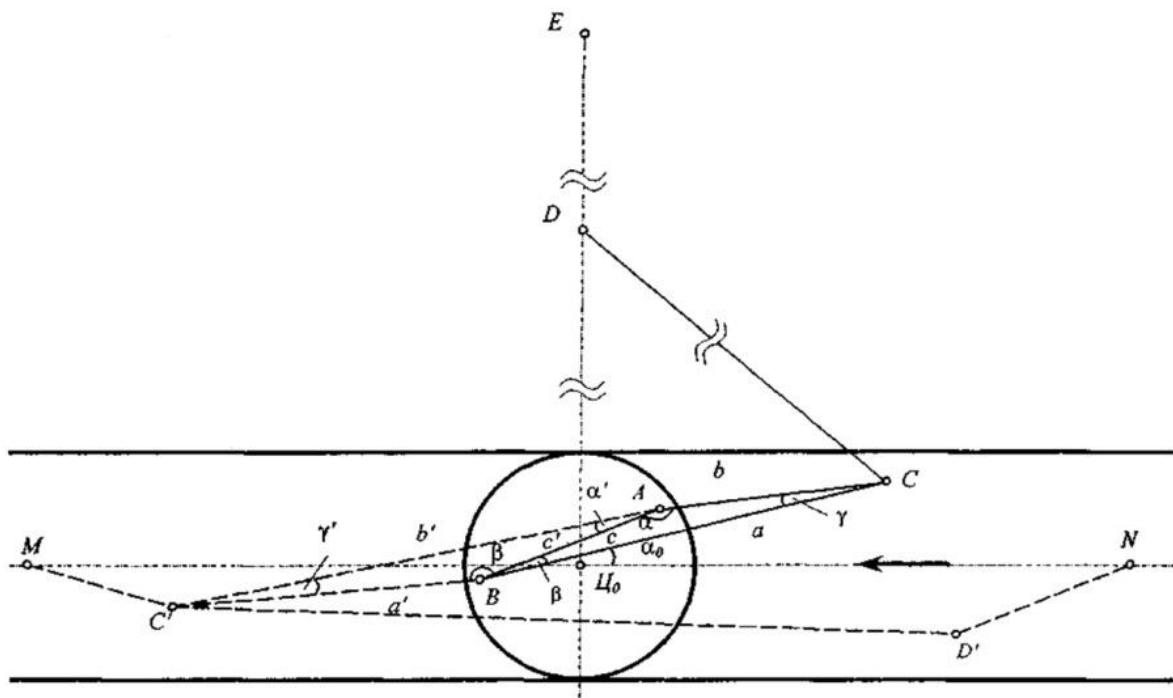


Рис.3.3.Схема разбивки оси ствола

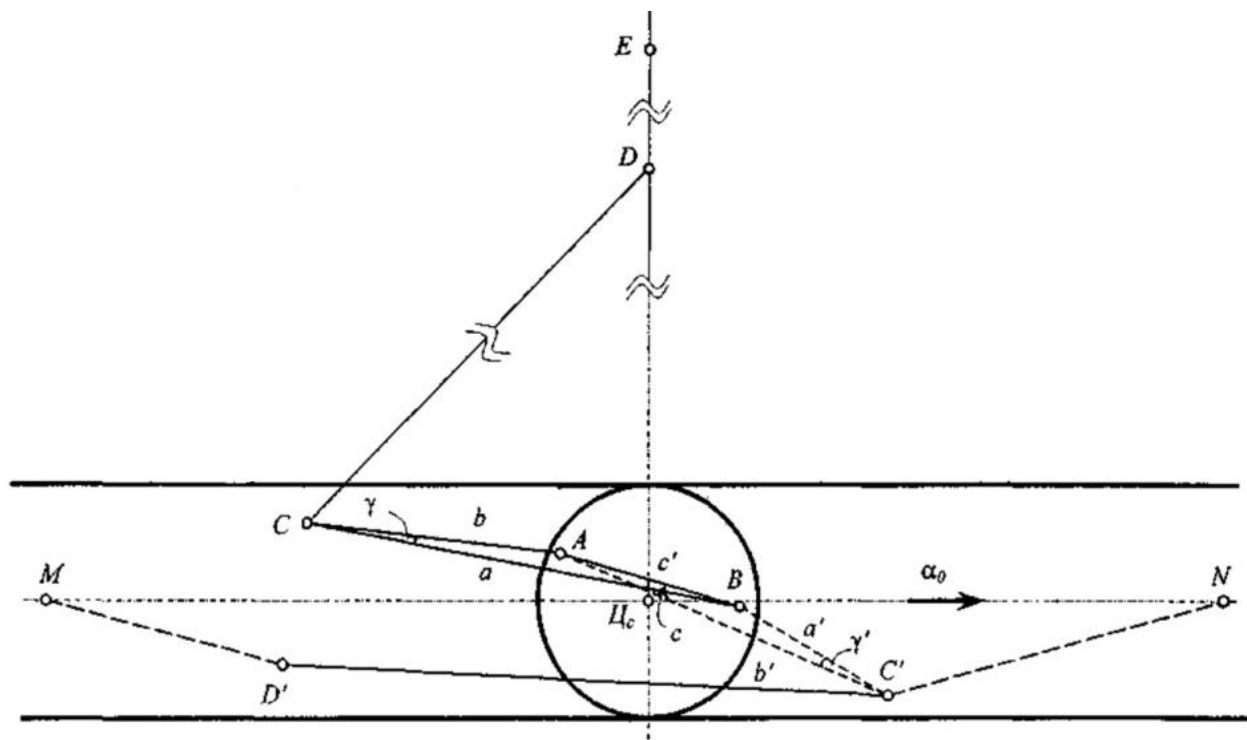


Рис.3.4. Схема разбивки оси ствола

Таблица 3.1

Элементы разбивки осей ствола

Исходные данные	Номер варианта					
	1	2	3	4	5	6
(ED)	180°00'00"	180°00'00"	180°00'00"	180°00'00"	180°00'00"	180°00'00"
X <sub>D</sub> , м	429,550	423,000	329,825	323,275	329,500	376,840
Y <sub>D</sub> , м	319,000	319,000	219,500	219,500	269,500	369,050
a <sub>0</sub>	270°00'00"	270°00'00"	270°00'00"	270°00'00"	270°00'00"	90°00'00"
X <sub>ц</sub> , м	409,500	409,500	309,500	309,500	309,500	359,550
Y <sub>ц</sub> , м	319,000	319,000	219,500	219,500	269,500	369,500
Ц <sub>М</sub> , м	18,500	23,500	21,680	20,500	21,450	18,450
Ц <sub>Н</sub> , м	17,000	24,000	19,860	22,150	21,500	16,960
EDC	157°30'00"	147°25'00"	157°30'00"	147°25'00"	157°30'00"	204°30'00"
DCA	280°32'05"	293°15'00"	283°32'05"	293°15'00"	283°32'05"	75°28'10"
DCB	279°46'52"	292°29'58"	282°46'52"	292°29'58"	282°46'52"	75°29'50"
γ	0°45'12"	0°45'12"	0°45'12"	0°45'12"	0°45'12"	0°01'30"
DC, м	19,850	14,060	19,805	14,050	14,050	17,625
a, м	9,805	9,805	9,805	9,805	9,805	9,803
b, м	5,204	5,204	5,204	5,204	5,204	5,176
c, м	4,603	4,603	4,603	4,603	4,603	4,625
c', м	4,603	4,603	4,603	4,603	4,603	4,627
b', м	13,137	13,137	13,137	13,137	13,137	13,160
a', м	8,550	8,550	8,550	8,550	8,550	8,558
C'D', м	19,510	21,600	17,500	19,250	18,375	20,500
γ'	2°05'06"	2°05'06"	2°05'06"	2°05'06"	2°05'06"	2°35'10"
A'C'D'	8°12'00"	8°12'00"	10°42'00"	9°32'00"	8°12'00"	4°07'25"
B'C'D'	6°06'54"	6°06'54"	8°36'54"	7°26'54"	6°06'54"	1°32'15"



Продолжение табл. 3.1

Исходные данные	Номер варианта					
	7	8	9	10	11	12
(ED)	180°00'00"	180°00'00"	180°00'00"	180°00'00"	180°00'00"	180°00'00"
X <sub>D</sub> , м	373,350	277,060	273,300	277,060	430,500	425,550
Y <sub>D</sub> , м	369,050	269,050	269,050	269,050	319,000	319,450
a <sub>0</sub>	90°00'00"	90°00'00"	90°00'00"	90°00'00"	270°00'00"	270°00'00"
X <sub>ц</sub> , м	359,550	259,550	259,550	259,550	410,550	409,500
Y <sub>ц</sub> , м	369,500	269,050	269,050	269,050	319,000	319,450
ЦМ, м	23,700	25,270	22,500	19,825	19,500	20,250
ЦN, м	21,500	22,480	20,600	17,320	18,150	24,350
EDC	215°22'30"	204°45'20"	215°18'30"	204°45'20"	157°30'00"	147°25'00"
DCA	65°27'10"	75°32'15"	65°17'20"	75°29'10"	280°32'05"	293°15'10"
DCB	65°28'40"	75°47'08"	65°32'08"	75°43'58"	279°46'52"	292°29'58"
γ	0°01'30"	0°14'48"	0°14'48"	0°14'48"	0°45'12"	0°45'12"
DC, м	12,880	17,650	12,835	17,590	19,850	14,650
a, м	9,803	9,549	9,549	9,549	9,805	9,805
b, м	5,176	4,013	4,013	4,013	5,204	5,204
c, м	4,625	5,536	5,536	5,536	4,603	4,603
c', м	4,627	5,536	5,536	5,536	4,608	4,608
b', м	13,160	11,627	11,627	8,986	13,137	13,137
a', м	8,558	6,092	6,092	3,449	8,550	8,550
C'D', м	18,420	21,370	19,850	20,320	19,510	21,600
γ'	2°35'10"	0°06'35"	0°06'35"	0°09'40"	2°05'06"	2°05'06"
A'C'D'	5°19'30"	5°17'50"	4°29'45"	4°35'40"	8°12'00"	8°15'00"
B'C'D'	2°44'20"	5°11'15"	4°23'10"	4°26'00"	6°06'54"	6°09'54"

Исходные данные	Номер варианта					
	13	14	15	16	17	18
(ED)	180°00'00"	180°00'00"	180°00'00"	180°00'00"	180°00'00"	180°00'00"
X <sub>D</sub> , м	329,845	325,250	329,500	375,240	371,350	378,420
Y <sub>D</sub> , м	219,500	219,500	269,500	369,050	369,050	369,050
a <sub>0</sub>	270°00'00"	270°00'00"	270°00'00"	90°00'00"	90°00'00"	90°00'00"
X <sub>ц</sub> , м	310,500	309,500	311,500	358,550	359,550	350,040
Y <sub>ц</sub> , м	219,500	219,500	269,500	369,050	369,050	369,050
ЦМ, м	20,650	20,500	22,750	18,750	24,750	21,150
ЦN, м	22,550	23,150	22,150	20,450	21,580	23,240
EDC	157°30'00"	147°25'00"	157°30'00"	204°31'00"	215°22'30"	214°12'30"
DCA	283°32'04"	293°15'00"	283°32'06"	75°28'20"	65°27'10"	75°32'20"
DCB	282°46'52"	292°29'58"	282°46'54"	75°29'50"	65°28'40"	75°33'50"
γ	0°45'12"	0°45'12"	0°45'12"	0°01'30"	0°01'30"	0°01'30"
DC, м	20,510	18,050	16,100	17,225	15,740	16,620
a, м	9,805	9,805	9,805	9,803	9,803	9,803
b, м	5,204	5,204	5,204	5,176	5,176	5,176
c, м	4,603	4,603	4,603	4,625	4,625	4,625
c', м	4,603	4,603	4,603	4,625	4,627	4,627

$b', м$	13,137	13,137	13,137	13,160	13,160	13,160
$a', м$	8,550	8,550	8,550	8,558	8,558	8,558
$C'D', м$	18,750	19,650	18,375	21,550	19,320	20,950
$\gamma'$	2°05'06"	2°05'06"	2°05'06"	2°35'10"	2°35'10"	2°35'10"
$A'C'D'$	10°42'00"	9°32'06"	8°12'00"	4°07'25"	6°47'36"	7°57'40"
$B'C'D'$	8°36'54"	7°27'00"	6°06'54"		4°12'26"	5°22'30"

Продолжение табл.3.1

Продолжение табл.3.1

Исходные данные	Номер варианта					
	19	20	21	22	23	24
(ED)	180°00'00"	180°00'00"	180°00'00"	180°00'00"	180°00'00"	180°00'00"
$X_D, м$	282,040	272,150	372,430	276,610	377,440	371,480
$Y_D, м$	269,050	269,050	369,050	269,050	369,050	369,050
$a_0$	90°00'00"	90°00'00"	90°00'00"	90°00'00"	90°00'00"	90°00'00"
$X_{ц}, м$	259,550	258,320	355,150	259,580	357,260	359,850

Уц, м	269,050	269,050	369,050	269,050	369,050	370,240
ЦМ, м	26,180	25,510	24,160	23,320	21,980	25,150
ЦN, м	24,430	22,630	21,430	20,140	23,640	22,720
EDC	204°45'20"	206°14'30"	215°18'30"	212°14'22"	204°42'36"	215°22'30"
DCA	75°42'15"	65°20'20"	75°29'10"	78°34'54"	70°08'06"	65°27'10"
DCB	75°57'03"	65°35'08"	75°43'58"	78°49'42"	70°22'54"	65°28'40"
$\gamma$	0°14'48"	0°14'48"	0°14'48"	0°14'48"	0°14'48"	0°01'30"
DC, м	18,150	17,0	16,840	14,440	15,795	16,280
a, м	9,549	9,549	9,549	9,549	9,549	9,803
b, м	4,013	4,013	4,013	4,013	4,013	5,176
c, м	5,536	5,536	5,536	5,536	5,536	4,625
c', м	5,536	5,536	5,538	5,536	5,537	4,627
b', м	11,627	11,627	11,627	11,627	11,627	13,160
a', м	6,092	6,092	6,092	6,092	6,092	8,558
C'D', м	21,630	21,040	219,780	18,140	21,620	19,650
$\gamma'$	0°06'35"	0°06'35"	0°06'35"	0°06'35"	0°06'35"	2°35'10"
A'C'D'	5°17'50"	4°30'45"	6°48'47"	4°32'56"	4°29'45"	6°47'36"
B'C'D'	5°11'15"	4°24'10"	6°42'12"	4°26'20"	4°23'10"	4°12'26"

#### Работа 4 - Маркшейдерская проверка одноканатного подъемного комплекса

##### 4.1. Общие сведения

Проверка подъемного комплекса производится при сдаче шахты в эксплуатацию и периодически в процессе ее работы. Маркшейдер проверяет соответствие величин углов отклонения канатов (девиации) на барабанах и шкивах правилам технической эксплуатации. При подъеме и спуске подъемных сосудов в стволе на барабане подъемной машины канат перемещается по его рабочей части, из-за чего происходит изменение углов отклонения (девиации) канатов, которые при крайних положениях канатов достигают максимальных величин. По правилам технической эксплуатации значение углов отклонения на барабане и на шкиве не должно превышать  $1^{\circ}30'$ . Производится проверка вертикальности плоскостей симметрии шкивов, отсутствие у них «восьмерки», совпадение вертикальных проекции точек схода канатов и точек подвеса подъемных сосудов, горизонтальность главного вала подъемной машины. Этот контроль может быть выполнен как от осей ствола, закрепленных осевыми пунктами на поверхности, так и от оси главного вала подъемной машины.

К основным геометрическим элементам подъемной установки относятся (рис. 4.1): ось подъема, центр подъема, центр вала подъемной машины, высота копра, высота подъема, длина струны каната, ось вала шкива, углы наклона подъемных канатов и углы отклонения или девиации.

1. **Ось подъема** вертикального ствола - прямая, перпендикулярная оси главного вала подъемной машины, проходящая через среднюю точку, расположенную между отвесными подъемными канатами. Как правило, ось подъема не совпадает с главной осью ствола.

2. **Центр подъема** - точка, делящая пополам расстояние между двумя отвесными подъемными канатами. При одноконцевом подъеме центр подъема совпадает с осью каната в его отвесном положении.

3. **Центр вала подъемной машины** - точка, расположенная по середине оси главного вала подъемной машины между внешними ребордами барабанов или между внутренними ребордами для установок с одним барабаном.

4. **Высота копра  $H_k$**  - расстояние по вертикали от нулевой площадки шахтного ствола до оси вращения направляющего шкива.

$$H_k = h_B + h_C + h_{II} + h_{III} + 0,75R_{III}$$

где  $h_C$  – высота подъемного сосуда, м;

$h_{II}$  – высота подъема, м;

$h_{III}$  – превышение оси верхнего шкива на осью нижнего, м;

$R_{III}$  – радиус шкива, м;

5. **Высота подъема  $H$**  - расстояние по вертикали между одной и той же точкой подъемного сосуда, находящегося в самом верхнем и самом нижнем положениях

$$H = h + h_B + h_H$$

где  $h$  – глубина шахтного ствола, м;

$h_B$  – высота приемной площадки, м;

$h_H$  – наибольшее опускание сосуда ниже горизонта околоствольного ствола при загрузке, м;

6. **Длина струны каната  $L_s$**  - расстояние между точкой схода подъемного каната с барабана подъемной машины и начальной точкой касания каната на направляющем шкиве. За длину струны условно принимают расстояние между осями вращения шкива и барабана.

7. **Углы наклона** - Углы наклона подъемных канатов ( $\varphi_H$  и  $\varphi_B$ ) – углы составляемые осями канатов с горизонтальной плоскостью при отсутствии провисания.

$$\varphi_H = \varphi_0 + \Delta\varphi_H, \quad \varphi_B = \varphi_0 - \Delta\varphi_B$$

где  $\varphi_0$  - угол наклона прямой, соединяющей оси шкива и барабана подъемной машины.

8. **Углы девиации** - углы отклонения каната от плоскости, перпендикулярной оси вала подъемной машины и оси вращения шкива. Образуются они при перемещении каната по рабочей части барабана подъемной машины в результате движения подъемных сосудов в стволе. В крайних положениях каната на барабане подъемной машины углы девиации на

шкиве и барабане достигают максимальных величин. Углы девиации являются геометрической характеристикой бокового воздействия каната на футеровку барабана и шкива. Чем больше угол девиации, тем интенсивнее износ перегородки между желобками футеровки барабана и боковой износ футеровки шкива. Полный их износ приводит к касанию соседних витков каната друг с другом и, как следствие этого, к повышенному износу каната. Для обеспечения нормальной работы подъема и минимального износа подъемного каната предельное значение углов девиации не должно превышать  $1^{\circ}30'$ .

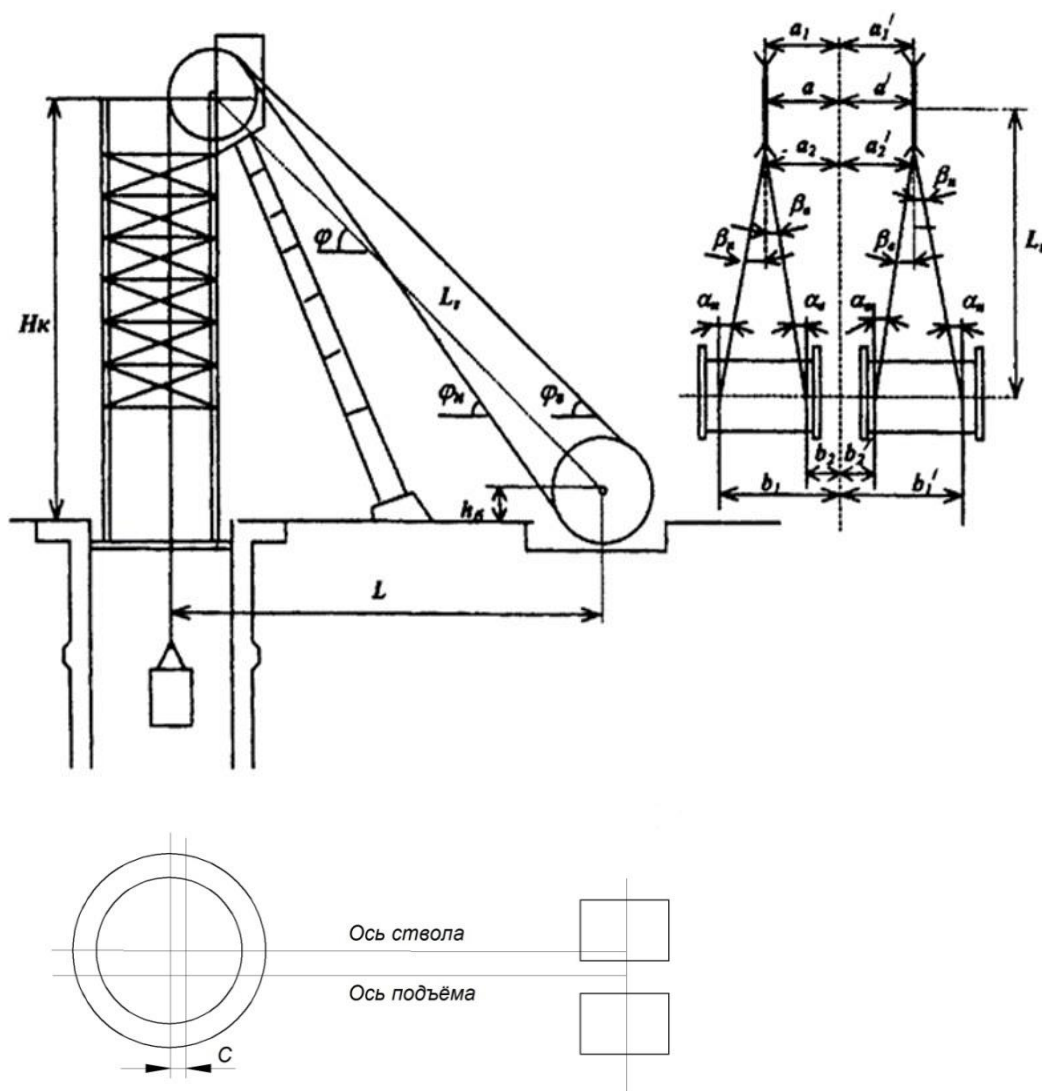


Рис.4.1. Геометрическая схема подъемного комплекса

*Задание:* используя результаты измерений при маркшейдерской проверке одноканатной подъемной установки рассчитать основные геометрические параметры и углы девиации канатов.

*Исходными данными* для проверки подъемного комплекса являются геометрические элементы и параметры подъемной установки (табл. 4.1), результаты съемки кронштейна с

жалом Г, прикрепленного к реборде барабана, в двух диаметрально противоположных положениях Г и Г<sub>1</sub>, в результате чего определяют их координаты X<sub>Г</sub>, У<sub>Г</sub>, X<sub>Г1</sub>, У<sub>Г1</sub>, результаты съемки элементов сечения ствола и съемки шкивов  $a_1, a_2, a_1', a_2'$  (табл. 4.2), а также другие геометрические параметры подъемного комплекса.

Таблица 4.1

Основные геометрические элементы подъемной установки

Номер варианта	$H, м$	$D_B, м$	$D_{ш}, м$	$d_K, мм$	$l, м$	$в, мм$	$H_K, м$	$e, мм$	$S_{Ю,C}, мм$	$L_G, м$
1,2	670/600	5	4	50/45	3,2	100	40	3	60	48
3,4	465/420	4	3	45/37	2,7	90	40	3	50	48
5,6	565/520	4	3	35/31	3,0	85	37	3	50	44,4
7,8	465/410	4	3	45/37	2,3	90	39,5	2	45	47,1
9,10	450/400	4	3	45/37	2,0	100	40	2	55	48
11,12	410/450	4	4	35/31	1,8	95	39	3	55	47,7
13,14	550/510	5	4	45/35	2,3	80	40	2	50	48
15,16	450/410	5	2	52/45	2,0	80	40	2	50	48
17,18	340/420	2,5	2,5	30/35	2,3	85	35	3	45	42
19,20	285/300	3	2	37/41	1,5	85	30	3	45	36
21,22	430/400	2,5	2,5	31/27	3,4	95	37	2	50	44,6
23,24	400/420	3	2,6	37/41	3,2	95	30	2	50	44,4
25,26	215/250	2,5	2,5	31/27	1,5	70	37	3	40	36
27,28	365/330	3,3	1,5	37/35	2,3	95	35	2	45	44,4
29,30	280/300	2	1,5	25/23	1,7	75	25	3	45	42

Проверка выполняется путем прокладки теодолитного хода от осевых пунктов к подъемной машине и стволу и съемки характерных точек органов навивки подъемной машины, шкивов, сечения ствола.

Порядок выполнения работы:

4.3.1. Вычисление элементов органов навивки для северного и южного барабанов (см. рис. 4.2.)

- Зона рабочих витков, ширина которой зависит от полной высоты подъема

$$l_p = \frac{H}{\pi \cdot D_6} \cdot (d_k + e)$$

- Зона запасных витков необходима для наращивания работы части каната по мере уменьшения ее в процессе систематических испытаний каната:

$$l_3 = \frac{30}{\pi \cdot D_6} \cdot (d_k + e)$$

где 30 – длина каната для испытаний.

- Зона витков трения служит для усиления закрепления каната на барабане (число витков трения  $n_m=3-5$ )

$$l_m = n_m \cdot (d_k + e)$$

- Свободная часть барабана подъемной машины – разность между строительной шириной барабана  $l$  и суммарным размером рассмотренных выше трех зон

$$l_c = l - (l_p + l_3 + l_m)$$

Таблица 4.2

Таблица измеренных и вычисленных значений

Номер варианта	Данные съёмки шкивов, мм				Данные съёмки барабана машины, м			
	$a_1$	$a_2$	$a_1'$	$a_2'$	точка Г		точка Г <sub>1</sub>	
					X	Y	X	Y
1	1049	1051	1010	1012	50,5	3,37	45,5	3,36
2	902	900	870	872	50,0	3,38	45,5	3,39
3	870	870	835	837	50,0	2,84	46,0	2,82
4	910	912	881	883	50,0	2,86	46,0	2,84
5	1070	1074	1040	1042	46,4	3,14	42,1	3,12
6	926	928	900	902	46,4	3,11	42,4	3,15
7	941	943	910	912	49,0	2,43	45,4	2,47
8	1032	1034	1002	1004	49,4	2,04	45,5	2,42
9	1120	1118	1080	1082	50,0	2,16	46,0	2,18
10	946	948	903	905	50,0	2,15	46,0	2,18
11	890	892	856	858	49,4	1,96	45,4	1,90
12	886	888	840	842	49,4	1,94	45,4	1,97
13	1040	1042	1005	1007	50,0	2,44	45,5	2,49
14	1081	1083	1043	1045	50,5	2,45	45,5	2,47
15	1100	1104	1061	1063	50,5	2,14	45,5	2,12
16	1061	1063	1030	1034	50,5	2,16	45,5	2,17
17	991	992	952	954	43,25	2,43	40,75	2,40
18	963	965	925	927	43,25	2,43	40,75	2,48
19	1017	1019	980	980	37,5	1,63	34,5	1,68



20	1021	1023	980	982	37,5	1,65	34,5	1,60
21	1710	1730	1715	1710	50,50	3,370	45,50	3,360
22	932	950	932	950	46,15	1,850	42,65	1,800
23	1442	1460	1440	1420	50,00	2,837	46,00	2,800
24	1442	1420	1442	1460	50,00	2,800	46,00	2,840
25	1247	1220	1246	1270	49,50	2,447	44,50	2,140
26	1274	1260	1247	1220	49,50	2,420	44,50	2,430
27	1295	1310	1297	1280	51,00	2,540	45,00	2,500
28	1295	1280	1294	1300	51,00	2,560	45,00	2,600
29	1247	1280	1245	1230	49,45	2,447	45,40	2,410
30	1247	1230	1245	1280	49,40	2,470	45,40	2,490

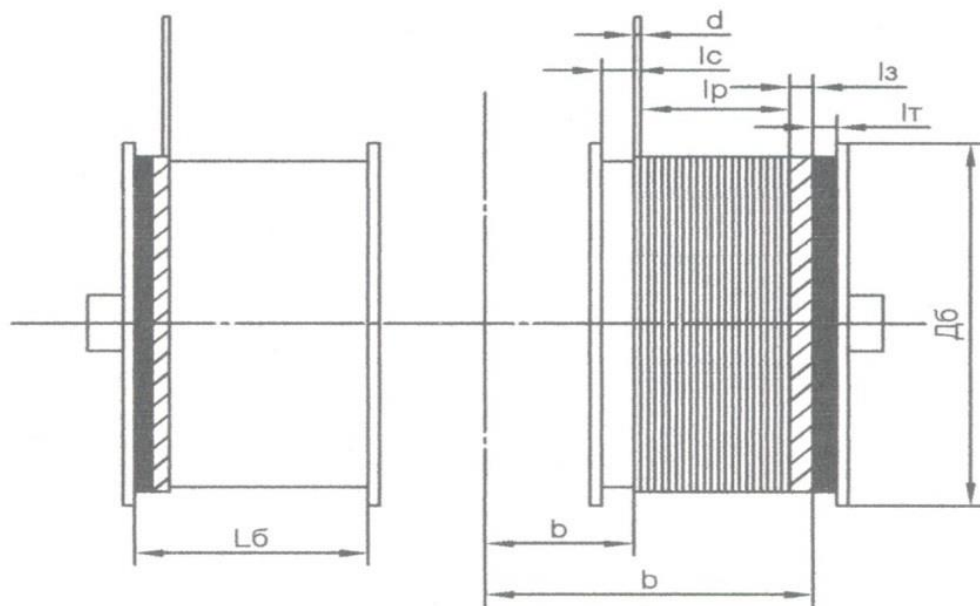


Рис. 4.2. Зоны цилиндрических барабанов

#### 4.3.2. Дирекционный угол фактической оси подъема

$$\text{tg}_{(\Gamma_1+\Gamma)} = \frac{Y_{\Gamma}-Y_{\Gamma_1}}{X_{\Gamma}-X_{\Gamma_1}}$$

#### 4.3.3. Величина непараллельности фактической оси подъема и оси ствола

$$\varepsilon = \alpha_{(\Gamma_1-\Gamma)} - \alpha_{R_1-R_3},$$

где  $\alpha_{R_2-R_3} = 0^{\circ}00'00''$  или  $360^{\circ}00'00''$

4.3.4. Координаты точки С, лежащей на оси главного вала подъемной машины посередине между барабанами

$$X_C = \frac{X'_{Г1} + X'_{Г}}{2}$$

$$Y_C = \frac{Y'_{Г1} + Y'_{Г}}{2}$$

4.3.5. Углы наклонов верхнего и нижнего канатов и их наклоненная длина (см. рис. 4.3.)  
 - Наклоненное расстояние от оси главного вала машины до оси шкивов:

$$L_H^O = \sqrt{L_{Г}^2 + \Delta Z^2}$$

где  $L_{Г}$  – проекция искомого расстояния на горизонтальную плоскость;  
 $\Delta Z$  - превышение оси шкива над осью вала

$$\Delta Z = H_K - H_6$$

где  $H_K$  – высота копра, м;  $H_6$  – высота барабана, м

$$H_6 = \frac{D_6}{2} - 1$$

- Углы наклонов верхнего и нижнего канатов

$$\operatorname{tg} \varphi_0 = \frac{\Delta Z}{L_{Г}}$$

где  $\varphi_0$  – угол наклона линии, соединяющей оси вращения шкива и вала ( $\varphi_0 = 38^\circ 20' 56''$ )

$$\Delta \varphi_H = \frac{R_6 + R_{ш}}{L_H^O} \cdot \rho'$$

$$\Delta \varphi_H = \frac{R_6 - R_{ш}}{L_H^O} \cdot \rho'$$

где  $\rho'$  - радианы в минутах = 3437,75

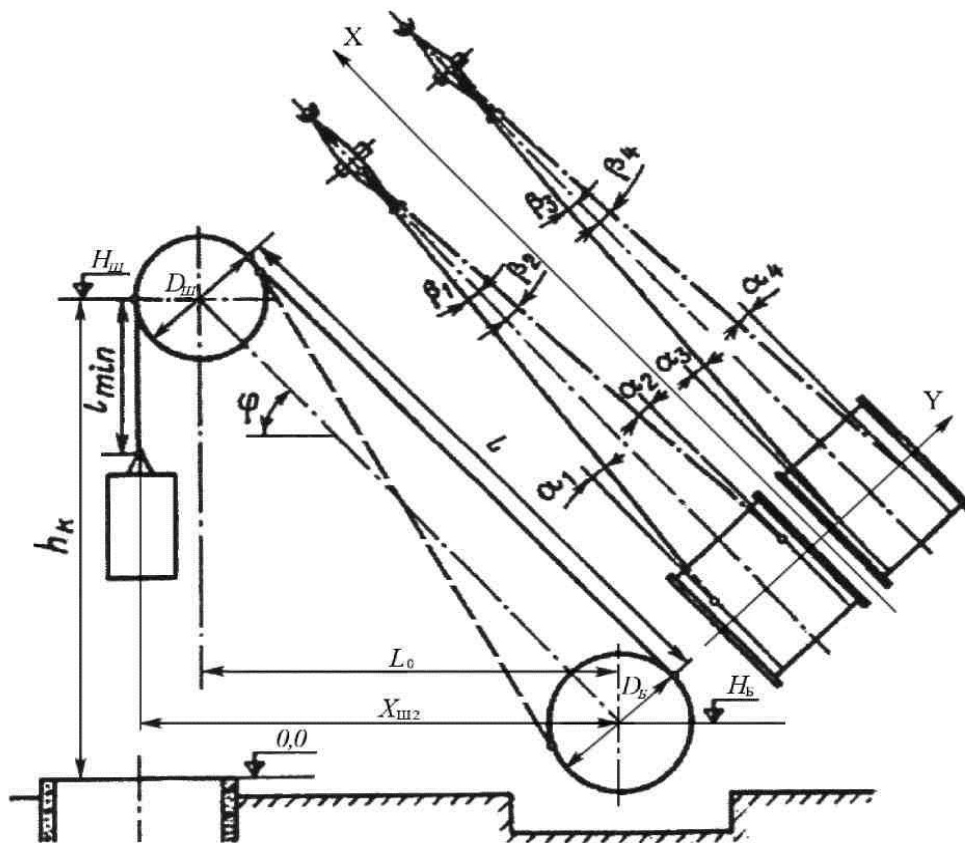


Рис. 4.3. Углы наклона подъемных канатов

- Наклоненная длина верхних и нижних ветвей канатов

$$L_{H}^B = \frac{R_6 - R_{III}}{\sin \Delta \varphi_B} \quad L_{H}^H = \frac{R_6 + R_{III}}{\sin \Delta \varphi_H}$$

4.3.6. Углы девиации на барабанах:

- на северном:

$$\alpha_B^C = \frac{a - b_1}{L_H^H} \cdot \rho' - \varepsilon \cdot \cos \varphi_H$$

$$\alpha_B^C = \frac{b_2 - a}{L_H^H} \cdot \rho' + \varepsilon \cdot \cos \varphi_H$$

$$a = \frac{a_1 + a_2}{2}$$

$$b_1 = \frac{b}{2} - Y_C + S_C + l_c$$

$$b_2 = b_1 + l_p + l_3$$

- на южном:

$$\alpha_B^{ю} = \frac{a' - b'_1}{L_H^B} \cdot \rho' + \varepsilon \cdot \cos \varphi_H$$

$$\alpha_B^c = \frac{b'_2 - a'}{L_H^B} \cdot \rho' - \varepsilon \cdot \cos \varphi_H$$

$$a' = \frac{a'_1 + a'_2}{2}$$

$$b'_1 = Y_C + \frac{b}{2} + S_{Ю} + l_c$$

$$b'_2 = b'_1 + l_p + l_3$$

По правилам технической эксплуатации значения углов отклонения канатов должны быть не более  $1^\circ 30'$ . При углах отклонения выше этого предела возможно нарушение нормальной работы подъема, вызванное быстрым стиранием каната и расширением копровых шкивов.

#### 4.3.7. Углы девиации на шкивах

- на северном:

$$Y_C = \frac{\Delta a_c}{D_{ш}} \cdot \rho' = \frac{a_2 - a_1}{D_{ш}} \cdot \rho',$$

$$\beta_B^C = a_b^c + (\gamma_c + \varepsilon) \cdot \cos \varphi_H,$$

$$\beta_H^C = a_H^c - (\gamma_c + \varepsilon) \cdot \cos \varphi_H.$$

- на южном:

$$Y_{Ю} = \frac{\Delta a_{Ю}}{D_{ш}} \cdot \rho' = \frac{a_2 - a_1}{D_{ш}} \cdot \rho',$$

$$\beta_B^{Ю} = a_b^{Ю} + (\gamma_{Ю} - \varepsilon) \cdot \cos \varphi_B,$$

$$\beta_H^{Ю} = a_H^{Ю} - (\gamma_{Ю} - \varepsilon) \cdot \cos \varphi_B.$$

#### 4.3.8. Средние ошибки углов девиации на барабанах и шкивах

$$m_\alpha = \frac{\rho'}{L_H^0} \cdot \sqrt{\left(\frac{b_2 - a}{L_H^0}\right)^2 \cdot m_{L_H^0}^2 + m_a^2 + m_{b_2}^2}$$

$$m_\beta = \sqrt{m_\alpha^2 + \cos^2 \varphi_0 \cdot m_\gamma^2 + \gamma_C^2 \cdot \sin^2 \varphi_0 \cdot \frac{m_\varphi^2}{\rho'^2}}$$

$$m_\gamma = 0,1^\circ; \quad m_\varphi = 5^\circ$$

11. Так как углы девиации на шкивах  $\beta_B$  и  $\beta_H$  не равны между собой и при большой разности этих углов будет происходить быстрое одностороннее стирание футеровки шкива и каната, это приведет к частой смене футеровки шкива и к сокращению срока службы каната, то необходимо повернуть шкив так, чтобы его плоскость была направлена на середину рабочей части барабана. Для этого разность  $(a_1 - a_{2испр})$ .

$$a_1 - a_{2испр} = \frac{b_1 + b_2 - 2 \cdot a}{2 \cdot L_H^0 \cdot \cos \varphi_0} \cdot D_{ш}$$

$$a'_1 - a_{2испр}' = \frac{b'_1 + b'_2 - 2 \cdot a'}{2 \cdot L_H^0 \cdot \cos \varphi_0} \cdot D_{ш}$$

Расстояние  $a_1$  и  $a$  задаются проектом и изменению не подлежат, так как изменение сместит точки сходов канатов относительно центра тяжести подъемных отделений ствола.

## Работа 5 - Расчет проектного полигона околоствольных выработок

### 5.1. Общие сведения

Околоствольные дворы современных шахт представляют собой сложную систему горных выработок разной протяженности, переменного сечения и разных уклонов, включающую прямолинейные и криволинейные участки, связанные многочисленными сопряжениями в плане и по высоте. Эти выработки проводят встречными забоями из нескольких мест. Оси проектируемых выработок околоствольного двора, образуют полигоны, вершины и направление которых должны быть указаны маркшейдером в натуре. Для проведения горных выработок околоствольного двора должны быть составлены и вычислены проектные полигоны с целью:

1. Проверки правильности размеров горных выработок указанных на проектном плане.

2. Получения исходных данных для инструментального выноса в натуре характерных точек осей проектируемых горных выработок и их направлений. Составление проектного полигона начинается с вычерчивания его геометрической схемы в масштабе 1:200 (см. рис. 5.1).

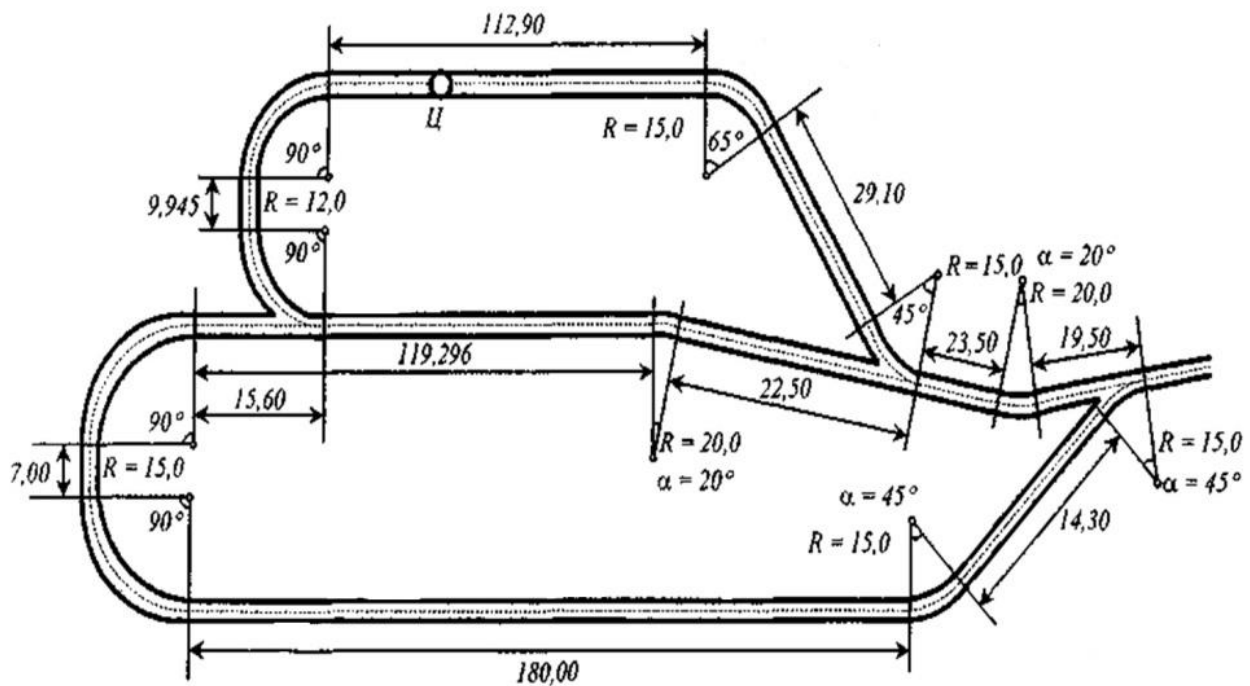


Рис. 5.1 – Геометрическая схема полигона околоствольных выработок

В соответствии с проектом околоствольного двора подземного горизонта и до начала проходки выработок маркшейдер выполняет расчет проектного полигона околоствольных

выработок. Задачей расчета является проверка указанных размеров в проекте и получение исходных данных для задания направления горным выработкам. Вычисленные значения углов  $\beta_1$  и  $\beta_2$  расстояний  $A_1$  и  $B_2$  переносят в натуру, постоянными маркшейдерскими знаками закрепляют точки 1 и 2.

Для проверки правильности размеров выработок, указанных на проектных чертежах, и для получения исходных данных, необходимых для перенесения в натуру осей проектных выработок, производят составление и вычисление проектного полигона околоствольных выработок. Проектный полигон составляют в масштабе 1:200 или 1:500 в виде геометрической схемы (рис. 5.2), на которую наносят оси выработок и выписывают длины криволинейных участков, величины радиусов кривых и углов поворота.

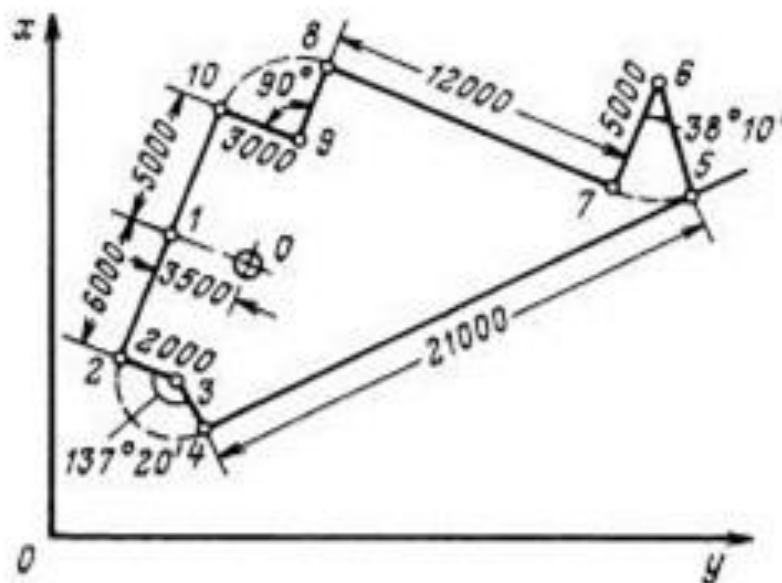


Рис. 5.2 Проектный полигон околоствольных выработок

Вычислительные работы начинают с контроля правильности значений проектных углов замкнутого полигона. При наличии угловой невязки в полигоне (после проверки всех записей) уточняют проектные значения горизонтальных углов. После контроля углов проектного полигона производят вычисления приращений координат, сумма значений которых для замкнутого полигона должна равняться нулю. Если это условие не выполнено, то вычисляют абсолютную и относительную невязки и производят уравнивание полигона. Увязку проектного полигона производят путем изменения длины и приращений координат одной или двух сторон полигона, оставляя без изменения проектные радиусы закруглений. Если этот способ уравнивания применить не представляется возможным (когда ни одна из сторон полигона не имеет дирекционного угла, близкого к дирекционному углу абсолютной невязки), то увязку полигона производят векторно-графическим способом путем распределения линейной невязки на две стороны полигона. После увязки полигона составляют план в масштабе 1:200 или 1:500 и таблицу, в которой приводят углы проектного полигона, длины сторон и поправки к ним, дирекционные углы и координаты точек полигона.

Проектный профиль околоствольных выработок проверяют путем нанесения на схему горных выработок точек измерения проектных уклонов, отметок этих точек и расстояний между ними. По разности отметок и расстоянию между смежными точками вычисляют уклоны выработок для каждого участка, который должен соответствовать уклону, заданному в проекте.

Направление горным выработкам в горизонтальной плоскости задают с помощью теодолита и обозначают его в натуре не менее чем тремя временными точками, закрепленными в кровле выработки. Исходными точками для задания направления служат постоянные маркшейдерские точки, расположенные в сопряжении и заложенные в результате ориентировки данного горизонта.

Проектное положение стенок выработки определяют путем измерения расстояний от отвора отвесов временных точек влево и вправо, а также от кровли до почвы выработки.

При задании направления прямолинейной выработки используют также световой указатель направления УНС-2, лазерный указатель направления типа ЛУН-1 и лазерные визиры типа ЛВ-5.

При задании направления криволинейной выработке до начала ее проходки в масштабе 1:20-1:200 составляют план криволинейного участка. Затем в натуре задают с помощью угломерных инструментов направление криволинейному участку.

На проекте околоствольного двора выработки разбивают на отдельные участки с таким условием, чтобы они были замкнутыми. На каждом участке составляют замкнутый проектный полигон: намечают точки полигона, определяют горизонтальные углы и длины сторон. При построении проектного полигона, оси криволинейных участков, заменяют хордами. Число хорд выбирают графически, с таким расчетом, чтобы при переносе в натуру они не касались стенок выработок и при этом имели максимальную длину. Определив число хорд  $n$ , которыми должна быть заменена кривая (рис.5.3)

Расчет проектного полигона выполняют в следующей последовательности.

1. Обрабатывают криволинейные участки. На закруглении (рис.5.3) определяют количество точек по схеме, составленной в крупном масштабе, или вычисляют по формуле

$$\sin \frac{\alpha'}{4} = \frac{l}{2} \sqrt{\frac{1}{R}} \quad (5.1)$$

где  $\alpha'$  - центральный угол, соответствующий максимальной длине стороны (хорды);

$l$  - ширина выработки, м;

$R$  - радиус закругления, м.

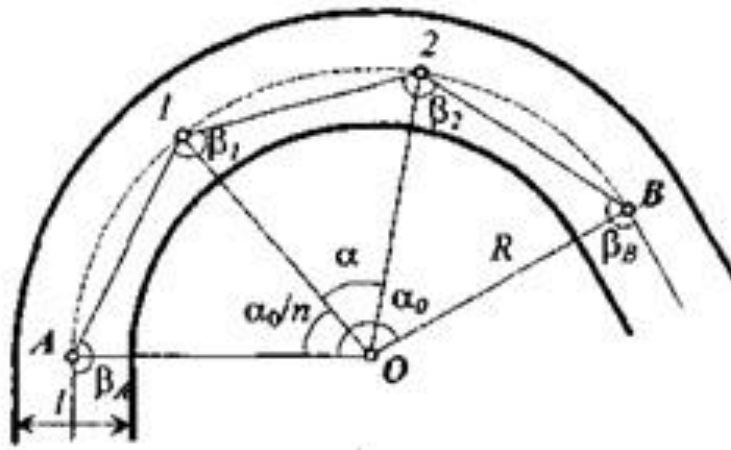


Рис.5.3. Схема закругления

Угол  $\alpha'$  вычислен при соблюдении условий: максимальная длина стороны и наличие видимости между соседними точками.

Определяют число сторон на закруглении:  $n' = \alpha_0 / \alpha'$ , если  $n'$  не целое число, округляют его значение в большую сторону до целого.

Уточняют  $\alpha = \alpha_0 / n$

2. Углы  $\beta_A$  и  $\beta_B$  на сопряжении закругления и прямолинейных участков и углы  $\beta_1, \beta_2$  внутри кривой определяют из выражений

$$\beta_A = \beta_B = 180^\circ - \frac{\alpha_0}{2n} = 180^\circ - \frac{\alpha}{2} \quad (5.2)$$

$$\beta_1 = \beta_2 = 180^\circ - \frac{\alpha_0}{n} = 180^\circ - \alpha \quad (5.3)$$

3. Длину сторон (хорды) на криволинейном участке вычисляют по формуле

$$S = 2R \sin \frac{\alpha}{2} \quad (5.4)$$

4. Выбирают условную систему координат, за центр которой принимают центр ствола (Ц), намечают точки проектного полигона и вычисляют координаты этих точек (рис.5.4).



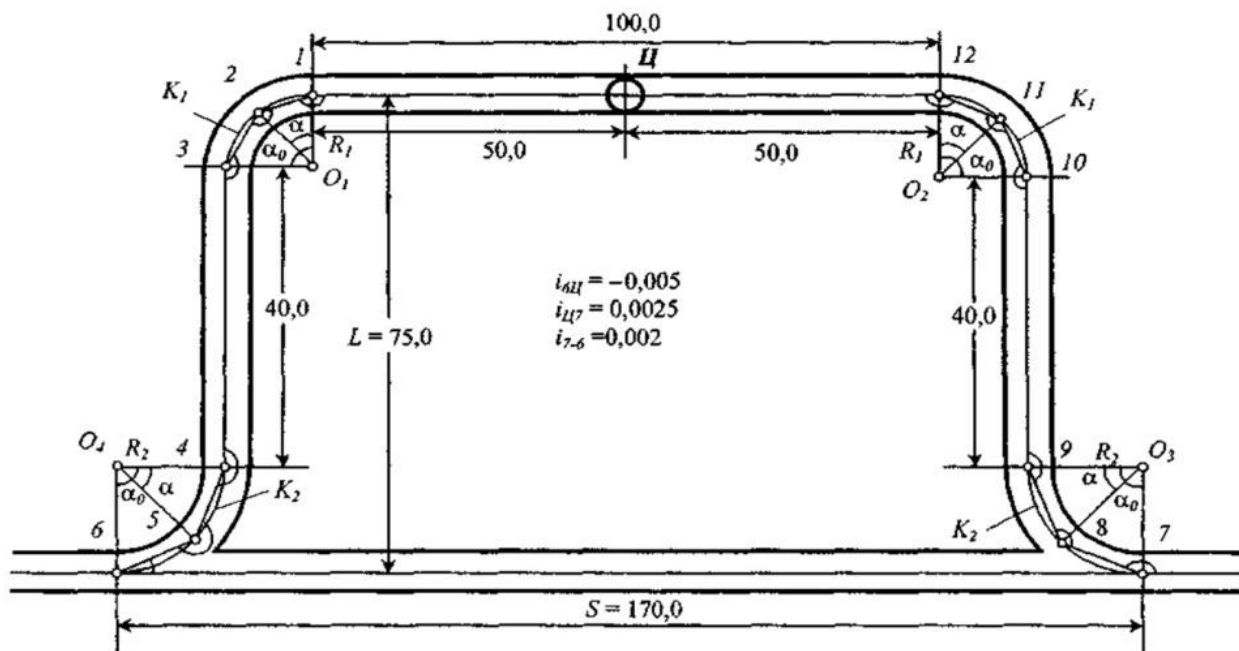


Рис. 5.4. Проект полигона около ствольных выработок

Проектные полигоны, как правило, имеют замкнутую форму, и, следовательно, можно проверить вычисление углов полигона сравнением фактической суммы углов с теоретической:

для внутренних углов

$$\Sigma\beta_m = 180^\circ (n-2) \quad (5.5)$$

для внешних углов

$$\Sigma\beta_m = 180^\circ (n+2) \quad (5.6)$$

При правильном вычислении углов угловая невязка равна нулю ( $f_\beta = 0$ ). Линейную невязку в полигоне определяют обычным образом. Если невязка не превышает допустимого значения  $f_S = 1:2000$ , то поправки вносят не во все стороны, а только в максимальные стороны прямолинейных участков, оставляя без изменений элементы закруглений и узлов сопряжения выработок.

5. После обработки проектных полигонов в плане выполняют их обработку в вертикальной плоскости: определяют превышения  $\Delta h$  между характерными точками или уклоны  $i$  выработок между этими точками.

Если в проекте заданы высотные отметки точек, то уклон выработки между этими точками

$$i = \Delta h / S \quad (5.7)$$

Если проектом задан уклон  $i$ , то превышение между точками

$$\Delta h = iS \quad (5.8)$$

Для контроля вычисления превышений в замкнутом полигоне используют выражение

$$\Sigma \Delta h = 0 \quad (5.9)$$

В разомкнутом полигоне между точками  $A$  и  $B$ , высотные отметки которых  $H_A$  и  $H_B$  известны,

$$\Sigma h = H_B - H_A \quad (5.10)$$

*Пример.* Требуется выполнить расчет проектного полигона околоствольных выработок.

Исходные данные: ширина выработки  $l = 3,5$  м; элементы закруглений  $R_1 = 15$  м,  $R_2 = 20$  м, центральные углы поворота  $\alpha_0 = 90^\circ$ ; длина прямолинейных участков и уклоны выработок приведены на схеме полигона (рис. 5.4).

При составлении проекта полигона выполняют разбивку точек на закруглениях, определяют углы и длины сторон. На прямолинейных участках длины сторон принимают в соответствии с проектным чертежом. При расчете полигона используют принятую на шахте систему координат или выбирают условную.

*Решение.*

1. Определяем количество сторон (хорд) на закруглениях из выражения (5.1):

$$\frac{\sin \alpha'_1}{4} = \frac{1}{2} \sqrt{\frac{3,5}{15,0}} = 0,21; \quad \alpha'_1 = 48^\circ$$

$$\frac{\sin \alpha'_2}{4} = \frac{1}{2} \sqrt{\frac{3,5}{20,0}} = 0,24; \quad \alpha'_2 = 56^\circ$$

$$n'_1 = \frac{\alpha_0}{\alpha_1} = \frac{90^\circ}{48^\circ} = 1,9; \quad n'_2 = \frac{\alpha_0}{\alpha_2} = \frac{90^\circ}{56^\circ} = 1,6$$

Место для формулы.

Принимаем  $n_1 > n'_1 = 2$ ;  $n'_2 = 2$  тогда

$$\alpha = \frac{\alpha_0}{n} = \frac{90^\circ}{2} = 45^\circ$$

2. Вычисляем углы в точках, расположенных в начале и конце кривой, а также внутри закруглений по формулам (5.2):

$$\beta_1 = \beta_3 = \beta_{10} = \beta_{12} = 180^\circ - \frac{90^\circ}{2 \cdot 2} = 157^\circ 30'$$

$$\beta_2 = \beta_{11} = 180^\circ - \frac{90^\circ}{2} = 137^\circ 00'$$

$$\beta_4 = \beta_9 = 360^\circ - 157^\circ 30' = 202^\circ 30'$$

$$\beta_5 = \beta_8 = 225^\circ 00'; \quad \beta_6 = \beta_7 = 25^\circ 30'$$

3. Длины сторон на закруглениях определяем по формуле (5.3):

$$S_1 = 2 \cdot 15,0 \cdot 0,38267 = 11,480 \text{ м}; \quad S_2 = 2 \cdot 20,0 \cdot 0,38267 = 15,307 \text{ м}$$

4. Координаты точек проектного полигона вычисляем в формуляре вычисления координат в условной системе. Угловая невязка  $f_\beta = 0$ ;  $\Sigma \Delta y = 0$ ;  $\Sigma \Delta x = 0$

5. Превышения рассчитываем по формуле (5.4):

$$\Delta h_{6-Ц} = 145 \cdot (-0,005) = -0,725 \text{ м}; \quad \Delta h_{Ц-7} = 145 \cdot 0,0025 = 0,362 \text{ м}$$

$$\Delta h_{7-6} = 170 \cdot 0,002 = 0,340 \text{ м}; \quad \Sigma \Delta h = -0,023 \text{ м} < 0,034 \text{ м}$$

$$\Sigma \Delta h_{\text{доп}} = 50 \sqrt{L} = 50 \sqrt{0,46} = 34 \text{ мм}$$

Выполненный расчет свидетельствует, что проект околоствольных выработок составлен правильно и полученные данные можно использовать для задания направления горным выработкам.

Решение задач при расчете сопряжений горных выработок выполняется в следующей последовательности (рис.5.5).

1. Вычисляем угол поворота  $\beta_2$ :

$$\beta_2 = \alpha_{CD} - \alpha_{BA} + 360^\circ;$$

$$\operatorname{tg} \alpha_{CD} = \frac{Y_D - Y_C}{X_D - X_C}; \quad \operatorname{tg} \alpha_{BA} = \frac{Y_A - Y_B}{X_A - X_B}$$

2. Определяем центральный угол  $\alpha_2$ :

$$\frac{\alpha_2}{2} = 90^\circ - \frac{\beta_2}{2}; \quad \alpha_2 = 180^\circ - \beta_2$$

3. Вычисляем координаты точки (O) пересечения  $CD$  и  $AB$ :

$$Y_0 = \frac{Y_C \operatorname{ctg} \alpha_{CD} - Y_B \operatorname{ctg} \alpha_{BA} + (X_B - X_C)}{\operatorname{ctg} \alpha_{CD} - \operatorname{ctg} \alpha_{BA}}$$

$$X_0 = \frac{X_C \operatorname{tg} \alpha_{CD} - X_B \operatorname{tg} \alpha_{BA} + (Y_B - Y_C)}{\operatorname{tg} \alpha_{CD} - \operatorname{tg} \alpha_{BA}}$$

4. Вычисляем тангенс ( $T_2$ ) кривой  $R_2$ , т.е. расстояние  $OH_2$  и  $OK_2$ :

$$T_2 = R_2 \operatorname{tg} \frac{\alpha_2}{2}; \quad T_2 = OH_2 = OK_2$$

5. Определяем координаты начала ( $H_2$ ) и конца ( $K_2$ ) кривой  $R_2$ :

$$x_{H_2} = x_0 + T_2 \cos \alpha_{CD}; \quad x_{K_2} = x_0 + T_2 \cos \alpha_{BA};$$

$$y_{H2} = y_0 + T_2 \sin \alpha_{CD}; \quad y_{K2} = y_0 + T_2 \sin \alpha_{BA}.$$

6. Вычисляем расстояние  $CH_2$  и  $K_2A$ :

$$CH_2 = \frac{Y_C - Y_{H2}}{\sin \alpha_{DC}} = \frac{X_C - X_{H2}}{\cos \alpha_{DC}}$$

$$K_2A = \frac{Y_A - Y_{K2}}{\sin \alpha_{BA}} = \frac{X_A - X_{K2}}{\cos \alpha_{BA}}$$

7. Определяем число хорд на закруглении  $R_2$  по формуле (5.1):

$$\sin \frac{\alpha_2'}{4} = \frac{1}{2} \sqrt{\frac{1}{R_2}}; \quad n' = \frac{\alpha_{02}}{\alpha_i}; \quad n \geq n'$$

8. Вычисляем углы и длины сторон хода на закруглении  $R_2$  по формулам (5.2) и (5.3).

Закругление  $R$  обрабатывается аналогично закруглению  $R_2$ . После этого составляется ведомость вычисления координат теодолитного хода  $D-C-H_2-K_2-A-0-B-K-H-CD$ .

*Задание:* Необходимо составить проект сопряжения горных выработок и проект полигона околоствольного двора, и обработку последнего.

Исходные данные для составления проекта сопряжения горных выработок приведены в табл. 5.1 и на рис.5.5 (нечетные варианты) и 5.6 (четные варианты).

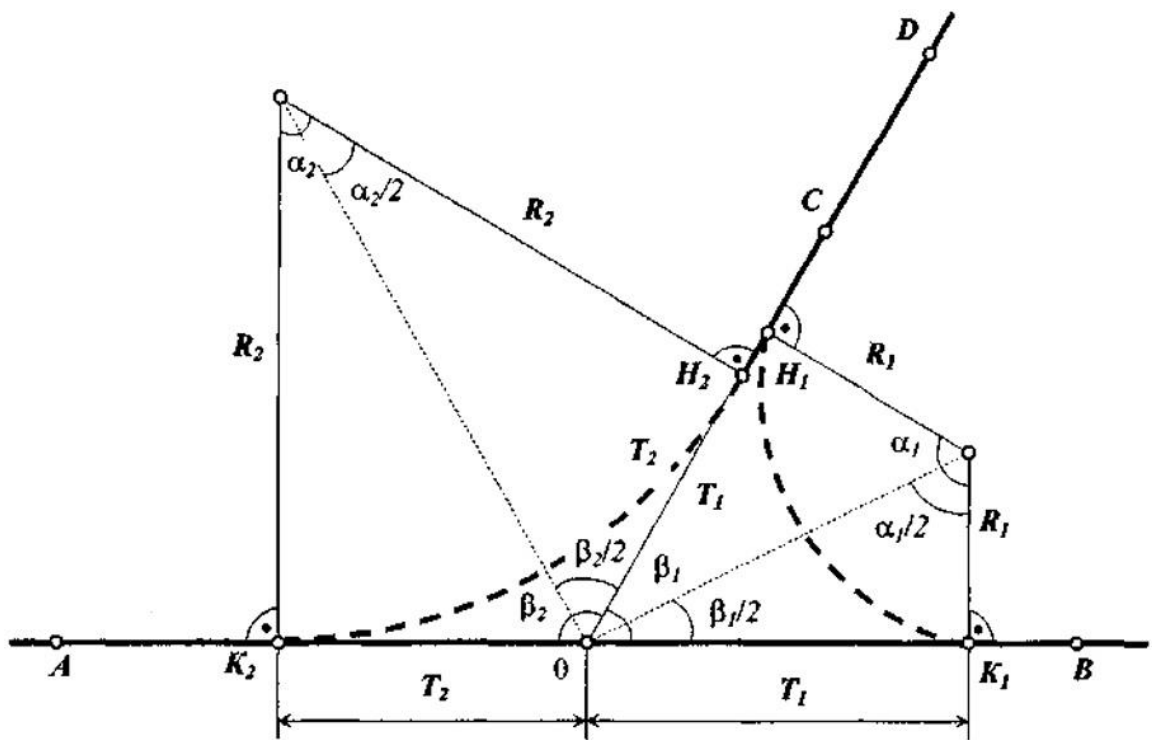


Рис.5.5. Расчетные элементы сопряжения горных выработок для вариантов 1 - 5

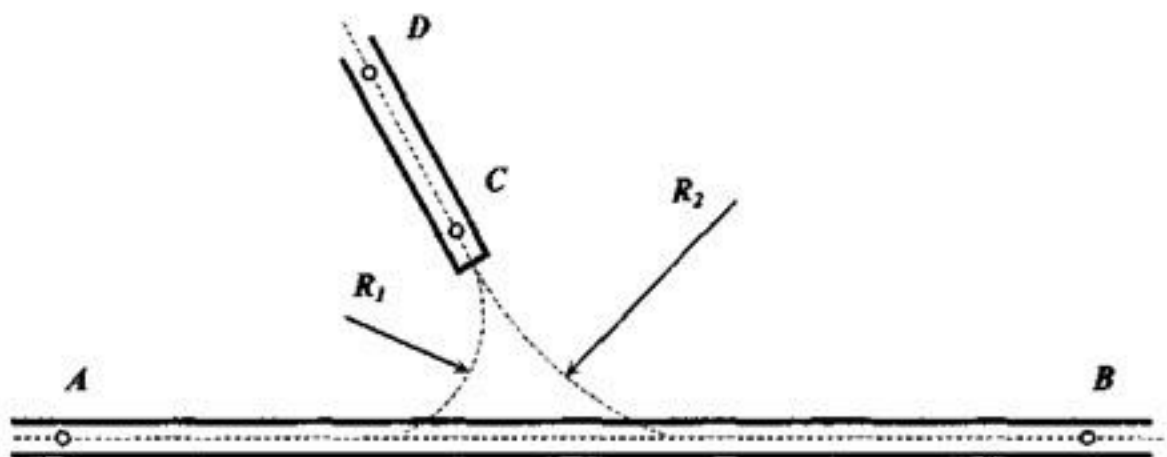


Рис.5.6. Схема сопряжения горных выработок для вариантов 6-10

Таблица 5.1

№ варианта	$x_A$	$y_A$	$x_B$	$y_B$	$x_C$	$y_C$	$x_D$	$y_D$	$HA$	$HC$	$R1$	$R2$	$l$
1,2	298,54	349,50	298,54	481,10	357,68	428,37	432,74	483,50	45,35	45,53	15,0	30,0	3,0
3,4	282,40	360,07	300,85	498,32	357,05	419,63	447,52	443,06	212,40	212,60	20,0	40,0	«3,0
5,6	300,96	362,07	290,80	497,63	363,67	463,52	420,64	496,62	-310,10	-309,85	25,0	30,0	3,5
7,8	262,84	366,53	267,30	379,28	335,67	434,20	397,09	441,10	-475,00	-474,85	20,0	30,0	3,5
9,10	230,00	330,00	230,00	480,90	289,27	385,82	349,52	399,70	-211,45	-211,20	20,0	35,0	3,0
11,12	449,37	430,02	449,37	558,70	493,72	475,20	551,80	434,45	-515,10	-514,90	20,0	40,0	3,5
13,14	442,70	418,40	476,92	551,84	515,38	478,00	576,65	452,47	35,40	35,65	25,0	35,0	3,0
15,16	458,08	450,08	473,27	573,49	506,80	491,07	575,39	476,06	242,50	242,75	15,0	30,0	3,0
17,18	469,09	430,15	490,52	538,73	530,82	497,98	591,07	496,00	-510,47	-510,25	20,0	30,0	3,0
19,20	490,09	469,25	486,06	568,13	521,50	469,02	588,04	435,30	118,15	118,35	15,0	20,0	3,5

Требуется определить:

- 1) угол поворота;
- 2) центральный угол;
- 3) число и длины хорд;
- 4) углы между хордами;
- 5) координаты начала и конца закругления выработки при ее сопряжении с другой выработкой.

На составление проекта и обработку проектных полигонов замкнутой формы необходимые данные приведены на рис. 5.7. – 5.22.

Требуется:

- 1) выполнить разбивку точек и определить углы и длины сторон на закруглениях проектного полигона;

2) рассчитать проектный полигон.

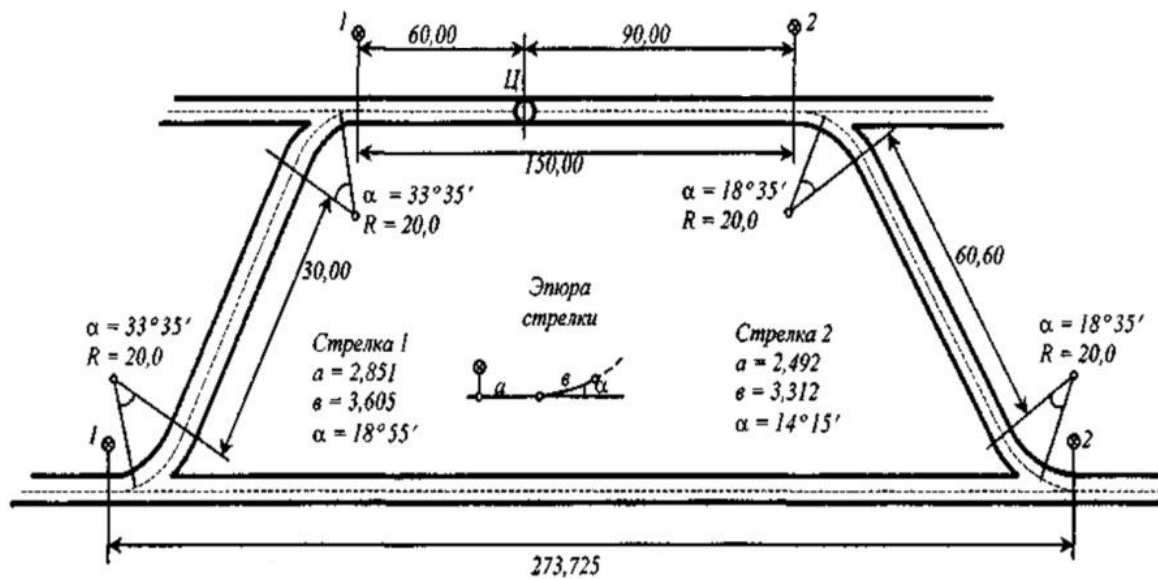


Рис.5.7. Вариант 1

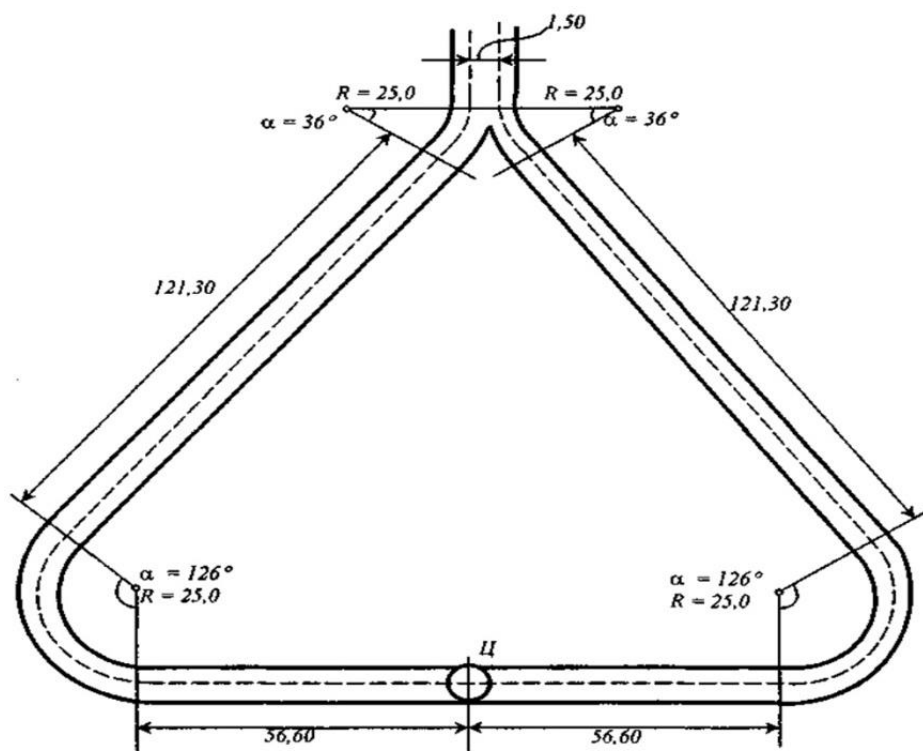


Рис.5.8. Вариант 2



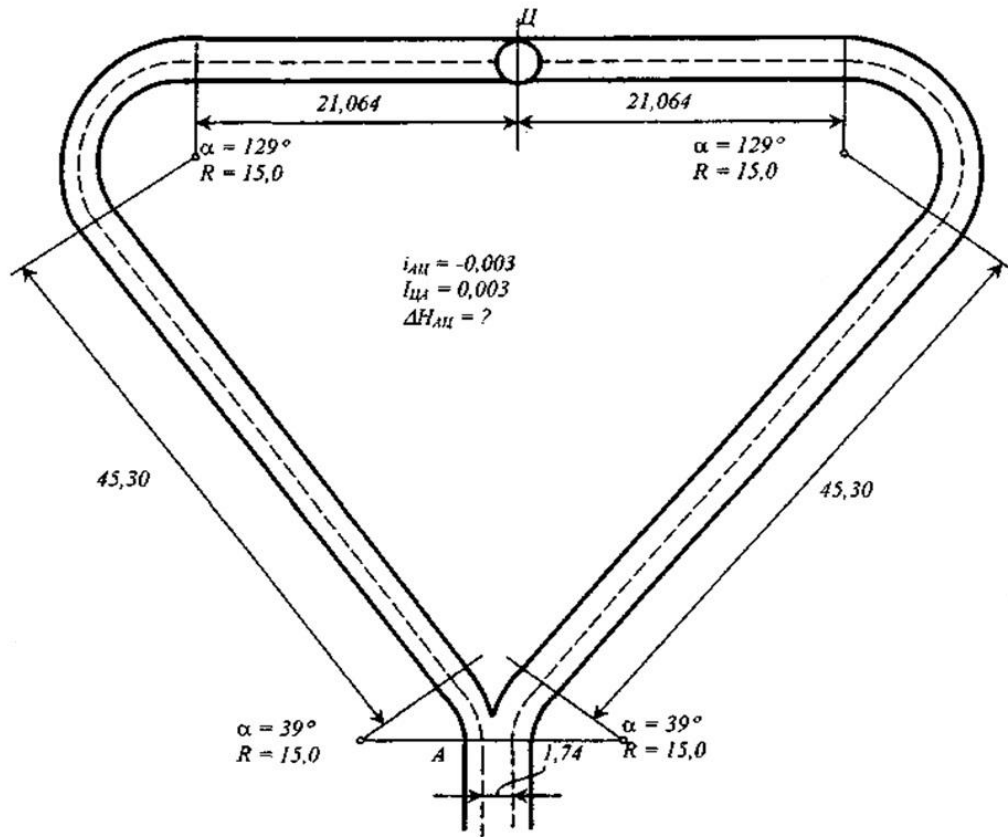


Рис.5.9. Вариант 3

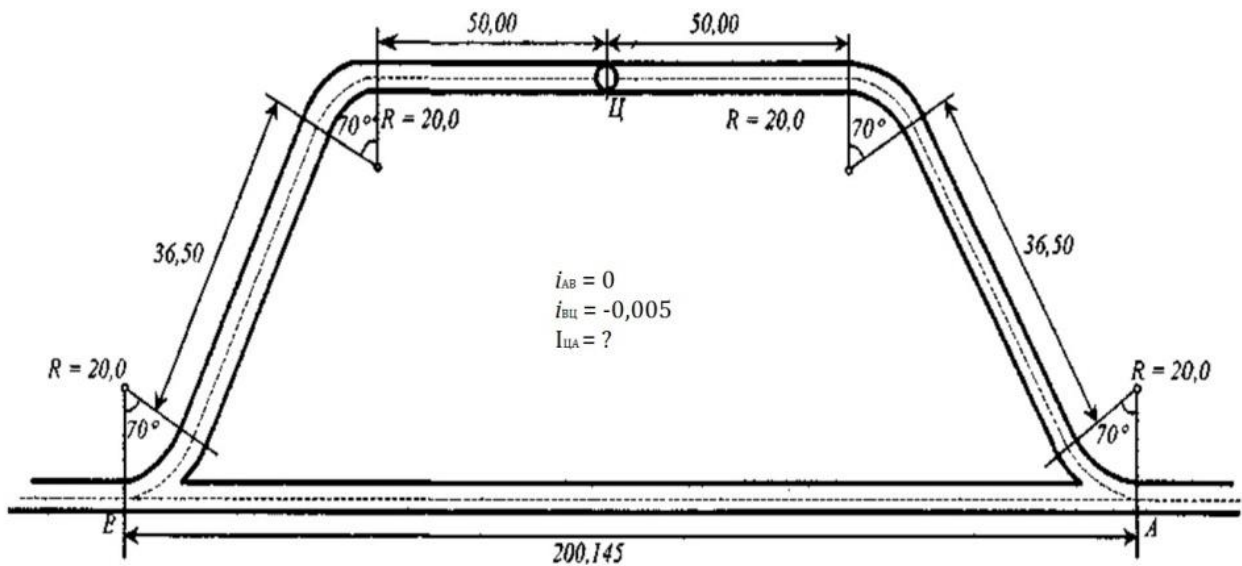


Рис.5.10. Вариант 4

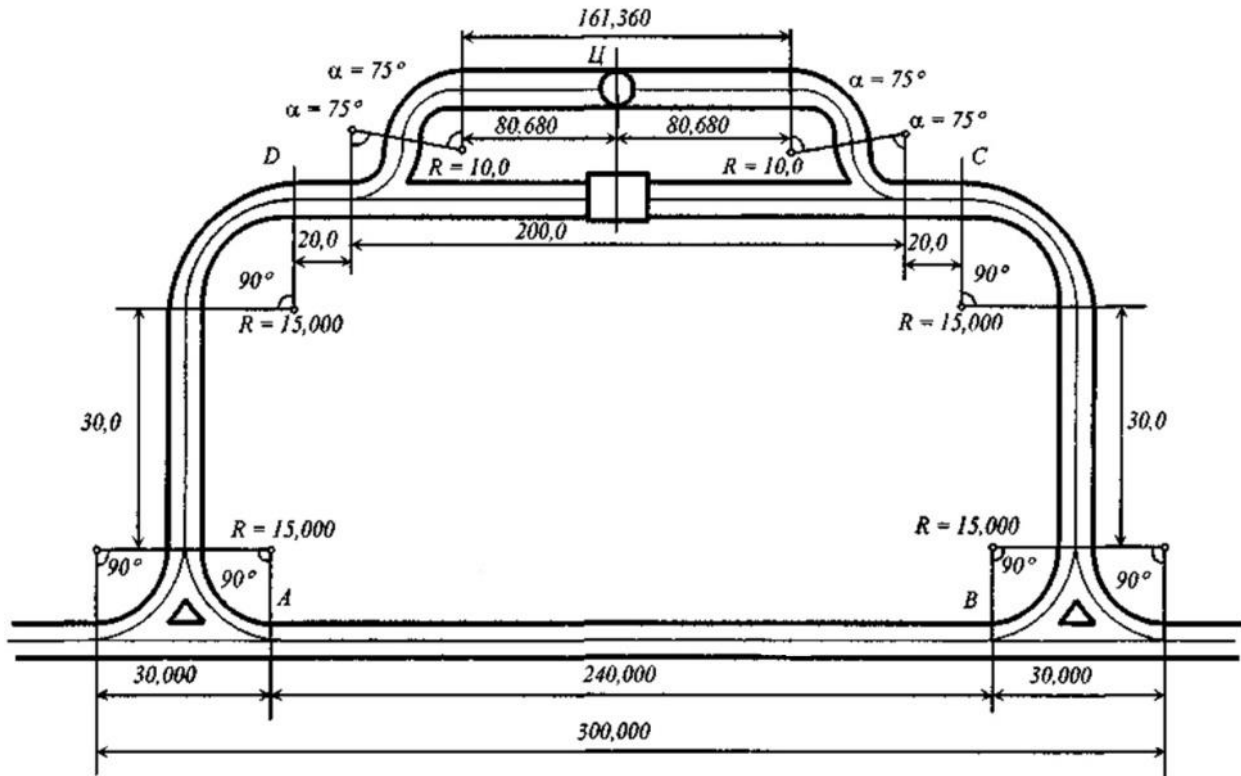


Рис.5.11. Вариант 5

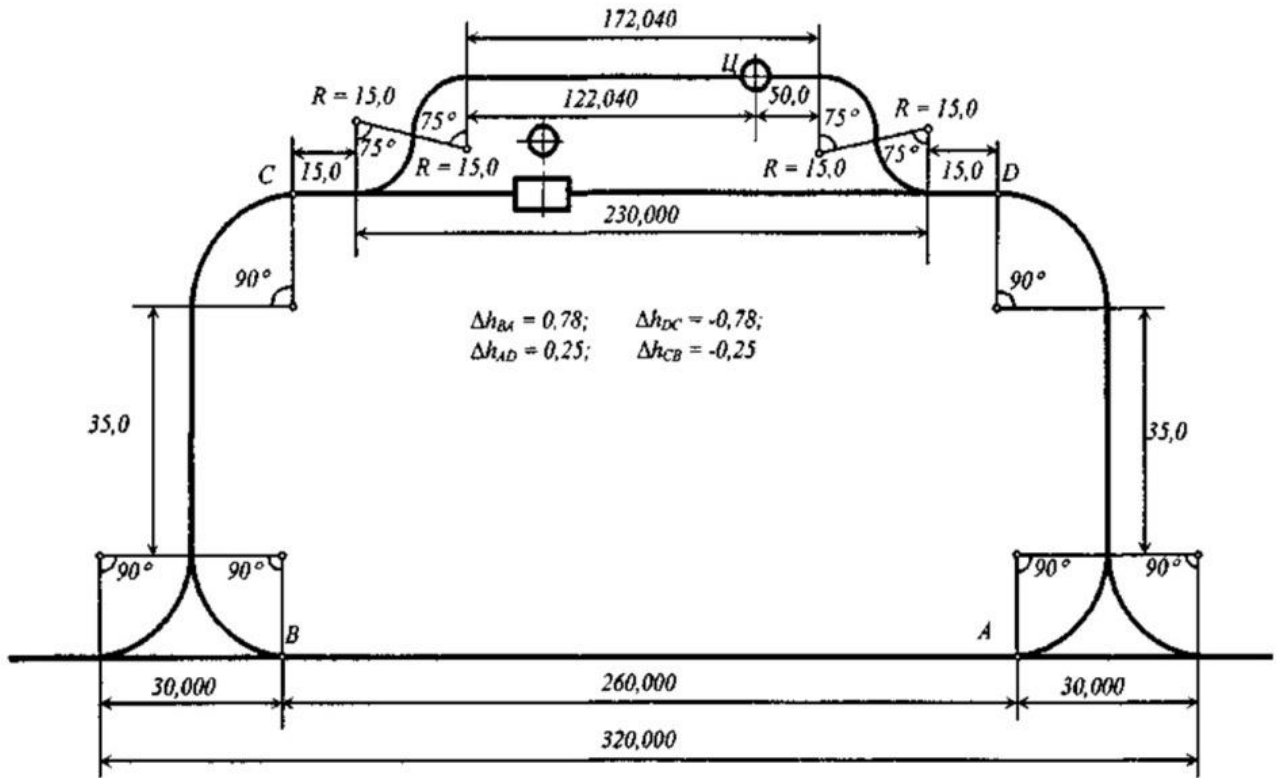


Рис.5.12. Вариант 6

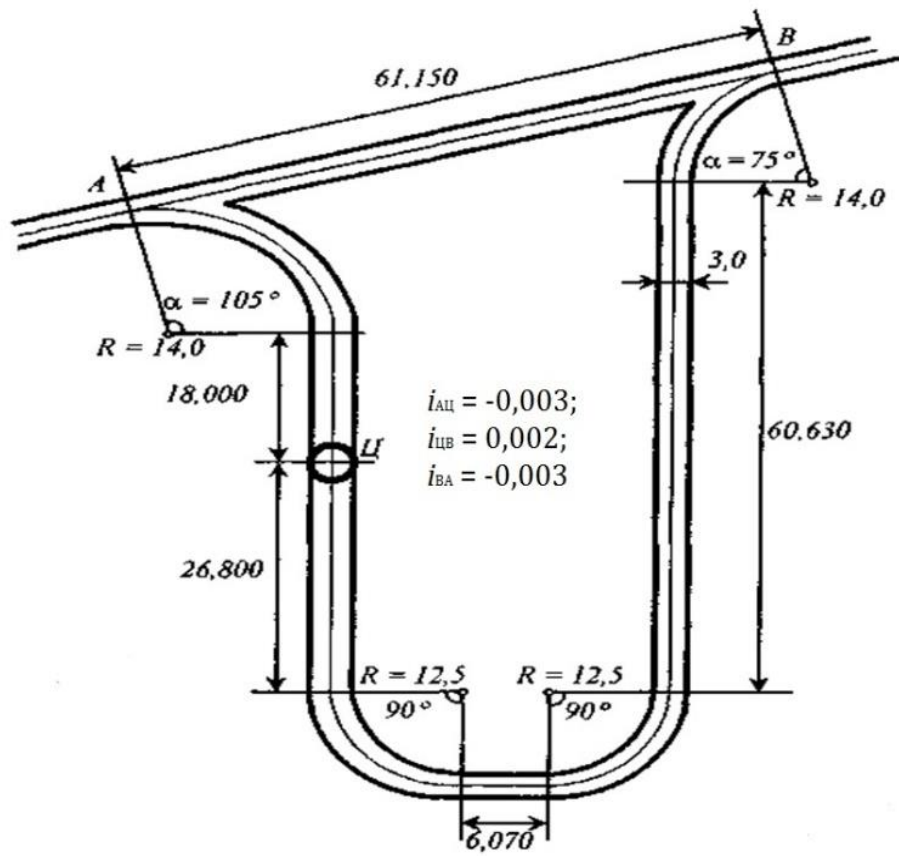


Рис.5.13. Вариант 7

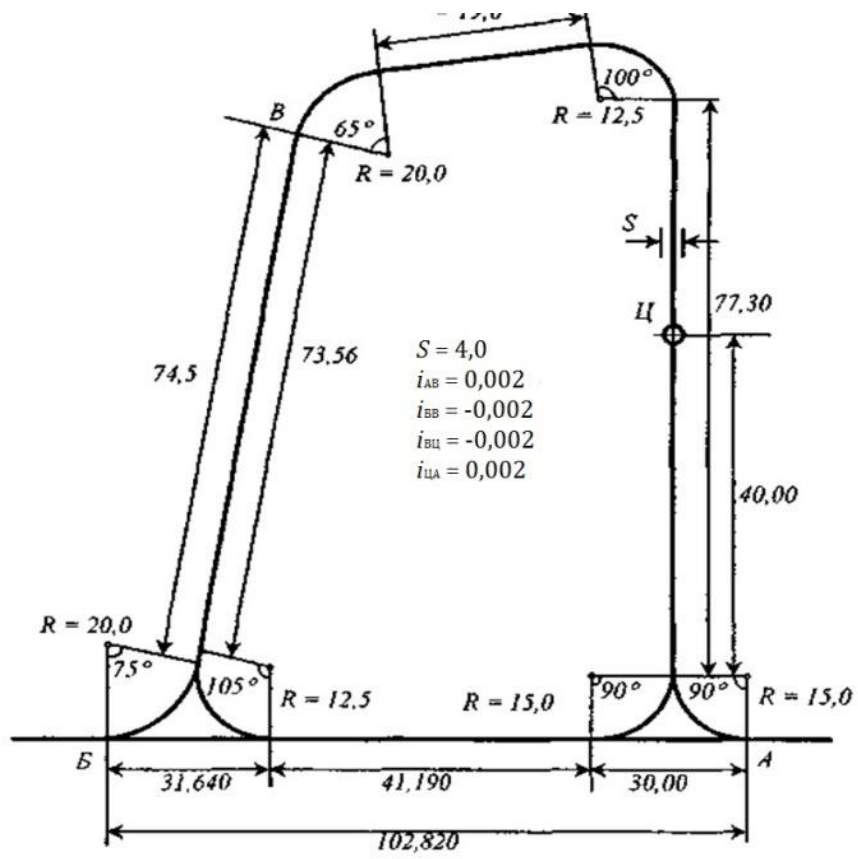


Рис.5.14. Вариант 8

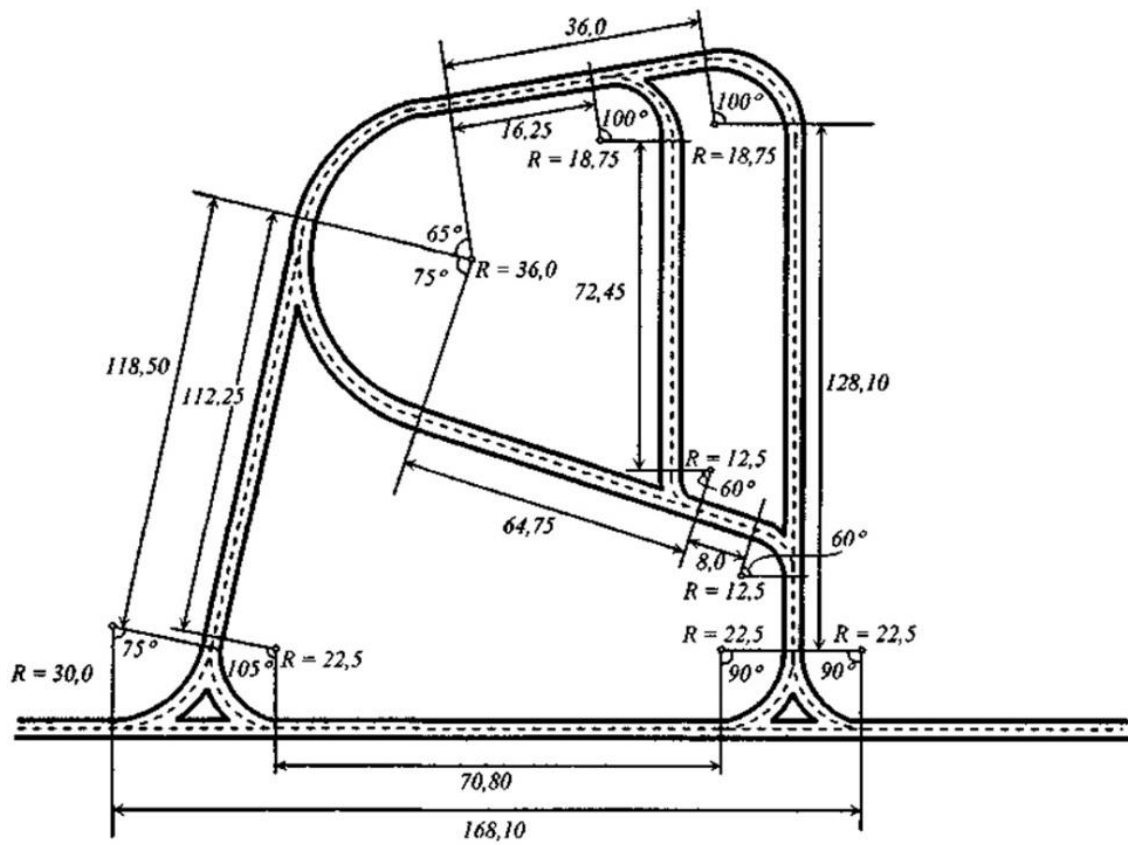


Рис.5.15. Вариант 9

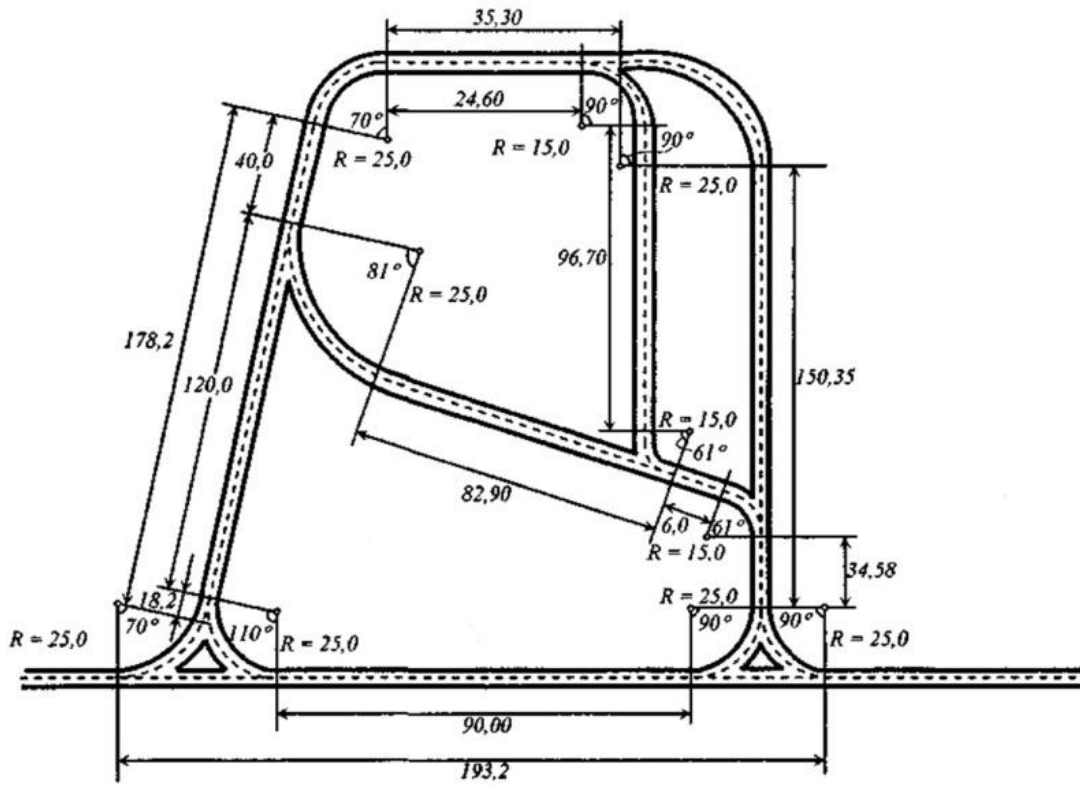


Рис.5.16. Вариант 10

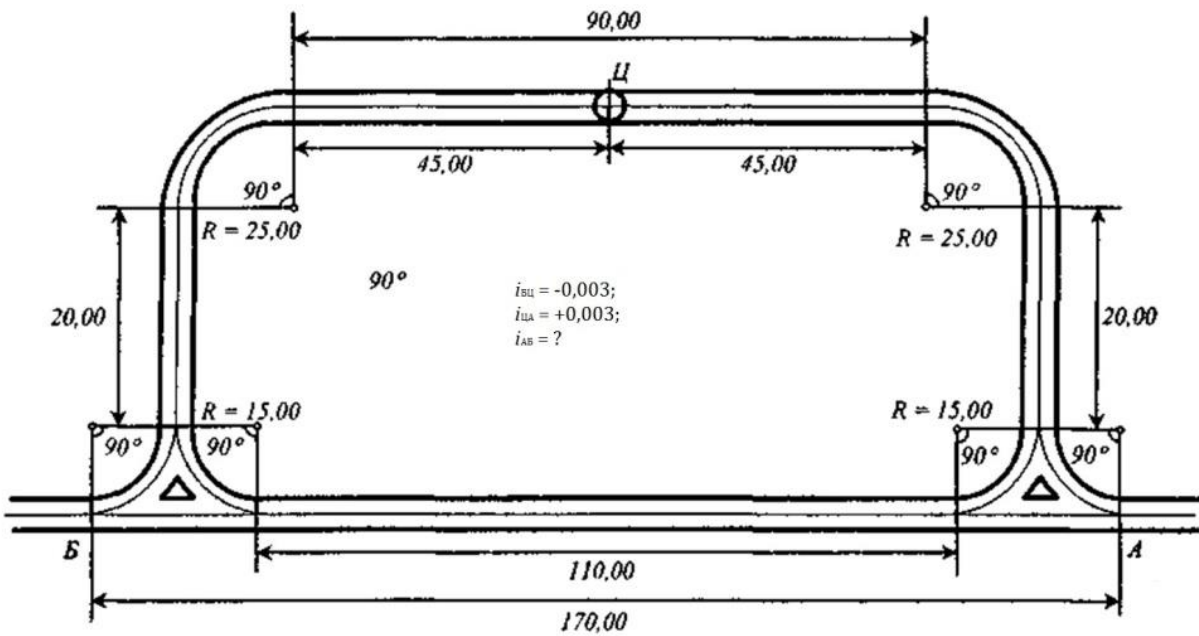


Рис.5.17. Вариант 11

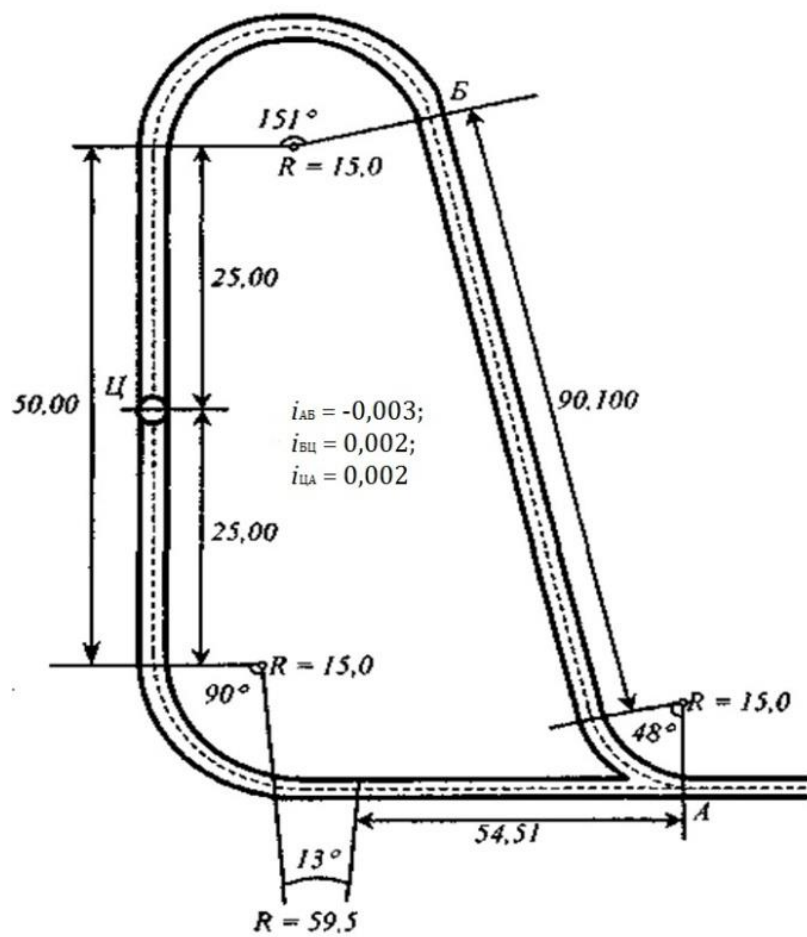


Рис.5.18. Вариант 12



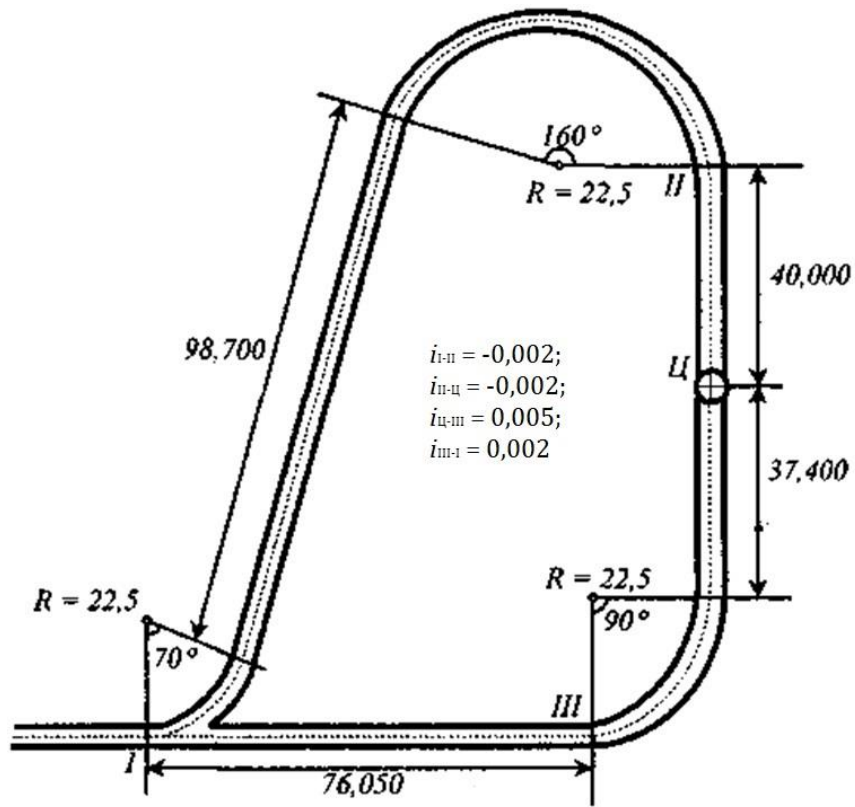


Рис.5.20. Вариант 13

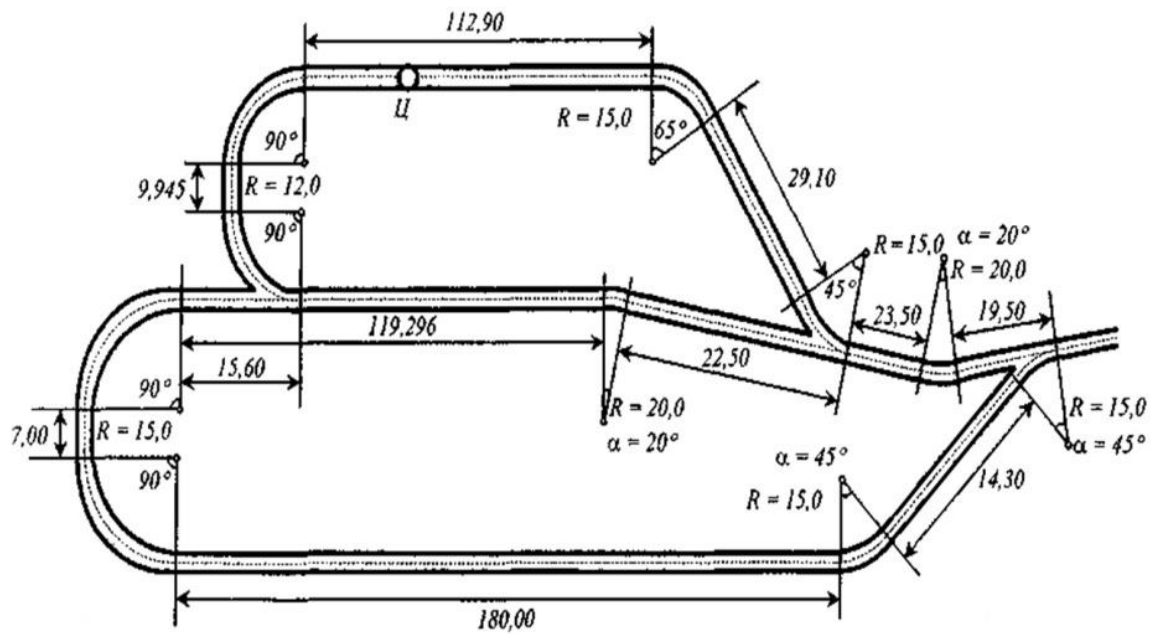


Рис.5.21. Вариант 14

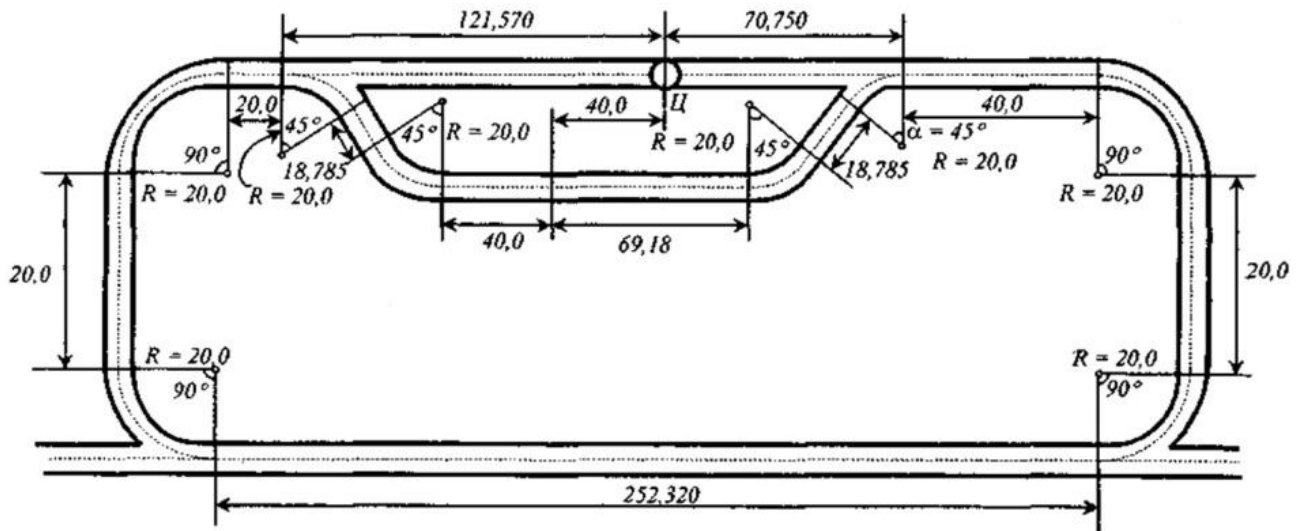


Рис.5.22. Вариант 15

## **Работа 6–Обработка инклинометрических замеров по замораживающим скважинам**

### **6.1. Общие сведения**

При проходке ствола традиционным буровзрывным способом маркшейдерские работы заключаются в контроле положения вертикальных направлений, определении объемов произведенных горнопроходческих работ, фиксации мест и размеров вывалов пород и забутовке пространства за крепью, в контроле положения передвижной опалубки, параметров сечения ствола, вертикальности стенок крепи.

Способ замораживающими скважинами заключается в искусственном замораживании водоносных грунтов или пльвунов, в которых предусматривается сооружение ствола шахты. Вокруг будущего контура ствола через всю толщу водоносных грунтов бурят скважины, заглубляя их в водоупорный слой на 2–3 м. При отсутствии на глубине, до которой проходят ствол, водоупора, бурят несколько скважин в пределах сечения ствола для образования подушки из замороженных грунтов.

При этом способе в обводненных грунтах вокруг запроектированного ствола бурят скважины, в которые опускают колонны замораживающих (обсадных) труб. При циркуляции рассола по трубам порода, окружающая скважину замерзает, постепенно охлаждаясь и образуя вокруг скважины ледогрунтовой цилиндр. Ледогрунтовой цилиндр одной скважины перекрывается цилиндрами рядом стоящих скважин, образуя временную защитную ледовую стену, которая защищает ствол от близко лежащих вод и пльвунов, которые при замерзании не могут попасть в строящийся ствол. Сплошная ледогрунтовая стена образуется в том случае, если скважины будут пробурены в определенном порядке. Отклонение смежных скважин в противоположных направлениях могут привести к тому, что часть грунта не заморозится и через этот не замороженный участок в строящийся ствол могут прорваться воды и пльвуны. Заданное направление скважин проверяется в процессе бурения специальными приборами, которыми определяются:

1. Вертикальные углы, составленные осью скважин с направлением скважины - зенитные углы

2. Углы, составляемые направлением отклонения с меридианом – азимутальные углы.

Замораживающие скважины располагают вокруг ствола в один, или два ряда (см. рис.6.1). Разбивку центров устьев скважин (1,2,3,.....и т.д.) производят от закрепленного на местности центра ствола О полярным способом, по заданному в проекте  $R_c$  и углу  $\beta$  где угол  $\beta = 360^\circ / n$ , где  $n$  – количество скважин. Если скважины неглубокие то их съемку производят простым способом, непосредственно измеряя элементы искривления оси скважин. Для глубоких скважин применяют различные инклинометры («зенит», И560Ф, И447Д) при спуске измерительного прибора автоматически вычерчивается план оси скважин в М 1:10 и 1:50.

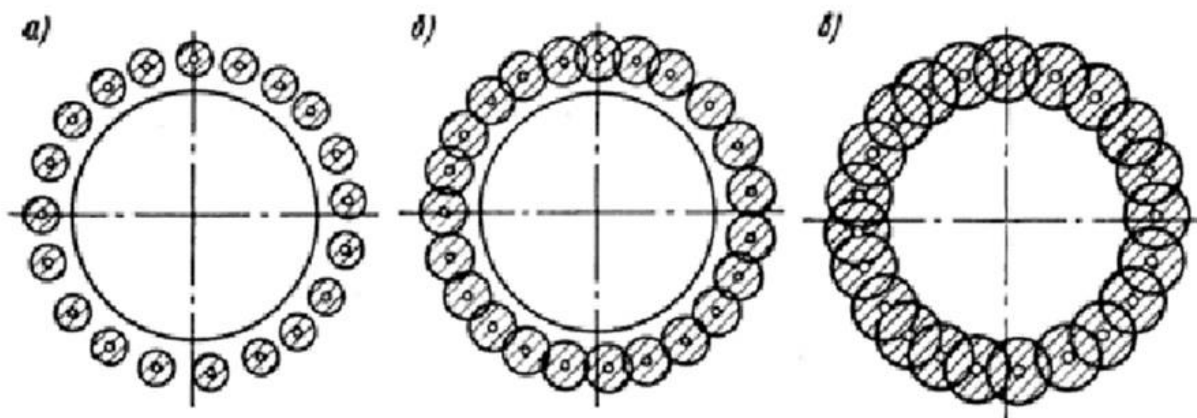


Рис. 6.1. Последовательность образования ледорубного кольцевого массива вокруг шахтного ствола: а) начальный период, б) середина процесса  
в) конец замораживания.

Для наблюдения за процессом замораживания бурят контрольные скважины; гидрогеологические (не менее двух, одна внутри, другая за пределами замораживающего контура) для наблюдения за колебаниями грунтовых вод и термометрические, оборудованные термометрами для измерения температуры грунта. Термические скважины располагают между замораживающими колонками и внешней границей льдопородного ограждения в количестве не менее 10% от общего числа замораживающих скважин. Диаметр гидрогеологических и термометрических скважин принимают равным 75–100 мм. Производительность холодильной установки определяется теплотехническим расчетом. Для этого определяют объем грунта и объем воды, подлежащих замораживанию отдельно для каждого пласта. Методика расчета приведена в специальных технических указаниях. Для бурения вертикальных замораживающих скважин получили распространение станки вращательного бурения УРБ-3АМ, СБУ-150-ЗИВ и трубобуровые установки УЗТ-1, УЗТ-2. В процессе бурения происходят отклонения скважин от вертикали, поэтому необходим систематический контроль за их направлением, который осуществляется с помощью специальных приборов. Бурение в неустойчивых грунтах ведется с промывкой скважин глинистым раствором с содержанием глины от 15 до 40%. В крупнопористых и трещиноватых скальных грунтах используют раствор бентонитовых глин. Вертикальные колонки при замораживании до 18 м в несвязных грунтах погружают гидравлическим методом (подмывом) или при помощи вибромолотов.

Питающие трубы замораживающих колонок подключают к распределительному рассолопроводу (1) (рис. 6.2), отводящие трубы (2) подключаются к коллектору. Распределительный рассолопровод и коллектор размещаются в галерее (3). Обычно для рассолопровода принимают трубы диаметром 150–250 мм, прокладываемые в траншеях, глубина которых назначается больше глубины промерзания грунта. Трубы укладывают на деревянные подкладки и закрывают теплоизоляционным материалом, после чего траншею засыпают грунтом. Оборудование замораживающей станции монтируют в соответствии с заводскими инструкциями.

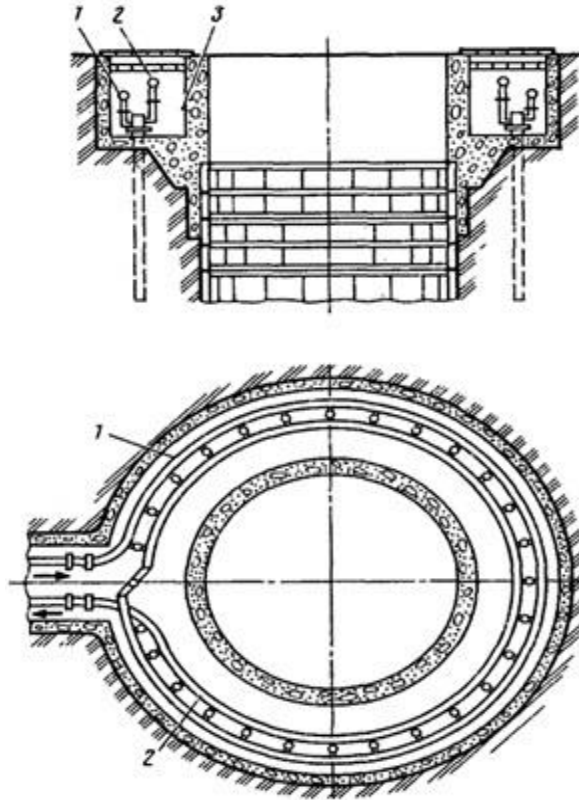


Рис. 6.2 – Галерея для распределителя и коллектора

При большой мощности водоносных грунтов применяют **ступенчатое замораживание**, т. е. вначале замораживают верхнюю часть, а затем нижнюю часть водоносной толщи. Этот способ применяют также, если глубина замораживания должна быть увеличена в результате появления новых водоносных пластов или неустойчивых водонасыщенных грунтов. Тогда верхнюю часть ствола проходят обычным способом, проходку нижней части в неустойчивых грунтах производят с предварительным ступенчатым замораживанием. При проходке стволов в неустойчивых и плавучих породах с использованием ледопородного ограждения в виде рядов замораживающих скважин производятся инклинометрические измерения по скважинам (замеры зенитных и азимутальных углов), построение сечений и развертки ледопородного цилиндра с учетом данных инклинометрической съемки, определение размеров дефектных зон в ледопородном ограждении.

Пространственные координаты забоя искривленных скважин определяют по формулам:

$$X_3 = X_Y + \sum l_i \sin \beta_i * \cos \alpha_i \quad (6.1)$$

$$Y_3 = Y_Y + \sum l_i \sin \beta_i * \sin \alpha_i \quad (6.2)$$

$$H_3 = H_Y + \sum l_i * \cos \beta_i \quad (6.3)$$

Расхождения по координатам определяют по формулам:

$$\Delta X = X_3 - X_Y \quad (6.4)$$

$$\Delta Y = Y_3 - Y_Y \quad (6.5)$$

где:  $X_Y$ ,  $Y_Y$ ,  $H_Y$ - пространственные координаты устья скважины, м;

$l_i$ , - длина интервала между точками измерения параметров искривления, м;

$\beta_i$ , и  $\alpha_i$  - зенитный и азимутальный (дирекционный) углы интервалов оси скважин, град;

$\Delta_x, \Delta_y$ - расхождения в соответствующих координатах, м.

*Задание.* На поверхности даны устья замораживающих скважин, пробуренных при сооружении вертикального ствола диаметром 8м, расположены по окружности радиусом 6 м от центра ствола на расстоянии 3 м друг от друга. По результатам инклинометрических измерений две скважины № 1 и № 3 из трех рассматриваемых оказались вертикальными, а скважина № 2, расположенная между ними, - искривленной. Глубины скважины для всех вариантов от 0 до 200 м с интервалом замеров в 20 м. Результаты измерения искривлений приведены в табл. 6.2. Координаты устья скважины для разных групп приведены в табл. 6.1.

Таблица 6.1.

Номер группы	Координаты устья скважины		
	$X_y$	$Y_y$	$H_y$
1	1020,25	3520,10	615,90
1	2550,30	5500,45	580,10

*Порядок выполнения работы:*

1. По данным инклинометрической съемки определить пространственные координаты забоя скважины через каждые 20 м ( $X_3$ ,  $Y_3, H_3$ ) по формулам (6.1-6.3).

2. Установить допустимость отклонения забойной зоны замораживания относительно вертикальной проекции устьевой зоны (принять радиус замораживания  $1,6 \pm 0,2$  м) по формулам (6.4,6.5).

3. Построить план оси скважины в масштабе 1:100.

4. Построить профиль оси скважины в масштабе 1:1000.

*Пример решения задачи*

Координаты и высота устья замораживающей скважины составляют

$$X = 1\,000,00 \text{ м}; \quad Y = 1000,00 \text{ м}; \quad H = 400,00 \text{ м}.$$

По скважине через каждые 20 м длины произведены замеры азимутального  $\alpha$  и зенитного  $\beta$  углов, результаты которых приведены в табл. 6.2.

Таблица 6.2.

Номер интервала замеров	1	2	3	4
Значение азимутального угла $\alpha$ , град	0	5	10	20
Величина зенитного угла $\beta$ , град	0	10	20	30

Построить план и профиль оси скважины, определить пространственные координаты забоя скважины и установить допустимость отклонения забойной зоны замораживания относительно вертикальной проекции устьевой зоны (принять радиус замораживания  $2,0 \pm 0,2$  м).

Решение.

1. План оси скважины (рис. 6.3, *а*) строим путем последовательного откладывания горизонтальных проложений интервалов измерений  $d_i = 20 \sin \beta_i$ , под соответствующими дирекционными углами  $\alpha_i$

2. Профиль оси скважины (рис. 6.3, *б*) строим путем последовательного откладывания высот  $h_i = 20 \cos \beta_i$ , интервалов измерения  $l_i$ ; под соответствующими зенитными углами  $\beta_i$ .

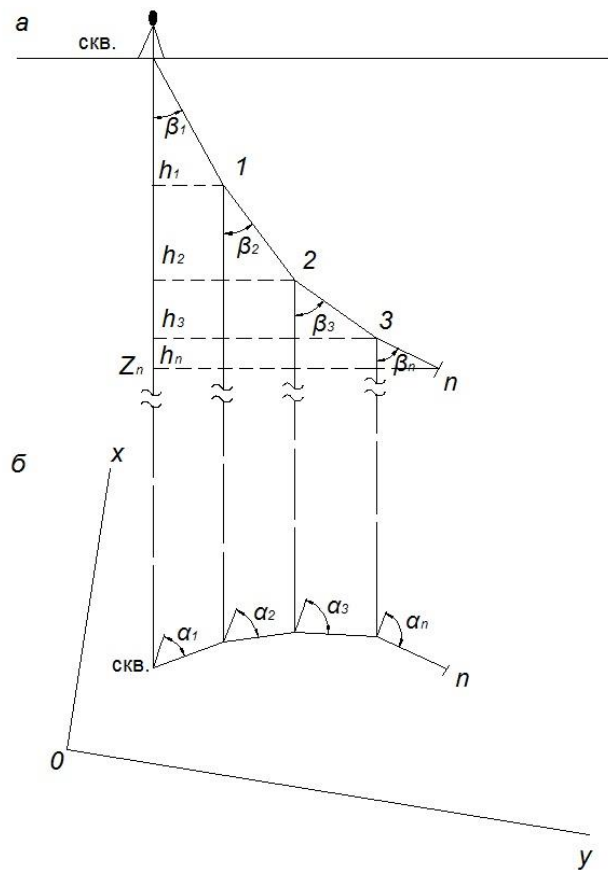


Рис.6.3. (а, б) Вертикальная (а) и горизонтальная (б) проекции скважин

Пространственные координаты забоя скважины определяем по формулам (6.1) – (6.3):

$$X_3 = X_Y + \sum l_i \sin \beta_i \cdot \cos \alpha_i$$

$$1000,00 + (20 \sin 0^\circ \cos 0^\circ + 20 \sin 10^\circ \cos 5^\circ + 20 \sin 20^\circ \cos 10^\circ + 20 \sin 30^\circ \cos 20^\circ) = 1019,69 \text{ м};$$

$$Y_3 = Y_Y + \sum l_i \sin \beta_i \cdot \sin \alpha_i$$

$$1000,00 + (20 \sin 0^\circ \sin 0^\circ + 20 \sin 10^\circ \sin 5^\circ + 20 \sin 20^\circ \sin 10^\circ + 20 \sin 30^\circ \sin 20^\circ) = 1005,91 \text{ м}.$$

Из сопоставительного анализа координат  $X$  и  $Y$  устья и забоя скважины следует, что  $X_3 - X_Y = 19,69 \text{ м}$ ;  $Y_3 - Y_Y = 5,91 \text{ м}$ , т.е. расхождения в соответствующих координатах превышают  $\pm 0,2 \text{ м}$  и, следовательно, являются недопустимыми, в связи с чем рекомендуется перебурить скважину, т.е. сделать спарку.

Исходные данные приведены в приложении 2



## **Работа 7–Маркшейдерские работы при проведении горных выработок встречными забоями**

### **7.1 Общие сведения**

При строительстве шахт, реконструкции и эксплуатации широко применяется проведение горных выработок встречными забоями, чем значительно сокращается срок ввода их в действие.

Учитывая особую ответственность маркшейдерских работ при проведении выработки несколькими забоями, при определении их схемы и методики необходимо исходить из следующих положений:

а) общая схема работ, способы ее осуществления и методы измерения отдельных элементов должны обеспечить необходимую точность при встрече забоев выработки;

б) выполняемые маркшейдерские измерения и вычисления должны сопровождаться объективным контролем, полностью исключающим возможность появления грубых погрешностей.

При проведении выработки одновременно несколькими забоями в зависимости от условий могут быть следующие случаи:

- 1) выработку проводят двумя забоями навстречу друг другу;
- 2) забои одной и той же выработки догоняют друг друга;
- 3) выработку проводят одним забоем навстречу другому, в котором горные работы не производятся.

Все эти случаи проведения горных выработок называют сбойками и разделяют их на три основных типа:

- 1) сбойки, проводимые в пределах одной и той же шахты, т.е. сбойки выработок, сообщающихся между собой под землей;
- 2) сбойки, проводимые между разными шахтами, т.е. сбойки выработок, не сообщающихся между собой под землей;
- 3) сбойки вертикальных выработок.

Успешное проведение выработок встречными забоями всецело зависит от правильного решения всего комплекса маркшейдерских работ

### **7.2 Задание направлений горизонтальным и наклонным горным выработкам**

При проведении выработок встречными забоями необходимо определить место расщепки выработки и направление этой выработки в горизонтальной плоскости.

Основными параметрами, по которым задается в натуре горная выработка, являются: угол направления, длина, уклон или угол наклона. Эти параметры могут быть определены графически по проекту плана развития горных работ или аналитически.

Аналитически перечисленные параметры могут быть определены по координатам точек, расположенных на оси проектной выработки.

Зачастую при задании направления горным выработкам приходится определять координаты точки пересечения двух прямых.

Для решения этой задачи в проекте даны координаты маркшейдерских точек С ( $X_C, Y_C, Z_C$ ), D ( $X_D, Y_D, Z_D$ ) и В ( $X_B, Y_B, Z_B$ ), а так же направленческая точка  $B_0(X_{B_0}, Y_{B_0}, Z_{B_0})$ , (рис.1), лежащих на оси выработки

Дирекционный угол оси определится по формуле

$$\text{tg}(BB_0) = \frac{Y_{B_0} - Y_B}{X_{B_0} - X_B};$$

Координаты точки А определим по формулам Юнга

$$X_A = \frac{X_D \text{tg}(CD) - X_B \text{tg}(BB_0) - Y_D + Y_B}{\text{tg}(CD) - \text{tg}(BB_0)}$$

$$Y_A = \frac{Y_D \text{ctg}(CD) - Y_B \text{ctg}(BB_0) - X_D + X_B}{\text{ctg}(CD) - \text{ctg}(BB_0)}$$

Угол направления  $\beta_A$  определится по разности дирекционных углов линии (CD) и (AB)

$$\beta_A = (CD) - ((AB) + 180^\circ).$$

Выноска направления выработки в плане осуществляется с помощью теодолита, установленного в точке А по углу направления  $\beta_A$ .

Дирекционный угол оси проектируемой выработки определяется по формуле:

$$\text{tg}(AB) = \frac{Y_B - Y_A}{X_B - X_A};$$

Контроль:

$$\operatorname{tg}(AB+45^\circ) = \frac{\Delta X + \Delta Y}{\Delta X - \Delta Y};$$

где  $\Delta X = X_B - X_A$ ;  $\Delta Y = Y_B - Y_A$ ;

Длина горизонтального проложения выработки:

$$S_{AB} = \frac{\Delta Y}{\sin(AB)} = \frac{\Delta X}{\cos(AB)};$$

или

$$S_{AB} = \sqrt{(Y_B - Y_A)^2 + (X_B - X_A)^2};$$

Угол наклона линии АВ

$$\operatorname{tg} \delta = \frac{Z_B - Z_A}{S_{AB}};$$

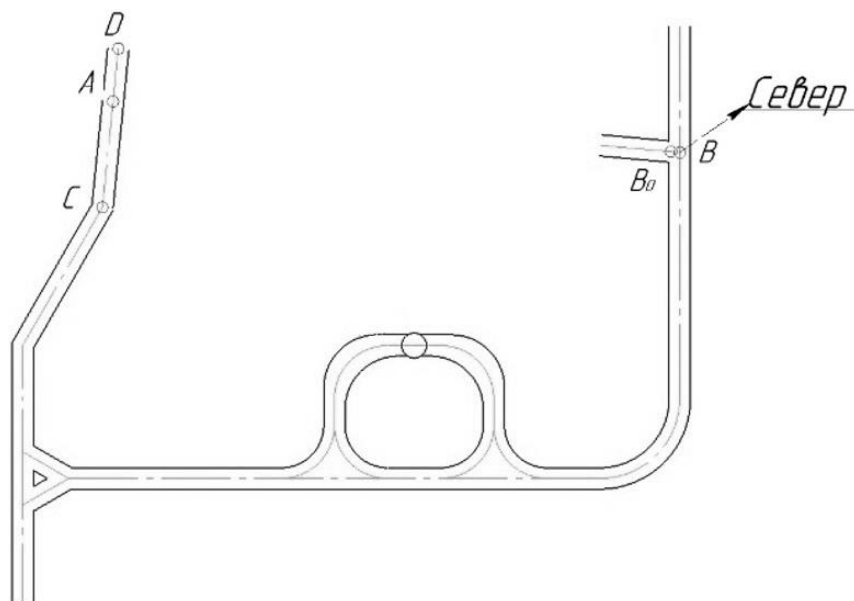


Рис.7.1. – Схема выработки

Уклон определяется по формуле:

$$i = \frac{Z_B - Z_A}{S_{AB}};$$

Наклонная длина:

$$l_{AB} = \frac{S_{AB}}{\cos \delta};$$

или

$$l_{AB} = \sqrt{(Y_B - Y_A)^2 + (X_B - X_A)^2 + (Z_B - Z_A)^2}.$$

Погрешность смыкания встречных забоев в плане для данного типа сбоек зависит от погрешности измерения углов и длин подземного полигона.

Общая погрешность смыкания забоя в горизонтальной плоскости:

$$M_{x''} = \sqrt{M_{x'\beta}^2 + M_{x'l}^2};$$

где:  $M_{x'\beta}$  – средняя ошибка, зависящая от измерения углов = 3"

$M_{x'l}$  – средняя ошибка измерения длин линий = 1/10000 на 1 км хода

Погрешность смыкания встречных забоев по высоте:

$$M_h = \sqrt{M_h'^2 + M_h''^2};$$

где  $M_h'^2$  – средняя погрешность геометрического нивелирования;

$M_h^2$  – средняя погрешность тригонометрического нивелирования.

Среднюю погрешность геометрического нивелирования определяют по формуле:

$$M_h^2 = m_0 \sqrt{2n}$$

где  $m_0 = \pm 0,0007l$  – средняя погрешность отсчитывания по рейке, мм;

$n$  – число станций = 5

$l$  – расстояние от нивелира до рейки = 25 м;

$r$  – цена деления уровня, с.

Средняя погрешность тригонометрического нивелирования определяется:

$$M_h'' = \pm \frac{\Delta h}{\sqrt{2}}; \quad \Delta h = \pm 10 \sqrt{n_1 + n_2},$$

где  $\Delta h$  – предельное расхождение между двумя независимыми определениями превышения начальной точки хода относительно конечной;

$n$  – число сторон в одном и другом ходе тригонометрического нивелирования.

В таблице 7.1 приведены варианты для выполнения работы. В работе принимают условную систему координат, за центр которой берут центр ствола.

Порядок выполнения работы:

1. Определить дирекционные углы оси выработки  $BB_0, AB, CD$
  2. Определить координаты точки А
  3. Определить угол направления  $\beta_A$
  4. Рассчитать длину горизонтального проложения выработки
  5. Рассчитать наклонную длину выработки
  6. Рассчитать погрешность смыкания забоя в горизонтальной и вертикальной плоскостях
  7. Составить план сбойки в масштабе 1: 2000.
- Исходные данные приведены в таблице 7.1.

Таблица 7.1

№ вар.	Za	Xc	Yc	Zc	Xd	Yd	Zd
1	227.187	-33.15	-54.93	227.112	-13.57	-77.66	227.181
2	235,602	6211,24	3389,73	235,658	6281,24	3379,73	235,622
3	212,422	6415,24	3523,73	212,462	6485,24	3513,73	212,452
4	239,352	5991,16	3276,47	239,301	6061,16	3266,47	239,312
5	215,092	996,50	2156,59	215,053	1066,50	2146,59	215,048
6	251,011	1559,22	9521,80	251,099	1629,22	9510,80	251,030
7	204,921	5220,24	2900,68	204,908	5290,24	2933,68	204,910
8	204,935	5220,24	2900,68	204,974	6290,24	2940,68	204,950
9	204,806	8830,39	3912,31	204,849	8810,39	3935,31	204,852
10	200,004	2736,00	8199,92	200,052	2806,00	8186,92	200,048
11	253,522	5670,45	5938,59	253,555	5740,45	59415,59	253,525
12	262,978	10094,48	8847,54	262,937	10164,48	8833,54	262,940
13	270,455	8691,60	6612,65	270,421	8761,60	6593,65	270,428
14	303,743	750,63	5273,06	303,722	820,63	5260,06	303,735

15	324,826	6528,46	3005,63	324,855	6598,46	2992,63	324,820
16	236,119	6708,14	3660,91	236,142	6798,14	3647,91	236,183
17	354,685	6956,59	3796,50	354,666	7026,59	3783,50	354,651
18	257,932	7205,04	3932,09	257,920	7275,04	3919,09	257,912
19	215,068	996,50	2156,59	215,043	1066,50	2143,59	215,065
20	227.177	1033.15	5054.93	227.148	1093.57	5087.66	227.168

### Работа 8 –Расчёт и перенесение в натуру направлений горной выработки, проводимой встречными забоями

1. Цель работы: изучить методику работ по заданию направлений в горизонтальной и вертикальной плоскостях выработкам, проводимым встречными забоями.

2. Исходные данные

2.1. Схема проведения выработок встречными забоями (рис.8.1).

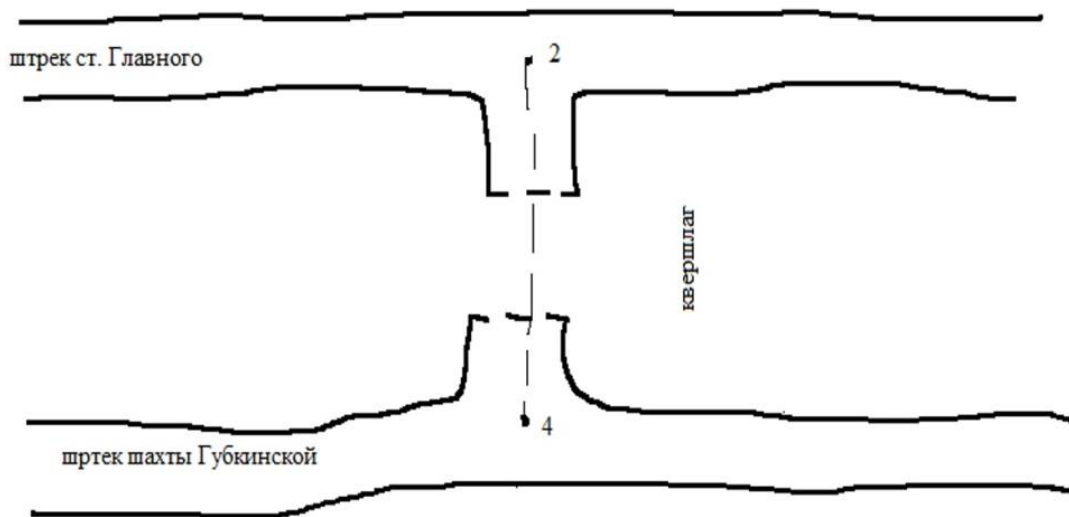


Рис.8.1. Схема сбойки квершлага

2.2. Координаты исходных пунктов (даны в таблице приложение 3).

2.3. Дирекционные углы направлений первого и второго штреков  $\alpha_{1-2}$  и  $\alpha_{3-4}$  в табл. 1.

2.4. Условие задачи: два параллельных основных штрека, пройденных на одном горизонте по разным пластам, остановлены в точках 2 и 4. Между ними запроектирована проходка квершлага встречными забоями из точек 2 и 4 (рис. 1).

Исходные данные находятся в приложении 4.

### 3. Порядок выполнения работы

3.1. Составить план сбойки в масштабе 1:2000.

3.2. Определить дирекционный угол оси сбойки квершлага  $\alpha_{2-4}$ .

3.3. Вычислить углы для задания направления на сбойку  $\beta_{1-2-4}$  и  $\beta_{3-4-2}$ .

3.4. Определить горизонтальную длину квершлага.

3.5. Рассчитать уклон квершлага.

3.6. По вычисленному уклону рассчитать и вычертить в масштабе 1:20 ватерпас, приняв длину его бруса равной двум метрам.

3.7. Составить схему и описать методику работ по закреплению направлений в горизонтальной и вертикальной плоскостях в выработках, проводимых встречными забоями.

3.8. По плану сбойки установить графически горизонтальную длину квершлага, углы для задания направлений встречными забоями и сравнить с вычисленными в пунктах 3.3 и 3.4.

## **Работа № 9 - Маркшейдерские работы при сооружении наклонных тоннелей**

### **9.1. Общие сведения об эскалаторных тоннелях**

До начала сооружения эскалаторного тоннеля и наземного вестибюля на поверхности земли создается плановая и высотная опорная сеть, обеспечивающая сбойку эскалаторного тоннеля со средним станционным тоннелем или другими подземными сооружениями. Точность опорной сети должна соответствовать указаниям, инструкции. Для маркшейдерского обеспечения проходки эскалаторного тоннеля строго по его оси закладывается маркшейдерский столик, удовлетворяющий следующим требованиям:

- конструкция столика должна быть жесткой, изолированной от площадки наблюдателя и окружающих механизмов;

- визирная ось электронного тахеометра или лазерного датчика направления, установленного на столике, должна совпадать с проектной осью тоннеля;

- со столика должна быть обеспечена видимость на три удаленные не менее чем на 50 м точки, одна из которых фиксирует направление оси тоннеля, а остальные являются контрольными. Должна быть также обеспечена постоянная видимость по проектной оси тоннеля;

- центр столика (проекция точки пересечения визирной и горизонтальной осей трубы) и места постановки подъемных винтов теодолита должны быть накернены на плите столика.

Столик оборудуется телефонной связью и световой сигнализацией для передачи указаний в забой. При закладке первого кольца эскалаторного тоннеля учитывать набегание



колец (удлинение тоннеля) из расчета 1 мм на кольцо, если оно не учтено в проектной документации.

При укладке сегментов первого кольца проверку его установки выполнять измерением 8 радиусов от проектного центра кольца. Измерения проводить до центров болтовых отверстий передней плоскости кольца. Перед началом работ по монтажу эскалаторов выполняются контрольные промеры расстояния между верхней и нижней вертикальными базами по обеим сторонам эскалаторного тоннеля. Исполнительная съемка сооружений проводится по мере их строительства. Съемка сечений сооружения выполняется на прямых участках через 10 м, на кривых - через 5 м, а также в наиболее характерных местах, необходимых для выполнения исполнительных чертежей. Помимо съемки сечений проводится продольное нивелирование лотка и свода тоннеля.

## **9.2. Геометрическая схема эскалаторного тоннеля**

Эскалаторный тоннель представляет собой цилиндр, ось которого наклонена к горизонту под углом  $30^\circ$ . Если рассечь его плоскостью, перпендикулярной к продольной оси, то в сечении получим окружность (рис. 9.1); если же рассечем горизонтальной плоскостью, то в сечении образуется эллипс, центр которого совпадает с центром сечения тоннеля. Радиус колец эскалаторных тоннелей метрополитена, как правило, принимают равным 4,25 м.

Проходку наклонных эскалаторных тоннелей нередко приходится проводить в слабых обводненных слоях водоносных песков-плывунов, которые сильно осложняют или совсем исключают возможность проходки обычным горным способом. Для обеспечения безопасности работающих в забое и сохранности городских сооружений, расположенных над эскалаторным тоннелем, неустойчивые породы закрепляют путем искусственного замораживания грунтов.

Для этого по окружности, центр которой совпадает с центром фактического сечения наклонного тоннеля, и которая имеет радиус 5,75-6,00 м, пробуривают 30-40 наклонных скважин, равномерно расположенных по контуру окружности.

Пробуренные скважины укрепляют обсадными трубами, в которых монтируют питательные трубы, подключаемые к рассолопроводу замораживающей установки. Охлажденный рассол хлористого кальция, циркулируя между обсадной и питательной трубами, охлаждает породу. Таким образом, вокруг скважины образуется ледорубная зона, имеющая вид цилиндра диаметром 1-1,5 м. Так как скважины по окружности расположены на расстоянии 1- 1,25 м друг от друга, а замораживание распространяется на 1- 1,5 м, то вокруг будущего эскалаторного тоннеля образуется сплошной ледовый цилиндр, в котором осуществляют проходку и сооружение наклонного тоннеля.

При бурении замораживающих скважин необходимо следить за тем, чтобы они на всем своем протяжении заняли положение, предусмотренное проектом как в плане, так и в профиле. При значительных отклонениях скважин от проекта могут образоваться незамороженные места — окна, через которые возможен прорыв в тоннель водоносного грунта, что может повлечь за собой аварию. Поэтому разбивка и определение положения замораживающих скважин в плане и профиле являются ответственной работой.

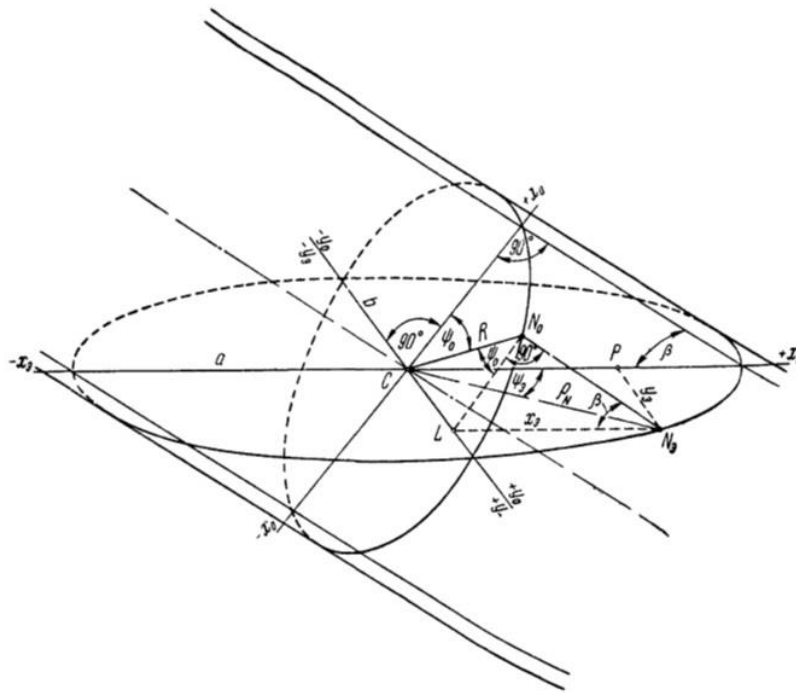


Рис. 9.1. Сечение наклонного цилиндра нормальной и горизонтальной плоскостями

### 9.3. Разбивка осей эллипса

Наклонные скважины для замораживания разбивают на поверхности земли по эллипсу. Прежде чем приступить к разбивке замораживающих скважин, необходимо вычислить координаты и пикетное значение точки пересечения оси эскалаторного тоннеля с дневной поверхностью (рис. 9.2). Если эти данные приведены в проектном чертеже, то контролируют их значения.

*Задание:*

Имея проектные значения координат и пикетажа точки М ( $X_M$ ,  $Y_M$ , ПКМ), проектный угол наклона  $\beta$  оси эскалаторного тоннеля и дирекционный угол  $\alpha$  этой оси, вычислят следующие проектные данные точки N:

- 1) пикетажное значение точки N:

$$\text{ПК N} = \text{ПК M} \pm m = \text{ПК M} \pm \frac{H_N - H_M}{\text{tg} \beta} = \text{ПК M} \pm h \cdot \text{ctg} \beta \quad (9.1)$$

Значение  $m$  показано на рис. 9.2. Знак перед выражением  $h \cdot \text{ctg} \beta$  зависит от направления пикетажа; при возрастании его в направлении МР будет знак плюс, а при убывании — минус;

- 2) проектные координаты точки N ( $X_N$  и  $Y_N$ ) получают по формуле

$$x_N = x_M - \Delta x; \quad y_N = y_M - \Delta y, \quad (9.2)$$

где  $\Delta x = m \cos \alpha$ ;  $\Delta y = m \sin \alpha$

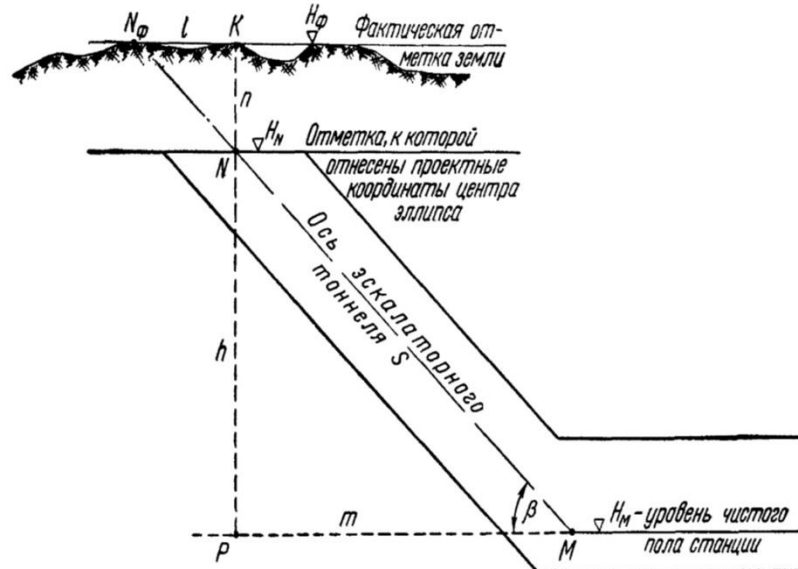


Рис. 9.2. Схема вычислений пикетажа и координат точки пересечения оси эскалаторного тоннеля с поверхностью земли

3) длину эскалаторного тоннеля  $S$  между точками  $M$  и  $N$  вычисляют из треугольника  $MNP$  по формуле

$$MN = S = \frac{m}{\cos \beta} = \frac{h}{\sin \beta} \quad (9.3)$$

Вынос центра эллипса в натуру производится от знаков полигонометрии. В том случае, когда фактическая отметка поверхности земли и отметка, к которой отнесены проектные (вычисленные) координаты центра эллипса, значительно расходятся, в проектные координаты вводят поправки. Значения поправок можно получить из треугольника  $NKN_\phi$  (рис. 9.2):

$$l = KN_\phi = (H_\phi - H_N) \operatorname{ctg} \beta \quad (9.4)$$

Обозначив  $H_{\phi}-H_N$  через  $n$ , получим

$$l=nctg\beta \quad (9.5)$$

Так как центр эллипса смещается на величину  $l$  по направлению оси наклонного тоннеля, дирекционный угол которой равен  $\alpha$ , то поправки в проектные координаты можно представить формулами:

$$\Delta x_{\phi}=l\cos\alpha; \quad \Delta y_{\phi}=l\sin\alpha \quad (9.6)$$

но так как  $l=nctg\beta$ , то можно написать:

$$\Delta x_{\phi}=n \operatorname{ctg} \beta \cos\alpha, \quad x_{\phi}=x_N+\Delta x_{\phi} \quad (9.7)$$

$$\Delta y_{\phi}=n \operatorname{ctg} \beta \sin\alpha, \quad y_{\phi}=y_N+\Delta y_{\phi}$$

Разбивка центра эллипса и его осей производится с помощью теодолита от знаков подходной полигонометрии полярным способом. Большую ось эллипса, совпадающую с осью эскалаторного тоннеля, фиксируют специальными марочками или штрихами на стенах окружающих зданий или отмечают кернами на металлических пластинках, заложенных для этой цели в бетонные тумбы.

Порядок выполнения работы:

1. Определить длину эскалаторного тоннеля
2. Рассчитать элементы разбивки центра эллипса и его осей
3. Выполнить чертеж по пересечению оси эскалаторного тоннеля с поверхностью земли в масштабах – горизонтальный 1: 2000, вертикальный 1:200 в соответствии с рисунком 2 по вычисленным данным.

Пример решения задачи:

$$1) \text{ ПК N-ПК M}=80+451,3-80+265,3=150$$

$$h=\frac{\text{ПК N-ПК M}}{\operatorname{ctg}\beta}=\frac{150}{\operatorname{ctg}28}=79,775$$

$$H_N = h + H_M = 79,775 + 50 = 129,775$$

2) координаты точки N ( $X_N$  и  $Y_N$ ) вычисляются по формулам (6,7)

$$x_N = 100 - 86,036 = 13,964;$$

$$y_N = 100 - 122,873 = -22,873,$$

$$\text{где } \Delta x = 150 \cos 55 = 86,036; \quad \Delta y = 150 \sin 55 = 122,873$$

3) длину эскалаторного тоннеля  $S$  между точками М и N вычисляют из треугольника MNP по формуле (3)

$$S = \frac{150}{\cos 28} = \frac{79,756}{\sin 28} = 169,905$$

Расчет элементов разбивки центра эллипса. Вынос в натуру производится от знаков полигонометрии.

$$l = (150 - 129,775) \operatorname{ctg} 28 = 38,038$$

$$\Delta x_\phi = 38,038 \cos 55 = 21,817;$$

$$\Delta y_\phi = 38,038 \sin 55 = 31,159$$

$$x_\phi = 13,964 + 21,817 = 35,781$$

$$y_\phi = -22,873 + 31,159 = 8,286$$

## **Работа 10 - Разбивка закругленной трассы пути с переходными кривыми при строительстве транспортных тоннелей**

### **10.1. Общие сведения**

#### **10.1.1. Разбивка и укладка железнодорожного пути**

Укладка железнодорожного пути в метрополитенах и железнодорожных тоннелях производится согласно утвержденному плану и профилю пути и геометрической схеме трассы, а при отсутствии таковых – по рабочему профилю железнодорожного пути.

На укладочном плане и профиле пути показываются:

- величина и протяженность уклонов;
- отметки реперов, соответствующие головке рельсов на прямом участке пути;
- отметки реперов, соответствующие головке наружного рельса на криволинейном участке пути. На наземных участках пути даются отметки путейских реперов, расположенные на уровне внутреннего рельса кривой и обозначающие:
- условный профиль рельсовых ниток;
- длины прямых, круговых и переходных кривых;
- длины ходовых рельсов, контррельсов и типы стыков;
- пикетаж реперов, рельсовых стыков и различного оборудования;
- геометрические элементы оси в плане и профиле.

Разбивка и укладка железнодорожного пути в тоннелях начинается от путейских реперов после того, как завершится процесс уравнивания подземной полигонометрии и высотной основы. При укладке пути в тоннелях проводятся следующие маркшейдерские работы:

- 1) разбивка и закрепление горизонта с обеих сторон тоннеля, фиксирующего верх жесткого основания;
- 2) приемка опалубки для устройства дренажных лотков тоннеля;
- 3) разбивка и закрепление в тоннеле основных точек пути, характеризующих его план и профиль;
- 4) разбивка и закрепление на стенах тоннеля мест постановки путейских реперов по пикетажу и высоте;
- 5) установка путейских реперов по высоте;
- 6) инструментальное определение и последующие вычисления расстояний от отверстий в болтах путейских реперов до внутренней грани ближайшего к реперу рельса;
- 7) рихтовка в плане и профиле рельсов перед бетонированием шпал при помощи теодолита и нивелира и наблюдение за путями в процессе бетонирования;
- 8) детальная съемка пути и оборудования в тоннеле;
- 9) окончательное нивелирование головки рельсов после завершения «отделки» пути и обкатки его с одновременным определением отметок дна дренажного лотка.

Разбивку мест постановки путейских реперов производят от полигонометрических знаков путем последовательного откладывания расстояний на стене тоннеля между ПЗ и ближайшим репером № 1, затем между репером № 1 и последующим репером № 2 и т.д. Указанные расстояния определяются как разности соответствующих пикетажей. Так как

пикетаж путейских реперов в проектных чертежах дается по разбивочной оси кривой, а разбивка мест их установки производится на внешней относительно центра стороне тоннеля, на криволинейном участке в расстояния  $S$ , подсчитанные как разность пикетажей, вводятся поправки, которые определяются формулой:

$$\Delta S = S \cdot D / R$$

где  $S$  – расстояние по разбивочной оси (разность пикетажей);

$R$  – радиус кривой;

$D$  – среднее расстояние путейских реперов от оси пути.

Отклонения путейских реперов от проектного пикетажа не должны превышать  $\pm 3$  см.

### 10.1.2. Проверка уложенного пути

Перед бетонированием шпал путь тщательно проверяется как в плане, так и в профиле. Помимо проверки расстояний от реперов до рельсовых ниток, контролируется положение пути в плане в интервалах между путейскими реперами. Для этой цели используют леску с передвижным отвесом или же устанавливают теодолит. Исправления отклонений производятся при помощи домкратов. На участках переходных и круговых кривых, помимо промеров от реперов через 2,5 м, проверяется плавность кривизны пути по стрелам прогиба десяти- или двадцатиметровых хорд. Величины стрел прогиба вычисляются по следующим формулам:

для переходной кривой

$$b = k \cdot l;$$

$$k = \frac{a^2}{2C} \cdot 1000$$

где  $b$  – величина стрелы прогиба, мм;

$l$  – расстояние от начала переходной кривой до середины хорды, м;

$a$  – половина длины хорды, м;

$C$  – параметр переходной кривой; для круговой кривой,

для самой кривой

$$b = \frac{L^2}{8R} * 1000$$

где  $b$  – величина стрелы прогиба, мм;

$L$  – длина хорды, м;

$R$  – радиус кривой, м.

Проверка пути в профиле осуществляется при помощи нивелира. Предварительно производят набор пикетажа мест установки бетонных кубиков и клиньев под рельсами («мальчиков») и подсчитывают проектные отметки головки рельсов на этих местах. Затем, установив нивелир и определив его горизонт по отметкам полигонометрических знаков, ведут рихтовку пути. Подъем производят подбивкой клиньев, расположенных между бетонным кубиком и рельсом, опускание – ослаблением клиньев. Проверка пути в плане и профиле должна производиться комплексно, так как каждое исправление по высоте расстраивает осевое положение пути. Для окончательно отрихованного пути установлены следующие допуски:

- 1) отклонения в плане и профиле не должны превышать  $\pm 3$  мм;
- 2) уширение колеи (относительно проектной величины) не должно превышать 4 мм, а сужение 2 мм;
- 3) измеренные величины стрел прогиба не должны отличаться от рассчитанных более  $\pm 3$  мм для 20-метровых и  $\pm 2$  мм для 10-метровых хорд; при этом отклонения стрел прогиба на соседних хордах не должны иметь разные знаки.

### **10.1.3. Окончательное нивелирование пути**

После завершения «отделки» и обкатки пути и окончания монтажных работ в тоннеле производится окончательное нивелирование путейских реперов и уложенных рельсов, а также съемка пути, всех устройств и оборудования. По результатам окончательного нивелирования пути и реперов составляется каталог путейских реперов, сдаваемый эксплуатирующей организации. При сдаче путей в постоянную эксплуатацию на плане тоннелей в масштабе 1:200 показываются:

- пикетаж изолированных стыков, расположение всех устройств и оборудования в тоннелях (светофоров, дроссельных ящиков, релейных шкафов и т.д.), а также места пересечения путей кабельными каналами;
- положение третьего рельса с показанием пикетажей разрыва и перехода его с одной стороны пути на другую;
- начало и конец щебеночного основания.

При перенесении проекта трассы с плана или карты в натуру выполняют вешение оси трассы и измерение углов поворота, линейные измерения, пикетаж, разбивку кривых, закрепление на местности элементов трассы и техническое нивелирование по пикетажу.



Полученные материалы используют для составления рабочих чертежей проекта и при строительстве транспортного пути.

Линейные измерения по оси трассы производят стальной мерной лентой или дальномерами с относительной ошибкой 1:1000. Одновременно с линейными измерениями разбивают пикетаж, для чего на оси трассы фиксируют каждую сотню метров, отмечая её пикетажным кольшком и сторожком; кольшком отмечают и все точки излома профиля трассы, которые называются «плюсовыми точками».

Разбивные по трассе пикетные и плюсовые точки заносят в пикетажный журнал, в котором составляют подробный абрис ситуации вдоль трассы. В пикетажном журнале показывают также и вершины углов поворота оси трассы, измеренные значения углов и элементы закруглений (кривых) по трассе.

### 10.2. Понятие о переходных кривых

Известно, что при движении тела массой  $m$  по окружности радиуса  $R$  со скоростью  $v$  возникает центробежная сила  $F$ . Поэтому, когда движущийся вагон переходит с прямолинейного участка пути на круговую кривую, в начале кривой мгновенно возникает центробежная сила и осуществляет сильный толчок о рельсы, что особенно опасно при больших скоростях движения.

Для ослабления действия центробежной силы в начале и в конце круговой кривой делают вставку кривой, радиус которой изменяется от бесконечности (на прямой) до радиуса  $R$  круговой кривой, а в конце, наоборот, от  $R$  круговой кривой до бесконечности (рис 10.1).

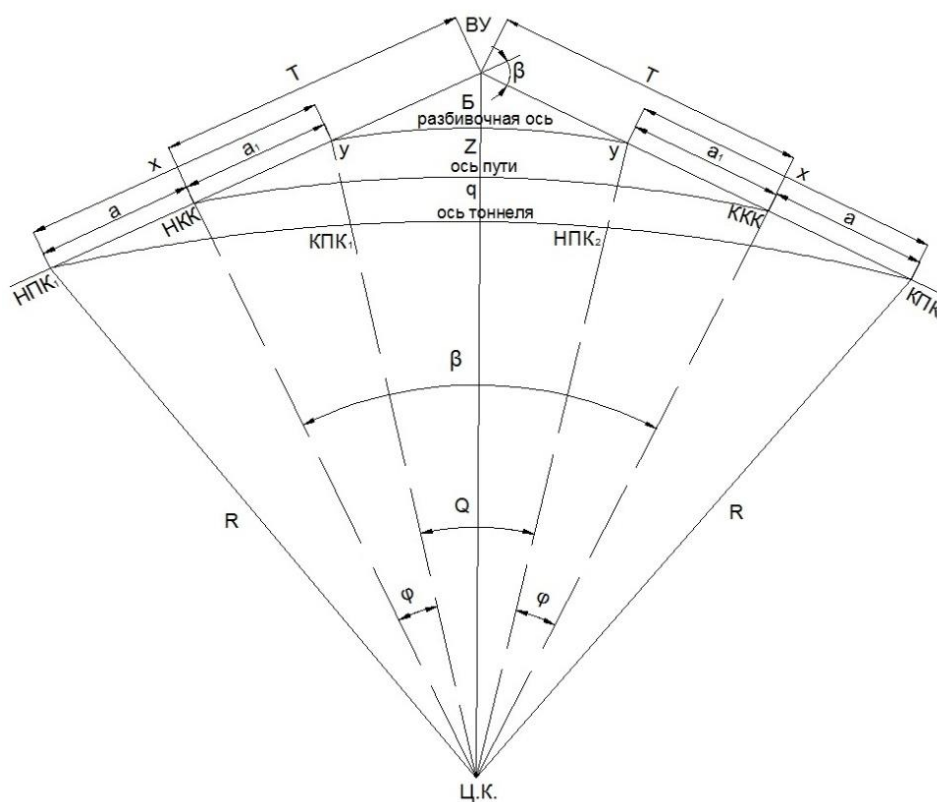


Рис. 10.1. Разбивка закругленной трассы тоннеля

Такие кривые, служащие для перехода подвижного состава с прямолинейного участка на круговые кривые, называют **переходными кривыми**. На закруглениях дорог на их верхние строения действуют две силы: вес подвижного состава и центробежная сила. Необходимо, чтобы их равнодействующая была направлена перпендикулярно плоскости дороги. На автомобильной дороге это достигается устройством односкатного (в поперечном направлении) профиля на закруглениях вместо двускатного на прямых участках. На железных дорогах с той же целью устраивают возвышение  $h$  наружного рельса по отношению к внутреннему рельсу (рис. 10.2).

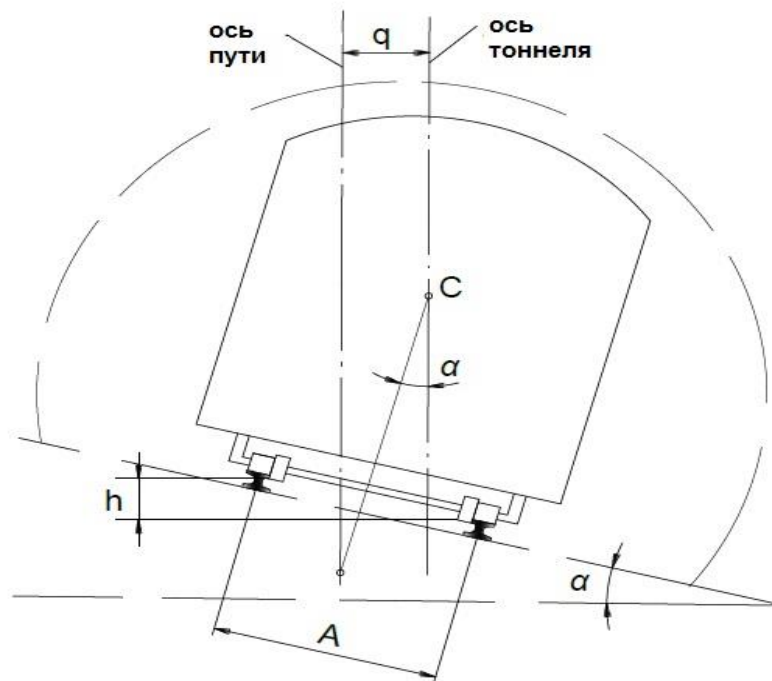


Рис. 10.2. Возвышение наружного рельса по отношению к внутреннему рельсу

Для создания плавного перехода от прямых направлений к круговым кривым устраивают переходные кривые, величина радиуса которых изменяется от бесконечности до радиуса круговой кривой. В качестве переходной применяют кривую, которая выражается формулой

$$r_{\text{п}} = \frac{c}{S_{\text{п}}},$$

где  $r_n$  – радиус кривизны;

$S_n$  – длина переходной кривой от её начала до текущей точки;

$c$  – постоянная величина (параметр переходной кривой).

Варианты исходных данных представлены в табл. 10.1.

Таблица 10.1

Определение основных элементов закруглений с переходной кривой и её разбивка в транспортном тоннеле

Номер варианта	Варианты для группы 1			Варианты для группы 2		
	радиус круговой кривой, $R$ , м	длина переходной кривой, $L$ , м	угол поворота, $\beta^\circ$	радиус круговой кривой, $R$ , м	длина переходной кривой, $L$ , м	угол поворота, $\beta^\circ$
1	350	65	$50^\circ$	355	90	$50^\circ$
2	360	70	$50^\circ 30'$	365	85	$50^\circ 30'$
3	370	75	$51^\circ$	375	80	$51^\circ$
4	380	80	$51^\circ 30'$	385	75	$51^\circ 30'$
5	390	85	$52^\circ$	395	70	$52^\circ$
6	400	90	$52^\circ 30'$	405	65	$52^\circ 30'$
7	410	95	$53^\circ$	415	60	$53^\circ$
8	420	90	$53^\circ 30'$	425	65	$53^\circ 30'$
9	430	85	$54^\circ$	435	70	$54^\circ$
10	440	80	$53^\circ 30'$	445	75	$53^\circ 30'$
11	450	75	$53^\circ$	455	80	$53^\circ$
12	460	70	$52^\circ 30'$	465	85	$52^\circ 30'$
13	470	65	$52^\circ$	475	90	$52^\circ$

14	480	60	51° 30	485	95	51° 30
15	490	65	51°	495	90	51°
16	500	70	50° 30	505	85	50° 30
17	510	75	50°	515	80	50°
18	520	80	49° 30	525	75	49° 30
19	530	85	49°	535	70	49°
20	540	90	48° 30	545	65	48° 30
21	550	95	48°	555	60	48°
22	575	80	49°	550	70	50°
23	600	75	48° 30	545	80	55°
24	520	70	50°	325	60	52°
25	550	90	52° 30	385	70	57°

Номер группы	Пикет начала круговой кривой ПК НКК	Ширина колеи $A$ , мм	Превышение горизонтального диаметра над головкой рельса $B$ , мм
1	95+50,542	1600	1700
2	97+49,844	1590	1850

Порядок выполнения работы рассмотрим на примере.

### Исходные данные

Номер варианта	Радиус круговой кривой, $R$ , м	Длина переходной кривой, $L$ , м	Угол поворота, $\beta^\circ$	Пикет начала круговой кривой ПК НКК	Ширина колеи $A$ , мм	Превышение горизонтального диаметра над головкой рельса $B$ , мм
20	590	70	48° 30	95+50,542	1600	1700

Скорость поезда  $v=60$  км/ч.

$a, a_1$  – элементы переходной кривой;

$X$  – абсцисса переходной кривой от начала до конца по линии тангенса;

$Y$  – ордината от линии тангенса под углом  $90^\circ$  до разбивочной оси;

$ВУ$  – вершина угла поворота;

$B$  – биссектриса, расстояние от вершины угла до середины кривой;

$z$  – смещение оси пути относительно разбивочной оси;

$q$  – смещение оси тоннеля относительно оси пути;

$R$  – радиус круговой кривой;

$\beta$  – угол поворота (центральный угол) трассы;

$\Theta$  – угол, ограниченный радиусом переходной кривой в точках КПК<sub>1</sub> и НПК<sub>1</sub>;

$\varphi$  – угол, заключенный между радиусами НКК и КПК<sub>1</sub> и между НПК<sub>2</sub> и ККК.

#### 10.4. Параметры круговой кривой

1. Линия тангенса

$$T=R \cdot \tan \frac{\beta}{2}=590 \cdot \tan \frac{26^\circ}{2}=136,212 \text{ м.}$$

2. Биссектриса

$$B=R \cdot \left( \sec \frac{\beta}{2} - 1 \right) = R \cdot \left( \frac{1}{\cos \frac{\beta}{2}} - 1 \right) = 590 \cdot \left( \frac{1}{\cos \frac{26^\circ}{2}} - 1 \right) = 15,519 \text{ м.}$$

3. Длина круговой кривой

$$K=\frac{\pi \cdot R \cdot \beta}{180^\circ}=\frac{3,14 \cdot 590 \cdot 26^\circ}{180^\circ}=267,598 \text{ м.}$$

4. Домер

$$D=2 \cdot T - K=2 \cdot 136,212 - 267,598=4,826 \text{ м.}$$

#### 10.5. Параметры переходной кривой

1. Постоянная величина

$$c=R \cdot L=590 \cdot 70=41300.$$

2. Текущие координаты

$$X=a+a_1=L \cdot \frac{L^5}{40 \cdot c^2}=L \cdot \left(1 - \frac{L^2}{40 \cdot R^2}\right)=70 - \frac{70^5}{40 \cdot 41300^2}=69,975 \text{ м};$$

$$Y=\frac{L^3}{6 \cdot c} - \frac{L^7}{336 \cdot c^3}=\frac{L^2}{6 \cdot R}=\frac{70^3}{6 \cdot 41300} - \frac{70^7}{336 \cdot 41300^3}=1,384 \text{ м}.$$

3. Элементы переходной кривой

$$a=\frac{L}{2} + \frac{L^5}{60 \cdot c^2}=\frac{70}{2} + \frac{70^5}{60 \cdot 41300^2}=35,016 \text{ м};$$

$$a_1=\frac{L}{2} + \frac{L^5}{24 \cdot c^2}=\frac{70}{2} + \frac{70^5}{24 \cdot 41300^2}=34,959 \text{ м}.$$

4. Смещение оси пути относительно разбивочной оси

$$z=\frac{L^3}{24 \cdot c} + \frac{13 \cdot L^7}{2688 \cdot c^3}=\frac{70^3}{24 \cdot 41300} + \frac{13 \cdot 70^7}{2688 \cdot 41300^3}=0,347 \text{ м}.$$

5. Смещение оси тоннеля относительно оси пути

$$h=12,5 \cdot \frac{v^2}{R}=12,5 \cdot \frac{60^2}{590}=76,271 \text{ мм}.$$

где  $h$  – превышение между внутренним и внешним рельсами

$v$  – скорость поезда на кривых

$R$  – радиус кривой

$$q=h \cdot \frac{B}{A}=76,271 \cdot \frac{1700}{1600}=0,081 \text{ мм};$$

где  $q$ - смещение оси тоннеля

6. Угол, заключенный между радиусами НКК и КПК<sub>1</sub>, между НПК<sub>2</sub> и ККК

$$\varphi=\frac{L^2}{2 \cdot c} \cdot \rho'=\frac{70^2}{2 \cdot 41300} \cdot 3438'=3^{\circ} 23' 57''.$$

### 10.6. Детальная разбивка переходной кривой

Детальная разведка осуществляется либо от линии тангенса, либо стягивающей эту кривую хорды.

#### 10.6.1. Разбивка от линии тангенса

$$x_i=l_i-\frac{l_i^5}{40 \cdot c^2};$$

$$y_i=\frac{l_i^3}{6 \cdot c}-\frac{l_i^7}{336 \cdot c^3},$$

где  $l_i$  – длина кривой от начала переходной кривой до  $i$ -й точки;  $x_i$  - откладывают от пикета начала переходной кривой по линии тангенса;  $y_i$  – от линии тангенса.

$$q_i=q \cdot \frac{l_i}{L};$$

$$Y_i=y_i+q_i.$$

Результаты расчетов сведены в таблицу 10.2.

Таблица 10.2

## Результаты расчетов

$l_i$	$x_i$	$y_i$	$q_i$	$Y_i=y_i+q_i$
0	0	0	0	0
5	5	0,0005	0,006	0,0065
10	10	0,004	0,012	0,016
15	15	0,014	0,017	0,031
20	20	0,032	0,023	0,055
25	25	0,063	0,029	0,092
30	30	0,109	0,035	0,144
35	35	0,173	0,041	0,214
40	40	0,258	0,046	0,304
45	45	0,368	0,052	0,420
50	50	0,504	0,058	0,562
55	55	0,671	0,064	0,735
60	60	0,872	0,069	0,941
65	65	1,108	0,075	1,183
70	70	1,384	0,081	1,465

По результатам вычислений строим переходную кривую, рис.10.3.

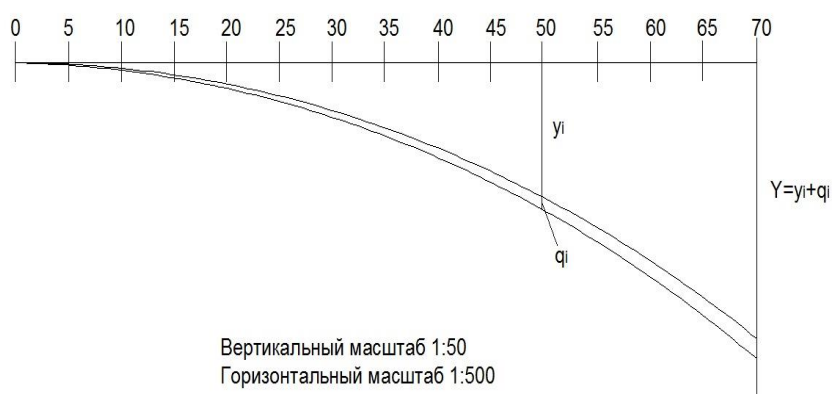




Рис. 10.3. Переходная кривая, построенная разбивкой от линии тангенса

**10.6.2. Разбивка от линии хорды**

$$\tan \psi = \frac{Y+q}{X},$$

где  $Y=1,384$  м,  $q=0,081$  м,  $X=69,975$  м.

$$\psi = \text{artg} \frac{1,384+0,081}{69,975} = 1^\circ 11' 58'';$$

$$b_i = l_i \cdot \tan \psi - (y_i + q_i).$$

Результаты расчетов сведены в таблицу 10.3.

Таблица 10.3

Результаты расчетов

$l_i$	$l_i \cdot \text{tg} \psi$	$y_i$	$q_i$	$y_i + q_i$	$b_i$
	0	0	0	0	0
5	0,105	0,0005	0,006	0,0065	0,0985
10	0,209	0,004	0,012	0,016	0,193
15	0,314	0,014	0,017	0,031	0,283
20	0,419	0,032	0,023	0,055	0,364
25	0,523	0,063	0,029	0,092	0,431
30	0,628	0,109	0,035	0,144	0,484
35	0,733	0,173	0,041	0,214	0,519
40	0,837	0,258	0,046	0,304	0,533
45	0,942	0,368	0,052	0,420	0,522
50	1,047	0,504	0,058	0,562	0,485
55	1,152	0,671	0,064	0,735	0,417
60	1,256	0,872	0,069	0,941	0,315

65	1,361	1,108	0,075	1,183	0,178
70	1,466	1,384	0,081	1,465	0,001

По результатам вычислений строим переходную кривую, рис. 10.4.

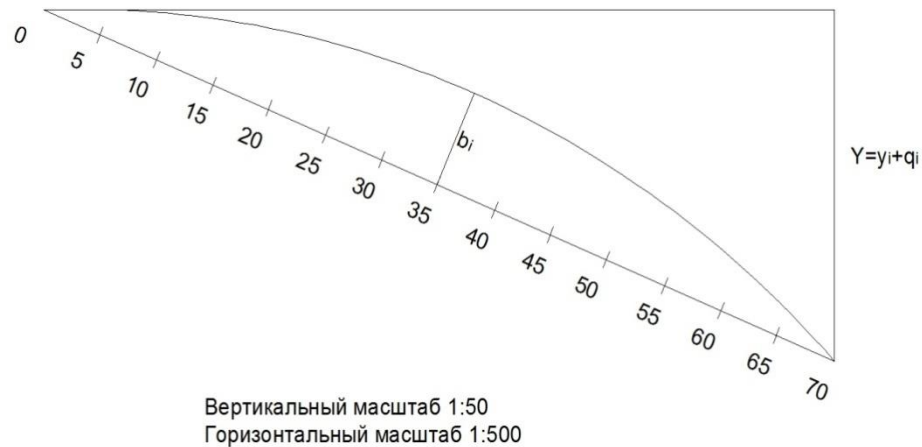


Рис. 10.4. Переходная кривая, построенная разбивкой от линии хорды

### 10.7. Разбивка пикетажа

1. ПК НПК<sub>1</sub> = ПК НКК - a = 95+50,542 - 35,016 = 95+15,526 м.

2. ПК КПК<sub>1</sub> = ПК НПК<sub>1</sub> + L = 95+15,526+70 = 95+85,526 м.

3. ПК КПК<sub>1</sub> = ПК НКК + a<sub>1</sub> = 95+50,542+34,959 = 95+85,501 м.

ПК КПК<sub>1</sub> = ПК НПК<sub>1</sub> + X = 95+15,526+69,975 = 95+85,501 м.

4. ПК ККК = ПК НКК + K = 95+50,542 - 267,598 = 98+18,140 м.

5. ПК КПК<sub>2</sub> = ПК ККК + a = 95+18,140+35,016 = 98+53,156 м.

6. ПК НПК<sub>2</sub> = ПК КПК<sub>2</sub> - L = 98+53,156 - 70 = 97+83,156 м.

7. ПК ВУ = ПК НКК - T = 95+50,542+136,212 = 96+86,754 м.

### Контроль вычислений

ПК ВУ	96+86,754	ПК ВУ	96+86,754
-	-	+	+
$\frac{T}{\text{ПК НКК}}$	$\frac{136,212}{95 + 50,542}$	$T$	136,212
+	+	-	-
$\frac{K}{\text{ПК ККК}}$	$\frac{267,598}{98 + 18,140}$	$\frac{D}{\text{ПК ККК}}$	$\frac{4,826}{98 + 18,140}$

Главные точки закругления с переходными кривыми разбирают в такой последовательности:

- по значениям угла поворота, радиуса и длины переходной кривой рассчитывают или выбирают из таблицы разбивки кривых длину тангенсов, кривой и биссектрисы;

- откладывают от вершины угла в обе стороны величину тангенса и получают начало НК и конец КК кривой;

- по направлению биссектрисы откладывают её величину и находят середину кривой СК.

## **ЗАКЛЮЧЕНИЕ**

Дисциплина «Маркшейдерские работы при строительстве подземных сооружений» является специальной, основной задачей обучающихся является усвоение знаний, умений и навыков правильного ведения полевых и камеральных маркшейдерских работ, от правильности исполнения которых зависит безаварийная работа горнодобывающего предприятия, охрана недр и обеспечение соответствия проекту.

### **БИБЛИОГРАФИЧЕСКИЙ СПИСОК:**

- 1.Чумак В.К., Гусев В.Н. Маркшейдерские работы при шахтном строительстве: Практикум. Санкт-Петербург: издательство СПбГИ (ТУ), 2-е изд., исправленное. СПб,2008, 52с.
- 2.Маркшейдерия: Учебник для вузов/ Под ред. М.Е. Певзнера, В.Н. Попова. – М.: Изд-во МГГУ, 2003.
- 3.Евдокимов А.В., Симанкин А.Г. Сборник упражнений и задач по маркшейдерскому делу: Учеб. пособие для вузов. – М.: Изд-во МГГУ, 2004.
4. Инструкция по производству маркшейдерских работ (РД 07-603-03) М. 2003.
- 5.Маркшейдерское дело (учебник для ВУЗов). Синянян Р.Р. М.: Недра, 1988.
- 6.Оглоблин Д.Н. Маркшейдерское дело. - М.: Недра, 1981.
7. Яковлева Т.Г., Шульга В.Я., Амелин С.В., Основы устройства и расчетов железнодорожного пути. - М.: Транспорт, 1990.-367с.
- 8.\_ВСН 160-69. Инструкция по геодезическим и маркшейдерским работам при строительстве транспортных тоннелей. Москва, 1970

## Приложение 1

Вариант	Высотные отметки Н точек сетки, м.									
	1	2	3	4	5	6	7	8	9	10
1	8,4 2	8,3 5	9,7 1	9,9 2	9,2 5	9,7 5	10, 00	10, 42	9,2 5	9,7 0
2	9,9 3	9,7 8	9,6 2	9,2 5	10, 42	10, 55	10, 05	9,6 5	10, 62	11, 12
3	9,2 5	8,8 1	8,4 2	9,0 5	9,6 5	9,2 4	8,5 8	9,1 5	10, 15	9,4 6
4	9,0 0	9,4 0	9,4 5	9,0 5	9,1 5	9,7 9	10, 08	9,7 0	9,2 5	9,7 8
5	9,0 5	8,9 0	9,5 1	9,1 5	9,7 0	9,0 0	9,6 5	9,4 0	10, 17	9,6 2
6	8,3 6	8,7 5	9,2 4	9,5 4	8,9 0	9,4 1	9,7 5	10, 21	9,4 8	9,8 5
7	8,3 5	8,7 5	9,3 6	8,3 5	9,4 0	8,8 1	8,6 0	8,8 0	9,7 4	9,6 0
8	8,8 5	9,2 5	9,7 4	10, 23	8,3 5	9,0 8	9,7 0	11, 19	8,2 9	9,0 0
9	10, 25	10, 74	10, 60	9,8 1	10, 20	10, 79	11, 10	10, 37	10, 00	10, 40
10	10,	10,	9,4	9,6	10,	10,	9,7	10,	10,	9,8

	80	20	0	5	60	15	5	05	20	0
11	9,6 5	9,8 0	10, 30	11, 11	10, 05	10, 45	11, 00	11, 30	10, 25	10, 75
12	9,2 1	9,7 5	10, 21	10, 35	9,4 1	9,8 5	10, 45	10, 71	9,4 8	10, 13
13	10, 31	10, 11	9,7 7	10, 18	10, 76	10, 41	9,9 6	10, 05	11, 18	10, 85
14	10, 18	10, 27	10, 17	10, 33	10, 37	10, 12	10, 55	10, 75	10, 63	9,8 0
15	10, 80	9,8 0	10, 00	10, 45	10, 81	10, 31	9,9 0	9,8 1	11, 40	10, 81
16	10, 40	10, 70	10, 81	10, 20	9,8 0	10, 45	10, 40	9,8 5	9,9 5	9,8 5
17	10, 60	9,8 0	10, 00	10, 50	9,9 5	9,9 0	9,8 5	9,9 0	9,0 0	9,8 0
18	10, 80	11, 00	11, 35	11, 10	9,8 0	10, 45	10, 70	10, 50	10, 00	9,8 5
19	11, 00	10, 10	10, 70	11, 30	9,9 0	10, 90	10, 60	9,9 0	11, 10	10, 10
20	11, 20	11, 11	10, 50	10, 00	11, 00	11, 50	11, 10	10, 40	9,8 0	10, 70
21	11, 40	10, 80	9,8 0	10, 20	10, 70	9,8 0	9,4 0	10, 00	10, 30	9,7 0

22	11, 60	11, 30	11, 40	10, 70	10, 30	10, 80	11, 50	10, 80	10, 15	10, 60
23	11, 80	11, 10	10, 10	9,6 0	8,7 0	10, 80	10, 25	9,7 5	9,7 0	10, 50



Продолжение приложения 1

Вариант	Высотные отметки Н точек сетки, м.									
	11	12	13	14	15	16	17	18	19	20
1	10,21	10,62	8,20	9,55	10,05	10,45	8,85	9,25	9,70	10,25
2	10,63	10,15	10,45	10,92	10,76	9,95	10,25	10,75	10,61	9,20
3	8,90	9,25	9,85	9,52	9,25	9,28	9,95	9,56	10,10	10,81
4	10,51	10,18	9,28	9,65	10,37	10,62	8,92	9,50	9,00	8,92
5	9,35	9,75	10,62	9,91	10,20	10,40	9,65	9,80	10,31	11,11
6	10,30	10,85	10,37	10,50	11,00	11,30	11,10	11,45	10,78	12,40
7	9,40	9,50	9,41	9,90	10,25	10,40	9,65	9,80	10,31	11,10
8	9,45	10,00	8,91	9,40	9,71	9,54	9,20	9,75	10,18	10,30

9	10, 35	11, 00	10, 50	9,8 0	9,8 9	10, 12	10, 31	10, 10	9,7 4	10, 15
10	9,7 5	9,8 0	10, 50	10, 20	9,8 0	10, 31	10, 45	10, 60	10, 21	10, 30
11	11, 25	11, 85	9,8 1	10, 21	10, 75	11, 20	10, 25	9,9 0	10, 05	10, 55
12	10, 71	11, 21	9,1 4	9,9 7	10, 56	11, 16	9,3 1	9,7 5	10, 27	10, 69
13	10, 24	9,8 2	11, 18	11, 06	10, 35	9,7 7	10, 75	11, 21	10, 52	9,7 3
14	10, 48	11, 17	11, 45	9,7 6	10, 21	10, 83	11, 45	9,7 0	10, 15	10, 75
15	10, 45	9,3 1	10, 40	11, 40	10, 78	10, 38	11, 37	11, 15	10, 55	10, 10
16	9,3 0	10, 50	11, 10	10, 30	9,7 0	10, 20	10, 50	10, 05	10, 50	10, 90
17	9,8 5	10, 10	10, 35	9,7 0	10, 20	10, 50	10, 10	9,8 5	10, 28	10, 95
18	10, 26	9,9 5	10, 35	9,7 0	9,6 0	9,4 2	10, 70	11, 00	10, 10	11, 36
19	9,6 0	10, 25	10, 70	9,9 0	9,7 5	9,8 0	9,4 0	9,7 0	9,7 8	9,5 0
20	10,	10,	9,7	10,	10,	9,8	9,4	9,7	9,7	9,5

	70	35	0	20	18	5	3	3	6	1
21	9,3 0	9,7 5	10, 15	9,4 0	8,3 5	9,2 5	9,8 0	9,1 0	8,5 0	9,7 0
22	10, 90	10, 50	9,8 0	10, 25	10, 40	0,1 2	9,4 0	9,7 5	9,7 6	9,6 0
23	9,9 6	9,5 0	9,0 0	10, 00	10, 12	9,7 0	9,2 4	8,7 2	9,6 9	9,4 7

## Окончание приложения 1

Вариант	Высотные отметки Н точек сетки, м.				
	21	22	23	24	25
1	10,00	9,73	9,25	9,20	9,00
2	9,75	10,00	10,05	9,85	9,56
3	9,95	9,81	9,25	8,90	8,50
4	9,00	9,25	9,81	9,91	9,45
5	11,00	10,50	10,21	9,90	9,62
6	12,38	12,00	11,50	11,00	10,85
7	11,30	11,00	11,90	10,85	10,56
8	10,80	11,05	11,30	10,90	10,75
9	10,00	9,80	9,30	9,50	9,85
10	9,90	9,70	9,60	9,45	9,21
11	10,30	10,21	10,50	10,10	9,89

12	10,85	10,95	11,05	11,45	8,85
13	9,95	10,12	10,56	10,84	10,25
14	11,37	11,50	11,71	11,07	9,95
15	10,80	11,30	10,50	9,80	8,92
16	10,10	9,20	10,20	10,70	9,65
17	10,70	10,50	10,30	10,10	11,10
18	11,40	11,25	10,70	10,50	9,65
19	9,59	9,40	9,20	9,00	9,20
20	9,10	9,00	8,90	8,80	10,31
21	9,40	9,50	9,60	9,70	10,45
22	9,30	10,00	10,20	10,40	10,25
23	8,95	8,47	8,67	8,87	9,31

## Приложение 2

Вариант/ номер	1	2	3	4	5	6	7	8	9	10	11	12	13
Зенитный Угол, $\beta$													
1	0	0	0	0	0	0	0	0	0	0	0	0	0
2	1	1,5	1	1	1,5	1	1,5	1	1,5	2	2	2,5	2,5

3	2	1, 5	1	1, 5	2	2	2, 5	2, 5	2	2	2	2, 5	2, 5
4	2	1, 5	1, 5	2	2	2	2, 5	2, 5	2	2	2	2, 5	3
5	2	2	1, 5	2	2	2	2, 5	2, 5	2, 5	2, 5	2, 5	3	3
6	2, 5	2	2	2	2, 5	2	2, 5	2, 5	2, 5	2, 5	2, 5	3	3, 5
7	2, 5	2	2, 5	2	2, 5	2	3	3	2, 5	2, 5	3	3	3, 5
8	3	2, 5	2, 5	3	3	2, 5	3	3	3	3	3	3	3, 5
9	3	2, 5	3	3	3	2, 5	3	3, 5	3	3	3	3, 5	3, 5
10	3, 5	3	3	3, 5	3	3	3, 5	3, 5	3	3, 5	3, 5	3, 5	4
11	3, 5	3, 5	3	3, 5	3, 5	3	3, 5	3, 5	3, 5	3, 5	3, 5	4	4
Дирекционный угол, $\alpha$													
1	0	0	0	0	0	0	0	0	0	0	0	0	0
2	2 0	1 0	1 5	2 5	2 0	3 0	1 0	2 0	1 0	0	1 0	2 5	1 5

3	3 0 0	1 5 0	2 0 0	1 8 0	2 5 0	3 0 0	2 0 0	3 0 0	2 0 0	1 0 0	3 2 0	3 0 0	2 5 0
4	2 9 0	1 8 0	2 5 0	2 0 0	2 0 0	3 1 0	2 5 0	3 1 0	2 5 0	1 5 0	3 0 0	3 1 0	2 7 0
5	3 0 0	2 0 0	3 0 0	2 5 0	2 0 0	1 5 0	3 0 0	2 8 0	2 9 0	2 0 0	3 0 0	3 2 0	2 9 0
6	3 2 0	2 5 0	3 1 0	3 1 0	3 0 0	2 0 0	3 5 0	3 0 0	3 0 0	2 5 0	2 9 0	3 0 0	3 0 0
7	3 4 0	3 0 0	2 9 0	2 9 0	3 5 0	3 1 0	3 2 0	3 5 0	3 4 0	3 0 0	3 2 0	3 0 0	3 5 0
8	0	1 0	1 5	4 5	1 0	0	1 0	0	1 0	0	2 1 0	3 5 0	0
9	1 0	1 5	2 0	1 0	2 0	1 0	2 0	1 0	1 5	0	1 0	0	1 0
10	2 0	2 5	2 0	3 0	2 0	1 0	3 0	2 0	2 0	1 0	2 0	1 0	1 0
11	2 0	3 0	4 0	2 0	2 5	2 0	3 0	3 0	2 0	2 5	2 0	1 0	3 0



Окончание приложения 2

Вариант/ номер	1 4	1 5	1 6	1 7	1 8	1 9	2 0	2 1	2 2	2 3	2 4	2 5	2 6
-------------------	--------	--------	--------	--------	--------	--------	--------	--------	--------	--------	--------	--------	--------

Р													
Зенитный Угол, $\beta$													
1	0	0	0	0	0	0	0	0	0	0	0	0	0
2	0	1	1	0	1	1,5	1	1	1,5	1	1	1,5	1,5
3	1	1,5	1	1	1,5	1,5	1	1	1,5	1	1,5	1,5	2
4	1	1,5	1	1,5	1,5	1,5	1	1,5	1,5	1,5	1,5	2	2
5	1,5	2	1,5	1,5	2	1,5	1,5	1,5	2	1,5	2	2	2
6	2	2	1,5	2	2	2	1,5	2	2	2	2	2	2,5
7	2	2,5	2	2	2,5	2	2	2	2	2	2,5	2,5	2,5
8	2,5	2,5	2	2	2,5	2	2	2,5	2,5	2,5	2,5	2,5	2,5
9	2,5	3	2	2,5	2,5	2,5	2,5	2,5	2,5	3	3	3	2,5
10	3	3	2,5	3	3	3	2,5	3	3	3	3,5	3	3
11	3	3,5	3	3,5	3	3	3	3,5	3,5	3,5	3,5	3,5	3

		5		5				5	5	5	5	5	
Дирекционный угол, $\alpha$													
1	0	0	0	0	0	0	0	0	0	0	0	0	0
2	1 0	2 0	1 0	2 0	2 0	3 0	1 0	2 0	1 0	0	1 0	2 0	1 0
3	2 0 5	1 6 0	2 0 0	1 8 0	2 5 0	3 0 0	2 0 0	3 0 0	2 0 0	1 0 0	3 2 0	3 0 0	2 5 0
4	2 9 0	1 9 0	2 5 0	2 0 0	2 0 0	3 1 0	2 5 0	3 1 0	2 5 0	1 5 0	3 0 0	3 1 0	2 7 0
5	3 1 0	2 5 0	3 0 0	2 0 0	2 5 0	1 5 0	3 0 0	2 8 0	2 9 0	2 0 0	3 0 0	3 2 0	2 9 0
6	3 2 0	2 5 0	3 1 0	3 1 0	3 0 0	2 0 0	3 5 0	3 0 0	3 0 0	2 0 0	2 9 0	3 0 0	3 1 0
7	3 5 0	3 1 0	2 9 0	2 9 0	3 5 0	3 1 0	3 2 0	3 5 0	3 4 0	3 0 0	3 0 0	3 1 0	3 5 0
8	1 0	0	1 5	4 5	1 0	0	1 0	0	1 0	0	2 1 0	3 5 0	1 0

9	1 0	1 5	2 0	1 0	2 0	1 0	2 0	1 0	1 5	0	1 0	0	1 0
10	2 0	2 0	2 0	3 0	2 0	1 0	3 0	2 0	2 0	1 0	2 0	1 0	1 0
11	3 0	2 0	4 0	2 0	2 0	2 5	3 5	4 0	3 0	2 0	3 0	2 0	2 0

### Приложение 3

Вариант	Направление	Дирекционный угол направлений		Координаты пункта			
		°	'	пункт 2			X
				X	Y	Z	
1	1-2	210	15	6211,24	3389,73	235,6	6059,
	3-4	213	20				
2	1-2	212	30	6415,24	3523,73	212,4	6263,
	3-4	211	40				
3	1-2	209	45	5991,16	3276,47	239,3	5839,
	3-4	210	40				
4	1-2	214	20	996,50	2156,59	215,0	1117,
	3-4	215	30				
5	1-2	208	13	1559,22	9521,80	251,0	1672,
	3-4	209	15				
6	1-2	207	40	5220,24	2900,68	204,9	5322,
	3-4	205	15				
7	1-2	216	15	8830,39	3912,31	204,8	8687,
	3-4	217	50				
8	1-2	206	45	2736,00	8199,92	200,0	2376,
	3-4	205	30				

9	1-2	218	20	5670,45	5938,59	253,5	5506,
	3-4	220	40				
10	1-2	204	15	10094,48	8847,54	262,9	9960,
	3-4	207	46				
11	1-2	220	40	8691,60	6612,65	270,4	8547,
	3-4	223	50				
12	1-2	224	30	750,63	5273,06	303,7	589,5
	3-4	227	45				
13	1-2	229	20	6528,46	3005,63	324,8	6364,
	3-4	232	50				
14	1-2	230	45	6708,14	3660,91	236,1	6544,
	3-4	228	20				
15	1-2	201	50	6956,59	3796,50	354,6	6786,
	3-4	203	15				
16	1-2	233	45	7205,04	3932,09	257,9	7028,
	3-4	235	15				
17	1-2	225	50	5155,33	2813,48	265,3	5029,
	3-4	228	30				
18	1-2	236	15	7577,71	4135,47	273,4	7392,
	3-4	237	45				
19	1-2	239	20	7764,05	4237,16	364,6	7574,
	3-4	241	30				

20	1-2	242	50	5900,68	3220,24	253,7	5756,
	3-4	243	15				
21	1-2	244	20	9521,80	1559,22	296,0	9362,
	3-4	246	45				
22	1-2	247	15	2900,68	5220,24	388,6	2756,
	3-4	252	20				

ОКОФ

23	1-2	251	45	3912,31	8830,33	361,5	4013,
	3-4	253	15				
24	1-2	254	50	8199,92	2736,00	344,4	8313,
	3-4	256	15				
25	1-2	257	30	5938,59	5670,45	300,0	6055,
	3-4	260	45				
26	1-2	34	45	3170,72	6077,42	117,7	3263,
	3-4	32	45				
27	1-2	33	20	3304,72	6281,42	104,8	3397,
	3-4	34	30				
28	1-2	36	40	3057,46	5857,34	107,5	3150,
	3-4	37	15				
29	1-2	38	40	2006,71	751,23	118,9	1858,
	3-4	40	15				
30	1-2	41	50	9381,29	1329,26	103,2	9242,

	3-4	43	15				
31	1-2	29	15	2773,55	5012,18	105,4	2648,
	3-4	27	30				
32	1-2	35	20	3706,44	8704,53	124,7	3793,
	3-4	37	50				
33	1-2	40	45	7969,96	2695,49	121,9	8067,
	3-4	42	15				
34	1-2	27	40	5702,06	5525,93	114,2	5802,
	3-4	29	50				
35	1-2	44	20	8639,48	9967,35	145,4	8727,
	3-4	38	15				



*Министерство образования и науки Российской Федерации  
Федеральное агентство по образованию  
Государственное образовательное учреждение  
высшего профессионального образования  
"Магнитогорский государственный технический  
университет им. Г.И. Носова"*

**Кафедра маркшейдерского дела и геологии**

**ГРАФИЧЕСКИЕ РАБОТЫ**

***Методические указания***

*по составлению совмещенного плана  
теодолитно-тахеометрической съемки  
в масштабе 1: 1000  
для студентов, изучающих дисциплины:  
"Геодезия", "Геодезия и маркшейдерское дело",  
"Инженерная геодезия" и "Картография  
с основами топографии"*

МАГНИТОГОРСК

2009

Составитель В.Н. Хонякин

Графические работы. Методические указания по составлению совмещенного плана теодолитно-тахеометрической съемки в масштабе 1 : 1000 для студентов, изучающих дисциплины: "Геодезия", "Инженерная геодезия", "Геодезия и маркшейдерское дело" и "Картография с основами топографии"

Рецензент доц., канд. техн. наук Н.В. Рубцов

Ст. преп. Хонякин В.Н., 2009

## 1. Введение

Методические указания разработаны для студентов первого курса, изучающих геодезические дисциплины и выполняющих самостоятельную контрольную работу по составлению топографического плана масштаба 1:1000 с сечением рельефа через 0,5 метра.

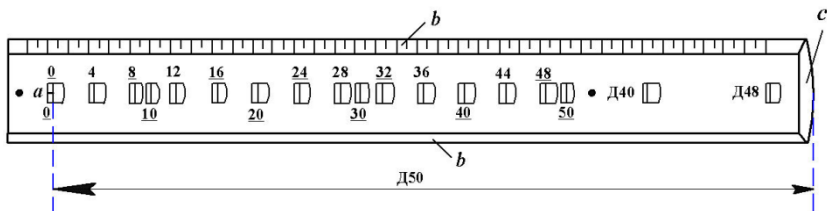
В работе рассматриваются вопросы выполнения графической части контрольной работы - построение топографического плана местности, изображенной на геодезическом панно доц. Г.Ю. Хунджуа. Топографический план строят на основе камеральной обработки результатов полевых работ. В контрольной работе исходная информация выдается согласно вариантам в студенческих группах.

Последовательность, приемы камеральной обработки результатов полевых измерений изложены в методических указаниях [1].

## 2. Построение координатной сетки

### **2.1. Построение координатной сетки при помощи линейки - ЛТ.**

Устройство и применение линейки (рис.1.) основано на двух положениях геометрии. Во-первых, треугольник можно построить по длинам трёх его сторон – линейными засечками с концов одной из сторон; во-вторых, треугольник со сторонами 3,4,5 или 6,8,10 и т.д. единиц, - прямоугольный. Для данной линейки единицей измерения является дециметр.



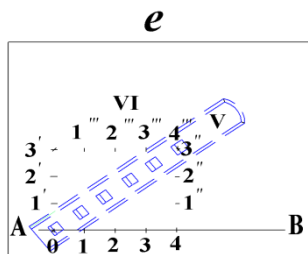
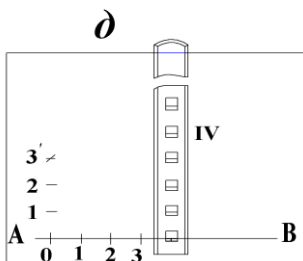
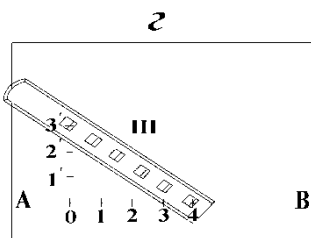
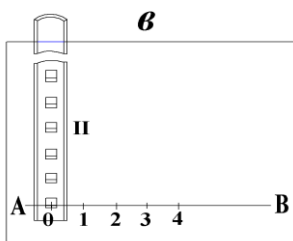
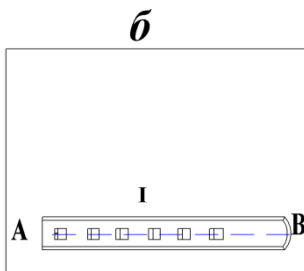
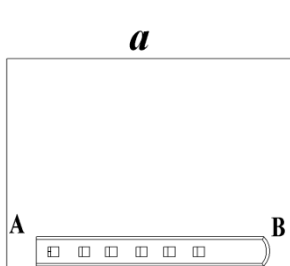
*Рис. 1. Линейка Ф.В. Дробышева - ЛТ*

*a* – начальный штрих; *b* – ребро со скошенным краем; *c* – конец линейки со скошенным краем

- 1 -

Рассмотрим порядок построения сетки дециметровых квадратов размером  $30 \times 40$  см. На листе чертежной бумаги размером не менее  $40 \times 45$  см укладывают линейку параллельно большей стороне листа (рис. 2-а). Скошенный

край ребра "b" линейки должен находиться на расстоянии не менее 50 мм от нижнего края ватманской бумаги.



***Рис. 2. Построение сетки дециметровых квадратов  
при помощи***

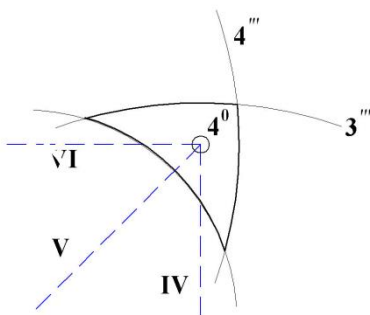
***линейки ЛТ***

- 2 -

Остро отточенным карандашом твёрдости не менее **2Т** проводят по скошенному краю линейки прямую линию **АВ**. Линейку накладывают на прочерченную линию так, чтобы линия располагалась по центрам окон линейки. По скошенным краям первых пяти окон (0, 10, 20, 30, 40) проводят линии (см. рис. 2-б), которые в пересечении с прямой **АВ** образуют точки **0, 1, 2, 3, 4** (рис.2-в). Эти точки накалывают иглой циркуля-измерителя. Располагают линейку приблизительно перпендикулярно линии **АВ** так, чтобы начальная точка "а" линейки была совмещена с наколом в точке **0**. По скошенным краям трёх окон 10, 20, 30 проводят линии **1', 2', 3'**. В положении **III** (см. рис. 2-г) начальную точку "а" совмещают с наколом **4**; по скошенному краю окна **50** проводят линию, пересечение её с линией **3'** накалывают иглой. В четвертом положении (см. рис. 2-д) линейку вновь располагают приблизительно перпендикулярно линии **АВ** так, чтобы начальная точка "а" линейки была

совмещена с насколом **4**. По скошенным краям окон **10**, **20**, **30** прочерчивают линии **1''**, **2''**, **3''**. Пятое положение линейки (показано штрихами) подобно положению **III** соответствует гипотенузе прямоугольного треугольника. Начальную точку "**a**" линейки совмещают с точкой **0**; скошенный край окна **50** должен пересечь линию **3''**. В шестом положении (см. рис.2-е) начальную точку "**a**" линейки совмещают с насколом в точке **3'**, по скошенному краю окна **40** прочерчивают линию **4'''**.

Если стороны треугольника погрешностей, полученного засечками трёх положений линейки (**IV**, **V**, **VI**), не превышают 0,2 мм, то центр треугольника принимают за окончательное положение точки **4<sup>0</sup>** засечки (рис.3).



*погрешностей*

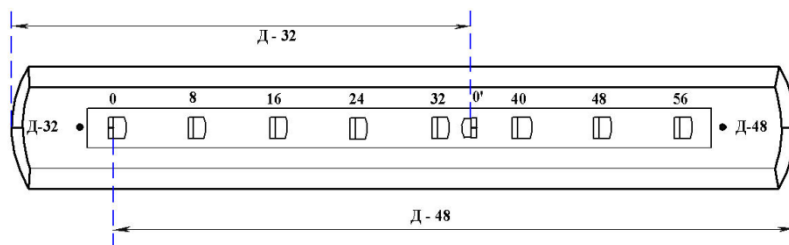
**Рис. 3. Треугольник**

Совместив скошенный край окна **40** линейки с наколом в этой точке, по скошенным краям окон 10, 20, 30 проводят линии  $1'''$ ,  $2'''$ ,  $3'''$ . По скошенному краю ребра "b" линейки проводят линии:  $0 - 3'$ ,  $1 - 1'''$ ,  $2 - 2'''$ ,

$3 - 3'''$ ,  $4 - 4^0$ ;  $1' - 1''$ ,  $2' - 2''$ ,  $3' - 4^0$ . Вершины дециметровых квадратов также накалывают иглой измерителя.

## 2.2. Построение координатной сетки при помощи линейки ЛБЛ

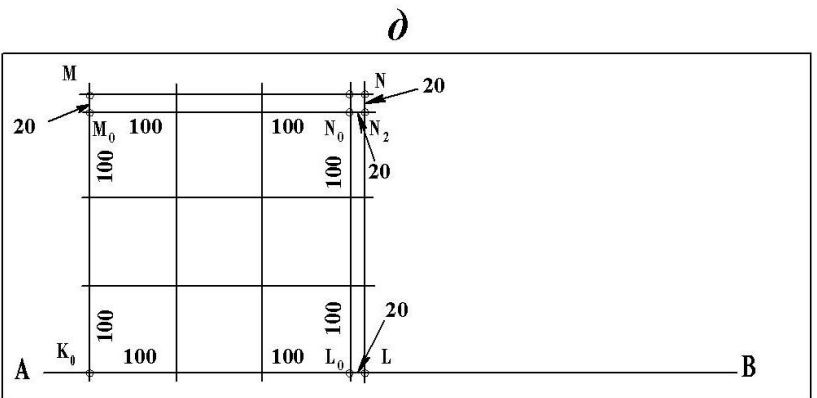
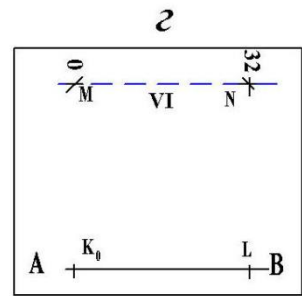
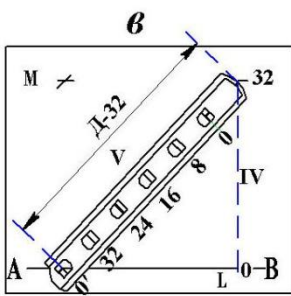
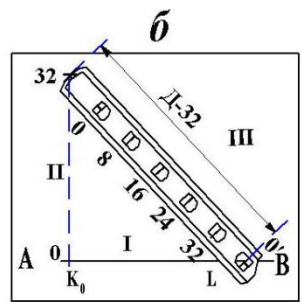
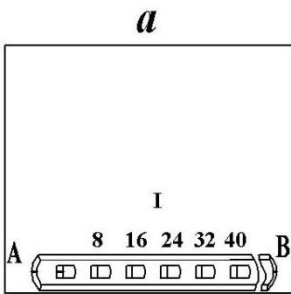
Дециметровую сетку квадратов (координатную сетку) при помощи линейки ЛБЛ (линейка Бизяева-Лизунова) строят в следующей последовательности (рис. 4).



*Рис. 4. Линейка ЛБЛ*



1. По скошенному краю ребра линейки на расстоянии 50 мм от нижнего края листа ватманской бумаги проводят твёрдым, остро отточенным карандашом линию **АВ** (рис. 5-а).
2. Укладывают линейку на прочерченную линию так, чтобы она проходила через точки **0** и **0'**.
3. По скошенным краям окон **0** и **32** (см. рис. 4 и 5-а) проводят линии, которые в пересечении с линией **АВ** образуют точки **К<sub>0</sub>** и **L**.
4. Располагают линейку в положении II (см. рис. 5-б) так, чтобы она приблизительно образовывала прямой угол с линией **АВ**, а ноль линейки был совмещен с точкой **К<sub>0</sub>**.
5. По скошенному краю окна **32** линейки проводят карандашом линию.
6. В положении III линейку укладывают таким образом, чтобы ноль линейки был совмещен с точкой **L**, а скошенный край конца линейки с надписью **Д-32**, пересёк линию, прочерченную по скошенному краю окна **32** в II положении линейки. Полученную точку **М** накалывают.



**Рис. 5. Построение координатной сетки при помощи линейки ЛБЛ**

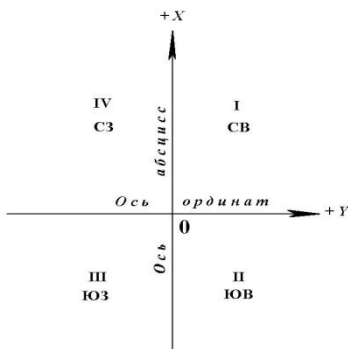
- 5 -

7. Аналогично точке  $M$  получают точку  $N$  (см. рис. 5-в).
8. Построение точек  $M$  и  $N$  контролируют аналогично построению сетки линейкой ЛТ. Ноль линейки совмещают с точкой  $M$ , а по скошенному краю окна **32** проводят линию в положении линейки VI (см. рис. 5-з). Если треугольник погрешностей (см. рис. 3) отвечает ранее указанным допускам, построение вершин квадрата со сторонами **32** - выполнено.
9. Соединяют вершины  $K$ ,  $L$ ,  $M$ ,  $N$  прямыми линиями. Раствором циркуля – измерителя, равным 20 мм (это значение установить по поперечному масштабу), от точек  $M$ ,  $N$  и  $L$  откладывают отрезки (см. рис. 5-д):  $MM_0$ ,  $NN_1$ ,  $NN_2$ ,  $LL_0$ . Через концы  $M_0, L_0, N_0$  этих отрезков проводят линии, которые вместе с линией  $AB$  образуют контур квадрата со сторонами 30 см.
10. С помощью измерителя и поперечного масштаба на этих сторонах квадрата из точек  $K_0$ ,  $L_0$ ,  $M_0$ ,  $N_0$  откладывают отрезки, равные 100 мм (см. рис. 5-д), концы которых накалывают иглой.

11. Через полученные точки проводят линии, которые и образуют сетку дециметровых квадратов. Построенную сетку следует проконтролировать, измерением длины диагоналей квадратов. Допустимая погрешность  $\leq 0,2$  мм.

### 2.3. Оцифровка линий координатной сетки

Напомним, применяемая в геодезии система прямоугольных координат на плоскости – левая, в отличие от аналогичной системы в аналитической геометрии – правой. Положение осей координат в применяемой системе показано на рис. 6.



*Рис. 6. Расположение осей координат и названия (номера) четвертей*

Координатная сетка образована линиями, проведенными на плане через один дециметр (дециметровая сетка квадратов) параллельно осям координат. Расстояния  $L_i$  этих линий от осей координат соответствует на местности величинам, определяемым по формуле

$$L_i = i \cdot (10\text{см} \cdot M) : 100 \quad ,$$

(2.1)

где  $i$  – номер линии,  $M$  – знаменатель численного масштаба плана.

**Пример 2.1.** Определим, какому расстоянию на местности соответствует пятая линия координатной сетки на планах масштабов: 1:1000; 1:500.

**Решение.** Для плана масштаба 1:1000

$$L_5 = 5 \cdot (10\text{см} \cdot 1000) : 100 = 500\text{м},$$

а для плана масштаба 1:500

$$L_5 = 5 \cdot (10\text{см} \cdot 500) : 100 = 250\text{м}.$$

В контрольной работе предусмотрено построение топографического плана в масштабе 1:1000, для которого формулу (2.1) можно записать в виде

$$L_i = 100 \cdot i, \text{ м}.$$

(2.2)

На топографических планах масштабов 1:500 и 1:1000 оцифровывают (подписывают) лишь крайние (северную, южную, западную и восточную) линии координатной сетки.

Изображаемая на плане (в контрольной работе) территория земной поверхности занимает площадь  $3 \times 3$  дециметровых квадратов. Номера южной ( $N_{Ю}$ ) и западной ( $N_{З}$ ) линий координатной сетки определяют по формулам:

$$N_{Ю} = \varepsilon \left( \frac{X \min}{100} \right), \quad N_{З} = \varepsilon \left( \frac{Y \min}{100} \right),$$

(2.3)

если величины  $X \min$  и  $Y \min$  - числа положительные, где  $\varepsilon$  – символ выделения целой части от выражения, записанного в скобках.

Если  $X \min$  и  $Y \min$  – числа отрицательные, то следует применять формулы:

$$N_{Ю} = \varepsilon \left( \frac{|X \min|}{100} \right) + 1, \quad N_{З} = \varepsilon \left( \frac{|Y \min|}{100} \right) + 1.$$

(2.4)

Если числа, соответствующие значениям координат ( $-X \min$ ) и ( $-Y \min$ ), содержат число десятков не более двух, то  $N_{Ю}$  и  $N_{З}$  следует вычислять по формулам:

$$N_{Ю} = \varepsilon \left( \frac{|X \min|}{100} \right), \quad N_{З} = \varepsilon \left( \frac{|Y \min|}{100} \right). \quad (2.5)$$

**Пример 2.2.**       $X \min = + 83,18 \text{ м},$        $Y \min = - 511,93 \text{ м}.$

$$N_{Ю} = \varepsilon \left( \frac{83,18}{100} \right) = \varepsilon(0,8318) = 0,$$

$$N_{З} = \varepsilon \left( \frac{|-511,93|}{100} \right) = \varepsilon(5,1193) = 5.$$

Здесь в значении  $Y \min = 511,93 \text{ м}$ , число десятков  $\approx 1,2$ , т.е. меньше двух.

**Пример 2.3.**       $X \min = 826,78 \text{ м},$        $Y \min = - 147,23 \text{ м}.$

$$N_{Ю} = \varepsilon \left( \frac{|-826,78|}{100} \right) + 1 = \varepsilon(8,2678) + 1 = 9,$$

$$N_{З} = \varepsilon \left( \frac{|-147,23|}{100} \right) + 1 = \varepsilon(1,4723) + 1 = 2.$$

**Пример 2.4.**  
**17,11м.**

$X \min = + 2,32 \text{ м,}$

$Y \min = -$

$$N_{ю} = \varepsilon\left(\frac{2,32}{100}\right) = \varepsilon(0,0232) = 0,$$

$$N_{з} = \varepsilon\left(\frac{|-17,11|}{100}\right) = \varepsilon(0,1711) = 0.$$

Южные и западные линии координатной сетки для рассмотренных примеров 2.2 – 2.4 должны быть подписаны числами, соответствующими на местности расстояниям  $Li$ , вычисляемым по формуле 2.2 со знаками, соответствующими знакам координат  $X \min$  и  $Y \min$ . В формуле для  $Li$  вместо  $i$  следует подставить  $N_{ю}$  или  $N_{з}$ . Если эти числа увеличить на + 300 м, то получим числа, которыми следует подписать соответственно северную и восточную линии сетки координат плана масштаба 1:1000 для примеров 2.3 - 2.4.

- 8 -

Вычислим числа, которыми следует подписать крайние линии координатной сетки в примере 2.2. Номер южной линии  $N_{ю} = 0$ .

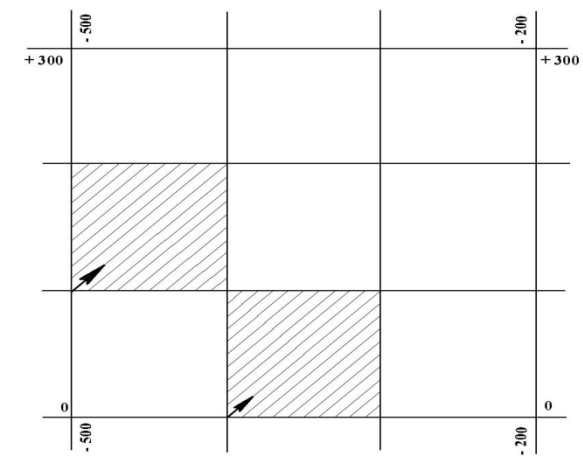
$Li = L_{N_{ю}} = L_0 = 100 \cdot 0 = 0$  м, значит, южная линия сетки совпадает с осью ординат и должна быть подписана нолём "0".



Северная линия имеет оцифровку + 300, как  $0 + 300$  м. Номер западной линии  $N_3 = 5$ .

$Li = L_{N_{ю}} = L_5 = 100 \cdot 5 = 500$  м. Учитывая, что значение ординаты число отрицательное ( $Y_{min} = - 511,93$ ), следует западную линию координатной сетки подписать - 500. Восточная линия будет иметь оцифровку - 200, как

$- 500 + 300 = - 200$ м. Линии сетки с их оцифровкой показаны на рис. 7.



**Рис. 7. Оцифровка линий координатной сетки**

### **3. Накладка на план точек (вершин) геодезического обоснования по их прямоугольным координатам**

После оцифровки крайних линий координатной сетки приступают к накладке вершин теодолитных ходов на план по их координатам. Прямоугольные координаты вершин теодолитных ходов вычисляют в таблице – ведомости. Порядок вычислений координат, образец ведомости приведены в работе [1]. Накладку вершин теодолитных ходов рассмотрим на примере. Требуется на план, фрагмент которого приведён на рис. 7, наложить по координатам две вершины № 69 и № 65 теодолитного хода.

- 9 -

3.1. По значениям координат вершин № 69 и № 65 (табл.1) определяют квадраты, в которых эти точки должны располагаться.

Таблица 1

Фрагмент ведомости координат вершин теодолитных ходов

№ вер-		Горизон -		К о о р д и н а т ы	№ вер-
-----------	--	--------------	--	---------------------	-----------

шин		тальные проложе - ния <i>d</i> , <i>м</i>		$\pm X, \text{ м}$	$\pm Y, \text{ м}$	шин
1		6		13	14	15
26						26
		90,80				
69				+ 147,29	- 401,82	69
		101,79				
65				+ 55,58	- 357,65	65
		81,68				
77						77

Квадрат обозначают координатами его юго-западного угла  $X_{юз}/Y_{юз}$ .

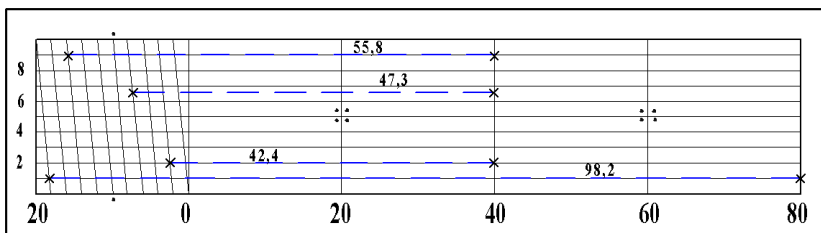
В нашем примере точка № 69 с координатами  $X_{69}=+147,29 \text{ м}$  и

$Y_{69} = -401,82$  м находится в квадрате  $+100/-500$ , а точка № 65 с координатами  $X_{65} = +55,58$  и  $Y_{65} = -375,65$  - в квадрате  $0/-400$ .

3.2. Находят разности абсцисс ( $\Delta X$ ) точки и ближайшей южной линии сетки.

$$\Delta X_1 = X_{69} - (+100) = +147,29 \text{ м} - 100 \text{ м} = +47,29 \text{ м},$$

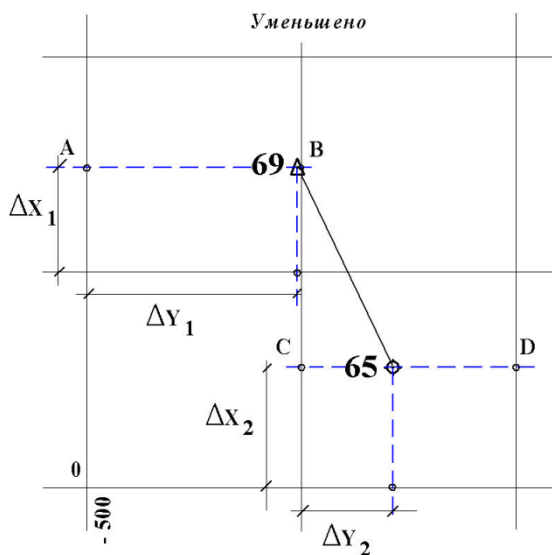
$$\Delta X_2 = X_{65} - 0 = +55,82 \text{ м} - 0 \text{ м} = +55,82 \text{ м}.$$



**Рис. 8. Масштабная линейка (поперечный масштаб)**

С учетом того, что точность масштаба плана составляет 0,1 м, значения  $\Delta X_1$  и  $\Delta X_2$  следует округлить до десятых метра, т.е.  $\Delta X_1 \approx +47,3$ ;  $\Delta X_2 \approx +55,8$  м.

3.3. Эти значения с помощью масштабной линейки и циркуля-измерителя откладывают на боковых (западной и восточной) сторонах соответствующего квадрата (см. рис. 8 и 9) от ближайшей южной линии сетки на север (вверх).



**Рис. 9. Накладка на план вершин теодолитного хода**

Точки А,В,С,Д, полученные на боковых сторонах квадратов, соединяют горизонтальными прямыми (на рис. 9 показаны штрихами) АВ и CD. Эти линии лучше прочертить иглой измерителя, слегка наклоняя её по направлению линий.

3.4. Вычисляют разности ординат ( $\Delta Y$ ) точек и западных линий сетки дециметровых квадратов. Эти значения с помощью циркуля-измерителя и масштабной линейки откладывают на линиях АВ и CD от западных сторон координатной сетки дециметровых квадратов. Для точки № 69 разность равна

$$\Delta Y_1 = Y_{69} - (-500)_m = -401,82 - (-500) = +98,18 м.,$$

- 11 -

а для точки № 65

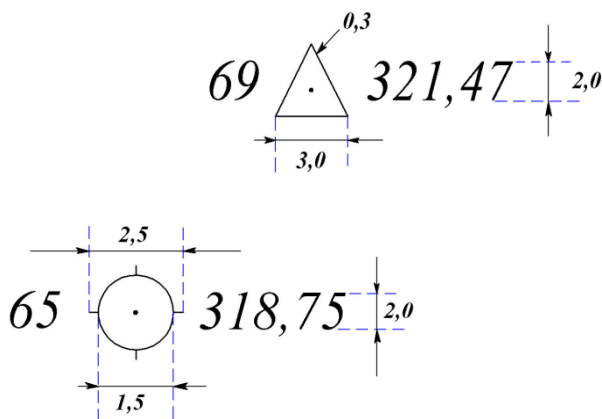
$$\Delta Y_2 = Y_{65} - (-400)_m = +357,65 - (-400) = +42,35 м.$$

С учётом точности масштаба плана  $\Delta Y_1 = +98,2 м.$   
 $\Delta Y_2 \approx +42,4 м.$  Правые (западные) концы отрезков  $\Delta Y$  являются искомыми точками.

3.5. После накладки каждой точки следует при помощи циркуля-измерителя и масштабной линейки проконтролировать расстояния между соседними точками, сравнивая их с соответствующими длинами горизонтальных проложений в ведомости координат. Допустимые

расхождения не должны превышать удвоенной точности масштаба плана, т.е. 0,2 м.

Точки накалывают иглой измерителя (накол - слабый укол иглой бумаги, расположенной на твёрдой поверхности) и подписывают (см. рис. 9 и 10): слева – номер точки; справа – высотная отметка точки, которую выписывают из журнала съёмочных пикетов. Точки соединяют тонкими линиями, карандашом твердости 2Т, 3Т, доводя их до условного знака точки.



**Рис. 10. Условные знаки точек (вершин) геодезической сети**

#### **4. Накладка на план контуров и предметов местности**

Перед накладкой контуров и предметов местности следует внимательно изучить *топографические условные*

**знаки**, т.е. условные графические обозначения, надписи и цифровые характеристики, применяемые для изображения, а также для количественной и качественной характеристик объектов местности на топографических планах и картах.

- 12 -

В настоящее время действуют "Условные знаки" [2]. В контрольной работе используется лишь незначительная часть условных знаков.

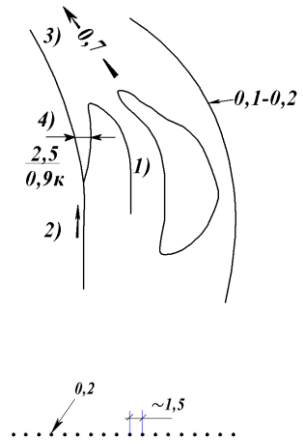
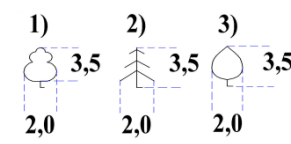
На рис. 11 и 12 приведены схематические чертежи местности (**абрисы**), составленные при выполнении теодолитной и тахеометрической съёмках. Контурные, предметы местности, а также рельеф должны быть изображены на плане в соответствии с этими чертежами и условными знаками.

Таблица 2

### Условные знаки

<b>Но ме р зн ак а</b>	<b>Название и характеристика топографических объектов</b>	<b>Условные знаки топографических объектов для планов масштабов 1:1000, 1:500</b>
--	---	---

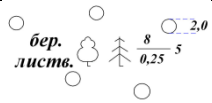
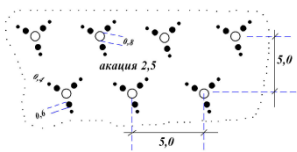
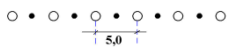
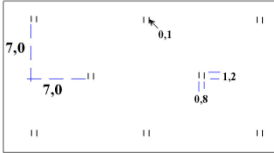


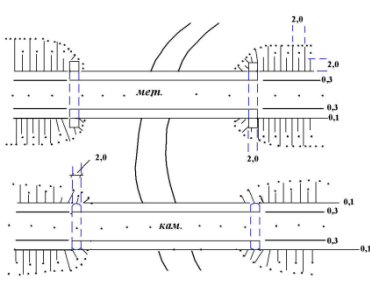
<p>1</p>	<p>Реки и ручьи:</p> <p>1) ширина выражается в масштабе плана,</p> <p>2) ширина не выражается в масштабе плана.</p> <p>Характеристики водотоков:</p> <p>3) направление и скорость течения в м/с</p> <p>4) ширина, глубина в метрах и грунт дна (при сочетании характеристик – ширина в числителе, глубина и грунт дна – в знаменателе)</p>	<p><b>Гидрография</b></p>  <p><b>Древесная растительность</b></p>  <p>По составу:</p> $\frac{12}{0,15} 3$
<p>2</p>	<p>Контуры растительности, сельскохозяйственных угодий, грунтов и др.</p>	
<p>3</p>	<p>Характеристики лесных древостоев:</p>	

	<p>1)лиственные, 2)хвойные, 3)смешанные</p> <p>По метрическим данным:</p> <p>слева - в числителе дроби - средняя высота в метрах;</p> <p>в знаменателе – средняя толщина стволов, м;</p> <p>справа – среднее расстояние между деревьями, м</p>	
--	--	--

продолжение табл. 2

<b>Ном</b>	<b>Название и</b>	<b>Условные знаки</b>
------------	-------------------	-----------------------

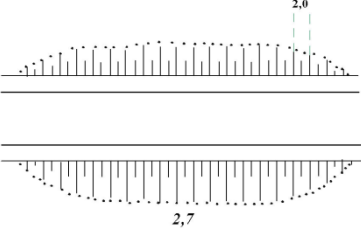
ер зна ка	характеристика топографических объектов	топографических объектов для планов масштабов 1:1000, 1:500
4	Леса естественные высокоствольные	
5	Кустарники: 1) заросли; 2) полосы кустарников и жи- вые изгороди	1)  2)  <b>Растительность травная (разнотравье)</b> 
6	Растительность травная, луговая	<b>Мосты, путепроводы и</b>

		<p style="text-align: center;"><b>переправы</b></p> 
7	<p>Мосты металлические однопролётные</p>	
8	<p>Мосты каменные, бетонные, железобетонные</p>	

продолжение табл. 2

<b>Номер знака</b>	<b>Название и характеристика топографических объектов</b>	<b>Условные знаки топографических объектов для планов масштабов 1:1000, 1:500</b>
------------------------	---	---

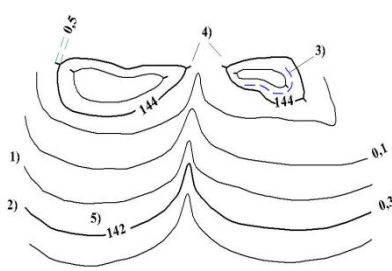
<p>9</p>	<p>Автомобильные с усовершенствованным покрытием (усовершенствованные шоссе): 1) проезжая часть; 2) разделительная линия полос движения; 3) материал покрытия (А–асфальт, асфальтобетон, Б–булыжник, Бм–битумоминеральная смесь, Бр–брусчатка, Г–гравий, К–камень колотый, Ц–цементобетон, Шл – шлак,</p>	<p><i>Автомобильные и грунтовые дороги, тропы</i></p>
<p>10</p>	<p>Щ – щебень); 4) кювет</p> <p>Дороги грунтовые</p>	

<p>11</p>	<p>Тропы: выючные и пешеходные</p>	
<p>12</p>	<p>Дороги по насыпям и дамбам (цифры-высоты насыпей в м)</p>	

окончание табл. 2

Но мер зна ка	Название и характеристика топографических объектов	Условные знаки топографических объектов для планов масштабов 1:1000, 1:500
13	<p>Линии электропередачи:</p> <p>1) на незастроенной территории</p> <p>2) на застроенной территории</p>	<p>The drawing shows four symbols for power lines:</p> <ul style="list-style-type: none"> <li>Symbol 1: A horizontal line with a circle at the left end and an arrow pointing right. Above the line is '380 в' and below is '6 пр.'. To the left of the circle is a vertical dimension line with '1,0' above and '8,0' below. To the right of the line is a dimension '0,2'.</li> <li>Symbol 2: A horizontal line with a circle at the left end and an arrow pointing right. Above the line is '1,0' and below is '8,0'. To the right of the line is a dimension '0,2'.</li> <li>Symbol 3: A horizontal line with a circle at the left end and a solid dot at the right end. Above the line is '8 пр.' and below is 'т.сл.ф.'. To the left of the circle is a vertical dimension line with '1,0' above and '8,0' below. To the right of the line is a dimension '0,15'.</li> <li>Symbol 4: A horizontal line with a circle at the left end and a solid dot at the right end. Above the line is 'каб.' and below is 'V'. To the left of the circle is a vertical dimension line with '1,0' above and '8,0' below. To the right of the line is a dimension '0,3'.</li> </ul>
14	<p>Линии связи и технических средств управления:</p>	<p>The drawing shows one symbol for communication lines:</p> <ul style="list-style-type: none"> <li>Symbol 3: A horizontal line with a circle at the left end and a solid dot at the right end. Above the line is '1,0' and below is '8,0'. To the right of the line is a dimension '0,15'.</li> </ul>



<p>15</p>	<p>1)воздушные проводные незастроенных территориях</p>	<p>на</p>
	<p>2)воздушные кабельные незастроенных территориях</p>	<p>на</p>
	<p>3)воздушные проводные застроенных территориях</p>	<p>на</p>
<p>15</p>	<p>Горизонтали:</p> <p>1)основные (через заданный интервал сечения рельефа)</p> <p>2)утолщенные (через заданный интервал основного сечения)</p> <p>3)дополнительные (полугори-зонтали — на половине высоты основного сечения)</p>	<p style="text-align: center;"><b>Рельеф</b></p>  <p style="text-align: center;"> <math>0,8 \text{ --- } \textcircled{\phantom{0}} \text{ --- } \frac{15}{343,7} \text{ --- } 2,0</math>  <math>2,0</math> </p>

16	<p>4)указатели направления скатов (бергштрихи)</p> <p>5)надписи горизонталей, м</p> <p>Съёмочный пикет:</p> <p>числитель - номер пикета,</p> <p>знаменатель — высотная отметка, м</p>	
----	---	--



*Рис. 11. Абрис теодолитной съёмки*

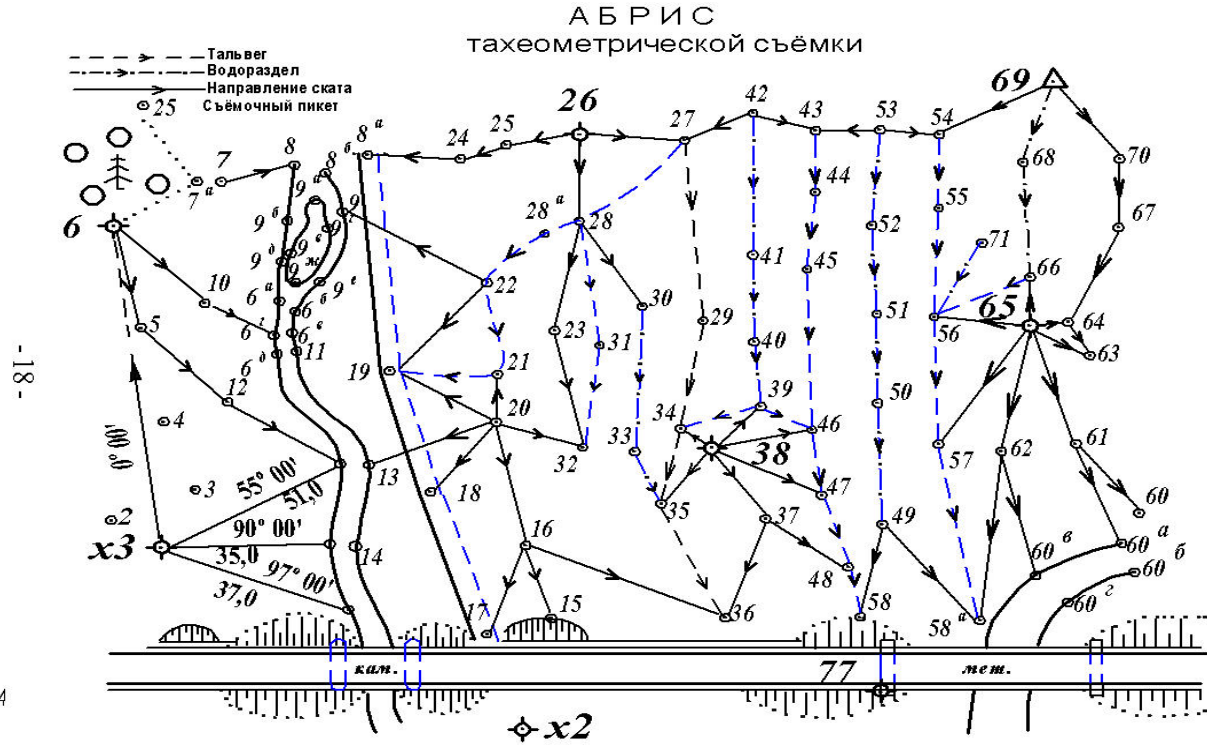


Рис. 12. Абрис тахеометрической



**Вычерчивание на плане шоссе.** На местности шоссе было снято способами теодолитной съёмки: перпендикуляров, полярным и створов. Для построения изображения шоссе на плане необходимы, поэтому, следующие чертёжные принадлежности: топографический транспортир, прямоугольный треугольник, линейка с миллиметровой шкалой, циркуль-измеритель, масштабная линейка, карандаши твёрдости 2Т и Т, карандашная резинка (ластик). По линии  $x_2 - x_3$  (см. рис. 11) в масштабе плана от точки  $x_2$  откладывают отрезки: 54,2; 56,3; 62,3; 64,3; 65,3 метров. Тонкой линией соединяют точку № 77 с концом отрезка 54,2 м. На этой линии от точки № 77 отложить отрезки: 8,0; 25,0; 41,0; 58,0; 71,0; 83,0; 98,0; 108,0 м. Из точек-концов полученных отрезков, включая точку № 77, восстанавливают перпендикуляры в сторону северной рамки плана. Перпендикуляры лучше прочертить иглой измерителя или остро заточенным карандашом. След от карандаша должен быть слабым, так как после построения его убирают резинкой.

На перпендикулярах от оснований откладывают отрезки до точек, возле которых на абрисе (см. рис. 11) стоят числа, соответствующие на местности расстояниям до этих точек.

Против отсчетов по лимбу транспортира:  $64^\circ 30'$ ,  $90^\circ$  и  $123^\circ$  намечают карандашом небольшие штрихи. Через точку № 77 и эти штрихи прочерчивают линии, как было описано выше, и от точки № 77 откладывают отрезки в масштабе плана:

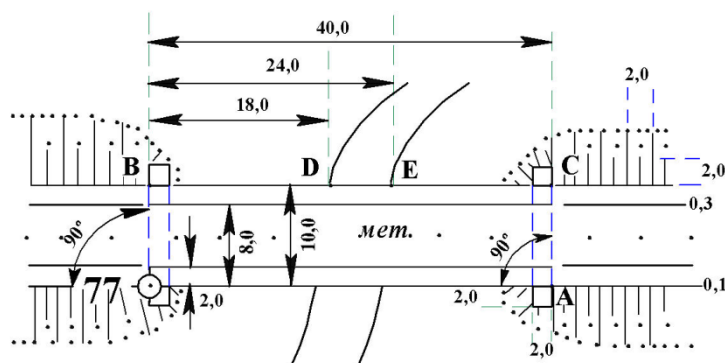
- на первой линии 40 м,
- на второй 12,8 и 20,0 м,
- на третьей 12,8 и 19,2 м.

Полученные точки соответствуют на местности:

первая – краю опоры моста, обращенной к берегу,

остальные - точкам береговых линий реки.

Откладывают на перпендикулярах в точках № 77 и "А" (рис. 14) от оснований отрезки: 2,0; 8,0 и 10,0 м.



**Рис. 14. Построение металлического моста и береговых линий**

Полученные точки "В" и "С" соответствуют на местности краям опор моста, обращенным к берегам реки. От точки "В", как от начала, откладывают отрезки, соответствующие на местности расстояниям 18,0 и 24,0 метров. Точки "D" и "Е" – точки береговых линий реки.

От точки геодезического обоснования  $x_1$  к точке № 77 (рис. 15) откладывают отрезки, соответствующие на местности расстояниям: 32,0; 48,0; 58,3 м. Концы отрезков в 48,0 и 58,3 м являются на местности точками береговых линий. Конец отрезка в 32,0 м соединить линией с точкой геодезического обоснования  $x_2$ .

Из полученных точек G, H, K восстанавливают перпендикуляры. На перпендикулярах откладывают отрезки, длины которых в метрах приведены на рис. 11 и 15. Концы отрезков соответствуют на местности точкам береговых линий.

От точки геодезического обоснования  $x_2$  на линии  $x_2 - 38$  откладывают отрезки: 8,4; 14,8; 26,0; 43,0; 54,4; 60,0 метров в масштабе плана. Концы отрезков – точки  $f, g, h, k$  – соответствуют на местности точкам береговых линий. Из точек  $a$  и  $b$  восстанавливают перпендикуляры, на которых откладывают отрезки:  $ae = 14,0$ ;  $bc = 6,6$ ;  $bd = 10,2$  м в масштабе плана. Концы отрезков  $c, d, e$  – точки береговых линий.

Построение изображения каменного моста и точек береговых линий у моста выполняют в следующей последовательности.

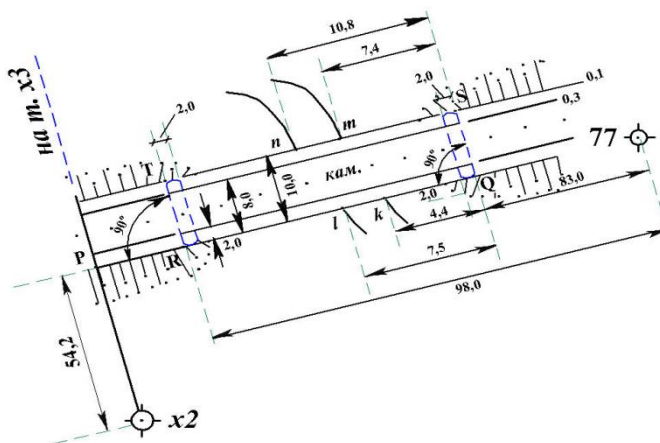
По линии  $77 - P$  (рис.16) концы отрезков  $Q$  и  $R$ , равных на местности расстояниям от точки № 77 соответственно 83,0 и 98,0 м, обозначают края опор моста, обращенные к берегу. Восстановив в точках  $R$  и  $Q$  перпендикуляры, откладывают на них отрезки, соответствующие на местности по 10 м. Полученные точки  $S$  и  $T$  на местности соответствуют граням моста, обращенным к берегу.

-17-

От точки  $S$  к точке  $T$  откладывают отрезки 7,4 и 10,8 м. От точки  $Q$  к точке  $R$  откладывают отрезки 4,4 и 7,5 метров. Точки  $k, l, m, n$  соответствуют на местности точкам береговых линий реки.

*Примечание.* Все вспомогательные линии, размеры отрезков, обозначения точек - на топографическом плане не изображаются. Береговые линии рек, контуры угодий, откосов, тропы – проводятся от руки, без линейки. Прямые линии дорог, линий связи и электропередачи проводят по линейке.





**Рис. 16. Построение каменного моста**

### 5. Накладка на план съёмочных пикетов

Положение съёмочных пикетов относительно точек съёмочного геодезического обоснования при тахеометрической съёмке определяется в системе полярных координат.

#### Основные определения.

**Съёмочная точка** – точка геодезического обоснования (станция), с которой выполняется съёмка участка местности (набор съёмочных пикетов).

**Съёмочный пикет** – точка поверхности Земли, положение которой определяется относительно съёмочных точек в процессе съёмки.

**Абрис** – схематический чертеж участка местности.

Для накладки на план съёмочных пикетов необходимы следующие принадлежности:

- 1) масштабная линейка;
- 2) циркуль – измеритель;
- 3) карандаши твёрдости М, ТМ, 2Т;
- 4) треугольник;
- 5) линейка с миллиметровой шкалой;
- 6) карандашная резинка (ластик).

Накладку съёмочных пикетов выполняют по результатам вычислений в полевом журнале съёмочных пикетов [1], описания пикетов и абриса тахеометрической съёмки (см. рис. 12).

Рассмотрим накладку пикетов, съёмка которых выполнена со станции № 69. Исходные данные для накладки приведены во фрагменте журнала тахеометрической съёмки (табл. 3).

Лимб теодолита при съёмке был ориентирован по линии 69-65, поэтому транспортир располагают так, чтобы центр его совпал с точкой № 69, а диаметр  $0^\circ - 180^\circ$  был совмещён

с линией 69–65, причем цифра  $0^\circ$  диаметра (см. рис. 17) была обращена к точке № 65. На плане против отсчетов по лимбу транспортира:  $51^\circ 15'$ ,  $37^\circ 46'$ ,  $25^\circ 15'$ ,  $29^\circ 30'$ , соответствующих отсчетам по горизонтальному кругу при визировании на съемочные пикеты, – остро заточенным карандашом прочерчивают короткие штрихи, которые подписывают числами 53, 54, 55 и 52, соответствующими номерам съемочных пикетов. Если отсчеты по горизонтальному кругу теодолита больше  $180^\circ$ , транспортир располагают так, чтобы число  $180^\circ$  диаметра лимба транспортира было обращено к точке № 65 (см. рис. 18).

В этом случае отсчет по лимбу транспортира следует вычислить как: отсчет по горизонтальному кругу теодолита минус  $180^\circ$ .

## **6. Интерполирование горизонталей**

Основные определения.

**Горизонталь** – линия равных высот точек местности на плане или карте.

**Высота сечения рельефа** – заданное расстояние между соседними секущими уровнями поверхностями при изображении рельефа горизонталями.

**Заложение** – расстояние на плане или карте между двумя последовательными горизонталями по заданному направлению.

-18-

**Заложение ската** – заложение по направлению, нормальному к горизонталям.

**Интерполирование горизонталей** – определение следов горизонталей на отрезке линии между двумя съёмочными пикетами.

Высота сечения рельефа в контрольной работе принята равной 0,5 м. Существует несколько методов интерполирования горизонталей. Приведем два из них.

### **6.1. Аналитический метод интерполирования горизонталей**

В основе интерполирования – метод деления отрезка на пропорциональные части. Требуется найти следы горизонталей, кратных 0,5 м на отрезке прямой, если высоты концов отрезка известны.

Совмещают начало миллиметровой шкалы линейки с точкой, имеющей меньшую высоту. Вычисляют разность высот съемочных пикетов

$$h_0 = H_{70} - H_{67} = 713,4 - 709,4 = +4,0 \text{ м.}$$

Измеряют расстояние  $d_0$  между точками № 67 и № 70 в миллиметрах. Составляют пропорции:

$$\frac{d_0}{h_0} = \frac{d_i}{h_i},$$

(6.1)

где  $h_i$  – превышение каждой горизонтали относительно точки № 67, т.е.

$h_i = H_i - H_{67}$ ;  $d_i$  – расстояния в мм от точки № 67 до каждой горизонтали на отрезке 67 – 70. В нашем примере высоты  $H_i$  горизонталей следующие: 709,5; 710,0; 710,5; 711,0; 711,5; 712,0; 713,0 м.

На рис. 20  $d_0 = 56,0$  мм. Из пропорции 6.1 получим

$$d_i = \frac{d_0}{h_0} h_i,$$

(6.2)

где  $i$  – номер горизонтали. Первая горизонталь от точки № 67 будет отстоять на расстоянии  $d_1 = \frac{56,0}{4,0} \cdot h_1$ . Если  $h_1 = 709,5 - 709,4 = 0,1$  м., то  $d_1 = \frac{56,0}{4,0} \cdot 0,1 = 1,4$  мм.

Расстояния остальных горизонталей от точки №67 следующие:  $d_2 = 8,4$  мм,  $d_3 = 15,4$  мм,  $d_4 = 22,4$  мм,  $d_5 = 29,4$  мм,  $d_6 = 36,4$  мм,  $d_7 = 43,4$  мм,  $d_8 = 50,4$  мм. Штрихи, которыми на рис.20 отмечены концы отрезков длиной  $d_1, \dots, d_8$ , есть следы искомым горизонталей.

## 6.2. Графический метод интерполирования горизонталей – при помощи палетки.

На листе прозрачной бумаги – кальке, размером  $100 \times 120$  мм, вычерчивают ряд тонких линий, отстоящих одна от другой на расстоянии три миллиметра (рис. 21). На концах линии подписывают. Для интерполирования горизонталей между точками № 67 и № 70 палетку накладывают на план так, чтобы точка №67 с отметкой  $H_{67} = 709,4$  м располагалась между линиями палетки 9,0 и 9,5, причем расстояние до точки от линии 9,0 должно составлять (на глаз) 4:5 расстояния между линиями. В точке №67 палетку прижимают иглой измерителя к ватману. Поворачивают палетку вокруг иглы, как вокруг полюса, до тех пор, пока точка №70 не расположится между линиями 3,0 и 3,5 на расстоянии от линии 3,0, равном 4:5 расстояния между линиями. Так, как точка №70 по высоте находится в другом десятке метров ( $H_{70} = 713,3$  м), это следует учитывать при повороте палетки.

На палетку укладывают линейку так, чтобы её ребро было совмещено с точками №67 и №70. Прижав линейку к палетке, иглой измерителя накалывают точки пересечения ребра линейки и линий палетки. Убирают палетку. Через наколы, перпендикулярно линии 67 – 70, проводят карандашом штрихи – следы горизонталей.

## **7. Вычерчивание рамки. Зарамочное оформление.**

Завершением контрольной расчетно-графической работы является вычерчивание рамки топографического плана и зарамочное оформление.

На рис. 23 показан схематический чертеж рамки плана. На нем указаны отдельные части рамки, изображение которых детально, с соответствующими размерами, представлено в табл. 4 – 9.