

МИНИСТЕРСТВО НАУКИ И ВЫСШЕГО ОБРАЗОВАНИЯ  
РОССИЙСКОЙ ФЕДЕРАЦИИ



Федеральное государственное бюджетное образовательное учреждение  
высшего образования  
«Магнитогорский государственный технический университет им. Г.И. Носова»



УТВЕРЖДАЮ  
Директор ИИС  
И.Ю. Мезин

04.03.2021 г.

**РАБОЧАЯ ПРОГРАММА ДИСЦИПЛИНЫ (МОДУЛЯ)**

**ФИЗИКА**

Направление подготовки (специальность)  
08.03.01 Строительство

Направленность (профиль/специализация) программы  
Строительный инжиниринг

Уровень высшего образования - бакалавриат

Форма обучения  
очная

Институт/ факультет	Институт естествознания и стандартизации
Кафедра	Физики
Курс	1
Семестр	1, 2

Магнитогорск  
2021 год

Рабочая программа составлена на основе ФГОС ВО - бакалавриат по направлению подготовки 08.03.01 Строительство (приказ Минобрнауки России от 31.05.2017 г. № 481)


Рабочая программа рассмотрена и одобрена на заседании кафедры Физики  
18.02.2021, протокол № 5


Зав. кафедрой  М.Б. Аркулис


Рабочая программа одобрена методической комиссией ИЕиС  
04.03.2021 г. протокол № 7

Председатель  И.Ю. Мезин

Согласовано:  
Зав. кафедрой Строительного производства

 М.Б. Пермяков

Рабочая программа составлена:  
ст. преподаватель кафедры Физики, канд. физ.-мат. наук  
 И.Ю. Богачева

Рецензент:  
директор института САиИ, д-р техн. наук  О.С. Логунова

## Лист актуализации рабочей программы

---

Рабочая программа пересмотрена, обсуждена и одобрена для реализации в 2022 - 2023 учебном году на заседании кафедры Физики

Протокол от \_\_\_\_\_ 20\_\_ г. № \_\_\_\_  
Зав. кафедрой \_\_\_\_\_ М.Б. Аркулис

---

Рабочая программа пересмотрена, обсуждена и одобрена для реализации в 2023 - 2024 учебном году на заседании кафедры Физики

Протокол от \_\_\_\_\_ 20\_\_ г. № \_\_\_\_  
Зав. кафедрой \_\_\_\_\_ М.Б. Аркулис

---

Рабочая программа пересмотрена, обсуждена и одобрена для реализации в 2024 - 2025 учебном году на заседании кафедры Физики

Протокол от \_\_\_\_\_ 20\_\_ г. № \_\_\_\_  
Зав. кафедрой \_\_\_\_\_ М.Б. Аркулис

---

Рабочая программа пересмотрена, обсуждена и одобрена для реализации в 2025 - 2026 учебном году на заседании кафедры Физики

Протокол от \_\_\_\_\_ 20\_\_ г. № \_\_\_\_  
Зав. кафедрой \_\_\_\_\_ М.Б. Аркулис

### **1 Цели освоения дисциплины (модуля)**

Получение студентами основополагающих представлений о фундаментальном строении материи и физических принципах, лежащих в основе современной естественнонаучной картины мира; формирование у студентов современного естественнонаучного мировоззрения; развитие научного мышления и расширение научно-технического кругозора; овладение основными физическими категориями, понятиями и фундаментальными физическими законами; получение представлений о фундаментальных концепциях современного естествознания как результата исторического процесса; овладение приемами и методами решения конкретных задач из различных областей физики, умения выделить конкретное физическое содержание в прикладных задачах будущей профессиональной деятельности; формирование навыков проведения физического эксперимента, позволяющих им впоследствии овладеть комплексом компетенций, предусмотренных ФГОС ВО по направлению подготовки 08.03.01 «Строительство».

### **2 Место дисциплины (модуля) в структуре образовательной программы**

Дисциплина Физика входит в обязательную часть учебного плана образовательной программы.

Для изучения дисциплины необходимы знания (умения, владения), сформированные в результате изучения дисциплин/ практик:

Дисциплина «Физика» базируется на естественнонаучных дисциплинах: математика, физика, химия в объёме средней школы.

Знания (умения, владения), полученные при изучении данной дисциплины будут необходимы для изучения дисциплин/практик:

Соппротивление материалов

Строительная физика

Строительная механика

Инженерные системы и оборудование зданий

### **3 Компетенции обучающегося, формируемые в результате освоения дисциплины (модуля) и планируемые результаты обучения**

В результате освоения дисциплины (модуля) «Физика» обучающийся должен обладать следующими компетенциями:

Код индикатора	Индикатор достижения компетенции
ОПК-1	Способен решать задачи профессиональной деятельности на основе использования теоретических и практических основ естественных и технических наук, а также математического аппарата
ОПК-1.1	Определяет характеристики физического и химического процесса (явления), характерного для объектов профессиональной деятельности, на основе теоретических и экспериментальных исследований
ОПК-1.2	Использует теоретические основы технических наук для применения инновационных технологий на реальных строительных объектах
ОПК-1.3	Решает инженерные задачи с помощью математического аппарата векторной алгебры, аналитической геометрии и математического анализа
ОПК-1.4	Решает теоретические задачи в области теплотехники, гидравлики, теплообмена, используя фундаментальные знания

#### 4. Структура, объём и содержание дисциплины (модуля)

Общая трудоемкость дисциплины составляет 7 зачетных единиц 252 акад. часов, в том числе:

- контактная работа – 163,9 акад. часов;
- аудиторная – 158 акад. часов;
- внеаудиторная – 5,9 акад. часов;
- самостоятельная работа – 52,4 акад. часов;
- в форме практической подготовки – 0 акад. час;
- подготовка к экзамену – 35,7 акад. час

Форма аттестации - зачет, экзамен

Раздел/ тема дисциплины	Семестр	Аудиторная контактная работа (в акад. часах)			Самостоятельная работа студента	Вид самостоятельной работы	Форма текущего контроля успеваемости и промежуточной аттестации	Код компетенции
		Лек.	лаб. зан.	практ. зан.				
1. Физические основы механики								
1.1 Кинематика поступательного и вращательного движения	1	2		2	1	подготовка к практическому занятию; выполнение практических работ (ИДЗ); самостоятельное изучение учебной и научной литературы в том числе электронных ресурсов.	проверка индивидуальных задач; семинар № 1;	ОПК-1.1, ОПК-1.2, ОПК-1.3, ОПК-1.4
1.2 Динамика поступательного и вращательного движения		2	4/2,6И	2	1	подготовка к лабораторному, семинарскому и практическому занятию; выполнение практических работ (ИДЗ); самостоятельное изучение учебной и научной литературы в том числе электронных ресурсов.	проверка индивидуальных задач; защита лабораторных работ № 4; семинар № 2;	ОПК-1.1, ОПК-1.2, ОПК-1.3, ОПК-1.4

1.3 Законы сохранения в механике		4	6/3И	2/1И	2	подготовка к лабораторному, семинарскому и практическому занятию; выполнение практических работ (ИДЗ); самостоятельное изучение учебной и научной литературы в том числе электронных ресурсов.	проверка индивидуальных задач; защита лабораторной работы № 1; семинар № 3;	ОПК-1.1, ОПК-1.2, ОПК-1.3, ОПК-1.4
1.4 Механические колебания и волны		2	4/1И	1	1	подготовка к лабораторному, семинарскому и практическому занятию; выполнение практических работ (ИДЗ); самостоятельное изучение учебной и научной литературы в том числе электронных ресурсов.	проверка индивидуальных задач; защита лабораторных работ № 5, 7; семинар № 4;	ОПК-1.1, ОПК-1.2, ОПК-1.3, ОПК-1.4
1.5 Релятивистская механика		2		1/1И	2,1	подготовка к лабораторному, семинарскому и практическому занятию; выполнение практических работ (ИДЗ); самостоятельное изучение учебной и научной литературы в том числе электронных ресурсов.	проверка индивидуальных задач; отчет о выполнении виртуальной лабораторных работы № 1; семинар № 5;	ОПК-1.1, ОПК-1.2, ОПК-1.3, ОПК-1.4
Итого по разделу		12	14/6,6И	8/2И	7,1			
2. Статистическая физика и термодинамика								
2.1 Статистическая физика	1	2	4/1И	2/1И	2	подготовка к лабораторному, семинарскому и практическому занятию; выполнение практических работ (ИДЗ); самостоятельное изучение учебной и научной литературы в том числе электронных ресурсов.	проверка индивидуальных задач; защита лабораторной работы № 11; семинар № 6;	ОПК-1.1, ОПК-1.2, ОПК-1.3, ОПК-1.4

2.2 Термодинамика		4	4/2И	2/1И	2	подготовка к лабораторному, семинарскому и практическому занятию; выполнение практических работ (ИДЗ); самостоятельное изучение учебной и научной литературы в том числе электронных ресурсов.	проверка индивидуальных задач; защита лабораторной работы № 14; семинар № 7;	ОПК-1.1, ОПК-1.2, ОПК-1.3, ОПК-1.4
Итого по разделу		6	8/3И	4/2И	4			
3. Электричество и магнетизм								
3.1 Электростатическое поле в вакууме и в веществе		4	4/1И	2/1И	1	подготовка к лабораторному, семинарскому и практическому занятию; выполнение практических работ (ИДЗ); самостоятельное изучение учебной и научной литературы в том числе электронных ресурсов.	проверка индивидуальных задач; защита лабораторной работы № 21; семинар № 8;	ОПК-1.1, ОПК-1.2, ОПК-1.3, ОПК-1.4
3.2 Постоянный электрический ток	1	4	4/2И	2/1И	1	подготовка к лабораторному, семинарскому и практическому занятию; выполнение практических работ (ИДЗ); самостоятельное изучение учебной и научной литературы в том числе электронных ресурсов.	проверка индивидуальных задач; защита лабораторной работы № 24; семинар № 9;	ОПК-1.1, ОПК-1.2, ОПК-1.3, ОПК-1.4
3.3 Магнитостатическое поле в вакууме и в веществе		4		1	1	подготовка к семинарскому и практическому занятию; выполнение практических работ (ИДЗ); самостоятельное изучение учебной и научной литературы в том числе электронных ресурсов.	проверка индивидуальных задач; семинар № 10;	ОПК-1.1, ОПК-1.2, ОПК-1.3, ОПК-1.4

3.4 Электромагнитная индукция. Электромагнитные колебания. Переменный электрический ток		6	6/3И	1	2	подготовка к лабораторному, семинарскому и практическому занятию; выполнение практических работ (ИДЗ); самостоятельное изучение учебной и научной литературы в том числе электронных ресурсов.	проверка индивидуальных задач; защита лабораторных работ № 27, 28; семинар № 11;	ОПК-1.1, ОПК-1.2, ОПК-1.3, ОПК-1.4
Итого по разделу		18	14/6И	6/2И	5			
Итого за семестр		36	36/15,6И	18/6И	16,1		зачёт	
4. Оптика								
4.1 Волновая оптика (интерференция, дифракция, поляризация)	2	8	4/1И	4/2,6И	10	подготовка к лабораторному, семинарскому и практическому занятию; выполнение практических работ (ИДЗ); самостоятельное изучение учебной и научной литературы в том числе электронных ресурсов.	проверка индивидуальных задач; защита лабораторных работ № 32, 34, 35; семинар № 12;	ОПК-1.1, ОПК-1.2, ОПК-1.3, ОПК-1.4
4.2 Квантовая оптика		6	3/2И	2/1И	6	подготовка к лабораторному, семинарскому и практическому занятию; выполнение практических работ (ИДЗ); самостоятельное изучение учебной и научной литературы в том числе электронных ресурсов.	проверка индивидуальных задач; защита лабораторной работы № 36; семинар № 12;	ОПК-1.1, ОПК-1.2, ОПК-1.3, ОПК-1.4
Итого по разделу		14	7/3И	6/3,6И	16			
5. Физика атома								



5.1 Физика атома	2	6	3/1И	4/2И	4	подготовка к лабораторному, семинарскому и практическому занятию; выполнение практических работ (ИДЗ); самостоятельное изучение учебной и научной литературы в том числе электронных ресурсов.	проверка индивидуальных задач; защита лабораторных работ № 41, 42; семинар № 13;	ОПК-1.1, ОПК-1.2, ОПК-1.3, ОПК-1.4
Итого по разделу		6	3/1И	4/2И	4			
6. Физика твердого тела. Элементы квантовой физики								
6.1 Физика твердого тела. Элементы квантовой физики	2	6	3/1И	2/1И	6	подготовка к лабораторному, семинарскому; выполнение практических работ (ИДЗ); самостоятельное изучение учебной и научной литературы в том числе электронных ресурсов.	проверка индивидуальных задач; защита лабораторной работы № 44; семинар № 14;	ОПК-1.1, ОПК-1.2, ОПК-1.3, ОПК-1.4
Итого по разделу		6	3/1И	2/1И	6			
7. Физика ядра и элементарных частиц								
7.1 Физика ядра и элементарных частиц	2	8	4/1И	5/1И	10,3	подготовка к лабораторному, семинарскому и практическому занятию; выполнение практических работ (ИДЗ); самостоятельное изучение учебной и научной литературы в том числе электронных ресурсов.	проверка индивидуальных задач; защита лабораторной работы № 51, 53 семинар № 15;	ОПК-1.1, ОПК-1.2, ОПК-1.3, ОПК-1.4
Итого по разделу		8	4/1И	5/1И	10,3			
Итого за семестр		34	17/6И	17/7,6И	36,3		экзамен	
Итого по дисциплине		70	53/21,6 И	35/13,6 И	52,4		зачет, экзамен	

## **5 Образовательные технологии**

При реализации различных видов учебной работы наиболее эффективные результаты освоения дисциплины «Физика» дают традиционные образовательные технологии, технологии проблемного обучения, интерактивные технологии, информационно-коммуникационные образовательные технологии.

1. Формы учебных занятий с использованием традиционных технологий:

Информационная лекция – последовательное изложение материала в дисциплинарной логике, осуществляемое преимущественно вербальными средствами (монолог преподавателя).

Семинар – беседа преподавателя и студентов, обсуждение заранее подготовленных сообщений по каждому вопросу плана занятия с единым для всех перечнем рекомендуемой обязательной и дополнительной литературы.

Практическое занятие, посвященное освоению конкретных умений и навыков по предложенному алгоритму.

Лабораторная работа – организация учебной работы с реальными материальными и информационными объектами, экспериментальная работа с аналоговыми моделями реальных объектов.

2. Формы учебных занятий с использованием технологий проблемного обучения:

Проблемная лекция – изложение материала, предполагающее постановку проблемных и дискуссионных вопросов, освещение различных научных подходов, авторские комментарии, связанные с различными моделями интерпретации изучаемого материала.

Практическое занятие в форме практикума – организация учебной работы, направленная на решение комплексной учебно-познавательной задачи, требующей от студента применения как научно-теоретических знаний, так и практических навыков.

3. Формы учебных занятий с использованием специализированных интерактивных технологий:

Лекция «обратной связи» – лекция-провокация (изложение материала с заранее запланированными ошибками), лекция-беседа, лекция-дискуссия.

Семинар-дискуссия – коллективное обсуждение какого-либо спорного вопроса, проблемы, выявление мнений в группе (межгрупповой диалог, дискуссия как спор-диалог).

4. Формы учебных занятий с использованием информационно-коммуникационных технологий:

Лекция-визуализация – изложение содержания сопровождается презентацией (демонстрацией учебных материалов, представленных в различных знаковых системах, в т.ч. иллюстративных, графических, аудио- и видеоматериалов).

Практическое занятие в форме презентации – представление результатов проектной или исследовательской деятельности с использованием специализированных программных сред.

## **6 Учебно-методическое обеспечение самостоятельной работы обучающихся**

Представлено в приложении 1.

## **7 Оценочные средства для проведения промежуточной аттестации**

Представлены в приложении 2.

## **8 Учебно-методическое и информационное обеспечение дисциплины (модуля)**

### **а) Основная литература:**

1. Демидченко, В. И. Физика : учебник / В.И. Демидченко, И.В. Демидченко. —

6-е изд., перераб. и доп. — Москва : ИНФРА-М, 2020. — 581 с. + Доп. материалы [Электронный ресурс]. — (Высшее образование: Бакалавриат). - ISBN 978-5-16-010079-1. - Текст : электронный. - URL: <https://znanium.com/catalog/product/1239249> (дата обращения: 23.04.2021). — Режим доступа: по подписке.

2. Кузнецов, С. И. Физика: Механика. Механические колебания и волны. Молекулярная физика. Термодинамика : учеб. пособие / С.И. Кузнецов. — 4-е изд., испр. и доп. — М. : Вузовский учебник : ИНФРА-М, 2018. — 248 с. - ISBN 978-5-9558-0317-3. - Текст : электронный. - URL: <https://znanium.com/catalog/product/956681> (дата обращения: 23.04.2021). — Режим доступа: по подписке.

3. Кузнецов, С. И. Физика: Основы электродинамики. Электромагнитные колебания и волны : учеб. пособие / С.И. Кузнецов. — 4-е изд., испр. и доп. — М. : Вузовский учебник : ИНФРА-М, 2018. — 231 с. - ISBN 978-5-9558-0332-6. - Текст : электронный. - URL: <https://znanium.com/catalog/product/956679> (дата обращения: 23.04.2021). — Режим доступа: по подписке.

4. Кузнецов, С. И. Физика. Волновая оптика. Квантовая природа излучения. Элементы атомной и ядерной физики : учебное пособие / С. И. Кузнецов, А. М. Лидер. — 3-е изд., перераб. и доп. — Москва : Вузовский учебник : ИНФРА-М, 2019. — 212 с. - ISBN 978-5-9558-0350-0. - Текст : электронный. - URL: <https://znanium.com/catalog/product/1002478> (дата обращения: 23.04.2021). — Режим доступа: по подписке.

#### **б) Дополнительная литература:**

1. Иродов, И.Е. Задачи по общей физике [Текст] : учеб. пособие / И.Е. Иродов. — 12-е изд., стер. — СПб.: Лань, 2007. — 416 с.: ил. — (Учебники для вузов. Специальная литература). — ISBN 978-5-8114-0319-6.

2. Чертов, А.Г. Задачник по физике [Текст] : учеб. пособие / А.Г. Чертов, А.А. Воробьев. — 8-е изд., перераб. и доп. — М. : Физматлит, 2008. — 640 с.: ил. — ISBN 9875-94052-145-2.

3. Решение задач по курсу общей физики [Текст]: учеб. пособие / [Н.М. Рогачев, Г.Ю. Баландина, И.П. Завершинский и др.]; под ред. Н.М. Рогачева. — 2-е изд., испр. — СПб.: Лань, 2008. — 304 с.: ил. — (Учебники для вузов. Специальная литература)

4. Кузнецов, С. И. Справочник по физике : учеб. пособие / С. И. Кузнецов, К. И. Рогозин. - Томск : Изд-во Томского политех. университета, 2014. - 220 с. - ISBN 978-5-4387-0443-0. - Текст : электронный. - URL: <https://znanium.com/catalog/product/675274> (дата обращения: 23.04.2021). — Режим доступа: по подписке.

#### **в) Методические указания:**

1. Механика. Молекулярная физика и термодинамика [Текст] : лабораторный практикум по физике / Е.Н. Астапов [и др.]; под ред. Ю.П. Кочкина. — Магнитогорск: Изд-во Магнитогорск. гос. техн. ун-та им. Г.И. Носова, 2011. — 103 с.

2. Электростатика. Постоянный ток [Текст] : Лабораторный практикум по физике / М.В. Вечеркин [и др.]. — Магнитогорск: Изд-во Магнитогорск. гос. техн. ун-та им. Г.И. Носова, 2011. — 60 с.

3. Электромагнетизм. Оптика [Текст] : лабораторный практикум по дисциплине «Физика» для студентов всех специальностей / М.Б. Аркулис [и др.]. — Магнитогорск: ГОУ ВПО «МГТУ», 2009. — 102 с.

4. Савченко, Ю.И. Переменный ток [Электронный ресурс] : лабораторный практикум / Ю.И. Савченко, О.Н. Вострокнутова, Н.И. Мишенева ; МГТУ. — Магнитогорск : МГТУ, 2018. — 1 электрон. Опт. Диск (CD-ROM). — ISBN

978-5-9967-1151-2.

5. Физика атома, твердого тела, ядра: инструкция по выполнению лабораторных работ по физике для студентов всех специальностей / В.К. Белов [и др.]. – Магнитогорск: ГОУ ВПО «МГТУ», 2007. – 48 с.

**г) Программное обеспечение и Интернет-ресурсы:**

**Программное обеспечение**

Наименование ПО	№ договора	Срок действия лицензии
MS Windows 7 Professional(для классов)	Д-1227-18 от 08.10.2018	11.10.2021
MS Office 2007 Professional	№ 135 от 17.09.2007	бессрочно
7Zip	свободно распространяемое	бессрочно
Adobe Design Premium CS 5.5 Academic Edition	К-615-11 от 12.12.2011	бессрочно

**Профессиональные базы данных и информационные справочные системы**

Название курса	Ссылка
Электронные ресурсы библиотеки МГТУ им. Г.И. Носова	<a href="http://magtu.ru:8085/marcweb2/Default.asp">http://magtu.ru:8085/marcweb2/Default.asp</a>
Федеральное государственное бюджетное учреждение «Федеральный институт промышленной собственности»	URL: <a href="http://www1.fips.ru/">http://www1.fips.ru/</a>
Национальная информационно-аналитическая система – Российский индекс научного цитирования (РИНЦ)	URL: <a href="https://elibrary.ru/project_risc.asp">https://elibrary.ru/project_risc.asp</a>
Информационная система - Единое окно доступа к информационным ресурсам	URL: <a href="http://window.edu.ru/">http://window.edu.ru/</a>
Поисковая система Академия Google (Google Scholar)	URL: <a href="https://scholar.google.ru/">https://scholar.google.ru/</a>
Электронная база периодических изданий East View Information Services, ООО «ИВИС»	<a href="https://dlib.eastview.com/">https://dlib.eastview.com/</a>

**9 Материально-техническое обеспечение дисциплины (модуля)**

Материально-техническое обеспечение дисциплины включает:

Лекционная аудитория включает:

Мультимедийные средства хранения, передачи и представления информации.

Лаборатория «Механики, молекулярной физики и термодинамики» включает:

1. Баллистические маятники.
2. Маятник Обербека.
3. Физический маятник.
4. Доска Гальтона.
5. Лабораторная установка для исследования распределения термоэлектронов по модулю их скорости.
6. Лабораторная установка для определения показателей адиабаты  $\gamma$  методом Клемана и Дезорма.
7. Лабораторная установка для проверки закона возрастания энтропии в процессе диффузии газов на модели перемешивания шаров.
8. Лабораторная установка для проверки законов возрастания энтропии в процессе теплообмена.
9. Установка лабораторная для изучения зависимости скорости звука от температуры "МФ-СЗ-М"
10. Установка лабораторная для исследования теплоемкости твердого тела "МФ-ТЕТ-М".
11. Установка лабораторная для определения универсальной газовой постоянной "МФ-ОГП-М".
12. Стенд лабораторный газовые процессы.
13. Мерительный инструмент.

Лаборатория «Электричества и оптики» включает:

1. Лабораторная установка для исследования электростатического поля с помощью одинарного зонда.
2. Установка для шунтирования миллиамперметра.
3. Установка лабораторная для определения индуктивности соленоида и магнитной проницаемости.
4. Установка лабораторная для изучения резонанса напряжений и определения индуктивности
5. Лабораторная установка для изучения длины световой волны и характеристик дифракционной решетки.
6. Лабораторная установка для определения радиуса кривизны линзы и длины световой волны с помощью колец Ньютона.
7. Лабораторная установка для определения концентрации растворов сахара и постоянной вращения.
8. Мерительный инструмент.

Лаборатория «Атома, твердого тела, ядра» включает:

1. Лабораторная установка для изучения внешнего фотоэффекта.
2. Установка для изучения спектра атома водорода и определения постоянной Ридберга.
3. Установка лабораторная для определения потенциала возбуждения газа.
4. Установка для определения длины пробега частиц в воздухе.
5. Мерительный инструмент.

Аудитории для групповых и индивидуальных консультаций, текущего контроля и промежуточной аттестации включают: интерактивная доска, проектор;

Мультимедийный проектор, экран.

Аудитории для самостоятельной работы с выходом в Интернет и с доступом в электронную информационно-образовательную среду университета.

компьютерные классы; читальные залы библиотеки Персональные компьютеры с пакетом MS Office, с выходом в Интернет и с доступом в электронную информационно-образовательную среду университета включают: персональные компьютеры с пакетом MS Office.

Помещение для хранения и профилактического обслуживания учебного оборудования включают: стеллажи, сейфы для хранения учебного оборудования. Инструменты для ремонта оборудования.

## Приложение 1

### Учебно-методическое обеспечение самостоятельной работы обучающихся

По дисциплине «Физика» предусмотрена аудиторная и внеаудиторная самостоятельная работа обучающихся.

Аудиторная самостоятельная работа студентов предполагает решение контрольных задач на практических занятиях.

#### Примерные аудиторные контрольные работы (АКР):

##### 1 семестр

#### Контрольная работа № 1 «Физические основы механики»

**Задание 1.** Радиус-вектор частицы определяется выражением  $\vec{r} = 3t^2\vec{i} + 4t^2\vec{j} + 7\vec{k}$ , где  $\vec{i}, \vec{j}, \vec{k}$  - единичные вектора осей X, Y, Z. Вычислить: 1) путь S, пройденный частицей за первые 10с, 2) модуль перемещения  $\Delta r$  за тоже время, 3) ускорение частицы. Ответ: S=500м,  $\Delta r=500$ м,  $a=10$  м/с<sup>2</sup>.

**Задание 2.** Колесо вращается вокруг неподвижной оси так, что угол поворота зависит от времени по закону  $\varphi = 10 + 20 \cdot t - 2 \cdot t^2$ . Найти: 1) среднее значение угловой скорости  $\langle \omega \rangle$  за промежуток времени от t=0 до остановки; 2) угловое ускорение в момент остановки колеса; 3) полное ускорение точки, находящейся на расстоянии 0,1м от оси вращения для момента времени t=4 с. Ответ: 10 рад/с; -4 рад/с<sup>2</sup>; 1,65 м/с<sup>2</sup>.

**Задание 3.** По горизонтальной поверхности движется тело массой m=2 кг под действием силы F=8 Н, направленной под углом  $\alpha=60^\circ$  к горизонту. Найти расстояние, которое прошло тело, если его скорость увеличилась с 3 до 5 м/с, а коэффициент трения между телом и поверхностью равен  $\mu=0,1$ . Ответ: 5,9 м.

**Задание 4.** Шар массой  $m_1=5$  кг движется со скоростью  $V_1=1$  м/с и сталкивается с покоящимся шаром массой  $m_2=2$  кг. Определите скорости шаров после удара. Удар считать упругим, прямым и центральным. Ответ: 0,43 м/с, 1,43 м/с.

**Задание 5.** Уравнение колебаний точки имеет вид:  $x = A \cdot \cos \omega(t + \tau)$ , где A=0,02 м,  $\omega = \pi$  с<sup>-1</sup>,  $\tau = 0,2$  с. Определить период, начальную фазу колебаний точки и её ускорение в момент времени 1 с. Ответ: T=2 с;  $\varphi_0=0,2\pi$  рад;  $a=0,16$  м/с<sup>2</sup>.

#### Контрольная работа № 2 «Статистическая физика и термодинамика»

**Задание 1.** Найдите для газообразного азота температуру, при которой скоростям молекул  $v_1 = 300$  м/с и  $v_2 = 600$  м/с соответствуют одинаковые значения функции распределения Максвелла  $f(V)$ . Ответ:  $T = \frac{m(V_2^2 - V_1^2)}{4k \ln(V_2/V_1)} = 330$  К.

**Задание 2.** Идеальный двухатомный газ объемом 5 л и давлением  $10^6$  Па изохорически нагрели, в результате чего средняя кинетическая энергия его молекул увеличилась от 0,0796 эВ до 0,0923 эВ. На сколько при этом измениться давление газа? В дальнейшем газ изотермически расширили до начального давления. Определите объем газа в конце процесса. Ответ: увеличится на 0,16 МПа; 5,8 л.

**Задание 3.** Определите коэффициент теплопроводности  $\lambda$  азота, если коэффициент динамической вязкости  $\eta$  для него при тех же условиях равен 10 мкПа·с. Ответ:  $\lambda=7,42$  мВт/м·К.

**Задание 4.** 12 г азота находятся в закрытом сосуде объемом 2 л при температуре 10°C. После нагревания давление в сосуде стало равно  $10^4$  мм.рт.ст. Какое количество тепла было сообщено газу при нагревании? Ответ:  $4,1 \cdot 10^3$  Дж.

**Задание 5.** Смешали воду массой  $m_1=5\text{кг}$  при температуре  $T_1=280\text{ К}$  с водой массой  $m_2=8\text{кг}$  при температуре  $T_2=350\text{ К}$ . Найти: 1) температуру  $\theta$  смеси; 2) изменение  $\Delta S$  энтропии, происходящее при смешивании. Ответ:  $323\text{ К}$ ;  $0,3\text{ кДж/К}$ .

### Контрольная работа № 3 «Электричество и магнетизм»

**Задание 1.** Электрическое поле создано двумя зарядами  $q_1=10\text{ нКл}$  и  $q_2=-20\text{ нКл}$ , находящимися на расстоянии  $d=20\text{ см}$  друг от друга. Определить напряженность поля в точке А, удаленной от первого заряда на расстояние  $r_1=30\text{ см}$  и от второго на  $r_2=50\text{ см}$ . Рассчитать работу, которую необходимо совершить, чтобы перенести точечный заряд  $q_0=5\cdot 10^{-4}\text{ Кл}$  из точки находящийся посередине между зарядами в точку А. Ответ:  $280\text{В/м}$ ,  $0,42\text{ Дж}$ .

**Задание 2.** Имеется предназначенный для измерения разности потенциалов до  $30\text{ В}$  вольтметр сопротивлением  $2\text{ кОм}$ , которого разделена на  $150$  делений. Какое сопротивление надо взять и как его включить, чтобы этим вольтметром можно было измерить разность потенциалов до  $75\text{ В}$ ? Как изменится при этом цена деления вольтметра? Ответ:  $3\text{ кОм}$ ,  $0,5\text{ В/дел}$ .

**Задание 3.** По проволочной рамке имеющей форму правильного шестиугольника, идет ток силой  $I=2\text{ А}$ . При этом в центре рамки образуется магнитное поле с напряженностью  $33\text{ А/м}$ . Найти длину проволоки, из которой сделана рамка. Ответ:  $l=0,2\text{ м}$ .

**Задание 4.** Проводящая рамка помещена в однородное магнитное поле с индукцией  $B=0,1\text{ Тл}$ . Плоскость рамки составляет с направлением магнитного поля угол  $\varphi=30^\circ$ . Площадь рамки  $S=20\text{ см}^2$ , сопротивление  $R=0,1\text{ Ом}$ . Магнитное поле равномерно уменьшается до нуля за время  $\Delta t=0,1\text{ с}$ . Определите: а) среднее значение э.д.с. индукции, возникающей в рамке; б) силу индукционного тока; в) заряд, который протечет по рамке за время уменьшения поля. Ответ:  $1\text{ мВ}$ ;  $10\text{ мА}$ ;  $10^{-3}\text{ Кл}$ .

**Задание 5.** Соленоид с индуктивностью  $L=7\text{ мГн}$  и активным сопротивлением  $R=44\text{ Ом}$  подключили к источнику постоянного напряжения  $U_0$ , а затем к генератору синусоидального напряжения с действующим значением напряжения  $U_d=U_0$ . При какой частоте генератора мощность, потребляемая соленоидом, будет в  $5$  раз меньше, чем в первом случае? Ответ:  $\nu=2\text{ кГц}$ .

## 2 семестр

### Контрольная работа № 4 «Оптика»

**Задание 1.** В опыте Юнга на пути одного из интерферирующих лучей помещалась тонкая стеклянная пластинка, вследствие чего центральная светлая полоса смещалась в положение первоначально занятое пятой светлой полосой(не считая центральной). Луч падает на пластинку перпендикулярно. Показатель преломления пластинки  $n=1,5$ . Длина волны света  $\lambda=6\cdot 10^{-7}\text{ м}$ . Какова толщина пластинки? Ответ:  $6\text{ мкм}$ .

**Задание 2.** Белый свет падает нормально на поверхность стеклянной пластинки толщиной  $d=0,4\text{ мкм}$ , находящейся в воздухе. Показатель преломления стекла  $n_{ст}=1,5$ . Определите: а) геометрическую и оптическую разность хода интерферирующих лучей в проходящем свете, б) длины волн, интенсивность которых ослабляется после прохождения пластинки. Считать, что видимая часть спектра лежит в интервале длин волн от  $0,4$  до  $0,7\text{ мкм}$ . Ответ:  $0,8\text{ мкм}$ ;  $1,2\text{ мкм}$ ;  $0,48\text{ мкм}$ .

**Задание 3.** На дифракционную решетку нормально падает пучок света. Красная линия с длиной волны  $\lambda=630\text{ нм}$  видна в спектре третьего порядка под углом  $\varphi=71^\circ$ . Какая спектральная линия видна под этим же углом в спектре четвертого порядка? Чему равна постоянная решетки? Сколько всего красных максимумов дает эта решетка? Ответ:  $473\text{ нм}$ ;  $2\text{ мкм}$ ,  $7$ .

**Задание 4.** Два поляризатора расположены так, что угол между их плоскостями пропускания равен  $25^\circ$ . Определить, во сколько раз уменьшится интенсивность естественного света при прохождении: 1) через один (первый) поляризатор, 2) через оба



поляризатора. Коэффициент поглощения света в поляризаторе равен 0,08. Ответ: 2,17; 2,88.

**Задание 5.** Какая доля энергии фотона израсходована на работу вырывания электрона, если красная граница фотоэффекта 307 нм и максимальная кинетическая энергия фотоэлектронов 1 эВ? Ответ: 0,8.

### Контрольная работа № 5 «Квантовая физика»

**Задание 1.** Черное тело имеет температуру 3 кК. При охлаждении тела длина волны, приходящаяся на максимум излучательной способности, изменилась на 8 мкм. До какой температуры охладилось тело? Ответ: 323К.

**Задание 2.** Электрон обладает кинетической энергией 30 эВ. Определить дебройлевскую длину волны электрона. Во сколько раз изменится эта длина волны, если кинетическая энергия уменьшится на 20%? Ответ:  $2,2 \cdot 10^{-10}$  м; 1,12.

**Задание 3.** При движении частицы вдоль оси  $x$  скорость ее может быть определена с точностью (ошибкой) до 1 см/с. Найти неопределенность координаты, если частицей является: 1) электрон, 2) дробинка массой 0,1г. Ответ: 0,01м;  $10^{-28}$  м.

**Задание 4.** Частица находится в бесконечно глубокой одномерной потенциальной яме минимальную энергию. Какова вероятность обнаружения частицы в средней трети ямы? Ответ: 0,609.

**Задание 5.** Определить длину волны, соответствующую третьей линии серии Бальмера: 1) В спектре излучения водорода, 2) В спектре излучения иона гелия. Ответ: 434нм, 109нм.

### Контрольная работа № 6 «Физика ядра и элементарных частиц»

**Задание 1.** Первоначальная масса изотопа иридия  ${}^{192}_{77}\text{Ir}$  равна  $m = 5$  г, период полураспада 75 суток. Определите, сколько ядер распадется за 1 секунду в этом препарате. Сколько атомов этого препарата останется через 30 суток и во сколько раз изменится активность препарата за это время? Ответ:  $1,67 \cdot 10^{15}$ ;  $1,2 \cdot 10^{22}$ ; 1,32.

**Задание 2.** Ядро бериллия-7  $\beta$ -радиоактивно по схеме К-захвата. Записать реакцию. Какие частицы при этом образовались?

**Задание 3.** Нейтринное излучение звезды может возникнуть за счет объединения двух протонов с образованием дейтона. Запишите реакцию. Какие частицы еще образуются в этой реакции?

**Задание 4.** Найти энергию связи ядра, которое имеет одинаковое число протонов и нейтронов и радиус, в полтора раза меньший радиуса ядра  ${}^{27}_{13}\text{Al}$ . Ответ:  ${}^8\text{Be}$ , 56, 5 МэВ.

**Задание 5.** Из первоначально свободных протонов и нейтронов образуется ядро углерода-12. Какая энергия при этом выделяется, как она называется? Если синтезировать таким образом 1 г углерода, то сколько всего выделится при этом энергии? Какому количеству нефти эта энергия эквивалентна? Ответ: 92,4 МэВ; 740 ГДж; 16 т.

Внеаудиторная самостоятельная работа обучающихся включает в себя: проработку лекционного материала, изучение литературы по соответствующему разделу; решение индивидуальных домашних задач, подготовку к выполнению лабораторных работ, подготовку к отчету по лабораторным работам, подготовку к семинарам.

### Примерные индивидуальные домашние задания (ИДЗ)

#### 1 семестр

#### Задача № 1 «Кинематика поступательного и вращательного движения»

Точка движется по окружности радиусом 4 м по закону  $S = A + Bt^2$ , где  $S$  – пройденный путь,  $A=8$  м,  $B=2$  м/с<sup>2</sup>,  $t$  – время. Определить, в какой момент времени

нормальное ускорение равно  $2 \text{ м/с}^2$ . Найти скорость, тангенциальное и полное ускорение точки в этот момент времени

### **Задача № 2 «Динамика поступательного движения»**

На обод маховика диаметром 60 см намотан шнур, к концу которого привязан груз с массой 2 кг. Определить момент инерции маховика, если он вращаясь равноускоренно под действием груза, за время  $t=3 \text{ с}$  приобрел угловую скорость  $9 \text{ рад/с}$ .

### **Задача № 3 «Динамика вращательного движения»**

На вал в виде цилиндра с горизонтальной осью вращения намотана невесомая нить, к концу ее прикреплен груз. Какую угловую скорость будет иметь вал спустя 2 с после начала движения груза, если масса вала 4 кг, его радиус 20 см, масса груза 0,2 кг, действием сил трения на движущиеся тела можно пренебречь

### **Задача № 4 «Законы сохранения в механике»**

Два малых по размеру груза массами  $m_1=10 \text{ кг}$  и  $m_2=15 \text{ кг}$  подвешены на нитях одинаковой длины  $L=2 \text{ м}$  в одной точке и соприкасаются между собой. Меньший груз был отклонен на угол  $\alpha=60^\circ$  и отпущен. Определите высоту, на которую поднимутся оба груза после абсолютно неупругого удара

### **Задача № 5 «Механические колебания»**

Период затухающих колебаний равен  $T = 4 \text{ с}$ , логарифмический декремент затухания 1,6; начальная фаза равна 0. Смещение точки в момент  $T/4$  равно 4,5 см. Написать уравнение колебаний и построить график в пределах трёх периодов

### **Задача № 6 «Релятивистская механика»**

В лабораторной системе отсчета одна из двух одинаковых частиц с массой  $m_0$  покоится, другая движется со скоростью  $v=0,8c$  по направлению к покоящейся частице. Определите релятивистскую массу движущейся частицы в лабораторной системе отсчета и ее кинетическую энергию

### **Задача № 7 «МКТ. Статистическая физика»**

В сосуде объемом 20 л находится смесь водорода и гелия под давлением 2 атм. Общая масса смеси 5 г. Известно, что средняя кинетическая энергия поступательного движения молекул смеси газов равна 0,038 эВ. Во сколько раз отличаются массы водорода и гелия в смеси?

### **Задача № 8 «Идеальный газ»**

3 моля азота плотностью  $\rho=1,25 \text{ кг/м}^3$  изохорно нагрели так, что его давление изменилась с  $1,1 \cdot 10^5 \text{ Па}$  до  $1,6 \cdot 10^5 \text{ Па}$ , а затем изобарно сжали до первоначальной температуры. Определите температуры в каждом из трех описанных состояний и конечный объем газа. Изобразите графики этих процессов в координатах P-T

### **Задача № 9 «Первое начало термодинамики»**

В результате изотермического расширения азота массой  $m=0,2 \text{ кг}$  при температуре  $T=280 \text{ К}$  объем его увеличивается в 2 раза. Определить: 1) работу  $A$ , совершенную газом при расширении; 2) изменение  $\Delta U$  внутренней энергии; 3) количество теплоты  $Q$ , полученное газом

### Задача № 10 «Второе начало термодинамики»

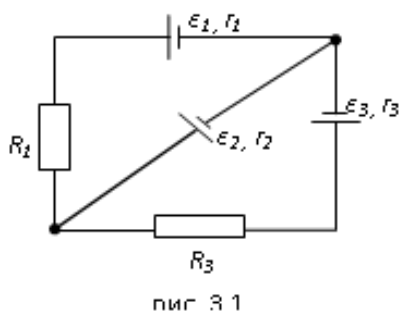
Кусок льда массой  $m = 200\text{ г}$ , взятый при температуре  $t_1 = -10\text{ C}^\circ$ , был нагрет до температуры  $t_2 = 0\text{ C}^\circ$  и расплавлен, после чего образовавшаяся вода была нагрета до температуры  $t_3 = 10\text{ C}^\circ$ . Определить изменение  $\Delta S$  энтропии в ходе указанных процессов.

### Задача № 11 «Электростатика»

Электрическое поле создано двумя зарядами  $q_1 = 10\text{ нКл}$  и  $q_2 = -20\text{ нКл}$ , находящимися на расстоянии  $d = 20\text{ см}$  друг от друга. Определить напряженность поля в точке А, удаленной от первого заряда на расстояние  $r_1 = 30\text{ см}$  и от второго на  $r_2 = 50\text{ см}$ . Рассчитать работу, которую необходимо совершить, чтобы перенести точечный заряд  $q_0 = 5 \cdot 10^{-4}\text{ Кл}$  из точки находящийся посередине между зарядами в точку А.

### Задача № 12 «Постоянный электрический ток»

На рис. 3.1.  $\varepsilon_1 = 1,0\text{ В}$ ,  $\varepsilon_2 = 2,0\text{ В}$ ,  $\varepsilon_3 = 3,0\text{ В}$ ,  $r_1 = 1,0\text{ Ом}$ ,  $r_2 = 0,5\text{ Ом}$ ,  $r_3 = 1/3\text{ Ом}$ ,  $R_1 = 1,0\text{ Ом}$ ,  $R_3 = 1/3\text{ Ом}$ . Определите: 1) силы тока во всех участках цепи; 2) тепловую мощность, которая выделяется на сопротивлении  $R_3$ .



### Задача № 13 «Электромагнетизм»

По двум бесконечно длинным прямым параллельным проводам, находящимся на расстоянии  $R = 10,0\text{ см}$  друг от друга в вакууме, текут токи  $I_1 = 20,0\text{ А}$  и  $I_2 = 30,0\text{ А}$  одинакового направления. Определите магнитную индукцию поля  $B$ , создаваемого токами в точках, лежащих на прямой, соединяющей оба провода, если: 1) точка С лежит на расстоянии  $r_1 = 2,0\text{ см}$  левее левого провода; 2) точка Д лежит на расстоянии  $r_2 = 3,0\text{ см}$  правее правого провода; 3) точка Г лежит на расстоянии  $r_3 = 4,0\text{ см}$  правее левого провода.

### Задача № 14 «Электромагнетизм»

Электрон, ускоренный напряжением  $U = 200\text{ В}$ , влетает в однородное магнитное поле с индукцией  $B = 0,7 \cdot 10^{-4}\text{ Тл}$  перпендикулярно силовым линиям. Найти радиус окружности, по которой движется электрон в магнитном поле и период его вращения. Ответ:  $R = 0,68\text{ м}$ ;  $T = 5,1 \cdot 10^{-7}\text{ с}$ .

### Задача № 15 «Электромагнитная индукция»

Проводящий плоский контур, имеющий форму окружности радиуса  $r = 0,05\text{ м}$  помещен в однородное магнитное поле так, что линии магнитной индукции поля направлены перпендикулярно плоскости контура. Сопротивление контура  $R = 5\text{ Ом}$ . Магнитная индукция меняется по закону  $B = kt$ , где  $k = 0,2\text{ Тл/с}$ . Определите: а) э.д.с. индукции, возникающую в этом контуре; б) силу индукционного тока; в) заряд, который протечет по контуру за первые 5 секунд изменения поля.

## 2 семестр

### Задача № 16 «Интерференция света от точечных источников»

В опыте Юнга на пути одного из интерферирующих лучей помещалась тонкая стеклянная пластинка, вследствие чего центральная светлая полоса смещалась в положение первоначально занятое пятой светлой полосой (не считая центральной). Луч падает на пластинку перпендикулярно. Показатель преломления пластинки  $n=1,5$ . Длина волны  $\lambda=6 \cdot 10^{-7}$  м. Какова толщина пластинки?

### Задача № 17 «Интерференция света в тонких пленках»

Плоскопараллельная стеклянная пластинка толщиной  $d=1,2$  мкм и с показателем преломления  $n_{ст}=1,5$  помещена между двумя средами с показателями преломления  $n_1$  и  $n_2$ . Свет с длиной волны  $\lambda=0,6$  мкм падает нормально на пластинку. Определите оптическую разность хода волн, отраженных от верхней и нижней поверхностей пластинки и определите, усиление или ослабление интенсивности происходит при интерференции в следующих случаях: а)  $n_1 < n < n_2$ ; б)  $n_1 < n > n_2$

### Задача № 18 «Дифракция Френеля»

Найдите радиусы первых трех зон Френеля для плоской волны, если расстояние от волновой поверхности до точки наблюдения 1 м. Длина волны  $\lambda=500$  нм.

### Задача № 19 «Дифракция Фраунгофера»

Найти наибольший порядок спектра для желтой линии натрия с длиной волны  $\lambda=589$  нм, если постоянная дифракционной решетки  $d=2$  мкм. Сколько всего максимумов дает эта решетка? Под каким углом  $\varphi$  наблюдается последний максимум?

### Задача № 20 «Поляризация света»

Угол между плоскостями пропускания двух поляризаторов равен  $50^\circ$ . Естественный свет, проходя через такую систему, ослабляется в 8 раз. Пренебрегая потерями света при отражении, определить коэффициент поглощения света в поляризаторах

### Задача № 21 «Фотоэффект»

Определить наименьший задерживающий потенциал, необходимый для прекращения эмиссии с поверхности фотокатода, если он освещается излучением с длиной волны 0,4 мкм, а красная граница для материала катода равна 0,67 мкм

### Задача № 22 «Тепловое излучение»

Черное тело нагрели от температуры 600К до 2400К. Во сколько раз увеличилась общая тепловая энергия, излучаемая телом? На сколько изменилась длина волны, соответствующая максимуму энергии излучения и спектральный состав излучения?

### Задача № 23 «Эффект Комптона»

Фотон с энергией 1 МэВ рассеялся на свободном покоившемся электроне. Найти кинетическую энергию электрона отдачи, если в результате рассеяния длина волны фотона изменилась на 25%

### **Задача № 24 «Элементы квантовой механики»**

При движении частицы вдоль оси  $x$  скорость ее может быть определена с точностью (ошибкой) до 1 см/с. Найти неопределенность координаты, если частицей является: 1) электрон, 2) дробишка массой 0,1г

### **Задача № 25 «Частица в потенциальной яме»**

Собственная функция, описывающая состояние микрочастицы в бесконечно глубокой потенциальной яме шириной  $\ell$ , имеет вид  $\psi_n(x) = C \sin \frac{\pi n}{\ell} x$ . Используя условия нормировки, определить постоянную  $C$ .

### **Задача № 26 «Атом по теории Бора»**

Вычислить радиусы первых трех орбит электрона в атоме водорода

### **Задача № 27 «Излучение атома»**

Найти наибольшую и наименьшую длины волн серии Пашена в спектре излучения водорода. Сравнить полученные значения с длинами волн видимого излучения

### **Задача № 28 «Радиоактивность»**

Первоначальная масса изотопа иридия  ${}^{192}_{77}\text{Ir}$  равна  $m = 5$  г, период полураспада 75 суток. Определите, сколько ядер распадется за 1 секунду в этом препарате. Сколько атомов этого препарата останется через 30 суток и во сколько раз изменится активность препарата за это время?

### **Задача № 29 «Законы сохранения в ядерных реакциях»**

В центре солнца протекает термоядерная реакция синтеза гелия из водорода, в которой из четырех протонов образуется ядро  $\text{He}^4$  и два позитрона. Запишите эту реакцию. Какие еще частицы образуются в ней?

### **Задача № 30 «Энергия в ядерных реакциях»**

Какое количество  $\text{U}^{235}$  «выгорает» за год в ядерном реакторе с электрической мощностью 1 ГВт и к.п.д. 38%? Считать, что распад ядер урана под действием тепловых нейтронов приводит к образованию изотопов ксенона-141, стронция-92 и трех вторичных нейтронов.

## ***Перечень лабораторных работ***

### **1 семестр**

- № 1 «Применение законов сохранения для определения скорости полета пули»
- № 4 «Исследование вращательного движения твердого тела вокруг неподвижной оси»
- № 5 «Определение характеристик затухающих колебаний физического маятника»
- № 11 «Изучение статистических закономерностей»
- № 14 «Определение показателя адиабаты методом Клемана и Дезорма»
- № 21 «Исследование электростатического поля с помощью зонда»
- № 24 «Расширение предела измерения амперметра постоянного тока»
- № 28 «Определение индуктивности катушки и магнитной проницаемости ферромагнитного тела»

## 2 семестр

№ 32 «Определение радиуса кривизны линзы и полосы пропускания светофильтра с помощью колец Ньютона»

№ 34 «Определение длины световой волны и характеристик дифракционной решетки»

№ 35 «Определение концентрации растворов сахара и постоянной вращения»

№ 36 «Снятие вольтамперных характеристик фотоэлемента и определение его чувствительности»

№ 41 «Исследование возбуждения атомов газа»

№ 42 «Определение главных квантовых чисел возбужденных состояний атома водорода»

№ 51 «Изучение закономерностей  $\alpha$ -распада»

№ 53 «Определение максимальной энергии  $\beta$ -частиц и идентификация радиоактивных препаратов»

### *Перечень вопросов к семинарским занятиям*

## 1 семестр

### **Семинар № 1 "Кинематика и динамика поступательного и вращательного движений"**

1. Механическое движение. Система отсчёта. Материальная точка.
2. Основные кинематические характеристики: перемещение, путь, скорость, ускорение: полное, нормальное, тангенциальное. Классификация движений.
3. Поступательное движение. Центр масс. Вращательное движение.
4. Основные кинематические характеристики вращательного движения: угол поворота, угловое перемещение, угловые скорость и ускорение.
5. Связь между линейными и угловыми характеристики движения. Равномерное и равнопеременное вращательное движения. Понятие состояния физической системы и уравнения движения.
6. Динамические характеристики: сила, силовое поле, масса, импульс.
7. Законы Ньютона.
8. Динамические характеристики вращательного движения: момент силы относительно оси, момент инерции. Основной закон динамики вращательного движения.

### **Семинар № 2 "Закон сохранения"**

1. Закон сохранения импульса, условия его выполнения.
2. Закон сохранения момента импульса, условия его выполнения.
3. Работа, мощность. Работа гравитационной силы, консервативные силы. Работа результирующей силы. Кинетическая энергия, теорема об изменении кинетической энергии.
4. Закон сохранения полной механической энергии, условия его выполнения.
5. Соударение двух тел.
6. Связь законов сохранения со свойствами пространства и времени.

### **Семинар № 3 "Колебания и волны"**

1. Физический и математический маятники.
2. Гармонические, свободные, вынужденные и затухающие колебания: дифференциальные, графики, характеристики.
3. Явление резонанса и его физическая природа. Примеры.
4. Волна. Виды волн. Механизм образования механических волн.
5. Звуковая волна. Механизм образования звука в газах.
6. Волновое уравнение.
7. Стоячая волна. Механизм образования. Уравнение стоячей волны.

### **Семинар № 4 "Статистические методы описания макросистем"**

1. Вероятности появления дискретной и непрерывной случайных величин.
2. Функция распределения вероятностей. Условие нормировки.
3. Среднее и наиболее вероятное значение случайной величины.
4. Статистические методы. Основные положения статистической физики.
5. Распределение Максвелла, Гаусса, Больцмана.

#### **Семинар № 5 "Термодинамические методы описания макросистем"**

1. Уравнение состояния идеального газа.
2. Распределение энергии по степеням свободы. Средняя энергия молекулы.
3. Теплоемкость. Молярная и удельная теплоемкости. Уравнение Майера.
4. Внутренняя энергия как функция состояния системы. Работа как функция процесса.
5. Первое начало термодинамики.
6. Изопроцессы: изотермический, изохорический, изобарический, адиабатический, политропический.
7. Энтропия. Свойства энтропии изолированной системы.
8. Второй закон термодинамики.
9. Цикл Карно. К.п.д. цикла Карно.

#### **Семинар № 6 "Электростатическое поле"**

1. Электростатическое поле. Электрический заряд. Закон Кулона.
2. Напряженность электростатического поля. Принцип суперпозиции.
3. Поток вектора  $\vec{E}$ . Теорема Гаусса.
4. Потенциальность электростатического поля. Теорема о циркуляции.
5. Связь между напряженностью и потенциалом.
6. Геометрическое описание поля. Силовые линии. Эквипотенциальные поверхности.

#### **Семинар № 7 "Постоянный ток. Цепи постоянного тока"**

1. Электрический ток. Плотность тока. Уравнение непрерывности.
2. Закон Ома для однородного участка цепи.
3. Сопротивление проводника. Соединение сопротивлений.
4. Закон Ома для неоднородного участка цепи. Сторонние силы. ЭДС.
5. Правила Кирхгофа.
6. Мощность тока. Закон Джоуля-Ленца.

#### **Семинар № 8 "Магнитное поле. Электромагнитная индукция"**

1. Источники магнитного поля. Магнитное поле движущегося заряда и проводника с током. Закон Био-Савара.
2. Поток и циркуляция вектора индукции магнитного поля. Теорема Гаусса и теорема о циркуляции.
3. Сила Лоренца. Движение заряженной частицы в магнитном поле.
4. Сила Ампера.
5. Закон электромагнитной индукции Фарадея. Правило Ленца.
6. Вихревое электрическое поле.
7. Явление самоиндукции. Индуктивность. Соленоид.

### **2 семестр**

#### **Семинар № 9 "Интерференция и дифракция света"**

1. Электромагнитные волны.
2. Когерентность и монохроматичность световых волн.
3. Интерференция света от двух источников.
4. Интерференция света от плоскопараллельной пластинки.
5. Интерференция света от пластинки переменной толщины. Кольца Ньютона.
6. Применение интерференции света.
7. Явление дифракции. Особенность дифракции световых волн. Дифракция Френеля и Фраунгофера.

8. Принцип Гюйгенса-Френеля. Упрощение вычислений с помощью векторной диаграммы.
9. Дифракция Френеля на круглом отверстии. Зоны Френеля.
10. Дифракция Фраунгофера на узкой прямолинейной щели. Условия максимума и минимума. Зависимость интенсивности света от угла дифракции.
11. Дифракционная решетка. Основные характеристики дифракционной решетки. Условия главных максимумов и минимумов и добавочных минимумов.

### **Семинар № 10 "Поляризация света"**

1. Поляризация света. Естественный и поляризованный свет.
2. Поляризация света при отражении и преломлении. Закон Брюстера.
3. Поляризация при двойном лучепреломлении. Свойства обыкновенного и необыкновенного лучей.
4. Поляризационные призмы. Призма Николя.
5. Закон Малюса. Анализ поляризованного света.
6. Оптически активные вещества. Вращение плоскости поляризации света.

### **Семинар № 11 "Квантовая оптика"**

1. Тепловое излучение абсолютно черного тела. Закон Стефана – Больцмана. Закон смещения Вина.
2. Корпускулярно-волновой дуализм света. Энергия и импульс фотона. Давление света.
3. Фотоэффект. Законы фотоэффекта. Формула Эйнштейна.
4. Эффект Комптона. Формула Комптона.
5. Волновые свойства частиц. Длина волны де Бройля. Принцип неопределенности Гейзенберга.

### **Семинар № 12 "Строение атома"**

1. Модели атома. Планетарная модель атома.
2. Постулаты Бора.
3. Излучение атома водорода и водородоподобных систем. Спектральные серии.
4. Формула Бальмера.
5. Спектры многоэлектронных атомов. Закон Мозли.

### **Семинар № 13 "Основные положения квантовой механики"**

1. Квантовые состояния. Волновая функция и ее физический смысл. Принцип суперпозиции. Уравнение Шредингера, квантовые уравнения движения.
2. Некоторые задачи квантовой механики. Частица в бесконечно глубокой потенциальной яме. Квантование энергии.
3. Квантовые числа, характеризующие положение электрона в атоме. Квантование энергии. Квантование момента импульса. Спин электрона.
4. Схема энергетических уровней атома водорода. Правила отбора при атомных переходах.
5. Границы применимости квантовой механики.

### **Семинар № 14 "Атомные ядра, их свойства. Радиоактивность"**

1. Явление радиоактивности.
2. Основной закон радиоактивного распада. Радиоактивные ряды.
3. Состав и характеристики атомного ядра. Ядерные силы.
4. Капельная и оболочечная модели ядер.
5. Масса и энергия связи ядра. Удельная энергия связи. Радиус ядра.

### **Семинар № 15 "Ядерные реакции"**

1. Ядерные реакции.
2. Энергия ядерной реакции.
3. Уравнение и энергетическое условие  $\alpha$ -распада. Связь энергии  $\alpha$ -частицы с периодом полураспада. Туннельный эффект при  $\alpha$ -распаде. Спектр  $\alpha$ -частиц.



4. Характер спектра  $\gamma$ -излучения. Процессы взаимодействия  $\gamma$ -квантов с веществом. Зависимость интенсивности  $\gamma$ -излучения от толщины слоя вещества. Сравнение проникающей способности различных видов излучения.
5. Три вида  $\beta$ -распада. Энергетический спектр  $\beta$ -частиц. Гипотеза нейтрино. Законы сохранения при  $\beta$ -распаде. Лептоны. Лептонный заряд.

## Приложение 2

### Оценочные средства для проведения промежуточной аттестации

#### а) Планируемые результаты обучения и оценочные средства для проведения промежуточной аттестации:

Код индикатора	Индикатор достижения компетенции	Оценочные средства
ОПК-1: Способен решать задачи профессиональной деятельности на основе использования теоретических и практических основ естественных и технических наук, а также математического аппарата		
ОПК-1.1	Определяет характеристики физического и химического процесса (явления), характерного для объектов профессиональной деятельности, на основе теоретических и экспериментальных исследований	<b>Перечень теоретических вопросов к зачету ( 1 семестр):</b> <ol style="list-style-type: none"><li>1. Кинематика поступательного движения. Понятие радиус-вектора, скорости и ускорения. Начальные условия. Прямая и обратная задачи механики.</li><li>2. Движение по окружности. Угол поворота, угловая скорость и угловое ускорение. Связь угловых и линейных величин.</li><li>3. Криволинейное движение. Тангенциальное и нормальное ускорение. Полное ускорение. Угол между скоростью и ускорением.</li><li>4. Инерциальные системы отсчета. Понятие силы, массы и импульса. Основной закон динамики поступательного движения.</li><li>5. Момент импульса и момент силы относительно точки. Основное уравнение динамики вращательного движения.</li><li>6. Вращение вокруг неподвижной оси. Момент инерции. Расчет моментов инерции простых тел. Теорема Штейнера.</li><li>7. Законы сохранения в механике. Замкнутая система. Законы сохранения импульса и момента импульса.</li><li>8. Работа и мощность. Кинетическая энергия поступательного и вращательного движения.</li><li>9. Консервативные силы. Потенциальная энергия. Закон сохранения полной механической энергии.</li><li>10. Два способа описания взаимодействия. Движение частицы в одномерном стационарном поле. Связь между силой и потенциальной энергией.</li><li>11. Гармонические колебания. Амплитуда, частота, начальная фаза. Математический и физический маятник. Энергия гармонических колебаний.</li><li>12. Затухающие колебания. Характеристики затухания. Энергия затухающих колебаний.</li><li>13. Общее понятие о волнах. Характеристики бегущей волны. Волновое уравнение плоской волны.</li><li>14. Наложение упругих волн. Стоячая волна и ее особенности. Колебание натянутой струны.</li><li>15. Постулаты Эйнштейна. Замедление времени. Лоренцево сокращение длины. Релятивистские инварианты. Интервал.</li></ol>

Код индикатора	Индикатор достижения компетенции	Оценочные средства
		<p>16. Релятивистский импульс. Связь массы, энергии и импульса частицы. Энергия покоя. Законы сохранения при релятивистских скоростях.</p> <p>17. Макросистема. Микросостояние и макросостояние системы. Статистический подход. Понятие вероятности и средней величины.</p> <p>18. Функция распределения случайной величины. Распределение молекул по проекциям скоростей.</p> <p>19. Распределение молекул по модулю скорости. Наиболее вероятная, средняя и среднеквадратичная скорости.</p> <p>20. Модель идеального газа. Давление и температура с точки зрения молекулярно-кинетической теории. Уравнение состояния идеального газа.</p> <p>21. Распределение молекул идеального газа по высоте в поле тяжести Земли. Барометрическая формула.</p> <p>22. Понятие степеней свободы молекулы. Теорема о равномерном распределении энергии по степеням свободы.</p> <p>23. Внутренняя энергия как функция состояния системы. Первое начало термодинамики.</p> <p>24. Работа как функция процесса. Изохорический, изобарический и изотермический процессы.</p> <p>25. Понятие теплоемкости. Теплоемкость при изохорическом и изобарическом процессах. Постоянная адиабаты.</p> <p>26. Адиабатический процесс. Первое начало термодинамики для адиабатического процесса. Уравнение Пуассона.</p> <p>27. Циклический процесс. Коэффициент полезного действия тепловой машины. Второе начало термодинамики. Формулировки Клаузиуса и Кельвина.</p> <p>28. Проблема необратимости тепловых процессов. Энтропия системы и ее свойства. Теорема Нернста.</p> <p>29. Основное уравнение термодинамики. Энтропия идеального газа. Изменение энтропии при изопроцессах.</p> <p>30. Цикл Карно. Теорема Карно. Термодинамическая шкала температур. Тройная точка воды как реперная точка.</p> <p>31. Статистический вес макросостояния. Суть необратимости. Статистический смысл энтропии. Формула Больцмана.</p> <p>32. Границы применимости модели идеального газа. Уравнение Ван-дер-Ваальса. Изотермы реального газа.</p> <p>33. Силы взаимодействия в природе. Электростатическое поле. Закон Кулона. Напряженность электростатического поля. Принцип суперпозиции.</p> <p>34. Силовые линии. Поток вектора напряженности электростатического поля. Теорема Гаусса.</p> <p>35. Потенциал. Теорема о циркуляции вектора напряженности электростатического поля. Связь между напряженностью и потенциалом.</p>

Код индикатора	Индикатор достижения компетенции	Оценочные средства
		<p>36. Емкость. Конденсаторы. Соединение конденсаторов. Энергия конденсатора. Энергия электрического поля.</p> <p>37. Электрический ток. Плотность тока. Уравнение непрерывности. Закон Ома в дифференциальной форме.</p> <p>38. Сопротивление проводников. Сторонние силы. Закон Ома в интегральной форме.</p> <p>39. Правила Кирхгофа для расчета разветвленных цепей. Мощность тока. Закон Джоуля-Ленца.</p> <p>40. Единая природа электрического и магнитного поля. Поле движущегося заряда. Принцип суперпозиции магнитных полей. Закон Био-Савара.</p> <p>41. Поток и циркуляция вектора индукции магнитного поля. Теорема Гаусса и теорема о циркуляции.</p> <p>42. Сила Лоренца. Сила Ампера.</p> <p>43. Закон электромагнитной индукции Фарадея. Правило Ленца. Вихревое электрическое поле.</p> <p>44. Явление самоиндукции. Индуктивность. Энергия контура с током. Энергия магнитного поля.</p> <p>45. Электрическое поле в веществе. Поляризация диэлектрика. Вектор электрического смещения. Диэлектрическая проницаемость вещества.</p> <p>46. Магнитное поле в веществе. Намагниченность. Напряженность магнитного поля. Магнитная проницаемость вещества. Ферромагнетики.</p> <p><b>Перечень вопросов к экзамену (2 семестр):</b></p> <ol style="list-style-type: none"> <li>1. Система уравнений Максвелла как обобщение разрозненных явлений электричества и магнетизма. Материальные уравнения.</li> <li>2. Свойства уравнений Максвелла. Предсказание существования электромагнитных волн.</li> <li>3. Электромагнитные волны. Волновое уравнение. Свойства электромагнитных волн.</li> <li>4. Плоская электромагнитная волна и ее основные характеристики. Энергия и импульс электромагнитной волны.</li> <li>5. Естественный и поляризованный свет. Степень поляризации линейно поляризованного света. Закон Малюса.</li> <li>6. Поляризация при отражении и преломлении света на границе раздела диэлектриков. Угол Брюстера. Двойное лучепреломление.</li> <li>7. Способы поляризации естественного света. Призма Николя. Вращение плоскости поляризации света при прохождении через оптически активную среду.</li> <li>8. Шкала электромагнитных волн. Особенности оптического диапазона. Показатель преломления среды.</li> <li>9. Когерентные волны. Интерференция световых волн. Сложение интенсивностей в случае некогерентных и когерентных колебаний.</li> </ol>

Код индикатора	Индикатор достижения компетенции	Оценочные средства
		<p>10. Оптическая разность хода. Связь оптической разности хода двух волн с разностью фаз между ними. Условия максимума и минимума.</p> <p>11. Схема Юнга для наблюдения интерференции. Временная и пространственная когерентность.</p> <p>12. Интерференция в тонких пленках. Наблюдение колец Ньютона в отраженном и проходящем свете.</p> <p>13. Явление дифракции. Дифракция Френеля и Фраунгофера. Принцип Гюйгенса-Френеля.</p> <p>14. Дифракция Френеля на круглом отверстии. Зоны Френеля. Графический метод сложения амплитуд.</p> <p>15. Дифракция Фраунгофера на узкой прямолинейной щели. Дифракционная решетка как совокупность конечного числа щелей.</p> <p>16. Тепловое излучение тела. Закон Стефана-Больцмана. Закон смещения Вина. Гипотеза Планка.</p> <p>17. Фотоэффект. Законы Столетова. Формула Эйнштейна.</p> <p>18. Фотоны. Давление света. Корпускулярно-волновой дуализм света.</p> <p>19. Рассеяние фотона на свободном электроне. Формула Комптона.</p> <p>20. Волновые свойства частиц. Длина волны де Бройля. Экспериментальные подтверждения гипотезы де Бройля.</p> <p>21. Принцип неопределенности. Соотношение неопределенностей Гейзенберга. Особенности процесса измерения в квантовой механике.</p> <p>22. Физическое истолкование волн де Бройля. Волновая функция и ее свойства. Плотность вероятности обнаружения частицы.</p> <p>23. Основная задача квантовой механики. Нестационарное и стационарное уравнение Шрёдингера.</p> <p>24. Частица в одномерной бесконечной прямоугольной потенциальной яме. Квантование энергии. Собственные функции состояния частицы.</p> <p>25. Прохождение частицы через потенциальный барьер. Туннельный эффект.</p> <p>26. Квантовый гармонический осциллятор.</p> <p>27. Планетарная модель атома. Постулаты Бора. Квантование энергии водородоподобной системы.</p> <p>28. Излучение водородоподобных систем. Спектральные серии атома водорода. Обобщенная формула Бальмера.</p> <p>29. Спектры многоэлектронных атомов. Закон Мозли.</p> <p>30. Уравнение Шредингера для атома водорода. Квантование момента импульса. Правила отбора.</p> <p>31. Спин электрона. Квантовые числа, описывающие состояние электрона в атоме. Кратность вырождения энергетических уровней. Принцип Паули.</p> <p>32. Принцип тождественности одинаковых частиц. Бозоны и фермионы. Квантовые распределения.</p>

Код индикатора	Индикатор достижения компетенции	Оценочные средства
		<p>33. Свободные электроны в металле. Энергия Ферми. Зонная теория твердых тел.</p> <p>34. Электропроводность металлов и полупроводников. Сверхпроводимость.</p> <p>35. Явление радиоактивности. Основной закон радиоактивного распада. Постоянная распада. Период полураспада.</p> <p>36. Состав и характеристики атомного ядра. Капельная модель. Размер и спин ядра.</p> <p>37. Масса и энергия связи атомного ядра. Зависимость удельной энергия связи от массового числа. Оболочечная модель ядра.</p> <p>38. Ядерные реакции. Энергия реакции. Реакции деления и синтеза ядер.</p> <p>39. Радиоактивные ряды. Основные закономерности <math>\alpha</math>-излучения ядер. Длина свободного пробега <math>\alpha</math>-частиц.</p> <p>40. Три вида <math>\beta</math>-распада. Энергетический спектр <math>\beta</math>-частиц. Нейтрино.</p> <p>41. Особенности <math>\gamma</math>-излучения ядер. Прохождение <math>\gamma</math>-квантов через вещество.</p> <p>42. Классификация элементарных частиц. Лептоны. Лептонный заряд.</p> <p>43. Адроны. Барионный заряд. Кварковая модель адронов.</p>
ОПК-1.2	Использует теоретические основы технических наук для применения инновационных технологий на реальных строительных объектов	<p><b>Примерный перечень вопросов и заданий по лабораторным работам</b></p> <p><b>1 семестр</b></p> <p>№ 1 «Применение законов сохранения для определения скорости полета пули»</p> <ol style="list-style-type: none"> <li>1. Приведите примеры сил, дающих разные виды потенциальной энергии. Какие из них присутствуют в данной работе? Изобразите схему экспериментальной установки и укажите на ней силы, действующие на все тела, входящие в систему, в каждый момент времени.</li> <li>2. Какие величины имели кинетическая и потенциальная энергия системы «пуля+маятник» в различные моменты опыта? Представьте схему изменения кинетической и потенциальной энергии системы.</li> <li>3. Для каких моментов времени в данном эксперименте можно применять закон сохранения механической энергии, а для каких нельзя и почему? Схема.</li> <li>4. Для каких моментов времени в данном эксперименте можно применять закон сохранения импульса, а для каких нельзя и почему? Схема</li> <li>5. Используя законы сохранения получите формулу для расчета скорости полета пули в данной работе.</li> <li>6. Как производится обработка экспериментальных данных в данной работе. Как определяется</li> </ol>

Код индикатора	Индикатор достижения компетенции	Оценочные средства
		<p>доверительный интервал скорости и средняя квадратическая погрешность отклонения маятника?</p> <p>№ 4 «Исследование вращательного движения твердого тела вокруг неподвижной оси»</p> <ol style="list-style-type: none"> <li>1. Каков характер зависимости момента инерции от расстояния, на котором находится тело от оси вращения? В данной работе. Постройте график этой зависимости.</li> <li>1. Как экспериментально определяется момент инерции тела в данной лабораторной работе?</li> <li>2. Какие законы сохранения применяются для вывода расчетных формул? Получите формулу для расчета момента инерции маятника.</li> <li>3. Какова зависимость углового ускорения тела от момента приложенных к нему сил и момента инерции тела? Постройте график данной зависимости</li> <li>4. Как на маятнике Обербека могут быть определены угловое ускорение, момент действующих сил и момент инерции?</li> <li>5. Как в данной работе рассчитывается погрешность определения момента инерции тела относительно произвольной оси вращения?</li> <li>6. Продемонстрируйте возможность применения среды Microsoft Excel (или другой среды) для обработки экспериментальных данных.</li> </ol> <p>№ 5 «Определение характеристик затухающих колебаний физического маятника»</p> <ol style="list-style-type: none"> <li>1. Почему колебания маятника в данной работе будут затухающими, даже при выключенном электромагните?</li> <li>2. Запишите уравнения затухающих и незатухающих колебаний, сравните их.</li> <li>3. Как амплитуда затухающих колебаний зависит от времени и от числа колебаний?</li> <li>4. Каков физический смысл величин применительно к данной работе: начальная амплитуда колебаний, начальная фаза колебаний, круговая частота колебаний, период колебаний, коэффициент затухания, время релаксации, логарифмический декремент затухания, добротность. Как они меняются с ростом <math>U</math>?</li> <li>5. Как меняются характеристики затухающих колебаний начальная амплитуда колебаний, начальная фаза колебаний, круговая частота колебаний, период колебаний, коэффициент затухания, время релаксации, логарифмический декремент затухания, добротность если один из параметров данного физического маятника: <math>I</math>, <math>m</math>, <math>L</math>, <math>k</math> увеличится (либо уменьшится) при фиксированных значениях оставшихся?</li> </ol>

Код индикатора	Индикатор достижения компетенции	Оценочные средства
		<p>6. Для чего, в данной работе, графики строят в логарифмическом масштабе?</p> <p>7. Продемонстрируйте возможность применения среды Microsoft Excel (или другой среды) для обработки экспериментальных данных.</p> <p>№ 11 «Изучение статистических закономерностей»</p> <ol style="list-style-type: none"> <li>1. Каково распределение дроби по ячейкам на доске Гальтона? Какое распределение аналогично данному в МКТ?</li> <li>2. Каково распределение электронов по модулю скорости в данной работе? Что происходит при изменении напряжения накала?</li> <li>3. Какие статистические методы применяются в данной работе?</li> <li>4. Продемонстрируйте возможность применения среды Microsoft Excel (или другой среды) для обработки экспериментальных данных.</li> </ol> <p>№ 14 «Определение показателя адиабаты методом Клемана и Дезорма»</p> <ol style="list-style-type: none"> <li>1. Объясните ход эксперимента и результаты расчета.</li> <li>2. Назовите процессы, происходящие с газом, в ходе эксперимента и изобразите их графически.</li> <li>3. Запишите уравнения для вывода формулы показателя адиабаты.</li> <li>4. Продемонстрируйте возможность применения среды Microsoft Excel (или другой среды) для обработки экспериментальных данных.</li> <li>5. Как в данной работе минимизируется погрешность экспериментальных данных?</li> </ol> <p>№ 21 «Исследование электростатического поля с помощью зонда»</p> <ol style="list-style-type: none"> <li>1. Что такое напряженность электрического поля? Как графически представить распределение напряженности в разных точках электрического поля в данной работе?</li> <li>2. Что такое потенциал электростатического поля? Как графически представить распределение потенциала в разных точках электрического поля в данной работе?</li> <li>3. Чему равна работа по перемещению заряда вдоль эквипотенциальной поверхности и по замкнутому контуру, ограниченному участками силовых и эквипотенциальных линий? Вычислите работу по перемещению заряда по заданной траектории.</li> <li>4. Как изменится картина силовых и эквипотенциальных линий при увеличении (уменьшении) напряженности между электродами?</li> </ol> <p>№ 24 «Расширение предела измерения амперметра постоянного тока»</p>



Код индикатора	Индикатор достижения компетенции	Оценочные средства
		<p>1. Каков принцип действия электроизмерительных приборов магнитоэлектрического и электромагнитного типа, применяемы в данной работе?</p> <p>2. Что называют током полного отклонения и напряжением полного отклонения электроизмерительного прибора?</p> <p>3. Каким образом включают амперметр и вольтметр в электрическую цепь для измерения тока и напряжения? Продемонстрируйте навыки включения этих приборов в электрическую цепь.</p> <p>4. Что такое шунт? Для чего и как он используется? Продемонстрируйте использование шунта.</p> <p>5. Что такое добавочное сопротивление? Для чего и как оно используется? Продемонстрируйте использование добавочного сопротивления.</p> <p>6. Продемонстрируйте возможность применения среды Microsoft Excel (или другой среды) для обработки экспериментальных данных.</p> <p>7. Как в данной работе минимизируется погрешность экспериментальных данных?</p> <p>№ 28 «Определение индуктивности катушки и магнитной проницаемости ферромагнитного тела»</p> <p>1. Какие приборы применялись в данной работе для определя параметров постоянного и переменного тока?</p> <p>2. Получите формулу для расчета полного сопротивления цепи переменного тока, используемой в данной работе (или представленной преподавателем).</p> <p>3. Как определялась индуктивность катушки в данной работе? Каким еще способом можно определить индуктивность?</p> <p>4. Продемонстрируйте возможность применения среды Microsoft Excel (или другой среды) для обработки экспериментальных данных.</p> <p><b>2 семестр</b></p> <p>№ 32 «Определение радиуса кривизны линзы и полосы пропускания светофильтра с помощью колец Ньютона»</p> <p>1. Как объясняется появление колец Ньютона?</p> <p>2. Получите формулы для расчета радиусов темных и светлых колец Ньютона.</p> <p>3. Получите формулу для определения радиуса кривизны линзы.</p> <p>4. Как в данной работе минимизируется погрешность экспериментальных данных?</p> <p>№ 34 «Определение длины световой волны и характеристик дифракционной решетки»</p> <p>1. Каковы параметры и характеристики</p>

Код индикатора	Индикатор достижения компетенции	Оценочные средства
		<p>дифракционной решетки, применяемой в эксперименте?</p> <ol style="list-style-type: none"> <li>2. Получите формулу для определения длины световой волны при дифракции на дифракционной решетке.</li> <li>3. Каково практическое применение дифракционных решеток?</li> <li>4. Как в данной работе минимизируется погрешность экспериментальных данных?</li> </ol> <p>№ 35 «Определение концентрации растворов сахара и постоянной вращения»</p> <ol style="list-style-type: none"> <li>1. На основе какого явления определяется концентрация раствора сахара в данном эксперименте?</li> <li>2. Поясните устройство и принцип действия призмы Николя</li> <li>3. Поясните устройство и принцип действия полутеневого сахариметра</li> <li>4. Как в данной работе минимизируется погрешность экспериментальных данных?</li> </ol> <p>№ 36 «Снятие вольтамперных характеристик фотоэлемента и определение его чувствительности»</p> <ol style="list-style-type: none"> <li>1. Проанализируйте полученные в лабораторной работе ВАХ</li> <li>2. Как определяется постоянная Планка в данном эксперименте?</li> <li>3. Как в данной работе минимизируется погрешность экспериментальных данных?</li> <li>4. Как в данной работе рассчитывается погрешность определения постоянной Планка?</li> <li>5. Продемонстрируйте возможность применения среды Microsoft Excel (или другой среды) для обработки экспериментальных данных.</li> </ol> <p>№ 41 «Исследование возбуждения атомов газа»</p> <ol style="list-style-type: none"> <li>1. Объясните принцип определения возбужденных состояний атомов газа в эксперименте?</li> <li>2. Поясните принцип работы электронной лампы</li> <li>3. В каком диапазоне электромагнитных волн лежит излучение возбужденных атомов паров ртути и почему?</li> <li>4. Как в данном эксперименте определяется область локализации электрона и как полученные данные согласуются с теоретическими предположениями?</li> </ol> <p>№ 42 «Определение главных квантовых чисел возбужденных состояний атома водорода»</p> <ol style="list-style-type: none"> <li>1. Поясните устройство и принцип работы спектроскопа, используемого в данной работе</li> <li>2. Получите формулу для определения главных квантовых чисел возбужденных состояний атома водорода и других водородоподобных атомов</li> </ol>

Код индикатора	Индикатор достижения компетенции	Оценочные средства
		<p>3. Что называется градуировочным графиком?</p> <p>4. Продемонстрируйте возможность применения среды Microsoft Excel (или другой среды) для обработки экспериментальных данных</p> <p>№ 51 «Изучение закономерностей <math>\alpha</math>-распада»</p> <ol style="list-style-type: none"> <li>1. Что такое активность радиоактивного элемента, ее вычисление и единицы измерения.</li> <li>2. В чем состоит закон Гейгера - Неттола?</li> <li>3. Как оценить энергию <math>\alpha</math> - частицы?</li> <li>4. Устройство и принцип работы счетчика Гейгера-Мюллера.</li> <li>5. Продемонстрируйте возможность применения среды Microsoft Excel (или другой среды) для обработки экспериментальных данных</li> </ol> <p>№ 53 «Определение максимальной энергии <math>\beta</math>-частиц и идентификация радиоактивных препаратов»</p> <ol style="list-style-type: none"> <li>1. Какие известны разновидности бета-распада? Какая из них исследуется в данном эксперименте?</li> <li>2. В каких диапазонах находятся периоды полураспада и энергии бета- распада природных радионуклидов?</li> <li>3. Каковы основные особенности взаимодействия бета-частиц с веществом?</li> </ol> <p>Продемонстрируйте возможность применения среды Microsoft Excel (или другой среды) для обработки экспериментальных данных</p>
ОПК-1.3	Решает инженерные задачи с помощью математического аппарата векторной алгебры, аналитической геометрии и математического анализа	<p><b>Примерный перечень практических заданий 1 семестр</b></p> <p><b>Задание 1.</b> Точка движется в плоскости <math>хоу</math> по закону: <math>x = -2t</math>; <math>y = 4t(1-t)</math>. Найти уравнение траектории <math>y = f(x)</math> и изобразить ее графически; вектор скорости <math>\vec{V}</math> и ускорения <math>\vec{a}</math> в зависимости от времени; момент времени <math>t_0</math>, в который вектор ускорения <math>\vec{a}</math> составляет угол <math>\pi/4</math> с вектором скорости <math>\vec{V}</math>. Ответ: <math>y = -x^2 - 2x</math>; <math>\vec{v} = -2\vec{i} + 4(1-2t)\vec{j}</math>, <math>\vec{a} = -8\vec{j}</math>, <math>t_0 = 0,75c</math>.</p> <p><b>Задание 2.</b> Тело вращается вокруг неподвижной оси по закону <math>\varphi = 2 + 4 \cdot t - 2 \cdot t^2</math>. Найти: 1) среднее значение угловой скорости <math>\langle \omega \rangle</math> за промежуток времени от <math>t=0</math> до остановки; 2) угловую скорость тела в момент времени <math>t=0,25</math> с; 3) нормальное ускорение точки, находящейся на расстоянии 1 м от оси вращения в тот же момент времени. Ответ: 2 рад/с; 3 рад/с; 9 м/с<sup>2</sup>.</p> <p><b>Задание 3.</b> Шар массой <math>m_1=4</math>кг движется со скоростью <math>V_1=5</math> м/с и сталкивается с шаром массой <math>m_2=6</math> кг, который движется ему навстречу со скоростью <math>V_2=2</math> м/с. Определите скорости шаров после удара. Удар считать абсолютно упругим, прямым и центральным. Ответ: 3,4 м/с, 3,6 м/с.</p> <p><b>Задание 4.</b> Вал в виде сплошного цилиндра массой <math>m_1=10</math> кг насажен на горизонтальную ось. На</p>

Код индикатора	Индикатор достижения компетенции	Оценочные средства
		<p>цилиндр намотан шнур, к свободному концу которого подвешена гиря массой <math>m_2=2</math> кг. С каким ускорением будет опускаться гиря, если ее предоставить самой себе? Ответ: <math>2,8 \text{ м/с}^2</math>.</p> <p><b>Задание 5.</b> Определить период, частоту и начальную фазу колебаний точки, движущейся по уравнению: <math>x = A \cdot \sin \omega(t + \tau)</math> где <math>\omega=2,5\pi \text{ с}^{-1}</math>, <math>\tau=0,4 \text{ с}</math>, <math>A=0,02 \text{ м}</math>. Какова скорость точки в момент времени <math>0,8 \text{ с}</math>. Ответ: <math>T=0,8\text{с}</math>; <math>v=1,25 \text{ с}^{-1}</math>; <math>V=0,157 \text{ м/с}</math>.</p> <p><b>Задание 6.</b> Точечные заряды <math>q_1=10 \text{ нКл}</math> и <math>q_2=-20 \text{ нКл}</math> находятся в воздухе на расстоянии <math>10 \text{ см}</math> друг от друга. Определить напряженность поля в точке А, удаленной на расстояние <math>6 \text{ см}</math> от первого и на <math>8 \text{ см}</math> от второго. Как изменится потенциальная энергия взаимодействия зарядов, если переместить второй заряд в эту точку? Какую для этого нужно совершить работу? Ответ: <math>37,6 \text{ кВ/м}</math>; <math>12 \text{ мкДж}</math>.</p> <p><b>Задание 7.</b> Три плоских воздушных конденсатора с емкостями <math>C_1=1,5\text{мкФ}</math>, <math>C_2=7 \text{ мкФ}</math>, <math>C_3=2 \text{ мкФ}</math> соединены последовательно и присоединены к источнику тока. При этом заряд второго конденсатора равен <math>14 \cdot 10^{-4} \text{ Кл}</math>. а) Найти энергию этой батареи. б) Не отключая источника тока от батареи конденсаторов, раздвигают пластины третьего конденсатора, увеличивая расстояние между ними в <math>2</math> раза. Найти изменение емкости и заряда батареи. Ответ: <math>490 \text{ мДж}</math>, <math>0,21 \text{ мкФ}</math>, <math>0,4 \text{ мКл}</math>.</p> <p><b>Задание 8.</b> Два элемента (<math>\mathcal{E}_1 = 1,2 \text{ В}</math>, <math>r_1 = 0,1 \text{ Ом}</math>, <math>\mathcal{E}_2 = 0,9 \text{ В}</math>, <math>r_2 = 0,3 \text{ Ом}</math>) соединены одноименными полюсами. Сопротивление <math>R</math> соединительных проводов равно <math>0,2 \text{ Ом}</math>. Определить силу тока в цепи <math>I</math> и разность потенциалов на зажимах каждого источника. Ответ: <math>0,5 \text{ А}</math>; <math>1,15 \text{ В}</math>; <math>1,05 \text{ В}</math>.</p> <p><b>Задание 9.</b> Круговой виток радиусом <math>R=15,0 \text{ см}</math> расположен относительно бесконечно длинного провода так, что его плоскость параллельна проводу. Перпендикуляр, восстановленный на провод из центра витка, является нормалью к плоскости витка. Сила тока в проводе <math>I_1=5\text{А}</math>, сила тока в витке <math>I_2=1\text{А}</math>. Расстояние от центра витка до провода <math>d=20 \text{ см}</math>. Определите магнитную индукцию в центре витка. Ответ: <math>B_0=6,5\text{мкТл}</math>.</p> <p><b>Задание 10.</b> Проводящий плоский контур, имеющий форму окружности радиуса <math>r = 0,05 \text{ м}</math> помещен в однородное магнитное поле так, что линии магнитной индукции поля направлены перпендикулярно плоскости контура. Сопротивление контура <math>R = 5 \text{ Ом}</math>. Магнитная индукция меняется по закону <math>B = kt</math>, где <math>k = 0,2 \text{ Тл/с}</math>. Определите: а) э.д.с. индукции, возникающую в этом контуре; б) силу индукционного тока; в) заряд, который протечет по контуру за первые <math>5</math> секунд изменения поля. Ответ: <math>1,6 \text{ мВ}</math>; <math>0,3 \text{ мА}</math>; <math>1,6 \text{ мКл}</math>.</p>

Код индикатора	Индикатор достижения компетенции	Оценочные средства
		<p><b>Задание 11.</b> Катушка намотана медным проводом диаметром <math>d=0,2</math> мм с общей длиной <math>l=314</math> м и имеет индуктивность <math>L=0,5</math> Гн. Определить сопротивление катушки: 1) в цепи постоянного тока; 2) в цепи переменного тока с частотой <math>\nu=50</math> Гц. Ответ: <math>R=160</math> Ом; <math>R=224</math> Ом.</p> <p><b>2 семестр</b></p> <p><b>Задание 12.</b> В опыте Юнга стеклянная пластинка толщиной в 2 см помещается на пути одного из интерферирующих лучей перпендикулярно лучу. На сколько могут отличаться друг от друга значения показателя преломления в различных местах пластинки, чтобы изменение разности хода от этой неоднородности не превышало 1 мкм? Ответ: <math>\Delta n \leq 5 \cdot 10^{-5}</math>.</p> <p><b>Задание 13.</b> Пучок белого света падает нормально к поверхности стеклянной пластинки толщиной <math>d=0,5</math> мкм, находящейся в воздухе. Показатель преломления стекла <math>n=1,5</math>. В результате интерференции интенсивность некоторых волн, длины которых лежат в пределах видимого спектра (от 400 до 700 нм), усиливается при отражении. Определите длины этих волн. Ответ: 0,6 мкм; 0,43 мкм.</p> <p><b>Задание 14.</b> Плоская волна (<math>\lambda=0,5</math> мкм) падает нормально на диафрагму с круглым отверстием диаметром 1,0 см. На каком расстоянии от отверстия на его оси должна находиться точка наблюдения, чтобы отверстие открывало: 1) одну зону Френеля; 2) две зоны Френеля? Ответ: 50; 25 м.</p> <p><b>Задание 15.</b> Найти наибольший порядок спектра для желтой линии натрия с длиной волны <math>\lambda=589</math> нм, если постоянная дифракционной решетки <math>d=2</math> мкм. Сколько всего максимумов дает эта решетка? Под каким углом <math>\varphi</math> наблюдается последний максимум? Ответ: 3; 7; <math>62^\circ</math>.</p> <p><b>Задание 16.</b> Два поляризатора расположены так, что угол между их плоскостями пропускания равен <math>25^\circ</math>. Определить, во сколько раз уменьшится интенсивность естественного света при прохождении: 1) через один (первый) поляризатор, 2) через оба поляризатора. Коэффициент поглощения света в поляризаторе равен 0,08. Ответ: 2,17; 2,88.</p> <p><b>Задание 17.</b> Черное тело имеет температуру 3 кК. При охлаждении тела длина волны, приходящаяся на максимум излучательной способности, изменилась на 8 мкм. До какой температуры охладилось тело? Ответ: 323К.</p> <p><b>Задание 18.</b> Узкий пучок монохроматического рентгеновского излучения падает на рассеивающее вещество. При этом длина волны излучения, рассеянного под углами <math>60^\circ</math> и <math>120^\circ</math>, отличаются друг от друга в 2 раза. Считая, что рассеяние происходит на</p>

Код индикатора	Индикатор достижения компетенции	Оценочные средства
		<p>свободных электронах, найти длину волны падающего излучения. Ответ: 1,2 пм.</p> <p><b>Задание 19.</b> Красная граница фотоэффекта для некоторого металла равна 275 нм. Найти: 1) работу выхода электрона из этого металла, 2) максимальную скорость электронов, вырываемых из этого металла светом с длиной волн 180 нм, 3) максимальную кинетическую энергию этих электронов. Ответ: 4,52эВ; <math>9,1 \cdot 10^5</math> м/с; 2,38эВ.</p> <p><b>Задание 20.</b> Электрон обладает кинетической энергией 30 эВ. Определить дебройлевскую длину волны электрона. Во сколько раз изменится эта длина волны, если кинетическая энергия уменьшится на 20%? Ответ: <math>2,2 \cdot 10^{-10}</math> м; 1,12.</p> <p><b>Задание 21.</b> При движении частицы вдоль оси <math>x</math> скорость ее может быть определена с точностью (ошибкой) до 1 см/с. Найти неопределенность координаты, если частицей является: 1) электрон, 2) дробинка массой 0,1г. Ответ: 0,01м; <math>10^{-28}</math>м.</p> <p><b>Задание 22.</b> Частица находится в бесконечно глубокой одномерной потенциальной яме минимальную энергию. Какова вероятность обнаружения частицы в средней трети ямы? Ответ: 0,609.</p> <p><b>Задание 23.</b> Определить длину волны, соответствующую третьей линии серии Бальмера: 1) В спектре излучения водорода, 2) В спектре излучения иона гелия. Ответ: 434нм, 109нм.</p> <p><b>Задание 24.</b> Определите период полураспада и начальную активность висмута <math>{}_{83}^{210}\text{Bi}</math>, если известно, что висмут массой <math>m = 1</math> г, выбрасывает <math>4,58 \cdot 10^{15}</math> <math>\beta</math> – частиц за 1 секунду. Во сколько раз изменится активность за месяц? Ответ: 5 суток; 64 раза.</p> <p><b>Задание 25.</b> Ядро бериллия-7 <math>\beta</math>-радиоактивно по схеме К-захвата. Записать реакцию. Какие частицы при этом образовались?</p> <p><b>Задание 26.</b> Вычислить в а.е.м. массу ядра <math>{}^{10}\text{C}</math>, у которого энергия связи на один нуклон равно 6,04 МэВ. Ответ: 10,0135 а.е.м.</p> <p><b>Задание 27.</b> Солнечная постоянная для Земли (энергия солнечного излучения, падающего в единицу времени на единицу площади в перпендикулярном направлении) равна <math>1370 \text{ Дж/с}\cdot\text{м}^2</math>. Опираясь на эту величину, найдите, сколько по массе водорода выгорает ежесекундно внутри солнца, если известно, что источником энергии солнца является синтез четырех ядер водорода с образованием ядра гелия-4. Ответ: 630 млн.т/с.</p>
ОПК-1.4	Решает теоретические задачи в области теплотехники, гидравлики,	<p><b>Задание 1.</b> Найдите для газообразного азота температуру, при которой скоростям молекул <math>v_1 = 300</math> м/с и <math>v_2 = 600</math> м/с соответствуют одинаковые значения функции распределения Максвелла <math>f(V)</math>. Ответ:</p>

Код индикатора	Индикатор достижения компетенции	Оценочные средства
	теплообмена, используя фундаментальные знания	$T = \frac{m(V_2^2 - V_1^2)}{4k \ln(V_2/V_1)} = 330 \text{ К.}$ <p><b>Задание 2.</b> Идеальный двухатомный газ объемом 5 л и давлением <math>10^6</math> Па изохорически нагрели, в результате чего средняя кинетическая энергия его молекул увеличилась от 0,0796 эВ до 0,0923 эВ. На сколько при этом изменится давление газа? В дальнейшем газ изотермически расширили до начального давления. Определите объем газа в конце процесса. Ответ: увеличится на 0,16 МПа; 5,8 л.</p> <p><b>Задание 3.</b> Определите коэффициент теплопроводности <math>\lambda</math> азота, если коэффициент динамической вязкости <math>\eta</math> для него при тех же условиях равен 10 мкПа·с. Ответ: <math>\lambda=7,42</math> мВт/м·К.</p> <p><b>Задание 4.</b> 12 г азота находятся в закрытом сосуде объемом 2 л при температуре <math>10^\circ\text{C}</math>. После нагревания давление в сосуде стало равно <math>10^4</math> мм.рт.ст. Какое количество тепла было сообщено газу при нагревании? Ответ: <math>4,1 \cdot 10^3</math> Дж.</p> <p><b>Задание 5.</b> Смешали воду массой <math>m_1=5</math> кг при температуре <math>T_1=280</math> К с водой массой <math>m_2=8</math> кг при температуре <math>T_2=350</math> К. Найти: 1) температуру <math>\theta</math> смеси; 2) изменение <math>\Delta S</math> энтропии, происходящее при смешивании. Ответ: 323 К; 0,3 кДж/К.</p>

**б) Порядок проведения промежуточной аттестации, показатели и критерии оценивания:**

Промежуточная аттестация по дисциплине «Физика» включает теоретические вопросы, позволяющие оценить уровень усвоения обучающимися знаний, и практические задания, выявляющие степень сформированности умений и владений, проводится в форме зачета (1 семестр) и в форме экзамена (2 семестр).

Зачет обучающиеся получают в результате выполнения всех видов работ, предусмотренных во 2 семестре изучения данной дисциплины. В случае невыполнения, зачет проводится в форме собеседования по вопросам согласно перечню вопросов к зачету.

***Показатели и критерии оценивания зачета:***

- на оценку «зачтено» обучающийся демонстрирует уровень, не ниже порогового, сформированности компетенций: в ходе контрольных мероприятий могут допускаться ошибки, может проявляться отсутствие отдельных знаний, умений, навыков, обучающийся может испытывает значительные затруднения при оперировании знаниями и умениями при их переносе на новые ситуации.

- на оценку «не зачтено» обучающийся не может показать знания на пороговом уровне сформированности компетенций, т.е. обучающийся не показывает знание основного материала в объеме, необходимом для предстоящей профессиональной деятельности; не способен аргументированно и последовательно излагать, допускает грубые ошибки в ответах; не может показать интеллектуальные навыки решения простых задач. не подтверждает освоение компетенций, предусмотренных программой.

Экзамен по данной дисциплине проводится в устной форме по экзаменационным билетам, каждый из которых включает 2 теоретических вопроса и одно практическое задание (задачу).

***Показатели и критерии оценивания экзамена:***

- на оценку «**отлично**» (5 баллов) – обучающийся демонстрирует высокий уровень сформированности компетенций, всестороннее, систематическое и глубокое знание учебного материала, свободно выполняет практические задания, свободно оперирует знаниями, умениями, применяет их в ситуациях повышенной сложности.

- на оценку «**хорошо**» (4 балла) – обучающийся демонстрирует средний уровень сформированности компетенций: основные знания, умения освоены, но допускаются незначительные ошибки, неточности, затруднения при аналитических операциях, переносе знаний и умений на новые, нестандартные ситуации.

- на оценку «**удовлетворительно**» (3 балла) – обучающийся демонстрирует пороговый уровень сформированности компетенций: в ходе контрольных мероприятий допускаются ошибки, проявляется отсутствие отдельных знаний, умений, навыков, обучающийся испытывает значительные затруднения при оперировании знаниями и умениями при их переносе на новые ситуации.

- на оценку «**неудовлетворительно**» (2 балла) – обучающийся демонстрирует знания не более 20% теоретического материала, допускает существенные ошибки, не может показать интеллектуальные навыки решения простых задач.

- на оценку «**неудовлетворительно**» (1 балл) – обучающийся не может показать знания на уровне воспроизведения и объяснения информации, не может показать интеллектуальные навыки решения простых задач.