

3 АМБ-20-01



МИНИСТЕРСТВО НАУКИ И ВЫСШЕГО ОБРАЗОВАНИЯ
РОССИЙСКОЙ ФЕДЕРАЦИИ

Федеральное государственное бюджетное образовательное учреждение
высшего образования
«Магнитогорский государственный технический университет им. Г.И. Носова»

УТВЕРЖДАЮ
Директор ИММиМ
А.С. Савинов

15.02.2022 г.

РАБОЧАЯ ПРОГРАММА ДИСЦИПЛИНЫ (МОДУЛЯ)

ТЕОРЕТИЧЕСКАЯ МЕХАНИКА

Направление подготовки (специальность)
15.03.06 Мехатроника и робототехника

Направленность (профиль/специализация) программы
Мехатронные системы в автоматизированном производстве

Уровень высшего образования - бакалавриат

Форма обучения
заочная

Институт/ факультет	Институт металлургии, машиностроения и материалообработки
Кафедра	Механики
Курс	2

Магнитогорск
2022 год

Рабочая программа составлена на основе ФГОС ВО - бакалавриат по направлению подготовки 15.03.06 Мехатроника и робототехника (приказ Минобрнауки России от 17.08.2020 г. № 1046)

Рабочая программа рассмотрена и одобрена на заседании кафедры Механики
14.02.2022, протокол № 9

Зав. кафедрой _____ А.С. Савинов

Рабочая программа одобрена методической комиссией ИММиМ
15.02.2022 г. протокол № 6

Председатель _____ А.С. Савинов

Согласовано:

Зав. кафедрой Автоматизированного электропривода и мехатроники

_____ А.А. Николаев

Рабочая программа составлена:

ст. преподаватель кафедры Механики, _____ Б.Б. Зарицкий

Рецензент:

директор ЗАО НПО "ЦХТ" , канд. техн. наук _____ В.П. Дзюба

1 Цели освоения дисциплины (модуля)

Целью освоения дисциплины «Теоретическая механика» является обучить будущих бакалавров знаниям общих законов механического движения и механического взаимодействия материальных тел, необходимых для инженерных расчетов.

Задачи дисциплины – дать обучающемуся знания о механических процессах, необходимые для изучения специальных дисциплин. Приобретенные знания способствуют формированию технических навыков и разностороннего мышления.

2 Место дисциплины (модуля) в структуре образовательной программы

Дисциплина Теоретическая механика входит в обязательную часть учебного плана образовательной программы.

Для изучения дисциплины необходимы знания (умения, владения), сформированные в результате изучения дисциплин/ практик:

Физика

Математика

Начертательная геометрия и компьютерная графика

Знания (умения, владения), полученные при изучении данной дисциплины будут необходимы для изучения дисциплин/практик:

Техническая механика

Гидромеханика

Машиностроительные материалы

Проектная деятельность

Электрические машины

Метрология

3 Компетенции обучающегося, формируемые в результате освоения дисциплины (модуля) и планируемые результаты обучения

В результате освоения дисциплины (модуля) «Теоретическая механика» обучающийся должен обладать следующими компетенциями:

Код индикатора	Индикатор достижения компетенции
ОПК-1	Способен применять естественнонаучные и общеинженерные знания, методы математического анализа и моделирования в профессиональной деятельности;
ОПК-1.1	Решает стандартные профессиональные задачи с применением общеинженерных знаний
ОПК-1.2	Применяет методы моделирования и математического анализа для решения задач в профессиональной деятельности

4. Структура, объём и содержание дисциплины (модуля)

Общая трудоемкость дисциплины составляет 4 зачетных единиц 144 акад. часов, в том числе:

- контактная работа – 10,9 акад. часов;
- аудиторная – 8 акад. часов;
- внеаудиторная – 2,9 акад. часов;
- самостоятельная работа – 124,4 акад. часов;
- в форме практической подготовки – 0 акад. час;
- подготовка к экзамену – 8,7 акад. час

Форма аттестации - экзамен

Раздел/ тема дисциплины	Курс	Аудиторная контактная работа (в акад. часах)			Самостоятельная работа студента	Вид самостоятельной работы	Форма текущего контроля успеваемости и промежуточной аттестации	Код компетенции
		Лек.	лаб. зан.	практ. зан.				
1. Кинематика								
1.1 1. Кинематика 1.1. Кинематика точки. 1.2. Простейшие виды движения твердого тела. 1.3. Сложное движение точки. 1.4. Плоскопараллельное движение твердого тела.	2	1		1	32	Закрепление пройденного материала, выполнение практических заданий	Выполнение контрольной работы	ОПК-1.1, ОПК-1.2
Итого по разделу		1		1	32			
2. Статика								
2.1 1.1. Основные понятия и аксиомы статики. Сходящаяся система сил. 1.2. Произвольная система сил. 1.3. Центр тяжести твердого тела.	2	1		2/ИИ	33	Закрепление пройденного материала, выполнение практических заданий	Выполнение контрольной работы	ОПК-1.1, ОПК-1.2
Итого по разделу		1		2/ИИ	33			
3. Динамика								
3.1 1.1. Аксиомы динамики. 1.2. Динамика точки. 1.3. Динамика механической системы. 1.4. Теоремы динамики. Принципы механики.	2	2		1/ИИ	59,4	Закрепление пройденного материала, выполнение практических заданий	Выполнение контрольной работы	ОПК-1.1, ОПК-1.2
Итого по разделу		2		1/ИИ	59,4			
Итого за семестр		4		4/2И	124,4		экзамен	
Итого по дисциплине		4		4/2И	124,4		экзамен	

5 Образовательные технологии

1. Традиционные образовательные технологии ориентируются на организацию образовательного процесса, предполагающую прямую трансляцию знаний от преподавателя к обучающемуся (преимущественно на основе объяснительно-иллюстративных методов обучения). Учебная деятельность обучающегося носит в таких условиях, как правило, репродуктивный характер.

Формы учебных занятий с использованием традиционных технологий:

Информационная лекция – последовательное изложение материала в дисциплинарной логике, осуществляемое преимущественно вербальными средствами (монолог преподавателя).

Практическое занятие, посвященное освоению конкретных умений и навыков по предложенному алгоритму.

2. Интерактивные технологии – организация образовательного процесса, которая предполагает активное и нелинейное взаимодействие всех участников, достижение на этой основе личностно-значимого для них образовательного результата. Наряду со специализированными технологиями такого рода принцип интерактивности прослеживается в большинстве современных образовательных технологий. Интерактивность подразумевает субъект-субъектные отношения в ходе образовательного процесса и, как следствие, формирование саморазвивающейся информационно-ресурсной среды.

Формы учебных занятий с использованием специализированных интерактивных технологий:

Практика-дискуссия – коллективное обсуждение какого-либо спорного вопроса, проблемы, выявление мнений в группе (межгрупповой диалог, дискуссия как спор-диалог).

6 Учебно-методическое обеспечение самостоятельной работы обучающихся

Представлено в приложении 1.

7 Оценочные средства для проведения промежуточной аттестации

Представлены в приложении 2.

8 Учебно-методическое и информационное обеспечение дисциплины (модуля)

а) Основная литература:

1. Вильке, В. Г. Теоретическая механика : учебник и практикум для вузов / В. Г. Вильке. — 4-е изд., перераб. и доп. — Москва : Издательство Юрайт, 2020. — 311 с. — (Высшее образование). — ISBN 978-5-534-03481-3. — Текст : электронный // ЭБС Юрайт [сайт]. — URL: <https://urait.ru/bcode/450860> (дата обращения: 05.08.2020).

2. Белов, М. И. Теоретическая механика : учебное пособие / Белов М. И., Пылаев Б. В. - 2-е изд. - Москва: ИЦ РИОР, НИЦ ИНФРА-М, 2020. - 336 с. - (Высшее образование: Бакалавриат). - ISBN 978-5-369-01574-2. - Текст : электронный. - URL: <https://znanium.com/catalog/product/1048445> (дата обращения: 05.08.2020). – Режим доступа: по подписке.

б) Дополнительная литература:

1. Бабичева, И. В. Теоретическая механика. Примеры и задания для самостоятельной работы : учебное пособие / И. В. Бабичева, И. А. Абрамова. — Санкт-Петербург : Лань, 2020. — 208 с. — ISBN 978-5-8114-4317-8. — Текст : электронный // Лань : электронно-библиотечная система. — URL: <https://e.lanbook.com/book/138154> (дата обращения: 05.08.2020). — Режим доступа: для авториз. пользователей.

2. Кирсанов, М. Н. Решения задач по теоретической механике : учебное пособие

/ М. Н. Кирсанов. — Москва : ИНФРА-М, 2019. — 216 с. — (Высшее образование: Бакалавриат). - ISBN 978-5-16-010558-1. - Текст : электронный. - URL: <https://znanium.com/catalog/product/1021962> (дата обращения: 05.08.2020). – Режим доступа: по подписке.

3. Литвинова, Э. В. Теоретическая механика: учебно-методическое пособие для выполнения расчетно-графической работы по статике / Литвинова Э. В., Пшеничная-Ажермачёва К. С. - Москва : НИЦ ИНФРА-М, 2018. - 74 с. - (Крымский федеральный университет 100 лет). - ISBN 978-5-16-106881-6 (online). - Текст : электронный. - URL: <https://znanium.com/catalog/product/978523> (дата обращения: 05.08.2020). – Режим доступа: по подписке.

в) Методические указания:

1. Кинематический анализ плоского механизма: методические указания к выполнению самостоятельной работы по дисциплине "Теоретическая механика" для студентов всех специальностей / [сост. А. Е. Степанищев]; МГТУ; Белорецкий филиал. - Магнитогорск, 2011. - 1 электрон. опт. диск (CD-ROM). - Загл. с титул. экрана. - URL: <https://magtu.informsystema.ru/uploader/fileUpload?name=3121.pdf&show=dcatalogues/1/1135723/3121.pdf&view=true> (дата обращения: 09.10.2020). - Макрообъект. - Текст: электронный. - Сведения доступны также на CD-ROM.

2. Практикум по теоретической механике: учебное пособие / О. А. Осипова, С. В. Решетникова, О. В. Савинкина, А. С. Савинов; МГТУ, [каф. ТМиСМ]. - Магнитогорск, 2011. - 172 с. : ил., табл. - URL: <https://magtu.informsystema.ru/uploader/fileUpload?name=465.pdf&show=dcatalogues/1/1080715/465.pdf&view=true> (дата обращения: 09.10.2020). - Макрообъект. - Текст: электронный. - Имеется печатный аналог.

3. Дрожжин, В. В. Сборник заданий по теоретической механике. Статика : учебное пособие / В. В. Дрожжин. — 2-е изд., испр. — Санкт-Петербург : Лань, 2012. — 224 с. — ISBN 978-5-8114-1296-5. — Текст : электронный // Лань : электронно-библиотечная система. — URL: <https://e.lanbook.com/book/3549> (дата обращения: 14.10.2020). — Режим доступа: для авториз. пользователей.

4. Дрожжин, В. В. Сборник заданий по теоретической механике. Кинематика : учебное пособие / В. В. Дрожжин. — 2-е изд., испр. — Санкт-Петербург : Лань, 2012. — 192 с. — ISBN 978-5-8114-1297-2. — Текст : электронный // Лань : электронно-библиотечная система. — URL: <https://e.lanbook.com/book/3547> (дата обращения: 14.10.2020). — Режим доступа: для авториз. пользователей.

5. Дрожжин, В. В. Сборник заданий по теоретической механике. Динамика : учебное пособие / В. В. Дрожжин. — 2-е изд., испр. — Санкт-Петербург : Лань, 2012. — 384 с. — ISBN 978-5-8114-1298-9. — Текст : электронный // Лань : электронно-библиотечная система. — URL: <https://e.lanbook.com/book/3548> (дата обращения: 14.10.2020). — Режим доступа: для авториз. пользователей.

6. Бать, М. И. Теоретическая механика в примерах и задачах : учебное пособие / М. И. Бать, Г. Ю. Джанелидзе, А. С. Кельзон. — 12-е изд., стер. — Санкт-Петербург : Лань, [б. г.]. — Том 1 : Статика и кинематика — 2013. — 672 с. — ISBN 978-5-8114-1035-4. — Текст : электронный // Лань : электронно-библиотечная система. — URL: <https://e.lanbook.com/book/4551> (дата обращения: 14.10.2020). — Режим доступа: для авториз. пользователей.

7. Бать, М. И. Теоретическая механика в примерах и задачах : учебное пособие / М. И. Бать, Г. Ю. Джанелидзе, А. С. Кельзон. — 10-е изд., стер. — Санкт-Петербург : Лань, [б. г.]. — Том 2 : Динамика — 2013. — 640 с. — ISBN 978-5-8114-1021-7. — Текст : электронный // Лань : электронно-библиотечная система. — URL: <https://e.lanbook.com/book/4552> (дата обращения: 14.10.2020). — Режим доступа: для авториз. пользователей.

8. Бабичева, И. В. Теоретическая механика. Примеры и задания для

само-стоятельной работы : учебное пособие / И. В. Бабичева, И. А. Абрамова. — Санкт-Петербург : Лань, 2020. — 208 с. — ISBN 978-5-8114-4317-8. — Текст : электронный // Лань : электронно-библиотечная система. — URL: <https://e.lanbook.com/book/138154> (дата обращения: 14.10.2020). — Режим доступа: для авториз. пользователей.

9. Сборник коротких задач по теоретической механике : учебное пособие / под редакцией О. Э. Кепе. — 7-е изд., стер. — Санкт-Петербург : Лань, 2020. — 368 с. — ISBN 978-5-8114-5266-8. — Текст : электронный // Лань : электронно-библиотечная система. — URL: <https://e.lanbook.com/book/138186> (дата обращения: 14.10.2020). — Режим доступа: для авториз. пользователей.

г) Программное обеспечение и Интернет-ресурсы:

Программное обеспечение

Наименование ПО	№ договора	Срок действия лицензии
MS Office 2007 Professional	№ 135 от 17.09.2007	бессрочно
7Zip	свободно распространяемое ПО	бессрочно
FAR Manager	свободно распространяемое ПО	бессрочно

Профессиональные базы данных и информационные справочные системы

Название курса	Ссылка
Информационная система - Единое окно доступа к информационным ресурсам	URL: http://window.edu.ru/
Национальная информационно-аналитическая система – Российский индекс научного цитирования (РИНЦ)	URL: https://elibrary.ru/project_risc.asp
Электронная база периодических изданий East View Information Services, ООО «ИВИС»	https://dlib.eastview.com/
Поисковая система Академия Google (Google Scholar)	URL: https://scholar.google.ru/

9 Материально-техническое обеспечение дисциплины (модуля)

Материально-техническое обеспечение дисциплины включает:

Учебные аудитории для проведения занятий лекционного типа Мультимедийные средства хранения, передачи и представления информации

Учебные аудитории для проведения практических занятий, групповых и индивидуальных консультаций, текущего контроля и промежуточной аттестации Доска, мультимедийный проектор, экран.

Помещения для самостоятельной работы обучающихся Персональные компьютеры с пакетом MS Office, выходом в Интернет и с доступом в электронную информационно-образовательную среду университета

Помещение для хранения и профилактического обслуживания учебного оборудования Стеллажи для хранения учебно-методических пособий и учебно-методической документации

6 Учебно-методическое обеспечение самостоятельной работы обучающихся

По дисциплине «Теоретическая механика» предусмотрено выполнение контрольной работы обучающимся.

Контрольная работа №1

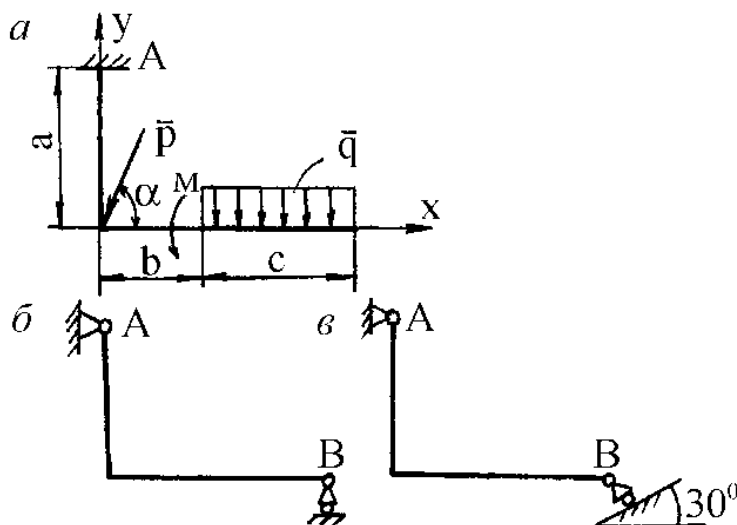
Задание №1

Задача на равновесие твердого тела (бруса) с осью в виде ломаной линии, находящегося под действием плоской системы сил, линии действия которых расположены как угодно в одной плоскости.

При вычислении момента силы P относительно выбранной точки удобно применить теорему Вариньона о моменте равнодействующей. Для этого силу нужно разложить на две составляющие по горизонтальному и вертикальному направлениям, а затем найти момент силы P относительно точки как сумму моментов этих составляющих относительно той же точки.

Равномерно распределенная нагрузка характеризуется интенсивностью нагрузки (силой, приходящейся на единицу длины) и обозначается обычно буквой q . Равнодействующая распределенной нагрузки в общем случае равна площади эпюры нагрузки и приложена в центре тяжести этой площади.

P , кН	α , °	q , кН/м	M , кН*м	a , м	b , м	c , м
10	30	4	40	2	1	3



Задание №2

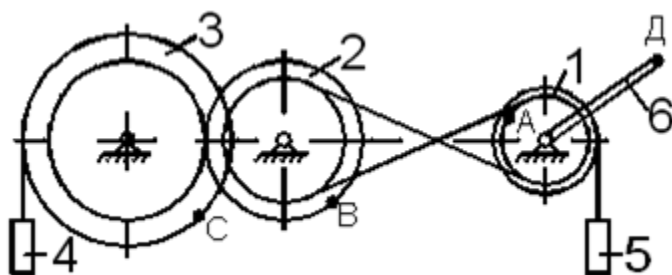
Механизм состоит из ступенчатых колес 1 – 3, находящихся в зацеплении или связанных ременной передачей, грузов 4 и 5 и стрелки 6, жестко связанной с соответствующим колесом. Радиусы ступеней колес равны соответственно: колеса 1 – $r_1 = 6$ см, $R_1 = 8$ см; колеса 2 – $r_2 = 8$ см, $R_2 = 12$ см; колеса 3 – $r_3 = 16$ см, $R_3 = 18$ см; длина стрелки L (рис. 2.1-2.10).

1. В табл. 3 указан закон движения или закон изменения скорости ведущего звена, где $\varphi_1(t)$ – закон вращения колеса 1; $S_4(t)$ – закон движения груза 4; $\omega_2(t)$ – закон изменения угловой скорости колеса 2; $V_5(t)$ – закон изменения скорости груза 5; и т.д. (φ – в радианах, S – в см, t – в с.). Положительное направление φ и ω – против хода часовой стрелки, а S_4 , S_5 , V_4 и V_5 – вниз.

Найти в момент времени t_1 скорости и ускорения соответствующих точек и поступательно движущихся тел (столбцы 3 и 4 табл. 3), а также угловые скорости и ускорения вращающихся тел.

Данные к заданию К-2

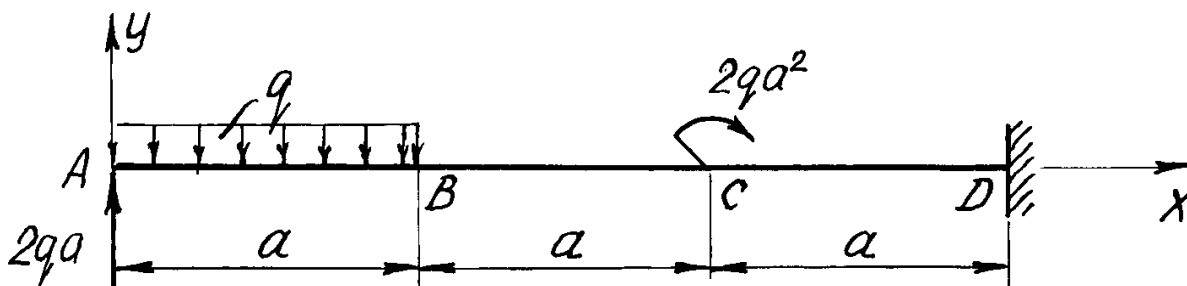
Алфавит	Дано	Найти		L, м	Рис.
		скорости	ускорения		
а б в	$\varphi_2 = 2t - 9$	V_D, V_4, ω_1	a_D, a_4, ε_1	20	0
г д е ё	$\varphi_1 = 7t - 3t^2$	V_D, V_5, ω_2	a_D, a_4, ε_2	22	1
ж з и й	$S_4 = 2t^2 - 5t$	V_B, V_C, V_D	a_D, a_4, ε_2	24	2



Контрольная работа №2

Задание №3

1. Определить реакции связей, возникающих под действием заданных нагрузок.



q, кН/м	a, м
10	3

Задание №4

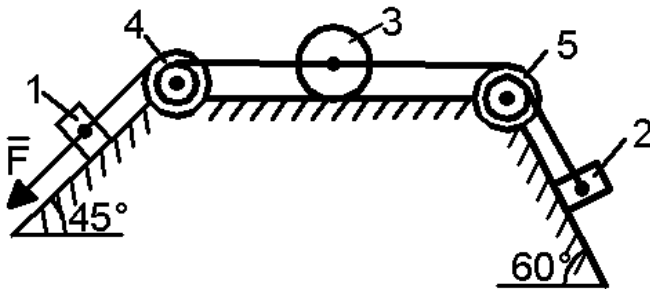
Применение теоремы об изменении кинетической энергии

Механическая система состоит из грузов 1 и 2 (коэффициент трения грузов о плоскость $f = 0,1$), сплошного однородного цилиндрического катка 3 и ступенчатых шкивов 4 и 5 с радиусами ступеней $R_4 = 0,3$ м, $r_4 = 0,1$ м,

$R_5 = 0,2$ м, $r_5 = 0,1$ м (массу каждого шкива считать равномерно распределенной по его внешнему ободу) (рис. 1.1 – 1.10). Тела системы соединены друг с другом нитями, участки нитей параллельны соответствующим плоскостям. Под действием силы $F = f(s)$, зависящей от перемещения точки приложения силы, система приходит в движение из состояния покоя. При движении системы на шкив 4 действует постоянный момент сил сопротивления, равный M_4 , а момент сил сопротивления $M_5 = 0$, при этом масса шкива 4 равна нулю. Определить значение искомой величины (табл. 1) в тот момент времени, когда перемещение точки приложения силы \bar{F} равно s_1 . V_1 – скорость груза 1; V_{C_3} – скорость центра масс катка 3; ω_4 – угловая скорость тела 4 и т.д.

Данные к заданию Д-1

Алфавит	m_1 , кг	m_2 , кг	m_3 , кг	m_5 , кг	M_4 , Н·м	$F = f(s)$, Н	s_1 , м	Рис.	Найти
а б в	2	8	4	6	0,2	$50(2+3s)$	1,	1	V_1
г д е ё	6	9	2	8	0,6	$20(5+2s)$	1,	2	ω_5
ж з и й	9	4	6	7	0,1	$80(3+2s)$	1,	3	V_{C3}
к л м	9	2	4	10	0,3	$40(4+5s)$	1,	4	V_2



Вопросы для самопроверки:

1. Основные понятия и аксиомы статики.
2. Связи и их реакции.
3. Методика решения задач статики.
4. Момент силы относительно точки.
5. Теорема о моменте равнодействующей (теорема Вариньона).
6. Пара сил. Свойства пар сил. Момент пары сил.
7. Главный вектор и главный момент произвольной системы сил. Основная теорема статики.
8. Аналитическое определение главного вектора и главного момента произвольной плоской системы сил.
9. Условия и уравнения равновесия произвольной плоской системы сил.
10. Лемма о параллельном переносе силы
11. Центр тяжести твёрдого тела. Методы определения.
12. Равновесие с учётом трения. Трение скольжения. Коэффициент трения скольжения. Угол трения. Конус трения.
13. Трение качения. Коэффициент трения качения.
14. Векторный способ задания движения точки
15. Координатный способ задания движения точки
16. Естественный способ задания движения точки
17. Поступательное движение твёрдого тела. Свойства поступательного движения твёрдого тела
18. Вращательное движение твёрдого тела. Кинематические характеристики вращательного движения

19. Линейные скорость и ускорение точки, лежащей на вращающемся теле
20. Плоскопараллельное движение твёрдого тела. Кинематические уравнения плоско-параллельного движения
21. Методы нахождения скоростей точек плоской фигуры
22. Мгновенный центр скоростей. Частные случаи нахождения положения мгновенного центра скоростей
23. Нахождение линейного ускорения точек плоской фигур
24. Аксиомы динамики
25. Инертность тела. Мера инертности тела при поступательном движении твёрдого тела. Центр масс тел.
26. Момент инерции твёрдого тела относительно неподвижной оси. Радиус инерции.
27. Теорема о движении центра масс тела механической системы. Следствия из теоремы
28. Количество движения точки и механической системы. Импульс силы. Момент количества движения точки относительно центра. Кинетический момент механической системы
29. Теорема об изменении количества движения механической системы. Следствия из теоремы
30. Теорема об изменении кинетического момента механической системы. Следствия из теоремы
31. Работа постоянной силы. Понятие работы силы.
32. Работа переменной силы
33. Работа силы тяжести. Работа пары сил.
34. Работа силы, приложенной к вращающемуся телу. Работа сил упругости.
35. Кинетическая энергия твёрдого тела при поступательном и вращательном движениях
36. Кинетическая энергия твёрдого тела при плоско - параллельном движении
37. Теорема об изменении кинетической энергии материальной точки
38. Теорема об изменении кинетической энергии механической системы. Порядок решения задач по теореме об изменении кинетической энергии
39. Классификация связей. Примеры связей.
40. Возможные перемещения. Идеальные связи. Примеры идеальных и неидеальных связей.
41. Принцип возможных перемещений
42. Принцип Даламбера - Лагранжа
43. Принцип Даламбера для материальной точки и для механической системы
44. Приведение сил инерции точек твёрдого тела
45. Порядок решения задач с помощью принципа Даламбера
46. Порядок составления общего уравнения динамики

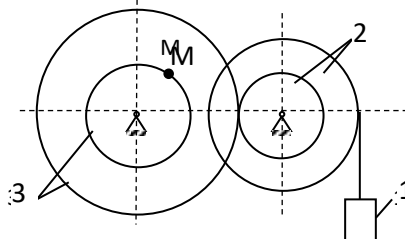
7 Оценочные средства для проведения промежуточной аттестации

а) Планируемые результаты обучения и оценочные средства для проведения промежуточной аттестации:

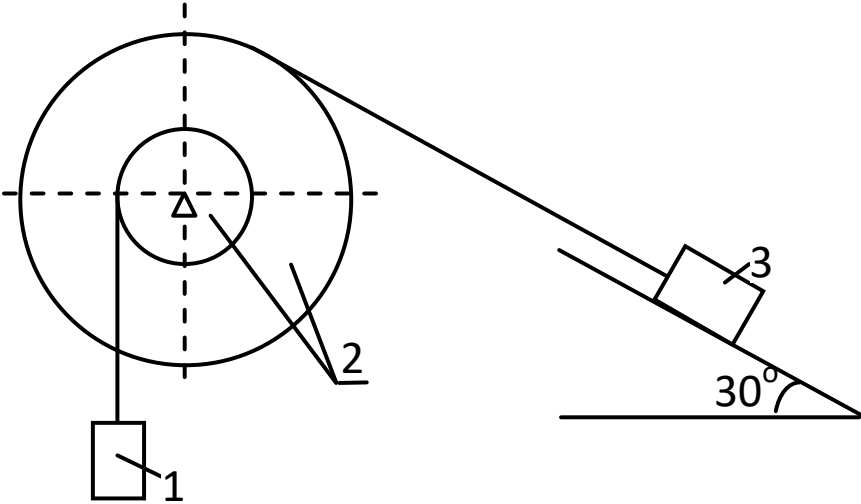
Промежуточная аттестация имеет цель определить степень достижения запланированных результатов обучения по дисциплине «Теоретическая механика» и проводится в форме экзамена на 2 курсе.

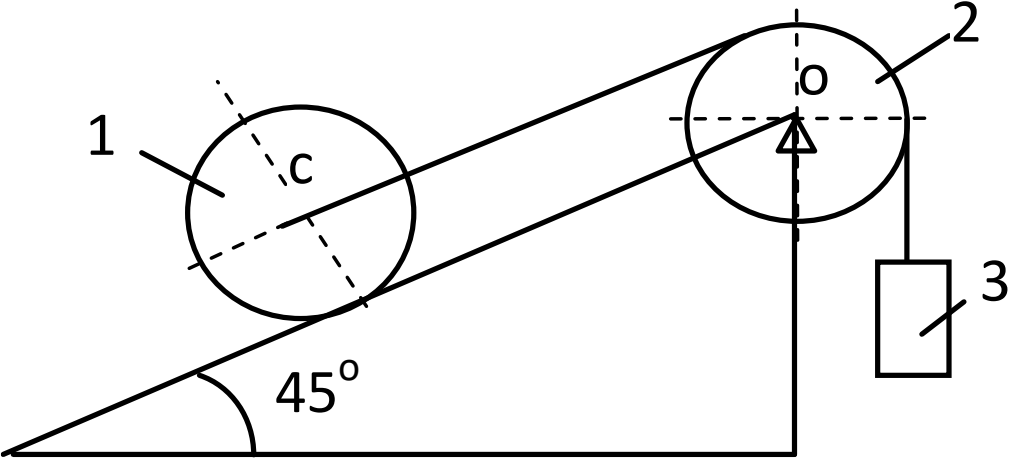
Структурный элемент компетенции	Планируемые результаты обучения	Оценочные средства
ОПК-1: Способен применять естественнонаучные и общинженерные знания, методы математического анализа и моделирования в профессиональной деятельности		
ОПК-1.1: Решает стандартные профессиональные задачи с применением общинженерных знаний		
Знать	основные понятия проецирования и способы преобразования проекций, равновесия материальных тел, виды движения тел, реакции связей.	<p>Перечень теоретических вопросов:</p> <ol style="list-style-type: none"> 1. Аксиомы статики. Связи и их реакции 2. Произвольная пространственная система сил. Частные случаи приведения системы к простейшему виду. Условия и уравнения равновесия. 3. Фермы. Метод вырезания узлов (аналитическая и графическая форма расчета). Метод сечений. 4. Момент силы относительно точки и оси. Связь момента силы относительно точки с моментом силы относительно оси. 5. Движение точки лежащей на вращающемся теле. 6. Сложное движение точки. Теорема о сложении скоростей и теорема о сложении ускорений. 7. Трение качения. Коэффициент трения качения 8. Произвольная плоская система сил. 9. Произвольная система сил. Лемма о параллельном переносе силы. Основная теорема статики.

Структурный элемент компетенции	Планируемые результаты обучения	Оценочные средства
		<ol style="list-style-type: none"> 10. Трение качения. Коэффициент трения качения. 11. Центр тяжести. Способы определения координат центра тяжести 12. Классификация связей. Уравнения связей. 13. Плоскопараллельное движение твердого тела. Уравнения плоского движения. Определение скоростей точек плоской фигуры. 14. Плоскопараллельное движение твердого тела. Мгновенный центр скоростей. Частные случаи нахождения мгновенного центра скоростей. 15. Плоскопараллельное движение твердого тела. Определение ускорений точек плоской фигуры. 16. Поступательное и вращательное движение твердого тела. 17. Векторный способ задания движения точки. (закон движения, скорость, ускорение точки). 18. Координатный способ задания движения точки (кинематические уравнения, закон движения, скорость, ускорение точки). 19. Естественный способ задания движения точки (закон движения, скорость, ускорение точки). Поступательное движение твердого тела (определение движения, теорема о траекториях, скоростях и ускорениях точек тела) Естественные оси координат, кривизна кривой, радиус кривизны. 20. Вращательное движение твердого тела вокруг неподвижной оси (определение, ось вращения, закон движения, угловая скорость и ускорение). 21. Плоскопараллельное движение тела. Определение линейной скорости точек тела. Теорема о проекциях скоростей двух точек фигуры на прямую их соединяющую 22. Плоскопараллельное движение. Определение ускорения точки. Определение углового ускорения плоской фигуры. 23. Ускорение Кориолиса. Правило Жуковского. 24. Предмет кинематики. Кинематика точки. Способы задания движения точки.

Структурный элемент компетенции	Планируемые результаты обучения	Оценочные средства
Уметь	выбрать метод решения задачи.	<p>Примерное практическое задание:</p> <p>Колесо 3 с радиусами $R_3 = 30$ см и $r_3 = 10$ см и колесо 2 с радиусами $R_2 = 20$ см и $r_2 = 10$ см находятся в зацеплении. На тело 2 намотана, нить с грузом 1 на конце, который движется по закону $s_1 = 4 + 90t^2$, см. Определить v_M, a_M в момент времени $t_1 = 1$ с.</p> 
Владеть	навыками и методиками обобщения	<p>Примерное практическое задание:</p>

Структурный элемент компетенции	Планируемые результаты обучения	Оценочные средства
	<p>поставленной задачи, практическими навыками использования элементов решения задач кинематики и статики в других дисциплинах.</p>	<p>Статически определимая рама, расчетная схема которой показана на рисунке, загружена внешней нагрузкой. Найти реакции опор.</p>
<p>ОПК-1.2: Применяет методы моделирования и математического анализа для решения задач в профессиональной деятельности</p>		
Знать	<p>основные законы, методы и принципы решения задач кинематики, статики, динамики.</p>	<ol style="list-style-type: none"> 1. Общее уравнение динамики. 2. Работа силы. Работа переменной силы. Частные случаи определения работы. 3. Работа силы. Элементарная работа переменной силы. 4. Аксиомы динамики. 5. Принцип Даламбера для точки и системы. Главный вектор и главный момент сил инерции. 6. Возможные перемещения точки, тела, системы тел. 7. Принцип Даламбера для механической системы. 8. Предмет динамики. Аксиомы динамики. 9. Возможные перемещения. Идеальные связи. Определение сил инерции твердых тел при различных видах движения. 10. Кинетическая энергия точки и системы. 11. Уравнения Лагранжа 2 рода

Структурный элемент компетенции	Планируемые результаты обучения	Оценочные средства
		<p>12. Теорема об изменении кинетической энергии в дифференциальной и интегральной формах.</p> <p>13. Принцип возможных перемещений.</p> <p>14. Кинетическая энергия твердого тела при поступательном, вращательном и плоскопараллельном движениях</p>
Уметь	составлять расчетные схемы к решению поставленной задачи, записывать дифференциальные уравнения движения.	<p>Механическая система под действием сил тяжести приходит в движение из состояния покоя. Учитывая трение скольжения тела 3 $f=0,1$, пренебрегая другими силами сопротивления и массами нитей, предполагаемых нерастяжимыми, определить скорость тела 1 в тот момент, когда пройденный им путь станет равным $S_1 = 0,5$ м. Принять: $m_1 = m_2 = 2m$, $m_3 = m$, $R=2r$, $\rho_0=3r$ см.</p> 

Структурный элемент компетенции	Планируемые результаты обучения	Оценочные средства
Владеть	<p>навыками и методиками обобщения поставленной задачи, практическими навыками использования элементов решения задач динамики на других дисциплинах.</p>	<p>Каток 1 массой $m_1 = 3m$ кг, скатываясь без скольжения по наклонной плоскости вниз, поднимает посредством нерастяжимой нити, переброшенной через блок 2 груз 3 массой $m_3 = m$ кг. Каток 1 и блок 2 – однородные круглые диски с одинаковыми массами и радиусами. Определить ускорение центра катка 1. Массой нити пренебречь.</p>  <p>The diagram shows a cylinder labeled '1' on an inclined plane that makes a 45° angle with the horizontal. The center of the cylinder is marked with 'c'. A string is attached to the top of the cylinder, passes over a pulley labeled '2' (a disk with center 'o'), and is attached to a rectangular mass labeled '3' hanging vertically. The pulley is supported by a vertical stand.</p>

б) Порядок проведения промежуточной аттестации, показатели и критерии оценивания:

Промежуточная аттестация по дисциплине «Теоретическая механика» включает теоретические вопросы, позволяющие оценить уровень усвоения обучающимися знаний, и практические задания, выявляющие степень сформированности умений и владений, проводится в форме экзамена на 2 курсе.

Экзамен по данной дисциплине проводится в устной форме по экзаменационным билетам, каждый из которых включает 2 теоретических вопроса и одно практическое задание.

Показатели и критерии оценивания экзамена:

- **на оценку «отлично» (5 баллов)** – обучающийся демонстрирует высокий уровень сформированности компетенций, всестороннее, систематическое и глубокое знание учебного материала, свободно выполняет практические задания, свободно оперирует знаниями, умениями, применяет их в ситуациях повышенной сложности.
- **на оценку «хорошо» (4 балла)** – обучающийся демонстрирует средний уровень сформированности компетенций: основные знания, умения освоены, но допускаются незначительные ошибки, неточности, затруднения при аналитических операциях, переносе знаний и умений на новые, нестандартные ситуации.
- **на оценку «удовлетворительно» (3 балла)** – обучающийся демонстрирует пороговый уровень сформированности компетенций: в ходе контрольных мероприятий допускаются ошибки, проявляется отсутствие отдельных знаний, умений, навыков, обучающийся испытывает значительные затруднения при оперировании знаниями и умениями при их переносе на новые ситуации.
- **на оценку «неудовлетворительно» (2 балла)** – обучающийся демонстрирует знания не более 20% теоретического материала, допускает существенные ошибки, не может показать интеллектуальные навыки решения простых задач.
- **на оценку «неудовлетворительно» (1 балл)** – обучающийся не может показать знания на уровне воспроизведения и объяснения информации, не может показать интеллектуальные навыки решения простых задач.