



МИНИСТЕРСТВО НАУКИ И ВЫСШЕГО ОБРАЗОВАНИЯ
РОССИЙСКОЙ ФЕДЕРАЦИИ

Федеральное государственное бюджетное образовательное учреждение
высшего образования
«Магнитогорский государственный технический университет им. Г.И. Носова»



УТВЕРЖДАЮ
Директор ИММиМ
А.С. Савинов

15.02.2022 г.

РАБОЧАЯ ПРОГРАММА ДИСЦИПЛИНЫ (МОДУЛЯ)

ТЕОРЕТИЧЕСКАЯ МЕХАНИКА

Направление подготовки (специальность)

23.05.01 Наземные транспортно-технологические средства

Направленность (профиль/специализация) программы

23.05.01 Подъемно-транспортные, строительные, дорожные средства и оборудование

Уровень высшего образования - специалитет

Форма обучения
очная

Институт/ факультет	Институт металлургии, машиностроения и материалообработки
Кафедра	Механики
Курс	1, 2
Семестр	2, 3

Магнитогорск
2022 год

Рабочая программа составлена на основе ФГОС ВО - специалитет по специальности 23.05.01 Наземные транспортно-технологические средства (приказ Минобрнауки России от 11.08.2020 г. № 935)

Рабочая программа рассмотрена и одобрена на заседании кафедры Механики
14.02.2022, протокол № 9

Зав. кафедрой _____ А.С. Савинов

Рабочая программа одобрена методической комиссией ИММиМ
15.02.2022 г. протокол № 6

Председатель _____ А.С. Савинов

Согласовано:

Зав. кафедрой Горных машин и транспортно-технологических комплексов

_____ А.М. Мажитов

Рабочая программа составлена:

ст. преподаватель кафедры Механики, _____ А.С. Постникова

Рецензент:

директор ЗАО НПО "ЦХТ", канд. техн. наук _____ В.П. Дзюба

1 Цели освоения дисциплины (модуля)

Целью освоения дисциплины «Теоретическая механика» является обучить будущих бакалавров знаниям общих законов механического движения и механического взаимодействия материальных тел, необходимых для инженерных расчетов.

Задачи дисциплины – дать обучающемуся знания о механических процессах, необходимые для изучения специальных дисциплин. Приобретенные знания способствуют формированию технических навыков и разностороннего мышления.

2 Место дисциплины (модуля) в структуре образовательной программы

Дисциплина Теоретическая механика входит в обязательную часть учебного плана образовательной программы.

Для изучения дисциплины необходимы знания (умения, владения), сформированные в результате изучения дисциплин/ практик:

Информатика

Математика

Физика

Знания (умения, владения), полученные при изучении данной дисциплины будут необходимы для изучения дисциплин/практик:

Сопротивление материалов

Механика манипуляционных систем

Детали машин и основы конструирования

Основы проектирования машин

Основы робототехники

3 Компетенции обучающегося, формируемые в результате освоения дисциплины (модуля) и планируемые результаты обучения

В результате освоения дисциплины (модуля) «Теоретическая механика» обучающийся должен обладать следующими компетенциями:

Код индикатора	Индикатор достижения компетенции
ОПК-1	Способен ставить и решать инженерные и научно-технические задачи в сфере своей профессиональной деятельности и новых междисциплинарных направлений с использованием естественнонаучных, математических и технологических моделей;
ОПК-1.1	Использует законы и методы математики, естественных наук при решении профессиональных задач
ОПК-1.2	Применяет и использует современные материалы и элементную базу узлов, деталей и приводов машин
ОПК-1.3	Применяет методы проектирования и расчета деталей и узлов машин
ОПК-1.4	Понимает конструкцию технического объекта по чертежу, демонстрирует первичные навыки выполнения конструкторской документации на основе стандартов ЕСКД

4. Структура, объём и содержание дисциплины (модуля)

Общая трудоемкость дисциплины составляет 8 зачетных единиц 288 акад. часов, в том числе:

- контактная работа – 163,9 акад. часов;
- аудиторная – 158 акад. часов;
- внеаудиторная – 5,9 акад. часов;
- самостоятельная работа – 88,4 акад. часов;
- в форме практической подготовки – 0 акад. час;
- подготовка к экзамену – 35,7 акад. час

Форма аттестации - экзамен, зачет

Раздел/ тема дисциплины	Семестр	Аудиторная контактная работа (в акад. часах)			Самостоятельная работа студента	Вид самостоятельной работы	Форма текущего контроля успеваемости и промежуточной аттестации	Код компетенции
		Лек.	лаб. зан.	практ. зан.				
1. 1. Кинематика								
1.1 1. Кинематика точки. 2. Простейшие виды движения твердого тела. 3. Сложное движение точки. 4. Плоскопараллельное движение твердого тела.	2	10		12	18,3	Выполнение РГР 1 «Кинематика»	Практические занятия, теоретический опрос	ОПК-1.1, ОПК-1.2, ОПК-1.3, ОПК-1.4
Итого по разделу		10		12	18,3			
2. 2. Статика								
2.1 1. Основные понятия и аксиомы статики. 2. Сходящаяся система сил.	2	10		12	8	Решение аудиторной самостоятельной работы	Практические занятия, теоретический опрос, проверка решения задач	ОПК-1.1, ОПК-1.2, ОПК-1.3, ОПК-1.4
2.2 1. Произвольная система сил. 2. Центр тяжести твердого тела.		14		10	10	Выполнение РГР 2 «Статика»	Практические занятия, теоретический опрос	ОПК-1.1, ОПК-1.2, ОПК-1.3, ОПК-1.4
Итого по разделу		24		22	18			
Итого за семестр		34		34	36,3		экзамен	
3. 3. Динамика								
3.1 1. Аксиомы динамики. 2. Теоремы динамики. 3. Динамика точки.	3	12		20	8	Выполнение РГР 3 «Динамика»	Практические занятия, теоретический опрос.	ОПК-1.1, ОПК-1.2, ОПК-1.3, ОПК-1.4
3.2 1. Динамика механической системы. 2. Принципы механики.		8		20	18	Подготовка к экзаменационным вопросам с помощью учебно-методической и научной литературы	Практические занятия, теоретический опрос.	ОПК-1.1, ОПК-1.2, ОПК-1.3, ОПК-1.4

3.3 1. Фермы		6		4	10	Решение аудиторной самостоятельной работы	Практические занятия, теоретический опрос, проверка решения задач	ОПК-1.1, ОПК-1.2, ОПК-1.3, ОПК-1.4
3.4 1. Принцип возможных перемещений		10		10	16,1	Решение аудиторной самостоятельной работы	Практические занятия, теоретический опрос, проверка решения задач	ОПК-1.1, ОПК-1.2, ОПК-1.3, ОПК-1.4
Итого по разделу		36		54	52,1			
Итого за семестр		36		54	52,1		зачёт	
Итого по дисциплине		70		88	88,4		экзамен, зачет	

5 Образовательные технологии

Для реализации предусмотренных видов учебной работы в качестве образовательных технологий в преподавании дисциплины «Теоретическая механика» используются традиционные образовательные технологии, которые ориентируются на организацию образовательного процесса, предполагающего прямую трансляцию знаний от преподавателя к обучающемуся (преимущественно на основе объяснительно-иллюстративных методов обучения). Учебная деятельность обучающегося носит в таких условиях, как правило, репродуктивный характер.

Формы учебных занятий с использованием традиционных технологий:

Информационная лекция – последовательное изложение материала в дисциплинарной логике, осуществляемое преимущественно вербальными средствами.

Практическое занятие, посвященное освоению конкретных умений и навыков по предложенному алгоритму.

6 Учебно-методическое обеспечение самостоятельной работы обучающихся

Представлено в приложении 1.

7 Оценочные средства для проведения промежуточной аттестации

Представлены в приложении 2.

8 Учебно-методическое и информационное обеспечение дисциплины (модуля)

а) Основная литература:

1. Бурчак Г. П. Теоретическая механика [Электронный ресурс] : учебное пособие / Г. П. Бурчак, Л. В. Винник. — М. : ИНФРА-М, 2018. — 271 с. — (Высшее образование). — Режим доступа: <http://znanium.com/bookread2.php?book=942814>. — Загл. с эк-рана.

2. Простов, С. М. Теоретическая механика [Электронный ресурс] : учебное пособие / С. М. Простов. — Электрон. дан. — Кемерово : КузГТУ имени Т. Ф. Горбачева, 2013. — 301 с. — Режим доступа: <https://e.lanbook.com/book/69513>. — Загл. с экрана.

б) Дополнительная литература:

1. Осипова, О. А. Практикум по теоретической механике: практикум / О. А. Осипова, А. С. Савинов ; МГТУ. - Магнитогорск : МГТУ, 2017. - 1 электрон. опт. диск (CD-ROM). - Загл. с титул. экрана. - URL: <https://magtu.informsystema.ru/uploader/fileUpload?name=3243.pdf&show=dcatalogues/1/1137012/3243.pdf&view>

2. Кинематический анализ плоского механизма: методические указания к выполнению самостоятельной работы по дисциплине "Теоретическая механика" для студентов всех специальностей / [сост. А. Е. Степанищев] ; МГТУ ; Белорецкий филиал. -

в) Методические указания:

1. Статика (конспект лекций по дисциплине «ТМ» для обучающихся дневной и заочной форм обучения): 2008г., Н.Н. Хоменко, А.С. Тубольцева, А.С. Савинов — 24л.
2. Определение коэффициента трения материала в различных температурных условиях: 2009г., А.С. Савинов, А.С. Тубольцева, С.В. Решетникова- 16л.
3. Теоретическая механика. Метод, указания и контрольные задания для обучающихся заочной формы обучения): 2009г., О.С. Железков, Н.Н. Хоменко, А.С. Савинов, А.С. Тубольцева, К.И. Шишкина-60л.
4. Теоретическая механика. Метод, указания и контрольные задания для обучающихся всех специальностей заочного факультета): 2010г., О.С. Железков, Н.Н. Хоменко, А.С. Савинов, А.С. Тубольцева, К.И. Шишкина — 36л.
5. «Рабочая тетрадь» метод. указания по дисциплине «Теоретическая механика» для обучающихся немеханических специальностей: 2010г., Н.Н. Хоменко, А.С., Савинов, А.С. Тубольцева - 64 л.
6. Практикум по теоретической механике: 2011г., А.С.Савинов, О.А. Осипова, С.В. Решетникова, О.В. Савинкина— 172 л.
7. Осипова О.А., Решетникова С. В., Савинкина О.В., Савинов А. С., Практикум по теоретической механике: Изд-во. Магнитогорск. гос. техн.ун-та им. Г.И. Носова , 2011. 172 с.
8. Е.Г. Пшеничная, О.А. Осипова. Кинематика: методические указания и контрольные задания по дисциплине «Теоретическая механика» для студентов-заочников горных, строительных, механических, технологических и энергетических специальностей. Магнитогорск: Изд-во Магнитогорск. гос. техн. ун-та им. Г.И. Носова, 2014. 46 с.
9. Е.Г. Пшеничная, О.А. Осипова. Статика: методические указания и контрольные задания по дисциплине «Теоретическая механика» для студентов-заочников горных, строительных, механических, технологических и энергетических специальностей. Магнитогорск: Изд-во Магнитогорск. гос. техн. ун-та им. Г.И. Носова, 2014. 26 с.
10. Е.Г. Пшеничная, О.А. Осипова. Динамика: методические указания и контрольные задания по дисциплине «Теоретическая механика» для студентов заочников горных, строительных, механических, технологических и энергетических специальностей. Магнитогорск: Изд-во Магнитогорск. гос. техн. ун-та им. Г.И. Носова, 2014. 44 с.
11. Б.А. Борохович Уравнения Лагранжа второго рода в примерах и задачах: учеб. пособие / Б.А. Борохович. Магнитогорск: Изд-во Магнитогорск. гос. ун-та им. Г.И. Носова. 2015. 88с.
12. Н.Н. Хоменко, Б.Б. Зарицкий, К.А. Фролушкина Определение центра тяжести тела произвольной формы: методические указания по дисциплине «Теоретическая механика» для студентов всех форм обучения. Магнитогорск: Изд-во Магнитогорск. гос. ун-та им. Г.И. Носова. 2013. 10с.
13. О.С. Осипова Плоскопараллельное движение твердого тела: методические указания по дисциплине «Теоретическая механика» для студентов всех форм обучения . Магнитогорск: Изд-во Магнитогорск. гос. ун-та им. Г.И. Носова. 2013. 30с.
14. А.С.Савинов, А.С. Тубольцева, Н.Н. Хоменко Произвольная плоская система сил: методические указания по дисциплине «Теоретическая механика» для

студентов всех технических специальностей всех форм обучения. Изд-во Магнитогорск. гос. ун-та им. Г.И. Носова. 2013. 10с.

15. Пшеничная Е.Г., Постникова А.С. Теоретическая механика: Задачник. Магнито-горск: Изд-во Магнитогорск. гос. техн. ун-та им. Г.И. Носова, 2018.-103с.

г) Программное обеспечение и Интернет-ресурсы:

Программное обеспечение

Наименование ПО	№ договора	Срок действия лицензии
MS Office 2007 Professional	№ 135 от 17.09.2007	бессрочно
7Zip	свободно распространяемое ПО	бессрочно

Профессиональные базы данных и информационные справочные системы

Название курса	Ссылка
Электронная база периодических изданий East View Information Services, ООО «ИВИС»	https://dlib.eastview.com/
Национальная информационно-аналитическая система – Российский индекс научного цитирования (РИНЦ)	URL: https://elibrary.ru/project_risc.asp
Поисковая система Академия Google (Google Scholar)	URL: https://scholar.google.ru/
Информационная система - Единое окно доступа к информационным ресурсам	URL: http://window.edu.ru/

9 Материально-техническое обеспечение дисциплины (модуля)

Материально-техническое обеспечение дисциплины включает:

Учебные аудитории для проведения занятий лекционного типа Мультимедийные средства хранения, передачи и представления информации

Учебные аудитории для проведения практических занятий, групповых и индивидуальных консультаций, текущего контроля и промежуточной аттестации Доска, мультимедийный проектор, экран.

Помещения для самостоятельной работы обучающихся Персональные компьютеры с пакетом MS Office, выходом в Интернет и с доступом в электронную информационно-образовательную среду университета

Помещение для хранения и профилактического обслуживания учебного оборудования Стеллажи для хранения учебно-методических пособий и учебно-методической документации

6 Учебно-методическое обеспечение самостоятельной работы обучающихся

По дисциплине «Теоретическая механика» предусмотрено выполнение расчетно-графических и аудиторных самостоятельных работ обучающихся.

Аудиторная самостоятельная работа студентов предполагает решение контрольных задач на практических занятиях.

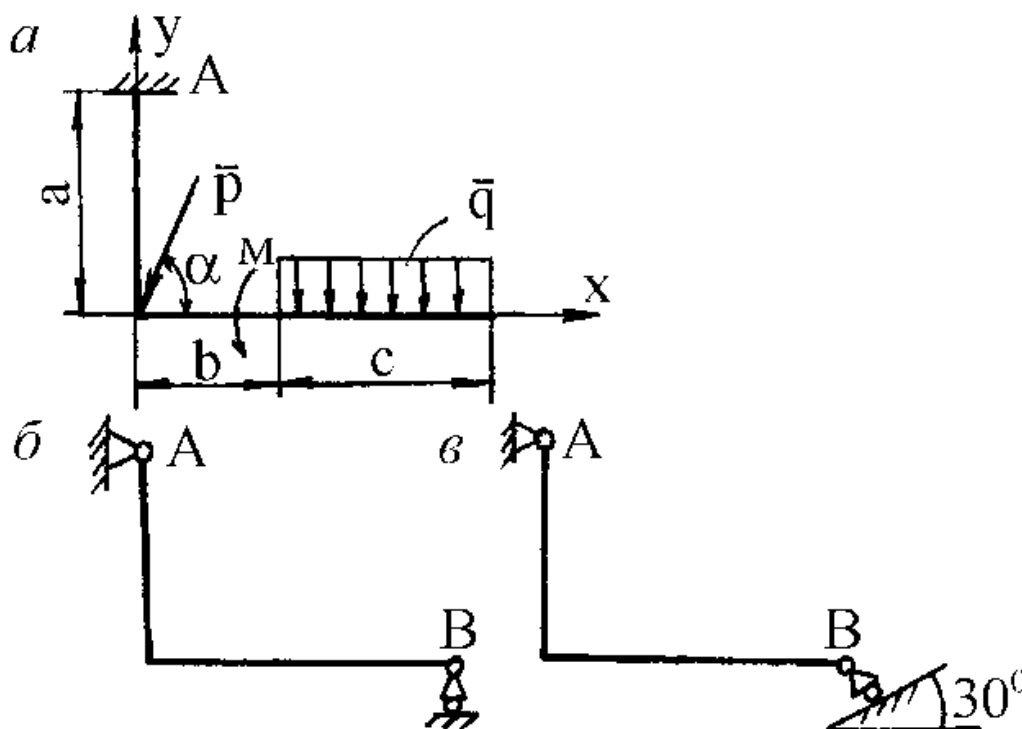
Аудиторная самостоятельная работа

Задача на равновесие твердого тела (бруса) с осью в виде ломаной линии, находящегося под действием плоской системы сил, линии действия которых расположены как угодно в одной плоскости.

При вычислении момента силы P относительно выбранной точки удобно применить теорему Вариньона о моменте равнодействующей. Для этого силу нужно разложить на две составляющие по горизонтальному и вертикальному направлениям, а затем найти момент силы P относительно точки как сумму моментов этих составляющих относительно той же точки.

Равномерно распределенная нагрузка характеризуется интенсивностью нагрузки (силой, приходящейся на единицу длины) и обозначается обычно буквой q . Равнодействующая распределенной нагрузки в общем случае равна площади эпюры нагрузки и приложена в центре тяжести этой площади.

Р, кН	$\alpha, ^\circ$	q, кН/м	M, кН*м	a, м	b, м	c, м
10	30	4	40	2	1	3



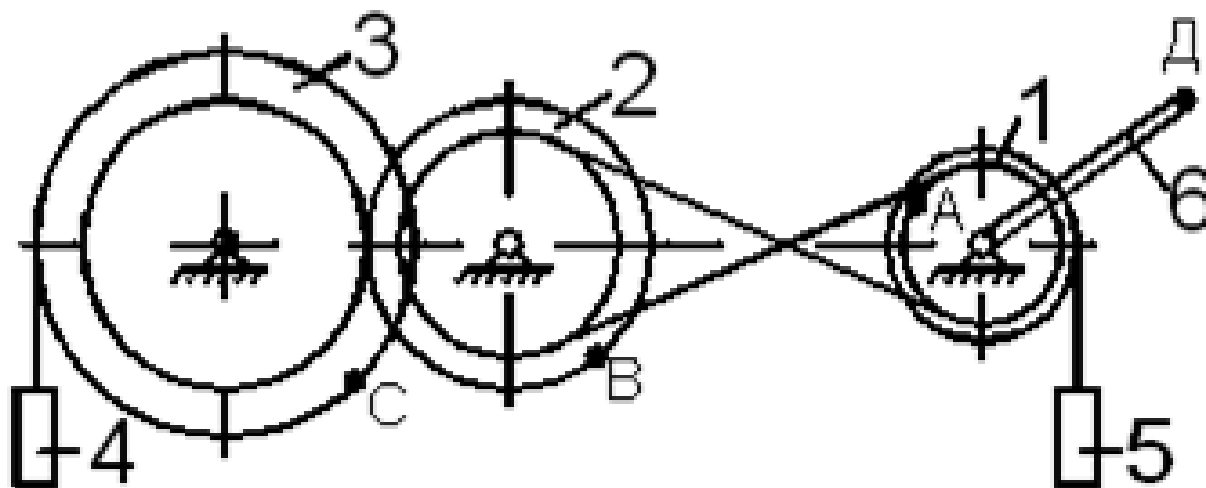
1. Механизм состоит из ступенчатых колес 1 – 3, находящихся в зацеплении или связанных ременной передачей, грузов 4 и 5 и стрелки 6, жестко связанной с соответствующим колесом. Радиусы ступеней колес равны соответственно: колеса 1 – $r_1 = 6$ см, $R_1 = 8$ см; колеса 2 – $r_2 = 8$ см, $R_2 = 12$ см; колеса 3 – $r_3 = 16$ см, $R_3 = 18$ см; длина стрелки L (рис. 2.1-2.10).

2. В табл. 3 указан закон движения или закон изменения скорости ведущего звена, где $\varphi_1(t)$ – закон вращения колеса 1; $S_4(t)$ – закон движения груза 4; $\omega_2(t)$ – закон изменения угловой скорости колеса 2; $V_5(t)$ – закон изменения скорости груза 5; и т.д. (φ – в радианах, S – в см, t – в с.). Положительное направление φ и ω – против хода часовой стрелки, а S_4 , S_5 , V_4 и V_5 – вниз.

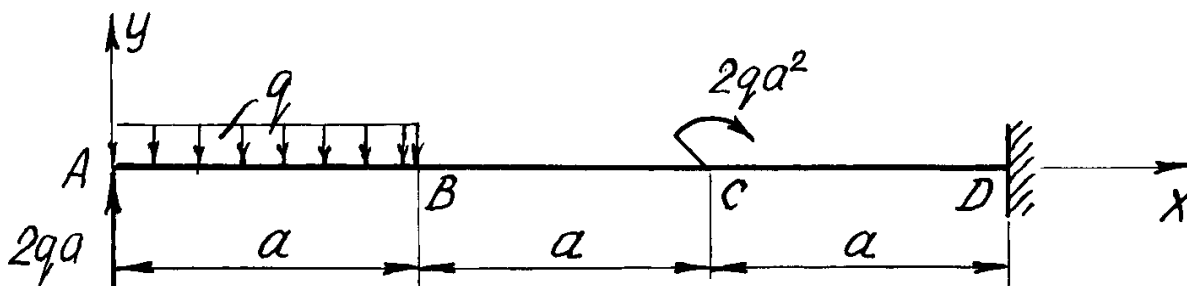
Найти в момент времени t_1 скорости и ускорения соответствующих точек и поступательно движущихся тел (столбцы 3 и 4 табл. 3), а также угловые скорости и ускорения вращающихся тел.

Данные к заданию К-2

Алфавит	Дано	Найти		L, м	Рис.
		скорости	ускорения		
а б в	$\varphi_2 = 2t - 9$	V_D, V_4, ω_1	a_D, a_4, ε_1	20	0
г д е ё	$\varphi_1 = 7t - 3t^2$	V_D, V_5, ω_2	a_D, a_4, ε_2	22	1
ж з и й	$S_4 = 2t^2 - 5t$	V_B, V_C, V_D	a_D, a_4, ε_2	24	2



1. Определить реакции связей, возникающих под действием заданных нагрузок.



q, кН/м	a, м
10	3

РГР №3 «Динамика»

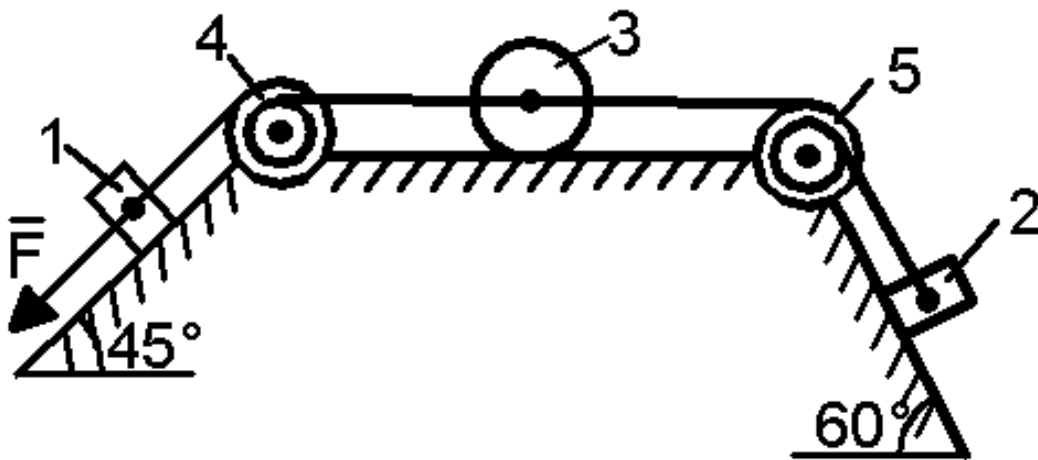
1. Применение теоремы об изменении кинетической энергии

Механическая система состоит из грузов 1 и 2 (коэффициент трения грузов о плоскость $f = 0,1$), сплошного однородного цилиндрического катка 3 и ступенчатых шкивов 4 и 5 с радиусами ступеней $R_4 = 0,3$ м, $r_4 = 0,1$ м,

$R_5 = 0,2$ м, $r_5 = 0,1$ м (массу каждого шкива считать равномерно распределенной по его внешнему ободу) (рис. 1.1 – 1.10). Тела системы соединены друг с другом нитями, участки нитей параллельны соответствующим плоскостям. Под действием силы $F = f(s)$, зависящей от перемещения точки приложения силы, система приходит в движение из состояния покоя. При движении системы на шкив 4 действует постоянный момент сил сопротивления, равный M_4 , а момент силы сопротивления $M_5 = 0$, при этом масса шкива 4 равна нулю. Определить значение искомой величины (табл. 1) в тот момент времени, когда перемещение точки приложения силы \bar{F} равно s_1 . V_1 – скорость груза 1; V_{C3} – скорость центра масс катка 3; ω_4 – угловая скорость тела 4 и т.д.

Данные к заданию Д-1

Алфавит	m_1 , кг	m_2 , кг	m_3 , кг	m_5 , кг	M_4 , Н·м	$F = f(s)$, Н	s_1 , м	Рис.	Найти
а б в	2	8	4	6	0,2	$50(2+3s)$	1,	1	V_1
г д е ё	6	9	2	8	0,6	$20(5+2s)$	1,	2	ω_5
ж з и й	9	4	6	7	0,1	$80(3+2s)$	1,	3	V_{C3}
к л м	9	2	4	10	0,3	$40(4+5s)$	1,	4	V_2



Вопросы для самопроверки:

1. Основные понятия и аксиомы статики.
2. Связи и их реакции.
3. Методика решения задач статики.
4. Момент силы относительно точки.
5. Теорема о моменте равнодействующей (теорема Вариньона).
6. Пара сил. Свойства пар сил. Момент пары сил.
7. Главный вектор и главный момент произвольной системы сил. Основная теорема статики.
8. Аналитическое определение главного вектора и главного момента произвольной плоской системы сил.
9. Условия и уравнения равновесия произвольной плоской системы сил.
10. Лемма о параллельном переносе силы
11. Центр тяжести твёрдого тела. Методы определения.
12. Равновесие с учётом трения. Трение скольжения. Коэффициент трения скольжения. Угол трения. Конус трения.
13. Трение качения. Коэффициент трения качения.
14. Векторный способ задания движения точки
15. Координатный способ задания движения точки
16. Естественный способ задания движения точки

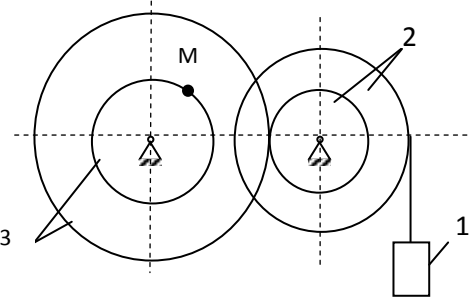
17. Поступательное движение твёрдого тела. Свойства поступательного движения твёрдого тела
18. Вращательное движение твёрдого тела. Кинематические характеристики вращательного движения
19. Линейные скорость и ускорение точки, лежащей на вращающемся теле
20. Плоскопараллельное движение твёрдого тела. Кинематические уравнения плоскопараллельного движения
21. Методы нахождения скоростей точек плоской фигуры
22. Мгновенный центр скоростей. Частные случаи нахождения положения мгновенного центра скоростей
23. Нахождение линейного ускорения точек плоской фигур
24. Аксиомы динамики
25. Инертность тела. Мера инертности тела при поступательном движении твёрдого тела. Центр масс тел.
26. Момент инерции твёрдого тела относительно неподвижной оси. Радиус инерции.
27. Теорема о движении центра масс тела механической системы. Следствия из теоремы
28. Количество движения точки и механической системы. Импульс силы. Момент количества движения точки относительно центра. Кинетический момент механической системы
29. Теорема об изменении количества движения механической системы. Следствия из теоремы
30. Теорема об изменении кинетического момента механической системы. Следствия из теоремы
31. Работа постоянной силы. Понятие работы силы.
32. Работа переменной силы
33. Работа силы тяжести. Работа пары сил.
34. Работа силы, приложенной к вращающемуся телу. Работа сил упругости.
35. Кинетическая энергия твёрдого тела при поступательном и вращательном движениях
36. Кинетическая энергия твёрдого тела при плоско - параллельном движении
37. Теорема об изменении кинетической энергии материальной точки
38. Теорема об изменении кинетической энергии механической системы. Порядок решения задач по теореме об изменении кинетической энергии
39. Классификация связей. Примеры связей.
40. Возможные перемещения. Идеальные связи. Примеры идеальных и неидеальных связей.
41. Принцип возможных перемещений
42. Принцип Даламбера - Лагранжа
43. Принцип Даламбера для материальной точки и для механической системы
44. Приведение сил инерции точек твёрдого тела
45. Порядок решения задач с помощью принципа Даламбера
46. Порядок составления общего уравнения динамики

7 Оценочные средства для проведения промежуточной аттестации

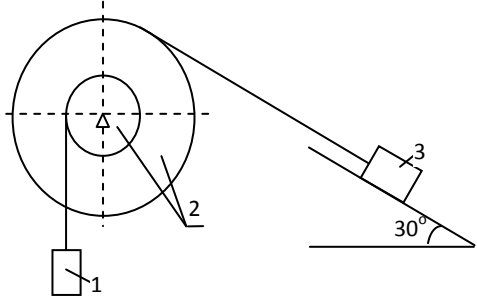
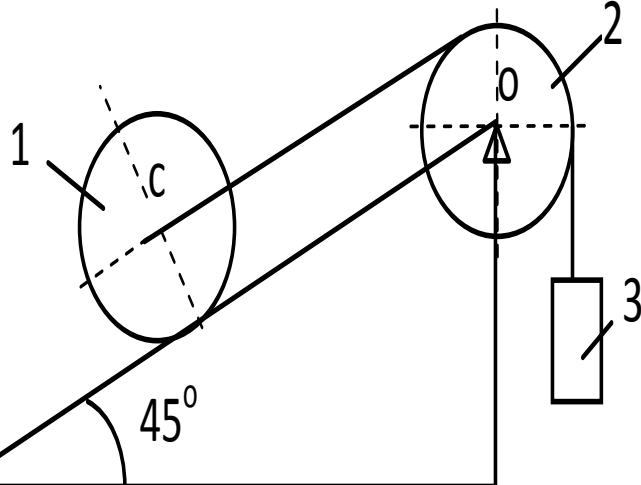
а) Планируемые результаты обучения и оценочные средства для проведения промежуточной аттестации:

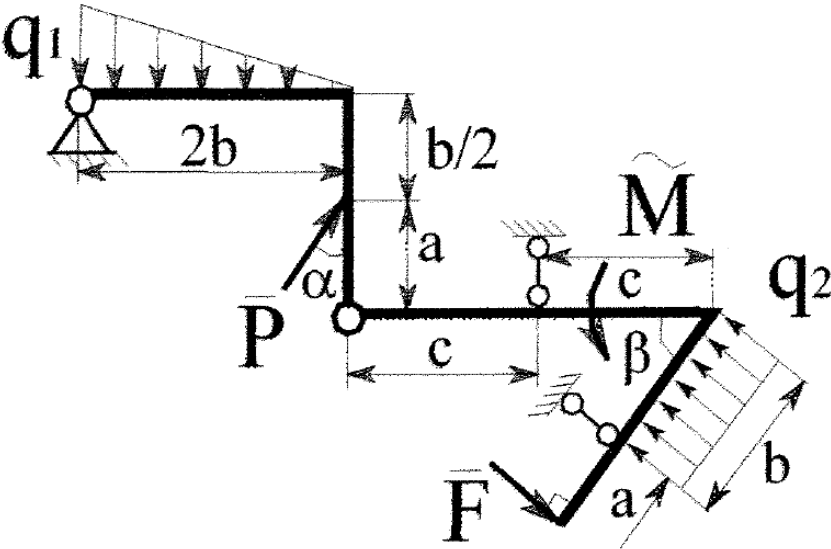
Промежуточная аттестация имеет цель определить степень достижения запланированных результатов обучения по дисциплине «Теоретическая механика» и проводится в форме экзамена во 2-м семестре и зачета в 3-м семестре.

Структурный элемент компетенции	Планируемые результаты обучения	Оценочные средства
ОПК-1	Способен ставить и решать инженерные и научно-технические задачи в сфере своей профессиональной деятельности и новых междисциплинарных направлений с использованием естественнонаучных, математических и технологических моделей;	
ОПК-1.1	Использует законы и методы математики, естественных наук при решении профессиональных задач	
Знать	основные понятия проецирования и способы преобразования проекций, равновесия материальных тел.	<p>Перечень теоретических вопросов:</p> <ol style="list-style-type: none"> 1. Аксиомы статики. Связи и их реакции 2. Произвольная пространственная система сил. Частные случаи приведения системы к простейшему виду. Условия и уравнения равновесия. 3. Произвольная плоская система сил. 4. Произвольная система сил. Лемма о параллельном переносе силы. Основная теорема статики. 5. Трение качения. Коэффициент трения качения. 6. Центр тяжести. Способы определения координат центра тяжести 7. Классификация связей. Уравнения связей. 8. Плоскопараллельное движение твердого тела. Уравнения плоского движения. Определение скоростей точек плоской фигуры. 9. Плоскопараллельное движение твердого тела. Мгновенный центр скоростей. Частные случаи нахождения мгновенного центра скоростей.

Структурный элемент компетенции	Планируемые результаты обучения	Оценочные средства
Уметь	выбрать метод решения задачи.	<p>Примерное практическое задание:</p> <p>Колесо 3 с радиусами $R_3 = 30$ см и $r_3 = 10$ см и колесо 2 с радиусами $R_2 = 20$ см и $r_2 = 10$ см находятся в зацеплении. На тело 2 намотана, нить с грузом 1 на конце, который движется по закону $s_1 = 4 + 90t^2$, см. Определить v_M, a_M в момент времени $t_1 = 1$ с.</p> 
Владеть	навыками и методиками обобщения поставленной задачи, практическими навыками использования элементов решения задач кинематики и статики в других дисциплинах.	<p>Примерное практическое задание:</p> <p>Статически определимая рама, расчетная схема которой показана на рисунке, загружена внешней нагрузкой. Найти реакции опор.</p>

Структурный элемент компетенции	Планируемые результаты обучения	Оценочные средства
ОПК-1.2 Применяет и использует современные материалы и элементную базу узлов, деталей и приводов машин		
Знать	основные законы, методы и принципы решения задач кинематики, статики, динамики.	<ol style="list-style-type: none"> 1. Момент силы относительно точки и оси. Связь момента силы относительно точки с моментом силы относительно оси. 2. Движение точки лежащей на вращающемся теле. 3. Сложное движение точки. Теорема о сложении скоростей и теорема о сложении ускорений. 4. Трение качения. Коэффициент трения качения 5. Ускорение Кориолиса. Правило Жуковского. 6. Работа силы. Работа переменной силы. Частные случаи определения работы. 7. Работа силы. Элементарная работа переменной силы.

Структурный элемент компетенции	Планируемые результаты обучения	Оценочные средства
Уметь	составлять расчетные схемы к решению поставленной задачи.	<p>Механическая система под действием сил тяжести приходит в движение из состояния покоя. Учитывая трение скольжения тела 3 $f = 0,1$, пренебрегая другими силами сопротивления и массами нитей, предполагаемых нерастяжимыми, определить скорость тела 1 в тот момент, когда пройденный им путь станет равным $S_1 = 0,5$ м. Принять: $m_1 = m_2 = 2m$, $m_3 = m$, $R = 2r$, $\rho_{oz} = 3r$ см.</p> 
Владеть	практическими навыками использования элементов решения задач динамики на других дисциплинах.	<p>Каток 1 массой $m_1 = 3m$ кг, скатываясь без скольжения по наклонной плоскости вниз, поднимает посредством нерастяжимой нити, переброшенной через блок 2 груз 3 массой $m_3 = m$ кг. Каток 1 и блок 2 – однородные круглые диски с одинаковыми массами и радиусами. Определить ускорение центра катка 1. Массой нити пренебречь.</p> 
ОПК-1.3 Применяет методы проектирования и расчета деталей и узлов машин		

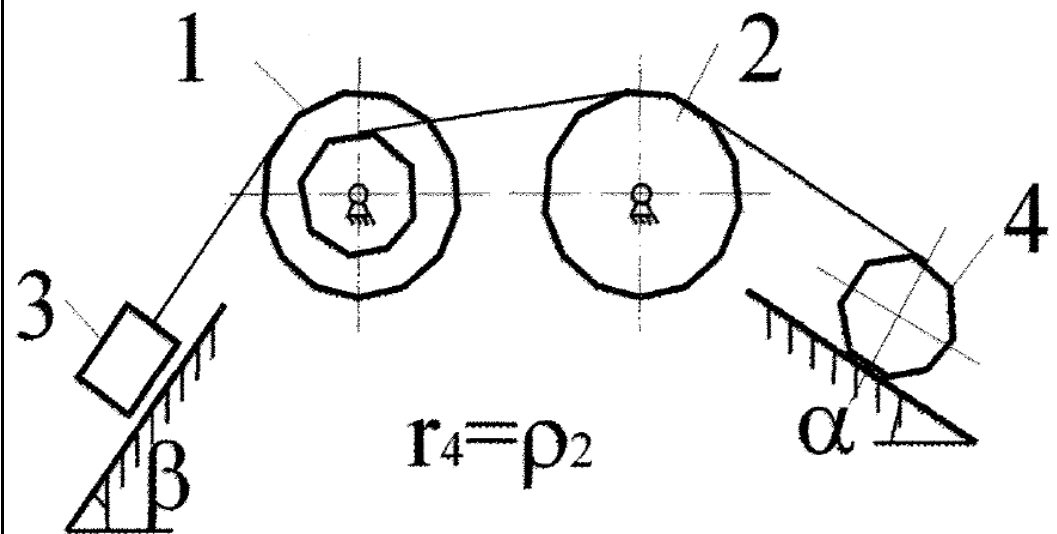
Структурный элемент компетенции	Планируемые результаты обучения	Оценочные средства																		
Знать	виды движения тел, реакции связей.	<ol style="list-style-type: none"> 1. Плоскопараллельное движение твердого тела. Определение ускорений точек плоской фигуры. 2. Поступательное и вращательное движение твердого тела. 3. Векторный способ задания движения точки. (закон движения, скорость, ускорение точки). 4. Координатный способ задания движения точки (кинематические уравнения, закон движения, скорость, ускорение точки). 5. Естественный способ задания движения точки (закон движения, скорость, ускорение точки). Поступательное движение твердого тела (определение движения, теорема о траекториях, скоростях и ускорениях точек тела) Естественные оси координат, кривизна кривой, радиус кривизны. 6. Вращательное движение твердого тела вокруг неподвижной оси (определение, ось вращения, закон движения, угловая скорость и ускорение). 7. Плоскопараллельное движение тела. Определение линейной скорости точек тела. Теорема о проекциях скоростей двух точек фигуры на прямую их соединяющую 8. Плоскопараллельное движение. Определение ускорения точки. Определение углового ускорения плоской фигуры. 																		
Уметь	записывать дифференциальные уравнения движения.	<div style="display: flex; align-items: flex-start;"> <table border="1" style="margin-right: 20px;"> <thead> <tr> <th>a,</th> <th>q₂,</th> <th>M,</th> <th>β,</th> <th>b,</th> <th>F,</th> </tr> <tr> <th>см</th> <th>Н/м</th> <th>Нм</th> <th>град</th> <th>см</th> <th>Н</th> </tr> </thead> <tbody> <tr> <td>5</td> <td>20</td> <td>3</td> <td>30</td> <td>15</td> <td>-2</td> </tr> </tbody> </table>  <p style="margin-top: 10px;"><i>Определить реакции невесомых балок и давление в промежуточном шарнире</i></p> </div>	a,	q ₂ ,	M,	β,	b,	F,	см	Н/м	Нм	град	см	Н	5	20	3	30	15	-2
a,	q ₂ ,	M,	β,	b,	F,															
см	Н/м	Нм	град	см	Н															
5	20	3	30	15	-2															

Структурный элемент компетенции	Планируемые результаты обучения	Оценочные средства
---------------------------------	---------------------------------	--------------------

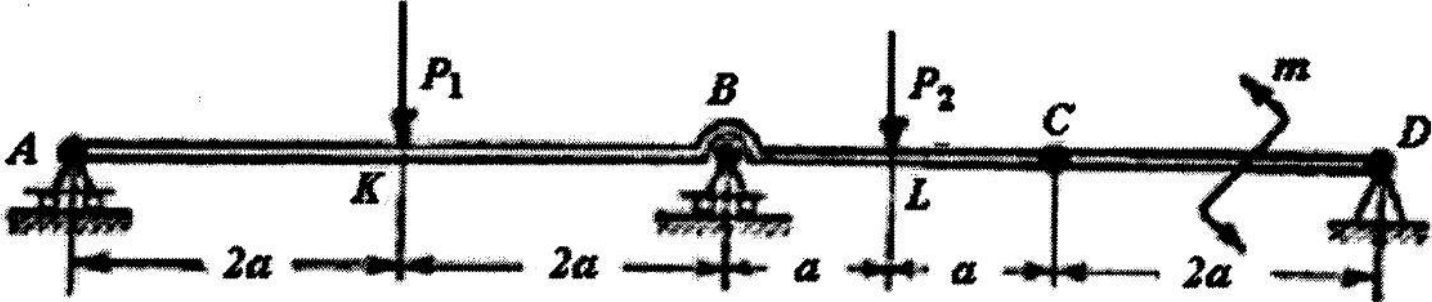
Владеть навыками и методиками обобщения поставленной задачи

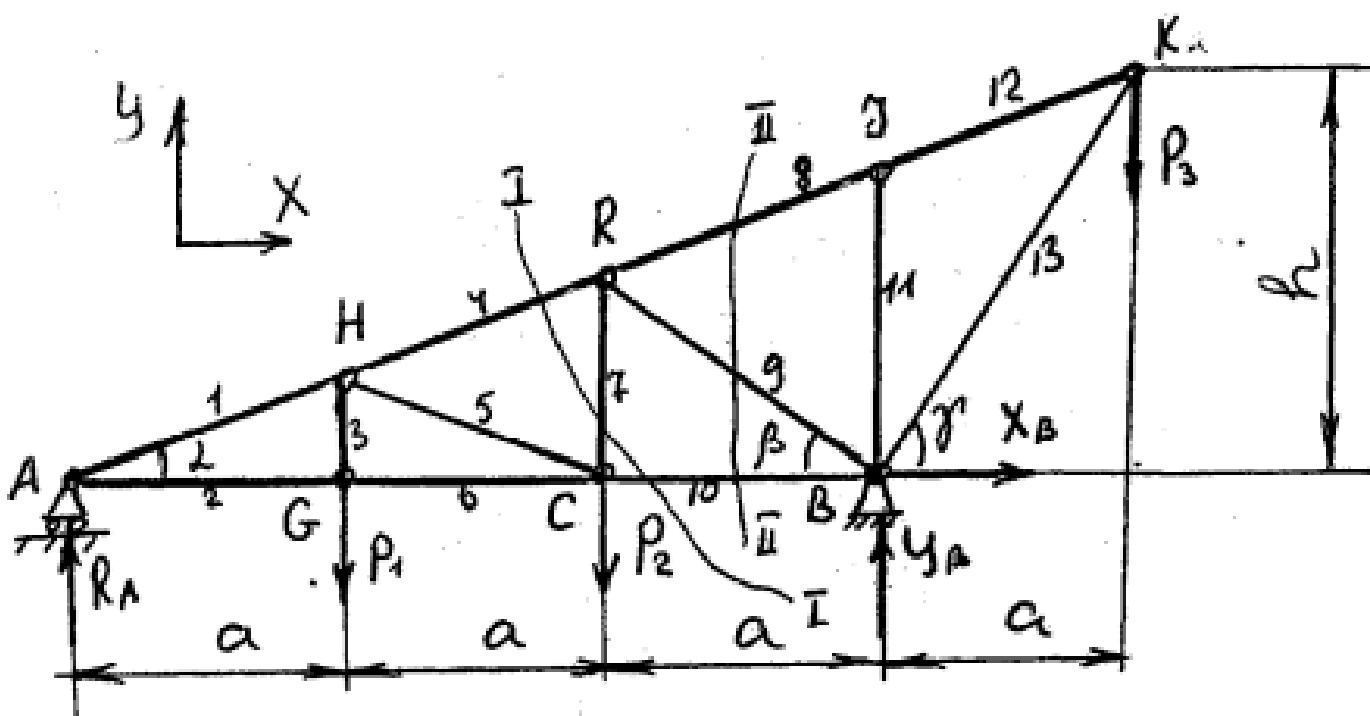
Цифра варианта	m_1 , кг	R_2 , см	m_2 , кг	r_1 , см	β , град	m_3 , кг	r_2 , см	α , град	f	m_4 , кг	ρ_2 , см
0	10,0	40	3,6	52	65	10	11	10	0,05	2,9	16

Определить ускорение груза 3



ОПК-1.4: Понимает конструкцию технического объекта по чертежу, демонстрирует первичные навыки выполнения конструкторской документации на основе стандартов ЕСКД

Структурный элемент компетенции	Планируемые результаты обучения	Оценочные средства
Знать	виды конструкций и как работать со справочным материалом	<ol style="list-style-type: none"> 1. Фермы. Метод вырезания узлов (аналитическая и графическая форма расчета). Метод сечений. 2. Предмет кинематики. Кинематика точки. Способы задания движения точки. 3. Общее уравнение динамики. 4. Аксиомы динамики. 5. Принцип Даламбера для точки и системы. Главный вектор и главный момент сил инерции. 6. Возможные перемещения точки, тела, системы тел. 7. Принцип Даламбера для механической системы. 8. Предмет динамики. Аксиомы динамики. 9. Возможные перемещения. Идеальные связи. Определение сил инерции твердых тел при различных видах движения. 10. Кинетическая энергия точки и системы. 11. Уравнения Лагранжа 2 рода 12. Теорема об изменении кинетической энергии в дифференциальной и интегральной формах. 13. Принцип возможных перемещений. 14. Кинетическая энергия твердого тела при поступательном, вращательном и плоскопараллельном движениях
Уметь	использовать разнообразные способы для определения необходимых величин	<p>Составная балка AD, лежащая на трех опорах, состоит из двух балок AC и CD, шарнирно соединенных в точке C. К балке AC приложены вертикальные силы $P_1=8\text{кН}$ и $P_2=6\text{кН}$, а к балке CD - пара сил с моментом $m=4a\text{кН}\cdot\text{м}$, направленным против часовой стрелки. Размеры составной балки указаны на рисунке. Определить силы опорных реакций. Весом балок пренебречь.</p> 

Структурный элемент компетенции	Планируемые результаты обучения	Оценочные средства
Владеть	применение методик для ориентации в профессиональной деятельности и достижения поставленных целей	<p>Определить реакции опор фермы от заданной нагрузки, а также силы во всех её стержнях способом вырезания узлов. Дополнительно определить в трех стержнях фермы силы от той же нагрузки способом Риттера (номера стержней 4, 7, 8). $P_1 = 4$ кН, $P_2 = 7$ кН, $P_3 = 10$ кН, $a = 4$ м, $h = 4$ м.</p>  <p>The diagram shows a truss structure with nodes A, B, C, G, H, R, K. Members are numbered 1-13. Dimensions are a and h. Loads P_1, P_2, P_3 are applied. Reaction forces R_A, Y_A, X_B are shown. A coordinate system (X, Y) is provided.</p>

б) Порядок проведения промежуточной аттестации, показатели и критерии оценивания:

Промежуточная аттестация по дисциплине «Теоретическая механика» включает теоретические вопросы, позволяющие оценить уровень усвоения обучающимися знаний, и практические задания, выявляющие степень сформированности умений и владений, проводится в форме экзамена во 2-м семестре и зачета в 3-м семестре.

Экзамен по данной дисциплине проводится в устной форме по экзаменационным билетам, каждый из которых включает 2 теоретических вопроса и одно практическое задание.

Показатели и критерии оценивания экзамена:

- **на оценку «отлично» (5 баллов)** – обучающийся демонстрирует высокий уровень сформированности компетенций, всестороннее, систематическое и глубокое знание учебного материала, свободно выполняет практические задания, свободно оперирует знаниями, умениями, применяет их в ситуациях повышенной сложности.
- **на оценку «хорошо» (4 балла)** – обучающийся демонстрирует средний уровень сформированности компетенций: основные знания, умения освоены, но допускаются незначительные ошибки, неточности, затруднения при аналитических операциях, переносе знаний и умений на новые, нестандартные ситуации.
- **на оценку «удовлетворительно» (3 балла)** – обучающийся демонстрирует пороговый уровень сформированности компетенций: в ходе контрольных мероприятий допускаются ошибки, проявляется отсутствие отдельных знаний, умений, навыков, обучающийся испытывает значительные затруднения при оперировании знаниями и умениями при их переносе на новые ситуации.
- **на оценку «неудовлетворительно» (2 балла)** – обучающийся демонстрирует знания не более 20% теоретического материала, допускает существенные ошибки, не может показать интеллектуальные навыки решения простых задач.
- **на оценку «неудовлетворительно» (1 балл)** – обучающийся не может показать знания на уровне воспроизведения и объяснения информации, не может показать интеллектуальные навыки решения простых задач.

Для получения зачёта по дисциплине обучающийся должен изучить необходимые разделы в конспектах, учебных пособиях и методических указаниях; работать со справочной литературой, исправлять ошибки, замечания по оформлению расчётно-графических работ (РГР).

- **на оценку «зачтено»** обучающийся должен показать знания не только на уровне воспроизведения и объяснения информации, но и на интеллектуальные навыки решения проблем и задач, нахождения уникальных ответов к проблемам.
- **на оценку «не зачтено»** обучающийся не может показать знания на уровне воспроизведения и объяснения информации, не может показать интеллектуальные навыки решения простых задач