



МИНИСТЕРСТВО НАУКИ И ВЫСШЕГО ОБРАЗОВАНИЯ
РОССИЙСКОЙ ФЕДЕРАЦИИ

Федеральное государственное бюджетное образовательное учреждение
высшего образования
«Магнитогорский государственный технический университет им. Г.И. Носова»



УТВЕРЖДАЮ
Директор ИЕиС
И.Ю. Мезин

30.01.2023 г.

РАБОЧАЯ ПРОГРАММА ДИСЦИПЛИНЫ (МОДУЛЯ)

ФИЗИКА

Направление подготовки (специальность)
13.03.02 Электроэнергетика и электротехника

Направленность (профиль/специализация) программы
Электроснабжение

Уровень высшего образования - бакалавриат

Форма обучения
заочная

Институт/ факультет	Институт естествознания и стандартизации
Кафедра	Физики
Курс	1

Магнитогорск
2023 год

Рабочая программа составлена на основе ФГОС ВО - бакалавриат по направлению подготовки 13.03.02 Электроэнергетика и электротехника (приказ Минобрнауки России от 28.02.2018 г. № 144)

Рабочая программа рассмотрена и одобрена на заседании кафедры Физики
16.01.2023, протокол № 4

И.о. зав. кафедрой _____ В.В. Мавринский

Рабочая программа одобрена методической комиссией ИЕиС
30.01.2023 г. протокол № 5

Председатель _____ И.Ю. Мезин

Согласовано:
Зав. кафедрой Электроснабжения промышленных предприятий

_____ А.В.Варганова

Рабочая программа составлена:
ст. преподаватель кафедры Физики, канд. техн. наук

_____ А.А. Нефедьев

Рецензент:
зав. кафедрой ПМИИ, д-р техн. наук

_____ Ю.А. Извеков

Лист актуализации рабочей программы

Рабочая программа пересмотрена, обсуждена и одобрена для реализации в 2024 - 2025 учебном году на заседании кафедры Физики

Протокол от _____ 20__ г. № ____
Зав. кафедрой _____ М.Б. Аркулис

Рабочая программа пересмотрена, обсуждена и одобрена для реализации в 2025 - 2026 учебном году на заседании кафедры Физики

Протокол от _____ 20__ г. № ____
Зав. кафедрой _____ М.Б. Аркулис

Рабочая программа пересмотрена, обсуждена и одобрена для реализации в 2026 - 2027 учебном году на заседании кафедры Физики

Протокол от _____ 20__ г. № ____
Зав. кафедрой _____ М.Б. Аркулис

Рабочая программа пересмотрена, обсуждена и одобрена для реализации в 2027 - 2028 учебном году на заседании кафедры Физики

Протокол от _____ 20__ г. № ____
Зав. кафедрой _____ М.Б. Аркулис

Рабочая программа пересмотрена, обсуждена и одобрена для реализации в 2028 - 2029 учебном году на заседании кафедры Физики

Протокол от _____ 20__ г. № ____
Зав. кафедрой _____ М.Б. Аркулис

1 Цели освоения дисциплины (модуля)

Целью освоения дисциплины «Физика» является формирование у обучающихся адекватной современному уровню знаний научной картины мира, а также развитие способности применять основные положения, законы и методы классической и современной физики и соответствующий физико-математический аппарат для решения теоретических, прикладных и практических задач, возникающих в ходе профессиональной деятельности.

2 Место дисциплины (модуля) в структуре образовательной программы

Дисциплина Физика входит в обязательную часть учебного плана образовательной программы.

Для изучения дисциплины необходимы знания (умения, владения), сформированные в результате изучения дисциплин/ практик:

Физика, Математика, Химия и Информатика в объеме средней общеобразовательной школы.

Знания (умения, владения), полученные при изучении данной дисциплины будут необходимы для изучения дисциплин/практик:

- Теоретическая механика
- Прикладная механика
- Безопасность жизнедеятельности
- Электрические измерения

3 Компетенции обучающегося, формируемые в результате освоения дисциплины (модуля) и планируемые результаты обучения

В результате освоения дисциплины (модуля) «Физика» обучающийся должен обладать следующими компетенциями:

Код индикатора	Индикатор достижения компетенции
ОПК-3	Способен применять соответствующий физико-математический аппарат, методы анализа и моделирования, теоретического и экспериментального исследования при решении профессиональных задач
ОПК-3.1	Использует методы анализа и моделирования при решении профессиональных задач, моделировании и проектировании энергосистем
ОПК-3.2	Способен применять соответствующий физико-математический аппарат при теоретическом и экспериментальном исследовании в решении задач энергосбережения

4. Структура, объём и содержание дисциплины (модуля)

Общая трудоемкость дисциплины составляет 11 зачетных единиц 396 акад. часов, в том числе:

- контактная работа – 23,8 акад. часов;
- аудиторная – 18 акад. часов;
- внеаудиторная – 5,8 акад. часов;
- самостоятельная работа – 354,8 акад. часов;
- в форме практической подготовки – 0 акад. час;
- подготовка к экзамену – 17,4 акад. час

Форма аттестации - экзамен

Раздел/ тема дисциплины	Курс	Аудиторная контактная работа (в акад. часах)			Самостоятельная работа студента	Вид самостоятельной работы	Форма текущего контроля успеваемости и промежуточной аттестации	Код компетенции
		Лек.	лаб. зан.	практ. зан.				
1. Механика								
1.1 Кинематика поступательного и вращательного движения	1	0,2		0,2	16	Проработка лекций, решение индивидуальных задач, подготовка к коллоквиуму и контрольной работе	Индивидуальная задача , коллоквиум, контрольная работа	
1.2 Динамика поступательного и вращательного движения		0,5	1	0,4	25	Проработка лекций, решение индивидуальных задач, подготовка к выполнению и обработка результатов лабораторных работ, подготовка к коллоквиуму и контрольной работе	Индивидуальная задача , коллоквиум, контрольная работа	

1.3 Законы сохранения в механике		0,4	1	0,2	25	Проработка лекций, решение индивидуальных задач, подготовка к выполнению и обработка результатов лабораторных работ, подготовка к коллоквиуму и контрольной работе	Индивидуальная задача , коллоквиум, контрольная работа, лабораторная работа № 1	
1.4 Механические колебания и волны		0,2		0,2	16	Проработка лекций, решение индивидуальных задач, подготовка к выполнению и обработка результатов лабораторных работ, подготовка к коллоквиуму и контрольной работе	Индивидуальная задача , коллоквиум, контрольная работа	
Итого по разделу		1,3	2	1	82			
2. Электричество и магнетизм								
2.1 Электростатическое поле		0,5		0,2	16	Проработка лекций, решение индивидуальных задач, подготовка к коллоквиуму и контрольной работе	Индивидуальная задача , коллоквиум, контрольная работа	
2.2 Электростатическое поле в веществе	1	0,2		0,2	15	Проработка лекций, решение индивидуальных задач, подготовка к выполнению и обработка результатов лабораторных работ, подготовка к коллоквиуму и контрольной работе	Индивидуальная задача , коллоквиум, контрольная работа	

2.3	Постоянный электрический ток	0,5	2	0,2	10	Проработка лекций, решение индивидуальных задач, подготовка к выполнению и обработка результатов лабораторных работ, подготовка к коллоквиуму и контрольной работе	Индивидуальная задача , коллоквиум, контрольная работа, лабораторная работа № 28	
2.4	Магнитное поле в вакууме и в веществе	0,2		0,2	8	Проработка лекций, решение индивидуальных задач, подготовка к коллоквиуму и контрольной работе	Индивидуальная задача , коллоквиум, контрольная работа, лабораторная работа № 28	
2.5	Электромагнитная индукция	0,2		0,2	10	Проработка лекций, решение индивидуальных задач, подготовка к выполнению и обработка результатов лабораторных работ, подготовка к коллоквиуму и контрольной работе	Индивидуальная задача , коллоквиум, контрольная работа, лабораторная работа № 28	
2.6	Электрические колебания и переменный ток	0,2		0,2	10	Проработка лекций, решение индивидуальных задач, подготовка к выполнению и обработка результатов лабораторных работ, подготовка к коллоквиуму и контрольной работе	Индивидуальная задача , коллоквиум, контрольная работа, лабораторная работа № 28	
Итого по разделу		1,8	2	1,2	69			
3. Молекулярная физика и термодинамика								

3.1 Статистическая физика и молекулярно-кинетическая теория	1	0,2		0,2	15	Проработка лекций, решение индивидуальных задач, подготовка к выполнению и обработка результатов лабораторных работ, подготовка к коллоквиуму и контрольной работе	Индивидуальная задача , коллоквиум, контрольная работа, лабораторная работа № 14	
3.2 Термодинамика		0,2	1	0,2	25	Проработка лекций, решение индивидуальных задач, подготовка к выполнению и обработка результатов лабораторных работ, подготовка к коллоквиуму и контрольной работе	Индивидуальная задача , коллоквиум, контрольная работа, лабораторная работа № 14	
Итого по разделу		0,4	1	0,4	40			
4. Волновая и квантовая оптика								
4.1 Электромагнитные волны	1	0,2		0,2	10	Проработка лекций, решение индивидуальных задач, подготовка к выполнению и обработка результатов лабораторных работ, подготовка к коллоквиуму и контрольной работе	Индивидуальная задача , коллоквиум, контрольная работа	
4.2 Интерференция световых волн		1		0,2	10	Проработка лекций, решение индивидуальных задач, подготовка к выполнению и обработка результатов лабораторных работ, подготовка к коллоквиуму и контрольной работе	Индивидуальная задача , коллоквиум, контрольная работа	

4.3 Дифракция световых волн		0,8		0,2	27,3	Проработка лекций, решение индивидуальных задач, подготовка к выполнению и обработка результатов лабораторных работ, подготовка к коллоквиуму и контрольной работе	Индивидуальная задача , коллоквиум, контрольная работа	
4.4 Квантовая оптика		1		0,2	30,4	Проработка лекций, решение индивидуальных задач, подготовка к выполнению и обработка результатов лабораторных работ, подготовка к коллоквиуму и контрольной работе	Индивидуальная задача , коллоквиум, контрольная работа	
Итого по разделу		3		0,8	77,7			
5. Квантовая, атомная и ядерная физика								
5.1 Квантовая механика		0,4		0,2	15	Проработка лекций, решение индивидуальных задач, подготовка к коллоквиуму и контрольной работе	Индивидуальная задача , коллоквиум, контрольная работа	
5.2 Физика атома	1	0,4	1	0,2	30	Проработка лекций, решение индивидуальных задач, подготовка к выполнению и обработка результатов лабораторных работ, подготовка к коллоквиуму и контрольной работе	Индивидуальная задача , коллоквиум, контрольная работа, лабораторная работа № 42	

5.3 Ядерная физика		0,5		0,2	30	Проработка лекций, решение индивидуальных задач, подготовка к выполнению и обработка результатов лабораторных работ, подготовка к коллоквиуму и контрольной работе	Индивидуальная задача , коллоквиум, контрольная работа	
5.4 Физика элементарных частиц и современная физическая картина мира		0,2			11,1	Проработка лекций, подготовка к коллоквиуму и контрольной работе	Индивидуальная задача , коллоквиум, контрольная работа	
Итого по разделу		1,5	1	0,6	86,1			
Итого за семестр		8	6	4	354,8		экзамен	
Итого по дисциплине		8	6	4	354,8		экзамен	

5 Образовательные технологии

В процессе преподавания дисциплины «Физика» применяются традиционная и модульно-компетентностная технологии.

Используются следующие виды лекций:

вводная лекция – в начале курса и в начале каждого семестра (вводный блок в составе лекции);

лекция-информация – в этой форме излагается основная часть материала;

обзорная лекция – в заключительной части изучения дисциплины, посвященной современной физической картине мира, а также при систематизации и обобщении отдельных разделов;

проблемная лекция – используется как элемент в составе лекции, когда перед студентами ставится некоторая проблема и предлагается найти подходы и пути к ее решению;

лекция-конференция – научно-практическое занятие с системой докладов на заданные темы, подготовленных студентами.

лекция-визуализация – лекции с применением физических демонстраций с объяснением происходящих явлений, а также компьютерных симуляций и учебных фильмов.

Все виды лекций проводятся с использованием мультимедийного оборудования.

В ходе практических занятий, кроме традиционного объяснения преподавателем у доски, используется опережающая самостоятельная работа студентов, когда им заранее раздаются отдельные задачи, в которых они должны разобраться самостоятельно и объяснить их решение группе. Кроме того, практикуется проблемное обучение, развивающее исследовательские навыки студентов и позволяющее им под руководством преподавателя найти пути решения задачи или проблемы.

Семинарские занятия включают в себя такие методы обучения, как учебная дискуссия, в ходе которой студенты излагают свое мнение и обмениваются взглядами на проблему, эвристическая беседа, стимулирующая коллективное мышление и совместный поиск ответа на сформулированный вопрос или задачу, а также индивидуальное обучение, когда студентам выдаются задания с учетом их индивидуальных особенностей.

При проведении лабораторных занятий практикуется работа в команде (2-4 человека) и использование ИТ-методов для обработки результатов лабораторных работ.

6 Учебно-методическое обеспечение самостоятельной работы обучающихся

Представлено в приложении 1.

7 Оценочные средства для проведения промежуточной аттестации

Представлены в приложении 2.

8 Учебно-методическое и информационное обеспечение дисциплины (модуля)

а) Основная литература:

1. Демидченко, В.И. Физика : учебник / В.И. Демидченко, И.В. Демидченко. — 6-е изд., перераб. и доп. — Москва : ИНФРА-М, 2016. — 581 с. - Режим доступа <https://znanium.com/>. — (Высшее образование: Бакалавриат). - ISBN 978-5-16-010079-1 (print) ; ISBN 978-5-16-101800-2 (online). - Текст : электронный. - URL: <https://znanium.com/read?id=292683> (дата обращения: 30.10.2020). – Режим доступа: по подписке

б) Дополнительная литература:

1. Павлов, С. В. Общая физика: сборник задач : учеб. пособие / С.В. Павлов, Л.А. Скипетрова ; под ред. С.В. Павлова. — Москва : ИНФРА-М, 2018. — 319 с. — (Высшее образование: Бакалавриат). —

www.dx.doi.org/10.12737/textbook_5ad4b0fd3ee963.26468696. - ISBN 978-5-16-013262-4. - Текст : электронный. - URL: <https://znanium.com/read?id=329738> (дата обращения: 30.10.2020). – Режим доступа: по подписке.

2. Кузнецов, С. И. Справочник по физике : учеб. пособие / С. И. Кузнецов, К. И. Рогозин. - Томск : Изд-во Томского политех. университета, 2014. - 220 с. - ISBN 978-5-4387-0443-0. - Текст : электронный. - URL: <https://znanium.com/read?id=159322> (дата обращения: 30.10.2020). – Режим доступа: по подписке.

в) Методические указания:

1. Механика. Молекулярная физика и термодинамика : лабораторный практикум / Е. Н. Астапов, З. Н. Ботнева, Л. С. Долженкова и др. ; МГТУ. - Магнитогорск : МГТУ, 2016. - 1 электрон. опт. диск (CD-ROM). - Загл. с титул. экрана. - URL: <https://magtu.informsystema.ru/uploader/fileUpload?name=2420.pdf&show=dcatalogues/1/1130121/2420.pdf&view=true> (дата обращения: 25.09.2020). - Макрообъект. - Текст : электронный. - Сведения доступны также на CD-ROM.

3. Савченко, Ю. И. Переменный ток : лабораторный практикум / Ю. И. Савченко, О. Н. Вострокнутова, Н. И. Мишенева ; МГТУ. - Магнитогорск : МГТУ, 2018. - 1 электрон. опт. диск (CD-ROM). - Загл. с титул. экрана. - URL: <https://magtu.informsystema.ru/uploader/fileUpload?name=3529.pdf&show=dcatalogues/1/1515139/3529.pdf&view=true> (дата обращения: 25.09.2020). - Макрообъект. - Текст : электронный. - ISBN 978-5-9967-1151-2. - Сведения доступны также на CD-ROM.

4. Физика твердого тела, атома и атомного ядра : учебное пособие [для вузов] / С. А. Бутаков [и др.] ; Магнитогорский гос. технический ун-т им. Г. И. Носова. - Магнитогорск : МГТУ им. Г. И. Носова, 2019. - 1 CD-ROM. - Загл. с титул. экрана. - URL: <https://magtu.informsystema.ru/uploader/fileUpload?name=3818.pdf&show=dcatalogues/1/1530254/3818.pdf&view=true> (дата обращения: 25.09.2020). - Макрообъект. - ISBN 978-5-9967-1531-2. - Текст : электронный. - Сведения доступны также на CD-ROM.

г) Программное обеспечение и Интернет-ресурсы:

Программное обеспечение

Наименование ПО	№ договора	Срок действия лицензии
MS Office 2007 Professional	№ 135 от 17.09.2007	бессрочно
7Zip	свободно распространяемое	бессрочно

Профессиональные базы данных и информационные справочные системы

Название курса	Ссылка
Электронная база периодических изданий East View Information Services, ООО «ИВИС»	https://dlib.eastview.com/
Национальная информационно-аналитическая система – Российский индекс научного цитирования (РИНЦ)	URL: https://elibrary.ru/project_risc.asp
Поисковая система Академия Google (Google Scholar)	URL: https://scholar.google.ru/
Информационная система - Единое окно доступа к информационным ресурсам	URL: http://window.edu.ru/

9 Материально-техническое обеспечение дисциплины (модуля)

Материально-техническое обеспечение дисциплины включает:

Учебные аудитории для проведения занятий лекционного типа. Оснащение: Мультимедийные средства хранения, передачи и представления информации.

Учебная аудитория для проведения лабораторных работ: Лаборатория механики, молекулярной физики и термодинамики. Оснащение: Лабораторные установки, измерительные приборы для проведения лабораторных работ:

1. Баллистические маятники.
2. Маятник Обербека.
3. Физический маятник.
4. Доска Гальтона.
5. Лабораторная установка для исследования распределения термоэлектронов по модулю их скорости.
6. Лабораторная установка для определения показателей адиабаты γ методом Клемана и Дезорма.
7. Лабораторная установка для проверки закона возрастания энтропии в процессе диффузии газов на модели перемешивания шаров.
8. Лабораторная установка для проверки законов возрастания энтропии в процессе теплообмена.
9. Установка лабораторная для изучения зависимости скорости звука от температуры "МФ-СЗ-М"
10. Установка лабораторная для исследования теплоемкости твердого тела "МФ-ТЕТ-М".
11. Установка лабораторная для определения универсальной газовой постоянной "МФ-ОГП-М".
12. Стенд лабораторный газовые процессы.
13. Мерительный инструмент.

Учебная аудитория для проведения лабораторных работ: Лаборатория электричества и оптики. Оснащение: Лабораторные установки, измерительные приборы для проведения лабораторных работ:

1. Лабораторная установка для исследования электростатического поля с помощью одинарного зонда.
2. Установка для шунтирования миллиамперметра.
3. Установка лабораторная для определения индуктивности соленоида и магнитной проницаемости.
4. Установка лабораторная для изучения резонанса напряжений и определения индуктивности
5. Лабораторная установка для изучения длины световой волны и характеристик дифракционной решетки.
6. Лабораторная установка для определения радиуса кривизны линзы и длины световой волны с помощью колец Ньютона.
7. Лабораторная установка для определения концентрации растворов сахара и постоянной вращения.
8. Источники питания постоянного тока.
9. Магазин емкостей Time Electronics 1071.
10. Магазин емкости P-513.
11. Магазин индуктивностей Time Electronics 1053.
12. Магазины сопротивлений P-33.
13. Мультиметры цифровые MAS-838.
14. Мультиметры APPA 106,203,205.
15. Осциллограф двухканальный GOS-620 FG.
16. Поляриметр CM.
17. Мерительный инструмент.

Учебная аудитория для проведения лабораторных работ: Лаборатория атома, твердого тела. ядра. Оснащение: Лабораторные установки. измерительные приборы для

проведения лабораторных работ:

1. Лабораторная установка для "Изучения внешнего фотоэффекта".
2. Установка для изучения спектра атома водорода и определения постоянной Ридберга.
3. Установка лабораторная для определения потенциала возбуждения газа.
4. Установка для определения длины пробега частиц в воздухе.
5. Измеритель скорости счета УИМ2-2.
6. Монохроматоры МУМ-1.
7. Мультиметры АРРА 205, 207.
8. Осциллограф двухканальный GOS-620 FG.
9. Мерительный инструмент.

Учебные аудитории для проведения практических занятий, групповых и индивидуальных консультаций, текущего контроля и промежуточной аттестации. Оснащение: Интерактивная доска, проектор. Доска, мультимедийный проектор, экран.

Помещения для самостоятельной работы обучающихся. Оснащение: Персональные компьютеры с пакетом MS Office, с выходом в Интернет и с доступом в электронную информационно-образовательную среду университета.

Помещение для хранения и профилактического обслуживания учебного оборудования. Оснащение: Стеллажи для хранения учебно-методической документации, стеллажи и сейфы для хранения учебного оборудования, инструменты для ремонта оборудования.

Приложение 1

Приложение 1. Учебно-методическое обеспечение самостоятельной работы обучающихся

По дисциплине «Физика» предусмотрена внеаудиторная самостоятельная работа обучающихся.

Внеаудиторная самостоятельная работа обучающихся включает в себя: проработку лекционного материала, изучение литературы по соответствующему разделу; решение индивидуальных контрольных работ, подготовку к выполнению лабораторных работ, подготовку к отчету по лабораторным работам.

По дисциплине «Физика» предусмотрена аудиторная и внеаудиторная самостоятельная работа обучающихся.

Самостоятельная работа под контролем преподавателя предполагает подготовку к подготовке к тестированию в интерактивной форме, подготовку к зачету и экзамену.

Внеаудиторная самостоятельная работа студентов предполагает подготовку к практическим и лабораторным занятиям, подготовку к контрольным работам, выполнение контрольных работ, подготовку к тестированию в интерактивной форме, подготовку к зачету и экзамену.

Аудиторная самостоятельная работа студентов предполагает решение контрольных задач на практических занятиях.

Методические рекомендации для самостоятельной работы студентов

В ходе выполнения самостоятельной работы по данному курсу, студенты должны научиться воспринимать сведения на слух, фиксировать информацию в виде записей в тетрадях, работать с письменными текстами, самостоятельно извлекая из них полезные сведения и оформляя их в виде тезисов, конспектов, систематизировать информацию в виде заполнения таблиц, составления схем. Важно научиться выделять главные мысли в лекции преподавателя либо в письменном тексте; анализировать явления; определять свою позицию к полученным на занятиях сведениям, четко формулировать ее; аргументировать свою точку зрения: высказывать оценочные суждения; осуществлять самоанализ. Необходимо учиться владеть устной и письменной речью; вести диалог; участвовать в дискуссии; раскрывать содержание изучаемой проблемы в монологической речи; выступать с сообщениями и докладами.

Конспект лекции. Смысл присутствия студента на лекции заключается во включении его в активный процесс слушания, понимания и осмысления материала, подготовленного преподавателем. Этому способствует конспективная запись полученной информации, с помощью которой в дальнейшем можно восстановить основное содержание прослушанной лекции.

Просмотреть свои записи после окончания лекции. Подчеркните и отметьте разными цветами фломастера важные моменты в записях. Внесите необходимые дополнения. Ответьте на вопросы

Методические указания по выполнению практического задания рекомендуется следовать следующему общему алгоритму:

1. Проработать конспект лекции на предмет выявления непонятных моментов те-мы.
2. В случае наличия непонятных моментов сформулировать вопросы.
3. Найти и изучить дополнительный материал по теме, используя рекомендованную литературу и электронные ресурсы учебных пособий в сети Интернет.
4. Ответить на возникшие в ходе изучения темы вопросы.
5. Выписать трактовки основных понятий, законов, принципов и т.п. по теме лекции.
6. Решить задачи

Подготовка к тестированию

По типу все задания теста делятся на закрытые и открытые. Закрытый вопрос подразумевает выбор правильного варианта ответа из нескольких предложенных (как правило, таких вариантов четыре). Открытый вопрос не имеет вариантов ответа, напоминая, таким образом, обычный вопрос из письменной контрольной работы. Большая часть тестовых заданий чаще всего относится именно к закрытому типу. Времени на их выполнение, как нетрудно догадаться, требуется меньше, чем на задания открытого типа (ничего не надо писать, нужно лишь отметить условным знаком выбранный ответ), но и оцениваются ответы на эти вопросы не так высоко, как ответы на вопросы открытого типа.

Всю подготовительную работу к прохождению теста можно условно разбить на два основных направления. Первое – это изучение учебного материала как такового.

необходимо изучать теорию и тренироваться в решении задач и выполнении упражнений.

Для этого понадобятся специальные тренировочные пособия – учебные тесты с указанием правильных ответов.

Закончив прохождение одного тренировочного теста, обязательно отметить вопросы, на которые даны неправильные ответы. Нужно выписать на отдельный листок темы, которые вызвали затруднение. Это – слабые места. Открыв учебник, внимательно проштудировать соответствующий раздел, прорешать все предлагаемые задачи, ответить на все вопросы в конце каждого параграфа. Только после этого нужно приниматься за выполнение следующего тренировочного теста.

Учащиеся сами заметят положительную динамику. Каждый последующий тест должен приносить больше очков, чем предыдущий.

как только получают тест. Вначале необходимо внимательно прочитать вопросы. Польза от этого двойная – во – первых, будет настройка на предмет, во – вторых, можно определить, в каких заданиях вопросы «пересекаются» (иногда бывает, что один вопрос в скрытой форме содержит ответ на другой).

Необходимо мысленно отметить вопросы, которые показались трудными или вызывают сомнения. Можно записать их номера на листке для черновика.

Теперь следует приступить к ответам, отвечая на те вопросы, в которых уверены, не тратя на обдумывание каждого из них больше 1 минуты. Если этого времени покажется недостаточно, чтобы найти правильный ответ, нужно пропустить вопрос и двигаться дальше.

Пройдя весь тест до конца, пропуская трудные задания, затем необходимо вернуться к пропущенным заданиям. Теперь уже не торопясь, не подгоняя себя, а спокойно и внимательно вдуматься в заданный вопрос. Возможно, другие выполненные задания подскажут правильный ответ. Если время позволяет, нужно продолжать работать над тестовыми заданиями

Подготовка к зачету/экзамену:

При подготовке особое внимание следует обратить на следующие моменты:

1. Очень полезно составлять планы конкретных тем и держать их в уме, а не зазубривать всю тему полностью «от» и «до». Можно также практиковать написание вопросов в виде краткого, тезисного изложения материала.
2. Основная трудность при изучении дисциплины, чаще всего вызвана тем, что язык естествознания не может быть редуцирован (сведён) к естественному языку. Во всяком случае, эта процедура имеет чётко выраженные пределы, переходить которые нельзя без риска впасть в профанацию. Снять остроту этой проблемы призван словарь терминов в конце методических рекомендаций.
3. При использовании Интернет-ресурсов необходимо помнить, что не всякая информация, содержащаяся в сети, носит научный, концептуальный характер и заслуживает доверия. Старайтесь использовать те сайты, в которых приведены сведения об авторе, свидетельствующее о его компетентности в данном вопросе (ученая степень, ученое звание, место работы, должность, наличие опубликованных научных работ по данной проблеме), либо научные сайты.

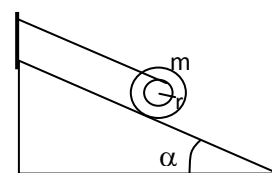
Примерные индивидуальные контрольные работы

1 курс (1 семестр)

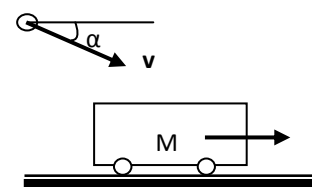
Контрольная работа № 1 «Механика. Электромагнетизм»

1. Точка движется в плоскости XOY по закону: $x=10\cos\omega t$; $y=10(1-\sin\omega t)$. Найти путь, пройденный телом за 2с; угол между векторами скорости \mathbf{V} и ускорения \mathbf{a} ; траекторию движения $y=f(x)$.

2. На гладкой наклонной плоскости, составляющей угол $\alpha = 30^\circ$ с горизонтом, находится катушка с ниткой, свободный конец которой укреплен, как показано на рисунке. Масса катушки $m = 200$ г, её момент инерции относительно собственной оси $I = 0,45$ г·м², радиус намотанного слоя ниток $r = 3$ см. Найти ускорение оси катушки.



3. Платформа с песком общей массой $M = 2$ т стоит на рельсах на горизонтальном участке пути. В песок попадает снаряд массой $m = 8$ кг и застревает в нём. Пренебрегая трением, определить, с какой скоростью будет двигаться платформа, если в момент попадания скорость снаряда $v = 450$ м/с, а её направление – сверху вниз под $\alpha = 30^\circ$ к горизонту.



4. На двух бесконечных параллельных плоскостях равномерно распределены заряды с поверхностными плотностями σ_1 и σ_2 . Определить напряженность электрического поля: между плоскостями; вне плоскостей. Построить график изменения напряженности поля вдоль линии, перпендикулярной пластинам. Принять $\sigma_1 = \sigma$, $\sigma_2 = -2\sigma$, где $\sigma = 20$ нКл/м².

5. Два конденсатора ёмкостями $C_1=3$ мкФ и $C_2=6$ мкФ соединены между собой и присоединены к батарее с ЭДС $E=120$ В. Определить заряды конденсаторов и разность потенциалов U_1 и U_2 между их обкладками, если конденсаторы соединены: 1) параллельно, 2) последовательно.

6. По двум бесконечно длинным прямым параллельным проводам текут токи $I_1=20$ А и $I_2=30$ А в одном направлении. Расстояние между проводами $d=10$ см. Вычислить индукцию B магнитного поля в точке, удаленной от обоих проводов на одинаковое расстояние $r = 10$ см.

1 курс (2 семестр)

Контрольная работа № 2 «Молекулярная физика и термодинамика. Оптика. Квантовая, атомная и ядерная физика»


1. При нагревании $\nu = 1$ кмоль двухатомного газа его термодинамическая температура увеличивается от T_1 до $T_2 = 1,5 T_1$. Найти изменение ΔS энтропии, если нагревание происходит изохорически.

2. Определить длину волны света, падающего на дифракционную решетку, на каждый миллиметр которой нанесено $n=400$ штрихов. Спектр наблюдается на экране, расположенном на расстоянии $l=25$ см от решетки. Расстояние на экране между третьими максимумами слева и справа от центрального $\Delta x=27,4$ см.

3. Два николя расположены так, что угол между их главными плоскостями составляет $\varphi=60^\circ$. Во сколько раз уменьшится интенсивность естественного света I_0 при прохождении через оба николя. Коэффициент поглощения света в каждом николе $k=0,05$.

4. Фотоэффект происходит под действием излучения с $\lambda = 0,09$ мкм. Определить работу выхода электронов из металла, если фототок прекращается при задерживающей разности потенциалов $U_s = 3,8$ В.

5. При какой скорости v электрона его дебройлевская длина волны будет равна: 1) 650 нм, 2) 3 пм?

6. Определите энергию связи для ядра атома 

Перечень лабораторных работ

1 курс (0 семестр)

№ 1 «Применение законов сохранения для определения скорости полета пули»

№ 28 «Определение индуктивности катушки и магнитной проницаемости ферромагнитного тела»

2 курс

№ 14 «Определение показателя адиабаты методом Клемана и Дезорма»

№ 42 «Определение главных квантовых чисел возбужденных состояний атома водорода»

Оценочные средства для проведения промежуточной аттестации

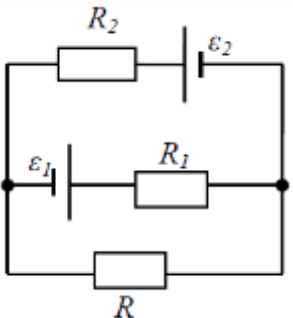
а) Планируемые результаты обучения и оценочные средства для проведения промежуточной аттестации:

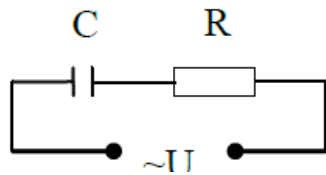
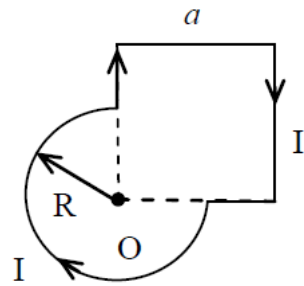
Код индикатора	Индикатор достижения компетенции	Оценочные средства
ОПК-3: Способен применять соответствующий физико-математический аппарат, методы анализа и моделирования, теоретического и экспериментального исследования при решении профессиональных задач		
ОПК-3.1:	Использует методы анализа и моделирования при решении профессиональных задач, моделировании и проектировании энергосистем	<p><i>Перечень теоретических вопросов к экзамену</i></p> <p>1 курс (1 семестр)</p> <p>1. Кинематика поступательного движения. Система отсчета. Понятие радиус-вектора, средней и мгновенной скорости и ускорения.</p> <p>2. Обратная задача механики. Нахождение перемещения тела и пройденного пути.</p>
ОПК-3.2:	Способен применять соответствующий физико-математический аппарат при теоретическом и экспериментальном исследовании в решении задач энергосбережения	<p>Начальные условия.</p> <p>3. Движение по окружности. Угол поворота, угловая скорость и угловое ускорение. Связь угловых и линейных величин.</p> <p>4. Криволинейное движение. Тангенциальное и нормальное ускорение. Полное ускорение. Угол между скоростью и ускорением.</p>
		<p>5. Понятие силы и массы тела. Принцип суперпозиции. Законы Ньютона.</p> <p>6. Импульс тела. Основной закон динамики поступательного движения. Применение основного закона динамики.</p> <p>7. Момент импульса и момент силы относительно точки. Основное уравнение динамики вращательного движения.</p> <p>8. Вращение вокруг неподвижной оси. Момент инерции материальной точки и твердого тела.</p> <p>9. Расчет моментов инерции простых тел. Теорема Штейнера.</p> <p>10. Законы сохранения в механике. Замкнутая система. Закон сохранения импульса.</p> <p>11. Механическая работа. Кинетическая энергия поступательного движения. Теорема о кинетической энергии.</p> <p>12. Законы сохранения при вращательном движении. Кинетическая энергия вращательного движения. Закон сохранения момента импульса.</p> <p>13. Консервативные силы. Потенциальная энергия. Закон сохранения полной</p>

Код индикатора	Индикатор достижения компетенции	Оценочные средства
		<p>механической энергии.</p> <p>14. Гармонические колебания. Уравнение гармонических колебаний. Амплитуда, частота и начальная фаза.</p> <p>15. Энергия гармонических колебаний. Математический и физический маятники.</p> <p>16. Электростатическое поле. Электрический заряд и его свойства. Закон Кулона.</p> <p>17. Напряженность электростатического поля. Принцип суперпозиции для дискретного и непрерывного распределения зарядов.</p> <p>18. Работа электростатического поля по перемещению заряда. Энергия взаимодействия зарядов. Потенциал поля.</p> <p>19. Геометрическое описание электрического поля. Теорема Гаусса и теорема о циркуляции напряженности электростатического поля.</p> <p>20. Конденсаторы. Понятие электроёмкости. Ёмкость плоского конденсатора.</p> <p>21. Соединение конденсаторов. Энергия заряженного конденсатора.</p> <p>22. Постоянный электрический ток. Закон Ома для однородного участка цепи. Сопротивление. Соединение сопротивлений.</p> <p>23. Сторонние силы. Электродвижущая сила. Закон Ома для неоднородного участка цепи и для замкнутой цепи.</p> <p>24. Разветвленные цепи. Правила Кирхгофа.</p> <p>25. Работа электрического тока. Мощность тока. Закон Джоуля-Ленца.</p> <p>26. Единая природа электрического и магнитного полей. Сила Лоренца. Сила Ампера.</p> <p>27. Магнитное поле движущегося заряда. Принцип суперпозиции магнитных полей. Закон БиоСавара.</p> <p>28. Геометрическое описание магнитного поля. Поток и циркуляция вектора магнитной индукции.</p> <p>29. Закон электромагнитной индукции Фарадея. Правило Ленца.</p> <p>30. Явление самоиндукции. Индуктивность. Расчет индуктивности бесконечного соленоида. Энергия магнитного поля</p> <p>1 курс (2 семестр)</p> <p>1. Термодинамический и статистический способы описания макросистем. Модель</p>

Код индикатора	Индикатор достижения компетенции	Оценочные средства
		<p>идеального газа. Уравнение состояния идеального газа.</p> <p>2. Понятие степеней свободы молекулы. Теорема о равномерном распределении энергии по степеням свободы.</p> <p>3. Внутренняя энергия как функция состояния системы. Первое начало термодинамики.</p> <p>4. Работа как функция процесса. Изохорический, изобарический и изотермический процессы.</p> <p>5. Понятие теплоемкости. Теплоемкость при изохорическом и изобарическом процессах. Постоянная адиабаты. Адиабатический процесс.</p> <p>6. Второе начало термодинамики. Формулировки Клаузиуса и Кельвина.</p> <p>7. Циклический процесс. Коэффициент полезного действия тепловой машины. Цикл Карно.</p> <p>8. Проблема необратимости тепловых процессов. Энтропия системы и ее свойства. Теорема Нернста.</p> <p>9. Основные характеристики электромагнитной волны. Шкала электромагнитных волн. Особенности оптического диапазона.</p> <p>10. Интерференция световых волн. Когерентность. Опыт Юнга.</p> <p>11. Оптическая разность хода. Условия максимума и минимума при интерференции.</p> <p>12. Интерференция в тонких плёнках.</p> <p>13. Явление дифракции. Дифракция Френеля на круглом отверстии. Зоны Френеля.</p> <p>14. Дифракция Фраунгофера на узкой прямолинейной щели.</p> <p>15. Дифракционная решётка.</p> <p>16. Естественный и поляризованный свет. Закон Малюса.</p> <p>17. Тепловое излучение тела. Закон Стефана-Больцмана. Закон смещения Вина. Гипотеза Планка.</p> <p>18. Фотоэффект. Законы Столетова. Формула Эйнштейна.</p> <p>19. Фотоны. Давление света. Корпускулярно-волновой дуализм света.</p> <p>20. Рассеяние фотона на свободном электроне. Формула Комптона.</p> <p>21. Волновые свойства частиц. Длина волны де Бройля. Экспериментальные</p>

Код индикатора	Индикатор достижения компетенции	Оценочные средства
		<p>подтверждения гипотезы де Бройля.</p> <p>22. Принцип неопределенности. Соотношение неопределенностей Гейзенберга. Особенности процесса измерения в квантовой механике.</p> <p>23. Планетарная модель атома. Постулаты Бора. Квантование энергии водородоподобной системы.</p> <p>24. Излучение водородоподобных систем. Спектральные серии атома водорода. Обобщенная формула Бальмера.</p> <p>25. Явление радиоактивности. Основной закон радиоактивного распада. Постоянная распада. Период полураспада.</p> <p>26. Состав и характеристики атомного ядра. Капельная модель. Размер ядра.</p> <p>27. Масса и энергия связи атомного ядра. Зависимость удельной энергии связи от массового числа. Оболочечная модель ядра.</p> <p>28. Ядерные реакции. Энергия реакции. Реакции деления и синтеза ядер.</p> <p>Примерный перечень практических заданий для экзамена</p> <p>1 курс (1 семестр)</p> <p>1. Движение материальной точки задано уравнением $\vec{r}(t) = (A + Bt^2)\vec{i} + Ct\vec{j}$, где $A=10$ м, $B=-5$ м/с², $C=10$ м/с. Найти для момента времени $t=1$ с $\vec{v}(t)$, $\vec{a}(t)$, вычислить модуль скорости \vec{v}, модуль ускорения \vec{a}, тангенциальное ускорение a_τ, нормальное ускорение a_n.</p> <p>2. Колесо вращается с частотой $n=5\text{с}^{-1}$. Под действием сил трения оно остановилось через $\Delta t = 1\text{мин}$. Определить угловое ускорение ε и число N оборотов, которое сделает колесо за это время.</p> <p>3. Брусок массой 2 кг скользит по горизонтальной поверхности под действием груза массой 0,5 кг, прикрепленного к концу нерастяжимой нити, перекинутой через неподвижный блок. Коэффициент трения бруска о поверхность 0,1. Найти ускорение движения тела и силу натяжения нити. Массами блока и нити, а также трением в блоке пренебречь.</p> <p>4. Определить момент инерции тонкого однородного стержня длиной $l= 30$ см и массой $m= 100$ г относительно оси, перпендикулярной стержню и проходящей</p>

Код индикатора	Индикатор достижения компетенции	Оценочные средства
		<p>через точку, отстоящую от конца стержня на $1/3$ его длины.</p> <p>5. Шарик массой $m=100$ г упал с высоты $h=2,5$ м на горизонтальную плиту, масса которой много больше массы шарика, и отскочил от нее вверх. Считая удар абсолютно упругим, определить импульс p, полученный плитой.</p> <p>6. Вертикально расположенный однородный стержень массы $M=1$ кг и длины $l=1$ м может вращаться вокруг своего верхнего конца. В нижний конец стержня попала, застряв, горизонтально летевшая пуля массы $m=10$ г, в результате чего стержень отклонился на угол $\alpha=15^\circ$. Считая $m \ll M$, найти скорость летевшей пули</p> <p>7. Определить напряжённость электростатического поля E в центре квадрата со стороной a, если в трёх вершинах квадрата находятся одинаковые точечные заряды q</p> <p>8. Тонкая нить согнута в полуокружность и заряжена так, что электрический заряд равномерно распределен по ее длине. Каков радиус этой полуокружности, если известно, что в центре ее кривизны напряженность поля 10 кВ/м, а потенциал 630 В.</p> <p>9. На рис. $\varepsilon_1=1,5$ В, $\varepsilon_2=3,7$ В и сопротивления $R_1=10$ Ом, $R_2=20$ Ом и $R=5,0$ Ом. Внутренние сопротивления источников пренебрежимо малы. Определите: 1) значение и направление тока через сопротивление R; 2) тепловую мощность, которая выделяется на сопротивлении R?</p> <div style="text-align: center;">  </div> <p>10. Каким должно быть сопротивление R электрической цепи, изображенной на</p>

Код индикатора	Индикатор достижения компетенции	Оценочные средства
		<p>рисунок, чтобы ток, текущий по нему был равен $I=0,5$ А, если $C=5$ мкФ, $U=200$ В, частота переменного тока $\nu=100$ Гц?</p> <div style="text-align: center;">  </div> <p>11. Ток $I=100$А течет по тонкому проводнику, изогнутому так, как показано на рисунке. Найти индукцию B магнитного поля в точке O контура, если радиус изогнутой части проводника $R=0,1$ м, а сторона квадрата $a=0,2$ м</p> <div style="text-align: center;">  </div> <p>12. По двум параллельным прямым проводам длиной $l = 1$ м каждый текут одинаковые токи. Расстояние d между проводами равно 1 см. Токи взаимодействуют с силой $F = 1$ мН. Найти силу тока I в проводах</p> <p>13. Катушка состоит из $N = 75$ витков и имеет сопротивление $R= 9$ Ом. Магнитный поток через ее поперечное сечение меняется по закону $\Phi = kt$, где $k= 1,2$ мВб/с. Определите: а) э.д.с. индукции, возникающую в этом контуре; б) силу индукционного тока; в) заряд, который протечет по контуру за первые 9 с изменения поля.</p> <p>14. Электрон, ускоренный напряжением $U=200$ В, влетает в однородное магнитное поле с индукцией $B=0,7 \cdot 10^{-4}$ Тл перпендикулярно силовым линиям. Найти радиус окружности, по которой движется электрон в магнитном поле и период его вращения.</p>

Код индикатора	Индикатор достижения компетенции	Оценочные средства
		<p>15. Индуктивность L катушки (без сердечника) равна $0,1$ мГн. При какой силе тока I энергия W магнитного поля равна 100 мкДж</p> <p>1 курс (2 семестр)</p> <ol style="list-style-type: none"> 1. Определить среднее значение полной кинетической энергии одной молекулы гелия, кислорода и водяного пара при температуре $T=400$К. 2. Водород массой $m=100$ г был изобарно нагрет так, что объем его увеличился в $n=3$ раза, затем водород был изохорно охлажден так, что его давление уменьшилось в $n=3$ раза. Найти изменение ΔS энтропии в ходе указанных процессов. 3. Какая работа A совершается при изотермическом расширении водорода массой $m=5$ г, взятого при температуре $T=290$ К, если объем газа увеличивается в три раза? 4. Азот нагревался при постоянном давлении. Ему было сообщено количество теплоты $Q = 21$ кДж. Определить работу A, которую совершил при этом газ, и изменение ΔU его внутренней энергии. 5. Идеальная тепловая машина работает по циклу Карно. Температура теплоотдатчика $T_1= 500$ К, температура теплоприемника $T_2= 250$ К. Определить термический КПД η цикла, а также работу A_1 рабочего вещества при изотермическом расширении, если при изотермическом сжатии совершена работа $A_2 = 70$ Дж 6. Расстояние между двумя когерентными источниками света ($\lambda=0,5$ мкм) равно $d=0,1$ мм. Расстояние между интерференционными полосами на экране в средней части интерференционной картины равно $\Delta x=1,0$ см. Определить расстояние от источников до экрана 7. Плосковыпуклая линза выпуклой стороной лежит на стеклянной пластинке. В отраженном свете с длиной волны $\lambda = 0,6$ мкм наблюдается интерференционная картина. Считая, что радиусы интерференционных колец r много меньше радиуса кривизны линзы $R=1,2$ м, определите: а) толщину слоя воздуха там, где видно первое светлое кольцо Ньютона, б) радиус первого кольца 8. Между двумя плоскопараллельными стеклянными пластинками положили

Код индикатора	Индикатор достижения компетенции	Оценочные средства
		<p>очень тонкую проволочку, расположенную параллельно линии соприкосновения пластинок и находящуюся на расстоянии $L=75$ мм от нее. В отраженном свете с длиной волны $\lambda=0,5$ мкм на верхней пластинке видны интерференционные полосы. Определите диаметр поперечного сечения проволочки, если на протяжении $a = 30$ мм насчитывается $m = 16$ светлых полос</p> <p>9. На щель шириной $a = 0,05$ мм падает нормально монохроматический свет с длиной волны $\lambda = 0,6$ мкм. Определить угол φ между первоначальным направлением пучка света и направлением на четвертую темную дифракционную полосу</p> <p>10. Дифракционная решетка установлена на расстоянии 80 см от экрана. На решетку падает монохроматический свет с длиной волны 0,65 мкм. На экране расстояние между максимумами первого и второго порядка равно 5,2 см. Сколько всего максимумов образует эта дифракционная решетка?</p> <p>11. Черное тело нагрели от температуры 600К до 2400К. Во сколько раз увеличилась общая тепловая энергия, излучаемая телом? На сколько изменилась длина волны, соответствующая максимуму энергии излучения и спектральный состав излучения?</p> <p>12. Определить наименьший задерживающий потенциал, необходимый для прекращения эмиссии с поверхности фотокатода, если он освещается излучением с длиной волны 0,4 мкм, а красная граница для материала катода равна 0,67 мкм</p> <p>13. При движении частицы вдоль оси x скорость ее может быть определена с точностью (ошибкой) до 1 см/с. Найти неопределенность координаты, если частицей является: 1) электрон, 2) дробинка массой 0,1г</p> <p>14. Вычислить радиусы первых трех орбит электрона в атоме водорода</p> <p>15. Найти наибольшую и наименьшую длины волн серии Пашена в спектре излучения водорода. Сравнить полученные значения с длинами волн видимого излучения</p> <p>16. Первоначальная масса изотопа иридия ${}^{192}_{77}\text{Ir}$ равна $m = 5$ г, период полураспада</p>

Код индикатора	Индикатор достижения компетенции	Оценочные средства
		<p>75 суток. Определите, сколько ядер распадется за 1 секунду в этом препарате. Сколько атомов этого препарата останется через 30 суток и во сколько раз изменится активность препарата за это время?</p> <p>17. В центре солнца протекает термоядерная реакция синтеза гелия из водорода, в которой из четырех протонов образуется ядро He^4 и два позитрона. Запишите эту реакцию. Какие еще частицы образуются в ней?</p> <p>18. Какое количество U^{235} «выгорает» за год в ядерном реакторе с электрической мощностью 1 ГВт и к.п.д. 38%? Считать, что распад ядер урана под действием тепловых нейтронов приводит к образованию изотопов ксенона-141, стронция-92 и трех вторичных нейтронов.</p> <p>Основными оценочными средствами планируемых результатов обучения данного раздела служат лабораторные работы и индивидуальные контрольные работы каждого семестра.</p> <p>При проведении промежуточной аттестации преподаватель имеет право задавать дополнительные вопросы со ссылкой на отчеты по лабораторным работам и ИДЗ.</p> <p>Примерный перечень вопросов и заданий по лабораторным работам</p> <p>1 курс (0 семестр)</p> <p>№ 1 «Применение законов сохранения для определения скорости полета пули»</p> <ol style="list-style-type: none"> 1. Приведите примеры сил, дающих разные виды потенциальной энергии. Какие из них присутствуют в данной работе? Изобразите схему экспериментальной установки и укажите на ней силы, действующие на все тела, входящие в систему, в каждый момент времени. 2. Какие величины имели кинетическая и потенциальная энергия системы «пуля+маятник» в различные моменты опыта? Представьте схему изменения кинетической и потенциальной энергии системы. 3. Для каких моментов времени в данном эксперименте можно применять закон сохранения механической энергии, а для каких нельзя и почему? Схема. 4. Для каких моментов времени в данном эксперименте можно применять закон сохранения импульса, а для каких нельзя и почему? Схема 5. Используя законы сохранения получите формулу для расчета скорости полета

Код индикатора	Индикатор достижения компетенции	Оценочные средства
		<p>пули в данной работе.</p> <p>6. Как производится обработка экспериментальных данных в данной работе. Как определяется доверительный интервал скорости и средняя квадратическая погрешность отклонения маятника?</p> <p>№ 28 «Определение индуктивности катушки и магнитной проницаемости ферромагнитного тела»</p> <ol style="list-style-type: none"> 1. Какие приборы применялись в данной работе для определяя параметров постоянного и переменного тока? 2. Получите формулу для расчета полного сопротивления цепи переменного тока, используемой в данной работе (или представленной преподавателем). 3. Как определялась индуктивность катушки в данной работе? Каким еще способом можно определить индуктивность? 4. Продемонстрируйте возможность применения среды MicrosoftExcel (или другой среды) для обработки экспериментальных данных. <p>1 курс (1 семестр)</p> <p>№ 14 «Определение показателя адиабаты методом Клемана и Дезорма»</p> <ol style="list-style-type: none"> 1. Объясните ход эксперимента и результаты расчета. 2. Назовите процессы, происходящие с газом, в ходе эксперимента и изобразите их графически. 3. Запишите уравнения для вывода формулы показателя адиабаты. 4. Продемонстрируйте возможность применения среды MicrosoftExcel (или другой среды) для обработки экспериментальных данных. 5. Как в данной работе минимизируется погрешность экспериментальных данных? <p>№ 42 «Определение главных квантовых чисел возбужденных состояний атома водорода»</p> <ol style="list-style-type: none"> 1. Поясните устройство и принцип работы спектроскопа, используемого в данной работе 2. Получите формулу для определения главных квантовых чисел возбужденных состояний атома водорода и других водородоподобных атомов 3. Что называется градуировочным графиком?

Код индикатора	Индикатор достижения компетенции	Оценочные средства
		4. Продемонстрируйте возможность применения среды MicrosoftExcel (или другой среды) для обработки экспериментальных данных

б) Порядок проведения промежуточной аттестации, показатели и критерии оценивания:

Промежуточная аттестация по дисциплине «Физика» включает теоретические вопросы, позволяющие оценить уровень усвоения обучающимися знаний, и практические задания, выявляющие степень сформированности умений и владений, проводится в форме экзамена (1 курс, 1 семестр).

Экзамен по данной дисциплине проводится в устной форме по экзаменационным билетам, каждый из которых включает 2 теоретических вопроса и одно практическое задание.

Показатели и критерии оценивания экзамена:

– на оценку **«отлично»** (5 баллов) – обучающийся демонстрирует высокий уровень сформированности компетенций, всестороннее, систематическое и глубокое знание учебного материала, свободно выполняет практические задания, свободно оперирует знаниями, умениями, применяет их в ситуациях повышенной сложности.

– на оценку **«хорошо»** (4 балла) – обучающийся демонстрирует средний уровень сформированности компетенций: основные знания, умения освоены, но допускаются незначительные ошибки, неточности, затруднения при аналитических операциях, переносе знаний и умений на новые, нестандартные ситуации.

– на оценку **«удовлетворительно»** (3 балла) – обучающийся демонстрирует пороговый уровень сформированности компетенций: в ходе контрольных мероприятий допускаются ошибки, проявляется отсутствие отдельных знаний, умений, навыков, обучающийся испытывает значительные затруднения при оперировании знаниями и умениями при их переносе на новые ситуации.

– на оценку **«неудовлетворительно»** (2 балла) – обучающийся демонстрирует знания не более 20% теоретического материала, допускает существенные ошибки, не может показать интеллектуальные навыки решения простых задач.

– на оценку **«неудовлетворительно»** (1 балл) – обучающийся не может показать знания на уровне воспроизведения и объяснения информации, не может показать интеллектуальные навыки решения простых задач.