



МИНИСТЕРСТВО НАУКИ И ВЫСШЕГО ОБРАЗОВАНИЯ  
РОССИЙСКОЙ ФЕДЕРАЦИИ

Федеральное государственное бюджетное образовательное учреждение  
высшего образования  
«Магнитогорский государственный технический университет им. Г.И. Носова»



УТВЕРЖДАЮ  
Директор ИЕиС  
И.Ю. Мезин

22.05.2023 г.

**РАБОЧАЯ ПРОГРАММА ДИСЦИПЛИНЫ (МОДУЛЯ)**

**МАТЕМАТИКА**

Направление подготовки (специальность)  
15.03.01 Машиностроение

Направленность (профиль/специализация) программы  
Системная инженерия в машиностроении

Уровень высшего образования - бакалавриат

Форма обучения  
очная

Институт/ факультет	Институт естествознания и стандартизации
Кафедра	Прикладной математики и информатики
Курс	1, 2
Семестр	1, 2, 3

Магнитогорск  
2023 год

Рабочая программа составлена на основе ФГОС ВО - бакалавриат по направлению подготовки 15.03.01 Машиностроение (приказ Минобрнауки России от 09.08.2021 г. № 727)

Рабочая программа рассмотрена и одобрена на заседании кафедры Прикладной математики и информатики

17.01.2023, протокол № 5

Зав. кафедрой  Ю.А. Извеков

Рабочая программа одобрена методической комиссией ИЕиС  
22.05.2023 г. протокол № 9

Председатель  И.Ю. Мезин

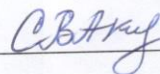
Согласовано:

Зав. кафедрой Машины и технологии обработки давлением и машиностроения

 С.И. Платов

Рабочая программа составлена:


доцент кафедры ПМИИ, канд. пед. наук



С.В. Акманова

Рецензент:

доцент кафедры Физики, канд. физ.-мат. наук



Д.М. Долгушин

## Лист актуализации рабочей программы

---

---

Рабочая программа пересмотрена, обсуждена и одобрена для реализации в 2024 - 2025 учебном году на заседании кафедры Прикладной математики и информатики

Протокол от \_\_\_\_\_ 20\_\_ г. № \_\_\_\_  
Зав. кафедрой \_\_\_\_\_ Ю.А. Извеков

---

---

Рабочая программа пересмотрена, обсуждена и одобрена для реализации в 2025 - 2026 учебном году на заседании кафедры Прикладной математики и информатики

Протокол от \_\_\_\_\_ 20\_\_ г. № \_\_\_\_  
Зав. кафедрой \_\_\_\_\_ Ю.А. Извеков

---

---

Рабочая программа пересмотрена, обсуждена и одобрена для реализации в 2026 - 2027 учебном году на заседании кафедры Прикладной математики и информатики

Протокол от \_\_\_\_\_ 20\_\_ г. № \_\_\_\_  
Зав. кафедрой \_\_\_\_\_ Ю.А. Извеков

---

---

Рабочая программа пересмотрена, обсуждена и одобрена для реализации в 2027 - 2028 учебном году на заседании кафедры Прикладной математики и информатики

Протокол от \_\_\_\_\_ 20\_\_ г. № \_\_\_\_  
Зав. кафедрой \_\_\_\_\_ Ю.А. Извеков

### **1 Цели освоения дисциплины (модуля)**

Цель изучения дисциплины "Математика" состоит в овладении студентами необходимым уровнем общепрофессиональных компетенций, предполагающих формирование у них целостного научного представления о математике и её приложениях, математического мышления, приобретение навыков решения ряда прикладных задач, соответствующих осуществлению деятельности по профилю подготовки «Системная инженерия в машиностроении»

### **2 Место дисциплины (модуля) в структуре образовательной программы**

Дисциплина Математика входит в обязательную часть учебного плана образовательной программы. Для изучения дисциплины необходимы знания (умения, владения), сформированные в результате изучения курса математики в объеме программы средней школы.

Знания (умения, владения), полученные при изучении данной дисциплины будут необходимы для изучения дисциплин/практик:

Физика

Прикладная механика

Логика в решении технических задач

Информатика

Системный анализ

Цифровое моделирование физико-химических процессов

Анализ финансово-хозяйственной деятельности предприятия

Химия

Моделирование и прототипирование сложных пространственных объектов

Экономика предприятия

### **3 Компетенции обучающегося, формируемые в результате освоения дисциплины (модуля) и планируемые результаты обучения**

В результате освоения дисциплины (модуля) «Математика» обучающийся должен обладать следующими компетенциями:

Код индикатора	Индикатор достижения компетенции
ОПК-1	Способен применять естественнонаучные и общеинженерные знания, методы математического анализа и моделирования в профессиональной деятельности;
ОПК-1.1	Решает стандартные профессиональные задачи с применением общеинженерных знаний
ОПК-1.2	Применяет методы моделирования и математического анализа для решения задач в профессиональной деятельности

#### 4. Структура, объём и содержание дисциплины (модуля)

Общая трудоемкость дисциплины составляет 15 зачетных единиц 540 акад. часов, в том числе:

- контактная работа – 240 акад. часов;
- аудиторная – 230 акад. часов;
- внеаудиторная – 10 акад. часов;
- самостоятельная работа – 228,6 акад. часов;
- в форме практической подготовки – 0 акад. час;
- подготовка к экзамену – 71,4 акад. час

Форма аттестации - экзамен, зачет

Раздел/ тема дисциплины	Семестр	Аудиторная контактная работа (в акад. часах)			Самостоятельная работа студента	Вид самостоятельной работы	Форма текущего контроля успеваемости и промежуточной аттестации	Код компетенции	
		Лек.	лаб. зан.	практ. зан.					
Раздел 1. Линейная и векторная алгебра									
1.1 Линейная алгебра. Действия над матрицами. Определители и их свойства. Методы решения систем линейных уравнений: метод обратной матрицы, по формулам Крамера, метод Гаусса	1	7		8	14	-	Самостоятельное изучение учебной литературы; усвоение конспекта	Проверка индивидуальных заданий. Контрольная работа	ОПК-1.1, ОПК-1.2
1.2 Векторная алгебра. Понятие вектора. Проекция вектора на ось. Линейные операции над векторами и их свойства. Разложение вектора по базису. Нелинейные операции над векторами		4		6	10	Поиск дополнительной информации по заданной теме	Проверка конспектов. Письменный опрос, обсуждение	ОПК-1.1, ОПК-1.2	
Итого по разделу		11		14	24				
Раздел 2. Аналитическая геометрия									
2.1 Аналитическая геометрия на плоскости. Прямая на плоскости. Кривые второго порядка на плоскости	1	4		6	15	Поиск дополнительной информации по заданной теме	Устный опрос, проверка конспектов	ОПК-1.1, ОПК-1.2	
2.2 Аналитическая геометрия в пространстве. Взаимное расположение плоскостей, прямых в пространстве, а также прямой и плоскости. Угол между прямой и плоскостью.		4		6	20	Работа с электронными тестовыми средствами	Проверка интернет-теста, выполненного в домашних условиях	ОПК-1.1, ОПК-1.2	
Итого по разделу		8		12	35				
Раздел 3. Введение в математический анализ									

3.1 Числовые множества. Поле комплексных чисел $\mathbb{C}$ . Решение алгебраических уравнений над полем $\mathbb{C}$	1	2	3	10	Подготовка к практическому занятию	Проверка конспектов. Письменный опрос, обсуждени	ОПК-1.1, ОПК-1.2
3.2.Основные элементарные функции. Последовательности и их пределы. Пределы и непрерывность функции одной переменной		4	8	15	Самостоятельное изучение учебной литературы; усвоение конспекта	Проверка индивидуальных заданий. Контрольная работа	ОПК-1.1, ОПК-1.2
Итого по разделу		6	11	25			
Раздел 4. Дифференциальное исчисление функции одной переменной							
4.1.Производная. Механический, геометрический и экономический смысл производной и дифференциала. Правила дифференцирования. Дифференцирование неявно заданной и параметрически заданной функции. Логарифмическое дифференцирование. Теоремы о средних значениях	1	3	5	20	Поиск дополнительной информации по заданной теме. Самостоятельное изучение учебной и научной литературы	Проверка индивидуальных заданий. Контрольная работа	ОПК-1.1, ОПК-1.2
4.2. Производные и дифференциалы высших порядков. Формула Тейлора. Правило Лопиталья.		4	6	8,2	Самостоятельное изучение учебной и научной литературы. Подготовка к практическому занятию	Проверка конспектов. Письменный опрос, обсуждение.Проверка индивидуальных заданий	ОПК-1.1, ОПК-1.2
4.3. Исследование функций одной переменной с помощью дифференциального исчисления и построение их графиков		4	6	10	Самостоятельное изучение учебной и научной литературы. Работа с электронными тестовыми средствами	Проверка индивидуальных заданий. Контрольная работа	
Итого по разделу		11	17	38,2			
Итого за семестр		36	54	122,2		экзамен	
Раздел 5. Интегральное исчисление функции одной переменной							
5.1 Первообразная функция. Неопределенный интеграл и его основные свойства. Таблица неопределенных. Методы непосредственного интегрирования. Основные методы интегрирования%: подстановкой (заменой переменной) и по частям	2	3	3	10	Выполнение тренировочных комплексов	Обсуждение, письменный опрос	ОПК-1.1, ОПК-1.2

5.2 Интегрирование дробно-рациональных функции. Интегрирование тригонометрических и иррациональных выражений.		4		3	8	Самостоятельное изучение учебной и научной литературы. Подготовка к практическому занятию	Тестирование	ОПК-1.1, ОПК-1.2
5.3. Определенный интеграл. Формула Ньютона-Лейбница. Свойства определенного интеграла. Замена переменной и интегрирование по частям в определенном интеграле. Вычисление площадей, длин дуг и объемов тел вращения		4		4	8	Подготовка к практическим занятиям. Работа с электронными тестовыми средствами	Проверка интернет-теста, выполненного в домашних условиях	
5.4 Несобственные интегралы. Абсолютная сходимость. Признаки сходимости.		2		2	6	Самостоятельное изучение учебной и научной литературы	Контрольная работа	
Итого по разделу		13		12	32			
Раздел 6. Дифференциальное исчисление функции нескольких переменных								
6.1 Определение ФНП. Предел и непрерывность ФНП. Частные производные явно и неявно заданных функций. Производная по направлению. Градиент. Касательная плоскость и нормаль к поверхности	2	3		3	8	Самостоятельное изучение учебной и научной литературы	Проверка конспектов. Письменный опрос, обсуждения	ОПК-1.1, ОПК-1.2
6.2 Локальный, условный и глобальный экстремум ФНП		3		3	8	Поиск дополнительной информации по заданной теме	Проверка индивидуальных заданий	ОПК-1.1, ОПК-1.2
Итого по разделу		6		6	16			
Раздел 7. Интегральное исчисление функций нескольких переменных								
7.1 Двойной интеграл и его основные свойства. Сведение двойного интеграла к повторному интегралу. Двойной интеграл в полярных координатах. Геометрические и физические приложения двойного интеграла	2	3		4	8	Самостоятельное изучение учебной и научной литературы. Подготовка к практическому занятию	Проверка индивидуальных заданий	ОПК-1.1, ОПК-1.2

7.2	Тройной интеграл, его свойства и вычисление. Тройной интеграл в цилиндрических и сферических координатах. Геометрические и физические приложения тройного интеграла		4		4	6,15	Выполнение тренировочных комплексов	Обсуждение, письменный опрос	
Итого по разделу			7		8	14,15			
Раздел 8. Обыкновенные дифференциальные уравнения									
8.1	Обыкновенные дифференциальные уравнения 1 порядка. Основные понятия, виды решений. Задача Коши. Теорема существования и единственности решения задачи Коши. Геометрический смысл дифференциального уравнения первого порядка. Методы решения дифференциальных уравнений первого порядка.	2	3		4	5	Подготовка к практическим занятиям. Работа с электронными тестовыми средствами	Контрольная работа	ОПК-1.1, ОПК-1.2
8.2	Дифференциальные уравнения высших порядков, допускающие понижение порядка. Линейные однородные и линейные неоднородные дифференциальные уравнения n-ого порядка с постоянными коэффициентами. Системы дифференциальных уравнений и методы их решения.		5		4	7,05	- Самостоятельное изучение учебной и научной литературы. Подготовка к практическому занятию	Обсуждение, письменный опрос	ОПК-1.1, ОПК-1.2
Итого по разделу			8		8	12,05			
Итого за семестр			34		34	74,2		зачёт	
Раздел 9. Числовые и функциональные ряды									
9.1	Числовые ряды: основные понятия. Числовые ряды с неотрицательными членами и признаки их сходимости. Знакопеременные ряды: абсолютная и условная сходимость. Сходимость знакопеременных рядов	3	6		8	2	- Самостоятельное изучение учебной литературы, выполнение индивидуальных заданий	Проверка индивидуальных задний. Контрольная работа	ОПК-1.1, ОПК-1.2



9.2 Функциональные ряды. Область и типы сходимости функционального ряда. Степенные ряды. Разложение функций в степенные ряды. Приложения рядов в приближенных вычислениях и раскрытии неопределённости. Ряды Фурье по тригонометрическим системам функций. Разложение функций в ряд Фурье.		6		7	2	Поиск дополнительной информации по заданной теме	Проверка конспектов. Письменный опрос, обсуждение	ОПК-1.1, ОПК-1.2
Итого по разделу		12		15	4			
. Раздел 10. Теория вероятностей и математическая статистика								
10.1 Случайные события. Классическое, геометрическое и статистическое определения вероятности. Теоремы сложения и умножения. Условная вероятность. Формула полной вероятности и формула Байеса. Схема Бернулли, приближения Лапласа и Пуассона.		6		5	4,2	Подготовка к практическим занятиям. Выполнение ТР «Случайные события»	Защита ТР	ОПК-1.1, ОПК-1.2
10.2 Случайные величины. Дискретные и непрерывные случайные величины. Ряд распределения, функция и плотность распределения. Математическое ожидание и дисперсия, начальные и центральные моменты. Известные распределения (показательное, равномерное, нормальное) и их числовые характеристики.	3	6		5	4	Подготовка к практическим занятиям. Выполнение ИДЗ «Случайные величины»	Проверка конспектов, устный опрос, обсуждение	ОПК-1.1, ОПК-1.2
10.3 Двумерные дискретные случайные величины. Функция распределения, свойства. Числовые характеристики. Элементы теории корреляции.		2		2	5	Подготовка к практическим занятиям. Выполнение ИДЗ «Случайные величины»	Проверка индивидуальных заданий	

10.4 Генеральная и выборочная совокупность. Статистические оценки параметров распределения. Точечные и интервальные оценки. Эмпирическая функция распределения.	4		4	5	Подготовка к практическим занятиям. Выполнение ИДЗ «Обработка статистических данных. Исследование статистических зависимостей»	Письменный опрос	
10.5 Статистическая гипотеза и схема ее проверки. Критерии Пирсона и Колмогорова-Смирнова проверки гипотезы о виде распределения.	2		2	4	Подготовка к практическим занятиям. Выполнение ИДЗ «Обработка статистических данных. Исследование статистических зависимостей»	Проверка конспектов, устный опрос, обсуждение	
10.6 Оценка статистической зависимости. Выборочный коэффициент корреляции. Линейная регрессия.	4		3	6	Подготовка к практическим занятиям. Выполнение ИДЗ «Обработка статистических данных. Исследование статистических зависимостей»	Проверка индивидуальных заданий	
Итого по разделу	24		21	28,2			
Итого за семестр	36		36	32,2		экзамен	
Итого по дисциплине	106		124	228,6		экзамен, зачет	

## **5 Образовательные технологии**

С целью успешного усвоения дисциплины «Математика» и формирования требуемых компетенций предполагается применение различных образовательных технологий (личностно-ориентированные и развивающие), которые обеспечивают достижение планируемых результатов образования согласно основной образовательной программе. В их числе: дифференцированный подход, компетентностный подход, проблемное обучение, эвристическое обучение, использование системы «Интернет-тренажеры» в сфере образования» и др. Интернет-тренажеры могут быть полезны для самообучения, самоконтроля студентов при подготовке их к промежуточным и итоговым аттестациям и позволяют применять дистанционные технологии обучения.

Основными формами занятий являются лекции, практические занятия, контрольно-оценочные занятия, консультации. Лекции строятся на основе сочетания информа-ционной и проблемной составляющих, а также элементов беседы и визуализации.

В ходе проведения лекционных занятий предусматривается:

- обсуждение задач, приводящих к тем или иным математическим понятиям;
- изложение теоретического материала в режиме диалога с целью развития критического мышления студентов и привития им исследовательских умений;
- обсуждение и систематизация теоретических вопросов темы с целью лучшего понимания их взаимосвязи и практического применения.

Практические занятия по данной дисциплине направлены на привитие прочных навыков решения задач по каждой теме и сочетают применение методов обучения в сотрудничестве, дифференцированный подход, классические контрольные и тестовые технологии. При этом предполагается проведение некоторых таких занятий в интерактивной форме (деловые и ролевые игры, разбор конкретных ситуаций).

Реализация компетентностного подхода предусматривает использование в учебном процессе активных и интерактивных форм проведения занятий (компьютерных симуляций, деловых и ролевых игр, разбор конкретных ситуаций, психологические и иные тренинги) в сочетании с внеаудиторной работой с целью формирования и разви-тия профессиональных навыков обучающихся.

Выбирая ту или иную технологию работы со студентами, необходимо иметь в виду, что наибольшего эффекта от ее применения можно достичь, если учитывать цели образования, на реализацию которых должна быть направлена избираемая технология, содержание, которое предстоит передать обучающимся с ее помощью, а также условия, в которых она будет использоваться.

## **6 Учебно-методическое обеспечение самостоятельной работы обучающихся**

Представлено в приложении 1.

## **7 Оценочные средства для проведения промежуточной аттестации**

Представлены в приложении 2.

## **8 Учебно-методическое и информационное обеспечение дисциплины (модуля)**

### **а) Основная литература:**

1. Шипачев В. С. Высшая математика: учебник / В.С. Шипачев. — Москва: ИНФРА-М, 2019. — 479 с. — (Высшее образование). — [www.dx.doi.org/10.12737/5394](http://www.dx.doi.org/10.12737/5394). - ISBN 978-5-16-101787-6. - Текст: электронный. - URL: <https://new.znaniyum.com/catalog/product/990716>. — Режим доступа: для авториз. пользователей.

2. Математика: учеб. пособие / Ю.М. Данилов, Л.Н. Журбенко, Г.А. Никонова,

Н.В. Никонова, С.Н. Нуриева ; под ред. Л.Н. Журбенко, Г.А. Никоновой. — Москва: ИНФРА-М, 2019. — 496 с. — (Высшее образование: Бакалавриат). - ISBN 978-5-16-102130-9. - Текст: электронный. - URL: <https://new.znanium.com/catalog/product/989799>. — Режим доступа: для авториз. пользователей.

3.Акманова С.В., Малышева Л.Н. Сборник задач и упражнений по курсу математического анализа [Электронный ресурс]: практикум / С.В. Акманова, Л.Н. Малышева; ФГБОУ ВО «Магнитогорский государственный технический университет им. Г.И. Носова». – Электрон. текстовые данные (2,62 Мб). – Магнитогорск: ФГБОУ ВО «МГТУ им. Г.И. Носова», 2018. – 1 электрон. опт. диск (CD-R).

#### **б) Дополнительная литература:**

1. Теория вероятностей и математическая статистика: Учебное пособие / Бирюкова Л.Г., Бобрик Г.И., Матвеев В.И., - 2-е изд. - Москва: НИЦ ИНФРА-М, 2017. - 289 с. (Высшее образование: Бакалавриат) ISBN 978-5-16-011793-5. - Текст: электронный. - URL: <https://new.znanium.com/catalog/product/370899>.— Режим доступа: для авториз. пользователей.

2. Математика в примерах и задачах: учеб. пособие / О.М. Дегтярева, Л.Н. Журбенко, Г.А. Никонова, Н.В. Никонова, С.Н. Нуриева. — Москва: ИНФРА-М, 2019. — 372 с. — (Высшее образование: Бакалавриат). - ISBN 978-5-16-102288-7. – Текст: электронный. – URL: <https://new.znanium.com/catalog/product/989802>.— Режим доступа: для авториз. пользователей.

3. Данко, П.Е. Высшая математика в упражнениях и задачах. (В 2-х частях) [Текст] / П. Е. Данко, А. Г. Попов, Т. Я. Кожевникова. - М.: Высшая школа, 1986-2009. ISBN: 978-5-488-02201-0. - более 1000 шт.

4. Шипачев В. С. Задачник по высшей математике: учеб. пособие / В.С. Шипачев. — 10-е изд., стереотип. — Москва: ИНФРА-М, 2020. — 304 с. — (Высшее образование). - ISBN 978-5-16-101831-6. – Текст: электронный. – URL: <https://new.znanium.com/catalog/product/1042456> — Режим доступа: для авториз. пользователей.

5. Математический анализ в вопросах и задачах : учеб. пособие / В. Ф. Бутузов, Н. Ч. Крутицкая, Г. Н. Медведев, А. А. Шишкин. - 5-е изд. - Москва : ФИЗМАТЛИТ, 2002. - 480 с. - ISBN 5-9221-0284-1. - Текст : электронный. - URL: <https://new.znanium.com/catalog/product/544581> - Режим доступа: для авториз. пользователей.

6. Резниченко, С. В. Аналитическая геометрия в примерах и задачах в 2 ч. Часть 1 : учебник и практикум для академического бакалавриата / С. В. Резниченко. — 2-е изд., испр. и доп. — Москва : Издательство Юрайт, 2019. — 302 с. — (Бакалавр. Академический курс). — ISBN 978-5-534-02936-9. — Текст : электронный // ЭБС Юрайт [сайт]. — URL: <https://www.biblio-online.ru/bcode/436999> - Режим доступа: для авториз. пользователей.

#### **в) Методические указания:**

1. Акманова С.В. Руководство к решению индивидуальных домашних заданий по курсу «Математика» для студентов заочного отделения технологического факультета. — Магнитогорск: МаГУ, 2005. - 39 с.;

2.Акманова С.В. Математика. Функции одной и нескольких действительных переменных: учебно-методическое пособие для студентов технологического факультета. — Магнитогорск: МаГУ, 2006. - 58 с.

3. Акманова С.В. Высшая математика (избранные разделы): учебно-методическое пособие для студентов технологического факультета. — Магнитогорск: МаГУ, 2006. - 73 с.

4. Гугина Е.М. Лабораторный практикум по статистике с применением EXCEL: Метод. указ. для лабораторных работ по математической статистике.- Магнитогорск: ГОУ ВПО «МГТУ им. Г.И. Носова», 2009 – 40 с.

5. Максименко, И.А. События и вероятность. Часть 2: Метод. указ. - Магнитогорск: ГОУ ВПО «МГТУ им. Г.И. Носова», 2010. – 25 с.

6. Маяченко, Е.П. Производная и дифференциал функции. Практикум.- Магнитогорск: ГОУ ВПО «МГТУ им. Г.И. Носова», 2010. – 38 с.

7. Маяченко Е.П. Исследование функций и построение графиков. Практикум. – Магнитогорск: ГОУ ВПО «МГТУ им. Г.И. Носова», 2011. – 20 с.

8. Савушкина Н.Ф. Комбинаторика. Событие и вероятность. Часть I: Комбинаторика. Алгебра событий: Метод. указания по дисциплине «Математика» для студентов I курса всех специальностей. – МГТУ, 2007. – 17 с.

#### г) Программное обеспечение и Интернет-ресурсы:

##### Программное обеспечение

Наименование ПО	№ договора	Срок действия лицензии
MS Office 2007 Professional	№ 135 от 17.09.2007	бессрочно
7Zip	свободно распространяемое ПО	бессрочно
Adobe Reader	свободно распространяемое ПО	бессрочно
MAXIMA	свободно распространяемое ПО	бессрочно
FAR Manager	свободно распространяемое ПО	бессрочно

##### Профессиональные базы данных и информационные справочные системы

Название курса	Ссылка
Информационная система - Единое окно доступа к информационным ресурсам	URL: <a href="http://window.edu.ru/">http://window.edu.ru/</a>
Поисковая система Академия Google (Google Scholar)	URL: <a href="https://scholar.google.ru/">https://scholar.google.ru/</a>
Национальная информационно-аналитическая система – Российский индекс научного цитирования (РИНЦ)	URL: <a href="https://elibrary.ru/project_risc.asp">https://elibrary.ru/project_risc.asp</a>

Материально-техническое обеспечение дисциплины включает:

1) Учебные аудитории для проведения занятий лекционного типа. Оснащение: мультимедийные средства хранения, передачи и представления информации;

2) Учебные аудитории для проведения практических занятий, групповых и индивидуальных консультаций, текущего контроля, самостоятельной работы обучающихся и промежуточной аттестации. Оснащение: доска, мультимедийный проектор, экран. Комплекс тестовых заданий для проведения промежуточных и рубежных контроля;

3) Помещение для хранения и профилактического обслуживания учебного оборудования. Оснащение: шкафы для хранения учебно-методической документации, учебно-наглядных пособий и учебного оборудования;

4) Помещения для самостоятельной работы обучающихся. Оснащение: персональные компьютеры с пакетом MS Office и выходом в Интернет и с доступом в электронную информационно-образовательную среду университета.

**Учебно-методическое обеспечение самостоятельной работы обучающихся**

По дисциплине «Математика» предусмотрена аудиторная и внеаудиторная самостоятельная работа обучающихся.

Аудиторная самостоятельная работа студентов предполагает решение контрольных задач на практических занятиях.

**Примерные аудиторные контрольные и проверочные работы (АКР), а так же индивидуальные домашние задания (ИДЗ):**

**АКР: вариант теста «Матрицы и определители»**

1. Если  $A = \begin{pmatrix} -1 & 1 \\ 0 & 4 \end{pmatrix}$ ,  $B = \begin{pmatrix} 2 \\ 1 \end{pmatrix}$ , тогда матрица

$C = A \cdot B$  имеет вид...

1)  $\begin{pmatrix} -2 \\ 4 \end{pmatrix}$ ; 2)  $\begin{pmatrix} -1 \\ 4 \end{pmatrix}$ ; 3)  $\begin{pmatrix} 4 \\ -1 \end{pmatrix}$ ; 4)  $(4 \ -1)$ .

2. Матрица  $A$  имеет размер  $3 \times 4$ , матрица  $B$  имеет размер  $4 \times 3$ , при этом  $A \cdot B = C$ . Тогда матрица  $C$  имеет размер

1)  $3 \times 3$ ; 2)  $4 \times 4$ ; 3)  $3 \times 4$ ; 4)  $4 \times 3$ .

3. Определитель  $\begin{vmatrix} 2 & 3 & 1 \\ 0 & b_2 & 0 \\ c_1 & 0 & c_3 \end{vmatrix}$  равен...

1)  $2b_2c_3 + b_2c_1$ ; 2)  $2b_2c_3 - b_2c_1$ ;

3)  $-2b_2c_3 - b_2c_1$ ; 4)  $-2b_2c_3 + b_2c_1$ .

4. Даны матрицы  $A = \begin{pmatrix} 1 & 2 \\ -1 & -3 \end{pmatrix}$  и  $B = \begin{pmatrix} 2 & 1 \\ 0 & 1 \end{pmatrix}$ . Тогда определитель  $|B^T \cdot A|$ , где  $B^T$  - транспонированная матрица, равен:

1) 2; 2) -2; 3) -5; 4) 5.

5. Алгебраическое дополнение элемента  $a_{13}$  матрицы  $A = \begin{pmatrix} 4 & 2 & -1 \\ 0 & 5 & 1 \\ 3 & 2 & 4 \end{pmatrix}$  равно...

1) 15; 2) 7; 3) -15; 4) -7.

6. Определитель  $\begin{vmatrix} a_{11} & 0 & a_{13} \\ a_{21} & a_{22} & a_{23} \\ a_{31} & 0 & a_{33} \end{vmatrix}$  равен...

- 1)  $-a_{22}(a_{11}a_{33} - a_{31}a_{13})$ ;  
 2)  $-(a_{11}a_{33} - a_{31}a_{13})$ ; 3)  $a_{11}a_{33} - a_{31}a_{13}$ ;  
 4)  $a_{22}(a_{11}a_{33} - a_{31}a_{13})$ .

### 7. Определитель

$$\begin{vmatrix} 2 & 0 & 0 & 0 \\ 6 & 1 & 0 & 0 \\ 7 & 0 & -1 & 0 \\ -3 & 4 & 0 & 5 \end{vmatrix} \text{ равен: 1) 0; 2) -10; 3) 6; 4) 10.}$$

8. Матрица  $\begin{pmatrix} 1 & 4+\alpha \\ -2 & 6 \end{pmatrix}$  не имеет обратной при  $\alpha$  равном...

- 1) 1; 2) -1; 3) -7; 4) 2.

### Примерный вариант ИДЗ «Системы линейных уравнений»

**Задание 1.** Решить систему линейных уравнений методом обратной матрицы.

$$\begin{cases} 5x_1 + 8x_2 + x_3 = 2, \\ 3x_1 - 2x_2 + 6x_3 = -7, \\ 2x_1 + x_2 - x_3 = -5. \end{cases}$$

**Задание 2.** Решить систему линейных уравнений по формулам Крамера.

$$\begin{cases} 2x_1 + 3x_2 - x_3 + x_4 = 5, \\ 6x_1 + 4x_2 + 4x_3 + 6x_4 = 1, \\ 3x_1 - x_2 - 2x_3 + x_4 = 1, \\ x_1 + 2x_2 + 3x_3 + 4x_4 = 6; \end{cases}$$

**Задание 3.** Решить систему линейных уравнений методом Гаусса.

$$\begin{cases} 2x_1 + 7x_2 + 3x_3 + x_4 = 6, \\ 3x_1 + 5x_2 + 2x_3 + 2x_4 = 4, \\ 9x_1 + 4x_2 + x_3 + 7x_4 = 2; \end{cases}$$

### Примерный вариант ИДЗ «Векторная алгебра»

**Задание 1.** Дана пирамида ABCD. Средствами векторной алгебры найти:

- а) длины рёбер AD и BC; б) угол между ребрами AB и CD; в) площадь грани BCD; г) угол между гранями ABC и ABD; е) объём тетраэдра ABCD, если  $A(0,1,0)$ ,  $B(4,2,0)$ ,  $C(-1,3,0)$ ,  $D(1,-2,4)$ .

**Задание 2.** Установите, является ли данная система векторов линейно зависимой.

$$\vec{a}(5,-7,19), \vec{b}(7,5,-7), \vec{c}(7,-8,14);$$

### Примерный вариант ИДЗ «Аналитическая геометрия в пространстве»

1. Даны уравнения двух сторон параллелограмма  $2x - y + 2 = 0$ ,  $x + 3y - 6 = 0$  и точка пересечения диагоналей  $O(-1; 4)$ . Составить уравнения диагоналей параллелограмма.
2. Будут ли прямые  $l_1: \begin{cases} x - 2y + z = 3, \\ y + 2z = 1 \end{cases}$  и  $l_2: \begin{cases} x = 3t - 1, \\ y = 4, \\ z = -2t \end{cases}$  лежать в одной плоскости?
3. При каких значениях  $a$  и  $b$  плоскость  $ax - 4y + bz - 1 = 0$  перпендикулярна прямой, проходящей через две точки  $M_1(0; 1; 2)$ ,  $M_2(1; 0; -2)$ . Построить эту плоскость.
4. Написать параметрические и канонические уравнения прямой  $l_1: \begin{cases} 5x - y + 9 = 0, \\ x + y - 2z = 0. \end{cases}$
5. Найти угол между плоскостями  $2x - y + 3z + 5 = 0$  и  $\frac{x}{1} - \frac{y}{2} + \frac{z}{3} = 1$ .

**АКР: «Комплексные числа»**

1. Выполнить действия, представить результат в алгебраической форме  $(3 - 2i)(4i - 1) + \frac{2i}{2 - i}$
2. Изобразить на комплексной плоскости и представить в тригонометрической и показательной формах числа:  $z_1 = -i$ ;  $z_2 = 1 - i$ ;  $z_3 = -1 + \sqrt{3}i$ .
3. Вычислить а)  $(z_2)^{10}$ ; б) все значения корня  $\sqrt[3]{z_1}$ .
4. Решить уравнения а)  $z^2 - 4z + 8 = 0$  б)  $x - y + ixy = i$ ,  $x, y \in R$ .
5. Построить на комплексной плоскости множество точек, удовлетворяющих соотношению  $|z - 2i| \leq 2$

**АКР: Примерный вариант обобщённого теста по математическому анализу:**

1. Областью определения функции  $y = \frac{3\sqrt{4-x}}{x+1}$  является следующее множество точек:
  - 1)  $(-1; 4)$ ;
  - 2)  $(-1; 4]$ ;
  - 3)  $(-\infty; -1) \cup (-1; 4]$ ;
  - 4)  $(-\infty; -1) \cup (4; +\infty)$ .
2.  $\lim_{x \rightarrow \infty} \frac{3x^2 + 2x - 1}{x^2 - 5}$  равен
  - 1)  $\infty$ ;
  - 2) 1;
  - 3)  $-\frac{2}{5}$ ;
  - 4)  $\exists$ .
3. Производная функции  $y = \cos(6 + x^3)$  равна
  - 1)  $-\sin(6 + x^3)$ ;
  - 2)  $-3x^2 \sin(6 + x^3)$ ;
  - 3)  $3x^2 \sin(6 + x^3)$ ;
  - 4)  $\frac{x^4}{4} \sin(6 + x^3)$ .



4. Дана функция  $f(x) = \begin{cases} x+2, & x \leq 1, \\ 5-bx^2, & x > 1 \end{cases}$ . Укажите число  $b$ , при котором данная функция непрерывна на  $D(f)$ :

- 1) такого числа не существует;
- 2)  $b=1$ ;
- 3)  $b=2$ ;
- 4)  $b=-2$ .

5.  $f(x) = \frac{\ln x}{e^x}$ , тогда  $f'(1)$  равно:

- 1) 0;
- 2)  $-\frac{2}{e}$ ;
- 3)  $\frac{1}{e}$ ;
- 4)  $\frac{e-1}{e}$ .

6. Выражение  $\frac{d(\arcsin x)}{d(\arccos x)}$  равно:

- 1) 1 при  $|x| < 1$ ;
- 2) -1 при  $|x| < 1$ ;
- 3)  $dx$  при  $|x| < 1$ ;
- 4)  $1-x^2$  при  $|x| < 1$ .

7. Угловым коэффициентом касательной к параболе  $y = x^2 - 2x + 3$  в точке с абсциссой  $x = 2$  равен:

- 1) 2;
- 2) 3;
- 3) -2;
- 4) -6

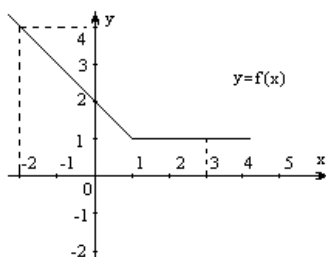
8. Функция  $f(x) = x - \sin x$ :

- 1) возрастающая на  $\mathbf{R}$ ;
- 2) убывающая на  $\mathbf{R}$ ;
- 3) немонотонная на  $\mathbf{R}$ ;
- 4) возрастает на  $\left[-\frac{3\pi}{2} + 2\pi k; -\frac{\pi}{2} + 2\pi k\right], k \in \mathbb{Z}$

9. Интеграл  $\int \sqrt{x} \cdot (x^2 + 1) dx$  равен:

- 1)  $\frac{2}{7}x^{\frac{7}{2}} + \frac{2}{3}x^{\frac{3}{2}} + C$ ;
- 2)  $-\frac{2}{7}x^{\frac{7}{2}} - \frac{2}{3}x^{\frac{3}{2}} + C$ ;
- 3)  $\frac{7}{2}x^{\frac{7}{2}} + \frac{3}{2}x^{\frac{3}{2}} + C$ ;
- 4)  $\frac{1}{5}x^5 + C$ .

10. Вычислите  $\int_{-2}^3 f(x) dx$ , если график функции  $y = f(x)$  изображен на рисунке:



1. 8.5;
2. 9;
3. 9.5;
4. 10.

11. Интеграл  $\int_1^2 \frac{dx}{x}$  равен:

- 1)  $\ln 2 - e$ ;      2) 0;      3)  $\ln 2 - 1$ ;      4)  $\ln 2$ .

12. Площадь фигуры, ограниченной линиями  $y = x^2 + 1$ ,  $x = 5$  и осями координат, равна:

- 1) 0;      2)  $\frac{140}{3}$ ;      3) -14;      4)  $\frac{110}{3}$ .

**Примерный вариант ИДЗ «Несобственные интегралы»**

Вычислить несобственные интегралы первого рода (или установить их расходимость)

1.  $\int_2^{+\infty} \frac{\ln(x+1)}{(x+1)} dx$ .      2.  $\int_{-\infty}^{+\infty} \frac{dx}{x^2 + 2x + 2}$ .

Вычислить несобственные интегралы второго рода (или установить их расходимость)

3.  $\int_1^2 \frac{x dx}{\sqrt{x-1}}$       4.  $\int_{-1}^1 \frac{3x^2 + 2}{\sqrt[3]{x^2}} dx$ .

Исследовать сходимость интегралов

5.  $\int_1^{+\infty} \frac{dx}{\sqrt{1+x^3}}$ .      6.  $\int_0^1 \frac{\sqrt{x}}{e^x - 1} dx$ .

**АКР: «Обыкновенные дифференциальные уравнения»**

1. Найти общее решение дифференциального уравнения:

1)  $y''' \ln x = y''$ , 2)  $(1+x^2)y'' + 2xy' = 12x^2$ .

2. Найти решение задачи Коши:  $\begin{cases} y'' = 2 \sin^3 y \cos y \\ y(1) = \frac{\pi}{2}, y'(1) = 1 \end{cases}$ .

3. Найти общее решение дифференциального уравнения (в примере д) решить задачу Коши):

1)  $y'' - 2y' + y = xe^x$ , 2)  $y'' + 4y' + 5y = x^2$

3)  $y''' - 4y'' + 5y' = 6x^2 + 2x - 5$ , 4)  $y''' + 2y'' - 3y' = (8x+6)e^x$ ,

5)  $y'' - 4y' + 4y = e^{2x}(\cos x + 3\sin x)$ , 6)  $y''' - 64y' = 128\cos 8x - 64e^{8x}$ ,

7)  $\begin{cases} y'' + y = 1/\sin x \\ y(\pi/2) = 1, y'(\pi/2) = \pi/2 \end{cases}$ .

4. Решите систему ДУ первого порядка двумя способами - подстановки и методом Эйлера

$$\begin{cases} y' = 2x - 5y + e^t \\ x' = y - 6x + e^{-2t} \end{cases}$$

**Примерный вариант ИДЗ «Случайные величины»**

1. Один раз брошены две игральные кости. Случайная величина  $X$  - сумма очков, выпавших на верхних гранях. Составить ряд распределения

данной случайной величины, вычислить её математическое ожидание и дисперсию.

2. Дан ряд распределения дискретной случайной величины X:

X	2	4	6	8	10
P	0,1	0,4	0,2	c	0,1

Найти значение параметра «с». вычислить математическое ожидание, среднее квадратическое отклонение случайной величины X. Построить график функции распределения и многоугольник распределения. Найти вероятность того, что случайная величина X не превосходит 5.

3. Случайная величина X задана своей функцией распределения

$$F(x) = \begin{cases} \frac{1}{2} \cdot e^{-\frac{x-1}{2}}, & x < 1; \\ 1 - \frac{1}{2} e^{-\frac{x-1}{2}}, & x \geq 1. \end{cases}$$

Найти плотность распределения. Построить графики функции и плотности распределения. Вычислить математическое ожидание и дисперсию.

4. Случайная величина X подчинена закону распределения с плотностью:

$$f(x) = \begin{cases} 0, & x < 0; \\ \frac{ax}{(1+x^2)^2}, & x \geq 0. \end{cases}$$

Найти значение параметра «а», функцию распределения, определить математическое ожидание, дисперсию и вероятность того, что случайная величина X попадает в промежуток (0, 2).

5. Дана таблица, определяющая закон распределения системы случайных величин (X, Y):

X \ y		40	60
	20		
10	3 a	a	0
20	2 a	4 a	2 a
30	a	2 a	5 a

Найти: параметр «а»; математические ожидания  $m_x, m_y$ ;

дисперсии  $\sigma_x^2, \sigma_y^2$ ; коэффициент корреляции  $r_{xy}$ .

**Примерный вариант ИДЗ «Обработка статистических данных. Исследование статистических зависимостей»**

Дан статистический ряд (исходные значения величин)

X	Y	X	Y	X	Y	X	Y	X	Y
38,4	18,7	40,7	24	30,3	18	27,3	25,1	22	21
40,2	11,7	50,8	9	28,4	15,7	38	20,6	32	28,6
24,1	20,9	38,2	22,8	47,6	11,3	52,8	15,2	19,5	19,7
32,5	22,4	36	19,8	30,3	21,3	48	24,5	46	20,3
25	29,5	35,7	15,3	30,5	27,8	26	28,7	27,8	15,5
38,1	19,6	34,3	20,7	48,7	11,5	32,5	28	35,2	30,7
16,8	32,2	43,8	13	16,8	18,3	57,1	2,9	41,6	18,2

28,8	29,7	35,5	24	23,9	20,2	40	23,8	42,5	15,3
47,1	14,7	45,9	24	54,3	14,2	50,7	15,9	32,9	22,5
50,1	15,9	29,3	21,9	60,8	27,2	58,6	9,3	35,6	22,7
30,2	25	54,2	14,2	21,4	19,8	40,1	17,4	47	17,3
36,9	23,2	59,8	6,1	38,4	23	34,4	23,4	31,4	30,2
36,6	7,9	32,2	22,3	46,8	20,5	53,7	12,4	28,2	30
38	15,4	52	6,1	23,8	18,3	42,1	28,5	33,7	19,8
55	11	31,2	24,2	37,9	32,6	43	20,2	27,6	18,5
16,2	25,2	51,2	14,2	30,6	21,5	23,5	14,6	36,8	10,7
49,7	15,9	32,2	20,4	37	24,5	32,9	25,8	45,5	14,8
49,7	19,5	30,9	20,7	57,6	20,3	54	14,4	18,6	15,3
42,3	19,7	41,5	10,8	41,9	14,6	42,3	23,5	25,8	27,4
35,7	11,9	41,2	9,8	34,1	26,3	58,8	9,2	39,2	17,5

1) По данным оцените генеральные параметры: найдите среднее, дисперсию, среднее квадратичное отклонение, асимметрию, эксцесс, моду, медиану, коэффициент вариации для признаков  $X$  и  $Y$ .

2) По данным провести статистическую проверку статистической гипотезы о нормальном распределении измеряемого признака по следующим критериям: а) критерию Пирсона  $\chi^2$  (уровень значимости принять равным 0.05)., б) критерию Колмогорова-Смирнова. В случае принятия гипотезы о нормальности распределения найти доверительные интервалы для математического ожидания и среднего квадратичного отклонения при уровне надёжности 0.95.

3) Найти исправленный корреляционный момент и коэффициент корреляции. Проверить гипотезу о независимости признаков  $X$  и  $Y$  (уровень значимости принять равным 0.05). Рассчитать коэффициенты линейной регрессии ( $X$  на  $Y$  или  $Y$  на  $X$ ). Проверить значимость уравнения регрессии. Найти доверительные интервалы для коэффициентов корреляции и линейной регрессии (при уровне надёжности 0.95).

4) Построить поле корреляций величин  $X$  и  $Y$ . И на этом же графике построить линию регрессии. Дать смысловую интерпретацию коэффициентов уравнения регрессии. Оценить его пригодность для аналитических расчетов.

### Примерный вариант ТР «Случайные события» (типовой расчёт)

**Задача 1.** Бросаются две игральные кости. Определить вероятность того, что: а) сумма числа очков не превосходит 3; б) произведение числа очков не превосходит 3; в) произведение числа очков делится на 3.

**Задача 2.** Среди 10 лотерейных билетов 6 выигрышных. Наудачу взяли 4 билета. Определить вероятность того, что среди них 2 выигрышных.

**Задача 3.** Моменты начала двух событий наудачу распределены в промежутке времени от 9:00 до 10:00. Одно из событий длится 10 мин., другое – 10 мин. Определить вероятность того, что :а) события «перекрываются» во времени; б) «не перекрываются».

**Задача 4.** В двух партиях 71 % и 47 % доброкачественных изделий соответственно. Наудачу вбирают по одному изделию из каждой партии. Какова вероятность обнаружить среди них: а) хотя бы одно бракованное; б) два бракованных; в) одно доброкачественное и одно бракованное?

**Задача 5.** Вероятность того, что цель поражена при одном выстреле первым стрелком, равна 0,61, вторым – 0,55 . Первый сделал 2, второй – 3 выстрела. Определить вероятность того, что цель не поражена.

**Задача 6.** В первой урне 4 белых и 1 черный шар, во второй - 2 белых и 5 черных. Из первой во вторую переложено 3 шаров. Затем из второй урны извлечен один шар. Определить вероятность того, что выбранный из второй урны шар – белый.

**Задача 7.** В магазин поступают однотипные изделия с трех заводов, причем  $i$ -й завод поставляет  $m_i\%$  изделий ( $i=1, 2, 3$ ). Среди изделий  $i$ -го завода  $n_i\%$  первосортных. Куплено одно изделие. Оно оказалось первосортным. Определить вероятность того, что купленное изделие выпущено  $j$ -м заводом.  $m_1=50, m_2=30, m_3=20, n_1=70, n_2=80, n_3=90, j=1$ .

**Задача 8.** Вероятность выигрыша в лотерею на один билет равна 0,3. Куплено 10 билетов. Найти наивероятнейшее число выигравших билетов и соответствующую вероятность.

**Задача 9.** Вероятность «сбоя» в работе телефонной станции при каждом вызове равна  $p=0,02$ . Поступило 1000 вызовов. Определить вероятность 7 «сбоев».

**Задача 10.** Вероятность наступления некоторого события в каждом из 100 независимых испытаний равна  $p=0,8$ . Определить вероятность того, что число  $m$  наступлений события удовлетворяет следующему неравенству:  $k_1 \leq m \leq k_2; k_1=80, k_2=90$ .

Оценочные средства для проведения промежуточной аттестации

а) Планируемые результаты обучения и оценочные средства для проведения промежуточной аттестации:

Структурный элемент компетенции	Планируемые результаты обучения	Оценочные средства
<b>ОПК-1: Способен применять естественнонаучные и общинженерные знания, методы математического анализа и моделирования в профессиональной деятельности;</b>		
ОПК-1.1	Решает стандартные профессиональные задачи с применением общинженерных знаний	<p><i>Владеет основным содержанием дисциплины в рамках следующих теоретических вопросов:</i></p> <ol style="list-style-type: none"> <li>1. Матрицы. Действия над матрицами.</li> <li>2. Определители матриц, их свойства (любые два с док-вом).</li> <li>3. Минор, алгебраическое дополнение. Вычисление определителя разложением по строке (столбцу), понижением порядка.</li> <li>4. Обратная матрица, теорема о существовании и единственности обратной матрицы (док-во).</li> <li>5. Элементарные преобразования матриц. Эквивалентные матрицы. Ранг матрицы. Свойства ранга. Теорема о рангах эквивалентных матриц (без док-ва).</li> <li>6. Ступенчатая матрица. Теорема о ранге ступенчатой матрицы (док-во).</li> <li>7. Системы линейных алгебраических уравнений (СЛАУ) (определения: совместной, несовместной СЛАУ, решения СЛАУ). Условия совместности СЛАУ.</li> <li>8. Матричная запись СЛАУ. Решение СЛАУ с помощью обратной матрицы.</li> <li>9. Формулы Крамера (вывод).</li> <li>10. Определенные и неопределенные СЛАУ. Метод Гаусса.</li> <li>11. Однородные СЛАУ. Фундаментальная система решений.</li> <li>12. Векторы. Линейные операции над векторами. Коллинеарные и компланарные векторы. Деление отрезка в данном отношении.</li> <li>13. Скалярное произведение векторов, его свойства. Угол между векторами. Условие перпендикулярности двух векторов. Проекция вектора <math>\vec{a}</math> на вектор <math>\vec{b}</math>. Механический</li> </ol>

Структурный элемент компетенции	Планируемые результаты обучения	Оценочные средства
		<p>смысл скалярного произведения.</p> <p>14. Скалярное произведение в базисе <math>\bar{i}, \bar{j}, \bar{k}</math> (вывод).</p> <p>15. Векторное произведение векторов, его свойства. Геометрический и механический смысл векторного произведения. Условие коллинеарности двух векторов.</p> <p>16. Векторное произведение в базисе <math>\bar{i}, \bar{j}, \bar{k}</math> (вывод).</p> <p>17. Смешанное произведение векторов, его свойства. Геометрический смысл смешанного произведения. Условие компланарности трех векторов.</p> <p>18. Смешанное произведение в базисе <math>\bar{i}, \bar{j}, \bar{k}</math> (вывод).</p> <p>19. Уравнение прямой на плоскости. Способы задания. Основные задачи.</p> <p>20. Уравнение плоскости в пространстве. Способы задания. Основные задачи.</p> <p>21. Уравнение прямой в пространстве. Прямая и плоскость в пространстве. Основные задачи.</p> <p>22. Функция. Способы задания. Область определения. Основные элементарные функции, их свойства, графики.</p> <p>23. Предел функции в точке. Предел функции в бесконечности. Односторонние пределы.</p> <p>24. Бесконечно малые и бесконечно большие функции, связь между ними. Свойства бесконечно малых функций.</p> <p>25. Теоремы о пределах. Раскрытие неопределенностей.</p> <p>26. Замечательные пределы.</p> <p>27. Сравнение бесконечно малых функций. Эквивалентные бесконечно малые функции и основные теоремы о них. Применение к вычислению пределов.</p> <p>28. Непрерывность функции в точке. Точки разрыва и их классификация.</p> <p>29. Основные теоремы о непрерывных функциях. Свойства функций непрерывных на отрезке.</p> <p>30. Производная функции, ее геометрический и физический смысл.</p> <p>31. Уравнения касательной и нормали к кривой. Дифференцируемость функции в точке.</p> <p>32. Производная суммы, разности, произведения, частного функций. Производная сложной и обратной функций.</p> <p>33. Дифференцирование неявных и параметрически заданных функций. Логарифмическое дифференцирование.</p>

Структурный элемент компетенции	Планируемые результаты обучения	Оценочные средства
		<p>34. Производные высших порядков.</p> <p>35. Дифференциал функции. Геометрический смысл дифференциала. Основные теоремы о дифференциалах.</p> <p>36. Применение дифференциала к приближенным вычислениям.</p> <p>37. Основные теоремы дифференциального исчисления: Ролля, Лагранжа и Коши.</p> <p>38. Правило Лопиталя.</p> <p>39. Условия монотонности функций. Экстремумы функций. Необходимое и достаточное условия экстремума функции.</p> <p>40. Наибольшее и наименьшее значения функции на отрезке.</p> <p>41. Выпуклость графика функции. Точки перегиба. Необходимое и достаточное условия точек перегиба.</p> <p>42. Асимптоты графика функции.</p> <p>43. Первообразная. Неопределенный интеграл и его свойства. Таблица основных интегралов.</p> <p>44. Основные методы интегрирования: замена переменной и интегрирование по частям.</p> <p>45. Интегрирование рациональных функций.</p> <p>46. Интегрирование тригонометрических функций.</p> <p>47. Интегрирование иррациональных функций.</p> <p>48. Определенный интеграл как предел интегральной суммы, его свойства.</p> <p>49. Формула Ньютона – Лейбница. Основные свойства определенного интеграла.</p> <p>50. Вычисление определенного интеграла (замена переменной, интегрирование по частям). Интегрирование четных и нечетных функций в симметричных пределах.</p> <p>51. Несобственные интегралы.</p> <p>52. Геометрические и физические приложения определенного интеграла.</p> <p>53. Область определения ФНП. Предел, непрерывность. Свойства функций, непрерывных в ограниченной замкнутой области.</p> <p>54. Частные производные первого порядка, их геометрическое истолкование.</p> <p>55. Частные производные высших порядков.</p> <p>56. Дифференцируемость и полный дифференциал функции.</p> <p>57. Применение полного дифференциала к приближенным вычислениям. Дифференциалы высших порядков.</p>



Структурный элемент компетенции	Планируемые результаты обучения	Оценочные средства
		<p>58. Производная сложной функции. Полная производная.</p> <p>59. Инвариантность формы полного дифференциала.</p> <p>60. Дифференцирование неявной функции.</p> <p>61. Касательная плоскость и нормаль к поверхности.</p> <p>62. Экстремум функции двух переменных. Необходимое и достаточное условие экстремума.</p> <p>63. Условный экстремум. Метод множителей Лагранжа.</p> <p>64. Наибольшее и наименьшее значения функции в замкнутой области.</p> <p>65. Дифференциальные уравнения первого порядка и методы их решения.</p> <p>66. Решение линейных однородных уравнений n-ого порядка с постоянными коэффициентами.</p> <p>67. Решение линейных неоднородных уравнений n-ого порядка с постоянными коэффициентами.</p> <p>68. Системы дифференциальных уравнений и методы их решения</p> <p>69. Основные понятия теории вероятностей: испытание, событие, вероятность события.</p> <p>70. Действия над событиями. Алгебра событий.</p> <p>71. Теоремы сложения и умножения вероятностей.</p> <p>72. Формула полной вероятности. Формула Байеса.</p> <p>73. Последовательность независимых испытаний. Формула Бернулли.</p> <p>74. Случайные величины, их виды.</p> <p>75. Ряд распределения. Функция распределения, ее свойства. Плотность распределения, свойства.</p> <p>76. Числовые характеристики случайных величин: математическое ожидание, дисперсия, среднее квадратическое отклонение.</p> <p>77. Нормальный закон распределения случайной величины.</p> <p>78. Системы случайных величин. Закон распределения. Числовые характеристики системы случайных величин. Зависимость случайных величин.</p>
ОПК-1.2	<p>Применяет методы моделирования и математического анализа для решения задач</p>	<p><b>Примерные практические задания для экзаменов:</b></p> <p>1. Вычислите пределы:</p> <p>а) <math>\lim_{x \rightarrow \infty} \frac{1+4x-x^4}{x+3x^2+2x^4}</math>; б) <math>\lim_{x \rightarrow 0} \frac{3x \cdot \arcsin 2x}{\cos x - \cos^3 x}</math>; в) <math>\lim_{x \rightarrow 3} \frac{\sqrt{2x-1} - \sqrt{5}}{x-3}</math>.</p>

Структурный элемент компетенции	Планируемые результаты обучения	Оценочные средства
	профессиональной деятельности	<p>2. Найдите <math>\frac{dy}{dx}</math> для функций: а) <math>y = e^{4x-x^2}</math>. б) <math>\begin{cases} x = ctg 2t, \\ y = \ln(\sin 2t). \end{cases}</math></p> <p>3. Найти экстремум функции и точки перегиба <math>y = x^4 - 4x^3 - 48x^2 + 6x - 9</math></p> <p>4. Найти неопределённый интеграл: а) <math>\int \sin 3x \cdot \cos 5x dx</math>, б) <math>\int \frac{1 - \cos x}{(x - \sin x)^2} dx</math>. в) <math>\int (2x + 5) \cdot e^x dx</math>.</p> <p>5. Вычислить определенный интеграл <math>\int_2^{\sqrt{20}} \frac{x dx}{\sqrt{x^2 + 5}}</math>.</p> <p>6. Вычислить определенный интеграл <math>\int_0^1 4x \cdot \arcsin x dx</math>.</p> <p>7. Найти площадь фигуры, ограниченной линиями: <math>x = 4</math>, <math>y^2 = 4x</math>.</p> <p>8. Найти и построить область определения функции <math>u = \sqrt{9 - x^2 - y^2} + (x - y)^3</math>.</p> <p>9. Найти полный дифференциал функции: <math>z = x^3 \ln y - \sin 2xy</math>.</p> <p>10. Найти частные производные первого порядка функции: <math>z = 5x^2 y^3 + \ln(x + 4y)</math>.</p> <p>11. Написать уравнение касательной плоскости и нормали к поверхности <math>z = \sqrt{x^2 + y^2}</math> в точке (3, 4, 5).</p> <p>12. Исследовать на экстремум функцию <math>z = x^2 - 2xy + 4y^3</math></p> <p>13. Решите задачу Коши: <math>y \cos^2 x dy = (y^2 + 1) dx</math>, <math>y(0) = 0</math>.</p> <p>14. При доставке с завода на базу 1000 радиоприемников, у 55 вышли из строя лампы. Найти вероятность того, что взятый наудачу приемник будет исправным.</p> <p>15. Пятнадцать экзаменационных билетов содержат по 2 вопроса, которые не повторяются, экзаменуемый знает только 25 вопросов. Найти вероятность того, что экзамен будет сдан, если для этого достаточно ответить на два вопроса одного билета.</p> <p>16. Принимаем вероятности рождения мальчика и девочки равными. Найти вероятность</p>

Структурный элемент компетенции	Планируемые результаты обучения	Оценочные средства																																										
		<p>того, что среди 10 новорожденных 6 окажутся мальчиками.</p> <p>17. Дан закон распределения дискретной случайной величины:</p> <table border="1" data-bbox="1223 421 1688 501"> <tr> <td>x:</td> <td>110</td> <td>120</td> <td>130</td> <td>140</td> <td>150</td> </tr> <tr> <td>p:</td> <td>0.1</td> <td>0.2</td> <td>0.3</td> <td>0.2</td> <td>0.2</td> </tr> </table> <p>вычислить ее математическое ожидание, дисперсию и среднее квадратическое отклонение.</p> <p>18. Дана функция распределения непрерывной случайной величины X</p> $F(x) = \begin{cases} 0 & \text{при } x < 0 \\ 0,25x^3(x+3) & \text{при } 0 \leq x \leq 1 \\ 1 & \text{при } x > 1 \end{cases}$ <p>Найти плотность распределения <math>f(x)</math>, построить ее график, вероятность попадания в заданный интервал <math>[0,5; 2]</math>, <math>Mx</math>, <math>Dx</math>, <math>\sigma_x</math>.</p> <p>19. Задано распределение вероятностей дискретной двумерной случайной величины:</p> <table border="1" data-bbox="913 916 1724 1027"> <tr> <td>Y \ X</td> <td>2</td> <td>5</td> <td>8</td> </tr> <tr> <td>0,4</td> <td>0,15</td> <td>0,30</td> <td>0,35</td> </tr> <tr> <td>0,8</td> <td>0,05</td> <td>0,12</td> <td>0,03</td> </tr> </table> <p>Найти законы распределения составляющих, коэффициент корреляции</p> <p>20. По выборке при заданном уровне значимости <math>\alpha = 0,05</math> проверить по критерию Пирсона гипотезу о нормальном распределении генеральной совокупности. В случае принятия гипотезы о нормальном распределении найти доверительные интервалы для математического ожидания <math>a</math> и среднего квадратического отклонения <math>\sigma</math> при уровне надежности <math>\gamma = 1 - \alpha</math></p> <table border="1" data-bbox="824 1267 2087 1362"> <tr> <td><math>x_i</math></td> <td>4</td> <td>7</td> <td>10</td> <td>13</td> <td>16</td> <td>19</td> <td>22</td> <td>25</td> </tr> <tr> <td><math>n_i</math></td> <td>6</td> <td>11</td> <td>14</td> <td>22</td> <td>20</td> <td>13</td> <td>9</td> <td>5</td> </tr> </table> <p>21. Из нормальной генеральной совокупности извлечена выборка объема <math>n = 15</math>: 143, 121, 135, 132, 120, 116, 115, 143, 115, 120, 138, 133, 148, 133, 134.</p>	x:	110	120	130	140	150	p:	0.1	0.2	0.3	0.2	0.2	Y \ X	2	5	8	0,4	0,15	0,30	0,35	0,8	0,05	0,12	0,03	$x_i$	4	7	10	13	16	19	22	25	$n_i$	6	11	14	22	20	13	9	5
x:	110	120	130	140	150																																							
p:	0.1	0.2	0.3	0.2	0.2																																							
Y \ X	2	5	8																																									
0,4	0,15	0,30	0,35																																									
0,8	0,05	0,12	0,03																																									
$x_i$	4	7	10	13	16	19	22	25																																				
$n_i$	6	11	14	22	20	13	9	5																																				

Структурный элемент компетенции	Планируемые результаты обучения	Оценочные средства																	
		<p>Требуется при уровне значимости <math>\alpha = 0,05</math> проверить нулевую гипотезу <math>H_0 : \sigma^2 = \sigma_0^2 = 55</math>, приняв в качестве конкурирующей гипотезы: а) <math>H_1 : \sigma^2 \neq 55</math>, б) <math>H_1 : \sigma^2 &gt; 55</math> или <math>H_1 : \sigma^2 &lt; 55</math> в зависимости от полученного значения <math>\sigma^2</math>.</p> <p><b>Примерные прикладные задачи и задания</b></p> <p><b>Задача 1.</b> Продавец может закупить от 1 до 5 билетов на спектакль по цене 100 руб. и продать перед спектаклем по 200 руб. каждый. Составить матрицу выручки продавца в зависимости от количества купленных им билетов (строка матрицы) и от результатов продажи (столбец матрицы).</p> <p><b>Задача 2.</b> Имеются данные о работе системы нескольких отраслей в прошлом периоде и план выпуска конечной продукции <math>Y_1</math> в будущем периоде (усл. ден. ед.):</p> <table border="1" data-bbox="831 823 1834 1007"> <thead> <tr> <th rowspan="2">От-расль</th> <th colspan="2">Потребление</th> <th rowspan="2">Чистая продук-ция</th> <th rowspan="2">План <math>Y_1</math></th> </tr> <tr> <th>I</th> <th>II</th> </tr> </thead> <tbody> <tr> <td>I</td> <td>80</td> <td>120</td> <td>300</td> <td>350</td> </tr> <tr> <td>II</td> <td>70</td> <td>30</td> <td>200</td> <td>300</td> </tr> </tbody> </table> <p>Найти матрицы прямых и полных затрат, а также выпуск валовой продукции в плановом периоде, обеспечивающей выпуск конечной продукции <math>Y_1</math>.</p> <p><b>Задача 3.</b> Зависимость пути от времени при прямолинейном движении точки задается уравнением <math>s = \frac{1}{3}t^3 + 2t^2 - 3</math>, где <math>s</math> — путь в м, а <math>t</math> — время в с. Вычислите ее скорость и ускорение в момент времени <math>t = 4с</math>.</p> <p><b>Задача 4.</b> Для изучения количественного признака <math>X</math> из генеральной совокупности извлечена выборка <math>x_1, \dots, x_n</math> объема <math>n</math>, имеющая данное статистическое распределение.</p> <ol style="list-style-type: none"> <li>1). Постройте полигон частот.</li> <li>2). Постройте эмпирическую функцию распределения.</li> </ol>	От-расль	Потребление		Чистая продук-ция	План $Y_1$	I	II	I	80	120	300	350	II	70	30	200	300
От-расль	Потребление			Чистая продук-ция	План $Y_1$														
	I	II																	
I	80	120	300	350															
II	70	30	200	300															

Структурный элемент компетенции	Планируемые результаты обучения	Оценочные средства																		
		<p>3). Постройте гистограмму относительных частот.</p> <p>4). Найдите выборочное среднее <math>\bar{x}</math>, выборочную дисперсию <math>D_B</math>, выборочное среднее квадратическое отклонение <math>\sigma_g</math>, исправленную дисперсию <math>s^2</math> и исправленное среднее квадратическое отклонение <math>s</math>.</p> <p>5). При данном уровне значимости <math>\alpha</math> проверьте по критерию Пирсона гипотезу о нормальном распределении генеральной совокупности.</p> <p>6). В случае принятия гипотезы о нормальном распределении найдите доверительные интервалы для математического ожидания <math>a</math> и среднего квадратического отклонения <math>\sigma</math> при данном уровне надежности <math>\gamma = 1 - \alpha</math>. (Принять <math>\alpha = 0,01</math>).</p> <table border="1" data-bbox="824 711 2085 810"> <tbody> <tr> <td><math>x_i</math></td> <td>9</td> <td>13</td> <td>17</td> <td>21</td> <td>25</td> <td>29</td> <td>33</td> <td>37</td> </tr> <tr> <td><math>n_i</math></td> <td>5</td> <td>10</td> <td>19</td> <td>23</td> <td>25</td> <td>19</td> <td>12</td> <td>7</td> </tr> </tbody> </table>	$x_i$	9	13	17	21	25	29	33	37	$n_i$	5	10	19	23	25	19	12	7
$x_i$	9	13	17	21	25	29	33	37												
$n_i$	5	10	19	23	25	19	12	7												

**б) Порядок проведения промежуточной аттестации, показатели и критерии оценивания:**

Промежуточная аттестация по дисциплине «Математика» включает теоретические вопросы, позволяющие оценить уровень усвоения обучающимися знаний, и практические задания, выявляющие степень сформированности умений и владений, проводится в форме экзамена (1 и 3 семестры) и зачёта (2 семестр).

Критерием получения «зачтено» служит выполнение обучающимся всех контрольных работ, проведённых в течение семестра, на положительные оценки, в противном случае, обучающийся получает по дисциплине «незачтено».

Экзамен по данной дисциплине проводится в устной форме по экзаменационным билетам, каждый из которых включает 2 теоретических вопроса и одно практическое задание.

**Критерии оценки (в соответствии с формируемыми компетенциями и планируемыми результатами обучения):**

– на оценку «отлично» – обучающийся должен показать высокий уровень знаний не только на уровне воспроизведения и объяснения информации, но и интеллектуальные навыки решения проблем и задач, нахождения уникальных ответов к проблемам, оценки и вынесения критических суждений;

– на оценку **«хорошо»** – обучающийся должен показать знания не только на уровне воспроизведения и объяснения информации, но и интеллектуальные навыки решения проблем и задач, нахождения уникальных ответов к проблемам;

– на оценку **«удовлетворительно»** – обучающийся должен показать знания на уровне воспроизведения и объяснения информации, интеллектуальные навыки решения простых задач;

– на оценку **«неудовлетворительно»** – обучающийся не может показать знания на уровне воспроизведения и объяснения информации, не может показать интеллектуальные навыки решения простых задач.