



МИНИСТЕРСТВО НАУКИ И ВЫСШЕГО ОБРАЗОВАНИЯ  
РОССИЙСКОЙ ФЕДЕРАЦИИ

Федеральное государственное бюджетное образовательное учреждение  
высшего образования  
«Магнитогорский государственный технический университет им. Г.И. Носова»



УТВЕРЖДАЮ  
Директор ИИиС  
И.Ю. Мезин

19.02.2024 г.

**РАБОЧАЯ ПРОГРАММА ДИСЦИПЛИНЫ (МОДУЛЯ)**

**ФИЗИКА**

Направление подготовки (специальность)  
15.03.01 Машиностроение

Направленность (профиль/специализация) программы  
Оборудование и технология сварочного производства

Уровень высшего образования - бакалавриат

Форма обучения  
заочная

Институт/ факультет	Институт естествознания и стандартизации
Кафедра	Физики
Курс	1

Магнитогорск  
2024 год

Рабочая программа составлена на основе ФГОС ВО - бакалавриат по направлению подготовки 15.03.01 Машиностроение (приказ Минобрнауки России от 09.08.2021 г. № 727)

Рабочая программа рассмотрена и одобрена на заседании кафедры Физики  
02.02.2024, протокол № 4

Зав. кафедрой  Д.М. Долгушин

Рабочая программа одобрена методической комиссией ИИиС  
19.02.2024 г. протокол № 5

Председатель  И.Ю. Мезгин

Согласовано:

Зав. кафедрой Машины и технологии обработки давлением и машиностроения

 С.И. Платов

Рабочая программа составлена:

ст. преподаватель кафедры Физики,  И.Ю. Богачева

Рецензент:

зав. кафедрой ПМИИ, д-р техн. наук  Ю.А. Извсков

## Лист актуализации рабочей программы

---

Рабочая программа пересмотрена, обсуждена и одобрена для реализации в 2025 - 2026 учебном году на заседании кафедры Физики

Протокол от \_\_\_\_\_ 20\_\_ г. № \_\_\_\_  
Зав. кафедрой \_\_\_\_\_ Д.М. Долгушин

---

Рабочая программа пересмотрена, обсуждена и одобрена для реализации в 2026 - 2027 учебном году на заседании кафедры Физики

Протокол от \_\_\_\_\_ 20\_\_ г. № \_\_\_\_  
Зав. кафедрой \_\_\_\_\_ Д.М. Долгушин

---

Рабочая программа пересмотрена, обсуждена и одобрена для реализации в 2027 - 2028 учебном году на заседании кафедры Физики

Протокол от \_\_\_\_\_ 20\_\_ г. № \_\_\_\_  
Зав. кафедрой \_\_\_\_\_ Д.М. Долгушин

---

Рабочая программа пересмотрена, обсуждена и одобрена для реализации в 2028 - 2029 учебном году на заседании кафедры Физики

Протокол от \_\_\_\_\_ 20\_\_ г. № \_\_\_\_  
Зав. кафедрой \_\_\_\_\_ Д.М. Долгушин

---

Рабочая программа пересмотрена, обсуждена и одобрена для реализации в 2029 - 2030 учебном году на заседании кафедры Физики

Протокол от \_\_\_\_\_ 20\_\_ г. № \_\_\_\_  
Зав. кафедрой \_\_\_\_\_ Д.М. Долгушин

### **1 Цели освоения дисциплины (модуля)**

Целями освоения дисциплины «Физика» являются: овладение базовыми знаниями основных физических законов и методов классической и современной физики для теоретического и экспериментального исследования и решения задач, возникающих при дальнейшем обучении и в последующей профессиональной деятельности.

Эти цели достигаются в ходе выполнения следующих задач:

- ознакомление студентов с современной физической картиной мира, с основными концепциями, моделями, теориями, описывающими поведение объектов в микро-, макро- и мегамире;
- приобретение навыков экспериментального исследования физических процессов, освоение методов получения и обработки эмпирической информации;
- изучение теоретических методов анализа физических явлений, расчетных процедур и алгоритмов, наиболее широко применяемых в физике;
- освоение методов получения и обработки эмпирической информации;
- формирование у студентов естественнонаучного мировоззрения, культуры мышления, развитие способности к обобщению, постановке задачи и выбору путей ее решения.

### **2 Место дисциплины (модуля) в структуре образовательной программы**

Дисциплина Физика входит в обязательную часть учебного плана образовательной программы.

Для изучения дисциплины необходимы знания (умения, владения), сформированные в результате изучения дисциплин/ практик:

Дисциплина «Физика» входит в базовую часть математического и естественнонаучного цикла дисциплин образовательного стандарта бакалавриата.

Для изучения дисциплины необходимы знания (умения, владения), сформированные в результате изучения следующих разделов математики, полученных в общеобразовательной школе: дифференциальное и интегральное исчисление, дифференциальные уравнения, векторный анализ. Из школьного курса химии необходимо знание следующих разделов: периодическая система элементов и ее структура, строение атома, электронные и электронно-графические формулы элементов, основные законы химии, электрохимия.

Знания (умения, владения), полученные при изучении данной дисциплины будут необходимы для изучения дисциплин/ практик:

Начертательная геометрия и компьютерная графика

Химия

Введение в направление

Логика в решении технических задач

Философия

Теория решения изобретательских задач

Основы трибологии

Продвижение научной продукции

### **3 Компетенции обучающегося, формируемые в результате освоения дисциплины (модуля) и планируемые результаты обучения**

В результате освоения дисциплины (модуля) «Физика» обучающийся должен обладать следующими компетенциями:

Код индикатора	Индикатор достижения компетенции
----------------	----------------------------------

ОПК-1 Способен применять естественнонаучные и общеинженерные знания, методы математического анализа и моделирования в профессиональной деятельности;	
ОПК-1.1	Решает стандартные профессиональные задачи с применением общеинженерных знаний
ОПК-1.2	Применяет методы моделирования и математического анализа для решения задач в профессиональной деятельности

#### 4. Структура, объём и содержание дисциплины (модуля)

Общая трудоемкость дисциплины составляет 12 зачетных единиц 432 акад. часов, в том числе:

- контактная работа – 27,2 акад. часов;
- аудиторная – 22 акад. часов;
- внеаудиторная – 5,2 акад. часов;
- самостоятельная работа – 387,4 акад. часов;
- в форме практической подготовки – 0 акад. час;
- подготовка к экзамену – 17,4 акад. час

Форма аттестации - экзамен

Раздел/ тема дисциплины	Курс	Аудиторная контактная работа (в акад. часах)			Самостоятельная работа студента	Вид самостоятельной работы	Форма текущего контроля успеваемости и промежуточной аттестации	Код компетенции
		Лек.	лаб. зан.	практ. зан.				
1. Механика								
1.1 Кинематика и динамика поступательного и вращательного движения	1	0,25		1	10	Проработка лекций, изучение теоретического материала, подготовка к выполнению и обработка результатов лабораторных работ, решение индивидуальных контрольных работ	Выполнение контрольной работы № 1	
1.2 Законы сохранения в механике		0,25	2	1	12	Проработка лекций, изучение теоретического материала, подготовка к выполнению и обработка результатов лабораторных работ, решение индивидуальных контрольных работ	Выполнение и защита лабораторной работы №1 "Применение законов сохранения для определения скорости полета пули". Выполнение контрольной работы № 1	

1.3	Механические колебания и волны		0,1		1	10,6	Проработка лекций, изучение теоретического материала, подготовка к выполнению и обработка результатов лабораторных работ, решение индивидуальных контрольных работ	Выполнение контрольной работы № 1	
Итого по разделу			0,6	2	3	32,6			
2. Молекулярная физика и термодинамика									
2.1	Статистическая физика и молекулярно-кинетическая теория	1	0,15		1	40	Проработка лекций, изучение теоретического материала, подготовка к выполнению и обработка результатов лабораторных работ, решение индивидуальных контрольных работ	Выполнение контрольной работы № 1	
2.2	Термодинамика		0,25	1	1	40	Проработка лекций, изучение теоретического материала, подготовка к выполнению и обработка результатов лабораторных работ, решение индивидуальных контрольных работ	Выполнение и защита лабораторной работы №14 "Определение показателя адиабаты $\gamma$ методом Клемана и Дезорма". Выполнение контрольной работы № 1"	
Итого по разделу			0,4	1	2	80			
3. Волновая и квантовая оптика									
3.1	Интерференция и дифракция световых волн	1	0,25	1	0,5	39	Проработка лекций, изучение теоретического материала, подготовка к выполнению и обработка результатов лабораторных работ, решение индивидуальных контрольных работ	Выполнение и защита лабораторной работы №34 "Определение длины световой волны и характеристик дифракционной решетки". Выполнение контрольной работы № 1 "	

3.2 Квантовая оптика		0,25		0,5	40,4	Проработка лекций, изучение теоретического материала, подготовка к выполнению и обработка результатов лабораторных работ, решение индивидуальных контрольных работ	Выполнение контрольной работы № 1	
Итого по разделу		0,5	1	1	79,4			
4. Электричество и магнетизм								
4.1 Электростатическое поле в вакууме и в веществе		0,25		0,5	15	Проработка лекций, изучение теоретического материала, подготовка к выполнению и обработка результатов лабораторных работ, решение индивидуальных контрольных работ	Выполнение контрольной работы № 2	
4.2 Постоянный электрический ток	1	0,25	2	0,25	10	Проработка лекций, изучение теоретического материала, подготовка к выполнению и обработка результатов лабораторных работ, решение индивидуальных контрольных работ	Выполнение и защита лабораторной работы №24 "Расширение предела измерения амперметра и вольтметра постоянного тока". Выполнение контрольной работы № 2 "Электричество и магнетизм. Волновая оптика"	
4.3 Магнитное поле в вакууме и в веществе		0,25		0,25	10	Проработка лекций, изучение теоретического материала, подготовка к выполнению и обработка результатов лабораторных работ, решение индивидуальных контрольных работ	Выполнение контрольной работы № 2	



4.4 Электромагнитная индукция		0,25		0,25	15	Проработка лекций, изучение теоретического материала, подготовка к выполнению и обработка результатов лабораторных работ, решение индивидуальных контрольных работ	Выполнение контрольной работы № 2	
4.5 Электрические колебания и переменный ток		0,25		0,25	20	Проработка лекций, изучение теоретического материала, подготовка к выполнению и обработка результатов лабораторных работ, решение индивидуальных контрольных работ	Выполнение контрольной работы № 2	
Итого по разделу		1,25	2	1,5	70			
5. Квантовая, атомная и ядерная физика								
5.1 Квантовая механика	1	0,25		0,5	30	Проработка лекций, изучение теоретического материала, подготовка к выполнению и обработка результатов лабораторных работ, решение индивидуальных контрольных работ	Выполнение контрольной работы № 2	
5.2 Физика атома		0,25	2	1	30	Проработка лекций, изучение теоретического материала, подготовка к выполнению и обработка результатов лабораторных работ, решение индивидуальных контрольных работ	Выполнение и защита лабораторной работы 42 "Определение квантовых чисел возбужденного состояния атома водорода". Выполнение контрольной работы № 2	

5.3 Ядерная физика		0,5		0,5	30	Проработка лекций, изучение теоретического материала, подготовка к выполнению и обработка результатов лабораторных работ, решение индивидуальных контрольных работ	Выполнение контрольной работы № 2	
5.4 Физика элементарных частиц и современная физическая картина мира		0,25		0,5	35,4	Проработка лекций, изучение теоретического материала, подготовка к выполнению и обработка результатов лабораторных работ, решение индивидуальных контрольных работ	Выполнение контрольной работы № 2	
Итого по разделу		1,25	2	2,5	125,4			
Итого за семестр		4	8	10	387,4		экзамен	
Итого по дисциплине		4	8	10	387,4		экзамен	

## 5 Образовательные технологии

При реализации различных видов учебной работы наиболее эффективные результаты освоения дисциплины «Физика» дают традиционные образовательные технологии, технологии проблемного обучения, интерактивные технологии, информационно-коммуникационные образовательные технологии.

1. Традиционные образовательные технологии ориентируются на организацию образовательного процесса, предполагающую прямую трансляцию знаний от преподавателя к студенту (преимущественно на основе объяснительно-иллюстративных методов обучения). Учебная деятельность студента носит в таких условиях, как правило, репродуктивный характер.

Формы учебных занятий с использованием традиционных технологий:

Информационная лекция - последовательное изложение материала в дисциплинарной логике, осуществляемое преимущественно вербальными средствами (монолог преподавателя).

Семинар – беседа преподавателя и студентов, обсуждение заранее подготовленных сообщений по каждому вопросу плана занятия с единым для всех перечнем рекомендуемой обязательной и дополнительной литературы.

Практическое занятие, посвященное освоению конкретных умений и навыков по предложенному алгоритму.

Лабораторная работа – организация учебной работы с реальными материальными и информационными объектами, экспериментальная работа с аналоговыми моделями реальных объектов.

2. Технологии проблемного обучения – организация образовательного процесса, которая предполагает постановку проблемных вопросов, создание учебных проблемных ситуаций для стимулирования активной познавательной деятельности студентов.

Формы учебных занятий с использованием технологий проблемного обучения:

Проблемная лекция – изложение материала, предполагающее постановку проблемных и дискуссионных вопросов, освещение различных научных подходов, авторские комментарии, связанные с различными моделями интерпретации изучаемого материала.

Практическое занятие в форме практикума – организация учебной работы, направленная на решение комплексной учебно-познавательной задачи, требующей от студента применения как научно-теоретических знаний, так и практических навыков.

3. Интерактивные технологии – организация образовательного процесса, которая предполагает активное и нелинейное взаимодействие всех участников, достижение на этой основе лично значимого для них образовательного результата. Наряду со специализированными технологиями такого рода принцип интерактивности прослеживается в большинстве современных образовательных технологий. Интерактивность подразумевает субъект-субъектные отношения в ходе образовательного процесса и, как следствие, формирование саморазвивающейся информационно-ресурсной среды.

Формы учебных занятий с использованием специализированных интерактивных технологий:

Лекция «обратной связи» – лекция–провокация (изложение материала с заранее запланированными ошибками), лекция-беседа, лекция-дискуссия.

Семинар-дискуссия – коллективное обсуждение какого-либо спорного вопроса, проблемы, выявление мнений в группе (межгрупповой диалог, дискуссия как спор-диалог).

4. Информационно-коммуникационные образовательные технологии – организация образовательного процесса, основанная на применении специализированных программных сред и технических средств работы с информацией.

Формы учебных занятий с использованием информационно-коммуникационных технологий:

Лекция-визуализация – изложение содержания сопровождается презентацией (демонстрацией учебных материалов, представленных в различных знаковых системах, в т.ч. иллюстративных, графических, аудио- и видеоматериалов).

Практическое занятие в форме презентации – представление результатов проектной или исследовательской деятельности с использованием специализированных программных сред.

#### **6 Учебно-методическое обеспечение самостоятельной работы обучающихся**

Представлено в приложении 1.

#### **7 Оценочные средства для проведения промежуточной аттестации**

Представлены в приложении 2.

#### **8 Учебно-методическое и информационное обеспечение дисциплины (модуля)**

##### **а) Основная литература:**

1. Механика: пособие по подготовке и выполнению лабораторных работ [Электронный ресурс] : учебное пособие /О.Н. Вострокнутова, В.В. Мавринский, Н.И. Мишенева, Ю.И. Савченко; МГТУ. - Магнитогорск : МГТУ, 2021 - Режим доступа: <https://magtu.informsystema.ru/uploader/fileUpload?name=4363.pdf&show=dcatalogues/1/1543689/4363.pdf&view=true>

2. Вечеркин, М. В. Цепи постоянного тока: практикум по физике : учебное пособие / М. В. Вечеркин, О. В. Кривко. — Магнитогорск : МГТУ им. Г.И. Носова, 2022. — 81 с. — ISBN 978-5-9967-2300-3. — Текст : электронный // Лань : электронно-библиотечная система. — URL: <https://e.lanbook.com/book/366005> (дата обращения: 05.04.2024)

3. Савченко Ю. И. Переменный ток : лабораторный практикум / Ю. И. Савченко, О. Н. Вострокнутова, Н. И. Мишенева ; Ю. И. Савченко, О. Н. Вострокнутова, Н. И. Мишенева ; МГТУ. - Магнитогорск : МГТУ, 2018. - 1 электрон. опт. диск (CD-ROM). - URL: <https://host.megaprolib.net/MP0109/Download/MObject/2081>

4. Физика твердого тела, атома и атомного ядра : учебное пособие [для вузов] / С. А. Бугаков, Д. М. Долгушин, М. А. Лисовская, В. В. Мавринский ; Магнитогорский гос. технический ун-т им. Г. И. Носова. - Магнитогорск : МГТУ им. Г. И. Носова, 2019. - 1 CD-ROM. - Загл. с титул. экрана. - Содерж.: Лабораторные работы. - URL: <https://host.megaprolib.net/MP0109/Download/MObject/2393>

5. Можаров Г. А. Основы физической оптики : учебное пособие для вузов / Г. А. Можаров ; Можаров Г. А. - 2-е изд., стер. - Санкт-Петербург : Лань, 2022. - 196 с. - Книга из коллекции Лань - Физика. - URL: <https://e.lanbook.com/book/201194>

6. Гринкруг М. С. Лабораторный практикум по физике / М. С. Гринкруг, А. А. Вакулюк ; Гринкруг М. С., Вакулюк А. А. - Санкт-Петербург : Лань, 2022. - 480 с. - Книга из коллекции Лань - Физика. - URL: <https://e.lanbook.com/book/210935>

#### **б) Дополнительная литература:**

1. Фирганг, Е. В. Руководство к решению задач по курсу общей физики :

учебное пособие / Е. В. Фирганг. — 4-е изд., испр. — Санкт-Петербург : Лань, 2022. — 352 с. — ISBN 978-5-8114-0765-1. — Текст : электронный // Лань : электронно-библиотечная система. — URL: <https://e.lanbook.com/book/210374>

2. Кузнецов, С. И. Справочник по физике : учебное пособие / С. И. Кузнецов, К. И. Рогозин. — Томск : ТПУ, 2014. — 220 с. — ISBN 978-5-4387-0443-0. — Текст : электронный // Лань : электронно-библиотечная система. — URL: <https://e.lanbook.com/book/82867>

#### **в) Методические указания:**

1. Механика: пособие по подготовке и выполнению лабораторных работ [Электронный ресурс] : учебное пособие /О.Н. ВострокнUTOва, В.В. Мавринский, Н.И. Мишенева, Ю.И. Савченко; МГТУ. - Магнитогорск : МГТУ, 2021 - Режим доступа: <https://magtu.informsystema.ru/uploader/fileUpload?name=4363.pdf&show=dcatalogues/1/1543689/4363.pdf&view=true>

2. Вечеркин, М. В. Цепи постоянного тока: практикум по физике : учебное пособие / М. В. Вечеркин, О. В. Кривко. — Магнитогорск : МГТУ им. Г.И. Носова, 2022. — 81 с. — ISBN 978-5-9967-2300-3. — Текст : электронный // Лань : электронно-библиотечная система. — URL: <https://e.lanbook.com/book/366005>

3. Савченко Ю. И. Переменный ток : лабораторный практикум / Ю. И. Савченко, О. Н. ВострокнUTOва, Н. И. Мишенева ; Ю. И. Савченко, О. Н. ВострокнUTOва, Н. И. Мишенева ; МГТУ. - Магнитогорск : МГТУ, 2018. - 1 электрон. опт. диск (CD-ROM). - URL: <https://host.megaprolib.net/MP0109/Download/MObject/2081>

4. Физика твердого тела, атома и атомного ядра : учебное пособие [для вузов] / С. А. Бутаков, Д. М. Долгушин, М. А. Лисовская, В. В. Мавринский ; Магнитогорский гос. технический ун-т им. Г. И. Носова. - Магнитогорск : МГТУ им. Г. И. Носова, 2019. - 1 CD-ROM. - Загл. с титул. экрана. - Содерж.: Лабораторные работы. - URL: <https://host.megaprolib.net/MP0109/Download/MObject/2393>

5. Можаров Г. А. Основы физической оптики : учебное пособие для вузов / Г. А. Можаров ; Можаров Г. А. - 2-е изд., стер. - Санкт-Петербург : Лань, 2022. - 196 с. - Книга из коллекции Лань - Физика. - URL: <https://e.lanbook.com/book/201194>

6. Гринкруг М. С. Лабораторный практикум по физике / М. С. Гринкруг, А. А. Вакулюк ; Гринкруг М. С., Вакулюк А. А. - Санкт-Петербург : Лань, 2022. - 480 с. - Книга из коллекции Лань - Физика. - URL: <https://e.lanbook.com/book/210935>

#### **г) Программное обеспечение и Интернет-ресурсы:**

##### **Программное обеспечение**

Наименование ПО	№ договора	Срок действия лицензии
Adobe Design Premium CS 5.5 Academic Edition	К-615-11 от 12.12.2011	бессрочно
7Zip	свободно распространяемое ПО	бессрочно
Adobe Reader	свободно распространяемое ПО	бессрочно

Браузер Mozilla Firefox	свободно распространяемое ПО	бессрочно
----------------------------	------------------------------	-----------

Браузер Yandex	свободно распространяемое	бессрочно
FAR Manager	свободно распространяемое	бессрочно

**Профессиональные базы данных и информационные справочные системы**

Название курса	Ссылка
Электронные ресурсы библиотеки МГТУ им. Г.И. Носова	<a href="https://host.megaprolib.net/MP0109/Web">https://host.megaprolib.net/MP0109/Web</a>
Национальная информационно-аналитическая система – Российский индекс научного цитирования (РИНЦ)	URL: <a href="https://elibrary.ru/project_risc.asp">https://elibrary.ru/project_risc.asp</a>
Поисковая система Академия Google (Google Scholar)	URL: <a href="https://scholar.google.ru/">https://scholar.google.ru/</a>

**9 Материально-техническое обеспечение дисциплины (модуля)**

Материально-техническое обеспечение дисциплины включает:



Лекционная аудитория включает:

Мультимедийные средства хранения, передачи и представления информации.

Лаборатория «Механики, молекулярной физики и термодинамики» включает:

1. Баллистические маятники.
2. Маятник Обербека.
3. Физический маятник.
4. Доска Гальтона.
5. Лабораторная установка для исследования распределения термоэлектронов по модулю их скорости.
6. Лабораторная установка для определения показателей адиабаты  $\gamma$  методом Клемана и Дезорма.
7. Лабораторная установка для проверки закона возрастания энтропии в процессе диффузии газов на модели перемешивания шаров.
8. Лабораторная установка для проверки законов возрастания энтропии в процессе теплообмена.
9. Установка лабораторная для изучения зависимости скорости звука от температуры "МФ-СЗ-М"
10. Установка лабораторная для исследования теплоемкости твердого тела "МФ-ТЕТ-М".
11. Установка лабораторная для определения универсальной газовой постоянной "МФ-ОГП-М".
12. Стенд лабораторный газовые процессы.
13. Мерительный инструмент.

Лаборатория «Электричества и оптики» включает:

1. Лабораторная установка для исследования электростатического поля с помощью одинарного зонда.
2. Установка для шунтирования миллиамперметра.
3. Установка лабораторная для определения индуктивности соленоида и магнитной проницаемости.
4. Установка лабораторная для изучения резонанса напряжений и определения индуктивности
5. Лабораторная установка для изучения длины световой волны и характеристик дифракционной решетки.
6. Лабораторная установка для определения радиуса кривизны линзы и длины световой волны с помощью колец Ньютона.
7. Лабораторная установка для определения концентрации растворов сахара и постоянной вращения.
8. Мерительный инструмент.

Лаборатория «Атома, твердого тела, ядра» включает:

1. Лабораторная установка для изучения внешнего фотоэффекта.
2. Установка для изучения спектра атома водорода и определения постоянной Ридберга.
3. Установка лабораторная для определения потенциала возбуждения газа.
4. Установка для определения длины пробега частиц в воздухе.
5. Мерительный инструмент.

Аудитории для групповых и индивидуальных консультаций, текущего контроля и промежуточной аттестации включают: интерактивная доска, проектор;

Мультимедийный проектор, экран.

Аудитории для самостоятельной работы с выходом в Интернет и с доступом в электронную информационно-образовательную среду университета.

компьютерные классы; читальные залы библиотеки Персональные компьютеры с пакетом MS Office, с выходом в Интернет и с доступом в электронную информационно-образовательную среду университета включают: персональные компьютеры с пакетом MS Office.

Помещение для хранения и профилактического обслуживания учебного оборудования включают: стеллажи, сейфы для хранения учебного оборудования. Инструменты для ремонта оборудования.

## Приложение 1. Учебно-методическое обеспечение самостоятельной работы обучающихся

По дисциплине «Физика» предусмотрена внеаудиторная самостоятельная работа обучающихся.

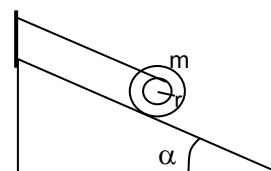
Внеаудиторная самостоятельная работа обучающихся включает в себя: проработку лекционного материала, изучение литературы по соответствующему разделу; решение индивидуальных контрольных работ, подготовку к выполнению лабораторных работ, подготовку к отчету по лабораторным работам.

### Примерные индивидуальные контрольные работы

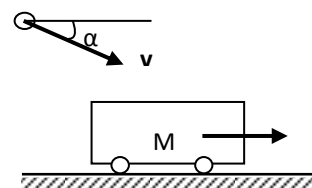
#### Контрольная работа № 1 «Механика. Электромагнетизм»

1. Точка движется в плоскости  $XOY$  по закону:  $x=10\cos\omega t$ ;  $y=10(1-\sin\omega t)$ . Найти путь, пройденный телом за  $2c$ ; угол между векторами скорости  $\mathbf{V}$  и ускорения  $\mathbf{a}$ ; траекторию движения  $y=f(x)$ .

2. На гладкой наклонной плоскости, составляющей угол  $\alpha = 30^\circ$  с горизонтом, находится катушка с ниткой, свободный конец которой укреплен, как показано на рисунке. Масса катушки  $m = 200$  г, её момент инерции относительно собственной оси  $I = 0,45$  г·м<sup>2</sup>, радиус намотанного слоя ниток  $r = 3$  см. Найти ускорение оси катушки.



3. Платформа с песком общей массой  $M = 2$  т стоит на рельсах на горизонтальном участке пути. В песок попадает снаряд массой  $m = 8$  кг и застревает в нём. Пренебрегая трением, определить, с какой скоростью будет двигаться платформа, если в момент попадания скорость снаряда  $v = 450$  м/с, а её направление – сверху вниз под  $\alpha = 30^\circ$  к горизонту.



4. На двух бесконечных параллельных плоскостях равномерно распределены заряды с поверхностными плотностями  $\sigma_1$  и  $\sigma_2$ . Определить напряженность электрического поля: между плоскостями; вне плоскостей. Построить график изменения напряженности поля вдоль линии, перпендикулярной пластинам. Принять  $\sigma_1 = \sigma$ ,  $\sigma_2 = -2\sigma$ , где  $\sigma = 20$  нКл/м<sup>2</sup>.

5. Два конденсатора ёмкостями  $C_1 = 3$  мкФ и  $C_2 = 6$  мкФ соединены между собой и присоединены к батарее с ЭДС  $E = 120$  В. Определить заряды конденсаторов и разность потенциалов  $U_1$  и  $U_2$  между их обкладками, если конденсаторы соединены: 1) параллельно, 2) последовательно.

6. По двум бесконечно длинным прямым параллельным проводам текут токи  $I_1 = 20$  А и  $I_2 = 30$  А в одном направлении. Расстояние между проводами  $d = 10$  см. Вычислить индукцию  $B$  магнитного поля в точке, удаленной от обоих проводов на одинаковое расстояние  $r = 10$  см.

#### Контрольная работа № 2 «Молекулярная физика и термодинамика. Оптика. Квантовая, атомная и ядерная физика»

1. При нагревании  $\nu = 1$  кмоль двухатомного газа его термодинамическая температура увеличивается от  $T_1$  до  $T_2 = 1,5 T_1$ . Найти изменение  $\Delta S$  энтропии, если нагревание происходит изохорически.
2. Определить длину волны света, падающего на дифракционную решетку, на каждый миллиметр которой нанесено  $n=400$  штрихов. Спектр наблюдается на экране, расположенном на расстоянии  $l=25$  см от решетки. Расстояние на экране между третьими максимумами слева и справа от центрального  $\Delta x=27,4$  см.
3. Два николя расположены так, что угол между их главными плоскостями составляет  $\varphi=60^\circ$ . Во сколько раз уменьшится интенсивность естественного света  $I_0$  при прохождении через оба николя. Коэффициент поглощения света в каждом николе  $k=0,05$ .
4. Фотоэффект происходит под действием излучения с  $\lambda = 0,09$  мкм. Определить работу выхода электронов из металла, если фототок прекращается при задерживающей разности потенциалов  $U_3 = 3,8$  В.
5. При какой скорости  $V$  электрона его длина волны де Бройля будет равна: 1) 650 нм, 2) 3 пм?
6. Определите энергию связи для ядра атома  ${}_{11}^{23}\text{Na}$

### ***Перечень лабораторных работ***

- № 1 «Применение законов сохранения для определения скорости полета пули»
- № 28 «Определение индуктивности катушки и магнитной проницаемости ферромагнитного тела»
- № 42 «Определение главных квантовых чисел возбужденных состояний атома водорода»

## Приложение 2. Оценочные средства для проведения промежуточной аттестации

### а) Планируемые результаты обучения и оценочные средства для проведения промежуточной аттестации:

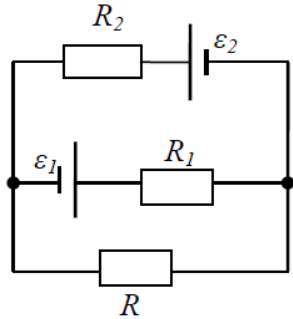
Код индикатора	Индикатор достижения компетенции	Оценочные средства
<b>ОПК-1: Способен применять естественнонаучные и общинженерные знания, методы математического анализа и моделирования в профессиональной деятельности;</b>		
ОПК-1.1	Решает стандартные профессиональные задачи с применением общинженерных знаний	<p><i>Перечень теоретических вопросов к зачету</i></p> <ol style="list-style-type: none"> <li>1. Кинематика поступательного движения. Система отсчета. Понятие радиус-вектора, средней и мгновенной скорости и ускорения.</li> <li>2. Обратная задача механики. Нахождение перемещения тела и пройденного пути. Начальные условия.</li> <li>3. Движение по окружности. Угол поворота, угловая скорость и угловое ускорение. Связь угловых и линейных величин.</li> <li>4. Криволинейное движение. Тангенциальное и нормальное ускорение. Полное ускорение. Угол между скоростью и ускорением.</li> <li>5. Понятие силы и массы тела. Принцип суперпозиции. Законы Ньютона.</li> <li>6. Импульс тела. Основной закон динамики поступательного движения. Применение основного закона динамики.</li> <li>7. Момент импульса и момент силы относительно точки. Основное уравнение динамики вращательного движения.</li> <li>8. Вращение вокруг неподвижной оси. Момент инерции материальной точки и твердого тела.</li> <li>9. Расчет моментов инерции простых тел. Теорема Штейнера.</li> <li>10. Законы сохранения в механике. Замкнутая система. Закон сохранения импульса.</li> <li>11. Механическая работа. Кинетическая энергия поступательного движения. Теорема о кинетической энергии.</li> <li>12. Законы сохранения при вращательном движении. Кинетическая энергия вращательного движения. Закон сохранения момента импульса.</li> <li>13. Консервативные силы. Потенциальная энергия. Закон сохранения полной механической энергии.</li> <li>14. Гармонические колебания. Уравнение гармонических колебаний. Амплитуда, частота и начальная фаза.</li> </ol>

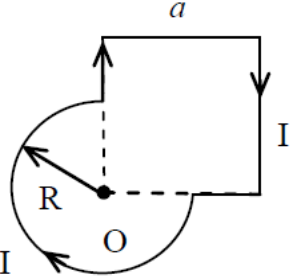
Код индикатора	Индикатор достижения компетенции	Оценочные средства
		<p>15. Энергия гармонических колебаний. Математический и физический маятники.</p> <p>16. Электростатическое поле. Электрический заряд и его свойства. Закон Кулона.</p> <p>17. Напряженность электростатического поля. Принцип суперпозиции для дискретного и непрерывного распределения зарядов.</p> <p>18. Работа электростатического поля по перемещению заряда. Энергия взаимодействия зарядов. Потенциал поля.</p> <p>19. Геометрическое описание электрического поля. Теорема Гаусса и теорема о циркуляции напряженности электростатического поля.</p> <p>20. Конденсаторы. Понятие электроёмкости. Ёмкость плоского конденсатора.</p> <p>21. Соединение конденсаторов. Энергия заряженного конденсатора.</p> <p>22. Постоянный электрический ток. Закон Ома для однородного участка цепи. Сопротивление. Соединение сопротивлений.</p> <p>23. Сторонние силы. Электродвижущая сила. Закон Ома для неоднородного участка цепи и для замкнутой цепи.</p> <p>24. Разветвленные цепи. Правила Кирхгофа.</p> <p>25. Работа электрического тока. Мощность тока. Закон Джоуля-Ленца.</p> <p>26. Единая природа электрического и магнитного полей. Сила Лоренца. Сила Ампера.</p> <p>27. Магнитное поле движущегося заряда. Принцип суперпозиции магнитных полей. Закон Био-Савара.</p> <p>28. Геометрическое описание магнитного поля. Поток и циркуляция вектора магнитной индукции.</p> <p>29. Закон электромагнитной индукции Фарадея. Правило Ленца.</p> <p>30. Явление самоиндукции. Индуктивность. Расчет индуктивности бесконечного соленоида. Энергия магнитного поля</p>
ОПК-1.2:	Применяет методы моделирования и математического анализа для решения задач в профессиональной деятельности	<p><b><i>Перечень теоретических вопросов к экзамену</i></b></p> <p>1. Термодинамический и статистический способы описания макросистем. Модель идеального газа. Уравнение состояния идеального газа.</p> <p>2. Понятие степеней свободы молекулы. Теорема о равномерном распределении энергии по</p>

Код индикатора	Индикатор достижения компетенции	Оценочные средства
		<p>степеням свободы.</p> <p>3. Внутренняя энергия как функция состояния системы. Первое начало термодинамики.</p> <p>4. Работа как функция процесса. Изохорический, изобарический и изотермический процессы.</p> <p>5. Понятие теплоемкости. Теплоемкость при изохорическом и изобарическом процессах. Постоянная адиабаты. Адиабатический процесс.</p> <p>6. Второе начало термодинамики. Формулировки Клаузиуса и Кельвина.</p> <p>7. Циклический процесс. Коэффициент полезного действия тепловой машины. Цикл Карно.</p> <p>8. Проблема необратимости тепловых процессов. Энтропия системы и ее свойства. Теорема Нернста.</p> <p>9. Основные характеристики электромагнитной волны. Шкала электромагнитных волн. Особенности оптического диапазона.</p> <p>10. Интерференция световых волн. Когерентность. Опыт Юнга.</p> <p>11. Оптическая разность хода. Условия максимума и минимума при интерференции.</p> <p>12. Интерференция в тонких плёнках.</p> <p>13. Явление дифракции. Дифракция Френеля на круглом отверстии. Зоны Френеля.</p> <p>14. Дифракция Фраунгофера на узкой прямолинейной щели.</p> <p>15. Дифракционная решётка.</p> <p>16. Естественный и поляризованный свет. Закон Малюса.</p> <p>17. Тепловое излучение тела. Закон Стефана-Больцмана. Закон смещения Вина. Гипотеза Планка.</p> <p>18. Фотоэффект. Законы Столетова. Формула Эйнштейна.</p> <p>19. Фотоны. Давление света. Корпускулярно-волновой дуализм света.</p> <p>20. Рассеяние фотона на свободном электроны. Формула Комптона.</p> <p>21. Волновые свойства частиц. Длина волны де Бройля. Экспериментальные подтверждения гипотезы де Бройля.</p> <p>22. Принцип неопределенности. Соотношение неопределенностей Гейзенберга.</p>

Код индикатора	Индикатор достижения компетенции	Оценочные средства
		<p>Особенности процесса измерения в квантовой механике.</p> <p>23. Планетарная модель атома. Постулаты Бора. Квантование энергии водородоподобной системы.</p> <p>24. Излучение водородоподобных систем. Спектральные серии атома водорода. Обобщенная формула Бальмера.</p> <p>25. Явление радиоактивности. Основной закон радиоактивного распада. Постоянная распада. Период полураспада.</p> <p>26. Состав и характеристики атомного ядра. Капельная модель. Размер ядра.</p> <p>27. Масса и энергия связи атомного ядра. Зависимость удельной энергии связи от массового числа. Оболочечная модель ядра.</p> <p>28. Ядерные реакции. Энергия реакции. Реакции деления и синтеза ядер.</p>
		<p><b>Примерный перечень практических заданий для экзамена</b></p> <p>1. Движение материальной точки задано уравнением <math>\vec{r}(t) = (A + Bt^2)\vec{i} + Ct\vec{j}</math>, где <math>A=10</math> м, <math>B=-5</math> м/с<sup>2</sup>, <math>C=10</math> м/с. Найти для момента времени <math>t=1</math> с <math>\vec{v}(t)</math>, <math>\vec{a}(t)</math>, вычислить модуль скорости <math> \vec{v} </math>, модуль ускорения <math> \vec{a} </math>, тангенциальное ускорение <math>a_\tau</math>, нормальное ускорение <math>a_n</math>.</p> <p>2. Колесо вращается с частотой <math>n=5\text{с}^{-1}</math>. Под действием сил трения оно остановилось через <math>\Delta t = 1\text{мин}</math>. Определить угловое ускорение <math>\varepsilon</math> и число <math>N</math> оборотов, которое сделает колесо за это время.</p> <p>3. Брусок массой 2 кг скользит по горизонтальной поверхности под действием груза массой 0,5 кг, прикрепленного к концу нерастяжимой нити, перекинутой через неподвижный блок. Коэффициент трения бруска о поверхность 0,1. Найти ускорение движения тела и силу натяжения нити. Массами блока и нити, а также трением в блоке пренебречь.</p> <p>4. Определить момент инерции тонкого однородного стержня длиной <math>l=30</math> см и массой <math>m=100</math> г относительно оси, перпендикулярной стержню и проходящей через точку, отстоящую от конца стержня на <math>1/3</math> его длины.</p> <p>5. Шарик массой <math>m=100</math> г упал с высоты <math>h=2,5</math> м на горизонтальную плиту, масса</p>



Код индикатора	Индикатор достижения компетенции	Оценочные средства
		<p>которой много больше массы шарика, и отскочил от нее вверх. Считая удар абсолютно упругим, определить импульс <math>p</math>, полученный плитой.</p> <p>6. Вертикально расположенный однородный стержень массы <math>M = 1</math> кг и длины <math>l = 1</math> м может вращаться вокруг своего верхнего конца. В нижний конец стержня попала, застряв, горизонтально летевшая пуля массы <math>m = 10</math> г, в результате чего стержень отклонился на угол <math>\alpha = 15^\circ</math>. Считая <math>m \ll M</math>, найти скорость летевшей пули</p> <p>7. Определить напряжённость электростатического поля <math>E</math> в центре квадрата со стороной <math>a</math>, если в трёх вершинах квадрата находятся одинаковые точечные заряды <math>q</math></p> <p>8. Тонкая нить согнута в полуокружность и заряжена так, что электрический заряд равномерно распределен по ее длине. Каков радиус этой полуокружности, если известно, что в центре ее кривизны напряженность поля <math>10</math> кВ/м, а потенциал <math>630</math> В.</p> <p>9. На рис. <math>\varepsilon_1 = 1,5</math> В, <math>\varepsilon_2 = 3,7</math> В и сопротивления <math>R_1 = 10</math> Ом, <math>R_2 = 20</math> Ом и <math>R = 5,0</math> Ом. Внутренние сопротивления источников пренебрежимо малы. Определите: 1) значение и направление тока через сопротивление <math>R</math>; 2) тепловую мощность, которая выделяется на сопротивлении <math>R</math>.</p> <div style="text-align: center;">  </div> <p>10. Каким должно быть сопротивление <math>R</math> электрической цепи, изображенной на рисунке, чтобы ток, текущий по нему был равен <math>I = 0,5</math> А, если <math>C = 5</math> мкФ, <math>U = 200</math> В, частота переменного тока <math>\nu = 100</math> Гц?</p>

Код индикатора	Индикатор достижения компетенции	Оценочные средства
		<div style="text-align: center;">  </div> <p>11. Ток <math>I=100\text{А}</math> течет по тонкому проводнику, изогнутому так, как показано на рисунке. Найти индукцию <math>B</math> магнитного поля в точке <math>O</math> контура, если радиус изогнутой части проводника <math>R=0,1\text{ м}</math>, а сторона квадрата <math>a=0,2\text{ м}</math></p> <div style="text-align: center;">  </div> <p>12. По двум параллельным прямым проводам длиной <math>l = 1\text{ м}</math> каждый текут одинаковые токи. Расстояние <math>d</math> между проводами равно <math>1\text{ см}</math>. Токи взаимодействуют с силой <math>F = 1\text{ мН}</math>. Найти силу тока <math>I</math> в проводах</p> <p>13. Катушка состоит из <math>N = 75</math> витков и имеет сопротивление <math>R = 9\text{ Ом}</math>. Магнитный поток через ее поперечное сечение меняется по закону <math>\Phi = kt</math>, где <math>k = 1,2\text{ мВб/с}</math>. Определите: а) э.д.с. индукции, возникающую в этом контуре; б) силу индукционного тока; в) заряд, который протечет по контуру за первые <math>9\text{ с}</math> изменения поля.</p> <p>14. Электрон, ускоренный напряжением <math>U=200\text{ В}</math>, влетает в однородное магнитное поле с индукцией <math>B=0,7 \cdot 10^{-4}\text{ Тл}</math> перпендикулярно силовым линиям. Найти радиус окружности, по которой движется электрон в магнитном поле и период его вращения.</p> <p>15. Индуктивность <math>L</math> катушки (без сердечника) равна <math>0,1\text{ мГн}</math>. При какой силе тока <math>I</math> энергия <math>W</math> магнитного поля равна <math>100\text{ мкДж}</math></p>

Код индикатора	Индикатор достижения компетенции	Оценочные средства
		<p><b>Примерный перечень практических заданий для экзамена</b></p> <ol style="list-style-type: none"> <li>1. Определить среднее значение полной кинетической энергии одной молекулы гелия, кислорода и водяного пара при температуре <math>T=400\text{K}</math>.</li> <li>2. Водород массой <math>m=100\text{ г}</math> был изобарно нагрет так, что объем его увеличился в <math>n=3</math> раза, затем водород был изохорно охлажден так, что его давление уменьшилось в <math>n=3</math> раза. Найти изменение <math>\Delta S</math> энтропии в ходе указанных процессов.</li> <li>3. Какая работа <math>A</math> совершается при изотермическом расширении водорода массой <math>m=5\text{ г}</math>, взятого при температуре <math>T=290\text{ К}</math>, если объем газа увеличивается в три раза?</li> <li>4. Азот нагревался при постоянном давлении. Ему было сообщено количество теплоты <math>Q = 21\text{ кДж}</math>. Определить работу <math>A</math>, которую совершил при этом газ, и изменение <math>\Delta U</math> его внутренней энергии.</li> <li>5. Идеальная тепловая машина работает по циклу Карно. Температура теплоотдатчика <math>T_1= 500\text{ К}</math>, температура теплоприемника <math>T_2= 250\text{ К}</math>. Определить термический КПД <math>\eta</math> цикла, а также работу <math>A_1</math> рабочего вещества при изотермическом расширении, если при изотермическом сжатии совершена работа <math>A_2 = 70\text{ Дж}</math></li> <li>6. Расстояние между двумя когерентными источниками света (<math>\lambda=0,5\text{ мкм}</math>) равно <math>d=0,1\text{ мм}</math>. Расстояние между интерференционными полосами на экране в средней части интерференционной картины равно <math>\Delta x=1,0\text{ см}</math>. Определить расстояние от источников до экрана</li> <li>7. Плосковыпуклая линза выпуклой стороной лежит на стеклянной пластинке. В отраженном свете с длиной волны <math>\lambda = 0,6\text{ мкм}</math> наблюдается интерференционная картина. Считая, что радиусы интерференционных колец <math>r</math> много меньше радиуса кривизны линзы <math>R=1,2\text{ м}</math>, определите: а) толщину слоя воздуха там, где видно первое светлое кольцо Ньютона, б) радиус первого кольца</li> <li>8. Между двумя плоскопараллельными стеклянными пластинками положили очень тонкую проволочку, расположенную параллельно линии</li> </ol>

Код индикатора	Индикатор достижения компетенции	Оценочные средства
		<p>соприкосновения пластинок и находящуюся на расстоянии <math>L=75</math> мм от нее. В отраженном свете с длиной волны <math>\lambda=0,5</math> мкм на верхней пластинке видны интерференционные полосы. Определите диаметр поперечного сечения проволоочки, если на протяжении <math>a = 30</math> мм насчитывается <math>m = 16</math> светлых полос</p> <p>9. На щель шириной <math>a = 0,05</math> мм падает нормально монохроматический свет с длиной волны <math>\lambda = 0,6</math> мкм. Определить угол <math>\varphi</math> между первоначальным направлением пучка света и направлением на четвертую темную дифракционную полосу</p> <p>10. Дифракционная решетка установлена на расстоянии 80 см от экрана. На решетку падает монохроматический свет с длиной волны 0,65 мкм. На экране расстояние между максимумами первого и второго порядка равно 5,2 см. Сколько всего максимумов образует эта дифракционная решетка?</p> <p>11. Черное тело нагрели от температуры 600К до 2400К. Во сколько раз увеличилась общая тепловая энергия, излучаемая телом? На сколько изменилась длина волны, соответствующая максимуму энергии излучения и спектральный состав излучения?</p> <p>12. Определить наименьший задерживающий потенциал, необходимый для прекращения эмиссии с поверхности фотокатода, если он освещается излучением с длиной волны 0,4 мкм, а красная граница для материала катода равна 0,67 мкм</p> <p>13. При движении частицы вдоль оси <math>x</math> скорость ее может быть определена с точностью (ошибкой) до 1 см/с. Найти неопределенность координаты, если частицей является: 1) электрон, 2) дробинка массой 0,1г</p> <p>14. Вычислить радиусы первых трех орбит электрона в атоме водорода</p> <p>15. Найти наибольшую и наименьшую длины волн серии Пашена в спектре излучения водорода. Сравнить полученные значения с длинами волн видимого излучения</p> <p>16. Первоначальная масса изотопа иридия <math>^{192}_{77}\text{Ir}</math> равна <math>m = 5</math> г, период полураспада 75 суток. Определите, сколько ядер распадется за 1 секунду в этом препарате.</p>

Код индикатора	Индикатор достижения компетенции	Оценочные средства
		<p>Сколько атомов этого препарата останется через 30 суток и во сколько раз изменится активность препарата за это время?</p> <p>17. В центре солнца протекает термоядерная реакция синтеза гелия из водорода, в которой из четырех протонов образуется ядро <math>\text{He}^4</math> и два позитрона. Запишите эту реакцию. Какие еще частицы образуются в ней?</p> <p>Какое количество <math>\text{U}^{235}</math> «выгорает» за год в ядерном реакторе с электрической мощностью 1 ГВт и к.п.д. 38%? Считать, что распад ядер урана под действием тепловых нейтронов приводит к образованию изотопов ксенона-141, стронция-92 и трех вторичных нейтронов.</p>

## **б) Порядок проведения промежуточной аттестации, показатели и критерии оценивания:**

Промежуточная аттестация по дисциплине «Физика» включает теоретические вопросы и практические задания, позволяющие оценить степень сформированности компетенций, проводится в форме экзамена.

**Экзамен** по данной дисциплине проводится в устной форме по экзаменационным билетам, каждый из которых включает 2 теоретических вопроса и одно практическое задание. Для допуска к экзамену необходимо выполнить все виды работ предусмотренные на 1 курсе.

### ***Показатели и критерии оценивания экзамена:***

– на оценку **«отлично»** (5 баллов) – обучающийся демонстрирует высокий уровень сформированности компетенций, всестороннее, систематическое и глубокое знание учебного материала, свободно выполняет практические задания, свободно оперирует знаниями, умениями, применяет их в ситуациях повышенной сложности.

– на оценку **«хорошо»** (4 балла) – обучающийся демонстрирует средний уровень сформированности компетенций: основные знания, умения освоены, но допускаются незначительные ошибки, неточности, затруднения при аналитических операциях, переносе знаний и умений на новые, нестандартные ситуации.

– на оценку **«удовлетворительно»** (3 балла) – обучающийся демонстрирует пороговый уровень сформированности компетенций: в ходе контрольных мероприятий допускаются ошибки, проявляется отсутствие отдельных знаний, умений, навыков, обучающийся испытывает значительные затруднения при оперировании знаниями и умениями при их переносе на новые ситуации.

– на оценку **«неудовлетворительно»** (2 балла) – обучающийся демонстрирует знания не более 20% теоретического материала, допускает существенные ошибки, не может показать интеллектуальные навыки решения простых задач.

– на оценку **«неудовлетворительно»** (1 балл) – обучающийся не может показать знания на уровне воспроизведения и объяснения информации, не может показать интеллектуальные навыки решения простых задач.