

Министерство науки и высшего образования Российской Федерации  
Федеральное государственное бюджетное образовательное учреждение  
высшего образования  
«Магнитогорский государственный технический университет  
им. Г.И. Носова»  
Многопрофильный колледж



**МЕТОДИЧЕСКИЕ УКАЗАНИЯ ПО ВЫПОЛНЕНИЮ  
ПРАКТИЧЕСКИХ ЗАНЯТИЙ**

**по учебной дисциплине  
ЕН.01 МАТЕМАТИКА**

**для студентов специальности**

**08.02.09 Монтаж, наладка и эксплуатация электрооборудования  
промышленных и гражданских зданий**

Магнитогорск, 2020

**ОДОБРЕНО**

Предметной комиссией  
Математических и естественнонаучных дисциплин  
Председатель: Е.С. Коротникова.  
Протокол №7 от 17.02.2020 г.

Методической комиссией МпК  
Протокол №3 от 26.02.2020 г.

**Составитель:**

преподаватель ФГБОУ ВО «МГТУ им. Г.И.Носова» МпК  
Антропова Наталья Владимировна

Методические указания по выполнению практических работ разработаны на основе рабочей программы учебной дисциплины «Математика».

Содержание практических работ ориентировано на формирование общих и профессиональных компетенций по программе подготовки специалистов среднего звена по специальности 08.02.09 Монтаж, наладка и эксплуатация электрооборудования промышленных и гражданских зданий и овладению профессиональными компетенциями.

## СОДЕРЖАНИЕ

1 ПОЯСНИТЕЛЬНАЯ ЗАПИСКА .....	4
2 ПЕРЕЧЕНЬ ПРАКТИЧЕСКИХ ЗАНЯТИЙ .....	5
3 МЕТОДИЧЕСКИЕ УКАЗАНИЯ .....	7
Практическое занятие № 1 .....	7
Практическое занятие № 2 .....	10
Практическое занятие № 3 .....	11
Практическое занятие № 4 .....	13
Практическое занятие № 5 .....	15
Практическое занятие № 6 .....	19
Практическое занятие № 7 .....	23
Практическое занятие № 8 .....	25
Практическое занятие № 9 .....	26
Практическое занятие № 10 .....	29
Практическое занятие № 11 .....	32
Практическая занятие № 12 .....	33
Практическое занятие № 13 .....	34
Практическое занятие № 14 .....	36
Практическое занятие № 15 .....	40
Практическая занятие № 16 .....	44
Практическая занятие № 17 .....	46
Практическое занятие № 18 .....	48
4 ИНФОРМАЦИОННОЕ ОБЕСПЕЧЕНИЕ .....	<b>Ошибка! Закладка не определена.Ошибка!</b>
<b>Закладка не определена.</b>	

## 1 ПОЯСНИТЕЛЬНАЯ ЗАПИСКА

Состав и содержание практических занятий направлены на реализацию Федерального государственного образовательного стандарта среднего профессионального образования.

Ведущей дидактической целью практических занятий является формирование учебных практических умений (умений решать задачи по математике, в том числе прикладного характера), необходимых в последующей учебной деятельности.

В соответствии с рабочей программой учебной дисциплины «Математика» предусмотрено проведение практических занятий. В рамках практического занятия обучающиеся могут выполнять одну или несколько практических работ.

В результате освоения учебной дисциплины обучающийся должен *уметь*:

- выполнять действия над комплексными числами;
- вычислять значения геометрических величин;
- решать задачи на вычисление вероятности с использованием элементов комбинаторики;
- решать прикладные задачи с использованием элементов дифференциального и интегрального исчисления;
- решать системы линейных уравнений различными методами.

Содержание практических работ ориентировано на подготовку студентов к освоению профессионального модуля основной профессиональной образовательной программы по специальности и овладению профессиональными компетенциями:

ПК 2.4 Участвовать в проектировании силового и осветительного электрооборудования.

ПК 3.4 Участвовать в проектировании электрических сетей

А также формированию общих компетенций:

ОК 01. Выбирать способы решения задач профессиональной деятельности применительно к различным контекстам;

ОК 02. Осуществлять поиск, анализ и интерпретацию информации, необходимой для выполнения задач профессиональной деятельности;

Выполнение студентами практических работ по учебной дисциплине «Математика» направлено на:

- обобщение, систематизацию, углубление, закрепление, развитие и детализацию полученных теоретических знаний по конкретным темам учебной дисциплины;
- формирование умений применять полученные знания на практике, реализацию единства интеллектуальной и практической деятельности;
- выработку при решении поставленных задач профессионально значимых качеств, таких как самостоятельность, ответственность, точность, творческая инициатива.

Практические занятия проводятся после соответствующей темы, которая обеспечивает наличие знаний, необходимых для ее выполнения.

## 2 ПЕРЕЧЕНЬ ПРАКТИЧЕСКИХ ЗАНЯТИЙ

Разделы/темы	Темы практических занятий	Количество часов	Требования ФГОС СПО (уметь)
<b>Раздел 1 Элементы математического анализа</b>		<b>16</b>	
Тема 1.1 Дифференциальное исчисление	<b>Практическое занятие № 1</b> Дифференцирование сложных функций.	2	У1 У01.1
	<b>Практическое занятие № 2</b> Применение производной к исследованию функций.	2	У1 У01.1 У01.2 У01.3
	<b>Практическое занятие № 3</b> Применение производной к решению практических задач.	2	У1 У01.1 У01.2 У01.3
Тема 1.2 Интегральное исчисление	<b>Практическое занятие № 4</b> Методы вычисления неопределенных интегралов. Применение математических преобразований.	2	У1 У01.1 У01.2 У01.3
	<b>Практическое занятие № 5</b> Методы вычисления неопределенных интегралов. Метод замены.	2	У1 У01.1 У01.2 У01.3
	<b>Практическое занятие № 6</b> Применение формулы Ньютона – Лейбница для вычисления определенного интеграла.	2	У1 У01.1 У01.2 У01.3
Тема 1.3 Дифференциальные уравнения	<b>Практическое занятие № 7</b> Решение дифференциальных уравнений с разделяющимися переменными.	2	У1 У01.1 У01.2 У01.3
	<b>Практическое занятие № 8</b> Решение дифференциальных уравнений первого порядка.	2	У1 У01.1 У01.2 У01.3
<b>Раздел 2. Понятие о числе. Комплексные числа.</b>		<b>6</b>	
Тема 2.1. Развитие понятия о числе	<b>Практическое занятие № 9</b> Приближенные значения величин. Абсолютная и относительная погрешности. Правила приближенных вычислений.	2	У3 У01.1 У01.2
Тема 2.2. Комплексные числа	<b>Практическое занятие №10</b> Действия над комплексными числами в алгебраической форме	2	У2 У02.1
	<b>Практическое занятие №11</b> Действия над комплексными числами в тригонометрической форме.	2	У2 У02.1
<b>Раздел 3. Линейная алгебра</b>		<b>4</b>	
Тема 3.1. Матрицы и определители	<b>Практическое занятие №12</b> Вычисление определителей второго и третьего порядков.	2	У4 У01.1 У01.2

			У01.3
Тема 3.2. Системы линейных уравнений	<b>Практическое занятие № 13</b> Решение систем линейных уравнений методом Крамера.	2	У4 У01.1 У01.2 У01.3
<b>Раздел 4. Элементы аналитической геометрии</b>		<b>2</b>	
Тема 4.1. Векторы	<b>Практическое занятие № 14</b> Арифметические операции с векторами	2	У7 У01.1
<b>Раздел 5. Основы теории вероятностей, математической статистики и дискретной математики</b>		<b>8</b>	
Тема 5.1. Элементы комбинаторики	<b>Практическое занятие № 15</b> Решение задач на основные понятия комбинаторики	2	У6 У01.1 У01.2
Тема 5.2 Элементы теории вероятностей и математической статистики Тема 5.2 Элементы теории вероятностей и математической статистики	<b>Практическое занятие № 16</b> Решение задач на вычисление классической вероятности с использованием элементов комбинаторики	2	У6 У01.1 У01.2
	<b>Практическое занятие № 17</b> Дискретная и непрерывная случайная величина. Характеристики дискретной и непрерывной случайной величин.	2	У6 У01.1 У01.2
Тема 5.3 Элементы теории множеств	<b>Практическое занятие № 18</b> Операции над множествами	2	У5 У02.1 У02.2
<b>ИТОГО</b>		<b>36</b>	

### 3 МЕТОДИЧЕСКИЕ УКАЗАНИЯ

#### Тема 1.1 Дифференциальное исчисление

#### Практическое занятие № 1

#### Дифференцирование сложных функций.

**Цель работы:** научиться находить производные сложных функций.

**Выполнив работу, Вы будете:**

уметь:

- определять этапы решения задачи
- находить производные функций, используя правила дифференцирования и таблицу производных;
- находить производные сложных функций.

**Материальное обеспечение:** Индивидуальные задания, таблица производных, конспекты лекций.

**Задание:**

**Найти производные функций**

1.  $y = (5x^3 - 2x)^6$
2.  $f(x) = 3 \sin(2x - \frac{\pi}{4})$
3.  $f(x) = \arcsin 4x + \arccos^2 x$
4.  $f(x) = \log_5(7x^4 - 5x^3 + 1)$
5.  $f(x) = \ln \sqrt{\frac{1+\cos x}{1-\cos x}}$

**Порядок выполнения работы:**

1. Определить вид функции. Ввести промежуточный аргумент.
2. Определить, какими правилами дифференцирования нужно воспользоваться. Применить соответствующее правило.
3. Используя таблицу производных, найти производные функций.
4. Раскрыть скобки и привести подобные, если это упростит запись функции.

**Форма представления результата:**

Найти производные функций:

1.  $g(x) = (1 - 4x^2)^{10}$

Функция является сложной степенной. Введем промежуточный аргумент  $u = 1 - 4x^2$ .  
Для дифференцирования нужно воспользоваться формулой  $(u^n)' = nu^{n-1} \cdot u'$   
 $y' = 10(1 - 4x^2)^9 \cdot (1 - 4x^2)' = 10(1 - 4x^2)^9(-8x)$   
 $= -80x(1 - 4x^2)^9$

2.  $f(x) = \sin \frac{1}{2}x \cdot \cos 2x$

Функция представляет собой произведение двух сложных тригонометрических функций. Поэтому сначала воспользуемся правилом дифференцирования  $(U \cdot V)' = U'V + UV'$

$$f'(x) = (\sin \frac{1}{2}x \cdot \cos 2x)' = (\sin \frac{1}{2}x)' \cos 2x + \sin \frac{1}{2}x (\cos 2x)'$$

Введем промежуточный аргумент : для первой функции  $u = \frac{1}{2}x$ , для второй функции  $u = 2x$ .

При дифференцировании используем следующие формулы:  
 $(\sin u)' = \cos u \cdot u'$ ,  $(\cos u)' = -\sin u \cdot u'$ .

$$\begin{aligned} f'(x) &= \left(\sin \frac{1}{2}x \cdot \cos 2x\right)' = \left(\sin \frac{1}{2}x\right)' \cos 2x + \sin \frac{1}{2}x (\cos 2x)' \\ &= \cos \frac{1}{2}x \cdot \left(\frac{1}{2}x\right)' \cdot \cos 2x + \sin \frac{1}{2}x \cdot (-\sin 2x) \cdot (2x)' \\ &= \frac{1}{2} \cos \frac{1}{2}x \cdot \cos 2x - 2 \sin \frac{1}{2}x \cdot \sin 2x. \end{aligned}$$

$$3. y = \frac{2^{3x+5x^2}}{\log_2(3+10x)}$$

Функция представляет собой частное двух сложных функций. Поэтому сначала воспользуемся правилом дифференцирования  $\left(\frac{u}{v}\right)' = \frac{u'v - uv'}{v^2}$

$$y' = \frac{(2^{3x+5x^2})' \cdot \log_2(3+10x) - 2^{3x+5x^2} \cdot (\log_2(3+10x))'}{(\log_2(3+10x))^2}$$

Введем промежуточный аргумент: для первой функции  $u = 3x + 5x^2$ , для второй функции  $u = 3 + 10x$ .

При дифференцировании используем следующие формулы:  
 $(a^u)' = a^u \ln a \cdot u'$ ,  $(\log_a u)' = \frac{1}{u \ln a} \cdot u'$ .

$$\begin{aligned} y' &= \frac{(2^{3x+5x^2})' \cdot \log_2(3+10x) - 2^{3x+5x^2} \cdot (\log_2(3+10x))'}{(\log_2(3+10x))^2} = \\ &= \frac{2^{3x+5x^2} \ln 2 (3x+5x^2)' \cdot \log_2(3+10x) - 2^{3x+5x^2} \cdot \frac{1}{(3+10x) \ln 2} (3+10x)'}{(\log_2(3+10x))^2} = \\ &= \frac{2^{3x+5x^2} \ln 2 (3x+10x) \log_2(3+10x) - 2^{3x+5x^2} \frac{10}{(3+10x) \ln 2}}{(\log_2(3+10x))^2} \end{aligned}$$

$$4. f(x) = \arcsin \frac{3}{5}x + \arccos 5x$$

Функция представляет собой сумму двух сложных обратных тригонометрических функций. Поэтому сначала воспользуемся правилом дифференцирования  $(U + V)' = U' + V'$ .

$$f'(x) = \left(\arcsin \frac{3}{5}x\right)' + (\arccos 5x)'$$

Введем промежуточный аргумент : для первой функции  $u = \frac{3}{5}x$ , для второй функции  $u = 5x$ .

При дифференцировании используем следующие формулы:  
 $(\arcsin u)' = \frac{u'}{\sqrt{1-u^2}}$ ;  $(\arccos u)' = -\frac{u'}{\sqrt{1-u^2}}$



$$f'(x) = \left(\arcsin \frac{3}{5}x\right)' + (\arccos 5x)' = \frac{1}{\sqrt{1-\left(\frac{3}{5}x\right)^2}} \left(\frac{3}{5}x\right)' - \frac{1}{\sqrt{1-(5x)^2}} (5x)' = \frac{3}{5\sqrt{1-\frac{9}{25}x^2}} - \frac{5}{\sqrt{1-25x^2}}$$

$$5. f(x) = \arccos \sqrt{1 - e^{2x}}$$

Функция является сложной обратной тригонометрической. Введем промежуточный аргумент  $u = \sqrt{1 - e^{2x}}$ . Для дифференцирования нужно воспользоваться формулой  $(\arccos u)' = -\frac{u'}{\sqrt{1-u^2}}$ .

$$f'(x) = (\arccos \sqrt{1 - e^{2x}})' = -\frac{1}{\sqrt{1 - (1 - e^{2x})}} \cdot (\sqrt{1 - e^{2x}})'$$

Промежуточный аргумент является также сложной функцией. Введем и для него новый промежуточный аргумент

$$u = 1 - e^{2x}$$

Для дифференцирования нужно воспользоваться формулой

$$(\sqrt{u})' = \frac{u'}{2\sqrt{u}}$$

$$\begin{aligned} f'(x) &= (\arccos \sqrt{1 - e^{2x}})' = -\frac{1}{\sqrt{1 - (1 - e^{2x})}} \cdot (\sqrt{1 - e^{2x}})' \\ &= -\frac{1}{\sqrt{1 - 1 + e^{2x}}} \cdot \frac{1}{2\sqrt{1 - e^{2x}}} \cdot (1 - e^{2x})' \\ &= -\frac{1}{e^x} \frac{1}{2\sqrt{1 - e^{2x}}} (-2e^x) \end{aligned}$$

**Форма представления результата:** выполненная работа.

#### Критерии оценки:

За правильный ответ на вопросы или верное решение задачи выставляется положительная оценка – 1 балл.

За не правильный ответ на вопросы или неверное решение задачи выставляется отрицательная оценка – 0 баллов.

Процент результативности (правильных ответов)	Качественная оценка индивидуальных образовательных достижений	
	балл (отметка)	вербальный аналог
90 ÷ 100	5	отлично
80 ÷ 89	4	хорошо
60 ÷ 79	3	удовлетворительно
менее 60	2	не удовлетворительно

## Тема 1.1 Дифференциальное исчисление

### Практическое занятие № 2

#### Применение производной к исследованию функций.

**Цель работы:** научиться исследовать функции с помощью производной и строить графики.

**Выполнив работу, Вы будете:**

уметь:

- анализировать задачу или проблему и выделять ее составные части
- определять промежутки монотонности функций с помощью производной;
- находить экстремумы функции;
- проводить исследование функции по общей схеме;
- строить графики функций, используя проведенное исследование.

**Материальное обеспечение:** индивидуальные задания, таблица производных, конспекты лекций.

**Задание:**

Исследовать функцию и построить ее график:

1)  $f(x) = x^3 - 12x$ ;

2)  $f(x) = \frac{x^3}{2-x^2}$ .

**Краткие теоретические сведения:**

Алгоритм исследования функции на монотонность и экстремумы:

- 1) Найти производную функции.
- 2) Найти критические точки.
- 3) Отметить критические точки на числовой прямой и определить знак производной на каждом интервале.
- 4) Записать интервалы, на которых функция возрастает  $f'(x) > 0$  и убывает  $f'(x) < 0$ .
- 5) Выписать точки экстремума и вычислить значения функции в них.

Алгоритм исследования функции на выпуклость и точки перегиба:

- 1) Найти вторую производную.
- 2) Найти точки, в которых вторая производная равна нулю или не существует.
- 3) Отметить эти точки на числовой прямой и определить знак второй производной на каждом интервале.
- 4) Если  $f''(x) > 0$ , то график выпуклый вниз. Если  $f''(x) < 0$ , то график выпуклый вверх.
- 5) Вычислить значения функции в точках перегиба.

Асимптоты могут быть вертикальными, горизонтальными и наклонными.

Если  $\lim_{x \rightarrow a} f(x) = \infty$ , то прямая  $x = a$  является вертикальной асимптотой.

Уравнение наклонной асимптоты будем искать в виде  $y = kx + b$

**Порядок выполнения работы:**

1. Запишите функцию.
2. Используя общую схему, исследуйте функцию.
3. По результатам исследования постройте график функции

**Ход работы:**

1. Найти область определения функции.
2. Найти (если это не вызывает затруднения) точки пересечения графика с осями координат.
3. Найти интервалы знакопостоянства функции .
4. Выяснить, является ли функция четной, нечетной или общего вида.
5. Найти асимптоты графика функции.
6. Найти интервалы монотонности функции.
7. Найти экстремумы функции.
8. Найти интервалы выпуклости и точки перегиба графика функции.

9. Построить график функции.

**Форма представления результата:** выполненная работа

**Критерии оценки:**

За правильный ответ на вопросы или верное решение задачи выставляется положительная оценка – 1 балл.

За не правильный ответ на вопросы или неверное решение задачи выставляется отрицательная оценка – 0 баллов.

Процент результативности (правильных ответов)	Качественная оценка индивидуальных образовательных достижений	
	балл (отметка)	вербальный аналог
90 ÷ 100	5	отлично
80 ÷ 89	4	хорошо
60 ÷ 79	3	удовлетворительно
менее 60	2	не удовлетворительно

## Тема 1.1 Дифференциальное исчисление

### Практическое занятие № 3

#### Применение производной к решению практических задач

**Цель работы:** научиться применять производную функции при решении задач.

**Выполнив работу, Вы будете:**

уметь:

- анализировать задачу или проблему и выделять ее составные части
- определять этапы решения задачи
- реализовывать составленный план
- находить наибольшее и наименьшее значения функции на заданном отрезке.;
- решать задачи на нахождение наибольшего и наименьшего значения функции.

**Материальное обеспечение:** Индивидуальные задания, таблица производных, конспекты лекций.

**Задание:**

1. Найдите наименьшее и наибольшее значения функции  $f(x) = x^4 - 8x^2 - 9$  на отрезке  $[-1; 5]$   $[0; 3]$ .

2. Имеется проволока длиной  $a$  метров. Требуется оградить этой проволокой прямоугольный участок земли, одна сторона которого примыкает к стене заводского здания, так, чтобы площадь огороженного участка была наибольшей.

**Краткие теоретические сведения:**

Для отыскания наименьшего и наибольшего значения функции, дифференцируемой внутри отрезка и непрерывной на его концах, следует найти все критические точки функции, лежащие внутри отрезка, вычислить значения функции в этих точках и на концах отрезка, а затем из всех полученных таким образом чисел выбрать наименьшее и наибольшее.

**Порядок выполнения работы:**

1. Находим критические точки функции.
2. Проверяем, какие из найденных критических точек лежат внутри заданного отрезка.
3. Находим значения функции на концах отрезка и в тех критических точках, которые попадают в этот отрезок.
4. Из всех полученных значений функции выбираем наименьшее и наибольшее.

**Ход работы:**

3. 1. Найдите наименьшее и наибольшее значения функции  $f(x) = -2x^3 - 3x^2 + 4$  на промежутке :а)  $[-2; -0,5]$ ; б)  $[1; 3]$ .

Решение. Находим критические точки функции.

$$f'(x) = (-2x^3 - 3x^2 + 4)' = -x^2 - 6x = -6x(x + 1);$$

$f'(x) = 0; -6x(x + 1) = 0; x = 0$  и  $x = -1$ . получили две критические точки:  
 $x = 0$  и  $x = -1$ .

а) В промежутке  $[-2; -0,5]$  лежит одна из критических точек:  $x = -1$ .

Так как  $f(-2) = 8, f(-1) = 3, f(-0,5) = 3,5$ , то наименьшее значение функция  $f(x) = -2x^3 - 3x^2 + 4$  достигает в точке  $x = -1$  и равно 3, а наибольшее - в точке  $x = -2$  и равно 8.. Кратко это можно записать так:  
 $\min_{[-2; -0,5]} f(x) = f(-1) = 3. \max_{[-2; -0,5]} f(x) = f(-2) = 8.$

б) Отрезку  $[1; 3]$  не принадлежит ни одна из критических точек, поэтому найдём значения функции на концах отрезка:

$f(1) = -2 \cdot 1^3 - 3 \cdot 1^2 + 4 = -1. [1; 3]; f(3) = -2 \cdot 3^3 - 3 \cdot 3^2 + 4 = -77.$  Кратко это можно записать так:  $\min_{[1; 3]} f(x) = f(3) = -77; \max_{[1; 3]} f(x) = f(1) = -1.$

2 Число 86 представлено в виде суммы двух слагаемых так, что их произведение максимально. Найдите эти слагаемые.

Решение. Пусть заданное число представлено в виде суммы двух слагаемых  $x$  и  $y$ , т.е.  $86 = x + y$ . Выразим второе слагаемое через  $x$ :

$$y = 86 - x. \text{ Запишем произведение этих чисел в виде функции от } x: f(x) = x \cdot (86 - x)$$

Найдём значение  $x$ , при котором функция

$f(x) = x \cdot (86 - x)$  достигает максимума. Найдём производную  $f'(x)$  и приравняем её нулю.  $f'(x) = (x \cdot (86 - x))' = (86x - x^2)' = 86 - 2x = 2(43 - x),$   
 $2(43 - x) = 0, x = 43.$

Определим второе слагаемое:  $y = 86 - x = 86 - 43 = 43.$

Ответ:  $x = 43; y = 43.$

**Форма представления результата:** выполненная работа.

**Критерии оценки:**

За правильный ответ на вопросы или верное решение задачи выставляется положительная оценка – 1 балл.

За не правильный ответ на вопросы или неверное решение задачи выставляется отрицательная оценка – 0 баллов.

Процент результативности (правильных ответов)	Качественная оценка индивидуальных образовательных достижений	
	балл (отметка)	вербальный аналог
90 ÷ 100	5	отлично
80 ÷ 89	4	хорошо
60 ÷ 79	3	удовлетворительно
менее 60	2	не удовлетворительно

## Тема 1.2 Интегральное исчисление

### Практическое занятие № 4

#### Методы вычисления неопределенных интегралов. Применение математических преобразований

##### Цель работы:

Сформировать практические навыки по решению задач данной темы.

##### Выполнив работу, Вы будете:

*уметь:*

- вычислять неопределенный интеграл с помощью математических преобразований

##### Материальное обеспечение:

- комплект учебно-наглядных пособий для индивидуальных домашних работ;
- комплект дидактического раздаточного материала.

##### Задание:

Повторить теоретический материал, выполнить практическую работу.

##### Краткие теоретические сведения:

$$\int f(x)dx = F(x) + C, \text{ где } C = const$$

$\int$  – значок интеграла.

$f(x)$  – подынтегральная функция.

$dx$  – знак дифференциала.

$f(x)dx$  – подынтегральное выражение.

$F(x)$  – первообразная функции.

$F(x) + C$  – множество первообразных функций.

$C$  – константа.

Решить интеграл – это значит найти определенную функцию  $F(x) + C$ , пользуясь некоторыми правилами, приемами и таблицей.

*Непосредственное интегрирование – это нахождение неопределенных интегралов с использованием таблицы интегралов и свойств неопределенного интеграла.*

$$1) \int dx = x + C;$$

$$2) \int x^n dx = \frac{x^{n+1}}{n+1} + C, (n \neq -1);$$

$$3) \int \frac{dx}{x} = \ln|x| + C;$$

$$4) \int a^x dx = \frac{a^x}{\ln a} + C;$$

$$5) \int e^x dx = e^x + C; \int e^{kx+b} dx = \frac{1}{k} e^{kx+b} + C$$

$$6) \int \sin x dx = -\cos x + C; \int \sin(kx + b) dx = -\frac{1}{k} \cos(kx + b)$$

$$7) \int \cos x dx = \sin x + C; \int \cos(kx + b) dx = \frac{1}{k} \sin(kx + b)$$

$$8) \int \frac{dx}{\cos^2 x} = \operatorname{tg} x + C;$$

$$9) \int \frac{dx}{\sin^2 x} = -\operatorname{ctg} x + C;$$

##### Метод непосредственного интегрирования

Задача нахождения неопределенных интегралов от многих функций решается методом сведения их к одному из табличных интегралов.

##### Правило интегрирования суммы (разности)

$$\int (u \pm v \pm w) dx = \int u dx \pm \int v dx \pm \int w dx$$

**Пример**

Найти неопределенный интеграл. Выполнить проверку.

$$\int \left( x + \sqrt{x} - 3x^5 + \frac{2}{x^3} - \frac{1}{\sin^2 x} + tg5 \right) dx$$

**Решение:**

$$\begin{aligned} & \int \left( x + \sqrt{x} - 3x^5 + \frac{2}{x^3} - \frac{1}{\sin^2 x} + tg5 \right) dx = \\ & = \int x dx + \int \sqrt{x} dx - \int 3x^5 dx + \int \frac{2dx}{x^3} - \int \frac{dx}{\sin^2 x} + \int tg5 dx = \\ & = \int x dx + \int x^{\frac{1}{2}} dx - 3 \int x^5 dx + 2 \int x^{-3} dx - \int \frac{dx}{\sin^2 x} + tg5 \int dx = \\ & = \frac{1}{2} x^2 + \frac{1}{\frac{3}{2}} x^{\frac{3}{2}} - 3 \cdot \frac{1}{6} x^6 + 2 \cdot \frac{1}{(-2)} x^{-2} - (-ctgx) + tg5 \cdot x + C = \\ & = \frac{x^2}{2} + \frac{2}{3} \sqrt{x^3} - \frac{x^6}{2} - \frac{1}{x^2} + ctgx + tg5 \cdot x + C, \text{ где } C = const \end{aligned}$$

**Порядок выполнения работы:**

1. Получить задание.
2. Выполнить задание.
3. Предоставить результат выполнения, получить оценку.

**Ход работы:**

Найти неопределённый интеграл, используя таблицу интегралов.

$\int (x^3 + 2x^2 - 5) dx$ <b>1.1</b>	<b>1.6</b> $\int (4x^2 + x^5 + 3) dx$	<b>1.11</b> $\int (6x^5 - 2x^3 + x - 1) dx$
<b>1.2</b> $\int (\frac{5}{3}x^4 - x^6 + 4x - 8) dx$	<b>1.7</b> $\int (x^3 + \frac{3}{2}x^2 - x^4) dx$	<b>1.12</b> $\int (\frac{16}{3}x^3 + 2x^2 + x) dx$
<b>1.3</b> $\int \sqrt{x^5} dx$	<b>1.8</b> $\int \sqrt{x^7} dx$	<b>1.13</b> $\int \sqrt{x^6} dx$
$\int (\sqrt[3]{x^4} + x^6) dx$ <b>1.4</b>	<b>1.9</b> $\int (\sqrt[2]{x^5} + \frac{1}{2}x^3) dx$	<b>1.14</b> $\int (\sqrt[3]{x^4} - 5x^3) dx$
$\int (x^4 + \sqrt[3]{x^2} + 3x^2) dx$ <b>1.5</b>	<b>1.10</b> $\int (\sqrt{x} + 2\sqrt[4]{x^3} + 9x^2) dx$	<b>1.15</b> $\int (4x^7 - \sqrt{x} + \sqrt[5]{x^6}) dx$

**Форма представления результата:**

Предоставить выполненные задания в тетради для практических работ.

**Критерии оценки:**

За правильный ответ на вопросы или верное решение задачи выставляется положительная оценка – 1 балл.

За не правильный ответ на вопросы или неверное решение задачи выставляется отрицательная оценка – 0 баллов.

Процент результативности (правильных ответов)	Качественная оценка индивидуальных образовательных достижений	
	балл (отметка)	вербальный аналог
90 ÷ 100	5	отлично
80 ÷ 89	4	хорошо
60 ÷ 79	3	удовлетворительно
менее 60	2	не удовлетворительно

## Тема 1.2 Интегральное исчисление

### Практическое занятие № 5

#### Методы вычисления неопределенных интегралов. Метод замены.

##### Цель работы:

Сформировать практические навыки по решению задач данной темы.

##### Выполнив работу, Вы будете:

*уметь:*

- анализировать задачу или проблему и выделять ее составные части
- вычислять неопределенный интеграл различными методами

##### Материальное обеспечение:

- комплект учебно-наглядных пособий для индивидуальных домашних работ;
- комплект дидактического раздаточного материала.

##### Задание:

Повторить теоретический материал, выполнить практическую работу.

##### Краткие теоретические сведения:

$$\int f(x)dx = F(x) + C, \text{ где } C = const$$

$\int$  – значок интеграла.

$f(x)$  – подынтегральная функция.

$dx$  – знак дифференциала.

$f(x)dx$  – подынтегральное выражение.

$F(x)$  – первообразная функции.

$F(x) + C$  – множество первообразных функций.

$C$  – константа.

Решить интеграл – это значит найти определенную функцию  $F(x) + C$ , пользуясь некоторыми правилами, приемами и таблицей.

*Непосредственное интегрирование – это нахождение неопределенных интегралов с использованием таблицы интегралов и свойств неопределенного интеграла.*

$$10) \int dx = x + C;$$

$$11) \int x^n dx = \frac{x^{n+1}}{n+1} + C, (n \neq -1);$$

$$12) \int \frac{dx}{x} = \ln|x| + C;$$

$$13) \int a^x dx = \frac{a^x}{\ln a} + C;$$

$$14) \int e^x dx = e^x + C; \int e^{kx+b} dx = \frac{1}{k} e^{kx+b} + C$$

$$15) \int \sin x dx = -\cos x + C; \int \sin(kx + b) dx = -\frac{1}{k} \cos(kx + b)$$

$$16) \int \cos x dx = \sin x + C; \int \cos(kx + b) dx = \frac{1}{k} \sin(kx + b)$$

$$17) \int \frac{dx}{\cos^2 x} = \operatorname{tg} x + C;$$

$$18) \int \frac{dx}{\sin^2 x} = -\operatorname{ctg} x + C;$$

### Метод подстановки (интегрирование заменой переменной)

Алгоритм вычисления неопределенного интеграла методом подстановки:

1. Определяют, к какому табличному интегралу приводится данный интеграл (предварительно преобразовав подынтегральное выражение, если нужно).
2. Определяют, какую часть подынтегральной функции заменить новой переменной, и записывают эту замену.
3. Находят дифференциалы обеих частей записи и выражают дифференциал старой переменной (или выражение, содержащее этот дифференциал) через дифференциал новой переменной.
4. Производят замену под интегралом.
5. Находят полученный интеграл.
6. В результате производят обратную замену, т.е. переходят к старой переменной. Результат полезно проверять дифференцированием.

Пример типового расчета:

$$\int (2x^3 + 1)^4 x dx$$

Введем подстановку:

$$t = 2x^3 + 1.$$

Дифференцируя это равенство, имеем:  $dt = 6x^2 dx$ .

Выразив отсюда  $x^2 dx$ , получим:  $x^2 dx = \frac{dt}{6}$ . Подставив в данный интеграл вместо  $2x^3 + 1$  и  $x^2 dx$  их выражения, получим:

$$\begin{aligned} x^2 dx &= \int t^4 \cdot \frac{dt}{6} = \frac{1}{6} \int t^4 dt = \frac{1}{6} \cdot \frac{t^{4+1}}{4+1} + C = \frac{1}{6} \cdot \frac{t^5}{5} + \\ \int (2x^3 + 1)^4 x dx &= \frac{t^5}{30} + C = \frac{(2x^3 + 1)^5}{30} + C \end{aligned}$$

### 1. Метод интегрирования по частям

$$\int u dv = uv - \int v du$$

Если подынтегральная функция представляет собой произведение либо тригонометрической функции на алгебраическую, либо показательной на алгебраическую, то за  $u$  следует принимать алгебраическую функцию.

#### Пример 1.

Вычислить интеграл:

$$\int x^2 \ln x dx$$

Решение:

Здесь подынтегральное выражение содержит логарифм. Тогда

$$du = \frac{d \ln x}{dx} dx = (\ln x)' dx = \frac{dx}{x},$$

$$v = \int x^2 dx = \frac{1}{2+1} x^{2+1} = \frac{1}{3} x^3$$

$$\begin{aligned} I &= \int x^2 \ln x dx = \int \ln x \cdot x^2 dx = \int u dv = uv - \int v du = \ln x \cdot \frac{1}{3} x^3 - \int \frac{1}{3} x^3 \frac{dx}{x} = \\ &= \frac{x^3}{3} \ln x - \frac{1}{3} \int x^2 dx \end{aligned}$$

Вычисляем оставшийся интеграл:

$$\int x^2 dx = \frac{1}{2+1} x^{2+1} = \frac{1}{3} x^3$$



Тогда

$$I = \frac{x^3}{3} \ln x - \frac{1}{3} \int x^2 dx = \frac{x^3}{3} \ln x - \frac{1}{9} x^3 + C$$

**Пример 2.**  $\int x \cos x dx = \left. \begin{matrix} u=x \\ dv=\cos x dx \\ du=u'(x) \cdot dx=x' dx=dx \\ v=\int \cos x dx=\sin x \end{matrix} \right|_{=x} \cdot \sin x - \int \sin x dx = \sin x - (-\cos x) + C$

**Пример 3.**

$$\int (3x-2)e^{2x-5} dx = \left. \begin{matrix} u=3x-2 \\ dv=e^{2x-5} \\ du=u'(x) \cdot dx=3 dx \\ v=\int e^{2x-5} dx=\frac{1}{2}e^{2x-5} \end{matrix} \right|_{=2} \frac{1}{2} (3x-2)e^{2x-5} - \frac{3}{2} \int e^{2x-5} dx = \frac{1}{2} (3x-2)e^{2x-5} - \frac{3e^{2x-5}}{4} + C$$

**Пример 4.**

$$\int \ln x dx = \left. \begin{matrix} u=\ln x \\ dv=dx \\ du=u'(x) \cdot dx=\frac{1}{x} dx \\ v=\int dx=x \end{matrix} \right| = x \ln x - \int x \cdot \frac{1}{x} dx = x \ln x - \int 1 dx = x \ln x - x + C$$

**Порядок выполнения работы:**

1. Получить задание.
2. Выполнить задание.
3. Предоставить результат выполнения, получить оценку.

**Ход работы:**

**1. Найти неопределённый интеграл, используя таблицу интегралов.**

2.1 $\int (4\cos x + 2\sin x) dx$	2.6 $\int \left( \frac{1}{x} + 3e^x \right) dx$	2.11 $\int \left( \frac{4}{\cos^2 x} - 2e^x \right) dx$
2.2 $\int \left( \frac{5}{x^3} + \frac{1}{\sin^2 x} \right) dx$	2.7 $\int \left( \frac{2}{x^5} - 3\cos x \right) dx$	2.12 $\int \left( 2e^x - \frac{8}{x} \right) dx$
2.3 $\int \frac{dx}{1 + \sin^2 x}$	2.8 $\int \sqrt{1 - \cos 2x} dx$	2.13 $\int \operatorname{tg}^2 x dx$
2.4 $\int \frac{x^2 - 4}{x + 2} dx$	2.9 $\int \frac{2x^2 + 3x - 2}{x + 2} dx$	2.14 $\int \frac{x^2 + 2x - 15}{x - 3} dx$
2.5 $\int \frac{3x^2 + x^7}{x^2} dx$	2.10 $\int \frac{x^2 + 7x + 12}{x(x + 3)} dx$	2.15 $\int \frac{x - 1}{x^2 - x} dx$

**2. Найти неопределённый интеграл методом подстановки.**

3.1 $\int (4x - 2)^3 dx$	3.6 $\int (8x + 1)^5 dx$	3.11 $\int (3 - 5x)^6 dx$
3.2 $\int \frac{5}{2x - 7} dx$	3.7 $\int \frac{4}{2 + 7x} dx$	3.12 $\int \frac{2}{4x - 8} dx$

<b>3.3</b> $\int \sin\left(5x - \frac{\pi}{3}\right) dx$	<b>3.8</b> $\int 3\cos\left(2x + \frac{\pi}{4}\right) dx$	<b>3.13</b> $\int 4\sin\left(2x - \frac{\pi}{6}\right) dx$
<b>3.4</b> $\int e^{6x-9} dx$	<b>3.9</b> $\int 2e^{4-2x} dx$	<b>3.14</b> $\int 5e^{10x+2} dx$
<b>3.5</b> $\int \frac{2}{\cos^2(4x+1)} dx$	<b>3.10</b> $\int \frac{6}{\sin^2(2x-1)} dx$	<b>3.15</b> $\int \frac{3}{\cos^2(9x-2)} dx$

**3. Найти неопределённый интеграл методом подстановки.**

<b>4.1</b> $\int \frac{2x dx}{6+x^2}$ $z = 6+x^2$	<b>4.4</b> $\int \frac{dx}{x\sqrt{\ln x}}$ $z = \ln x$	<b>4.7</b> $\int \operatorname{tg} x dx$
<b>4.2</b> $\int \frac{e^x dx}{2+3e^x}$ $z = 2+3e^x$	<b>4.5</b> $\int \frac{x^2-x}{(x-3)^2} dx$ $z = x-3$	<b>4.8</b> $\int x\sqrt{2-x} dx$ $z^2 = 2-x$
<b>4.3</b> $\int \frac{e^{2x} dx}{e^x-1}$ $z = e^x-1$	<b>4.6</b> $\int \frac{dx}{x^2\sqrt{1+x^2}}$ $x = \frac{1}{z}$	<b>4.9</b> $\int \frac{\cos x dx}{\sqrt{1-\cos 2x}}$

### Форма представления результата:

Предоставить выполненные задания в тетради для практических работ.

### Критерии оценки:

За правильный ответ на вопросы или верное решение задачи выставляется положительная оценка – 1 балл.

За не правильный ответ на вопросы или неверное решение задачи выставляется отрицательная оценка – 0 баллов.

Процент результативности (правильных ответов)	Качественная оценка индивидуальных образовательных достижений	
	балл (отметка)	вербальный аналог
90 ÷ 100	5	отлично
80 ÷ 89	4	хорошо
60 ÷ 79	3	удовлетворительно
менее 60	2	не удовлетворительно

## Тема 1.2 Интегральное исчисление

### Практическое занятие № 6

#### Применение формулы Ньютона – Лейбница для вычисления определенного интеграла

##### Цель работы:

Сформировать практические навыки по решению задач данной темы.

##### Выполнив работу, Вы будете:

*уметь:*

- вычислять определенный интеграл с помощью формулы Ньютона – Лейбница
- структурировать получаемую информацию

##### Материальное обеспечение:

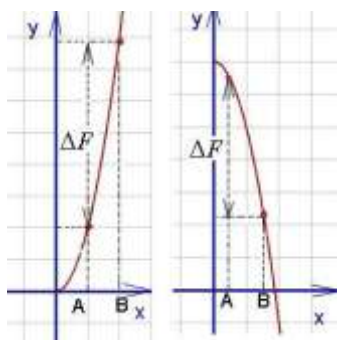
- комплект учебно-наглядных пособий для индивидуальных домашних работ;
- комплект дидактического раздаточного материала.

##### Задание:

Повторить теоретический материал, выполнить практическую работу.

##### Краткие теоретические сведения:

Определённым интегралом от непрерывной функции  $f(x)$  на конечном отрезке  $[a, b]$  (где  $a \neq b$ ) называется приращение какой-нибудь её первообразной на этом отрезке. При этом употребляется запись



$$\int_a^b f(x) dx.$$

Как видно на графиках внизу (приращение первообразной функции обозначено  $\Delta F$ ), **определённый интеграл может быть как положительным, так и отрицательным числом** (Вычисляется как разность между значением первообразной в верхнем пределе и её же значением в нижнем пределе, т. е. как  $F(b) - F(a)$ ).

Числа  $a$  и  $b$  называются соответственно нижним и верхним пределами интегрирования, а отрезок  $[a, b]$  – отрезком интегрирования.

Таким образом, если  $F(x)$  – какая-нибудь первообразная функция для  $f(x)$ , то, согласно определению,

$$\int_a^b f(x) dx = F(b) - F(a).$$

Равенство называется формулой Ньютона-Лейбница.

Разность  $F(b) - F(a)$  кратко записывают так:

$$F(x) \Big|_a^b.$$

Поэтому формулу Ньютона-Лейбница будем записывать и так:

$$\int_a^b f(x) dx = F(x) \Big|_a^b.$$

Докажем, что определённый интеграл не зависит от того, какая первообразная подынтегральной функции взята при его вычислении. Пусть  $F(x)$  и  $\Phi(x)$  – произвольные первообразные подынтегральной функции. Так как это первообразные одной и той же функции, то они отличаются на постоянное слагаемое:  $\Phi(x) = F(x) + C$ . Поэтому

$$\begin{aligned} \Phi(b) - \Phi(a) &= \\ &= [F(b) + C] - [F(a) + C] = F(b) - F(a). \end{aligned}$$

Тем самым установлено, что на отрезке  $[a, b]$  приращения всех первообразных функции  $f(x)$  совпадают.

Таким образом, для вычисления определённого интеграла необходимо найти любую первообразную подынтегральной функции, т.е. сначала следует найти неопределённый интеграл. Постоянная  $C$  из последующих вычислений исключается. Затем применяется формула Ньютона-Лейбница: в первообразную функцию подставляется значение верхнего предела  $b$ , далее - значение нижнего предела  $a$  и вычисляется разность  $F(b) - F(a)$ . Полученное число и будет определённым интегралом..

При  $a = b$  по определению принимается

$$\int_a^a f(x) dx = 0.$$

Пример 1. Вычислить определённый интеграл

$$\int_0^8 \sqrt[3]{x} dx.$$

Решение: сначала найдём неопределённый интеграл:

$$\int \sqrt[3]{x} dx = \int x^{1/3} dx = \frac{x^{4/3}}{4/3} + C = \frac{3}{4} x \sqrt[3]{x} + C.$$

Применяя формулу Ньютона-Лейбница к первообразной

$$\frac{3}{4} x \sqrt[3]{x}$$

(при  $C = 0$ ), получим

$$\int_0^8 \sqrt[3]{x} dx = \frac{3}{4} x \sqrt[3]{x} \Big|_0^8 = \frac{3}{4} \cdot 8 \sqrt[3]{8} - 0 = 12.$$

Однако при вычислении определённого интеграла лучше не находить отдельно первообразную, а сразу записывать интеграл в виде (39).

Пример 2. Вычислить определённый интеграл

$$\int_1^2 e^{2x} dx.$$

Решение: используя формулу

$$\int e^{kx} dx = \frac{1}{k} e^{kx} + C,$$

получим

$$\int_1^2 e^{2x} dx = \frac{1}{2} e^{2x} \Big|_1^2 = \frac{1}{2} (e^4 - e^2) = \frac{1}{2} e^2 (e^2 - 1).$$

### Свойства определённого интеграла

1. *Определённый интеграл с одинаковыми пределами интегрирования равен нулю, т.е.*

$$\int_a^a f(x) dx = 0.$$

Это свойство содержится в самом определении определённого интеграла. Однако его можно получить и по формуле Ньютона-Лейбница:

$$\int_a^a f(x) dx = F(a) - F(a) = 0.$$

2. *Величина определённого интеграла не зависит от обозначения переменной интегрирования, т.е.*

$$\int_a^b f(x) dx = \int_a^b f(t) dt.$$

3. *Постоянный множитель можно выносить за знак определённого интеграла, т.е.*

$$\int_a^b kf(x) dx = k \int_a^b f(x) dx.$$

4. *Определённый интеграл от алгебраической суммы конечного числа функций равен алгебраической сумме определённых интегралов от этих функций, т.е.*

$$\begin{aligned} \int_a^b [f(x) + \varphi(x) - \psi(x)] dx &= \\ &= \int_a^b f(x) dx + \int_a^b \varphi(x) dx - \int_a^b \psi(x) dx. \end{aligned}$$

5. *Если отрезок интегрирования разбит на части, то определённый интеграл по всему отрезку равен сумме определённых интегралов по его частям, т.е. если  $c \in [a, b]$ ,*

$$\text{то} \quad \int_a^b f(x) dx = \int_a^c f(x) dx + \int_c^b f(x) dx.$$

6. *При перестановке пределов интегрирования абсолютная величина определённого интеграла не меняется, а изменяется лишь его знак, т.е.*

$$\int_a^b f(x) dx = - \int_b^a f(x) dx.$$

Пример 3. Вычислить определённый интеграл

$$\int_1^2 \left( \frac{4}{x} - 5x^4 + 2\sqrt{x} \right) dx.$$

Решение : используя теоремы 4 и 3, а при нахождении первообразных – табличные интегралы (7) и (6), получим

$$\int_1^2 \left( \frac{4}{x} - 5x^4 + 2\sqrt{x} \right) dx =$$

$$= 4 \int_1^2 \frac{dx}{x} - 5 \int_1^2 x^4 dx + 2 \int_1^2 \sqrt{x} dx =$$

$$= 4 \ln|x| \Big|_1^2 - 5 \frac{x^5}{5} \Big|_1^2 + 2 \frac{x^{3/2}}{3/2} \Big|_1^2 =$$

$$= 4(\ln 2 - \ln 1) - (2^5 - 1^5) + \frac{4}{3}(2\sqrt{2} - 1\sqrt{1}) =$$

$$= 4 \ln 2 + \frac{8}{3}\sqrt{2} - 32\frac{1}{3}.$$

**Порядок выполнения работы:**

1. Получить задание.
2. Выполнить задание.
3. Предоставить результат выполнения, получить оценку.

**Ход работы:**

**1. Вычислить определённый интеграл.**

<b>1.1</b> $\int_{-1}^2 25x^4 dx$	<b>1.6</b> $\int_{-1}^2 8x^3 dx$	<b>1.11</b> $\int_{-1}^2 64x^7 dx$
<b>1.2</b> $\int_0^1 (2x^2 + x - 1) dx$	<b>1.7</b> $\int_0^2 (x^3 - 1) dx$	<b>1.12</b> $\int_0^4 (3 + x^3) dx$
<b>1.3</b> $\int_0^{\frac{\pi}{2}} 2\cos x dx$	<b>1.8</b> $\int_0^{\frac{\pi}{4}} \frac{dx}{\cos^2 x}$	<b>1.13</b> $\int_0^{\frac{\pi}{3}} \sin x dx$
<b>1.4</b> $\int_{\frac{\pi}{6}}^{\frac{\pi}{4}} \frac{dx}{\cos^2 x}$	<b>1.9</b> $\int_0^4 \frac{dx}{16 + x^2}$	<b>1.14</b> $\int_1^2 \frac{2dx}{x}$
<b>1.5</b> $\int_1^2 \frac{dx}{(2x+1)^2}$	<b>1.10</b> $\int_0^{\pi} \cos \frac{x}{2} dx$	<b>1.15</b> $\int_{\frac{\pi}{4}}^{\frac{\pi}{2}} \sin 2x dx$

**Форма представления результата:**

Предоставить выполненные задания в тетради для практических работ.

**Критерии оценки:**

За правильный ответ на вопросы или верное решение задачи выставляется положительная оценка – 1 балл.

За не правильный ответ на вопросы или неверное решение задачи выставляется отрицательная оценка – 0 баллов.

Процент результативности (правильных ответов)	Качественная оценка индивидуальных образовательных достижений	
	балл (отметка)	вербальный аналог
90 ÷ 100	5	отлично
80 ÷ 89	4	хорошо
60 ÷ 79	3	удовлетворительно
менее 60	2	не удовлетворительно

## Тема 1.3 Дифференциальные уравнения

### Практическое занятие № 7

#### Решение дифференциальных уравнений первого порядка с разделяющимися переменными

**Цель работы:** научиться решать дифференциальные уравнения I порядка с разделяющимися переменными. Научиться находить общие и частные решения.

**Выполнив работу, Вы будете:**

уметь:

- структурировать получаемую информацию
- разделять переменные для решения дифференциального уравнения с разделяющимися переменными;
- находить общее решение дифференциального уравнения;
- выделять из общего решения частное решение, удовлетворяющее начальным условиям (решать задачу Коши).

**Материальное обеспечение:**

Индивидуальные задания, таблицы, справочники, учебники, конспекты лекций.

**Задание:**

1. Найти общее решение дифференциального уравнения

а)  $\frac{dy}{\sqrt{x}} = \frac{3dx}{\sqrt{y}}$

б)  $(y - 1)^2 dx + (1 - x^3) dy = 0$

2. Найти частное решение дифференциального уравнения

$dy = (3x^2 - 2x) dx$ , если  $y=4$  при  $x=$

**Порядок выполнения работы:**

1) Привести данное уравнение к уравнению с разделяющимися переменными, т. е. произвести разделение переменных, для этого:

- а) Производные функции заменить её дифференциалами;
- б) Сгруппировать члены с одинаковыми дифференциалами и записать их в разных частях равенства, вынеся дифференциалы за скобки;
- в) Поделить или умножить обе части равенства на такие выражения, чтобы все функции стояли при „своих” дифференциалах, т. е. привести к виду:  $\varphi(y) dy = \varphi(x) dx$

2) Проинтегрировать обе части равенства и найти общее решение.

3) Для выделения частного решения из общего задается точка  $(x_0; y_0)$ , через которую должна проходить интегральная кривая. Находим значение постоянной  $C$ , а затем  $C$  подставляем в общее решение и записываем частное решение.

**Ход работы:**

1) Найти общее решение дифференциального уравнения:

$(6x dx + 3xy^2 dx) - (6y dy + 2x^2 y dy) = 0$

Сгруппируем члены с  $dx$  и  $dy$   
 $3x(2 + y^2)dx - 2y(3 + x^2)dy = 0$

-Разделим переменные

$$\frac{3xdx}{3 + x^2} = \frac{2ydy}{2 + y^2}$$

-Интегрируем

$$3 \int \frac{xdx}{3 + x^2} = 2 \int \frac{ydy}{2 + y^2}$$

-Решаем по отдельности каждый интеграл методом подстановки

$$\frac{3}{2} \ln(3 + x^2) = \ln(2 + y^2) + \ln c$$

$$\ln(3 + x^2)^{\frac{3}{2}} = \ln(2 + y^2) \cdot c$$

-Потенцируем это уравнение

$$\sqrt{(3 + x^2)^3} = (2 + y^2) \cdot c$$

-Записываем общее решение:

$$\frac{(3 + x^2)\sqrt{3 + x^2}}{2 + y^2} = c$$

2) Найти частные решение дифференциальных уравнений

$$2(y - 3)dx - dy = 0 \text{ при } x=0, y=4$$

-Разделим переменные

$$dy = 2(y - 3)dx$$

$$\frac{dy}{y - 3} = 2dx$$

-Проинтегрируем обе части уравнения

$$\int \frac{dy}{y - 3} = \int 2dx$$

$$\ln(y - 3) = 2x + \ln c$$

-По определению логарифма  $2x = \ln e^{2x}$

$$\ln(y - 3) = \ln(e^{2x} \cdot c)$$

-Запишем общее решение

$$y = e^{2x} \cdot c + 3$$

-Подставим в это уравнение начальные условия  $x=0, y=4$

$$4 = e^0 \cdot c + 3 \Rightarrow c=1$$

-Запишем частное решение

$$y = e^{2x} + 3$$

**Форма представления результата:** выполненная работа

### Критерии оценки:

За правильный ответ на вопросы или верное решение задачи выставляется положительная оценка – 1 балл.

За не правильный ответ на вопросы или неверное решение задачи выставляется отрицательная оценка – 0 баллов.

Процент результативности (правильных ответов)	Качественная оценка индивидуальных образовательных достижений	
	балл (отметка)	вербальный аналог
90 ÷ 100	5	отлично



80 ÷ 89	4	хорошо
60 ÷ 79	3	удовлетворительно
менее 60	2	не удовлетворительно

### Тема 1.3 Дифференциальные уравнения

#### Практическое занятие № 8

#### Решение дифференциальных уравнений первого порядка

##### Цель работы:

Научиться определять вид дифференциальных уравнений, находить общее и частное решение линейных дифференциальных уравнений I порядка.

##### Выполнив работу, Вы будете:

уметь:

- структурировать получаемую информацию
- определять вид дифференциального уравнения первого порядка;
- находить общее и частное решение линейного дифференциального уравнения первого порядка.

##### Материальное обеспечение:

Индивидуальные задания, таблицы, справочники, учебники, конспекты лекций.

##### Задание:

1. Найти частное решение дифференциального уравнения

a)  $y^2 + x^2 y' = xy \cdot y'$  при  $y(1) = 1$

b)  $y' \sin x - y \cos x = 1$  при  $x = \frac{\pi}{2}, y = 1$

##### Порядок выполнения работы:

1. Линейное дифференциальное уравнение I порядка решается путем подстановки

$$y = u \cdot \vartheta; \quad \frac{dy}{dx} = u \frac{d\vartheta}{dx} + \vartheta \frac{du}{dx}$$

Дифференциальное уравнение сводится к решению двух дифференциальных уравнений, с разделяющимися переменными, сначала относительно  $u$ , потом  $\vartheta$ , где  $u$  и  $\vartheta$  неизвестные функции от  $x$ .

##### Ход работы:

1) Найти частное решение линейного дифференциального уравнения I порядка

$xy' + y = 3$ , если  $y=0$ , при  $x=1$

-Приведем уравнение к виду по определению

$$y' + \frac{y}{x} = \frac{3}{x}$$

-Сделаем замену

$$y = u\vartheta; \quad \frac{dy}{dx} = u \frac{d\vartheta}{dx} + \vartheta \frac{du}{dx}$$

-Сгруппируем члены с  $\vartheta$ , получим

$$\vartheta \left( \frac{du}{dx} + \frac{u}{x} \right) = 0, \text{ т.к. } \vartheta \neq 0 \Rightarrow \frac{du}{dx} = -\frac{u}{x}$$

-Разделим переменные

$$\frac{du}{u} = -\frac{dx}{x}$$

-Проинтегрируем

$$\int \frac{du}{u} = - \int \frac{dx}{x}$$

$$\ln|u| = -\ln|x|$$

-Пропотенцируем

$$u = \frac{1}{x}$$

-Подставим  $u$  в оставшееся уравнение

$$\frac{1}{x} \frac{d\vartheta}{dx} = \frac{3}{x}$$
$$d\vartheta = 3dx$$

-Проинтегрируем

$$\vartheta = 3x + c$$

-Подставим  $y = u\vartheta$

$$y = \frac{1}{x}(3x + c) \text{ - общее решение}$$

-Подставим начальные условия

$$0 = 3 + c \Rightarrow c = -3$$

$$y = \frac{3}{x}(x - 1) \text{ - частное решение}$$

**Форма представления результата:** выполненная работа.

### Критерии оценки:

За правильный ответ на вопросы или верное решение задачи выставляется положительная оценка – 1 балл.

За не правильный ответ на вопросы или неверное решение задачи выставляется отрицательная оценка – 0 баллов.

Процент результативности (правильных ответов)	Качественная оценка индивидуальных образовательных достижений	
	балл (отметка)	вербальный аналог
90 ÷ 100	5	отлично
80 ÷ 89	4	хорошо
60 ÷ 79	3	удовлетворительно
менее 60	2	не удовлетворительно

## Тема 2.1. Развитие понятия о числе

### Практическое занятие № 9

**Приближенные значения величин. Абсолютная и относительная погрешности.**

**Правила приближенных вычислений**

**Цель работы:**

Сформировать практические навыки по решению задач данной темы.

**Выполнив работу, Вы будете:**

*уметь:*

– выполнять приближенные вычисления

– применять правила приближенных вычислений

– анализировать результаты измерения величин с допустимой погрешностью, представлять их графически

**Материальное обеспечение:**

- комплект учебно-наглядных пособий для индивидуальных домашних работ;
- комплект дидактического раздаточного материала.

**Задание:**

Повторить теоретический материал, выполнить практическую работу.

**Краткие теоретические сведения:**

*Действительное число* - любое положительное, отрицательное число или нуль. Посредством действительных чисел выражаются результаты измерения всех физических величин.

Результат измерений подсчетов и вычисления являются числами. Числа полученные в результате измерения лишь приближительны с некоторой точностью характеризуют искомые величины.

*Погрешностью* называют разность точного и приближенного знач величины.

*Абсолютная погрешность* - это разность между измеренным и истинным значениями измеряемой величины. Абсолютная погрешность выражается в единицах измеряемой величины.

*Относительная погрешность* — это отношение абсолютной погрешности измерения к истинному (действительному) значению измеряемой величины (она обычно выражается в процентах).

*Правила вычислений*

1. **При сложении и вычитании** приближенных чисел окончательный результат округляют так, чтобы он не имел значащих цифр в тех разрядах, которые отсутствуют хотя бы в одном из приближенных данных.

2. **При умножении** следует округлять сомножители так, чтобы каждый из них содержал столько значащих цифр, сколько их имеет сомножитель с наименьшим числом таких цифр.

3. **При возведении в квадрат** или куб следует в степени брать столько значащих цифр, сколько их имеется в основании степени.

4. **При умножении** следует округлять сомножители так, чтобы каждый из них содержал столько значащих цифр, сколько их имеет сомножитель с наименьшим числом таких цифр.

5. **При вычислении** сложных выражений следует применять указанные правила в соответствии с видом производимых действий.

Кроме того, при обработке результатов используются **правила нахождения погрешности** суммы, разности, произведения и частного.

**Правило 1.** Предельная абсолютная погрешность суммы равна сумме предельных абсолютных погрешностей отдельных слагаемых, но при значительном числе погрешностей слагаемых обычно происходит взаимная компенсация погрешностей, поэтому истинная погрешность суммы лишь в исключительных случаях совпадает с предельной погрешностью или близка к ней.

• **Правило 2.** Предельная абсолютная погрешность разности равна сумме предельных абсолютных погрешностей уменьшаемого или вычитаемого.

• **Правило 3.** Предельная относительная погрешность суммы (но не разности) лежит между наименьшей и наибольшей из относительных погрешностей слагаемых.

Если все слагаемые имеют одну и ту же предельную относительную погрешность, то и сумма имеет ту же предельную относительную погрешность. Иными словами, в этом случае точность суммы (в процентном выражении) не уступает точности слагаемых.

В противоположность сумме разность приближенных чисел может быть менее точной, чем уменьшаемое и вычитаемое. Потеря точности особенно велика в том случае, когда уменьшаемое и вычитаемое мало отличаются друг от друга.

• **Правило 4.** Предельная относительная погрешность произведения приближенно равна сумме предельных относительных погрешностей сомножителей:  $\delta = \delta_1 + \delta_2$ , или, точнее,  $\delta = \delta_1 + \delta_2 + \delta_1 \delta_2$  где  $\delta$  – относительная погрешность произведения,  $\delta_1 \delta_2$  - относительные погрешности сомножителей.

• **Правило 5.** Предельная относительная погрешность частного приближенно равна сумме предельных относительных погрешностей делимого и делителя. Точная величина предельной

относительной погрешности всегда превышает приближенную. Процент превышения примерно равен предельно относительной погрешности делителя.

**Порядок выполнения работы:**

1. Получить задание.
2. Выполнить задание.
3. Предоставить результат выполнения, получить оценку.

**Ход работы:**

1. Найти сумму, разность, произведение и частное приближенных чисел и границы абсолютной и относительной погрешностей результата:

1)  $a_1 = 25,74 \pm 0,2$ ;  $a_2 = 96,42 \pm 0,3$ .

2)  $a_1 = 37,375 \pm 0,03$ ;  $a_2 = 3,042 \pm 0,004$ .

3)  $a_1 = 879,03 \pm 0,1$ ;  $a_2 = 653,84 \pm 0,4$ .

2. Выполнить действия, округляя промежуточные результаты до четырех цифр, и сравнить результаты:  $(0,3644 + 423) \cdot 0,125$  и  $0,364 + 0,125 + 4 \cdot 0,423 - 0,125$ .

3. При вычислении значения выражения  $z = 8x - 2y$  данные в условии задачи значения  $x = 50,4$  и  $y = 100,3$  округлили до целых и получили  $z = 8 \cdot 50 - 2 \cdot 100 = 200$ . Тогда абсолютная погрешность полученного результата равна ...

Решение: модуль разности между точным числом и его приближенным значением называется абсолютной погрешностью приближенного значения числа. Значит, абсолютная погрешность числа 50 равна  $|50,4 - 50| = 0,4$  и абсолютная погрешность числа 100 равна  $|100,3 - 100| = 0,3$ . Абсолютная погрешность суммы и разности приближенных чисел равна сумме абсолютных погрешностей. Тогда абсолютная погрешность полученного числа 200 будет равна  $8 \cdot 0,4 + 2 \cdot 0,3 = 3,8$ .

4. Известно, что ребра прямоугольного параллелепипеда равны 56 см, 19 см и 122 см. Для упрощения вычислений эти числа округлили до 50 см, 20 см и 120 см соответственно. Нашли объем  $V = 60 \cdot 20 \cdot 120 = 144000$  (куб. см.).

Полученный результат имеет относительную погрешность, равную ...

Решение: относительная погрешность приближенного положительного числа равна отношению абсолютной погрешности числа к точному значению этого числа. Так как точное значение числа, как правило, неизвестно, то под относительной погрешностью понимают отношение абсолютной погрешности числа к его приближенному значению.

Тогда относительные погрешности чисел 50, 20 и 120 равны  $\delta_1 = \frac{\Delta_1}{50} = \frac{|56 - 50|}{50} = \frac{6}{50} = \frac{3}{25}$ ,  $\delta_2 = \frac{\Delta_2}{20} = \frac{|19 - 20|}{20} = \frac{1}{20}$ ,  $\delta_3 = \frac{\Delta_3}{120} = \frac{|122 - 120|}{120} = \frac{2}{120} = \frac{1}{60}$ , соответственно.

Относительная погрешность произведения приближенных чисел равна сумме относительных погрешностей сомножителей.

Значит,  $\delta = \delta_1 + \delta_2 + \delta_3 = \frac{3}{25} + \frac{1}{20} + \frac{1}{60} = \frac{8}{60} + \frac{2}{60} + \frac{1}{60} = \frac{11}{60}$ .

5. Пусть  $a = 3,8$  и  $b = 6,2$ . Необходимо найти значение  $a + 4b$ . Сначала числа округлили до целых, а потом проделали вычисления. Получили  $3,8 + 4 \cdot 6,2 \approx 4 - 4 \cdot 6 = -20$ .

Тогда абсолютная погрешность полученного результата равна ...

Решение: модуль разности между точным числом  $a$  и его приближенным значением  $x$  называется абсолютной погрешностью приближенного значения числа  $x$  и обозначается  $\Delta x$ .

Имеем  $x = 4, y = 6$ .

$\Delta x = |3,8 - 4| = 0,2$ .

$\Delta y = |6,2 - 6| = 0,2$ .

Абсолютная погрешность полученного результата можно

найти по формуле  
Получим:  $\Delta(x - 4y) = 0,2 + 4 \cdot 0,2 = 1$ .

формуле

$$\Delta(x - 4y) = \Delta x + 4 \cdot \Delta y.$$

### Задачи для самостоятельной работы:

1. Модуль разности между точным числом  $a$  и его приближенным значением  $x$  называется абсолютной погрешностью приближенного значения числа  $x$  и обозначается  $\Delta x$ .

Имеем  $x = 9, y = 9$ .

$$\Delta x = |9,2 - 9| = 0,2.$$

$$\Delta y = |8,9 - 9| = 0,1.$$

2. При измерении линейкой длины и ширины фанерного листа были получены размеры  $a = 120$  см. и  $b = 60$  см. Известно, что погрешность измерения линейкой равна 2 см. Была найдена площадь листа  $S = 120 \cdot 60 = 7200$  кв.см. Полученный результат имеет относительную погрешность равную ...

3) Пусть  $a = 3,8$  и  $b = 6,2$ .

Необходимо найти значение  $a + 4b$ .

4) Сначала числа округлили до целых, а потом проделали вычисления.

Получили  $3,8 + 4 \cdot 6,2 \approx 4 + 4 \cdot 6 = -20$ .

Тогда абсолютная погрешность полученного результата равна ...

5) Вычислили значение функции  $f(x; y) = x^3 y$  при  $x = 2$  и  $y = 5$ , получили результат 40.

6) Известны относительные погрешности чисел 2 и 5:  $\delta_x = 0,01$ ;  $\delta_y = 0,04$ .

Тогда относительная погрешность полученного результата равна ...

7) Форма записи рациональной дроби  $\frac{3}{14}$  в виде бесконечной десятичной дроби имеет вид ...  
Поделить числитель дроби на знаменатель:

### Форма представления результата:

Предоставить выполненные задания в тетради для практических работ.

### Критерии оценки:

За правильный ответ на вопросы или верное решение задачи выставляется положительная оценка – 1 балл.

За не правильный ответ на вопросы или неверное решение задачи выставляется отрицательная оценка – 0 баллов.

Процент результативности (правильных ответов)	Качественная оценка индивидуальных образовательных достижений	
	балл (отметка)	вербальный аналог
90 ÷ 100	5	отлично
80 ÷ 89	4	хорошо
60 ÷ 79	3	удовлетворительно
менее 60	2	не удовлетворительно

## Тема 2.1 Алгебраическая форма комплексного числа

### Практическое занятие № 10

#### Действия над комплексными числами в алгебраической форме.

**Цель работы:** научиться выполнять действия над комплексными числами, записанными в алгебраической форме.

**Выполнив работу, Вы будете:**

уметь:

- определять этапы решения задачи
- выполнять действия над комплексными числами

**Материальное обеспечение:**

Индивидуальные задания, конспекты лекций

**Задание:**

1. Даны комплексные числа :  $z_1=(-3;-5)$ ,  $z_2=(-7,2;7,2)$ ,  $z_3=(2;6)$ .  
Записать эти числа в алгебраической форме.

2. Вычислить:

- 1)  $z_1 + z_2$ ;
- 2)  $z_2 - z_3$ ;
- 3)  $z_1 / z_3$ ;
- 4)  $z_2 * z_3$ ;
- 5)  $z_1^5$ .

3. Вычислить:

$$\frac{1-3i}{i-2} + \frac{1+4i}{1+3i} + i^{13}$$

**Порядок выполнения работы:**

1. Запишите комплексные числа в алгебраической форме  $z = a + bi$
2. Выполните действия и

**Ход работы:**

**Форма представления результата:**

1. Даны комплексные числа :  $z_1=(7;1)$ ,  $z_2=(-1,5;1,5)$ ,  $z_3=(4;-3)$ .  
Записать эти числа в алгебраической форме.

Решение:

Т.к. алгебраическая форма комплексного числа имеет вид  $z=x+iy$ , то

$$z_1 = 7 + i; \quad z_2 = -1,5 + 1,5i; \quad z_3 = 4 - 3i$$

2. Выполнить действия в алгебраической форме:

- 1)  $z_1 + z_2$ ;
- 2)  $z_2 - z_3$ ;
- 3)  $z_1 / z_3$ ;
- 4)  $z_2 \cdot z_3$ ;
- 5)  $z_1^5$ .

Решение:

$$1) \quad z_1 + z_2 = (7-1,5) + (1+1,5)i = 5,5 + 2,5i;$$

$$2) \quad z_1 - z_3 = (7-4) + (1+3)i = 3 + 4i;$$

$$3) \quad \frac{z_1}{z_3} = \frac{7+i}{4-3i} = \frac{(7+i)(4+3i)}{(4-3i)(4+3i)} = \frac{28+21i+4i+3i^2}{16-(3i)^2} = \frac{28+25i-3}{16+9} = \frac{25+25i}{25} = 1+i$$

$$4) \quad z_2 \cdot z_3 = (-1,5+1,5i)(4-3i) = -6+4,5i+6i-4,5i^2 = -6+10,5i+4,5 = -2,5+10,5i;$$

$$5) \quad z_1^5 = (7+i)^5 = ((7+i)^2)^2(7+i) = (49+14i+i^2)^2(7+i) = (48+14i)^2(7+i) = (2304+1344i+196i^2)(7+i) =$$

ад комплексными числами в алгебраической форме, используя формулы:

$$z_1 + z_2 = (a_1 + a_2) + (b_1 + b_2)i$$

$$z_1 - z_2 = (a_1 - a_2) + (b_1 - b_2)i$$

$$z_1 \cdot z_2 = (a_1 a_2 - b_1 b_2) + (a_1 b_2 + a_2 b_1) i$$

$$\frac{z_1}{z_2} = \frac{a_1 a_2 + b_1 b_2}{a_2^2 + b_2^2} + \frac{a_2 b_1 - a_1 b_2}{a_2^2 + b_2^2} i$$

$$= (2108 + 1344i)(7 + i) = 14756 + 2108i + 9408i + 1344i^2 = 13412 + 11516i$$

3. Вычислить:

$$\frac{1+3i}{i-3} + \frac{4-5i}{1+3i} - i^8$$

Решение:

$$\frac{1+3i}{i-3} + \frac{4-5i}{1+3i} - i^8 = -2,1 - 2,8i$$

$$1) \frac{1+3i}{i-3} = \frac{(1+3i)(-3-i)}{(-3+i)(-3-i)} = \frac{-3-i-9i-3i^2}{(-3)^2 - i^2} = \frac{-10i}{10} = -i;$$

$$2) \frac{4-5i}{1+3i} = \frac{(4-5i)(1-3i)}{(1+3i)(1-3i)} = \frac{4-12i-5i+15i^2}{1-(3i)^2} = \frac{-11-17i}{10} = -1,1 - 1,7i$$

$$3) i^8 = (i^2)^4 = (-1)^4 = 1$$

$$4) -i + (-1,1 - 1,7i) - 1 = -i - 1,1 - 1,7i - 1 = -2,1 - 2,8i$$

**Форма представления результата:** выполненная работа.

### Критерии оценки:

За правильный ответ на вопросы или верное решение задачи выставляется положительная оценка – 1 балл.

За не правильный ответ на вопросы или неверное решение задачи выставляется отрицательная оценка – 0 баллов.

Процент результативности (правильных ответов)	Качественная оценка индивидуальных образовательных достижений	
	балл (отметка)	вербальный аналог
90 ÷ 100	5	отлично
80 ÷ 89	4	хорошо
60 ÷ 79	3	удовлетворительно
менее 60	2	не удовлетворительно

## Тема 2.2 Тригонометрическая форма комплексного числа

### Практическое занятие № 11

#### Действия над комплексными числами в тригонометрической форме

**Цель работы:** научиться выполнять действия над комплексными числами, записанными в тригонометрической и показательной формах.

**Выполнив работу, Вы будете:**

уметь:

- определять этапы решения задачи
- выполнять действия над комплексными числами, записанными в тригонометрической форме.

**Материальное обеспечение:** Индивидуальные задания, конспекты лекций

**Задание:**

4. Даны комплексные числа в тригонометрической форме:

$$z_1 = 5 \left( \cos \frac{\pi}{9} + i \sin \frac{\pi}{9} \right) \quad \text{и} \quad z_2 = 8 \left( \cos \frac{3\pi}{5} + i \sin \frac{3\pi}{5} \right). \text{ Вычислите: } z_1 \cdot z_2; \frac{z_2}{z_1}; z_1^3; \sqrt[3]{z_2}$$

5. Выполните действия и запишите результат в показательной форме:

$$\text{a) } \left( 3 \cdot \left( \cos \frac{5\pi}{4} + i \sin \frac{5\pi}{4} \right) \right)^2 \text{b) } \frac{24(\cos 75^\circ + i \sin 75^\circ)}{3(\cos 30^\circ + i \sin 30^\circ)}$$

**Краткие теоретические сведения:**

Тригонометрической формой комплексных чисел называется запись их в виде:  
 $z = r \cdot (\cos \varphi + i \sin \varphi)$ .

При выполнении действий над комплексными числами в тригонометрической форме используются следующие формулы:

$$z_1 \cdot z_2 = r_1 \cdot r_2 (\cos(\varphi_1 + \varphi_2) + i \sin(\varphi_1 + \varphi_2))$$

$$\frac{z_1}{z_2} = \frac{r_1}{r_2} (\cos(\varphi_1 - \varphi_2) + i \sin(\varphi_1 - \varphi_2))$$

$$z^n = r^n (\cos n\varphi + i \sin n\varphi)$$

Для извлечения корня n-й степени из комплексного числа в тригонометрической форме  $z = r(\cos \varphi + i \sin \varphi)$  используется формула:

$$\omega_k = \sqrt[n]{r} \cdot \left( \cos \frac{\varphi + 2\pi k}{n} + i \sin \frac{\varphi + 2\pi k}{n} \right), \text{ где } \sqrt[n]{r} - \text{арифметический корень, } k=0, 1, 2, \dots, n-1.$$

**Порядок выполнения работы:**

1. Запишите заданные в тригонометрической форме числа.
2. Используя конспект, выясните, как выполняются действия над комплексными числами в тригонометрической форме.
3. Выполните заданные действия.

**Форма представления результата:** выполненная работа.

**Критерии оценки:**

За правильный ответ на вопросы или верное решение задачи выставляется положительная оценка – 1 балл.

За не правильный ответ на вопросы или неверное решение задачи выставляется отрицательная оценка – 0 баллов.

Процент результативности (правильных ответов)	Качественная оценка индивидуальных образовательных достижений	
	балл	вербальный аналог



	(отметка)	
$90 \div 100$	5	отлично
$80 \div 89$	4	хорошо
$60 \div 79$	3	удовлетворительно
менее 60	2	не удовлетворительно

### Тема 3.1. Матрицы и определители

#### Практическая занятие № 12

#### Вычисление определителей второго и третьего порядков

**Цель работы:** научиться вычислять определители второго и третьего порядков.

**Выполнив работу, Вы будете:**

уметь:

- вычислять определители второго порядка;
- вычислять определители третьего порядка.

**Материальное обеспечение:** индивидуальные задания, учебники, конспекты лекций.

**Задание:**

Вычислить определители:

$$1) \begin{vmatrix} -3 & 5 \\ 2 & 2 \end{vmatrix} \quad 2) \begin{vmatrix} 3 & 3 & -5 \\ 1 & 1 & 2 \\ 2 & -1 & 7 \end{vmatrix} \quad 3) \begin{vmatrix} 10 & -2 & 1 \\ -15 & 5 & -2 \\ 3 & -2 & -1 \end{vmatrix}$$

**Краткие теоретические сведения:**

Определителем квадратной матрицы второго порядка (определителем второго порядка) называется число, равное разности произведений элементов главной диагонали и элементов побочной диагонали.

$$\begin{vmatrix} a_1 & b_1 \\ a_2 & b_2 \end{vmatrix} = a_1 \cdot b_2 - a_2 \cdot b_1$$

Определителем квадратной матрицы третьего порядка (определителем третьего порядка) называется число, равное

$$\begin{vmatrix} a_{11} & a_{12} & a_{13} \\ a_{21} & a_{22} & a_{23} \\ a_{31} & a_{32} & a_{33} \end{vmatrix} = a_{11}a_{22}a_{33} + a_{12}a_{23}a_{31} + a_{21}a_{32}a_{13} - a_{13}a_{22}a_{31} - a_{12}a_{21}a_{33} - a_{23}a_{32}a_{11}$$

**Порядок выполнения работы:**

- 1 Запишите определитель, определите какого он порядка.
- 2 Используя соответствующее определение, вычислите значение определителя.

**Ход работы:**

Вычислить определители:

$$1) \begin{vmatrix} 2 & -4 \\ 3 & 6 \end{vmatrix} = 2 \cdot 6 - 3 \cdot (-4) = 12 + 12 = 24$$

$$2) \begin{vmatrix} 5 & -2 & 1 \\ 3 & 1 & -4 \\ 6 & 0 & -3 \end{vmatrix} = 5 \cdot 1 \cdot (-3) + (-2) \cdot (-4) \cdot 6 + 3 \cdot 0 \cdot 1 -$$

$$-6 \cdot 1 \cdot 1 - 3 \cdot (-2) \cdot (-3) - 0 \cdot (-4) \cdot 5 = -15 + 48 - 6 - 18 =$$

$$= 48 - 39 = 9$$

$$3) \begin{vmatrix} 4 & 0 & 5 \\ -6 & 2 & -7 \\ 1 & -3 & 2 \end{vmatrix} = 4 \cdot 2 \cdot 2 + 0 \cdot (-7) \cdot 1 + (-6) \cdot (-3) \cdot 5 -$$

$$-5 \cdot 2 \cdot 1 - (-6) \cdot 0 \cdot 2 - (-3) \cdot (-7)$$

$$= 16 + 0 + 90 - 10 - 0 - 84 = 12$$

**Форма представления результата:** выполненная работа.

### Критерии оценки:

За правильный ответ на вопросы или верное решение задачи выставляется положительная оценка – 1 балл.

За не правильный ответ на вопросы или неверное решение задачи выставляется отрицательная оценка – 0 баллов.

Процент результативности (правильных ответов)	Качественная оценка индивидуальных образовательных достижений	
	балл (отметка)	вербальный аналог
90 ÷ 100	5	отлично
80 ÷ 89	4	хорошо
60 ÷ 79	3	удовлетворительно
менее 60	2	не удовлетворительно

## Тема 3.2 Системы линейных уравнений

### Практическое занятие № 13

#### Решение систем линейных уравнений методом Крамера

**Цель работы:** научиться решать системы линейных уравнений, используя формулы Крамера.

**Выполнив работу, Вы будете:**

уметь:

- решать системы двух линейных уравнений с двумя неизвестными методом Крамера;
- решать системы трех линейных уравнений с тремя неизвестными методом Крамера;
- определять этапы решения задачи

**Материальное обеспечение:**

Индивидуальные задания, учебники, конспекты лекций.

**Задание:**

Решить системы линейных уравнений:

$$1) \begin{cases} 3x - 5y = 11 \\ 2x + 3y = 20 \end{cases} \quad 2) \begin{cases} 3x + 3y - 5z = -2 \\ x + y + 2z = 3 \\ 2x - y + 7z = 27 \end{cases}$$

### Краткие теоретические сведения:

Пусть дана система двух линейных уравнений с двумя неизвестными: 
$$\begin{cases} a_{11}x_1 + a_{12}x_2 = b_1 \\ a_{21}x_1 + a_{22}x_2 = b_2 \end{cases}$$

Составим определитель из коэффициентов при неизвестных. Этот определитель называется определителем системы: 
$$\Delta = \begin{vmatrix} a_{11} & a_{12} \\ a_{21} & a_{22} \end{vmatrix}$$

Составим определители каждой неизвестной. Определитель  $\Delta_1$  получается из определителя  $\Delta$  путем замены первого столбца коэффициентов столбцом из свободных членов. 
$$\Delta_1 = \begin{vmatrix} b_1 & a_{12} \\ b_2 & a_{22} \end{vmatrix}$$

Определитель  $\Delta_2$  получается из определителя  $\Delta$  путем замены второго столбца коэффициентов столбцом из свободных членов.

$$\Delta_2 = \begin{vmatrix} a_{11} & b_1 \\ a_{21} & b_2 \end{vmatrix}$$

Пусть дана система трех линейных уравнений с тремя неизвестными:

$$\begin{cases} a_{11}x_1 + a_{12}x_2 + a_{13}x_3 = b_1 \\ a_{21}x_1 + a_{22}x_2 + a_{23}x_3 = b_2 \\ a_{31}x_1 + a_{32}x_2 + a_{33}x_3 = b_3 \end{cases}$$

Составим определитель из коэффициентов при неизвестных. Этот определитель называется определителем системы: 
$$\Delta = \begin{vmatrix} a_{11} & a_{12} & a_{13} \\ a_{21} & a_{22} & a_{23} \\ a_{31} & a_{32} & a_{33} \end{vmatrix}$$

Составим определители каждой неизвестной. Определитель  $\Delta_1$  получается из определителя  $\Delta$  путем замены первого столбца коэффициентов столбцом из свободных членов.

$$\Delta_1 = \begin{vmatrix} b_1 & a_{12} & a_{13} \\ b_2 & a_{22} & a_{23} \\ b_3 & a_{32} & a_{33} \end{vmatrix}$$

Определитель  $\Delta_2$  получается из определителя  $\Delta$  путем замены второго столбца коэффициентов столбцом из свободных членов.

$$\Delta_2 = \begin{vmatrix} a_{11} & b_1 & a_{13} \\ a_{21} & b_2 & a_{23} \\ a_{31} & b_3 & a_{33} \end{vmatrix}$$

Определитель  $\Delta_3$  получается из определителя  $\Delta$  путем замены третьего столбца коэффициентов столбцом из свободных членов.

$$\Delta_3 = \begin{vmatrix} a_{11} & a_{12} & b_1 \\ a_{21} & a_{22} & b_2 \\ a_{31} & a_{32} & b_3 \end{vmatrix}$$

Чтобы вычислить значения неизвестных, воспользуемся формулами Крамера:  $x_1 = \frac{\Delta_1}{\Delta}$   
;  $x_2 = \frac{\Delta_2}{\Delta}$ ;  $x_3 = \frac{\Delta_3}{\Delta}$

### Порядок выполнения работы:

1. Запишите систему уравнений.
2. Запишите и вычислите определитель системы.
3. Вычислите определители каждой неизвестной.
4. Найдите значения неизвестных, используя формулы Крамера.

### Ход работы:

Рассмотрим пример:

Решить систему уравнений:

$$\begin{cases} x_1 + 2x_2 - 3x_3 = 0; \\ 2x_1 - x_2 + 4x_3 = 5; \\ 3x_1 + x_2 - x_3 = 5 \end{cases}$$

$$A = \begin{pmatrix} 1 & 2 & -3 \\ 2 & -1 & 4 \\ 3 & 1 & -1 \end{pmatrix};$$

$$\Delta A = \begin{vmatrix} 1 & 2 & -3 \\ 2 & -1 & 4 \\ 3 & 1 & -1 \end{vmatrix} = 10 \neq 0$$

Вычислим определители каждой переменной:

$$\Delta_1 = \begin{vmatrix} 0 & 2 & -3 \\ 5 & -1 & 4 \\ 5 & 1 & -1 \end{vmatrix} = 0 - 15 + 40 - 15 + 10 - 0 = 20$$

$$\Delta_2 = \begin{vmatrix} 1 & 0 & -3 \\ 2 & 5 & 4 \\ 3 & 5 & -1 \end{vmatrix} = -5 - 30 + 0 + 45 - 0 - 20 = -10$$

$$\Delta_3 = \begin{vmatrix} 1 & 2 & 0 \\ 2 & -1 & 5 \\ 3 & 1 & 5 \end{vmatrix} = -5 + 0 + 30 - 0 - 20 - 5 = 0$$

$$x_1 = \frac{\Delta_1}{\Delta} = \frac{20}{10} = 2; \quad x_2 = \frac{\Delta_2}{\Delta} = \frac{-10}{10} = -1; \quad x_3 = \frac{\Delta_3}{\Delta} = \frac{0}{10} = 0$$

Ответ: (2;-1;0).

**Форма представления результата:** выполненная работа.

### Критерии оценки:

За правильный ответ на вопросы или верное решение задачи выставляется положительная оценка – 1 балл.

За не правильный ответ на вопросы или неверное решение задачи выставляется отрицательная оценка – 0 баллов.

Процент результативности (правильных ответов)	Качественная оценка индивидуальных образовательных достижений	
	балл (отметка)	вербальный аналог
90 ÷ 100	5	отлично
80 ÷ 89	4	хорошо
60 ÷ 79	3	удовлетворительно
менее 60	2	не удовлетворительно

## Тема 4.1. Векторы

### Практическое занятие № 14

#### Арифметические операции с векторами

**Цель работы:** научиться выполнять действия над векторами

**Выполнив работу, Вы будете:**

уметь:

- структурировать получаемую информацию;
- оформлять результаты поиска

– выполнять арифметические операции с векторами

– **Материальное обеспечение:**

Индивидуальные задания, учебники, конспекты лекций.

**Задание:**

1 Найти линейную комбинацию векторов  $\overline{AB} - 3\overline{BC} + 4\overline{CD}$

2 Найти длины векторов  $\overline{AB}$ ;  $\overline{BC}$ ;  $\overline{CD}$

3 Найти косинусы углов между векторами  $\overline{AB}$  и  $\overline{BC}$ ;  $\overline{BC}$  и  $\overline{CD}$

4 Найти  $(\overline{AB} + \overline{CD}) \cdot \overline{AD}$

5 Найти  $\text{Pr}_{\overline{AB}}(\overline{BD} + \overline{AC})$

6 Выяснить, коллинеарны ли векторы  $\overline{AB}$  и  $\overline{CD}$

7 Выяснить, ортогональны ли векторы  $\overline{AB}$  и  $\overline{CD}$

1 A (2; 3; -1); B (0; 1; 2); C (4; -1; -1); D (2; -3; 1)

2 A (3; -1; 1); B (1; 3; 2); C (1; -1; -1); D (4; 0; 3)

3 A (4; 1; 2); B (1; 0; 1); C (-1; 2; -1); D (3; 1; 0)

4 A (3; -2; 1); B (2; -1; 1); C (4; 0; 2); D (1; 1; -1)

5 A (-2; 2; 1); B (3; 0; 4); C (7; 1; 0); D (3; 0; 5)

6 A (1; -1; -1); B (2; 5; 7); C (-3; 1; -1); D (2; 2; 3)

7 A (-3; 1; 4); B (1; -2; -3); C (2; 2; 3); D (5; 3; 1)

8 A (2; -5; 1); B (4; 3; 5); C (-1; 0; 1); D (2; 1; 0)

9 A (-2; 2; 1); B (3; -1; 0); C (4; 4; 0); D (1; -1; 1)

10 A (4; 2; 5); B (0; 1; 3); C (-1; -1; 1); D (2; -2; 1)

11 A (1; 0; 1); B (7; 4; 3); C (3; -5; 1); D (-2; 2; 2)

12 A (5; 1; 0); B (-1; -1; -1); C (2; 4; 7); D (1; 0; 1)

13 A (10; 1; 1); B (-2; -1; 1); C (4; 3; 2); D (1; 0; -1)

14 A (2; -7; 4); B (2; -1; 3); C (1; 0; -1); D (2; 1; 3)

15 A (6; 3; 3); B (-1; 0; -2); C (3; 1; 1); D (0; 4; 5)

16 A (3; 2; 0); B (2; -1; 7); C (4; 0; 5); D (1; -2; -1)

17 A (4; -1; 2); B (1; 0; 3); C (-2; 1; 5); D (3; 8; -1)

18 A (1; 1; -3); B (-7; 5; 2); C (2; 1; 0); D (3; -3; 1)

19 A (5; 0; 1); B (2; -1; -1); C (-6; -1; 1); D (3; 1; 3)

20 A (3; 5; 1); B (7; -4; 3); C (2; 1; 1); D (0; -1; 3)

21 A (1; -2; 1); B (-1; 8; -3); C (3; 2; 1); D (5; 3; 1)

22 A (-3; -1; 1); B (2; -3; 0); C (1; 4; 5); D (2; 3; 4)

23 A (3; -1; 2); B (4; 0; 4); C (-1; 9; -1); D (3; -2; -2)

24 A (3; -2; 1); B (4; 2; 1); C (-1; -1; 1); D (3; 0; 1)

25 A (-2; 0; 1); B (4; -1; 3); C (-3; 2; 1); D (4; 1; 1)

26 A (2; -2; 1); B (2; 5; 7); C (1; 3; 5); D (7; 0; 3)

27 A (2; 3; 3); B (-2; 4; 1); C (3; 5; 2); D (3; 8; -1)

28 A (1; 1; -3); B (-3; 2; -1); C (4; 1; 2); D (7; -3; 0)

29 A (7; 6; 1); B (2; -1; -1); C (1; 0; 1); D (-2; 1; -1)

30 A (-7; 2; -1); B (2; 5; 1); C (2; 1; 1); D (0; 1; 3)

**Краткие теоретические сведения:**

Вектором называется отрезок, у которого указано, какой из концов является началом, а какой – концом (направленный отрезок), обозначается  $\vec{a}$ ,  $\overrightarrow{AB}$ , где  $A$  - начало вектора,  $B$  - конец. Векторы называются коллинеарными, если они расположены на одной или параллельных прямых.

Векторы называются ортогональными, если угол между ними  $90^\circ$ . Векторы можно складывать ( по правилам треугольника и параллелограмма), можно умножать на число:

$$a = [a_1, a_2, a_3] \quad b = [b_1, b_2, b_3] \quad a + b = [a_1 + b_1, a_2 + b_2, a_3 + b_3];$$

$$ka = [ka_1, ka_2, ka_3].$$

$$\vec{a} \parallel \vec{b} \Leftrightarrow \frac{a_1}{b_1} = \frac{a_2}{b_2} = \frac{a_3}{b_3}$$

Необходимое и достаточное условие коллинеарности векторов:

Модуль вектора  $\vec{a} = \{a_1, a_2, a_3\}$  равен  $|\vec{a}| = \sqrt{a_1^2 + a_2^2 + a_3^2}$ .

Если заданы начало  $A(x_1, y_1, z_1)$  и конец  $B(x_2, y_2, z_2)$  вектора  $\overrightarrow{AB}$ , то его координаты и длина находятся следующим образом:

$$\overrightarrow{AB} = [x_2 - x_1, y_2 - y_1, z_2 - z_1]; \quad |\overrightarrow{AB}| = \sqrt{(x_2 - x_1)^2 + (y_2 - y_1)^2 + (z_2 - z_1)^2}$$

8 Скалярным произведением векторов называется число, равное произведению длин этих векторов на косинус угла между ними

$$\vec{a} \cdot \vec{b} = |\vec{a}| \cdot |\vec{b}| \cdot \cos \varphi$$

$$\vec{a} \cdot \vec{b} = a_1 b_1 + a_2 b_2 + a_3 b_3$$

$$\cos \varphi = \frac{\vec{a} \cdot \vec{b}}{|\vec{a}| \cdot |\vec{b}|} = \frac{a_1 b_1 + a_2 b_2 + a_3 b_3}{\sqrt{a_1^2 + a_2^2 + a_3^2} \cdot \sqrt{b_1^2 + b_2^2 + b_3^2}}$$

Необходимое и достаточное условие ортогональности векторов:  $\vec{a} \cdot \vec{b} = 0$ .

$$\text{Пр}_{\vec{b}} \vec{a} = \frac{\vec{a} \cdot \vec{b}}{|\vec{b}|} = \frac{a_1 b_1 + a_2 b_2 + a_3 b_3}{\sqrt{b_1^2 + b_2^2 + b_3^2}}$$

Проекция вектора на направление:

**Порядок выполнения работы:**

1 Найти линейную комбинацию векторов  $\overrightarrow{AB} - 3\overrightarrow{BC} + 4\overrightarrow{CD}$

2 Найти длины векторов  $\overrightarrow{AB}$ ;  $\overrightarrow{BC}$ ;  $\overrightarrow{CD}$

3 Найти косинусы углов между векторами  $\overrightarrow{AB}$  и  $\overrightarrow{BC}$ ;  $\overrightarrow{BC}$  и  $\overrightarrow{CD}$

4 Найти  $(\overrightarrow{AB} + \overrightarrow{CD}) \cdot \overrightarrow{AD}$

5 Найти  $\text{Пр}_{\overrightarrow{AB}}(\overrightarrow{BD} + \overrightarrow{AC})$

6 Выяснить, коллинеарны ли векторы  $\overrightarrow{AB}$  и  $\overrightarrow{CD}$

7 Выяснить, ортогональны ли векторы  $\overrightarrow{AB}$  и  $\overrightarrow{CD}$

**Пример выполнения:**

Даны точки  $A(6, 3, 3)$ ,  $B(-1, 0, -2)$ ,  $C(3, 1, 1)$ ,  $D(0, 4, 5)$ .

**Задание 1****Решение:**

$$\overrightarrow{AB} = \{-1 - 6; 0 - 3; -2 - 3\} = \{-7; -3; -5\};$$

$$\overrightarrow{BC} = \{3 + 1; 1 - 0; 1 + 2\} = \{4; 1; 3\};$$

$$\overrightarrow{CD} = \{0 - 3; 4 - 1; 5 - 1\} = \{-3; 3; 4\};$$

$$\overrightarrow{AB} - 3\overrightarrow{BC} + 4\overrightarrow{CD} = \{-7 - 3 \cdot 4 + 4 \cdot (-3); -3 - 3 \cdot 1 + 4 \cdot 3; -5 - 3 \cdot 3 + 4 \cdot 4\} = \{-31; 6; 2\}$$

**Задание 2****Решение:**

$$|\overrightarrow{AB}| = \sqrt{(-7)^2 + (-3)^2 + (-5)^2} = \sqrt{83}$$

$$|\overrightarrow{BC}| = \sqrt{(4)^2 + (1)^2 + (3)^2} = \sqrt{26}$$

$$|\overrightarrow{CD}| = \sqrt{(-3)^2 + (3)^2 + (4)^2} = \sqrt{34}$$

**Задание 3****Решение:**

$$\cos \overrightarrow{AB}; \overrightarrow{BC} = \frac{-7 \cdot 4 - 3 \cdot 1 - 5 \cdot 3}{\sqrt{83}\sqrt{26}} = \frac{-46}{\sqrt{2158}};$$

$$\cos \overrightarrow{BC}; \overrightarrow{CD} = \frac{4 \cdot (-3) + 1 \cdot 3 + 3 \cdot 4}{\sqrt{26}\sqrt{34}} = \frac{3}{\sqrt{884}}$$

**Задание 4****Решение:**

Даны точки  $A(6, 3, 3)$ ,  $B(-1, 0, -2)$ ,  $C(3, 1, 1)$ ,  $D(0, 4, 5)$ .

$$\overrightarrow{AB} = \{-7; -3; -5\}; \quad \overrightarrow{CD} = \{-3; 3; 4\};$$

$$\overrightarrow{AD} = \{0 - 6; 4 - 3; 5 - 3\} = \{-6; 1; 2\};$$

$$\overrightarrow{AB} + \overrightarrow{CD} = \{-7 + (-3); -3 + 3; -5 + 4\} = \{-10; 0; -1\}$$

$$(\overrightarrow{AB} + \overrightarrow{CD}) \cdot \overrightarrow{AD} = -10 \cdot (-6) + 0 \cdot 1 + (-1) \cdot 2 = 58$$

**Задание 5****Решение:**

$$\overrightarrow{AB} = \{-7; -3; -5\},$$

$$\overrightarrow{BD} = \{0 - (-1); 4 - 0; 5 - (-2)\} = \{1; 4; 7\}, \quad \overrightarrow{AC} = \{3 - 6; 1 - 3; 1 - 3\} = \{-3; -2; -2\},$$

$$\overrightarrow{BD} + \overrightarrow{AC} = \{1 + (-3); 4 + (-2); 7 + (-2)\} = \{-2; 2; 5\}.$$

$$\text{Пр}_{\overrightarrow{AB}}(\overrightarrow{BD} + \overrightarrow{AC}) = \frac{-7 \cdot (-2) + (-3) \cdot 2 + (-5) \cdot 5}{\sqrt{(-7)^2 + (-3)^2 + (-5)^2}} = \frac{-17}{\sqrt{83}}$$

**Задание 6****Решение:**

$$\overline{AB} = \{-7, -3, -5\}, \overline{CD} = \{-3, 3, 4\}$$

$$\frac{-7}{-3} \neq \frac{-3}{3} \neq \frac{-5}{4} \Rightarrow$$

векторы не являются коллинеарными.

**Задание 7****Решение:**

$$\overline{AB} = \{-7, -3, -5\}, \overline{CD} = \{-3, 3, 4\}$$

$-7 \cdot (-3) + (-3) \cdot 3 + (-5) \cdot 4 = -8 \neq 0$ , следовательно, векторы не являются ортогональными.

**Форма представления результата:** выполненная работа.**Критерии оценки:**

За правильный ответ на вопросы или верное решение задачи выставляется положительная оценка – 1 балл.

За не правильный ответ на вопросы или неверное решение задачи выставляется отрицательная оценка – 0 баллов.

Процент результативности (правильных ответов)	Качественная оценка индивидуальных образовательных достижений	
	балл (отметка)	вербальный аналог
90 ÷ 100	5	отлично
80 ÷ 89	4	хорошо
60 ÷ 79	3	удовлетворительно
менее 60	2	не удовлетворительно

**Тема 5.1. Элементы комбинаторики****Практическое занятие № 15****Решение задач на основные понятия комбинаторики**

**Цель работы:** осмыслить основные понятия комбинаторики, научиться отличать одну выборку от другой, применять формулы для их нахождения.

**Выполнив работу, Вы будете:**

уметь:

– решать задачи на вычисление вероятности с использованием элементов комбинаторики

**Материальное обеспечение:**

Индивидуальные задания, конспекты лекций.

**Задание:**

1. В соревнованиях участвует 10 человек, трое из них займут 1-е, 2-е и 3-е место. Сколько существует различных вариантов ?

2. Из группы, в которой учится 12 человек, необходимо выбрать 3 человека в совет колледжа. Сколько существует различных способов такого выбора.



3. На книжной полке выставлены 8 книг различных авторов. Сколько способов имеется для расстановки этих книг в разном порядке?

### Краткие теоретические сведения:

В основе решения задач на комбинаторику лежат два правила:

**1. Правило сложения.** Если некоторый элемент  $A$  можно выбрать  $m$  способами, а другой элемент  $B$  –  $n$  способами, исключаящими друг друга, то выбор какого-нибудь одного из этих элементов (либо  $A$ , либо  $B$ ) можно осуществить  $m + n$  способами.

**2. Правило умножения.** Если некоторый элемент  $A$  можно выбрать  $m$  способами и если после каждого такого выбора элемент  $B$  можно выбрать  $n$  способами, то выбор пары элементов  $(A, B)$  в указанном порядке можно осуществить  $m \cdot n$  способами.

**Задача 1.** При формировании экипажа космического корабля имеется: 10 претендентов на пост командира, 20 претендентов на пост бортинженера, 25 претендентов на пост космонавта-исследователя. Сколькими способами можно выбрать одну из кандидатур на пост командира, или бортинженера, или космонавта-исследователя?

**Решение.** По правилу суммы существует  $10+20+25=55$  способов выбора одной из кандидатур.

**Задача 2.** В столовой предлагают два различных первых:  $a_1$  и  $a_2$ ; три различных вторых блюда:  $b_1, b_2, b_3$  и два различных десерта:  $c_1$  и  $c_2$ . Сколько различных обедов из трех блюд может выбрать покупатель?

**Решение.** Первое блюдо можно выбрать двумя способами, второе блюдо можно выбрать тремя способами, третье блюдо можно двумя способами. По правилу умножения существует  $2 \times 3 \times 2 = 12$  способов выбрать обед из трех блюд.

### 3. Подмножества $n$ -множеств (соединения).

Для нахождения  $k$ -подмножеств некоторого  $n$ -множества нужно выбрать  $k$  из  $n$  его элементов (поэтому часто говорят о *выборке*  $k$  элементов из  $n$ -элементов). Про выбранные  $k$  из  $n$  различных элементов принято говорить, что они образуют соединение из  $n$  элементов по  $k$ . Соединение-собирательный термин комбинаторики. В зависимости от того, имеет ли значение порядок элементов в соединении или нет, а также от того, входят в соединение все  $n$  элементов или только часть их, различают три вида соединений: **перестановки, размещения, сочетания.**

#### **Перестановки.**

Перестановками из  $n$ -элементов называются такие соединения из  $n$ -элементов, которые отличаются друг от друга только порядком расположения элементов.

Обозначение:  $P_n = n!$

#### **Размещения.**

Размещениями из  $n$ -элементов называются такие соединения, каждое из которых содержит  $m$  элементов, выбранных из числа данных  $n$ -элементов, отличающихся либо составом, либо порядком их расположения, либо и тем, и другим.

Обозначение  $A_n^m = \frac{n!}{(n-m)!}$

Замечание. Рассмотренные ранее перестановки – частный случай размещений из  $n$ -элементов по  $n$ -элементов.

$$P_n = A_n^n = \frac{n!}{0!} = n!$$

55440.

### **Сочетания.**

Сочетаниями из  $n$ - элементов называются такие соединения, которые отличаются друг от друга хотя бы одним элементом.

$$\text{Обозначение: } C_n^m = \frac{n!}{m!(n-m)!}$$

#### **Порядок выполнения работы:**

1. Определите вид выборки без повторения.
2. Выберите соответствующую формулу для вычисления возможных комбинаций.
3. Произведите вычисления, используя понятие факториала.

#### **Краткие теоретические сведения:**

В основе решения задач на комбинаторику лежат два правила:

**1. Правило сложения.** Если некоторый элемент  $A$  можно выбрать  $m$  способами, а другой элемент  $B$  –  $n$  способами, исключаящими друг друга, то выбор какого-нибудь одного из этих элементов (либо  $A$ , либо  $B$ ) можно осуществить  $m + n$  способами.

**2. Правило умножения.** Если некоторый элемент  $A$  можно выбрать  $m$  способами и если после каждого такого выбора элемент  $B$  можно выбрать  $n$  способами, то выбор пары элементов ( $A, B$ ) в указанном порядке можно осуществить  $m \cdot n$  способами.

**Задача 1.** При формировании экипажа космического корабля имеется: 10 претендентов на пост командира, 20 претендентов на пост бортинженера, 25 претендентов на пост космонавта-исследователя. Сколькими способами можно выбрать одну из кандидатур на пост командира, или бортинженера, или космонавта-исследователя?

**Решение.** По правилу суммы существует  $10+20+25=55$  способов выбора одной из кандидатур.

**Задача 2.** В столовой предлагают два различных первых:  $a_1$  и  $a_2$ ; три различных вторых блюда:  $b_1, b_2, b_3$  и два различных десерта:  $c_1$  и  $c_2$ . Сколько различных обедов из трех блюд может выбрать покупатель?

**Решение.** Первое блюдо можно выбрать двумя способами, второе блюдо можно выбрать тремя способами, третье блюдо можно двумя способами. По правилу умножения существует  $2 \times 3 \times 2 = 12$  способов выбрать обед из трех блюд.

### **3. Подмножества $n$ - множеств (соединения).**

Для нахождения  $k$  – подмножеств некоторого  $n$  – множества нужно выбрать  $k$  из  $n$  его элементов (поэтому часто говорят о *выборке*  $k$  элементов из  $n$  – элементов). Про выбранные  $k$  из  $n$  различных элементов принято говорить, что они образуют соединение из  $n$  элементов по  $k$ . Соединение – собирательный термин комбинаторики. В зависимости от того, имеет ли значение порядок элементов в соединении или нет, а также от того, входят в соединение все  $n$  элементов или только часть их, различают три вида соединений: **перестановки, размещения, сочетания.**

#### **Перестановки.**

Перестановками из  $n$  – элементов называются такие соединения из  $n$  – элементов, которые отличаются друг от друга только порядком расположения элементов.

Обозначение:  $P_n = n!$

#### **Размещения.**

Размещениями из  $n$  – элементов называются такие соединения, каждое из которых содержит  $m$  элементов, выбранных из числа данных  $n$  – элементов, отличающихся либо составом, либо порядком их расположения, либо и тем, и другим.

Обозначение  $A_n^m = \frac{n!}{(n-m)!}$

Замечание. Рассмотренные ранее перестановки – частный случай размещений из  $n$  – элементов по  $n$  – элементов.

$$P_n = A_n^n = \frac{n!}{0!} = n!$$

55440.

### Сочетания.

Сочетаниями из  $n$ - элементов называются такие соединения, которые отличаются друг от друга хотя бы одним элементом.

Обозначение:  $C_n^m = \frac{n!}{m!(n-m)!}$

### Порядок выполнения работы:

1. Определите вид выборки без повторения.
2. Выберите соответствующую формулу для вычисления возможных комбинаций.
3. Произведите вычисления, используя понятие факториала.

### Ход работы:

1. Кодовый замок открывается последовательным набором четырёх разных цифр. Требуется определить число возможных кодов, которые можно подобрать для этого замка.

Решение.

1. Возможных цифр всего десять (1,2,3,4,5,6,7,8,9,0). Каждая набранная комбинация кода отличается от другой комбинации хотя бы одной цифрой (1,4,5,7 ≠ 2,4,5,7), либо порядком набора одинаковых цифр (1,4,5,7 ≠ 4,5,7,1), поэтому для подсчёта числа возможных комбинаций кодов используем формулу числа размещений.

2. Формула размещений имеет вид:  $A_n^m = \frac{n!}{(n-m)!}$ . В нашем случае  $n = 4, m = 10$ .

3. Производим расчёт:  $A_{10}^4 = \frac{10!}{(10-4)!} = \frac{10!}{6!} = \frac{10 \cdot 9 \cdot 8 \cdot 7 \cdot 6 \cdot 5 \cdot 4 \cdot 3 \cdot 2 \cdot 1}{6 \cdot 5 \cdot 4 \cdot 3 \cdot 2 \cdot 1} = 10 \cdot 9 \cdot 8 \cdot 7 = 5040$

2. Сколько существует способов выбора трёх человек из десяти?

Решение.

1. В данном случае при выборе для нас важен только состав по три человека, порядок выбора роли не играет, поэтому в отличие от первого примера число способов подсчитаем по формуле сочетаний.

2. Формула сочетаний имеет вид:  $C_n^m = \frac{n!}{m!(n-m)!}$ . В нашем случае  $n=10, m=3$ .

3. Производим расчёт:  $C_{10}^3 = \frac{10!}{3!(10-3)!} = \frac{10!}{3!7!} = \frac{7 \cdot 8 \cdot 9 \cdot 10}{3 \cdot 2 \cdot 1 \cdot 7!} = 120$ .

3. Сколько различных четырёхзначных чисел можно составить из цифр 1,2,3,4,9 (цифры не повторяются)?

Решение.

1. По условию дано множество из четырёх элементов, которые требуется расположить в определённом порядке. Значит, требуется найти количество перестановок их четырёх элементов.

2. Формула перестановок из  $n$  – элементов имеет вид:  $P_n = n!$  В нашем случае  $n = 4$ .

3. Произведём расчёт:  $P_4 = 4! = 4 \cdot 3 \cdot 2 \cdot 1 = 24$ .

**Форма представления результата:** выполненная работа.

### Критерии оценки:

За правильный ответ на вопросы или верное решение задачи выставляется положительная оценка – 1 балл.

За не правильный ответ на вопросы или неверное решение задачи выставляется отрицательная оценка – 0 баллов.

Процент результативности (правильных ответов)	Качественная оценка индивидуальных образовательных достижений	
	балл (отметка)	вербальный аналог
90 ÷ 100	5	отлично
80 ÷ 89	4	хорошо
60 ÷ 79	3	удовлетворительно
менее 60	2	не удовлетворительно

## Тема 5.2 Элементы теории вероятностей и математической статистики

### Практическая занятие № 16

#### Решение задач на вычисление классической вероятности с использованием элементов комбинаторики

**Цель работы:** Научиться находить вероятность событий, используя формулы комбинаторики.

**Выполнив работу, Вы будете:**

уметь:

-вычислять число исходов, благоприятствующих наступлению рассматриваемого события, используя формулы комбинаторики;

- вычислять вероятность события по классическому определению вероятности .

**Материальное обеспечение:** Индивидуальные задания, конспекты лекций.

**Задание:**

1. Готовясь к докладу, студент выписал из книги цитату, но, забыв номер страницы, на которой она находилась, написал номер наудачу. Какова вероятность того, что студент записал нужный номер, если он помнит, что номер выражается двузначным числом?

2. В ящике 15 деталей, среди которых 10 окрашены. Сборщик наудачу выбрал 3 детали. Какова вероятность того, что выбранные детали оказались окрашенными?

3. Имеется 8 карточек. Одна сторона каждой из них чистая, а на другой написаны буквы :К,И,Р,Д, А,Н,З,П. Карточки кладут на стол чистой стороной вверх, перемешивают, а затем последовательно одну за другой переворачивают. Какова вероятность того, при последовательном появлении букв будет составлен слово ПРАЗДНИК?

#### Краткие теоретические сведения:

Вероятностью события  $A$  называется отношение числа  $m$  случаев, благоприятствующих его появлению, к общему числу всех несовместных равновозможных и образующих полную группу событий. Такое определение вероятности называют классическим. Вероятность события обозначается  $P(A)$  и вычисляется по формуле:  $P(A) = \frac{m}{n}$ .

Вероятность появления события заключена в пределах от 0 до 1:  $0 \leq P(A) \leq 1$

#### Порядок выполнения работы:

1. Определите событие  $A$ , вероятность которого нужно вычислить.

2. Просчитайте общее число( $n$ ) возможных исходов.

3. Просчитайте число исходов( $m$ ), благоприятствующих наступлению события  $A$ .

4. Используйте формулу для вычисления вероятности определённого события.  $P(A) = \frac{m}{n}$ .

**Ход работы:** 1. Набирая номер телефона, абонент забыл последние 3 цифры и набрал их наудачу, помня, что они различны. Найдите вероятность того, что набраны нужные цифры.

Решение.

1. Событие А-«номер набран верно».

2. Число n-общее число исходов испытания получим, воспользовавшись формулами комбинаторики. Всего имеется 10 цифр, т.е. число элементов равно 10; в каждое соединение входит по 3 цифры; порядок цифр(элементов) существенен при наборе номера, значит, нужно найти число размещений из 10 элементов по 3 по формуле  $A_{10}^3 = \frac{10!}{(10-3)!} = \frac{7! \cdot 8 \cdot 9 \cdot 10}{7!} = 720$ . Итак,  $n=720$

3. Число  $m=1$ , т.к. только один набор из трёх цифр является нужным.

$$4. P(A) = \frac{m}{n} = \frac{1}{720}$$

2. Из урны, в которой находятся 12 белых и 8 чёрных шаров, вынимают наудачу два шара. Какова вероятность того, что оба шара окажутся чёрными?

Решение.

1. Событие А-«оба шара окажутся чёрными».

2. Число n-общее число исходов испытания получим, воспользовавшись формулами комбинаторики. Общее число возможных случаев n равно числу сочетаний из 20 элементов (12+8) по два:  $n = C_{20}^2 = \frac{20!}{2!(20-2)!} = \frac{20!}{2! \cdot 18!} = \frac{20 \cdot 19 \cdot 18!}{1 \cdot 2 \cdot 18!} = 190$ .

3. Число случаев m, благоприятствующих событию А, равно числу сочетаний из 8 элементов (8 чёрных шаров) по два:  $n = C_8^2 = \frac{8!}{2!(8-2)!} = \frac{8!}{2! \cdot 6!} = \frac{8 \cdot 7 \cdot 6!}{1 \cdot 2 \cdot 16!} = 28$

$$4. P(A) = \frac{m}{n} = \frac{28}{190} \approx 0,147$$

2. На пяти карточках разрезной азбуки написаны буквы А,З,К,О,М. Карточки перемешиваются и наугад раскладываются в ряд. Какова вероятность того, что получится слово ЗАМОК?

Решение.

1. Событие А-«получится слово ЗАМОК».

2. Число n-общее число исходов испытания получим, воспользовавшись формулами комбинаторики. Общее число возможных случаев n равно числу перестановок из 5 элементов(букв):  $n = P_5 = 5! = 5 \cdot 4 \cdot 3 \cdot 2 \cdot 1 = 120$ .

3. Число случаев m, благоприятствующих событию А, равно 1, т.к. требуется составить слово с буквами, расставленными в определённом порядке. А эти буквы различны.

$$4. P(A) = \frac{m}{n} = \frac{1}{120}$$

**Форма представления результата:** выполненная работа.

### Критерии оценки:

За правильный ответ на вопросы или верное решение задачи выставляется положительная оценка – 1 балл.

За не правильный ответ на вопросы или неверное решение задачи выставляется отрицательная оценка – 0 баллов.

Процент результативности (правильных ответов)	Качественная оценка индивидуальных образовательных достижений	
	балл (отметка)	вербальный аналог
90 ÷ 100	5	отлично
80 ÷ 89	4	хорошо
60 ÷ 79	3	удовлетворительно

менее 60	2	не удовлетворительно
----------	---	----------------------

## Тема 5.3 Элементы теории множеств

### Практическая занятие № 17

#### Дискретная и непрерывная случайная величина. Характеристики дискретной и непрерывной случайной величин

**Цель работы:** научиться находить числовые характеристики случайных величин.

**Выполнив работу, Вы будете:**

уметь:

- анализировать задачу или проблему и выделять ее составные части
- вычислять математическое ожидание, дисперсию и среднее квадратичное отклонение дискретной случайной величины

**Материальное обеспечение:** Индивидуальные задания, конспекты лекций.

**Задание:**

найти математическое ожидание, дисперсию и среднее квадратическое отклонение дискретной случайной величины заданной таблицей:

X	7	-5	-1	6
p	0,2	0,3	0,4	0,1

**Краткие теоретические сведения:** имеются в конспекте лекций

**Ход работы**

1. Найти математическое ожидание дискретной случайной величины X, заданной законом распределения:

X	-5	2	3	4
p	0,4	0,3	0,1	0,2

Математическое ожидание:

$$M(X) = -5 \cdot 0,4 + 2 \cdot 0,3 + 3 \cdot 0,1 + 4 \cdot 0,2 = -0,3.$$

2. Найти дисперсию дискретной случайной величины X, заданной законом распределения:

X	-3	1	2	3
p	0,4	0,3	0,1	0,2

Сначала находим математическое ожидание случайной величины X:

$$M(X) = -3 \cdot 0,4 + 1 \cdot 0,3 + 2 \cdot 0,1 + 3 \cdot 0,2 = -0,1.$$

Далее запишем закон распределения  $X^2$ :

$X^2$	9	1	4	9
$p$	0,4	0,3	0,1	0,2

Математическое ожидание случайной величины  $X^2$ :

$$M(X^2) = 9 \cdot 0,4 + 1 \cdot 0,3 + 4 \cdot 0,1 + 9 \cdot 0,2 = 6,1.$$

Находим дисперсию:

$$D(X) = M(X^2) - [M(X)]^2 = 6,1 - (-0,1)^2 = 6,09.$$

**3.** Найти среднеквадратическое отклонение дискретной случайной величины  $X$ , заданной законом распределения:

$X$	-1	1	2	3
$p$	0,3	0,4	0,1	0,2

Сначала находим математическое ожидание случайной величины  $X$ :

$$M(X) = -1 \cdot 0,3 + 1 \cdot 0,4 + 2 \cdot 0,1 + 3 \cdot 0,2 = 0,9.$$

Далее запишем закон распределения  $X^2$ :

$X^2$	1	1	4	9
$p$	0,3	0,4	0,1	0,2

Математическое ожидание случайной величины  $X^2$ :

$$M(X^2) = 1 \cdot 0,3 + 1 \cdot 0,4 + 4 \cdot 0,1 + 9 \cdot 0,2 = 2,9.$$

Находим дисперсию:

$$D(X) = M(X^2) - [M(X)]^2 = 2,9 - (0,9)^2 = 2,09.$$

Отсюда находим среднеквадратическое отклонение  $\sigma(X) = \sqrt{D(X)} = \sqrt{2,09} \approx 1,45$

**Форма представления результата:** выполненная работа.

### Критерии оценки:

За правильный ответ на вопросы или верное решение задачи выставляется положительная оценка – 1 балл.

За не правильный ответ на вопросы или неверное решение задачи выставляется отрицательная оценка – 0 баллов.

Процент результативности (правильных ответов)	Качественная оценка индивидуальных образовательных достижений	
	балл (отметка)	вербальный аналог
90 ÷ 100	5	отлично
80 ÷ 89	4	хорошо
60 ÷ 79	3	удовлетворительно
менее 60	2	не удовлетворительно

**Практическое занятие № 18**

**Операции над множествами**

**Цель работы:**

Сформировать практические навыки по решению задач данной темы.

**Выполнив работу, Вы будете:**

*уметь:*

- задавать множества разными способами
- совершать операции над множествами
- представлять их графически

**Материальное обеспечение:**

- комплект учебно-наглядных пособий для индивидуальных домашних работ;
- комплект дидактического раздаточного материала.

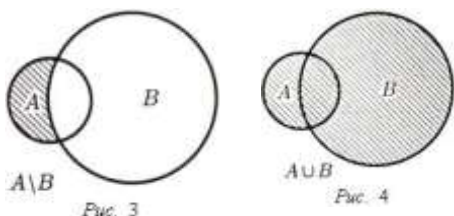
**Задание:**

Повторить теоретический материал, выполнить практическую работу.

**Краткие теоретические сведения:**

Пересечение	Объединение	Вычитание
<p>Пересечением множеств А и В называется новое множество, состоящее из элементов и множества А и множества В</p> $A=\{P,И,C\}, B=\{P,O,C,A\}$ $A \cap B=\{P,C\}$	<p>Объединением множеств А и В называется новое множество, состоящее из элементов и множества А или множества В</p> $A=\{P,И,C\}, B=\{P,O,C,A\}$ $A \cup B=\{P,C,И,O,A\}$	<p>Разностью множеств А и В называется множество, состоящее из элементов множества А, не принадлежащих множеству В</p> $A=\{P,И,C\},$ $B=\{P,O,C,A\}$ $A \setminus B=\{И\}$ $B \setminus A=\{O,A\}$
$A=\{C,T,O,Л,Б\}, B=\{C,T,O,Л\}$ $A \cap B=\{C,T,O,Л\}$	$A=\{C,T,O,Л,Б\}, B=\{C,T,O,Л\}$ $A \cup B=\{C,T,O,Л,Б\}$	$A=\{C,T,O,Л,Б\},$ $B=\{C,T,O,Л\}$ $A \setminus B=\{Б\} = B_A -$ <p>дополнение множества В по множеству А</p>
$A=\{H,O,C\}, B=\{C,O,H\}$ $A \cap B=A=B=\{C,O,H\}$	$A=\{H,O,C\}, B=\{C,O,H\}$ $A \cup B=A=B=\{C,O,H\}$	$A=\{H,O,C\}, B=\{C,O,H\}$ $A \setminus B =$
$A=\{C,O,H\}, B=\{M,И,P\}$ $A \cap B =$	$A=\{C,O,H\}, B=\{M,И,P\}$ $A \cup B=\{C,O,H,M,И,P\}$	$A=\{C,O,H\}, B=\{M,И,P\}$ $A \setminus B=A= \{C,O,H\}$ $B \setminus A=\{M,И,P\}$

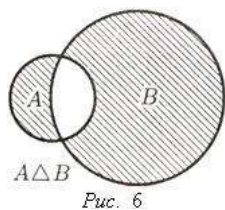
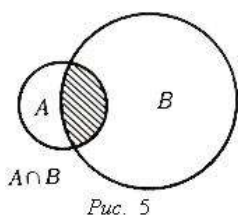
Объединением множеств А и В называется множество  $A \cup B$  (см. рис. 4)  
 $A \cup B = \{x: x \in A \vee x \in B\}$ .





Пересечением подмножеств  $A$  и  $B$  называется множество

$$A \cap B = \{x: x \in A \wedge x \in B\}$$



Рисунки 1-6 называются диаграммы Эйлера-Венна.

**Пример.** Даны множества  $A = \{1, 2, 3, 4, 5\}$  и  $B = \{3, 4, 5, 6, 7\}$ . Их пересечением будет множество ...

**Решение:** Проанализируем все предложенные варианты.

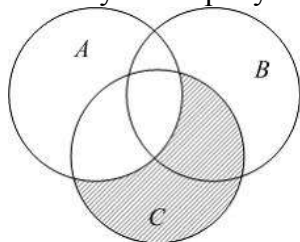
1)  $D = A \cup B$ . Множество  $D$  является объединением множеств  $A$  и  $B$ , то есть оно должно содержать все элементы множества  $A$  и все элементы множества  $B$ . Но это не так. Значит, утверждение, что  $D = A \cup B$ , ложное.

2)  $C = A \cap B$ . Множество  $C$  является пересечением множеств  $A$  и  $B$ , то есть оно должно содержать все элементы, которые принадлежат как множеству  $A$  так и множеству  $B$ . Но множество  $C$  содержит элементы  $m$  и  $n$ , которые есть во множестве  $A$ , но отсутствуют во множестве  $B$ . Поэтому утверждение  $C = A \cap B$  ложное.

3)  $E = B \setminus A$ . Множество  $E$  является разностью множеств  $B$  и  $A$ , поэтому должно содержать элементы, которые принадлежат множеству  $B$ , и не принадлежат множеству  $A$ . Но элементы  $m$  и  $n$  принадлежат, наоборот, множеству  $A$  и не принадлежат множеству  $B$ . Утверждение  $E = B \setminus A$  неверное, верным будет  $E = A \setminus B$ .

Решить самостоятельно:

1. Пусть на рисунке изображены множества  $A, B$  и  $C$ .



Тогда заштрихованная область соответствует множеству

2. Даны множества  $A = \{a, b, c, d, e\}$  и  $B = \{c, d, e, g, k\}$ .

Тогда множество  $B \setminus A$  равно ...

3. Запишите элементы пересечения и объединения множеств  $A$  и  $B$ , если:

1)  $A = \{к, е, р, ю, в, л, м\}$ ,  $B = \{м, л, ю, в, е, к, р\}$ .

2)  $A = \{к, л, м, н\}$ ,  $B = \{и, к, м, л, н, о, п\}$ .

3)  $A = \{3, 6, 9, 12, 15\}$ ,  $B = \{6, 1, 2, 5, 9, 13\}$ .

4)  $A = \{1, 2, 3, 4, 5, 6\}$ ,  $B = \{12, 34, 56\}$ .

4. Запишите элементы множества  $A \setminus B$ , если:

1)  $A = \{к, л, ф, т, у\}$ ,  $B = \{к, л, м, н, о, р\}$

2)  $A = \{6, 3, 2, 5, 13\}$ ,  $B = \{6, 1, 2, 5, 9, 13\}$

5. Какое множество является дополнением:

-множества хвойных деревьев до множества всех деревьев;

-множества четных чисел до множества натуральных чисел.

6. Известно, что  $A$ ,  $B$ ,  $C$  – подмножества универсального множества. Кроме того, множества  $A$ ,  $B$ ,  $C$  – попарно пересекаются. Изобразите при помощи кругов Эйлера следующие множества:  $(C \setminus A)$   $(C \setminus B)$

7. Даны множества:  $A$  - множество букв русского алфавита,  $B$  - множество гласных букв. В каком отношении находятся множества  $A$  и  $B$ ? Изобразите данные множества при помощи кругов Эйлера.

8. Изобразите с помощью кругов Эйлера отношения между объемами понятий  $A$ : "Русский алфавит",  $B$ : "гласные буквы",  $C$ : "согласные буквы"

### **Форма представления результата:**

Предоставить выполненные задания в тетради для практических работ.

### **Критерии оценки:**

За правильный ответ на вопросы или верное решение задачи выставляется положительная оценка – 1 балл.

За не правильный ответ на вопросы или неверное решение задачи выставляется отрицательная оценка – 0 баллов.

Процент результативности (правильных ответов)	Качественная оценка индивидуальных образовательных достижений	
	балл (отметка)	вербальный аналог
90 ÷ 100	5	отлично
80 ÷ 89	4	хорошо
60 ÷ 79	3	удовлетворительно
менее 60	2	не удовлетворительно